

# **Repetitorium der Mathematik**

mit Beispielen aus der Physik

von

**Martin Lommatzsch**

**1. April 2015**

# Vorwort

Dieses Repetitorium ist aus der Motivation entstanden den naturwissenschaftlichen Unterricht an Schulen für die Schüler zu erleichtern. Dazu werden in den ersten Kapiteln mathematische Grundlagen in Form von Vokabeln, Zahleneigenschaften, Rechenoperationen und Abkürzungen eingeführt. Da viele Schüler von der gesellschaftlichen Meinung, Mathematik und Naturwissenschaften seien schwer, zu Ausreden in der Leistung inspiriert werden, soll in diesem Buch explizit auf die Einfachheit der mathematischen Sprache hingewiesen werden. Dieser Trivialität gehen allerdings einige Dinge voraus, die dem durchschnittlichen Schüler erst nach seiner Schullaufbahn bewusst werden - das Mathematik vom Vokabular legt, da Wörter und ihre Abkürzungen eindeutige Bedeutungen erhalten, welche in anderen Sprachen, wie Deutsch oder Englisch, oftmals erst durch den Satz eine genauere Bedeutung erhalten. Auch soll dargestellt werden, dass es in der Mathematik im Vergleich zu anderen Sprachen keine Ausnahmen gibt.

Dieses Buch soll ein Leitfaden für den mathematischen Unterricht werden und als Wiederholungswerk für die naturwissenschaftlichen Fächer dienen. Aus diesem Grund wird sich dieses Werk ständig weiterentwickeln und dabei auf das Verständnis der Schüler ausgerichtet werden. Als Grundlage zum Verständnis dieses Buches soll der Umgang mit Zahlen und Grundrechenoperationen genügen, sodass es für jeden Schüler einer weiterführenden Schule geeignet ist.

Zu jedem Abschnitt werden Übungsaufgaben existieren, welche mit den Lösungen im Anhang verglichen werden können. Die Aufgaben sind so gestellt, dass sie das Verständnis überprüfen und vertiefen. Deswegen ist es ratsam, wenn alle Aufgaben bearbeitet und erst danach mit den Lösungen verglichen werden. Auch werden Aufgaben gestellt, die erst mit Wissen aus den nachfolgenden Kapiteln zu lösen sind. Diese Aufgaben sollten bearbeitet werden, wenn das Wissen mit dem Umgang der Abkürzungen oder Operatoren bekannt ist, um das schon bestehende Wissen zu reaktivieren und weiter zu vertiefen.

# Inhaltsverzeichnis

<b>1 Mengen</b>	<b>6</b>
<b>2 Algebraische Grundlagen</b>	<b>12</b>
2.1 Grundrechenarten und Brüche . . . . .	12
2.2 Brüche als Dezimalzahlen . . . . .	20
2.3 Einsetzungsverfahren . . . . .	22
2.4 Prozentrechnung . . . . .	24
2.5 Assoziativ und Kommutativ . . . . .	27
2.5.1 Kommutator . . . . .	27
2.5.2 Assoziativgesetz . . . . .	28
2.5.3 Klammersetzung . . . . .	28
2.6 Potenzen . . . . .	31
2.6.1 Wurzeln . . . . .	32
2.6.2 10er Potenzen . . . . .	32
2.6.3 Binomische Formeln . . . . .	33
2.7 Logarithmen . . . . .	36
2.8 Äquivalenzumformung . . . . .	38
2.8.1 Quadratische Ergänzung . . . . .	39
2.9 Substitution . . . . .	43
2.10 Fakultäten und Binominal Koeffizienten . . . . .	45
<b>3 Geometrie</b>	<b>47</b>
3.1 Zahlenstrahl . . . . .	47
3.2 Winkel . . . . .	47
3.3 Rechteck . . . . .	51
3.4 Dreieck . . . . .	51
3.5 Spezielle Vierecke . . . . .	52
3.6 Mehrdimensionale Vielecke . . . . .	54
3.7 Kreis . . . . .	56
3.8 Kugeln . . . . .	56
3.9 Zylinder und Kegel . . . . .	57
3.10 Ellipse und Ellipsoid . . . . .	58
<b>4 Trigonometrie</b>	<b>59</b>
4.1 Sinus und Kosinus . . . . .	59
4.2 Tangens und Kotangens . . . . .	59
4.3 Sinus- und Kosinussatz . . . . .	59
4.4 Identitäten . . . . .	59

<b>5</b>	<b>Reihen</b>	<b>60</b>
<b>6</b>	<b>Grenzwerte</b>	<b>61</b>
<b>7</b>	<b>Funktionen</b>	<b>62</b>
7.1	Wertetabellen . . . . .	62
7.2	Geraden . . . . .	62
7.3	Parabeln . . . . .	62
7.4	Umkehrfunktionen . . . . .	62
7.5	Hyperbel . . . . .	62
7.6	Polynome . . . . .	62
7.7	Gebrochen rationale Funktionen . . . . .	62
7.8	Trigonometrische Funktionen . . . . .	63
7.9	Exponentialfunktion . . . . .	64
<b>8</b>	<b>Vektoren</b>	<b>65</b>
8.1	Eigenschaften . . . . .	65
8.2	Spatprodukt . . . . .	65
8.3	Matrizen . . . . .	65
<b>9</b>	<b>Differentiation und Integration</b>	<b>66</b>
9.1	Operatoralgebra . . . . .	66
9.2	Ableitungsregeln . . . . .	69
9.3	Integration . . . . .	71
9.4	Integrationsregeln . . . . .	72
9.5	Differentialgleichungen 1. Ordnung . . . . .	74
9.6	Differentialgleichungen 2. Ordnung . . . . .	74
<b>10</b>	<b>Wirtschaftsrechnungen</b>	<b>75</b>
<b>11</b>	<b>Wahrscheinlichkeitsrechnung</b>	<b>76</b>
11.1	Zufallsexperimente . . . . .	76
11.2	Permutationen . . . . .	76
<b>12</b>	<b>Komplexe Zahlen</b>	<b>77</b>
<b>13</b>	<b>Physikalische Anwendungen</b>	<b>78</b>
<b>14</b>	<b>Anhang</b>	<b>79</b>
14.1	Pascal'sches Dreieck . . . . .	79
14.2	10er Potenzen . . . . .	80
14.3	Lösungen . . . . .	81
14.3.1	Lösungen zu Mengen . . . . .	81
14.3.2	Lösungen zur Bruchrechnung . . . . .	82
14.3.3	Lösungen zu Dezimalzahlen . . . . .	84
14.3.4	Lösungen zu Einsetzungsverfahren . . . . .	85
14.3.5	Lösung zur Prozentrechnung . . . . .	85
14.3.6	Lösungen zur Klammersetzung . . . . .	86
14.3.7	Lösungen zur Potenzen . . . . .	86
14.3.8	Übungsaufgaben zu Logarithmen . . . . .	87

14.3.9 Lösungen zur Äquivalenzumformung . . . . .	87
14.3.10 Lösungen zur Substitution . . . . .	88
14.3.11 Lösungen zu Fakultäten . . . . .	89

# 1 Mengen

Zahlen können in verschiedene Kategorien eingeordnet werden. Dabei bilden die sogenannten natürlichen Zahlen die Basis aller anderen Zahlenmengen, die in der Schule besprochen werden. Die natürlichen Zahlen werden durch das Symbol  $\mathbb{N}$  beschrieben und beinhalten Zahlen wie  $0, 1, 2, 3, 4, 5, 6, 7, 8, 9, 10, \dots$ . Die mathematische Schreibweise dazu wäre:  $\mathbb{N} = \{0, 1, 2, \dots\}$ , wobei die geschweiften Klammern  $\{\}$  alle Zahlen aufgelistet werden, die zur Zahlenmenge gehören. Oftmals werden die natürlichen Zahlen auch ohne Null verwendet und werden im Folgenden als  $\mathbb{N}^+$  bezeichnet. Die erste Erweiterung der natürlichen Zahlen  $\mathbb{N}$  sind die ganzen Zahlen  $\mathbb{Z} = \{\dots, -2, -1, 0, 1, 2, \dots\}$ . Bei genauem Betrachten fällt auf, dass die natürlichen Zahlen  $\mathbb{N}$  eine Teilmenge der ganzen Zahlen  $\mathbb{Z}$  sind, was mit dem Mengenoperator  $\subset$  („ist Teilmenge von“) wie folgt geschrieben wird:

$$\mathbb{N} \subset \mathbb{Z} \quad (1.1)$$

Die Erweiterung der ganzen Zahlen  $\mathbb{Z}$  sind alle Zahlen, die durch Brüche dargestellt werden können. Diese Zahlen werden rationale Zahlen  $\mathbb{Q} = \{\dots, -2, -\frac{3}{2}, -1, -\frac{1}{2}, 0, \frac{1}{7}, 1, 2, \frac{34}{15}, \dots\}$  genannt.

$$\mathbb{N} \subset \mathbb{Z} \subset \mathbb{Q} \quad (1.2)$$

Die Folgen der Einführung der ganzen Zahlen sind gravierend, da die Subtraktion damit an Wichtigkeit verliert, da zum Beispiel aus  $-1 = +(-1)$  wird.

Aber es gibt auch noch Zahlen, die nicht durch einen Bruch dargestellt werden können. Diese nennt man reelle Zahlen  $\mathbb{R}$  und beherbergt Zahlen wie zum Beispiel  $\pi$ ,  $\sqrt{2}$  und  $\sqrt{3}$ . Die letzte Erweiterung der Zahlenmengen wird die Zahl  $i = \sqrt{-1}$  gegeben und führt somit die komplexen Zahlen ein  $\mathbb{C}$ . Komplexe Zahlen werden in der Regel nicht an Schulen besprochen, dennoch hat ihre Einführung einige Vorteile beim Beschreiben von Zusammenhängen im Bereich der Analysis<sup>1</sup>.

$$\mathbb{N} \subset \mathbb{Z} \subset \mathbb{Q} \subset \mathbb{R} \subset \mathbb{C} \quad (1.3)$$

Es ist möglich Teilmengen aufzustellen, dazu werden bestimmte Mengenoperatoren wie  $\subset$  verwendet. Sei die Menge  $\mathbb{M} = \{1, 2, 3, 4\}$  und die Menge  $\mathbb{K} = \{3, 4, 5, 6\}$  gegeben, dann existieren folgende Mengenoperationen:

---

<sup>1</sup>Die Analysis ist eines der großen Teilgebiete der Mathematik neben der Algebra. Der Begriff rührt von analysieren her.

Die Vereinigung  $\cup$ , welche wie folgt dargestellt wird:

$$\mathbb{M} \cup \mathbb{K} = \{1, 2, 3, 4, 5, 6\} \quad \text{Vereinigung von } \mathbb{M} \text{ mit } \mathbb{K} \quad (1.4)$$

Die Vereinigung wird auch gelesen als „Alle Zahlen, die sich in  $\mathbb{M}$  oder  $\mathbb{K}$  befinden“, damit ist gemeint, dass alle Zahlen der ersten Menge  $\mathbb{M}$  und alle Zahlen der zweiten Menge  $\mathbb{K}$  eine neue Menge bilden in der alle Zahlen aus der Menge  $\mathbb{M}$  und der Menge  $\mathbb{K}$  vorkommen. Das mathematische „oder“ ist anders zu gebrauchen als das „oder“ im normalen Sprachgebrauch, da es in der Sprach im Zusammenhang betrachtet werden muss, während es immer die selbe Vorgehensweise in der Mathematik fordert.

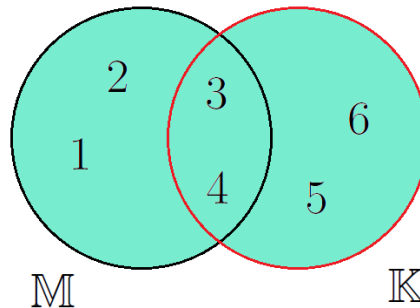


Abbildung 1.1: Vereinigung von zwei Mengen. Schwarz ist die Menge  $\mathbb{M}$  und rot die Menge  $\mathbb{K}$  umrandet. Die Zahlen in der ausgefüllte Fläche bildet die Vereinigung der beiden Mengen.

Die Abbildung (1.1) zeigt wie in der Menge  $\mathbb{M}$  die Zahlen 1, 2, 3 und 4 und in der Menge  $\mathbb{K}$  die Zahlen 3, 4, 5 und 6 enthalten sind, da  $\mathbb{M} = \{1, 2, 3, 4\}$  und  $\mathbb{K} = \{3, 4, 5, 6\}$ .

Eine weitere Mengenoperation ist der sogenannte Durchschnitt  $\cap$ :

$$\mathbb{M} \cap \mathbb{K} = \{3, 4\} \quad \text{Durchschnitt von } \mathbb{M} \text{ und } \mathbb{K} \quad (1.5)$$

Der Durchschnitt wird gelesen als „Alle Zahlen, die sich in  $\mathbb{M}$  und  $\mathbb{K}$  befinden“. Auch hier ist zu unterscheiden zwischen dem mathematischen und sprachlichen „und“.

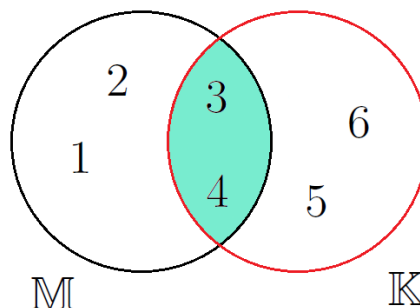


Abbildung 1.2: Durchschnitt von zwei Mengen. Schwarz ist die Menge  $\mathbb{M}$  und rot die Menge  $\mathbb{K}$  umrandet. Die Zahlen in der ausgefüllte Fläche bildet den Durchschnitt der beiden Mengen.

Die Abbildung (1.2) zeigt, was sich hinter dem mathematischen logischen Operator „und“ verbirgt. Der Durchschnitt ist gegeben als alle Zahlen einer Menge, die auch in der anderen Menge vorhanden sind. Somit sind nur die 3 und die 4 in diesem Fall in der resultierenden Durchschnittsmenge.

Die letzte wichtige Mengen Operation ist die Differenz  $\setminus$ :

$$\mathbb{M} \setminus \mathbb{K} = \{1, 2\} \quad \text{Differenz von } \mathbb{M} \text{ und } \mathbb{K} \quad (1.6)$$

Dabei wird die Differenz gelesen als „Alle Zahlen von  $\mathbb{M}$  ohne die Zahlen aus  $\mathbb{K}$ “. Grafisch veranschaulicht würde dies wie folgt aussehen:

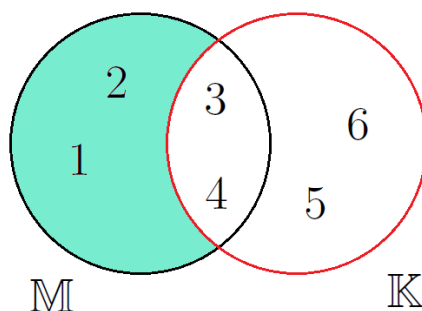


Abbildung 1.3: Differenz von  $\mathbb{M}$  ohne  $\mathbb{K}$ . Schwarz ist die Menge  $\mathbb{M}$  und rot die Menge  $\mathbb{K}$  umrandet. Die Zahlen in der ausgefüllte Fläche bildet die Menge, welche alle Zahlen beinhaltet aus  $\mathbb{M}$  allerdings ohne die Zahlen, die in der Menge  $\mathbb{K}$  enthalten sind.

Deutlich zu erkennen ist, dass die Zahlen, welche in beiden Mengen  $\mathbb{M}$  und  $\mathbb{K}$  vorkommen nicht Teil der resultierenden Menge sind. Außerdem wird deutlich, dass die resultierende Menge sich unterscheidet wenn die Mengen bei dieser Operation umdrehen würde.

$$\mathbb{K} \setminus \mathbb{M} = \{5, 6\} \quad \text{Differenz von } \mathbb{K} \text{ und } \mathbb{M} \quad (1.7)$$

Diese Umkehrung der Mengen bei der Operation hätte ein vollkommen anderes Ergebnis, wie auch in der folgenden Abbildung zu sehen ist.

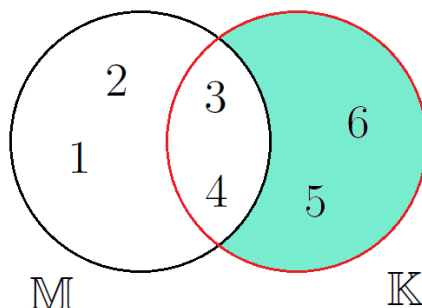


Abbildung 1.4: Differenz von  $\mathbb{K}$  ohne  $\mathbb{M}$ . Schwarz ist die Menge  $\mathbb{M}$  und rot die Menge  $\mathbb{K}$  umrandet. Die Zahlen in der ausgefüllte Fläche bildet die Menge, welche alle Zahlen beinhaltet aus  $\mathbb{K}$  allerdings ohne die Zahlen, die in der Menge  $\mathbb{M}$  enthalten sind.



Es wird deutlich, dass bei der Differenz von Mengen \ die Reihenfolge entscheidender Natur ist, während sich der Durchschnitt und die Vereinigung nicht verändern würden.

Nun da alle wichtigen Mengenoperationen eingeführt wurden, werden noch einige wichtige mathematische Abkürzungen eingeführt, welche zur Beschreibung einer Menge des Öfteren von Nöten sein. Diese Abkürzungen können als Vokabeln angesehen werden, welche jeder Schüler beherrschen sollte.

Wenn eine Zahl ein Element einer Zahlenmenge ist, dann wird dies mathematisch geschrieben als:

$$4 \in \mathbb{N} \quad (1.8)$$

Weitere wichtige Abkürzungen der Mathematik werden nun aufgelistet und im Folgenden verwendet.

$\forall$	für alle gilt	
$\exists$	es existiert	
$\exists!$	es existiert genau ein	
$\wedge$	und	
$\vee$	oder	
$\neg$	nicht	
$:=$	definiert als	
$\parallel$	parallel zu	(1.9)
$\perp$	orthogonal (senkrecht) zu	
$\sphericalangle$	Winkel zwischen	
$\emptyset$	leere Menge	
$\Rightarrow$	daraus folgt	
$<$	kleiner als	
$>$	größer als	
$\stackrel{!}{=}$	setze gleich	

So würde der Satz „Die Menge  $\mathbb{M}$  beinhaltet alle Zahlen  $x$ , die die Bedingung erfüllen, dass sie Element der reellen Zahlen sind und dass es genau ein Zahl  $e$  gibt durch die man die Zahl  $x$  teilen kann, sodass 1 dabei heraus kommt.“ mathematisch so aussehen:

$$\mathbb{M} = \left\{ x \mid x \in \mathbb{R} \wedge \exists! e \forall x \mid \frac{x}{e} = 1 \right\} \quad (1.10)$$

Mittels dieser Abkürzungen ist es möglich eine Zahlenmenge einzuführen, welche von besonderer Bedeutung ist - die Primzahlen. Also die Zahlen die nur durch selbst oder durch Eins teilbar sind. Diese Zahlenmenge kann wie folgt definiert werden:

$$\mathbb{P} = \left\{ p \in \mathbb{N} \mid \nexists \frac{p}{n} \in \mathbb{N} \forall n \neq 1, p \right\} \quad (1.11)$$

## Übungsaufgaben zu Mengen

Aufgaben mit Zahlen, die noch unbekannt sind, können vorerst ausgelassen werden. Allerdings sollten diese nach der jeweiligen Einführung nachgeholt werden.

**Aufgabe 1:** Bestimme die kleinste Zahlenmengen ( $\mathbb{N}$ ,  $\mathbb{Z}$  und  $\mathbb{Q}$ ) zu denen die jeweiligen Zahlen gehören.

- |                       |                       |                |                    |
|-----------------------|-----------------------|----------------|--------------------|
| a) $4 \in$            | b) $-1 \in$           | c) $9 \in$     | d) $0,45 \in$      |
| e) $\frac{1}{2} \in$  | f) $-6 \in$           | g) $4,75 \in$  | h) $0,\bar{3} \in$ |
| i) $\frac{1}{81} \in$ | j) $-\frac{3}{7} \in$ | k) $3 \in$     | l) $0,125 \in$     |
| m) $0,01 \in$         | n) $\frac{1}{11} \in$ | o) $3,141 \in$ | p) $-0,75 \in$     |

**Aufgabe 2:** Bestimme die kleinste Zahlenmengen ( $\mathbb{N}$ ,  $\mathbb{Z}$ ,  $\mathbb{Q}$  und  $\mathbb{R}$ ) zu denen die jeweiligen Zahlen gehören.

- |                             |                    |                              |                       |
|-----------------------------|--------------------|------------------------------|-----------------------|
| a) $0,\bar{6} \in$          | b) $-\sqrt{4} \in$ | c) $0 \in$                   | d) $\sqrt{3} \in$     |
| e) $\frac{7}{8} \in$        | f) $\sqrt{13} \in$ | g) $\frac{2}{\sqrt{16}} \in$ | h) $1\% \in$          |
| i) $\frac{1}{\sqrt{5}} \in$ | j) $-42 \in$       | k) $\sqrt{144} \in$          | l) $\frac{16}{2} \in$ |
| m) $5,01 \in$               | n) $17 \in$        | o) $1,\bar{16} \in$          | p) $-\sqrt{64} \in$   |

**Aufgabe 3:** Bestimme die kleinste Zahlenmengen ( $\mathbb{N}$ ,  $\mathbb{Z}$ ,  $\mathbb{Q}$  und  $\mathbb{R}$ ) zu denen die jeweiligen Zahlen gehören.

- |                        |                               |                    |                           |
|------------------------|-------------------------------|--------------------|---------------------------|
| a) $\lg 10 \in$        | b) $\sqrt{9} \in$             | c) $-7 \in$        | d) $\pi \in$              |
| e) $\frac{e^2}{2} \in$ | f) $-\frac{1}{6} \in$         | g) $1 \in$         | h) $0,597813553 \in$      |
| i) $\ln 2 \in$         | j) $-e^{\ln \frac{1}{3}} \in$ | k) $\log_3 9 \in$  | l) $0,1 \in$              |
| m) $28\% \in$          | n) $\frac{\pi}{4} \in$        | o) $\sqrt{17} \in$ | p) $-\frac{1}{\ln e} \in$ |

**Aufgabe 4:** Bestimme die Vereinigung, den Durchschnitt und jede mögliche Differenz der jeweiligen Mengen.

- a)  $M = \{1, 5, 6, 9\}$  und:  $K = \{3, 4, 6, 8\}$   
 b)  $M = \{1, 2, 3, 4, 5, 6, 7\}$  und:  $K = \{1, 2, 3, 5, 7\}$   
 c)  $M = \{5, 7, 9, 11\}$  und:  $K = \{4, 6, 8, 10\}$   
 d)  $M = \{2, 3, 5, 6, 8\}$  und:  $K = \{1, 2, 4, 5, 7, 8\}$   
 e)  $M = \{3, 6, 9\}$  und:  $K = \{2, 3, 5, 6, 8\}$   
 f)  $M = \{1, 3, 5, 7, 9\}$  und:  $K = \{3, 4, 5, 6, 7\}$

**Aufgabe 5:** Bestimme mit den Mengen  $M = \{1, 2, 3, 6\}$ ,  $L = \{4, 5, 7, 9\}$  und  $K = \{3, 4, 6, 8, 9\}$  die jeweils resultierenden Mengen. (Tipp: Rechne die Klammern immer zu erst.)

- a)  $(M \cap K) \cap L =$   
 b)  $(M \setminus L) \cup (M \setminus K) =$   
 c)  $(K \setminus L) \cap (M \setminus K) =$   
 d)  $(K \cap L) \cup (M \cap K) =$   
 e)  $(L \cup K) \setminus (M \cup K) =$   
 f)  $(L \cup K) \cap (M \setminus K) =$   
 g)  $(L \cup K) \setminus (L \cap K) := L \Delta K =$   
 h)  $M \Delta K =$

**Aufgabe 6:** Bestimme  $M \Delta K$  wie in Aufgabe 5 definiert und zeichne wie in den Abbildungen (1.1) bis (1.4) und kennzeichne die Fläche der resultierenden Menge. Hierbei soll  $M = \{1, 3, 4, 5, 6, 7, 9\}$  und  $K = \{0, 2, 4, 5, 6, 8\}$  sein.

**Aufgabe 7:** Bestimme mit den Mengen  $M = \{1, 2, 3\}$  und  $K = \{\} = \emptyset$  die jeweils resultierenden Mengen. (Tipp: Rechne die Klammern immer zu erst.)

- a)  $M \cap K =$   
 b)  $M \cup K =$   
 c)  $M \setminus K =$

Die Lösungen zu diesem Abschnitt finden sich im Anhang im Abschnitt (14.3.1) Lösungen zu Mengen.

## 2 Algebraische Grundlagen

Um den naturwissenschaftlichen Unterricht und mathematischen Erklärungen besser folgen zu können, müssen die Begrifflichkeiten der Algebra geklärt werden. Dazu werden im Laufe dieses Kapitels die wichtigsten mathematischen Vokabeln und Rechenvorschriften erläutert.

### 2.1 Grundrechenarten und Brüche

In diesem Abschnitt sollen zunächst die Begrifflichkeiten der Grundrechenarten in einer Tabelle geklärt werden.

Rechenart	1. Teil	Rechenoperator	2. Teil	Ergebnis
Addition	Summand	+	Summand	= Summe
Subtraktion	Minuend	-	Subtrahend	= Differenz
Multiplikation	Faktor	·	Faktor	= Produkt
Division	Dividend	:	Divisor	= Quotient
Division (als Bruch)	Zähler	/	Nenner	= Quotient

Generell gilt, dass die Rechnungen der Multiplikation und die der Division immer vor jeglicher Addition oder Subtraktion durchgeführt werden müssen (Punkt- vor Strichrechnung)!

Durch die Einführung der ganzen Zahlen  $\mathbb{Z}$  werden die Begriffe der Subtraktion nicht länger benötigt, da ein Summand oder sogar beide Summanden negativ sein können, sodass die Addition mit ganzen Zahlen  $\mathbb{Z}$  die Verallgemeinerung von Addition und Subtraktion der natürlichen Zahlen  $\mathbb{N}$  ist. Auch die Divisionsbegriffe werden nur noch im Sinne der Bruchrechnung verwendet.

Wie bereits in Kapitel 1 erwähnt stellen alle Zahlen, die durch einen Bruch dargestellt werden, die Zahlenmenge der rationalen Zahlen  $\mathbb{Q}$  dar. Mit jeder Zahlenmenge sind alle Rechenoperationen zulässig.

Ein Bruch setzt sich aus seinem Nenner, der definiert in wie viele gleichgroße Teile ein Ganzes unterteilt wird, und den Zähler, der beschreibt wie viele Teile vom Nenner tatsächlich vorzufinden sind

(Bruch =  $\frac{\text{Zähler}}{\text{Nenner}}$ ). Mittels Brüchen kann man die gleiche Zahl auf verschiedene Arten darstellen, so ist  $\frac{1}{2}$  das Gleiche wie  $\frac{2}{4}$ . Wenn der Nenner erhöht wird spricht man vom Erweitern. Bei einer Verkleinerung des Nenners wird vom Kürzen gesprochen.

Beim Erweitern werden Zähler und Nenner mit der Zahl multipliziert mit der man den Bruch erweitern möchte. Im folgenden Beispiel wird der Bruch im ersten Schritt mit zwei und danach mit vier erweitert.

$$\frac{1}{2} = \frac{2}{4} = \frac{8}{16} \quad (2.1)$$

Beim Kürzen werden Zähler und Nenner durch die Zahl dividiert mit der man den Bruch kürzen möchte. Im folgenden Beispiel wird der Bruch im ersten Schritt mit zwei und danach mit acht erweitert.

$$\frac{16}{32} = \frac{8}{16} = \frac{1}{2} \quad (2.2)$$

Bei der Addition beziehungsweise der Subtraktion von Brüchen müssen die Nenner der beteiligten Brüche so erweitert oder gekürzt werden, dass sie gleich sind. Dann können die Zähler verrechnet werden. Um immer einen gemeinsamen Nenner zu finden, kann man den ersten Bruch mit dem Nenner des zweiten Bruch und den zweiten Bruch mit dem Nenner des ersten Bruchs erweitern (wie im Subtraktionsbeispiel gezeigt).

$$\begin{aligned} \frac{1}{4} + \frac{1}{2} &= \frac{1}{4} + \frac{1 \cdot 2}{2 \cdot 2} = \frac{1}{4} + \frac{2}{4} = \frac{1+2}{4} = \frac{3}{4} \\ \frac{3}{4} - \frac{1}{6} &= \frac{3 \cdot 6}{4 \cdot 6} - \frac{1 \cdot 4}{6 \cdot 4} = \frac{18}{24} - \frac{4}{24} = \frac{18-4}{24} = \frac{14}{24} = \frac{7}{12} \end{aligned} \quad (2.3)$$

Bei der Multiplikation von Brüchen, werden die Nenner miteinander multipliziert und bilden so den neuen Nenner. Auch die Zähler werden miteinander multipliziert.

$$\frac{1}{4} \cdot \frac{1}{2} = \frac{1 \cdot 1}{4 \cdot 2} = \frac{1}{8} \quad (2.4)$$

Bei der Division muss man mit dem Kehrwert, also der Vertauschung von Nenner und Zähler des Divisors, multiplizieren.

$$\frac{1}{4} : \frac{1}{2} = \frac{1}{4} \cdot \frac{2}{1} = \frac{1 \cdot 2}{4 \cdot 1} = \frac{2}{4} = \frac{1}{2} \quad (2.5)$$

Ferner gilt bei Berücksichtigung von Parametern oder Variablen:

$$\begin{aligned} \frac{a}{b} &= \frac{a}{b} \cdot 1 = \frac{a}{b} \cdot \frac{n}{n} = \frac{a \cdot n}{b \cdot n} && \text{Erweitern} \\ \frac{a \cdot n}{b \cdot n} &= \frac{a}{b} \cdot \frac{n}{n} = \frac{a}{b} \cdot 1 = \frac{a}{b} && \text{Kürzen} \\ \frac{a}{b} + \frac{c}{d} &= \frac{a \cdot d}{b \cdot d} + \frac{c \cdot b}{d \cdot b} = \frac{a \cdot d + c \cdot b}{d \cdot b} && \text{Addition} \\ \frac{a}{b} - \frac{c}{d} &= \frac{a \cdot d}{b \cdot d} - \frac{c \cdot b}{d \cdot b} = \frac{a \cdot d - c \cdot b}{d \cdot b} && \text{Subtraktion} \\ \frac{a}{b} \cdot \frac{c}{d} &= \frac{a \cdot c}{d \cdot b} && \text{Multiplikation} \\ \frac{a}{b} : \frac{c}{d} &= \frac{a}{b} \cdot \frac{d}{c} = \frac{a \cdot d}{c \cdot b} && \text{Division} \end{aligned} \quad (2.6)$$

Im den folgenden Abschnitten wird der Malpunkt zwischen einer Zahl und einem Parameter beziehungsweise einer Variablen oder zwischen Parametern beziehungsweise Variablen selbst nicht mehr notiert, es sei denn dieser ist zum Verständnis von besonderer Bedeutung. Aus diesem Grund soll auch auf die Schreibweise für gemischte Brüche vollständig verzichtet werden, da in dieser Schreibweise  $\frac{13}{6} = 2\frac{1}{6} = 2 + \frac{1}{6}$  das Additionszeichen eingespart wird. Sobald das

Multiplikationszeichen durch eine Konvention im Unterricht fallen gelassen wird, würde es zu Verwirrungen und Missverständnissen kommen, sodass entweder  $2\frac{1}{6} = 2 + \frac{1}{6}$  oder  $2\frac{1}{6} = 2 \cdot \frac{1}{6}$  gilt. Dieses Buch orientiert sich an der Konvention, welche in der höheren Mathematik verwendet wird. Deswegen sollte auf die Schreibweise von gemischten Brüchen vollständig verzichtet werden und ausschließlich nur eine einzige Konvention - die des Weglassens des Multiplikationsoperators - verwendet werden.

## Übungsaufgaben zur Bruchrechnung

**Aufgabe 1:** Welcher Bruch ist größer? Trage die richtigen Zeichen (gleich =, größer als > und kleiner als <) zwischen den Brüchen ein.

a)  $\frac{1}{2}$   $\frac{1}{4}$

d)  $\frac{3}{8}$   $\frac{1}{2}$

g)  $\frac{4}{16}$   $\frac{1}{4}$

j)  $\frac{2}{3}$   $\frac{7}{8}$

m)  $\frac{3}{8}$   $\frac{1}{3}$

p)  $\frac{2}{5}$   $\frac{3}{8}$

s)  $\frac{3}{8}$   $\frac{24}{64}$

b)  $\frac{1}{3}$   $\frac{3}{4}$

e)  $\frac{5}{6}$   $\frac{3}{4}$

h)  $\frac{2}{5}$   $\frac{7}{15}$

k)  $\frac{6}{7}$   $\frac{3}{4}$

n)  $\frac{5}{9}$   $\frac{3}{7}$

q)  $\frac{3}{2}$   $\frac{5}{3}$

t)  $\frac{81}{9}$   $\frac{36}{4}$

c)  $\frac{2}{5}$   $\frac{4}{10}$

f)  $\frac{1}{3}$   $\frac{3}{9}$

i)  $\frac{2}{3}$   $\frac{3}{6}$

l)  $\frac{4}{5}$   $\frac{16}{20}$

o)  $\frac{5}{25}$   $\frac{1}{5}$

r)  $\frac{14}{8}$   $\frac{16}{9}$

u)  $\frac{55}{5}$   $\frac{131}{11}$

**Aufgabe 2:** Kürze die Brüche bis man sie nicht weiter kürzen kann.

a)  $\frac{8}{16} =$

d)  $\frac{6}{24} =$

g)  $\frac{75}{125} =$

j)  $\frac{16}{48} =$

m)  $\frac{12}{96} =$

p)  $\frac{33}{3} =$

s)  $\frac{24}{72} =$

b)  $\frac{6}{14} =$

e)  $\frac{48}{64} =$

h)  $\frac{30}{75} =$

k)  $\frac{6}{18} =$

n)  $\frac{16}{64} =$

q)  $\frac{54}{72} =$

t)  $\frac{36}{66} =$

c)  $\frac{9}{15} =$

f)  $\frac{12}{144} =$

i)  $\frac{72}{108} =$

l)  $\frac{24}{8} =$

o)  $\frac{48}{144} =$

r)  $\frac{5000}{10000} =$

u)  $\frac{63}{108} =$

**Aufgabe 3:** *Erweitere die Brüche mit der angegebenen Zahl.*

a)  $\frac{3}{4}$  mit: 9

b)  $\frac{5}{7}$  mit: 7

c)  $\frac{1}{12}$  mit: 8

d)  $\frac{1}{2}$  mit: 24

e)  $\frac{7}{8}$  mit: 6

f)  $\frac{4}{6}$  mit: 11

g)  $\frac{5}{7}$  mit: 8

h)  $\frac{5}{13}$  mit: 9

i)  $\frac{4}{11}$  mit: 7

j)  $\frac{7}{4}$  mit: 9

k)  $\frac{6}{11}$  mit: 5

l)  $\frac{3}{12}$  mit: 4

m)  $\frac{2}{3}$  mit: 21

n)  $\frac{7}{8}$  mit: 3

o)  $\frac{4}{6}$  mit: 13

p)  $\frac{3}{9}$  mit: 8

q)  $\frac{5}{12}$  mit: 6

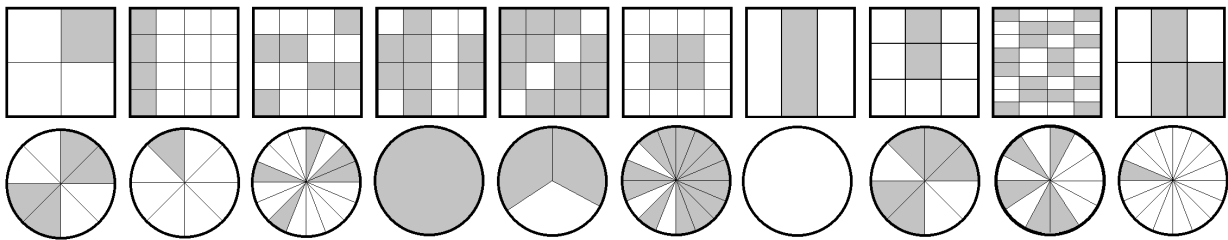
r)  $\frac{7}{12}$  mit: 7

s)  $\frac{3}{4}$  mit: 17


t)  $\frac{5}{6}$  mit: 4

u)  $\frac{13}{6}$  mit: 1000

**Aufgabe 4:** *Bestimme Nenner und Zähler des jeweiligen dargestellten Bruchs. (Es ist der jeweilige graue Anteil gefragt.)*




**Aufgabe 5:** *Veranschauliche folgende Brüche jeweils an einem Rechteck:  $\frac{4}{5}$ ,  $\frac{3}{7}$ ,  $\frac{1}{9}$ ,  $\frac{5}{7}$  und  $\frac{16}{16}$*





**Aufgabe 6:** Veranschauliche folgende Brüche jeweils an einem Kreis:  $\frac{3}{4}$ ,  $\frac{1}{3}$ ,  $\frac{1}{8}$ ,  $\frac{6}{12}$  und  $\frac{1}{16}$



**Aufgabe 7:** Addiere die folgenden Brüche!

a)  $\frac{1}{2} + \frac{1}{4} =$

b)  $\frac{3}{7} + \frac{1}{14} =$

c)  $\frac{2}{5} + \frac{3}{10} =$

d)  $\frac{3}{8} + \frac{1}{2} =$

e)  $\frac{5}{16} + \frac{3}{8} =$

f)  $\frac{1}{3} + \frac{2}{9} =$

g)  $\frac{1}{4} + \frac{3}{32} =$

h)  $\frac{2}{5} + \frac{2}{15} =$

i)  $\frac{2}{3} + \frac{1}{6} =$

**Aufgabe 8:** Subtrahiere die folgenden Brüche!

a)  $\frac{1}{2} - \frac{1}{4} =$

b)  $\frac{3}{7} - \frac{1}{14} =$

c)  $\frac{2}{5} - \frac{3}{10} =$

d)  $\frac{1}{2} - \frac{3}{8} =$

e)  $\frac{3}{8} - \frac{5}{16} =$

f)  $\frac{1}{3} - \frac{2}{9} =$

g)  $\frac{1}{4} - \frac{3}{32} =$

h)  $\frac{2}{5} - \frac{2}{15} =$

i)  $\frac{2}{3} - \frac{1}{6} =$

**Aufgabe 9:** *Addiere beziehungsweise subtrahiere die folgenden Brüche!*

a)  $\frac{5}{2} + \frac{3}{4} =$

b)  $\frac{13}{7} - \frac{15}{14} =$

c)  $\frac{9}{5} + \frac{13}{10} =$

d)  $\frac{21}{2} - \frac{31}{8} =$

e)  $\frac{9}{8} + \frac{19}{16} =$

f)  $\frac{5}{3} - \frac{11}{9} =$

g)  $\frac{7}{4} + \frac{67}{32} =$

h)  $\frac{13}{5} - \frac{25}{15} =$

i)  $\frac{13}{3} + \frac{11}{6} =$

j)  $\frac{1}{4} - \frac{3}{16} =$

k)  $\frac{13}{4} - \frac{9}{6} =$

l)  $\frac{9}{5} + \frac{3}{4} =$

m)  $\frac{21}{4} - \frac{11}{8} =$

n)  $\frac{3}{8} + \frac{9}{32} =$

o)  $\frac{4}{3} - \frac{10}{9} =$

p)  $\frac{7}{8} - \frac{11}{32} =$

q)  $\frac{13}{5} - 2 =$

r)  $14 + \frac{11}{6} =$

s)  $\frac{1}{8} + \frac{9}{16} =$

t)  $\frac{15}{6} - \frac{7}{3} =$

u)  $\frac{9}{5} - \frac{3}{4} =$

v)  $\frac{23}{4} + \frac{17}{8} =$

w)  $\frac{7}{9} - \frac{11}{18} =$

x)  $\frac{1}{10} - \frac{1}{1000} =$

y)  $\frac{5}{20} - \frac{1}{1000} =$

z)  $\frac{13}{15} + 6 =$

**Aufgabe 10:** *Multipliziere die folgenden Brüche!*

a)  $\frac{1}{2} \cdot \frac{1}{4} =$

b)  $\frac{3}{7} \cdot \frac{1}{14} =$

c)  $\frac{2}{5} \cdot \frac{3}{10} =$

d)  $\frac{3}{8} \cdot \frac{1}{2} =$

e)  $\frac{5}{16} \cdot \frac{3}{8} =$

f)  $\frac{1}{3} \cdot \frac{2}{9} =$

g)  $\frac{1}{4} \cdot \frac{3}{32} =$

h)  $\frac{2}{5} \cdot \frac{2}{15} =$

i)  $\frac{2}{3} \cdot \frac{1}{6} =$

**Aufgabe 11:** *Dividiere die folgenden Brüche!*

a)  $\frac{1}{2} : \frac{1}{4} =$

b)  $\frac{3}{7} : \frac{1}{14} =$

c)  $\frac{2}{5} : \frac{3}{10} =$

d)  $\frac{1}{2} : \frac{3}{8} =$

e)  $\frac{3}{8} : \frac{5}{16} =$

f)  $\frac{1}{3} : \frac{2}{9} =$

g)  $\frac{1}{4} : \frac{3}{32} =$

h)  $\frac{2}{5} : \frac{2}{15} =$

i)  $\frac{2}{3} : \frac{1}{6} =$

**Aufgabe 12:** *Multipliziere beziehungsweise dividiere die folgenden Brüche!*

a)  $\frac{5}{2} \cdot \frac{3}{4} =$

d)  $\frac{21}{2} \cdot \frac{31}{8} =$

g)  $\frac{7}{4} : \frac{67}{32} =$

j)  $\frac{1}{4} \cdot \frac{3}{16} =$

m)  $\frac{21}{4} \cdot \frac{11}{8} =$

p)  $\frac{7}{8} : \frac{11}{32} =$

s)  $\frac{1}{8} \cdot \frac{9}{16} =$

v)  $\frac{23}{4} \cdot \frac{17}{8} =$

y)  $\frac{5}{20} : \frac{1}{1000} =$

b)  $\frac{13}{7} \cdot \frac{15}{14} =$

e)  $\frac{9}{8} : \frac{19}{16} =$

h)  $\frac{13}{5} : \frac{25}{15} =$

k)  $\frac{13}{4} : \frac{9}{6} =$

n)  $\frac{3}{8} : \frac{9}{32} =$

q)  $\frac{13}{5} : 2 =$

t)  $\frac{15}{6} \cdot \frac{7}{3} =$

w)  $\frac{7}{9} \cdot \frac{11}{18} =$

z)  $\frac{13}{15} \cdot 6 =$

c)  $\frac{9}{5} : \frac{13}{10} =$

f)  $\frac{5}{3} \cdot \frac{11}{9} =$

i)  $\frac{13}{3} \cdot \frac{11}{6} =$

l)  $\frac{9}{5} : \frac{3}{4} =$

o)  $\frac{4}{3} \cdot \frac{10}{9} =$

r)  $14 \cdot \frac{11}{6} =$

u)  $\frac{9}{5} : \frac{3}{4} =$

x)  $\frac{1}{10} : \frac{1}{1000} =$

Die Lösungen zu diesem Abschnitt finden sich im Anhang im Abschnitt (14.3.2) Lösungen zur Bruchrechnen.

## 2.2 Brüche als Dezimalzahlen

Um Brüche in Dezimalzahlen umzuwandeln bedarf es der schriftlichen Division oder eines guten Zahlengefühls. Anhand eines Beispiels soll ersteres verdeutlicht werden.

$$\begin{array}{r}
 \frac{2}{7} = \quad 2 : 7 = 0,285\dots \\
 \quad \quad \quad -0 \\
 \hline
 \quad \quad \quad 20 \\
 \quad \quad \quad -14 \\
 \hline
 \quad \quad \quad 60 \\
 \quad \quad \quad -56 \\
 \hline
 \quad \quad \quad 40 \\
 \quad \quad \quad -35 \\
 \hline
 \quad \quad \quad \vdots
 \end{array} \tag{2.7}$$

An Gleichung (2.7) ist zu erkennen, wie jeder Bruch in eine Dezimalzahl umgewandelt werden kann. Dabei wird bei der schriftlichen Divisionsrechnung nach jeder Subtraktion eine Nachkommastellennull nach unten gezogen, sodass die Rechnung fortgesetzt werden kann bis kein Rest mehr existiert, eine Periodizität wie bei  $\frac{1}{3} = 0,333333333\dots = 0,\bar{3}$  festgestellt wird oder eine genauere Dezimalzahl nicht mehr erforderlich ist. Da im Allgemeinen bekannt ist, dass  $\frac{3}{3} = 1$  ist, gilt folgende Definition zur Periodizität:  $3 \cdot 0,\bar{3} = 0,\bar{9} := 1$ .

Im Allgemeinen sollte auf eine Umwandlung in Dezimalzahlen verzichtet werden, da die Darstellung durch einen Bruch meistens, das weitere Vorgehen vereinfacht. Die Darstellung einer Zahl als Bruch ist dabei eine Schreibweise, welche eine Rechnung fordert aber sie nicht ausführt. So kann zum Beispiel durch das Erhalten von Bruchdarstellungen folgende Rechnung leichter durchgeführt werden als in der Dezimalzahlendarstellung, welche im direkten Vergleich darunter zu finden ist. (Bei dieser Rechnung werden Klammern verwendet, deren Bedeutung genauestens im Abschnitt „Klammersetzung“ besprochen werden. Für diese Rechnung gilt, dass die Rechnung in der Klammer zu erst ausgeführt werden soll.)

$$\begin{aligned}
 \left(\frac{2}{3} + \frac{1}{6}\right) \cdot \frac{3}{5} &= \left(\frac{2 \cdot 2}{3 \cdot 2} + \frac{1}{6}\right) \cdot \frac{3}{5} = \frac{5}{6} \cdot \frac{3}{5} = \frac{\cancel{5} \cdot 3}{6 \cdot \cancel{5}} = \frac{3}{6} = \frac{1}{2} \\
 (0,\bar{6} + 0,1\bar{6}) \cdot 0,6 &= 0,8\bar{3} \cdot 0,6 = 0,5
 \end{aligned} \tag{2.8}$$

Die Gleichung (2.8) zeigt, dass die Rechnung mit den Brüchen zwar länger erscheint, aber vollständig im Kopf durchgeführt werden kann. Während die Rechnungen mit den Dezimalzahlen vielen nur mit Taschenrechner gelingen und dabei noch die Problematik der Periodizität bei der Eingabe in den Taschenrechner besteht, sodass als Ergebnis 0,499999999 auf dem Taschenrechnerdisplay angezeigt wird. Dieses Ergebnis wäre nicht richtig und durch das Runden des Ergebnisses bekommt der Schüler oftmals den Eindruck, dass solche Rechnungen nicht ohne Taschenrechner schaffbar seien.

Dieses Verfahren zur Umwandlung von Brüchen in Dezimalzahlen ist in erster Linie nützlich um Prozentwerte auszurechnen, was detaillierter im Abschnitt „Prozentrechnung“ beschrieben wird.

## Übungsaufgaben zu Dezimalzahlen

**Aufgabe 1:** *Wandle folgende Brüche in Dezimalzahlen um.*

a)  $\frac{1}{2} =$

d)  $\frac{1}{8} =$

g)  $\frac{3}{4} =$

j)  $\frac{6}{7} =$

m)  $\frac{5}{9} =$

p)  $\frac{43}{5} =$

s)  $\frac{67}{7} =$

v)  $\frac{1}{10} =$

b)  $\frac{1}{3} =$

e)  $\frac{1}{4} =$

h)  $\frac{4}{5} =$

k)  $\frac{1}{12} =$

n)  $\frac{11}{6} =$

q)  $\frac{55}{2} =$

t)  $\frac{81}{3} =$

w)  $\frac{1}{100} =$

c)  $\frac{1}{5} =$

f)  $\frac{1}{16} =$

i)  $\frac{2}{3} =$

l)  $\frac{19}{5} =$

o)  $\frac{5}{3} =$

r)  $\frac{17}{8} =$

u)  $\frac{55}{7} =$

x)  $\frac{1}{1000} =$

**Aufgabe 2:** *Berechne folgende Aufgaben.*

a)  $4 \cdot 0,1 =$

d)  $2,125 - 1 =$

g)  $3,003 : 3 =$

j)  $5, \bar{5} : 5 =$

b)  $1 + 0,75 =$

e)  $6, \bar{6} + 3, \bar{3} =$

h)  $100 \cdot 1,001 =$

k)  $5 \cdot 0,1 + 0, \bar{3} =$

c)  $9 \cdot 1,001 =$

f)  $1 + 0,0004 =$

i)  $1000 \cdot 0,001 =$

l)  $14 + 0, \bar{7} =$

Die Lösungen zu diesem Abschnitt finden sich im Anhang im Abschnitt (14.3.3) Lösungen zu Dezimalzahlen.

## 2.3 Einsetzungsverfahren

Das Einsetzungsverfahren wird oftmals mit Gleichungssystemen in Verbindung gebracht, allerdings ist das dahinter liegende Prinzip von fundamentalerer Bedeutung für den Umgang mit mathematischem und naturwissenschaftlichem Wissen. Bei diesem Verfahren wird entweder für einen Parameter, einer Variable oder einen Term eine Zahl oder einem weiterführender Term eingesetzt, sodass es generell zu einer Vereinfachung, einer Beispielrechnung oder der Reduzierung von unbekanntem Größen kommt. Dabei ist ein Parameter ein Platzhalter für eine Zahl (oftmals werden  $a, b, c, d$  als Parameter verwendet), während die Variable der Platzhalter für eine veränderliche Zahl (oftmals werden  $x, y, z$  als Variable verwendet) ist und ein Term ein ganzer Abschnitt einer Rechenanweisung (zum Beispiel  $5 \cdot x \cdot a$  wäre ein Term).

Als Beispiel für das Einsetzen von Zahlen soll das Erweitern bei der Bruchrechnung aus Gleichung (2.6) dienen. Hierbei soll gelten, dass für  $a$  der Wert 2, für  $b$  der Wert 3 und für den Erweiterungsparameter  $n$  die Zahl 4 eingesetzt werden soll.

$$\begin{aligned}
 \frac{a}{b} &= \frac{a}{b} \cdot 1 = \frac{a}{b} \cdot \frac{n}{n} = \frac{a \cdot n}{b \cdot n} && \text{mit: } a = 2 \\
 \Rightarrow \frac{2}{b} &= \frac{2}{b} \cdot 1 = \frac{2}{b} \cdot \frac{n}{n} = \frac{2 \cdot n}{b \cdot n} && \text{mit: } b = 3 \\
 \Rightarrow \frac{2}{3} &= \frac{2}{3} \cdot 1 = \frac{2}{3} \cdot \frac{n}{n} = \frac{2 \cdot n}{3 \cdot n} && \text{mit: } n = 4 \\
 \Rightarrow \frac{2}{3} &= \frac{2}{3} \cdot 1 = \frac{2}{3} \cdot \frac{4}{4} = \frac{2 \cdot 4}{3 \cdot 4} = \frac{8}{12}
 \end{aligned} \tag{2.9}$$

Wie bereits oben schon erwähnt wurde, ist dieses Verfahren auch mit Termen möglich.

$$\begin{aligned}
 a + b &= c && \text{mit: } a = d - e + f \\
 \Rightarrow d - e - f + b &= c && \text{mit: } c = e - f - d \\
 \Rightarrow d - e - f + b &= e - f - d
 \end{aligned} \tag{2.10}$$

## Übungsaufgaben zu Einsetzungsverfahren

**Aufgabe 1:** Löse folgende Rechnungen, indem du für  $a = 3$ ,  $b = 2$ ,  $c = 4$  einsetzt. Beachte, dass in einigen Rechnungen ein Term eingesetzt werden muss, welcher hinter der Gleichung definiert niedergeschrieben ist.

a)  $a + b - c =$

b)  $3a - 4b + c =$

c)  $ab - bc =$

d)  $ab - ba =$

e)  $4ab + 2cc - 3bc =$

f)  $4\frac{a}{b} + \frac{c}{a} =$

g)  $2ab + 2ac + 2bc =$

h)  $a + d =$  mit:  $d = abc$

i)  $ad =$  mit:  $d = ab - cb$

j)  $\frac{a}{bd} =$  mit:  $d = 4aa$

k)  $\frac{d}{a} - \frac{b}{d} =$  mit:  $d = abc$

l)  $\frac{1}{d} =$  mit:  $d = \frac{1}{a}$

m)  $a + b\frac{d}{c} =$  mit:  $d = \frac{2ac - c}{d}$

Die Lösungen zu diesem Abschnitt finden sich im Anhang im Abschnitt (14.3.4) Lösungen zum Einsetzungsverfahren.

## 2.4 Prozentrechnung

Die Prozentrechnung ist von besonderer Bedeutung in der heutigen Gesellschaft, dabei versteckt sich hinter ihr nur der Bruch  $\frac{1}{100}$ . Denn pro cent bedeutet übersetzt nicht viel mehr als pro hundert. Aus diesem Bruch heraus hat sich historisch dann das Prozentzeichen % entwickelt. Der rechnerische Umgang ist durch das Ersetzen von % durch  $\frac{1}{100}$  gegeben.

$$4\% = 4 \cdot \frac{1}{100} = \frac{4}{100} = 0,04 \quad (2.11)$$

Auch andere Rechnungen sind auf diesen Fakt reduzierbar: Sei ein Kapital von 1000€ mit einem Zinssatz von 4% pro Jahr angelegt, wie hoch wären die Zinsen nach einem Jahr? Diese Frage kann leicht dargestellt werden als:

$$1000\text{€} \cdot 4\% = 1000\text{€} \cdot 4 \cdot \frac{1}{100} = 4000\text{€} \cdot \frac{1}{100} = \frac{4000\text{€}}{100} = 40\text{€} \quad , \quad (2.12)$$

wobei genauere Ausführungen zu dieser Art von Rechnungen weiter unten im Kapitel „Wirtschaftsrechnungen“ folgen werden.

Der Dreisatz zur Frage „Wieviel sind 4% von 300?“ gestaltet sich als:

$$\begin{array}{ll} 300 \text{ entsprechen:} & 100\% \\ 3 \text{ entsprechen:} & 1\% \\ 12 \text{ entsprechen:} & 4\% \end{array} \quad (2.13)$$

Allerdings ist der Dreisatz durch das Wissen, dass  $\% = \frac{1}{100}$  ist, wie folgt verkürzt durchzuführen:

$$300 \cdot 4\% = \frac{4 \cdot 300}{100} = \frac{1200}{100} = 12 \quad , \quad (2.14)$$

wobei in Gleichung (2.14) die Zwischenschritte weggelassen werden könnten, da  $\frac{300}{100}$  und  $3 \cdot 4$  nicht von besonderer Schwierigkeit sind.



## Übungsaufgaben zu Prozentrechnung

**Aufgabe 1:** Wandele folgende Zahlen in Prozentwerte um.

a)  $0,01 =$

b)  $100 =$

c)  $0,5 =$

d)  $0,125 =$

e)  $0,0024 =$

f)  $289 =$

g)  $0,9315 =$

h)  $0,0341 =$

i)  $0,891 =$

**Aufgabe 2:** Wandele folgende Prozentwerte in Zahlen um.

a)  $1\% =$

b)  $100\% =$

c)  $54\% =$

d)  $1626\% =$

e)  $2,374\% =$

f)  $2,01\% =$

g)  $99\% =$

h)  $5\% =$

i)  $81,063\% =$

**Aufgabe 3:** Wandele folgende Brüche in eine Dezimalzahl um und schreibe sie dann als Prozentwert auf. Bei dieser Aufgabe brauchen nur drei Nachkommastellen beachtet werden.

a)  $\frac{1}{4} =$

b)  $\frac{1}{3} =$

c)  $\frac{5}{6} =$

d)  $\frac{9}{14} =$

e)  $\frac{8}{25} =$

f)  $\frac{1}{8} =$

g)  $\frac{7}{9} =$

h)  $\frac{9}{4} =$

i)  $\frac{43}{83} =$

**Aufgabe 4:** Berechne das Ergebnis.

a)  $700 \cdot 1\% =$

b)  $45 \cdot 100\% =$

c)  $200 \cdot 4\% =$

d)  $80 \cdot 25\% =$

e)  $1500 \cdot 2\% =$

f)  $50000 \cdot 3\% =$

g)  $9000 \cdot 99\% =$

h)  $3141 \cdot 0,1\% =$

i)  $120 \cdot 5\% =$

**Aufgabe 5:** *Berechne das Ergebnis.*

- a) 4% von 1000€ sind:
- b) 2% von 5550€ sind:
- c) 10% von 862434€ sind:
- d) 19% von 299€ sind:
- e) 12% von 1200€ sind:
- f) 11% von 65300€ sind:

Die Lösungen zu diesem Abschnitt finden sich im Anhang im Abschnitt (14.3.5) Lösungen zur Prozentrechnung.

## 2.5 Assoziativ und Kommutativ

Das Assoziativ- und das Kommutativgesetz helfen beim Rechnen den Überblick selbst über sehr komplex wirkende Sachverhalte zu behalten und sollten deswegen bekannt sein. In diesem Abschnitt werden diese beiden Gesetz und ihre Auswirkungen auf die Mathematik besprochen. Auch wird nochmals motiviert, warum es lohnend sein kann mit Brüchen und negativen Zahlen zu arbeiten.

### 2.5.1 Kommutator

Das Kommutativgesetz besagt, dass die Vertauschung von Zahlen, Parametern oder Variablen bei einer Rechenoperation keinen Einfluss auf das Ergebnis hat. Zur Überprüfung des Kommutativgesetzes dient der Kommutator, welcher folgende definierte Rechenanweisung ist:

$$[a, b] = a \cdot b - b \cdot a \quad (2.15)$$

Ist der Kommutator gleich Null, so gilt, dass  $a \cdot b = b \cdot a$  ist. Wenn man nun Zahlen für die Parameter  $a$  und  $b$  einsetzt, so ist die Gültigkeit des Kommutativgesetzes intuitiv zu erkennen:

$$[2, 3] = 2 \cdot 3 - 3 \cdot 2 = 6 - 6 = 0 \quad (2.16)$$

Der allgemeine Kommutator ist für die Multiplikation definiert - wenn nun das Kommutativgesetz zum Beispiel für die Addition überprüft werden soll, wird am Komma des Kommutator gekennzeichnet welcher Operator untersucht wird.

$$\begin{aligned} [a, + b] &= a + b - b + a \\ [2, + 3] &= 2 + 3 - 3 + 2 = 5 - 5 = 0 \end{aligned} \quad (2.17)$$

Es wird deutlich, dass ohne die Einführung der ganzen Zahlen  $\mathbb{Z}$  und der Bruchrechnung und somit die Verallgemeinerung von Addition mit Subtraktion sowie der Multiplikation mit der Division, dass Kommutativgesetz nicht für die Subtraktion und Division gelten würde.

$$\begin{aligned} [a, - b] &= a - b - b - a \neq 0 \\ [2, - 3] &= 2 - 3 - 3 - 2 \neq 0 \\ [a, : b] &= a : b - b : a \neq 0 \\ [2, : 3] &= 2 : 3 - 3 : 2 \neq 0 \end{aligned} \quad (2.18)$$

Durch die Einführung ganzen Zahlen  $\mathbb{Z}$  und der Bruchrechnung verändert sich Gleichung (2.18) zu:

$$\begin{aligned} [a, + -b] &= (a + (-b)) - (-b + a) = 0 \\ [3, + -2] &= (3 + (-2)) - (-2 + 3) = 1 - 1 = 0 \\ \left[ a, \frac{1}{b} \right] &= a \cdot \frac{1}{b} - \frac{1}{b} \cdot a = \frac{a}{b} - \frac{a}{b} = 0 \\ \left[ 2, \frac{1}{3} \right] &= 2 \cdot \frac{1}{3} - \frac{1}{3} \cdot 2 = \frac{2}{3} - \frac{2}{3} = 0 \end{aligned} \quad (2.19)$$

Die besondere Bedeutung und die Konsequenzen des Kommutators werden im Kapitel „Differentiation und Integration“ weiter ausgeführt. Während die Klammern im nächsten Unterabschnitt genaustens erklärt werden

## 2.5.2 Assoziativgesetz

Das Assoziativgesetz besagt, dass die Reihenfolge bei einer Rechnung keine Relevanz besitzen darf. So macht es zum Beispiel keinen Unterschied bei der Addition oder Multiplikation von drei Zahlen, welche zuerst verrechnet werden.

$$\begin{aligned} a + b + c &= (a + b) + c = a + (b + c) = b + (a + c) \\ a \cdot b \cdot c &= (a \cdot b) \cdot c = a \cdot (b \cdot c) = b \cdot (a \cdot c) \end{aligned} \quad (2.20)$$

Die Reihenfolge in Gleichung 2.20 wird beschrieben durch die Klammern, welche angeben welche Rechnung zu erst vollzogen werden soll. Das jeweils letzte Gleichheitszeichen konnte nur durch die Vertauschung der geschriebenen Reihenfolge der Parameter  $a$ ,  $b$  und  $c$ , also dem Kommutativgesetz, geschrieben werden. Erneut zeigt sich, dass die Verallgemeinerung von Addition mit Subtraktion sowie Multiplikation mit Division seine Vorteile hat, denn die Rechenoperatoren der Subtraktion und der Division sind nicht assoziativ:

$$\begin{aligned} (a - b) - c &\neq a - (b - c) \\ (a : b) : c &\neq a : (b : c) \end{aligned} \quad (2.21)$$

Allerdings gilt durch die Einführung der ganzen Zahlen  $\mathbb{Z}$  und des Bruchrechnens, dass der Subtraktionsoperator umgeschrieben werden kann in  $- = +(-1)$  sowie der Divisionsoperator mit nur seltenen Ausnahmen aus dem mathematischen Gebrauch verschwindet.

## 2.5.3 Klammersetzung

Wenn eine Rechnung mehr als nur einen Rechenoperator beinhaltet, dann lohnt es sich Klammern zu verwenden, um den Überblick zu behalten oder auf bestimmte Sachverhalte aufmerksam zu machen. Im engeren Sinne ist die Rechnung mit Klammern auf die Multiplikation reduzierbar. Dabei wirkt der außenstehende Faktor auf jeden Summanden innerhalb der Klammer:

$$\begin{aligned} a \cdot (b + c) &= a \cdot b + a \cdot c \\ 16 &= 2 \cdot 8 = 2 \cdot (3 + 5) = 2 \cdot 3 + 2 \cdot 5 = 6 + 10 = 16 \end{aligned} \quad (2.22)$$

Das Beispiel aus Gleichung (2.22) zeigt, wie der Faktor auf die Summanden innerhalb der Klammern wirkt und somit das gleiche Ergebnis produziert, wie die Multiplikation des Faktors mit der Summe der Klammer.

Bei der Verrechnung von Subtraktionsoperatoren mit einer Klammer gilt, dass das vorgestellte Minus lediglich eine verkürzte Schreibweise von  $(-1) \cdot$  ist:

$$-(b + c) = (-1) \cdot (b + c) = (-1) \cdot b + (-1) \cdot c = -b - c \quad (2.23)$$

Auch Terme von Summen können miteinander multipliziert werden:

$$(a + b) \cdot (c + d) = a \cdot (c + d) + b \cdot (c + d) = a \cdot c + a \cdot d + b \cdot c + b \cdot d \quad (2.24)$$

In Gleichung (2.24) wirken zu erst die Summanden der ersten Klammer auf die zweite Klammer, sodass dann die zweite Klammer wie in Gleichung (2.22) ausmultipliziert werden kann.

Es wird auch ersichtlich, dass die Schreibweise mit den Klammern wesentlich kürzer ist. Das Ausmultiplizieren ist trotz der verkürzten Klammerschreibweise oftmals von Vorteil.

Die Klammersetzung ist nicht nur ein Bestandteil einer verkürzten Schreibweise, sondern auch von fundamentaler Bedeutung bei komplexeren Einsetzungsverfahren. So sei zum Beispiel  $a = g + h$  und soll in die folgende Gleichung eingesetzt werden.

$$a \cdot d = (g + h) \cdot d = g \cdot d + h \cdot d \quad (2.25)$$

Wie Gleichung (2.25) zeigt, sollte bei einer Ersetzung der eingesetzte Term am besten prophylaktisch umklammert werden, um Fehler zu vermeiden. Erst nach einer Reflexion der Gleichung sollten dann die Klammern, wenn möglich, fallen gelassen werden.

Allerdings sollte auch die Umkehrung des Ausmultiplizierens, das Ausklammern, beherrscht werden, da es oftmals die Übersicht verbessert, wie in diesem Beispiel:

$$a \cdot b + a \cdot c + a \cdot d + a \cdot e + a \cdot f + g = a \cdot (b + c + d + e + f) + g \quad (2.26)$$

Die Gleichung (2.26) zeigt, dass der Faktor  $a$ , welcher sich in vielen Summanden befindet, ausgeklammert wurde um die Übersicht zu verbessern. Generell gilt, dass man gleiche Vorfaktoren bei Summen ausklammern kann.

## Übungsaufgaben zur Klammersetzung

**Aufgabe 1:** *Berechne das Ergebnis.*

$$a) \frac{1}{2}(9 + 7) =$$

$$b) \frac{25 + 65}{10} =$$

$$c) 4(3 + 2) - 2(1 + 3) =$$

$$d) \frac{16 + 48}{2} =$$

**Aufgabe 2:** *Multipliziere die Klammern aus.*

$$a) 4(a + b) =$$

$$b) c(a - 5b) =$$

$$c) \frac{2}{5}(9a - 5) =$$

$$d) (a + b)(a + b) =$$

$$e) \frac{2}{5} \left( \frac{a}{b} - \frac{5c}{d} \right) =$$

$$f) (a - b)(a - b) =$$

$$g) (a + b)(c + d) =$$

$$h) (a - b)(a + b) =$$

$$i) \frac{a + b}{c} =$$

$$j) \frac{(a + b)(a - b)}{a - b} (a + b) =$$

**Aufgabe 3:** *Klammere so viel wie möglich aus.*

$$a) 9a + 9b =$$

$$b) 2a + 6 - 8b =$$

$$c) ab - acd + aa =$$

$$d) 2ab + 4ab + 8ab =$$

$$e) \frac{5a}{bc} + \frac{25}{bc} =$$

$$f) abcdefghijkl - bcdefghijk =$$

Die Lösungen zu diesem Abschnitt finden sich im Anhang im Abschnitt (14.3.6) Lösungen zur Klammersetzung.

## 2.6 Potenzen

Wie schon zuvor wurden viele Rechenmethoden und neue Eigenschaften eingeführt, um die Übersicht oder Handhabung von rechnerischen Ausdrücken zu vereinfachen. Aus dem selben Grund wird die Potenz eingeführt, welche als verkürzte Schreibweise der wiederholten Multiplikation einer Zahl dient.

$$\begin{aligned} a \cdot a &= a^2 \\ a \cdot a \cdot a \cdot a \cdot a &= a^5 \\ 2^6 &= 2 \cdot 2 \cdot 2 \cdot 2 \cdot 2 \cdot 2 \end{aligned} \quad (2.27)$$

Für Potenzen gelten Rechenregeln, welche schnell erklärt werden können, wenn der abkürzende Charakter wie in Gleichung (2.27) verinnerlicht wurde. Im Folgenden soll eine Regel gezeigt und dann begründet werden, dass diese gilt (außer die Regel ist intuitiv).

$$\begin{aligned} a^2 \cdot a^3 &= a^{2+3} = a^5 = (a \cdot a) \cdot (a \cdot a \cdot a) \\ \Rightarrow a^3 : a^2 &= a^{3-2} = a^1 = a \end{aligned} \quad (2.28)$$

Aus der Bedingung, dass  $\frac{a}{a} = 1$  sein muss und mit der Regel aus Gleichung (2.28) ergibt sich daraus, dass  $a^1 \cdot \frac{1}{a} = a^0 = 1$  sein muss. Hieraus ergibt sich:

$$\begin{aligned} a^0 &= 1 \\ a^{-1} &= \frac{1}{a} \end{aligned} \quad (2.29)$$

Des Weiteren kann aus Gleichung (2.28) abgeleitet werden, dass Rechnungen mit Potenzen nicht assoziativ sind:

$$\begin{aligned} a^3 \cdot a^3 &= (a^3)^2 = a^{3 \cdot 2} = a^6 \\ a^{(3^2)} &= a^{3 \cdot 3} = a^9 \end{aligned} \quad (2.30)$$

Außerdem lässt sich aus Gleichung (2.28) mit Gleichung (2.30) ersehen, dass

$$\begin{aligned} (a^2)^{\frac{1}{2}} &= a^{\frac{2}{2}} = a^1 = a \\ \Rightarrow a^{\frac{1}{2}} &:= \sqrt{a} \end{aligned} \quad (2.31)$$

gilt, wobei  $\sqrt{a}$  die Wurzel von  $a$  genannt wird. Die Wurzel hat die Potenz  $^2$  auf, wie in Gleichung (2.31) zu sehen ist.

Somit gelten zusammengefasst folgende Regeln für die Potenzrechnung:

$$\begin{aligned} a^n \cdot a^m &= a^{n+m} \\ (a^n)^m &= a^{n \cdot m} \\ a^0 &= 1 \\ a^{-n} &= \frac{1}{a^n} \\ a^{\frac{1}{n}} &= \sqrt[n]{a} \\ (a^n)^m &\neq a^{(n^m)} \end{aligned} \quad (2.32)$$

Abschließend ist noch zu erwähnen, dass bei dem Ausdruck  $a^n$  es sich bei  $a$  um die Basis und bei  $n$  um den Exponenten handelt.

## 2.6.1 Wurzeln

Wurzeln sind die Umkehroperationen zum Potenzieren. Somit steht hinter der sogenannten Quadratwurzel der Zahl  $z$  ( $\sqrt{z}$ ) die Frage: „Welche Zahl ergibt mit sich selbst multipliziert die Zahl  $z$ ?“ Hierzu lohnt es sich einige Zahlen zum Quadrat (zum Beispiel:  $8^2 = 64$ ) zu kennen, um direkt ein Ergebnis einer Wurzel zu erkennen. Da es nicht nur die Quadratwurzel der Zahl  $z$  ( $\sqrt{z} = z^{\frac{1}{2}}$ ) gibt, sondern auch noch höhere Werte des Nenners im Exponenten, lohnt es sich stets die jeweilige Wurzel als Potenz zu schreiben.

$$\begin{aligned}\sqrt{z} &= z^{\frac{1}{2}} = \sqrt[2]{z} \\ \sqrt[4]{z} &= z^{\frac{1}{4}}\end{aligned}\tag{2.33}$$

Es gibt ein schriftliches Verfahren eine Wurzel zu ziehen, allerdings bedarf es einer sehr aufwendigen Erklärung, welche in einer späteren Version dieses Buches folgen könnte, da die Schüler heutzutage oftmals bei der Einführung der Wurzel mit dem Taschenrechner arbeiten wird vorerst das schriftliche Wurzelziehverfahren ausgespart.

## 2.6.2 10er Potenzen

Von allen Potenzen haben 2er Potenzen  $2^n$  in der Informatik und die 10er Potenzen  $10^n$  eine besonders wichtige Funktion inne. Gerade in der Physik werden besonders große Größen mit besonders kleinen verrechnet. Die daraus resultierenden Ergebnisse sollen dann wieder in einer Größe angegeben werden, die dem Menschen zur Vorstellung genügen. Deswegen werden viele Größen mit Hilfe der 10er Potenzen umgerechnet. Für diese gilt:

$$\begin{aligned}10^2 &= 100 \\ 10^{-3} &= \frac{1}{1000} = 0,001\end{aligned}\tag{2.34}$$

Jede Einheit ist meistens mit einer sprachlichen Abkürzung verbunden, so steht bei 1cm das „centi“ für  $\frac{1}{100} = 10^{-2}$ . Eine Tabelle mit der Auflistung vieler dieser Abkürzungen und ihre Bedeutung als 10er Potenz befinden sich im Anhang (14.2).

Während für alle Einheiten  $k$  für Kilo also Tausend steht, steht dies sprachlich bei der Einheit Byte  $B$  auch für Tausend. Allerdings versteckt sich hier durch den Fakt, dass Computer nur die 0 (Nein) und die 1 (Ja) kennen, eine andere Zahl:

$$\begin{aligned}10^3m &= 1km \\ 10^6m &= 1Mm \\ 2^{10}B &= 1kB = 1024B \\ 2^{20}B &= 1MB = 1048576B\end{aligned}\tag{2.35}$$

Bei der Einheitenumrechnung ist das Verständnis von 10er Potenz von elementarer Bedeutung, da

$$\begin{aligned}1dm &= 10cm = 10^1cm \\ 1dm^2 &= 1dm \cdot 1dm = 10cm \cdot 10cm = 100cm^2 = 10^2cm^2 \\ 1dm^3 &= 1dm \cdot 1dm \cdot 1dm = 10cm \cdot 10cm \cdot 10cm = 1000cm^3 = 10^3cm^3 := 1l\end{aligned}\tag{2.36}$$

gilt. Dahinter verstecken sich sprachliche Abkürzungen, die mit potenziert werden  $100cm^2 = 100(cm)^2 = 100c^2m^2 = 10^2 \frac{1}{10^2} m^2 = 1m^2$ . Die Schreibweise für  $1cm^2$  ist wieder nichts weiter



als eine Konvention zur Abkürzung für  $1(cm)^2$ . Wie Gleichung (2.36) gibt der Exponent der Einheit an, mit welcher Zahl die Anzahl der Null der Standardumrechnung multipliziert wird:

$$\begin{aligned} 1km &= 1000m = 10^3m \\ 1km^2 &= (10^3m)^2 = (10^3)^2 m^2 = 10^{3 \cdot 2} m^2 = 1000000m^2 = 10^6m^2 \\ 1km^3 &= (10^3m)^3 = (10^3)^3 m^3 = 10^{3 \cdot 6} m^3 = 1000000000m^3 = 10^9m^3 \end{aligned} \quad (2.37)$$

### 2.6.3 Binomische Formeln

Mit Hilfe der Potenzen können auch die Summen potenziert werden:

$$\begin{aligned} (x+d) \cdot (x+d) &= (x+d)^2 = x^2 + x \cdot d + d \cdot x + d^2 = x^2 + 2 \cdot d \cdot x + d^2 \\ (x+d) \cdot (x-d) &= (x+d)^2 = x^2 + x \cdot d - d \cdot x + d^2 = x^2 - d^2 \end{aligned} \quad (2.38)$$

Die beiden Gleichungen aus Gleichung (2.38) werden Binomische Gleichungen genannt und werden in der Beschreibung der Natur immer wieder vorgefunden und nicht zu Letzt deswegen im Mathematik und naturwissenschaftlichen Unterricht in Klausur- und Übungsaufgaben verwendet.

Generell kann man diese Binomischen Formel noch für jede Potenz verallgemeinern, dazu dient das sogenannte Pascal'sche Dreieck, welches die Vorfaktoren wiedergibt.

$(x+d)^0$	1
$(x+d)^1$	$x+d$
$(x+d)^2$	$x^2 + 2 \cdot d \cdot x + d^2$
$(x+d)^3$	$x^3 + 3 \cdot d \cdot x^2 + 3 \cdot d^2 \cdot x + d^3$
$(x+d)^4$	$x^4 + 4 \cdot d \cdot x^3 + 6 \cdot d^2 \cdot x^2 + 4 \cdot d^3 \cdot x + d^4$
$(x+d)^5$	$x^5 + 5 \cdot d \cdot x^4 + 10 \cdot d^2 \cdot x^3 + 10 \cdot d^3 \cdot x^2 + 5 \cdot d^4 \cdot x + d^5$

Dabei pflanzen sich die Vorfaktoren (sogenannte Koeffizienten) so weiter fort in dem die benachbarten aufaddiert werden. Die Potenzen des ersten Parameters oder Variable startet stets mit der höchsten Zahl und nimmt bei jedem weiteren Summanden ab, während die Potenz des zweiten Parameters zunimmt. Die Vorfaktoren, welche sich im Pascal'schen Dreieck befinden, werden im Kapitel „Wahrscheinlichkeitsrechnung“ durch die sogenannten Binomialkoeffizienten erneut auftauchen und nochmals erläutert. Weitere Koeffizienten aus dem Pascal'schen Dreieck können im Anhang (14.1) gefunden werden.

## Übungsaufgaben zu Potenzen

**Aufgabe 1:** Berechne das Ergebnis.

a)  $2^3 =$

b)  $3^4 =$

c)  $2^6 =$

d)  $2^{-1} =$

e)  $10^3 =$

f)  $8^3 =$

g)  $4^{-3} =$

h)  $10^{-6} =$

i)  $\left(\frac{1}{6}\right)^2 =$

j)  $(5^3)^2 =$

k)  $4^{(3^2)} =$

l)  $2^6 \cdot 2^2 =$

m)  $(2^3 + 2^3)^3 =$

n)  $(10^2)^{-1} =$

o)  $\left((2^6)^{-1}\right)^{-1} =$

p)  $\left(100^{\frac{1}{2}}\right)^2 =$

q)  $\left(3,141^{\frac{1}{2,718}}\right)^{2,718} =$

r)  $\left(\frac{1}{5^{-1}}\right)^3 =$

**Aufgabe 2:** Berechne das Ergebnis.

a)  $\sqrt{16} =$

b)  $\sqrt{81} =$

c)  $\sqrt[3]{8} =$

d)  $\sqrt[3]{27} =$

e)  $\sqrt{144} =$

f)  $\sqrt[5]{100000} =$

g)  $\sqrt{289} =$

h)  $\sqrt[4]{81} =$

i)  $\sqrt{\sqrt{\sqrt{\sqrt{2^{16}}}}} =$

**Aufgabe 3:** Rechne in die angegebene Einheit um.

a)  $1m^2 = \quad cm^2$

b)  $2,718km = \quad mm$

c)  $1mm^3 = \quad dm^3$

d)  $3m^3 = \quad dm^3$

e)  $0,5cm^2 = \quad m^2$

f)  $13,3cm^3 = \quad m^3$

g)  $10^3km^2 = \quad dm^2$

h)  $1,234dm = \quad mm$

i)  $\frac{15}{4}\mu m^2 = \quad mm^2$

j)  $\frac{1}{3}Mm^3 = \quad km^3$

k)  $0,01km^2 = \quad cm^2$

l)  $125mm^5 = \quad cm^5$

m)  $6,\bar{6}m^4 = \quad cm^4$

n)  $0,025km^7 = \quad mm^7$

o)  $3,141Tm^2 = \quad nm^2$

**Aufgabe 4:** *Rechne in die Klammer aus.*

$$a) (a + 4)^2 =$$

$$b) (a - \sqrt{2})^2 =$$

$$c) (\sqrt{2}a + 2)^4 =$$

$$d) \left(3a + \frac{2}{3}\right)^3 =$$

$$e) (a - b)^4 =$$

$$f) (a + b + c)^2 =$$

Die Lösungen zu diesem Abschnitt finden sich im Anhang im Abschnitt (14.3.7) Lösungen zu Potenzen.

## 2.7 Logarithmen

Da die Potenzen eingeführt wurden, sollte auch eine Rechenvorschrift eingeführt werden um den Exponenten zu bestimmen. Diese wird Logarithmus genannt, welche folgende Frage in mathematischer Art und Weise stellt: „Die Basis und das Ergebnis seien bekannt, welche Größe muss der Exponent haben?“

$$a^c = b \Leftrightarrow c = \log_a b \quad (2.39)$$

Gelesen wird  $\log_a c$  als „der Logarithmus von  $b$  zur Basis  $a$ “. Wie für die Potenzen gelten auch für die Logarithmen Regeln, welche sich aus den Potenzgesetzen ableiten lassen.

$$\begin{aligned} a^{n \cdot m} = a^n \cdot a^m &\Leftrightarrow \log_a(n \cdot m) = \log_a n + \log_a m \\ \Rightarrow \log_a \frac{n}{m} &= \log_a n - \log_a m \\ \log_a n^m &= m \cdot \log_a n \\ a^{\log_a n} &= n \\ \log_a n &= \frac{\log_b a}{\log_b n} \\ \log_a a &= 1 \\ \log_a 1 &= 0 \end{aligned} \quad (2.40)$$

Dabei werden folgende Abkürzungen für bestimmte Werte der Basis verwendet:

$$\begin{aligned} \log_{10} n &= \lg n \\ \log_2 n &= \text{lb } n \\ \log_e n &= \ln n \end{aligned} \quad (2.41)$$

wobei  $e = 2,718281\dots$  die Euler'sche Zahl ist, deren Bedeutung im Kapitel der Funktionen im Abschnitt der Exponentialfunktionen und bei der Differentiation noch gerecht wird.

## Übungsaufgaben zu Logarithmen

**Aufgabe 1:** *Berechne das Ergebnis.*

$$a) \log_2 16 =$$

$$b) \lg 1000 =$$

$$c) \log_8 64 =$$

$$d) \text{lb } 512 =$$

$$e) \ln e^9 =$$

$$f) \log_5 125 =$$

$$g) \log_{25} 125 =$$

$$h) \lg 11 \cdot 10^6 =$$

$$i) \log_{17} 1 =$$

$$j) \log_3 81 =$$

$$k) \log_4 64 =$$

$$l) \log_{15} 225 =$$

Die Lösungen zu diesem Abschnitt finden sich im Anhang im Abschnitt (14.3.8) Lösungen zu Potenzen.

## 2.8 Äquivalenzumformung

Die Äquivalenzumformung stellt die Basis für den Erkenntniserwerb und steht als selbstverständliches Vorwissen aller Schüler im Zentrum des naturwissenschaftlichen Unterrichts. Letztendlich versteckt sich hinter diesem Wort nur die Bedingung, dass auf beiden Seiten des Äquivalenzzeichens „=“ immer die gleichen Operationen durchgeführt werden müssen. Dabei wird hinter dem Kommandostrich „|“ hinter der umzuformenden Gleichung die nachfolgende Operation angegeben.

$$\begin{aligned} 0 &= 0 && | +2 \\ \Rightarrow 2 &= 2 \end{aligned} \quad (2.42)$$

Die Gleichung (2.42) zeigt, wie auf beiden Seiten des Äquivalenzzeichens die Zwei addiert wurde. Dabei steht der Pfeil  $\Rightarrow$  für „daraus folgt“, und ist nicht zwingend erforderlich bei einer Äquivalenzumformung.

$$\begin{aligned} 8 &= 8 && | -2 \\ 6 &= 6 && | \cdot 3 \\ 18 &= 18 && | : 2 \\ 9 &= 9 \end{aligned} \quad (2.43)$$

Die Gleichung (2.43) zeigt, wie im ersten Schritt auf beiden Seiten des Äquivalenzzeichens die Zwei subtrahiert wurde. Im zweiten Schritt werden beide Seiten mit drei multipliziert und im dritten Schritt durch zwei dividiert. In diesen beiden Beispielen sind die vier Grundrechenarten gezeigt, was nicht bedeutet, dass andere Rechenoperationen ausgeschlossen sind.

Äquivalenzumformungen dienen dazu um Gleichung umzustellen und so unbekannte Parameter zu bestimmen. Parameter sind Platzhalter für Zahlen und werden in der Regel mit Buchstaben am Anfang des Alphabets beschrieben. Wenn keine genaue Beschreibung für die Parameter angegeben sind, gilt  $a, b, \dots \in \mathbb{R}$ . Im folgenden Beispiel soll nach  $x$  aufgelöst werden.

$$\begin{aligned} 0 &= \frac{a}{d} \cdot x + b - c && | +c \\ c &= \frac{a}{d} \cdot x && | -b \\ c - b &= \frac{a}{d} \cdot x && | \cdot d \\ d \cdot (c - b) &= a \cdot x && | : a \\ \frac{d \cdot (c - b)}{a} &= x \end{aligned} \quad (2.44)$$

Jede Rechenoperation, die den Wert nicht verändert ist zulässig! Die Addition der 0 und die Multiplikation der 1 sind solche Operationen. Dabei ist 0 das so genannte neutrale Element der Addition und 1 das neutrale Element der Multiplikation.

$$\begin{aligned} \frac{1}{2} &= \frac{1}{2} \cdot 1 = \frac{1}{2} \cdot \frac{4}{4} = \frac{4}{8} && \text{Multiplikation der 1} \\ 4 &= 4 + 0 = 4 + 6 - 6 = 10 - 6 && \text{Addition der 0} \end{aligned} \quad (2.45)$$

Die Beispiele aus Gleichung (2.45) zeigen, dass die Multiplikation des neutralen Elements mit dem Erweitern von Brüchen unmittelbar in Verbindung steht.

### 2.8.1 Quadratische Ergänzung

Das Ziel bei einer quadratischen Ergänzung ist es, eine Gleichung so umzuformen, dass man die binomischen Formeln ausnutzen kann um die Potenz der Unbekannten zu reduzieren. Als erklärendes Beispiel soll diese allgemeine Gleichung, welche auch allgemeines Polynom zweiter Ordnung oder quadratische Gleichung genannt wird, dienen (Auf die Eigenschaften von Polynome und explizit quadratische Termen wird im Kapitel „Funktionen“ genauer eingegangen.):

$$ax^2 + bx + c = 0 \quad (2.46)$$

Diese Form erinnert an die so genannte erste binomische Formel  $(x + d)^2 = x^2 + 2dx + d^2$ . Aus diesem Grund wird der Vorfaktor (Koeffizient)  $a$  des quadratischen Terms  $ax^2$  über Äquivalenzumformung entfernt.

$$\begin{aligned} ax^2 + bx + c = 0 & \quad | : a \\ x^2 + \frac{a}{b}x + \frac{a}{c} = 0 & \end{aligned} \quad (2.47)$$

Durch direktes gegenüberstellen der Terme können bestimmte Bedingungen an die Vorfaktoren geknüpft werden, sodass die künstliche Generierung einer Binomischen Formel möglich wird, dies wird Koeffizientenvergleich genannt. Generell wird der Koeffizientenvergleich immer angewendet, wenn eine Gleichheit von Vorfaktoren zu einer erheblichen Vereinfachung eines Problems dienen könnte.

$$\begin{aligned} x^2 + \frac{a}{b}x + \frac{a}{c} = 0 \\ x^2 + 2dx + d^2 = 0 \end{aligned} \quad (2.48)$$

Durch den Koeffizientenvergleich der rot markierten Vorfaktoren, kann folgende Bedingung aufgestellt werden:  $\frac{a}{b} = 2d$ ) und so der Parameter  $d$  als  $\frac{a}{2b}$  bestimmt werden. Da die zu lösende Gleichung noch kein  $d^2$  beherbergt, muss dieses durch eine Addition hinzugefügt werden. Anschließend werden alle Terme die nicht zu einer Binomischen Formel gehören auf die andere Seite des Gleichheitszeichens gebracht:

$$\begin{aligned}
x^2 + \frac{a}{b}x + \frac{a}{c} = 0 & \quad \left| + \left(\frac{a}{2b}\right)^2 \right. \\
x^2 + \frac{a}{b}x + \left(\frac{a}{2b}\right)^2 + \frac{a}{c} = \left(\frac{a}{2b}\right)^2 & \quad \left| - \frac{a}{c} \right. \\
x^2 + \frac{a}{b}x + \left(\frac{a}{2b}\right)^2 = \left(\frac{a}{2b}\right)^2 - \frac{a}{c} &
\end{aligned} \tag{2.49}$$

Nach genauerer Betrachtung ist festzustellen, dass auf der linken Seite des Gleichheitszeichen die erste binomische Formel vorzufinden ist. Nach der Ersetzung fällt auf, dass die quadratische Potenz und die lineare Potenz in der Variablen  $x$  verschmolzen sind. Um nun nach der Variable restlos aufzulösen, muss auf beiden Seiten des Gleichheitszeichens die Wurzel gezogen werden, da dies die Umkehrfunktion zum Quadrieren ist. Dabei ist zu beachten, dass es eine negative und eine positive Lösung gibt, da zum Beispiel  $2^2 = (-2)^2$  ist.

$$\begin{aligned}
\underbrace{x^2 + \frac{a}{b}x + \left(\frac{a}{2b}\right)^2}_{=\left(x + \frac{a}{2b}\right)^2} &= \left(\frac{a}{2b}\right)^2 - \frac{a}{c} \\
\left(x + \frac{a}{2b}\right)^2 &= \left(\frac{a}{2b}\right)^2 - \frac{a}{c} \quad \left| \sqrt{\phantom{x}} \right. \\
x_{1,2} + \frac{a}{2b} &= \pm \sqrt{\left(\frac{a}{2b}\right)^2 - \frac{a}{c}} \quad \left| - \frac{a}{2b} \right. \\
x_{1,2} &= -\frac{a}{2b} \pm \sqrt{\left(\frac{a}{2b}\right)^2 - \frac{a}{c}}
\end{aligned} \tag{2.50}$$

Nach einer Umbenennung der Parameter  $p = \frac{a}{b}$  und  $q = \frac{c}{a}$  erkennt man, dass die so genannte p-q-Formel hergeleitet wurde:

$$\begin{aligned}
x^2 + px + q &= 0 \\
\Rightarrow x_{1,2} &= -\frac{p}{2} \pm \sqrt{\left(\frac{p}{2}\right)^2 - q}
\end{aligned} \tag{2.51}$$

Um Zeit in bestimmten Klausur- oder Unterrichtssituationen zu sparen empfiehlt es sich die p-q-Formel aus Gleichung (2.51) zu verwenden, dennoch sollte von ihrer Benutzung abgeraten werden, denn in der höheren Mathematik (siehe Kapitel „Differentiation und Integration“) sind viele Aufgaben nur noch mittels der quadratischen Ergänzung effektiv zu lösen.

Wenn bei einer Gleichung in offensichtliches Produkt mit einer quadratischen Gleichung vorliegt, lohnt es sich diese auszuklammern



$$\begin{aligned}
 ax^3 + bx^2 + cx &= 0 \\
 \Rightarrow x \cdot (ax^2 + bx + c) &= 0 \quad ,
 \end{aligned}
 \tag{2.52}$$

sodass das die Faktoren des Produkts separiert betrachtet werden können, denn es gilt nach wie vor: Wenn einer der Faktoren gleich Null ist, dann ist das gesamte Produkt gleich Null.

$$\begin{aligned}
 \underbrace{x}_{\neq 0} \cdot \underbrace{(ax^2 + bx + c)}_{\neq 0} &= 0 \Rightarrow x_1 = 0 \\
 \Rightarrow ax^2 + bx + c &= 0
 \end{aligned}
 \tag{2.53}$$

Ab diesem Zeitpunkt kann die restliche Gleichung mit der quadratischen Ergänzung gelöst werden. Das Ausklammerungsverfahren funktioniert nicht nur bei höheren Polynomen, sondern immer, wenn aus allen Bestandteilen der Gleichung ausgeklammert werden kann. So ist es möglich bei einigen Gleichungen die Lösungen direkt abzulesen.

$$x^2 - 6x = x(x - 6) \Rightarrow x_1 = 0 \wedge x_2 = 6 \tag{2.54}$$

Aus diesem Grund lohnt es sich nicht immer Klammern aus zu multiplizieren.

## Übungsaufgaben zur Äquivalenzumformung

**Aufgabe 1:** Löse folgende Gleichungen nach  $x$  auf.

a)  $3 \cdot x + 4 = 0$

b)  $2 \cdot x - 9 = 0$

c)  $9 \cdot x + 55 = 0$

d)  $5 \cdot x - 25 = 0$

e)  $3 \cdot x + 9 = 6$

f)  $x - 66 = 9$

g)  $4 \cdot x + 4 = 11$

h)  $9 \cdot x - 5 = 4$

i)  $32 \cdot x + 3 = 5$

j)  $1 \cdot x + 91 = 44 + x \cdot 23$

k)  $7 \cdot x + 14 = -3 \cdot x$

l)  $98 \cdot x + 15 = 8 \cdot x + 10$

**Aufgabe 2:** Löse folgende Gleichungen nach  $x$  auf.

a)  $-16x^2 + 64 = 0$

b)  $\sqrt{2x - 6} - 144 = 0$

c)  $\frac{1}{\sqrt{x}} - 17 = 0$

d)  $\ln 5x = 2$

e)  $\ln \frac{13}{x} = \sqrt{2}$

f)  $\frac{16}{81}x^4 - \sqrt{25} = \log_9 1$

g)  $\left(x^4 x^5 x^{\frac{1}{5}}\right)^2 = 49$

h)  $e^{2x-6} = 2$

**Aufgabe 3:** Löse folgende Gleichungen nach  $x$  mit Hilfe der quadratischen Ergänzung auf.

a)  $x^2 + 2x + 1 = 0$

b)  $4x^2 - 16x + 16 = 0$

c)  $3x^2 + 24x - 3 = 0$

d)  $5x^2 - 20x = 50$

e)  $2x^2 - 20x = 6 - 10x$

f)  $7x = 8 - 3x^2$

g)  $3x^2 - 6x = 0$

h)  $x^2 - \frac{1}{2}x - \frac{1}{8} = 0$

Die Lösungen zu diesem Abschnitt finden sich im Anhang im Abschnitt (14.3.9) Lösungen zu Potenzen.

## 2.9 Substitution

Bei jeder Rechnung ist es dem Rechnenden freigestellt Abkürzungen einzuführen. Dieser Prozess wird Substitution genannt. Im folgenden Beispiel wird die Summe innerhalb der Klammer substituiert:

$$\begin{aligned}(x + a)^2 & \quad \text{mit: } y := x + a \\ & = y^2\end{aligned}\tag{2.55}$$

Dabei ist es wichtig zu beachten, dass bei der Substitution ersetzten Variablen vollständig eliminiert werden.

$$\begin{aligned}(x + a)^2 \cdot x & \quad \text{mit: } y := x + a \Rightarrow x = y - a \\ & = y^2 \cdot (y - a) = y^3 - a \cdot y^2\end{aligned}\tag{2.56}$$

Jede Substitution ist zulässig. Wichtig wird dieser Prozess besonders wenn komplexere Aufgaben dadurch wesentlich vereinfacht werden können. Aus diesem Grund wird im Kapitel „Differentiation und Integration“ nochmal besonders auf die Substitution eingegangen.

## Übungsaufgaben zur Substitution

**Aufgabe 1:** *Schreibe die Gleichung mit der angegebenen Substitution auf.*

- a)  $(x^2 + x + 1)^3 = 8$  mit:  $y = x^2 + x + 1$
- b)  $(a + 4x)^{\frac{1}{2}} = 6b - c$  mit:  $y^2 = 4x + a$
- c)  $(18x - 4ab)^2 = c$  mit:  $\sqrt{y} = 18x - 4ab$
- d)  $2^{2a-c} = 32$  mit:  $b = 2a - c$
- e)  $x = 4a$  mit:  $y = x + 4a$
- f)  $x^2 + 8x + 16 = 0$  mit:  $(y + 4)^2 = x^2 + 8x + 16$
- g)  $(3a + 2x)(2x - 3a) = 0$  mit:  $y = 2x + 3a$
- h)  $\ln(x^2 + 4x) = 2$  mit:  $y = x^2 + 4x$

**Aufgabe 2:** *Finde die Substitution heraus und schreibe sie auf.*

- a)  $x^3 + 4x^2 - x - 8 = 0 \Rightarrow y - 8 = 0$
- b)  $\frac{x}{2} - \frac{2}{x} = 0 \Rightarrow y - \frac{1}{y} = 0$
- c)  $\frac{x^2}{ab} + \frac{5}{ab} - 3 = 0 \Rightarrow dx^2 + 5d - 3 = 0$
- d)  $\frac{ax^2 + bx - c}{5} = 0 \Rightarrow \frac{y}{5a} = 0$
- e)  $ax + bx + cx + xd + xe - f = 0 \Rightarrow gx - f = 0$
- f)  $x^2 + 4x - 8 = 0 \Rightarrow \left(\frac{y}{4} + 2\right)^2 = 0$

Die Lösungen zu diesem Abschnitt finden sich im Anhang im Abschnitt (14.3.10) Lösungen zu Potenzen.

## 2.10 Fakultäten und Binominal Koeffizienten

Einige Abkürzungen werden oft bei der Wahrscheinlichkeitsrechnung sowie bei Reihendarstellungen verwendet. Zu diesen zählen Fakultäten und Binominal Koeffizienten. So kann zum Beispiel die Rechnung

$$6 \cdot 5 \cdot 4 \cdot 3 \cdot 2 \cdot 1 = 720 \quad (2.57)$$

abgekürzt werden, durch den sogenannten Fakultätsoperator !:

$$\begin{aligned} 6! &= 6 \cdot 5 \cdot 4 \cdot 3 \cdot 2 \cdot 1 = 720 \\ \Rightarrow n! &= n \cdot (n - 1) \cdot \dots \cdot 2 \cdot 1 \end{aligned} \quad (2.58)$$

Dabei ist die Fakultät so definiert, dass  $0! := 1$  gilt. Einige Konstellationen mit der Fakultät kommen besonders häufig vor. Die am häufigsten vorkommende Anordnung von Fakultäten wird Binomialkoeffizient genannt und ist definiert durch:

$$\binom{n}{k} = \frac{n!}{k!(n-k)!} \quad (2.59)$$

Generell sollte der Umgang mit neuen Abkürzungen, die neu eingeführt wurden, geübt werden, da in der Mathematik noch viele weitere Abkürzungen warten. So werden zum Beispiel im Kapitel „Reihen“ weitere oft vorkommende Abkürzungen eingeführt.

## Übungsaufgaben zu Fakultäten

**Aufgabe 1:** *Berechne das Ergebnis.*

a)  $5!$

b)  $3!$

c)  $\frac{7!}{5!}$

d)  $\frac{3!}{4!} \cdot 0!$

e)  $\frac{(4b)!}{b!}$

f)  $4! \cdot 3! \cdot 2!$

**Aufgabe 2:** *Berechne das Ergebnis und vergleiche die ausgerechneten Binomialkoeffizienten mit dem Pascal'schen Dreieck.*

a)  $\binom{2}{1}$

b)  $\binom{8}{4}$

c)  $\binom{5}{3} \cdot \binom{289}{0}$

d)  $\binom{7}{2}$

e)  $\binom{3}{1}$

f)  $\binom{4}{2} \cdot \binom{3}{2}$

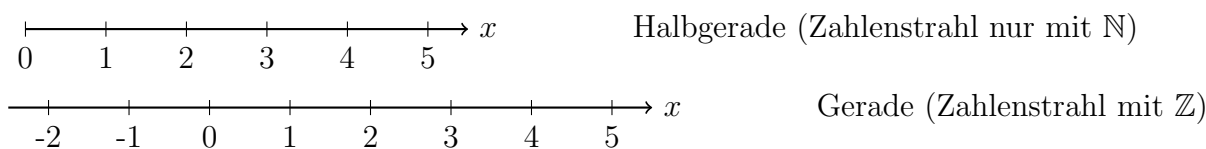
Die Lösungen zu diesem Abschnitt finden sich im Anhang im Abschnitt (14.3.11) Lösungen zu Potenzen.

## 3 Geometrie

Eines der zentralen Themen der Mathematik in der Schule ist die Geometrie. Dies ist dem Fakt geschuldet, dass geometrischen Formen im menschlichen Alltag überall vorzufinden sind und viele Vorgänge durch sie beeinflusst werden.

### 3.1 Zahlenstrahl

Der Zahlenstrahl ist eine Linie, an der es möglich ist Zahlen in regelmäßigen Abständen vorzufinden. Diese Linie ist eine Halbgerade, also eine gerade Linie mit einem Anfangspunkt (beim Zahlenstrahl wäre dies die 0) aber keinen Endpunkt. Durch die Einführung ganzer Zahlen  $\mathbb{Z}$ <sup>1</sup> wird aus dieser Halbgeraden eine Gerade, welche weder Anfangs- noch Endpunkt besitzt.



Eine wichtige Eigenschaft des Zahlenstrahls ist, dass ein Einheitenschritt (also der Abstand von 1 bis nach 2) beliebig groß sein kann. Allerdings müssen alle Einheitenschritte die gleichen Abstände haben - es wird von äquidistanten Abständen gesprochen. Der Zahlenstrahl ist ein eindimensionales Objekt, da es nur möglich ist sich nach Vorne oder Hinten auf dem Zahlenstrahl zu bewegen. Andere Objekte dieser Art sind Geraden und Halbgeraden im Allgemeinen. Außerdem existieren noch Strecken, welche im nachfolgenden Abschnitt erläutert werden.

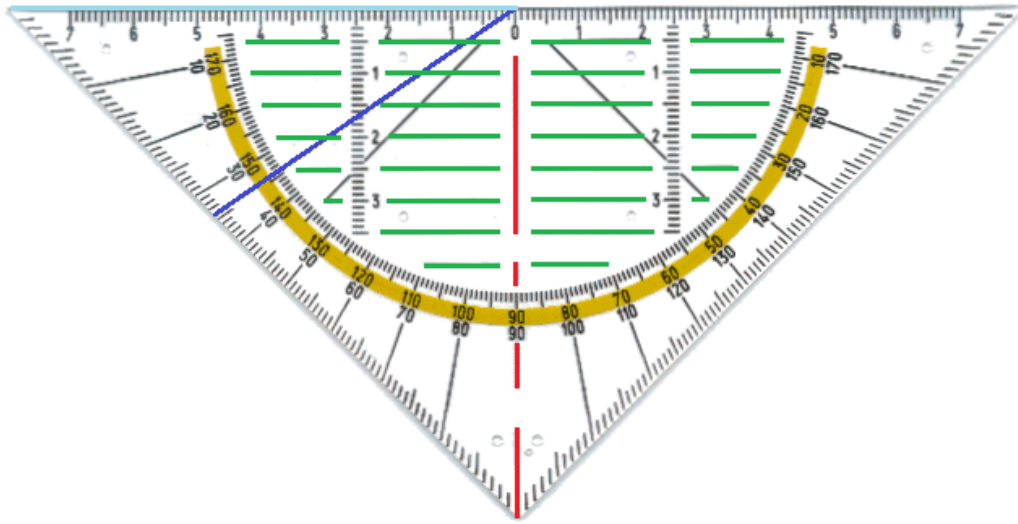
### 3.2 Winkel

Als wichtigster Bestandteil der Geometrie in der Schule kann das Geodreieck angesehen werden und sollte in keinem naturwissenschaftlichen und mathematischen Unterricht fehlen.

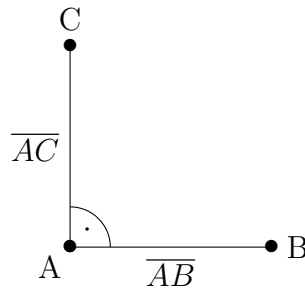
In der Abbildung mit dem Geodreieck wurden zusätzliche farbige Strecken eingefügt, an denen die Funktionsweise des Geodreiecks erklärt werden kann. Strecken sind im Allgemeinen gerade Linien mit einem Anfangs- und einem Endpunkt. Eine Strecke zwischen den Punkten  $A$  und  $B$  wird durch  $\overline{AB}$  verschriftlicht. Die wohl bedeutendste Strecke auf dem Geodreieck ist die Nulllinie, welche auch Mittellinie oder Orthogonalitätslinie genannt wird. Diese Strecke ist rot markiert. Wenn das Geodreieck so auf eine gezeichnete Linie gelegt wird, dass die Linie von der Nulllinie verdeckt wird, dann kann ein sogenannter rechter Winkel zu dieser Linie eingezeichnet

---

<sup>1</sup> $\mathbb{Z} = \{\dots, -2, -1, 0, 1, 2, \dots\}$



werden. Ein solcher rechter Winkel zwischen den zwei Strecken  $\overline{AB}$  und  $\overline{AC}$  würde wie folgt aussehen:

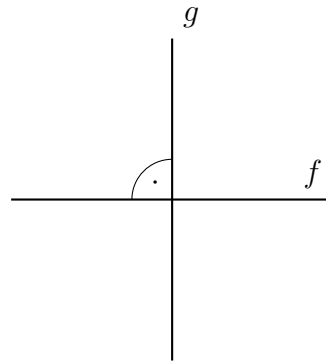


Ein Winkel zwischen zwei Strecken wird durch einen Bogen beschrieben und der Wert in ihm eingetragen. Dabei stellt der rechte Winkel aufgrund seiner Relevanz für die Mathematik und Naturwissenschaften eine Besonderheit da, denn statt den Wert  $90^\circ$ , wie auf dem Geodreieck abzulesen ist, einzutragen, wird stattdessen als abkürzende Schreibweise ein Punkt in den Kreisbogen gesetzt. Winkel werden in der Geometrie nahezu immer in der Einheit Grad  $^\circ$  gemessen, wobei die Zahl für einen rechten Winkel in der Geschichte irgendwann willkürlich festgelegt wurde. Es gibt noch andere Einheiten für die Winkelmessung, die sich bis heute nicht in der Geometrie durchgesetzt haben. Im Kapitel „Funktionen“ wird noch eine Umrechnung zu einer anderen Einheit vorgenommen, da es sich im dortigen Zusammenhang lohnt eine neue Einheit für die Winkel einzuführen. Die mathematische Schreibweise eines Winkels am oben gezeigten Beispiels ist wie folgt definiert:

$$\sphericalangle (\overline{AB}, \overline{AC}) = 90^\circ \quad (3.1)$$

und wird gelesen als „Der Winkel zwischen der Strecke  $\overline{AB}$  und  $\overline{AC}$  ist gleich  $90^\circ$ .“ Winkel können nicht nur zwischen Strecken zu finden sein sondern auch zwischen Geraden. Geraden sind Linien ohne Anfangs- und Endpunkt.



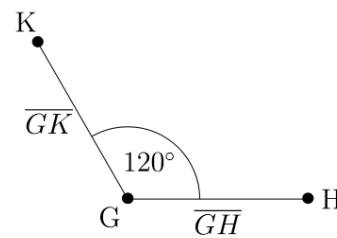
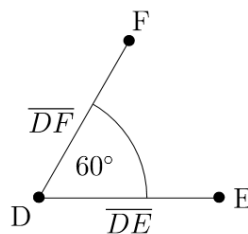
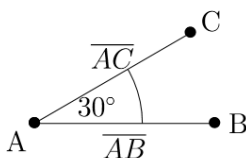


Die Abbildung zeigt einen rechten Winkel zwischen der Gerade  $f$  und  $g$ :  $\angle(f, g) = 90^\circ$ . Die Eigenschaft, dass Strecken und/oder Geraden einen rechten Winkel zu einander haben, wird Orthogonalität genannt. Es wird davon gesprochen, dass zum Beispiel zwei Geraden orthogonal zu einander sind (oft wird auch der Begriff „senkrecht“ verwendet). Abkürzend wird die Orthogonalität der Strecken und Geraden in den Beispielen so ausgedrückt:

$$\begin{aligned} \overline{AB} \perp \overline{AC} \\ f \perp g \end{aligned} \quad (3.2)$$

Wie das Geodreieck schon vermuten lässt, gibt es nicht nur rechte Winkel sondern sechs andere Einordnungen in Gruppen von Winkeln. Dazu ist es unerlässlich Winkel messen zu können. Hierfür wird das Geodreieck so positioniert, dass sich der Schnittpunkt der Linien direkt auf der Null befindet. Dann muss die erste Linie so ausgerichtet werden, dass sie genau auf der hellblauen Linie liegen würde und die zweite Linie sich unter dem Geodreieck befindet. Diese zweite Linie trifft dann auf eine Gradzahlmarkierung, welche dann den Wert der Winkelgröße angibt. In der Abbildung mit dem Geodreieck sei die dunkelblaue Linie die zweite Linie. Sie trifft die Winkelmarkung (beim gelben Bogen) bei  $34^\circ$  und somit hat der Winkel zwischen den blauen Linien auch genau diese Größe. Wenn der Winkel allerdings größer als  $90^\circ$  ist, dann müssen die anderen Zahlen (in diesem Fall die gelb unterlegten) verwendet werden.

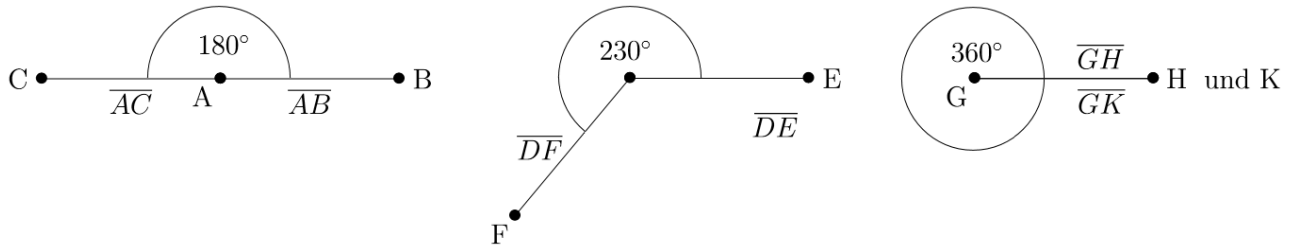
Winkel werden in verschiedene Gruppen eingeordnet. Die ersten drei Arten von Winkel können anhand der folgenden drei Beispiele dargestellt werden:



Dabei wird bei einem Winkel zwischen  $0^\circ$  und  $45^\circ$  von einem überspitzen Winkel gesprochen ( $0^\circ < \angle((\overline{AB}, \overline{AC})) < 45^\circ$ ). Bei Winkeln ab  $45^\circ$  bis  $90^\circ$  ist die Rede von einem spitzen Winkel ( $45^\circ \leq \angle((\overline{DE}, \overline{DF})) < 90^\circ$ ). Während ein Winkel zwischen  $90^\circ$  und  $180^\circ$  stumpfer Winkel

genannt wird ( $90^\circ < \angle((\overline{GH}, \overline{GK})) < 180^\circ$ ).


Auch die Winkel ab  $180^\circ$  können in drei Gruppen einsortiert werden.



Wobei ein Winkel von  $180^\circ$  gestreckter Winkel genannt wird ( $\angle((\overline{AB}, \overline{AC})) = 180^\circ$ ). Bei Winkeln zwischen  $180^\circ$  und  $360^\circ$  ist die Rede von einem überstumpfen Winkel ( $180^\circ < \angle((\overline{DE}, \overline{DF})) < 360^\circ$ ). Abschließend existiert noch ein Winkel von  $360^\circ$ , welcher als voller Winkel bezeichnet wird ( $\angle((\overline{GH}, \overline{GK})) = 360^\circ$ ).

Überstumpfe Winkel können mit einem Geodreieck nicht direkt gemessen werden, allerdings kann der andere nicht gesuchte Winkel abgelesen werden. Danach bedarf es nur einer kleinen Rechnung, um den Wert für den überstumpfen Winkel zu erhalten. Dabei wird der abgelesene Wert des nicht gesuchten Winkels von einem vollen Winkel  $360^\circ$  subtrahiert.

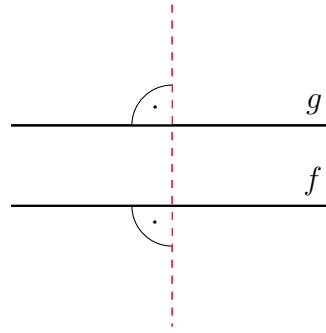
Allerdings gibt es auch Strecken und Geraden, welche sich nicht schneiden, sodass eine Winkelbestimmung entweder schwer oder gar unmöglich wird. Wenn zwei Linien immer den gleichen Abstand zu einander haben, dann wird dies Parallelität der Linien genannt. Mit den grünen Linien des Geodreiecks kann dies getestet werden.



Die beiden Geraden  $f$  und  $g$  sind parallel zu einander, da sie immer den gleichen Abstand zu einander haben. Mathematisch wird dies ausgedrückt durch:

$$f \parallel g \quad (3.3)$$

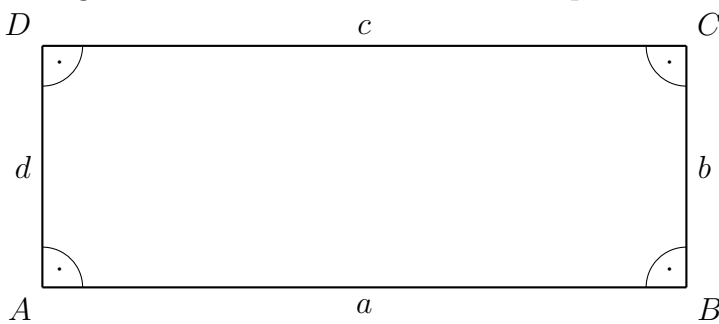
Die Parallelität zwischen zwei Linien kann auch überprüft werden, indem eine orthogonale Linie zur ersten Linie gezogen wird. Wenn diese auch wieder orthogonal zur zweiten Linie ist, ist dies ebenso ein Anzeichen für die Parallelität.



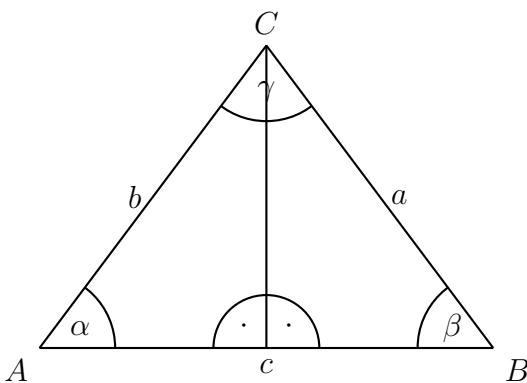
Im Großen und Ganzen können viele wichtige Eigenschaften der geometrischen Körper durch Winkel und durch Parallelität sowie Orthogonalität beschrieben werden, sodass diese Begriffe von jedem Schüler verinnerlicht sein sollten.

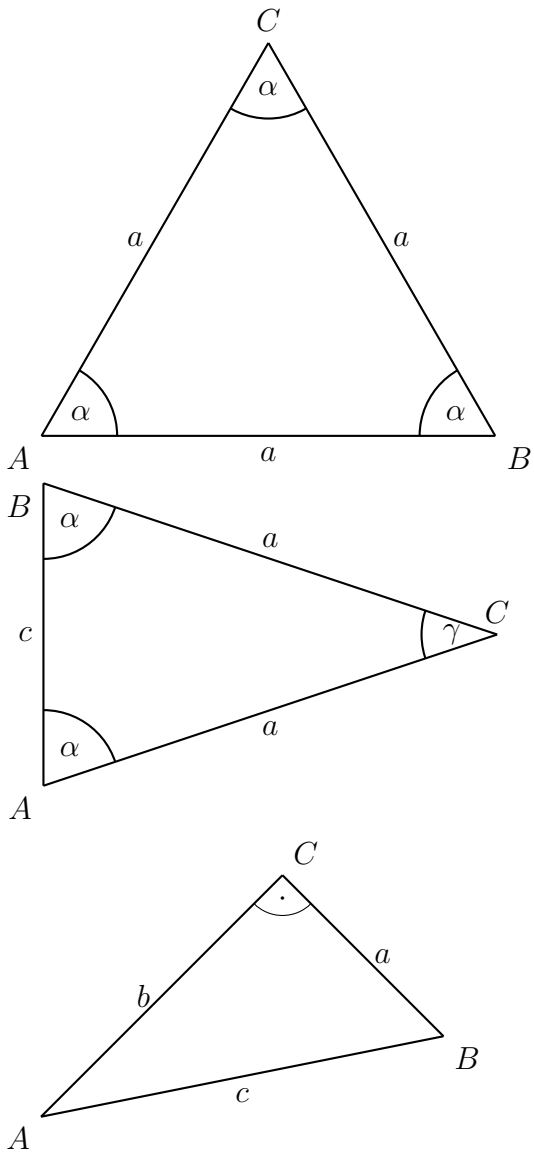
### 3.3 Rechteck

Nachdem Winkel anhand von Strecken und Geraden eingeführt wurden und somit der erste Kontakt mit einer Ebene, also einer Ausdehnung in zwei Dimensionen, werden nun weitere wichtige Größen für zweidimensionale Körper am Rechteck eingeführt.

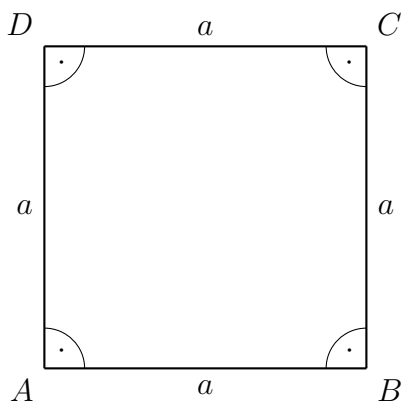


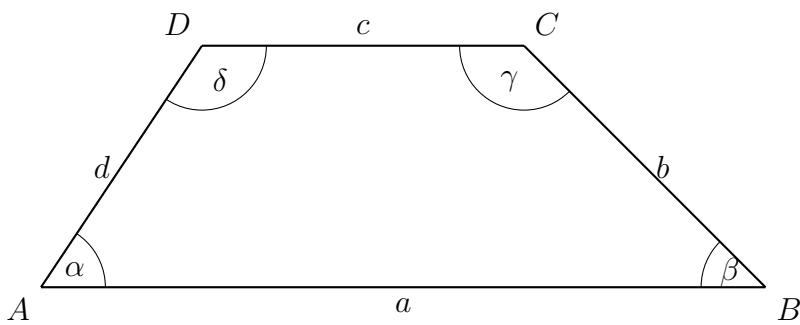
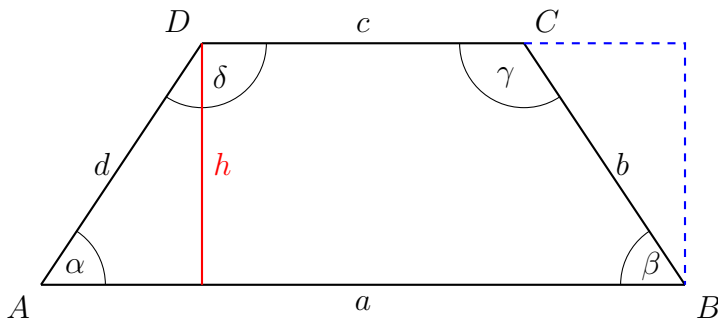
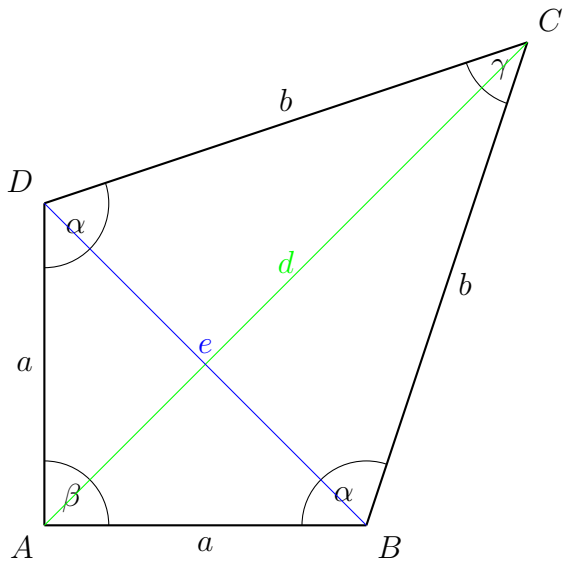
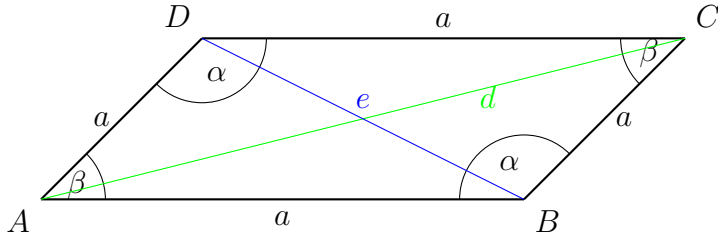
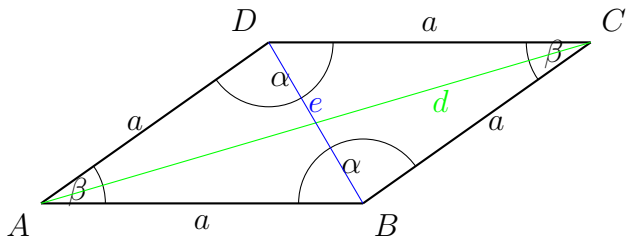
### 3.4 Dreieck



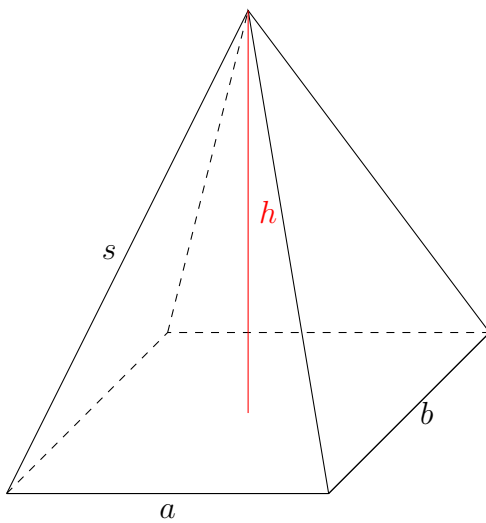
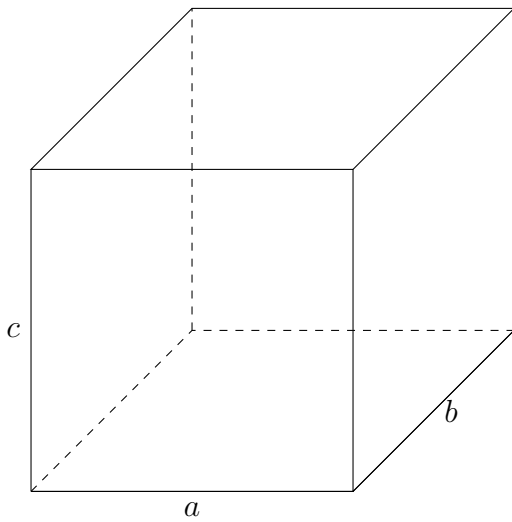
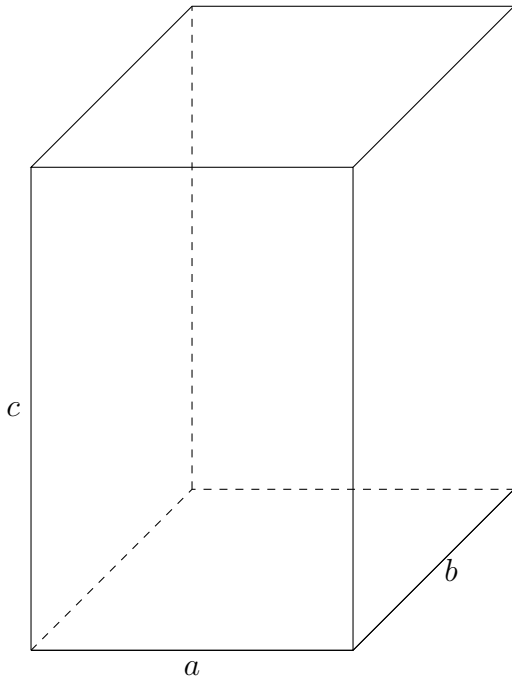


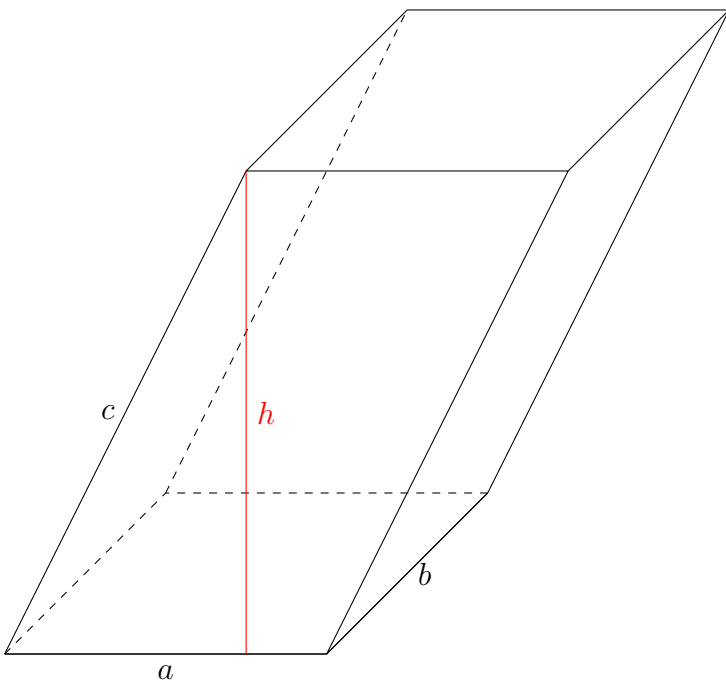
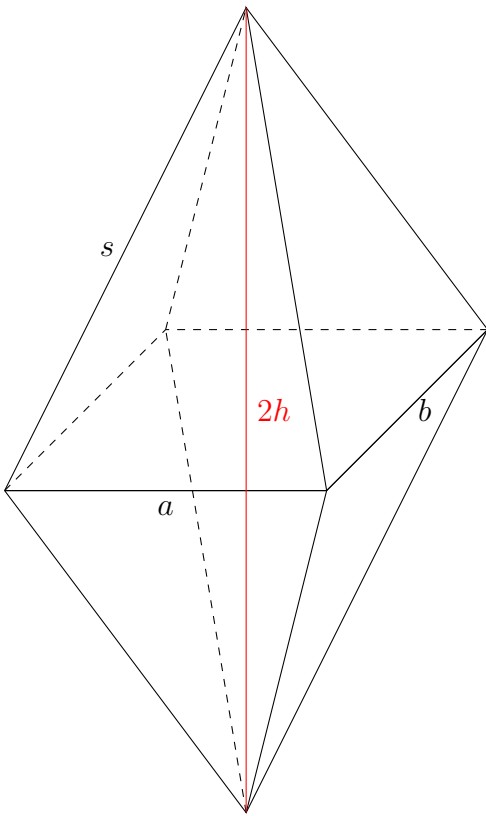
### 3.5 Spezielle Vierecke

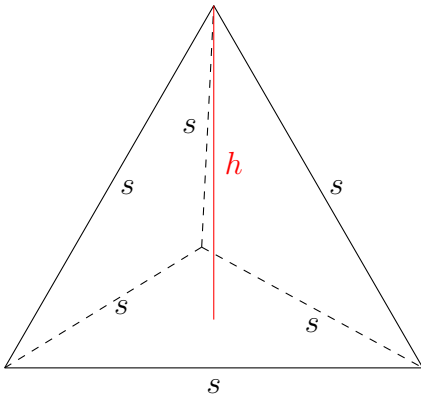




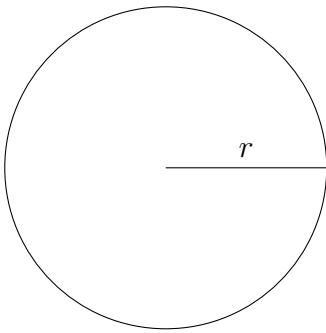
### 3.6 Mehrdimensionale Vielecke



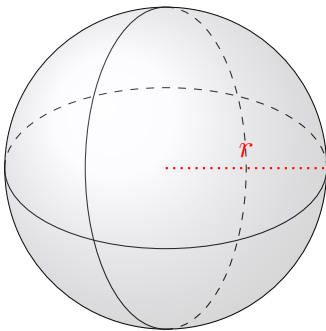




### 3.7 Kreis

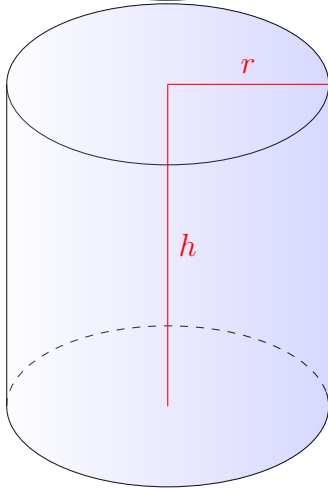
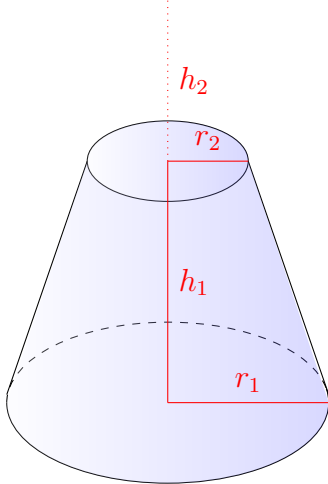
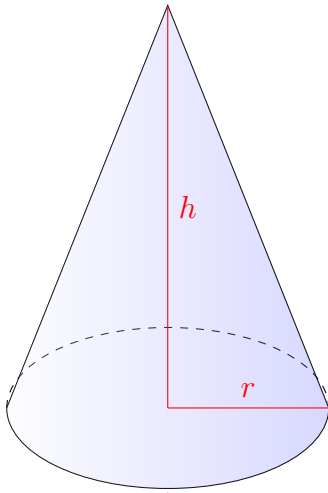


### 3.8 Kugeln

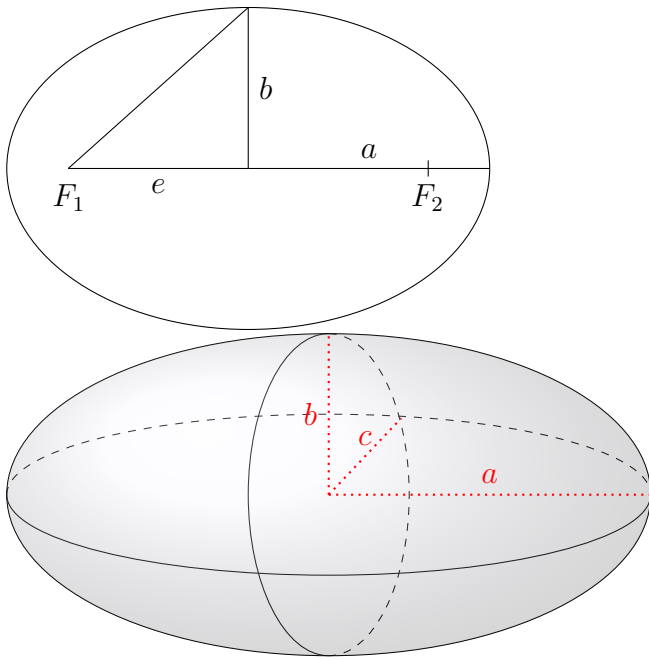




### 3.9 Zylinder und Kegel



### 3.10 Ellipse und Ellipsoid



## 4 Trigonometrie

### 4.1 Sinus und Kosinus

### 4.2 Tangens und Kotangens

### 4.3 Sinus- und Kosinussatz

### 4.4 Identitäten

## 5 Reihen

## 6 Grenzwerte

# 7 Funktionen

## 7.1 Wertetabellen

## 7.2 Geraden

## 7.3 Parabeln

## 7.4 Umkehrfunktionen

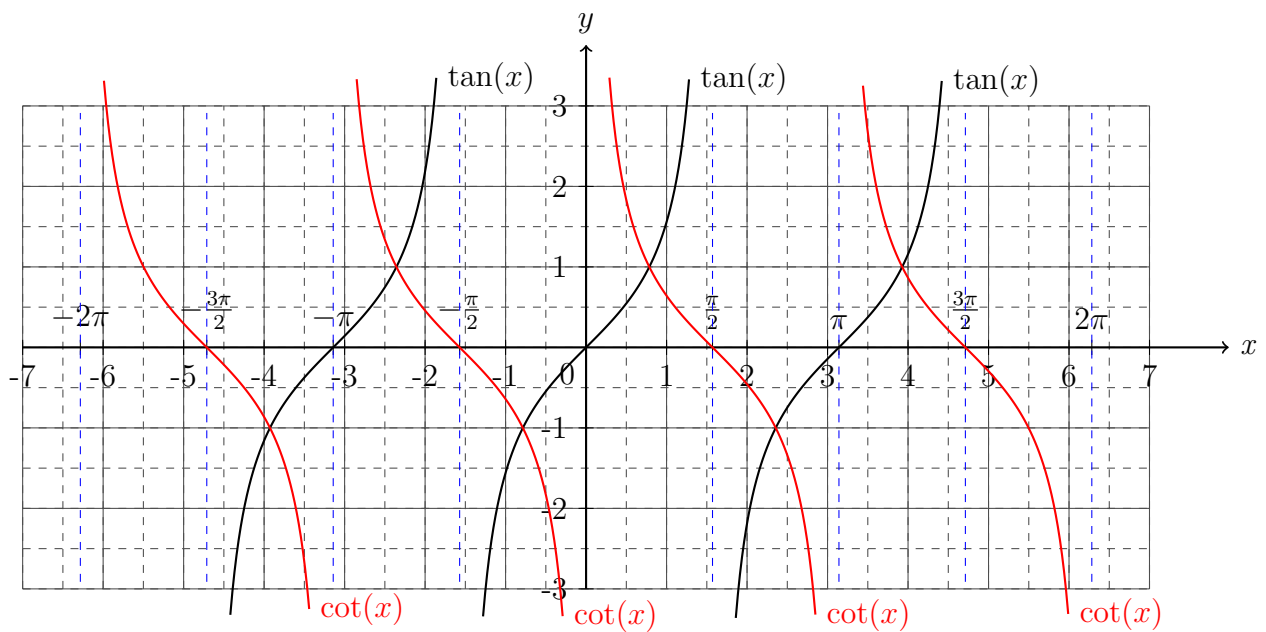
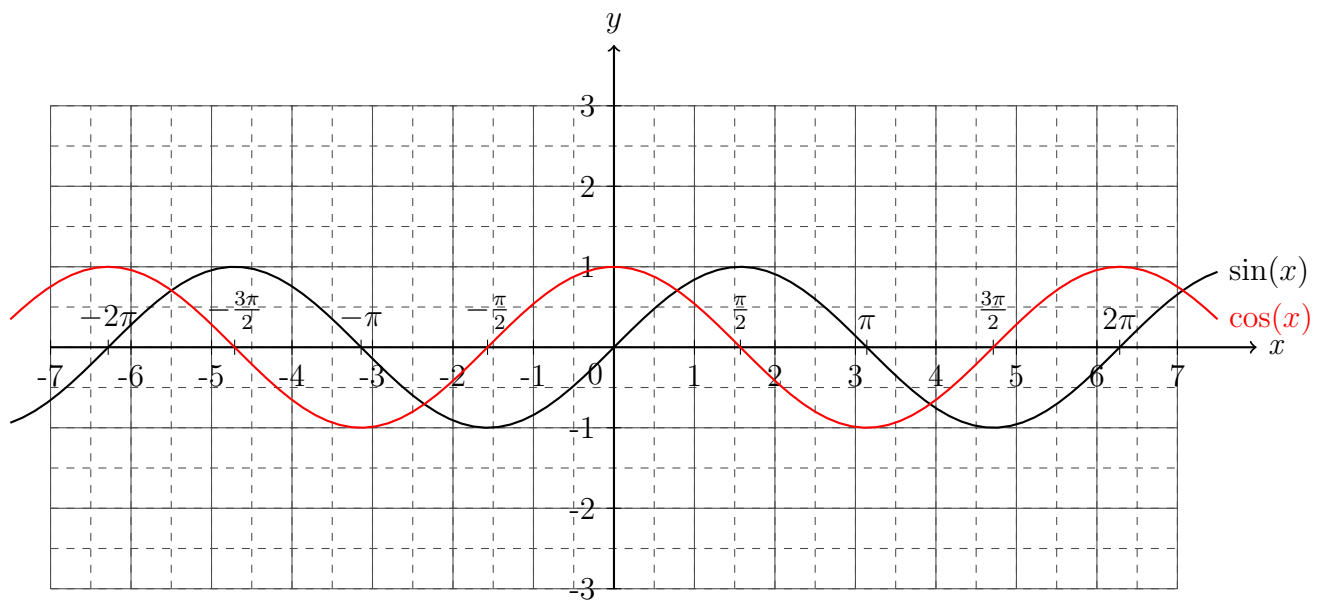
## 7.5 Hyperbel

## 7.6 Polynome

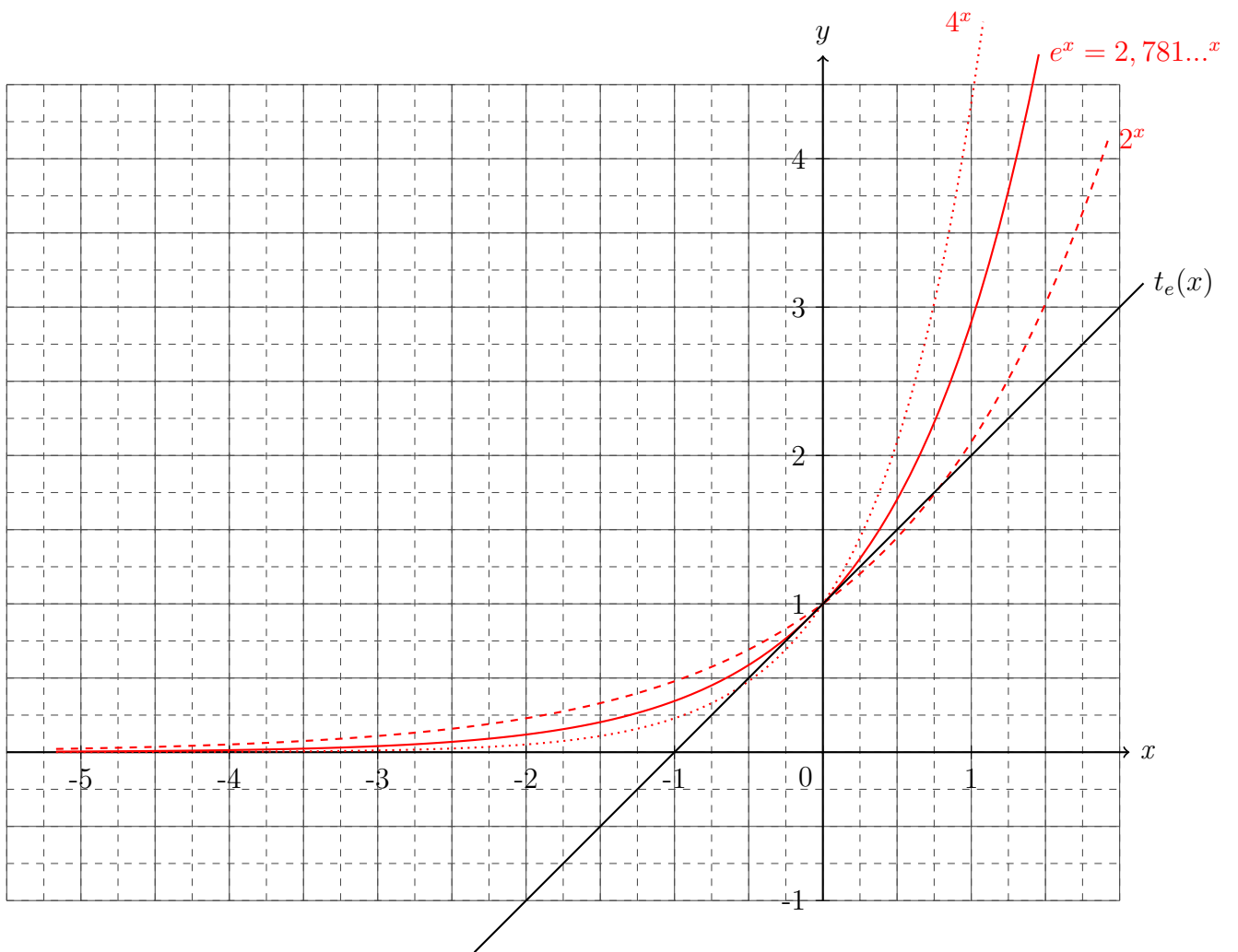
## 7.7 Gebrochen rationale Funktionen

$$\begin{array}{r} (2x^4 + 2x^3 - 4x^2 + 8x - 48) : (x - 2) = 2x^3 + 6x^2 + 8x + 24 \\ -(2x^4 - 4x^3) \\ \hline 6x^3 - 4x^2 + 8x - 48 \\ -(6x^3 - 12x^2) \\ \hline 8x^2 + 8x - 48 \\ -(8x^2 - 16x) \\ \hline 24x - 48 \\ -(24x - 48) \\ \hline 0 \end{array}$$

## 7.8 Trigonometrische Funktionen



## 7.9 Exponentialfunktion





## **8 Vektoren**

### **8.1 Eigenschaften**

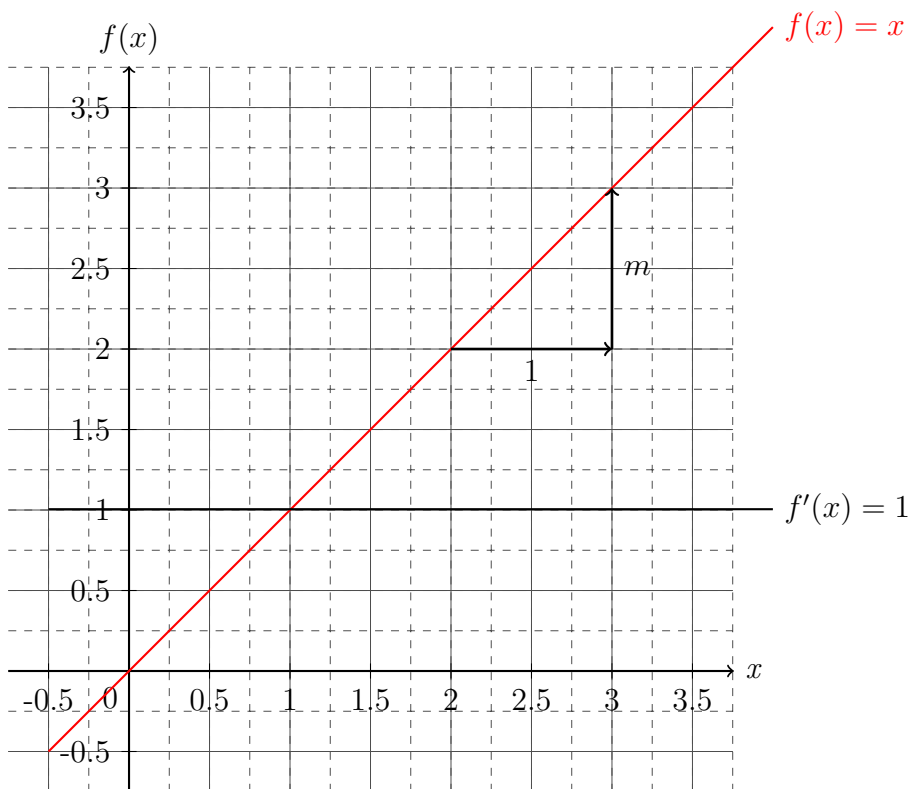
### **8.2 Spatprodukt**

### **8.3 Matrizen**

## 9 Differentiation und Integration

Die Differentiation und die Integration sind wichtige Kernelemente der Analysis. Um diese beiden Operationen effektiv einzuführen, sollte die Geradengleichung  $f(x) = mx + b$  mit der Steigung der Geraden  $m$  und dem Ordinatenschnittpunkt  $b$  nochmals ins Gedächtnis gerufen werden.

Seien die Geraden  $f(x) = x$  und  $f'(x) = 1$  gegeben, dann kann durch die Veranschaulichung im Koordinatensystem gesehen werden, dass die Steigung der Gerade  $f(x)$  gleich der dem Wert der Geraden  $f'(x)$  also gleich eins ist. Die Steigung der Gerade  $f'(x)$  ist Null, da es sich um eine Konstante handelt wie im Koordinatensystem zu erkennen ist. Dabei ist der Begriff „Steigung“ so definiert: „Wenn man einen Einheitenschritt nach rechts von der Geraden aus geht, ist die Steigung der Geraden gleich der Einheitenschritte orthogonal zum gegangenen Schritt - folglich nach oben für positive Steigung und nach unten für negative Steigung.“



### 9.1 Operatoralgebra

Mathematisch lässt sich ein Ausdruck definieren, der sprachlich fordert: „Bestimme die Steigung von der Funktion!“ Diese Forderung wird durch den sogenannten Differentialoperator  $\frac{d}{dx}$  erfüllt, der „d nach d x“ gelesen wird. Ein solcher Operator wirkt nur nach rechts, dass heißt alle Größen die links vom Operator stehen bleiben unangetastet. Somit soll folgende Rechenvorschrift für

den Operator gelten, um den veranschaulichten Forderungen im vorherigen Koordinatensystem gerecht zu werden:

$$\begin{aligned} \frac{d}{dx}x &= 1 && \text{siehe Funktionenbeispiel} \\ \frac{d}{dx}1 &= 0 && \text{im Koordinatensystem} \end{aligned} \quad (9.1)$$

Somit würde das Kommutativgesetz, welches für normale Zahlen, Parameter und Variablen gegeben ist durch

$$\begin{aligned} 3 \cdot 5 - 5 \cdot 3 &= 0 \\ a \cdot b - b \cdot a &= 0 = [a, b] \quad , \end{aligned} \quad (9.2)$$

wobei  $[a, b] = a \cdot b - b \cdot a = 0$  der sogenannte Kommutator ist, sich wie folgt verändern:

$$\begin{aligned} \left[ \frac{d}{dx}, x \right] &= \frac{d}{dx}x - x \frac{d}{dx} \\ &= \frac{d}{dx}x - x \frac{d}{dx}1 \\ &= 1 - 0 \\ &= 1 \quad . \end{aligned} \quad (9.3)$$

Durch Äquivalenzumformung der Gleichung (9.3) ergibt sich:

$$\begin{aligned} \frac{d}{dx}x - x \frac{d}{dx} &= 1 && \left| +x \frac{d}{dx} \right. \\ \frac{d}{dx}x &= 1 + x \frac{d}{dx} \end{aligned} \quad (9.4)$$

Dieser Ausdruck ist von zentraler Bedeutung, der es durch ein triviales Einsetzungsverfahren ermöglicht den Operator an einer Variable vorbei zu ziehen. Sei zum Beispiel die Steigung der Funktion  $g(x) = x^2$  gesucht, dann lässt sich dies mit Hilfe der Gleichung (9.4) bestimmen, indem Terme der Form  $\frac{d}{dx}x$  durch den Ausdruck  $(1 + x \frac{d}{dx})$  ersetzt werden.

$$\begin{aligned} \frac{d}{dx}x^2 &= \frac{d}{dx}x \cdot x \\ &= \left( 1 + x \frac{d}{dx} \right) x \\ &= x + x \frac{d}{dx}x \\ &= x + x \left( 1 + x \frac{d}{dx} \right) \\ &= x + x + x^2 \underbrace{\frac{d}{dx}}_{=0} \\ &= 2x \end{aligned} \quad (9.5)$$

Ähnlich verhält sich das Prozedere mit der Funktion  $h(x) = x^3$ , wobei lediglich die Anzahl der Schritt zunimmt.

$$\begin{aligned}
 \frac{d}{dx}x^3 &= \frac{d}{dx}x \cdot x \cdot x \\
 &= \left(1 + x \frac{d}{dx}\right)x \cdot x \\
 &= x \cdot x + x \frac{d}{dx}x \cdot x \\
 &= x \cdot x + x \left(1 + x \frac{d}{dx}\right) \cdot x \\
 &= x \cdot x + x \cdot x + x^2 \frac{d}{dx} \cdot x \\
 &= x \cdot x + x \cdot x + x^2 \left(1 + x \frac{d}{dx}\right) \\
 &= x^2 + x^2 + x^2 + x^3 \underbrace{\frac{d}{dx}}_{=0} \\
 &= 3x^2
 \end{aligned} \tag{9.6}$$

Dies kann für  $x^4$  und höhere Potenzen von  $x$  auch bestimmt werden, wobei sich die Anzahl der Schritte nur weiter erhöhen würde. Bei der Gegenüberstellung der Ergebnisse ist eine Regel für die Ableitung von Polynomen erkennbar, sodass die Prozedur des wiederholten Einsetzens überflüssig wird.

$$\begin{aligned}
 \frac{d}{dx}1 &= 0 \\
 \frac{d}{dx}x &= 1 + x \frac{d}{dx} = 1 \\
 \frac{d}{dx}x^2 &= 2x + x^2 \frac{d}{dx} = 2x \\
 \frac{d}{dx}x^3 &= 3x^2 + x^3 \frac{d}{dx} = 3x^2 \\
 \frac{d}{dx}x^4 &= 4x^3 + x^4 \frac{d}{dx} = 4x^3 \\
 \frac{d}{dx}x^5 &= 5x^4 + x^5 \frac{d}{dx} = 5x^4
 \end{aligned} \tag{9.7}$$

Gleichung (9.7) zeigt deutlich, dass sich die Potenz bei der Anwendung vom Differentialoperator um eins verringert und als Vorfaktor wieder zu finden ist. Somit ergibt sich folgende allgemeine Regel für die Anwendung des Differentialoperators - es wird auch vom „Ableiten“ gesprochen - auf ein Polynom:

$$\begin{aligned}
 \frac{d}{dx}x^n &= nx^{n-1} + x^n \frac{d}{dx} \\
 \Rightarrow \frac{d}{dx}x^n &= nx^{n-1}
 \end{aligned} \tag{9.8}$$

Als verkürzende Schreibweise soll von nun an gelten:

$$\frac{d}{dx}f(x) = f'(x) \quad . \tag{9.9}$$

Dabei bedeutet der Strich bei  $f'(x)$ , dass es sich um die Ableitung der Funktion  $f(x)$  handelt und dass der wirkende Differentialoperator nach  $x$  (also  $\frac{d}{dx}$ ) gewirkt hat. So gilt zum Beispiel ebenso:

$$\begin{aligned} \frac{d}{dy}f(y) &= f'(y) && \text{Funktion von } y \text{ deswegen Differentialoperator nach } y \\ \frac{d}{dz}f(z) &= f'(z) && \text{Funktion von } z \text{ deswegen Differentialoperator nach } z \\ \frac{d}{dt}f(t) &= \dot{x}(t) && \text{Funktion von } t \text{ deswegen Differentialoperator nach } t, \end{aligned} \quad (9.10)$$

wobei letztes ein Spezialfall der Physik ist, da nach der Zeit  $t$  abgeleitet wurde. Generell werden in der Physik immer die Ableitungen nach der Zeit mit einem Punkt über der Funktion beschrieben.

## 9.2 Ableitungsregeln

Die erste Ableitungsregel wurde schon in Gleichung (9.8) beschrieben und gilt für jede Art von Polynomen.

$$\frac{d}{dx}x^n = nx^{n-1} + x^n \frac{d}{dx} \quad (9.11)$$

Diese Ableitungsregel ist besonders nützlich im Zusammenhang mit den Potenzgesetzen, denn so lassen sich bestimmte Funktionen über einer Variable als Basis mit einer Zahl im Exponenten darstellen. Mit Hilfe dieser Ableitungsregel besteht die Möglichkeit wesentlich komplexere, also zusammengesetzte, Funktionen abzuleiten. Dazu sei  $f(x) = g(x) + h(x)$ , dann gilt unter der Verwendung der Regeln für die Klammersetzung:

$$\frac{d}{dx}(g(x) + h(x)) = \frac{d}{dx}g(x) + \frac{d}{dx}h(x) \quad (9.12)$$

Sei nun  $f(x) = g(x)h(x)$  und zum Beispiel mit  $g(x) = x^n$  und  $h(x) = x^m$ , dann gilt unter Berücksichtigung der Potenzgesetze und Gleichung (9.11) und der verkürzten Schreibweise aus Gleichung (9.9):

$$\begin{aligned} \frac{d}{dx}f(x) &= \frac{d}{dx}g(x)h(x) = \frac{d}{dx}x^n x^m = \frac{d}{dx}x^{n+m} = (n+m)x^{n+m-1} \\ &= \frac{d}{dx}x^n x^m = \left( nx^{n-1} + x^n \frac{d}{dx} \right) x^m \\ &= nx^{n-1}x^m + x^n \frac{d}{dx}x^m \\ &= nx^{n-1}x^m + x^n \left( mx^{m-1} + x^m \frac{d}{dx} \right) \\ &= nx^{n-1}x^m + x^n mx^{m-1} \\ &= g'(x)h(x) + g(x)h'(x) \\ &= nx^{n-1+m} + mx^{n+m-1} = (n+m)x^{n+m-1} \end{aligned} \quad (9.13)$$

Wie Gleichung (9.13) zeigt, kann diese Aufgabe schnell über die Potenzgesetze in einer Zeile gelöst werden. Dieses Ergebnis soll als Vergleich dienen, um die Ableitungsregel für Polynome

auf die zusammengesetzte Funktion  $f(x)$  anzuwenden. Dabei wird erneut wie schon beim Herleiten der Ableitungsregel für Polynome das Einsetzungsverfahren verwendet. In der vorletzten Zeile dieser Rechnung ist zu erkennen, dass

$$f'(x) = \frac{d}{dx}f(x) = \frac{d}{dx}g(x)h(x) = g'(x)h(x) + g(x)h'(x) \quad , \quad (9.14)$$

gilt. Diese Ableitungsregel aus Gleichung (9.14) wird Leibnizregel oder Produktregel genannt. Ihr Nutzen wird sich offenbaren wenn nicht nur Polynome zur Diskussion stehen.

Mit der Leibnizregel und der Substitution, soll nun noch eine weitere Ableitungsregel bestimmt werden. Dabei soll gelten, dass die Funktion  $f(x)$  eine verkettete Funktion sein soll:  $f(x) = g(x) \circ h(x) = g(h(x))$  mit dem Beispiel, dass  $g(x) = x^2$  und  $h(x) = 2x + 1$  sei - mit den Ableitungen  $g'(x) = 2x$  und  $h'(x) = 2$ . Wie die Verkettung fordert, wird  $h(x)$  in die Funktion  $g(x)$  eingesetzt. Daraus ergibt sich folgende Ableitung mit der Überprüfung des Ergebnisses durch die Ableitungsregel der Polynome sowie den Binomischen Formeln:

$$\begin{aligned} \frac{d}{dx}f(x) &= \frac{d}{dx}g(h(x)) = \frac{d}{dx}(2x+1)^2 = \frac{d}{dx}4x^2 + 4x + 1 = 8x + 4 \\ &= \frac{d}{dx}(2x+1)(2x+1) \quad \text{Leibnizregel} \\ &= (2x+1)\frac{d}{dx}(2x+1) + (2x+1)\frac{d}{dx}(2x+1) \\ &= (2x+1)2 + (2x+1)2 \\ &= 2 \cdot 2(2x+1) \quad \text{Vergleich mit } g'(x), h'(x) \text{ und } h(x) \\ &= h'(x) \cdot g'(h(x)) = 8x + 4 \end{aligned} \quad (9.15)$$

Die letzte Zeile offenbart durch den Vergleich der Terme mit den Funktionen  $g(x)$  und  $h(x)$  sowie ihren Ableitungen  $g'(x)$  und  $h'(x)$  die allgemeine Regel der Ableitung von verketteten Funktionen.

$$f'(x) = \frac{d}{dx}f(x) = \frac{d}{dx}g(h(x)) = h'(x) \cdot g'(h(x)) \quad (9.16)$$

Diese Regel wird Kettenregel genannt und wird ihre Bedeutung erst offenbaren, wenn Funktionen angenommen werden, deren abgekürzte Schreibweise ihre Herkunft aus Polynomen nicht mehr offensichtlich zeigen.

Mittels der Substitution  $y := h(x)$  würde das Polynom in der Klammer ersetzt werden. Allerdings muss auch der Ableitungsoperator  $\frac{d}{dx}$  nach  $\frac{d}{dy}$  umgewandelt werden. Dies geschieht wie folgt (Hier sollte erwähnt werden, dass es sich lediglich um eine Nebenrechnung handelt, um die Substitution zu durchführen zu können. Die gezeigten Schritte der Rechnung sehen intuitiv aus, sind allerdings nicht ohne weitere Prüfungen und tiefer liegende Mathematik durchführbar.):

$$\begin{aligned} \frac{d}{dx}y &= \frac{dy}{dx} = h'(x) && | \cdot dx \\ dy &= dx \cdot h'(x) && | : h'(x) \\ \Rightarrow dx &= \frac{dy}{h'(x)} && \text{eingesetzt in: } \frac{d}{dx} \\ \Rightarrow \frac{d}{dx} &= h'(x) \frac{d}{dy} \end{aligned} \quad (9.17)$$

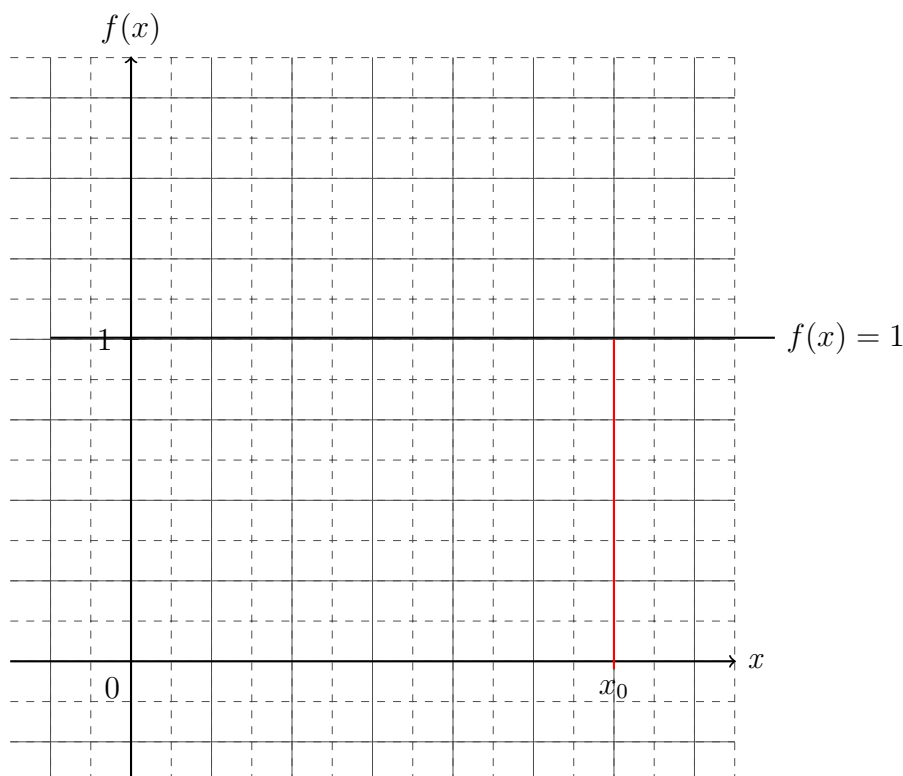
Der gefundene Ausdruck für  $\frac{d}{dx}$  wird nun eingesetzt, wenn die Substitution durchgeführt wird.

$$\begin{aligned}
 \frac{d}{dx}f(x) &= \frac{d}{dx}g(h(x)) && \text{mit: } y := h(x) \text{ und: } \frac{d}{dx} = h'(x)\frac{d}{dy} \\
 &= h'(x)\frac{d}{dy}g(y) && (9.18) \\
 &= h'(x)g'(y) && \text{mit: } y = h(x) \text{ zurück eingesetzt} \\
 &= h'(x)g'(h(x))
 \end{aligned}$$

Gleichung (9.17) und (9.18) zeigen eine Herleitung der Kettenregel ohne Spezifizierung der Funktionen, sodass festgehalten werden kann, dass jede differenzierbare verkettete Funktion über diese Regel ableitbar ist.

## 9.3 Integration

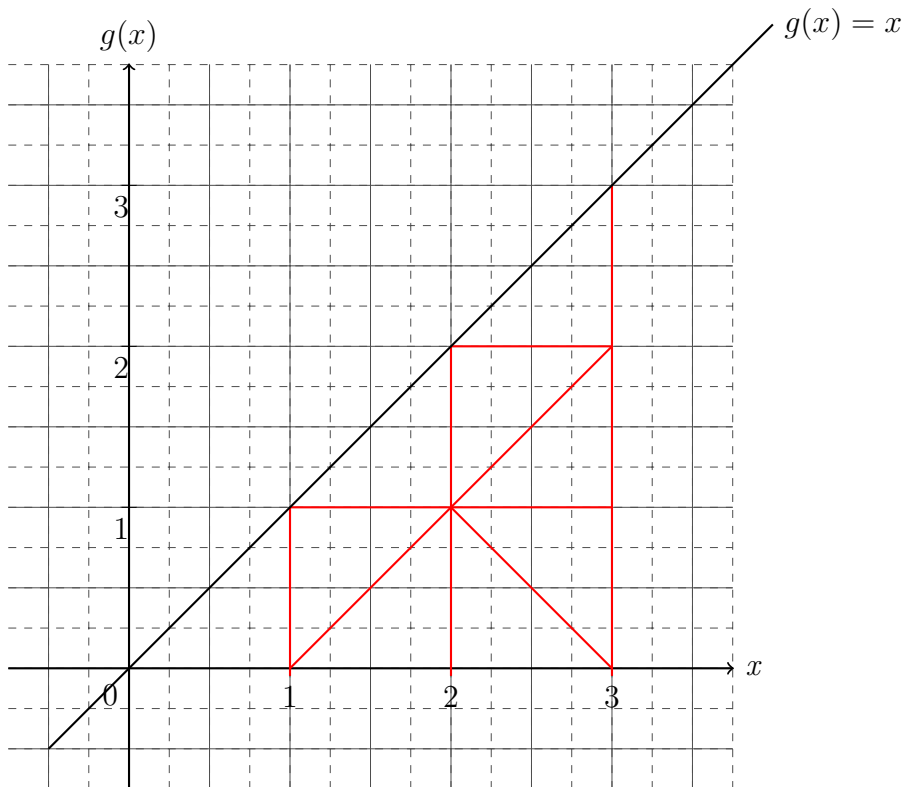
Nachdem die Differentiation zur Bestimmung der Steigung einer Funktion eingeführt wurde, soll nun eine weitere Eigenschaft der Funktion untersucht werden. Sei eine Funktion  $f(x) = 1$  gegeben. Nun soll der Flächeninhalt bestimmt werden, der von der  $x$ -Achse und Funktion  $f(x)$  eingeschlossen wird, von  $x = 0$  bis  $x = x_0$  bestimmt werden.



Der Flächeninhalt als Funktion  $F(x)$  wäre gegeben als:

$$\begin{aligned}
 F(x) &= f(x) \cdot x && \text{mit: } f(x) = 1 \\
 F(x) &= x && \text{mit: } x = x_0 \\
 \Rightarrow F(x_0) &= x_0
 \end{aligned}
 \tag{9.19}$$

Die Ableitung der Flächeninhaltsfunktion  $F(x)$  wäre wieder die Funktion  $f(x)$ . Als weiteres Beispiel soll die Funktion  $g(x) = x$  gegeben sein und erneut soll der Flächeninhalt als Funktion von  $x$ , also  $G(x)$ , bestimmt werden.



Der Flächeninhalt unterhalb der Funktion  $g(x)$  bildet ein Dreieck. Somit ist die Flächeninhaltsfunktion  $G(x)$  gegeben als:

$$G(x) = \frac{g(x) \cdot x}{2} \quad \text{mit: } g(x) = x \quad (9.20)$$

$$G(x) = \frac{1}{2}x^2$$

Die Ableitung der Flächeninhaltsfunktion  $G(x)$  wäre  $\frac{1}{2}2x = x = g(x)$ . Somit wäre erneut die Ableitung der Flächeninhaltsfunktion  $G(x)$  die Ausgangsfunktion  $g(x)$ . Aus dieser Erkenntnis kann wieder aus der sprachlichen Forderung „Bestimme den Flächeninhalt unter der Funktion  $f(x)$  der durch die Grenzen  $x = a$  bis  $x = b$  und  $x$ -Achse begrenzt ist!“ einen mathematischen Formalismus entstehen lassen:

$$F(x) = \int_a^b f(x)dx \quad (9.21)$$

Diese Operation wird Integration genannt. Dabei wird Gleichung (9.21) gelesen als „Die Stammfunktion  $F(x)$  ist gleich das Integral über die Funktion  $f(x)$  nach  $x$  in den Grenzen von  $a$  bis  $b$ “.

## 9.4 Integrationsregeln

Nachdem der Formalismus eingeführt wurde, soll ein allgemeines Polynom  $x^n$  untersucht werden. Dazu wird die Ableitung von  $x^n$  gebildet und über Äquivalenzumformung und mit Potenzgesetzen die Gleichung umgestellt:



$$\begin{aligned}
& \frac{d}{dx} x^n = nx^{n-1} && \text{substituiere: } m = n - 1 \Rightarrow n = m + 1 \\
& \Rightarrow \frac{d}{dx} x^{m+1} = (m+1)x^m && | : (m+1) \\
& \frac{1}{m+1} \frac{d}{dx} x^{m+1} = x^m && | \cdot dx \\
& \frac{1}{m+1} \frac{d}{dx} x^{m+1} dx = x^m dx && \left| \int \right. \\
& \Rightarrow \int x^m dx = \frac{1}{m+1} x^{m+1}
\end{aligned} \tag{9.22}$$

Die letzte Zeile der Gleichung (9.22) zeigt die hergeleitete Regel für die Integration von Polynomen. Nachdem das generelle Integrationsgesetz für Polynome gefunden wurde, die Produktregel als Ausgangspunkt für die Herleitung einer weiteren Integrationsregel dienen.

$$\begin{aligned}
& \frac{d}{dx} f(x)g(x) = f'(x)g(x) + f(x)g'(x) && | \cdot dx \\
& \frac{d}{dx} f(x)g(x) dx = f'(x)g(x) dx + f(x)g'(x) dx && \left| \int \right. \\
& f(x)g(x) = \int f'(x)g(x) dx + \int f(x)g'(x) dx && \left| - \int f(x)g'(x) dx \right. \\
& \Rightarrow \int f'(x)g(x) dx = f(x)g(x) - \int f(x)g'(x) dx
\end{aligned} \tag{9.23}$$

Diese Integrationsregel wird „partielle Integration“ genannt. Sie wird dazu verwendet Funktionsprodukte zu integrieren bei dem eine Teilfunktion  $f(x)$  leicht zu integrieren ist, während die andere Teilfunktion  $g(x)$  eine Funktion ist die eine unbekannte Stammfunktion besitzt, deren Ableitung allerdings bekannt ist. Generell wird diese Integrationsregel dazu verwendet, um das Produkt eines Polynoms mit einer anderen Funktion zu integrieren. Dabei bildet in der Regel das Polynom die Funktion  $g(x)$ , sodass dieses nach mehrfacher Anwendung der partiellen Integration und dem Einsetzungsverfahren dieses Polynom restlos verschwindet und die Funktion  $f(x)$  alleinstehend unter dem Integral vorzufinden.

Abschließend soll die Kettenregel in eine Regel der Integration überführt werden.

$$\begin{aligned}
& \frac{d}{dx} f(g(x)) = g'(x)f'(g(x)) && | dx \\
& \frac{d}{dx} f(g(x)) dx = g'(x)f'(g(x)) dx && \left| \int \right. \\
& f(g(x)) = \int g'(x)f'(g(x)) dx
\end{aligned} \tag{9.24}$$

Durch Substitution lässt sich dieses Integral lösen, hierbei wird  $y := g(x)$  gewählt:

$$\begin{aligned}
& \int g'(x)f'(g(x)) dx && \text{substituiere: } y := g(x) \Rightarrow dx = \frac{dy}{g'(x)} \\
& = \int f'(y) dy = f(y) && \text{zurück eingesetzt: } g(x) = y \\
& = f(g(x))
\end{aligned} \tag{9.25}$$

Aus den Gleichungen (9.24) und (9.25) ist erkennbar, dass die Kettenregel der Ableitung überführt in die Integration durch Substitution bearbeitet werden kann. Aus diesem Grund wird diese Regel „Integration durch Substitution“ genannt.

Mit Grenzen würde sich bei der Integration durch Substitution die Grenzen mit verändern:

$$\begin{aligned} \int_a^b g'(x) f'(g(x)) dx & \quad \text{substituiere: } y := g(x) \Rightarrow dx = \frac{dy}{g'(x)} \\ & = \int_{g(a)}^{g(b)} f'(y) dy \end{aligned} \quad (9.26)$$

Dabei wird die obere Grenze und die unteren Grenze eingesetzt in die Stammfunktion und anschließend von einander subtrahiert. Für diesen Prozess gibt es zwei verschiedene Schreibweisen. Die erste Schreibweise umklammert den Term, in den einzusetzen ist, während die zweite Schreibweise einen senkrechten Strich vorsieht und aussagt, dass für alle Variablen links vom Strich eingesetzt werden soll.

$$\begin{aligned} \int_{g(a)}^{g(b)} f'(y) dy & = [f(y)]_{g(a)}^{g(b)} \\ & = f(y) \Big|_{x=g(a)}^{x=g(b)} \\ & = f(g(b)) - f(g(a)) \end{aligned} \quad (9.27)$$

Da nun alle Regeln für die Integration und der Differentiation bekannt sind, werden im folgenden Abschnitt beide Methoden dazu verwendet um spezielle Gleichungen zu lösen - die sogenannten Differentialgleichungen.

## 9.5 Differentialgleichungen 1. Ordnung

## 9.6 Differentialgleichungen 2. Ordnung

# 10 Wirtschaftsrechnungen

# **11 Wahrscheinlichkeitsrechnung**

## **11.1 Zufallsexperimente**

## **11.2 Permutationen**

## 12 Komplexe Zahlen

## 13 Physikalische Anwendungen

# 14 Anhang

## 14.1 Pascal'sches Dreieck

```

      1
     1 1
    1 2 1
   1 3 3 1
  1 4 6 4 1
 1 5 10 10 5 1
1 6 15 20 15 6 1
1 7 21 35 35 21 7 1
 1 8 28 56 70 56 28 8 1
   1 9 36 84 126 126 84 36 9 1
    1 10 45 120 210 252 210 120 45 10 1
     1 11 55 165 330 462 462 330 165 55 11 1
      1 12 66 220 495 792 924 792 495 220 66 12 1
       1 13 78 286 715 1287 1716 1716 1287 715 286 78 13 1
        1 14 91 364 1001 2002 3003 3432 3003 2002 1001 364 91 14 1
         1 15 105 455 1365 3003 5005 6435 6435 5005 3003 1365 455 105 15 1

```

Zurück zum Text durch folgenden Link: [\(2.6.3\)](#).

## 14.2 10er Potenzen

Symbol	Name	10er Potenz	Ausgeschrieben	Sprachlich
<i>Y</i>	Yotta	$10^{24}$	1.000.000.000.000.000.000.000.000	Quadrillion
<i>Z</i>	Zetta	$10^{21}$	1.000.000.000.000.000.000.000	Trilliade
<i>E</i>	Exa	$10^{18}$	1.000.000.000.000.000.000	Trillion
<i>P</i>	Peta	$10^{15}$	1.000.000.000.000.000	Billarde
<i>T</i>	Tera	$10^{12}$	1.000.000.000.000	Billion
<i>G</i>	Giga	$10^9$	1.000.000.000	Milliarde
<i>M</i>	Mega	$10^6$	1.000.000	Million
<i>k</i>	Kilo	$10^3$	1.000	Tausend
<i>h</i>	Hekto	$10^2$	100	Hundert
<i>da</i>	Deka	$10^1$	10	Zehn
		$10^0$	1	Eins
<i>d</i>	dezi	$10^{-1}$	0,1	Zehntel
<i>c</i>	centi	$10^{-2}$	0,01	Hundertstel
<i>m</i>	milli	$10^{-3}$	0,001	Tausendstel
$\mu$	mirko	$10^{-6}$	0,000.001	Millionstel
<i>n</i>	nano	$10^{-9}$	0,000.000.001	Milliardstel
<i>p</i>	piko	$10^{-12}$	0,000.000.000.001	Billionstel
<i>f</i>	femto	$10^{-15}$	0,000.000.000.000.001	Billiardstel
<i>a</i>	atto	$10^{-18}$	0,000.000.000.000.000.001	Trillionstel
<i>z</i>	zepto	$10^{-21}$	0,000.000.000.000.000.000.001	Trilliardstel
<i>y</i>	yokto	$10^{-24}$	0,000.000.000.000.000.000.000.001	Quadrillionstel



## 14.3 Lösungen

### 14.3.1 Lösungen zu Mengen

#### Aufgabe 1:

- a)  $4 \in \mathbb{N}$     b)  $-1 \in \mathbb{Z}$     c)  $9 \in \mathbb{N}$     d)  $0,45 \in \mathbb{Q}$   
 e)  $\frac{1}{2} \in \mathbb{Q}$     f)  $-6 \in \mathbb{Z}$     g)  $4,75 \in \mathbb{Q}$     h)  $0,\bar{3} \in \mathbb{Q}$   
 i)  $\frac{1}{81} \in \mathbb{Q}$     j)  $-\frac{3}{7} \in \mathbb{Q}$     k)  $3 \in \mathbb{N}$     l)  $0,125 \in \mathbb{Q}$   
 m)  $0,01 \in \mathbb{Q}$     n)  $\frac{1}{11} \in \mathbb{Q}$     o)  $3,141 \in \mathbb{Q}$     p)  $-0,75 \in \mathbb{Q}$

#### Aufgabe 2:

- a)  $0,\bar{6} \in \mathbb{Q}$     b)  $-\sqrt{4} \in \mathbb{Z}$     c)  $0 \in \mathbb{N}$     d)  $\sqrt{3} \in \mathbb{R}$   
 e)  $\frac{7}{8} \in \mathbb{Q}$     f)  $\sqrt{13} \in \mathbb{R}$     g)  $\frac{2}{\sqrt{16}} \in \mathbb{Q}$     h)  $1\% \in \mathbb{Q}$   
 i)  $\frac{1}{\sqrt{5}} \in \mathbb{R}$     j)  $-42 \in \mathbb{Z}$     k)  $\sqrt{144} \in \mathbb{N}$     l)  $\frac{16}{2} \in \mathbb{N}$   
 m)  $5,01 \in \mathbb{Q}$     n)  $17 \in \mathbb{N}$     o)  $1,1\bar{6} \in \mathbb{Q}$     p)  $-\sqrt{64} \in \mathbb{Z}$

#### Aufgabe 3:

- a)  $\lg 10 \in \mathbb{N}$     b)  $\sqrt{9} \in \mathbb{N}$     c)  $-7 \in \mathbb{Z}$     d)  $\pi \in \mathbb{R}$   
 e)  $\frac{e^2}{2} \in \mathbb{R}$     f)  $-\frac{1}{6} \in \mathbb{Q}$     g)  $1 \in \mathbb{N}$     h)  $0,597813553 \in \mathbb{Q}$   
 i)  $\ln 2 \in \mathbb{R}$     j)  $-e^{\ln \frac{1}{3}} \in \mathbb{Q}$     k)  $\log_3 9 \in \mathbb{N}$     l)  $0,1 \in \mathbb{Q}$   
 m)  $28\% \in \mathbb{Q}$     n)  $\frac{\pi}{4} \in \mathbb{R}$     o)  $\sqrt{17} \in \mathbb{R}$     p)  $-\frac{1}{\ln e} \in \mathbb{Z}$

#### Aufgabe 4:

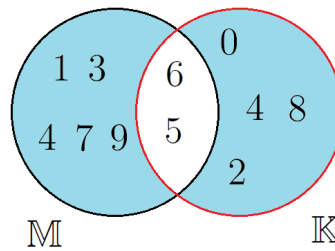
- a)  $M \cup K = \{1, 3, 4, 5, 6, 8, 9\}$  ;  $M \cap K = \{6\}$  ;  $M \setminus K = \{1, 5, 9\}$  ;  
 $K \setminus M = \{3, 4, 8\}$  ;  
 b)  $M \cup K = \{1, 2, 3, 4, 5, 6, 7\} = M$  ;  $M \cap K = \{1, 2, 3, 5, 7\} = K$  ;  $M \setminus K = \{6\}$  ;  
 $K \setminus M = \{\} = \emptyset$  ;  
 c)  $M \cup K = \{4, 5, 6, 7, 8, 9, 10, 11\}$  ;  $M \cap K = \{\} = \emptyset$  ;  $M \setminus K = M$  ;  $K \setminus M = K$  ;  
 d)  $M \cup K = \{1, 2, 3, 4, 5, 6, 7, 8\}$  ;  $M \cap K = \{2, 8\}$  ;  $M \setminus K = \{3, 6\}$  ;  $K \setminus M = \{1, 4, 7\}$  ;  
 e)  $M \cup K = \{2, 3, 5, 6, 8, 9\}$  ;  $M \cap K = \{3, 6\}$  ;  $M \setminus K = \{9\}$  ;  $K \setminus M = \{2, 5, 8\}$  ;  
 f)  $M \cup K = \{1, 3, 5, 6, 7, 9\}$  ;  $M \cap K = \{3, 5, 7\}$  ;  $M \setminus K = \{1, 9\}$  ;  $K \setminus M = \{4, 6\}$

#### Aufgabe 5:

- a)  $(M \cap K) \cap L = \emptyset$ ;  
 b)  $(M \setminus L) \cup (M \setminus K) = M$ ;  
 c)  $(K \setminus L) \cap (M \setminus K) = \emptyset$ ;  
 d)  $(K \cap L) \cup (M \cap K) = \{3, 4, 6, 9\}$ ;  
 e)  $(L \cup K) \setminus (M \cup K) = \{5, 7\}$ ;  
 f)  $(L \cup K) \cap (M \setminus K) = \emptyset$ ;  
 g)  $(L \cup K) \setminus (L \cap K) := L \Delta K = \{3, 5, 6, 7, 8\}$ ;  
 h)  $M \Delta K = \{1, 2, 4, 8, 9\}$ ;

**Aufgabe 6:**

$$M \Delta K = \{0, 1, 2, 3, 4, 7, 8, 9\};$$

**Aufgabe 7:**

$$a) M \cap K = \emptyset \quad ; \quad b) M \cup K = M \quad ; \quad c) M \setminus K = M$$

Zurück zu den Aufgaben durch folgenden Link: (1).

**14.3.2 Lösungen zur Bruchrechnung****Aufgabe 1:**

$$\begin{aligned} a) \frac{1}{2} &> \frac{1}{4} \\ d) \frac{3}{8} &< \frac{1}{2} \\ g) \frac{4}{16} &= \frac{1}{4} \\ j) \frac{3}{8} &< \frac{7}{8} \\ m) \frac{3}{8} &> \frac{1}{3} \\ p) \frac{2}{8} &> \frac{3}{6} \\ s) \frac{3}{8} &= \frac{24}{64} \end{aligned}$$

$$\begin{aligned} b) \frac{1}{2} &< \frac{3}{4} \\ e) \frac{2}{6} &> \frac{1}{2} \\ h) \frac{4}{15} &< \frac{7}{15} \\ k) \frac{1}{7} &> \frac{4}{4} \\ n) \frac{1}{9} &> \frac{3}{3} \\ q) \frac{3}{2} &< \frac{5}{3} \\ t) \frac{81}{9} &= \frac{36}{4} \end{aligned}$$

$$\begin{aligned} c) \frac{2}{5} &= \frac{4}{10} \\ f) \frac{1}{3} &= \frac{3}{9} \\ i) \frac{2}{3} &> \frac{3}{6} \\ l) \frac{5}{5} &= \frac{16}{20} \\ o) \frac{5}{25} &= \frac{1}{5} \\ r) \frac{14}{8} &< \frac{16}{9} \\ u) \frac{55}{5} &= \frac{131}{11} \end{aligned}$$

**Aufgabe 2:**

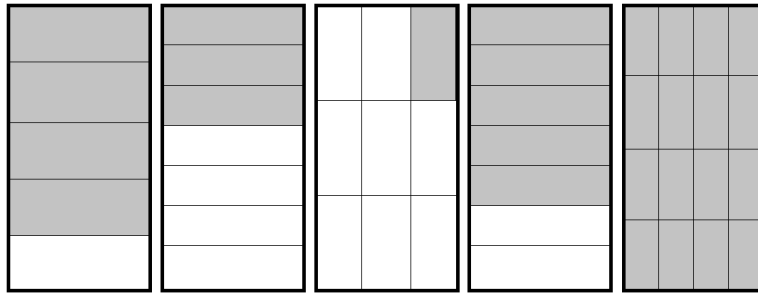
$$\begin{aligned} a) \frac{8}{16} &= \frac{1}{2} & b) \frac{6}{14} &= \frac{3}{7} & c) \frac{9}{15} &= \frac{1}{2} \\ d) \frac{6}{24} &= \frac{1}{4} & e) \frac{64}{64} &= \frac{3}{3} & f) \frac{12}{144} &= \frac{1}{12} \\ g) \frac{75}{125} &= \frac{3}{5} & h) \frac{30}{75} &= \frac{6}{15} & i) \frac{108}{72} &= \frac{3}{2} \\ j) \frac{16}{48} &= \frac{1}{3} & k) \frac{6}{18} &= \frac{1}{3} & l) \frac{24}{8} &= 3 \\ m) \frac{12}{96} &= \frac{1}{8} & n) \frac{16}{64} &= \frac{1}{4} & o) \frac{48}{144} &= \frac{1}{3} \\ p) \frac{33}{3} &= 11 & q) \frac{54}{72} &= \frac{3}{4} & r) \frac{5000}{10000} &= \frac{1}{2} \\ s) \frac{24}{72} &= \frac{1}{3} & t) \frac{36}{66} &= \frac{6}{11} & u) \frac{63}{108} &= \frac{7}{12} \end{aligned}$$

**Aufgabe 3:**

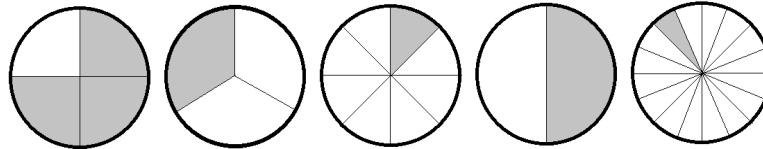
$$\begin{aligned} a) \frac{3}{4} \cdot 9 &= \frac{27}{36} & b) \frac{5}{7} \cdot 7 &= \frac{35}{49} & c) \frac{1}{12} \cdot 8 &= \frac{8}{96} \\ d) \frac{1}{2} \cdot 24 &= \frac{24}{48} & e) \frac{7}{8} \cdot 6 &= \frac{42}{48} & f) \frac{4}{6} \cdot 11 &= \frac{44}{66} \\ g) \frac{5}{7} \cdot 8 &= \frac{40}{56} & h) \frac{5}{13} \cdot 9 &= \frac{45}{113} & i) \frac{4}{11} &= \frac{28}{77} \cdot 7 \\ j) \frac{7}{4} \cdot 9 &= \frac{63}{36} & k) \frac{6}{11} \cdot 5 &= \frac{30}{55} & l) \frac{3}{12} \cdot 4 &= \frac{12}{48} \\ m) \frac{4}{3} \cdot 21 &= \frac{42}{63} & n) \frac{7}{8} \cdot 3 &= \frac{21}{24} & o) \frac{4}{6} \cdot 13 &= \frac{52}{78} \\ p) \frac{3}{9} \cdot 8 &= \frac{24}{72} & q) \frac{5}{12} \cdot 6 &= \frac{30}{72} & r) \frac{7}{12} \cdot 7 &= \frac{49}{84} \\ s) \frac{3}{4} \cdot 17 &= \frac{51}{68} & t) \frac{5}{6} \cdot 4 &= \frac{20}{24} & u) \frac{13}{6} \cdot 1000 &= \frac{13000}{6000} \end{aligned}$$

**Aufgabe 4:** Quadrate:  $\frac{1}{4}, \frac{1}{4}, \frac{3}{8}, \frac{1}{2}, \frac{3}{4}, \frac{1}{4}, \frac{1}{3}, \frac{2}{9}, \frac{1}{2}$  und  $\frac{1}{2}$ .  
 Kreise:  $\frac{1}{2}, \frac{1}{8}, \frac{5}{16}, 1, \frac{2}{3}, \frac{13}{16}, 0, \frac{5}{8}, \frac{5}{12}$  und  $\frac{1}{16}$ .

**Aufgabe 5:** Veranschauliche folgende Brüche jeweils an einem Rechteck:  $\frac{4}{5}, \frac{3}{7}, \frac{1}{9}, \frac{5}{7}$  und  $\frac{16}{16}$



**Aufgabe 6:** Veranschauliche folgende Brüche jeweils an einem Kreis:  $\frac{3}{4}, \frac{1}{3}, \frac{1}{8}, \frac{6}{12}$  und  $\frac{1}{16}$



**Aufgabe 7:**

a)  $\frac{1}{2} + \frac{1}{4} = \frac{3}{4}$     b)  $\frac{3}{7} + \frac{1}{14} = \frac{1}{2}$     c)  $\frac{2}{5} + \frac{3}{10} = \frac{7}{10}$   
 d)  $\frac{3}{8} + \frac{1}{2} = \frac{7}{8}$     e)  $\frac{1}{16} + \frac{3}{8} = \frac{11}{16}$     f)  $\frac{1}{3} + \frac{2}{9} = \frac{5}{9}$   
 g)  $\frac{1}{4} + \frac{3}{32} = \frac{11}{32}$     h)  $\frac{2}{5} + \frac{2}{15} = \frac{8}{15}$     i)  $\frac{2}{3} + \frac{1}{6} = \frac{5}{6}$

**Aufgabe 8:**

a)  $\frac{1}{2} - \frac{1}{4} = \frac{1}{4}$     b)  $\frac{3}{7} - \frac{1}{14} = \frac{5}{14}$     c)  $\frac{2}{5} - \frac{3}{10} = \frac{1}{10}$   
 d)  $\frac{1}{2} - \frac{3}{8} = \frac{1}{8}$     e)  $\frac{3}{8} - \frac{5}{16} = \frac{1}{16}$     f)  $\frac{1}{3} - \frac{2}{9} = \frac{1}{9}$   
 g)  $\frac{1}{4} - \frac{3}{32} = \frac{5}{32}$     h)  $\frac{2}{5} - \frac{2}{15} = \frac{4}{15}$     i)  $\frac{2}{3} - \frac{1}{6} = \frac{1}{2}$

**Aufgabe 9:**

a)  $\frac{5}{2} + \frac{3}{4} = \frac{13}{4}$     b)  $\frac{13}{7} - \frac{15}{14} = \frac{11}{14}$     c)  $\frac{9}{5} + \frac{13}{10} = \frac{32}{10}$   
 d)  $\frac{21}{2} - \frac{31}{8} = \frac{53}{8}$     e)  $\frac{9}{8} + \frac{19}{16} = \frac{37}{16}$     f)  $\frac{5}{3} - \frac{11}{9} = \frac{4}{9}$   
 g)  $\frac{7}{4} + \frac{67}{32} = \frac{123}{32}$     h)  $\frac{13}{5} - \frac{25}{15} = \frac{14}{15}$     i)  $\frac{13}{3} + \frac{11}{6} =$   
 j)  $\frac{1}{4} - \frac{3}{16} = \frac{1}{16}$     k)  $\frac{13}{4} - \frac{9}{6} = \frac{7}{4}$     l)  $\frac{9}{5} + \frac{3}{4} = \frac{51}{20}$   
 m)  $\frac{21}{4} - \frac{11}{8} = \frac{31}{8}$     n)  $\frac{3}{8} + \frac{9}{32} = \frac{21}{32}$     o)  $\frac{4}{3} - \frac{10}{9} = \frac{2}{9}$   
 p)  $\frac{7}{8} - \frac{11}{32} = \frac{17}{32}$     q)  $\frac{13}{5} - 2 = \frac{3}{5}$     r)  $14 + \frac{11}{6} = \frac{95}{6}$   
 s)  $\frac{1}{8} + \frac{9}{16} = \frac{11}{16}$     t)  $\frac{15}{6} - \frac{7}{3} = \frac{1}{6}$     u)  $\frac{9}{5} - \frac{3}{4} = \frac{21}{20}$   
 v)  $\frac{23}{4} + \frac{17}{8} = \frac{63}{8}$     w)  $\frac{7}{9} - \frac{11}{18} = \frac{5}{9}$     x)  $\frac{1}{10} - \frac{1}{1000} = \frac{99}{1000}$   
 y)  $\frac{5}{20} - \frac{1}{1000} = \frac{249}{1000}$     z)  $\frac{13}{15} + 6 = \frac{103}{15}$

**Aufgabe 10:**

a)  $\frac{1}{2} \cdot \frac{1}{4} = \frac{1}{8}$     b)  $\frac{3}{7} \cdot \frac{1}{14} = \frac{3}{98}$     c)  $\frac{2}{5} \cdot \frac{3}{10} = \frac{6}{50}$

$$\begin{array}{lll}
 d) \frac{3}{8} \cdot \frac{1}{2} = \frac{3}{16} & e) \frac{5}{16} \cdot \frac{3}{8} = \frac{15}{128} & f) \frac{1}{3} \cdot \frac{2}{9} = \frac{2}{27} \\
 g) \frac{1}{4} \cdot \frac{3}{32} = \frac{3}{128} & h) \frac{2}{5} \cdot \frac{2}{15} = \frac{4}{75} & i) \frac{2}{3} \cdot \frac{1}{6} = \frac{1}{9}
 \end{array}$$

**Aufgabe 11:**

$$\begin{array}{lll}
 a) \frac{1}{2} : \frac{1}{4} = 2 & b) \frac{3}{7} : \frac{1}{14} = 6 & c) \frac{2}{5} : \frac{3}{10} = \frac{4}{3} \\
 d) \frac{1}{2} : \frac{3}{8} = \frac{4}{3} & e) \frac{3}{8} : \frac{5}{16} = \frac{6}{5} & f) \frac{1}{3} : \frac{2}{9} = \frac{3}{2} \\
 g) \frac{1}{4} : \frac{3}{32} = \frac{8}{3} & h) \frac{2}{5} : \frac{2}{15} = 3 & i) \frac{2}{3} : \frac{1}{6} = 4
 \end{array}$$

**Aufgabe 12:**

$$\begin{array}{lll}
 a) \frac{5}{2} \cdot \frac{3}{4} = \frac{15}{8} & b) \frac{13}{7} \cdot \frac{15}{14} = \frac{195}{98} & c) \frac{9}{5} : \frac{13}{10} = \frac{18}{13} \\
 d) \frac{21}{2} \cdot \frac{31}{8} = \frac{651}{16} & e) \frac{9}{8} : \frac{19}{16} = \frac{18}{19} & f) \frac{5}{3} \cdot \frac{11}{9} = \frac{55}{27} \\
 g) \frac{7}{4} : \frac{67}{32} = \frac{56}{67} & h) \frac{13}{5} : \frac{25}{15} = \frac{39}{25} & i) \frac{13}{3} \cdot \frac{11}{6} = \frac{26}{11} \\
 j) \frac{1}{4} \cdot \frac{32}{16} = \frac{3}{64} & k) \frac{13}{4} : \frac{9}{6} = \frac{39}{2} & l) \frac{9}{5} : \frac{3}{4} = \frac{36}{15} \\
 m) \frac{21}{4} \cdot \frac{11}{8} = \frac{231}{32} & n) \frac{4}{3} : \frac{6}{32} = \frac{18}{3} & o) \frac{5}{4} \cdot \frac{10}{9} = \frac{40}{27} \\
 p) \frac{7}{8} : \frac{11}{32} = \frac{28}{11} & q) \frac{13}{5} : 2 = \frac{13}{10} & r) 14 \cdot \frac{11}{6} = \frac{77}{3} \\
 s) \frac{1}{8} \cdot \frac{9}{16} = \frac{9}{128} & t) \frac{15}{6} \cdot \frac{7}{3} = \frac{35}{2} & u) \frac{9}{5} : \frac{3}{4} = \frac{36}{15} \\
 v) \frac{23}{4} \cdot \frac{17}{8} = \frac{391}{32} & w) \frac{7}{9} \cdot \frac{11}{18} = \frac{77}{162} & x) \frac{1}{10} : \frac{1}{1000} = 100 \\
 y) \frac{5}{20} : \frac{1}{1000} = 250 & z) \frac{13}{15} \cdot 6 = \frac{26}{5}
 \end{array}$$

Zurück zu den Aufgaben durch folgenden Link: (2.1).

**14.3.3 Lösungen zu Dezimalzahlen****Aufgabe 1:**

$$\begin{array}{lll}
 a) \frac{1}{2} = 0,5 & b) \frac{1}{3} = 0, \bar{3} & c) \frac{1}{5} = 0,2 \\
 d) \frac{1}{8} = 0,125 & e) \frac{1}{4} = 0,25 & f) \frac{1}{16} = 0,0625 \\
 g) \frac{3}{4} = 0,75 & h) \frac{4}{5} = 0,8 & i) \frac{2}{3} = 0, \bar{6} \\
 j) \frac{6}{7} = 0, \overline{857142} & k) \frac{1}{12} = 0,08\bar{3} & l) \frac{19}{5} = 3,8 \\
 m) \frac{5}{9} = 0, \bar{5} & n) \frac{11}{6} = 1,8\bar{3} & o) \frac{5}{3} = 1, \bar{6} \\
 p) \frac{43}{5} = 8,6 & q) \frac{55}{2} = 27,5 & r) \frac{17}{8} = 2,125 \\
 s) \frac{67}{7} = 9, \overline{571428} & t) \frac{81}{3} = 27 & u) \frac{55}{7} = 7, \overline{857142} \\
 v) \frac{1}{10} = 0,1 & w) \frac{1}{100} = 0,01 & x) \frac{1}{1000} = 0,001
 \end{array}$$

**Aufgabe 2:**

$$\begin{array}{lll}
 a) 4 \cdot 0,1 = 0,4 & b) 1 + 0,75 = 1,75 & c) 9 \cdot 1,001 = 9,009 \\
 d) 2,125 - 1 = 1,125 & e) 6, \bar{6} + 3, \bar{3} = 10 & f) 1 + 0,0004 = 1,0004 \\
 g) 3,003 : 3 = 1,001 & h) 100 \cdot 1,001 = 100,1 & i) 1000 \cdot 0,001 = 1 \\
 j) 5, \bar{5} : 5 = 1, \bar{1} & k) 5 \cdot 0,1 + 0, \bar{3} = 0,8\bar{3} & l) 14 + 0, \bar{7} = 14, \bar{7}
 \end{array}$$

Zurück zu den Aufgaben durch folgenden Link: (2.2).

### 14.3.4 Lösungen zu Einsetzungsverfahren

**Aufgabe 1:**  $a = 3, b = 2, c = 4$

a)  $a + b - c = 3 + 2 - 4 = 1$

b)  $3a - 4b + c = 3 \cdot 3 - 4 \cdot 2 + 4 = 5$

c)  $ab - bc = 3 \cdot 2 - 2 \cdot 4 = -2$

d)  $ab - ba = 0$

e)  $4ab + 2cc - 3bc = 32$

f)  $4\frac{a}{b} + \frac{c}{a} = \frac{22}{3}$

g)  $2ab + 2ac + 2bc = 52$

h)  $a + d = 27$  mit:  $d = abc$

i)  $ad = -6$  mit:  $d = ab - cb$

j)  $\frac{a}{bd} = \frac{1}{24}$  mit:  $d = 4aa$

k)  $\frac{d}{a} - \frac{b}{d} = bc - \frac{1}{ac} = \frac{95}{12}$  mit:  $d = abc$

l)  $\frac{1}{d} = a = 3$  mit:  $d = \frac{1}{a}$

m)  $a + b\frac{d}{c} = a + b\frac{2ac-c}{bc} = a + 2a - 1 = 8$  mit:  $d = \frac{2ac-c}{b}$

Zurück zu den Aufgaben durch folgenden Link: (2.3).

### 14.3.5 Lösung zur Prozentrechnung

**Aufgabe 1:**

a)  $0,01 = 1\%$

b)  $100 = 10000\%$

c)  $0,5 = 50\%$

d)  $0,125 = 12,5\%$

e)  $0,0024 = 0,24\%$

f)  $289 = 2,89\%$

g)  $0,9315 = 93,15\%$

h)  $0,0341 = 3,41\%$

i)  $0,891 = 89,1\%$

**Aufgabe 2:**

a)  $1\% = 0,01$

b)  $100\% = 1$

c)  $54\% = 0,54$

d)  $1626\% = 16,26$

e)  $2,374\% = 0,02374$

f)  $2,01\% = 0,0201$

g)  $99\% = 0,99$

h)  $5\% = 0,05$

i)  $81,063\% = 0,81063$

**Aufgabe 3:**

a)  $\frac{1}{4} = 25\%$

b)  $\frac{1}{3} \approx 33,3\%$

c)  $\frac{5}{6} \approx 83,3\%$

d)  $\frac{9}{14} \approx 64,3\%$

e)  $\frac{8}{25} = 32\%$

f)  $\frac{1}{8} = 12,5\%$

g)  $\frac{7}{9} \approx 77,7\%$

h)  $\frac{9}{4} = 225\%$

i)  $\frac{43}{83} \approx 51,8\%$

**Aufgabe 4:**

a)  $700 \cdot 1\% = 7$

b)  $45 \cdot 100\% = 45$

c)  $200 \cdot 4\% = 8$

d)  $80 \cdot 25\% = 20$

e)  $1500 \cdot 2\% = 30$

f)  $50000 \cdot 3\% = 1500$

g)  $9000 \cdot 99\% = 8910$

h)  $3141 \cdot 0,1\% = 3,141$

i)  $120 \cdot 5\% = 6$

**Aufgabe 5:**

- a) 4% von 1000€ sind:  $4\% \cdot 1000\text{€} = 40\text{€}$   
 b) 2% von 5550€ sind:  $2\% \cdot 5550\text{€} = 111\text{€}$   
 c) 10% von 862434€ sind:  $10\% \cdot 862434\text{€} = 86243,4\text{€}$   
 d) 19% von 299€ sind:  $19\% \cdot 299\text{€} = 56,81\text{€}$   
 e) 12% von 1200€ sind:  $12\% \cdot 1200\text{€} = 144\text{€}$   
 f) 11% von 65300€ sind:  $11\% \cdot 65300\text{€} = 7183\text{€}$

Zurück zu den Aufgaben durch folgenden Link: (2.4).

**14.3.6 Lösungen zur Klammersetzung****Aufgabe 1:**

- a)  $\frac{1}{2}(9+7) = 8$       b)  $\frac{25+65}{10} = 9$   
 c)  $4(3+2) - 2(1+3) = 12$       d)  $\frac{16+48}{2} = 32$

**Aufgabe 2:**

- a)  $4(a+b) = 4a+4b$       b)  $c(a-5b) = ac-5bc$   
 c)  $\frac{2}{5}(9a-5) = \frac{18a}{5} - 10$       d)  $(a+b)(a+b) = aa+2ab+bb$   
 e)  $\frac{2}{5}\left(\frac{a}{b} - \frac{5c}{d}\right) = \frac{2a}{5b} - \frac{2c}{d}$       f)  $(a-b)(a-b) = aa-2ab+bb$   
 g)  $(a+b)(c+d) = ac+ad+bc+bd$       h)  $(a-b)(a+b) = aa-bb$   
 i)  $\frac{a+b}{c} = \frac{a}{c} + \frac{b}{c}$       j)  $\frac{(a+b)(a-b)}{a-b}(a+b) = a+2ab+bb$

**Aufgabe 3:**

- a)  $9a+9b = 9(a+b)$       b)  $2a+6-8b = 2(a+3-4b)$   
 c)  $ab-acd+aa = a(b-cd+a)$       d)  $2ab+4ab+8ab = 2ab(1+2+4)$   
 e)  $\frac{5a}{bc} + \frac{25}{bc} = \frac{5}{bc}(a+5)$       f)  $abcdefghijkl-bcdefghijk = bcdefghijk(al-1)$

Zurück zu den Aufgaben durch folgenden Link: (2.5.3).

**14.3.7 Lösungen zur Potenzen****Aufgabe 1:**

- a)  $2^3 = 8$       b)  $3^4 = 81$       c)  $2^6 = 64$   
 d)  $2^{-1} = \frac{1}{2}$       e)  $10^3 = 1000$       f)  $8^3 = 512$   
 g)  $4^{-3} = \frac{1}{64}$       h)  $10^{-6} = \frac{1}{1000000}$       i)  $\left(\frac{1}{6}\right)^2 = \frac{1}{36}$   
 j)  $(5^3)^2 = 3125$       k)  $4^{(3^2)} = 4096$       l)  $2^6 \cdot 2^2 = 256$   
 m)  $(2^3 + 2^3)^3 = 4096$       n)  $(10^2)^{-1} = \frac{1}{100}$       o)  $\left((2^6)^{-1}\right)^{-1} = 64$   
 p)  $\left(100^{\frac{1}{2}}\right)^2 = 100$       q)  $\left(3,141^{\frac{1}{2,718}}\right)^{2,718} = 3,141$       r)  $\left(\frac{1}{5^{-1}}\right)^3 = 125$

**Aufgabe 2:**

$$\begin{array}{lll}
 a) \sqrt{16} = 4 & b) \sqrt{81} = 9 & c) \sqrt[3]{8} = 2 \\
 d) \sqrt[3]{27} = 3 & e) \sqrt{144} = 12 & f) \sqrt[5]{100000} = 10 \\
 g) \sqrt{289} = 17 & h) \sqrt[4]{81} = 3 & i) \sqrt{\sqrt{\sqrt{\sqrt{2^{16}}}}} = 2
 \end{array}$$

**Aufgabe 3:**

$$\begin{array}{lll}
 a) 1m^2 = 10^4cm^2 & b) 2,718km = 2,718 \cdot 10^6mm & c) 1mm^3 = 10^6dm^3 \\
 d) 3m^3 = 3 \cdot 10^3dm^3 & e) 0,5cm^2 = 5 \cdot 10^{-5}m^2 & f) 13,3cm^3 = 133 \cdot 10^{-7}m^3 \\
 g) 10^3km^2 = 10^9dm^2 & h) 1,234dm = 123,4mm & i) \frac{15}{4}\mu m^2 = \frac{15}{4} \cdot 10^6mm^2 \\
 j) \frac{1}{3}Mm^3 = \frac{1}{3} \cdot 10^9km^3 & k) 0,01km^2 = 10^8cm^2 & l) 125mm^5 = 125 \cdot 10^{-5}cm^5 \\
 m) 6,6m^4 = 6,6 \cdot 10^8cm^4 & n) 0,025km^7 = 0,025 \cdot 10^{42}mm^7 & \\
 o) 3,141Tm^2 = 3,141 \cdot 10^{36}nm^2 & & 
 \end{array}$$

**Aufgabe 4:**

$$\begin{array}{ll}
 a) (a+4)^2 = a^2 + 8a + 16 & b) (a-\sqrt{2})^2 = a^2 - 2\sqrt{2}a + 2 \\
 c) (\sqrt{2}a+2)^4 = 4a^4 + 16\sqrt{2}a^3 + 48a^2 + 32\sqrt{2}a + 16 & \\
 d) (3a+\frac{2}{3})^3 = 27a^3 + 18a^2 + 4a + \frac{8}{27} & \\
 e) (a-b)^4 = a^4 - 4a^3b + 6a^2b^2 - 4ab^3 + b^4 & \\
 f) (a+b+c)^2 = a^2 + 2ab + b^2 + 2bc + c^2 + 2ac & 
 \end{array}$$

Zurück zu den Aufgaben durch folgenden Link: (2.6.3).

**14.3.8 Übungsaufgaben zu Logarithmen****Aufgabe 1:**

$$\begin{array}{lll}
 a) \log_2 16 = 4 & b) \lg 1000 = 3 & c) \log_8 64 = 2 \\
 d) \lg 512 = 9 & e) \ln e^9 = 9 & f) \log_5 125 = 3 \\
 g) \log_{25} 125 = \frac{3}{2} & h) \lg 11 \cdot 10^6 = 6 + \lg 11 \approx 7,04139 & i) \log_{17} 1 = 0 \\
 j) \log_3 81 = 4 & k) \log_4 64 = 3 & l) \log_{15} 225 = 2
 \end{array}$$

Zurück zu den Aufgaben durch folgenden Link: (2.7).

**14.3.9 Lösungen zur Äquivalenzumformung****Aufgabe 1:**

$$\begin{array}{ll}
 a) 3 \cdot x + 4 = 0 \Rightarrow x = -\frac{4}{3} & b) 2 \cdot x - 9 = 0 \Rightarrow x = \frac{9}{2} \\
 c) 9 \cdot x + 55 = 0 \Rightarrow x = -\frac{55}{9} & d) 5 \cdot x - 25 = 0 \Rightarrow x = 5 \\
 e) 3 \cdot x + 9 = 6 \Rightarrow x = -1 & f) x - 66 = 9 \Rightarrow x = 75 \\
 g) 4 \cdot x + 4 = 11 \Rightarrow x = \frac{7}{4} & h) 9 \cdot x - 5 = 4 \Rightarrow x = 1 \\
 i) 32 \cdot x + 3 = 5 \Rightarrow x = \frac{1}{16} & j) 1 \cdot x + 91 = 44 + x \cdot 23 \Rightarrow x = \frac{47}{22}
 \end{array}$$

$$k) 7 \cdot x + 14 = -3 \cdot x \Rightarrow x = -\frac{7}{5} \quad l) 98 \cdot x + 15 = 8 \cdot x + 10 \Rightarrow x = -\frac{1}{12}$$

Zurück zu den Aufgaben durch folgenden Link: (2.8.1).

### Aufgabe 2:

$$\begin{aligned} a) -16x^2 + 64 = 0 &\Rightarrow x_{1,2} = \pm 2 & b) \sqrt{2x-6} - 144 = 0 &\Rightarrow x = 9 \\ c) \frac{1}{\sqrt{x}} - 17 = 0 &\Rightarrow x = \frac{1}{289} & d) \ln 5x = 2 &\Rightarrow x = \frac{e^2}{5} \\ e) \ln \frac{13}{x} = \sqrt{2} &\Rightarrow x = e^{-\sqrt{2} + \ln 13} & f) \frac{16}{81}x^4 - \sqrt{25} = \log_9 1 &\Rightarrow x_{1,2} = \pm \frac{3}{2}\sqrt[4]{5} \\ g) \left(x^4 x^5 x^{\frac{1}{9}}\right)^2 = 49 &\Rightarrow x_{1,2} = \pm 7 & h) e^{2x-6} = 2 &\Rightarrow x = \frac{1}{2}(6 + \ln 2) = 3 + \ln \sqrt{2} \end{aligned}$$

### Aufgabe 3:

$$\begin{aligned} a) x^2 + 2x + 1 = 0 &\Rightarrow x_{1,2} = -1 \\ b) 4x^2 - 16x + 16 = 0 &\Rightarrow x_{1,2} = 4 \\ c) 3x^2 + 24x - 3 = 0 &\Rightarrow x_{1,2} = -4 \pm \sqrt{17} \\ d) 5x^2 - 20x = 50 &\Rightarrow x_{1,2} = -2 \pm \sqrt{14} \\ e) 2x^2 - 20x = 6 - 10x &\Rightarrow x_{1,2} = \frac{5 \pm \sqrt{37}}{2} \\ f) 7x = 8 - 3x^2 &\Rightarrow x_{1,2} = \frac{7 \pm \sqrt{145}}{6} \\ g) 3x^2 - 6x = 0 &\Rightarrow x_1 = 0 \wedge x_2 = 2 \\ h) x^2 - \frac{1}{2}x - \frac{1}{8} = 0 &\Rightarrow x_{1,2} = \frac{1 \pm \sqrt{3}}{4} \end{aligned}$$

## 14.3.10 Lösungen zur Substitution

### Aufgabe 1:

$$\begin{aligned} a) (x^2 + x + 1)^3 = 8 &\quad \text{mit: } y = x^2 + x + 1 \Rightarrow y^3 = 8 \\ b) (a + 4x)^{\frac{1}{2}} = 6b - c &\quad \text{mit: } y^2 = 4x + a \Rightarrow \sqrt{y^2} = 6b - c \\ c) (18x - 4ab)^2 = c &\quad \text{mit: } \sqrt{y} = 18x - 4ab \Rightarrow \sqrt{y^2} = c \\ d) 2^{2a-c} = 32 &\quad \text{mit: } b = 2a - c \Rightarrow 2^b = 32 \\ e) x = 4a &\quad \text{mit: } y = x + 4a \Rightarrow y + 4a = 4a \\ f) x^2 + 8x + 16 = 0 &\quad \text{mit: } (y + 4)^2 = x^2 + 8x + 16 \Rightarrow (y + 4)^2 = 0 \\ g) (3a + 2x)(2x - 3a) = 0 &\quad \text{mit: } y = 2x + 3a \Rightarrow y^2 - 6ya = 0 \\ h) \ln(x^2 + 4x) = 2 &\quad \text{mit: } y = x^2 + 4x \Rightarrow \ln y = 2 \end{aligned}$$

### Aufgabe 2:

$$\begin{aligned} a) x^3 + 4x^2 - x - 8 = 0 &\Rightarrow y - 8 = 0 \quad \text{mit: } y = x^3 + 4x^2 - x \\ b) \frac{x}{2} - \frac{2}{x} = 0 &\Rightarrow y - \frac{1}{y} = 0 \quad \text{mit: } y = \frac{x}{2} \\ c) \frac{x^2}{ab} + \frac{5}{ab} - 3 = 0 &\Rightarrow dx^2 + 5d - 3 = 0 \quad \text{mit: } d = \frac{1}{ab} \\ d) \frac{ax^2 + bx - c}{5} = 0 &\Rightarrow \frac{y}{5a} = 0 \quad \text{mit: } y = a(ax^2 + bx - c) \\ e) ax + bx + cx + xd + xe - f = 0 &\Rightarrow gx - f = 0 \quad \text{mit: } g = a + b + c + d + e \\ f) x^2 + 4x - 8 = 0 &\Rightarrow \left(\frac{y}{4} + 2\right)^2 = 0 \quad \text{mit: } y = 4x - 8 \end{aligned}$$

Zurück zu den Aufgaben durch folgenden Link: (2.9).



### 14.3.11 Lösungen zu Fakultäten

**Aufgabe 1:**

$$\begin{array}{lll} a) 5! = 120 & b) 3! = 6 & c) \frac{7!}{5!} = 120 \\ d) \frac{3!}{4!} \cdot 0! = \frac{1}{4} & e) \frac{(4b)!}{b!} = 24 & f) 4! \cdot 3! \cdot 2! = 288 \end{array}$$

**Aufgabe 1:**

$$\begin{array}{lll} a) \binom{2}{1} = 2 & b) \binom{8}{4} = 70 & c) \binom{5}{3} \cdot \binom{289}{0} = 10 \\ d) \binom{7}{2} = 21 & e) \binom{3}{1} = 3 & f) \binom{4}{2} \cdot \binom{3}{2} = 6 \cdot 3 = 18 \end{array}$$

Zurück zu den Aufgaben durch folgenden Link: (2.10).

# Implementierungsnotizen

Grundrechenarten