

Repetitorium der Mathematik

mit Beispielen aus der Physik

von

Martin Lommatzsch

13. September 2015

Vorwort

Dieses Repetitorium ist aus der Motivation entstanden den naturwissenschaftlichen Unterricht an Schulen für die Schüler zu erleichtern. Dazu werden in den ersten Kapiteln mathematische Grundlagen in Form von Vokabeln, Zahleneigenschaften, Rechenoperationen und Abkürzungen eingeführt. Da viele Schüler von der gesellschaftlichen Meinung, Mathematik und Naturwissenschaften seien schwer, zu Ausreden in der Leistung inspiriert werden, soll in diesem Buch explizit auf die Einfachheit der mathematischen Sprache hingewiesen werden. Dieser Trivialität gehen allerdings einige Dinge voraus, die dem durchschnittlichen Schüler erst nach seiner Schullaufbahn bewusst werden - das Mathematik vom Vokabular legt, da Wörter und ihre Abkürzungen eindeutige Bedeutungen erhalten, welche in anderen Sprachen, wie Deutsch oder Englisch, oftmals erst durch den Satz eine genauere Bedeutung erhalten. Auch soll dargestellt werden, dass es in der Mathematik im Vergleich zu anderen Sprachen keine Ausnahmen gibt.

Dieses Buch soll ein Leitfadens für den mathematischen Unterricht werden und als Wiederholungswerk für die naturwissenschaftlichen Fächer dienen. Aus diesem Grund wird sich dieses Werk ständig weiterentwickeln und dabei auf das Verständnis der Schüler ausgerichtet werden. Als Grundlage zum Verständnis dieses Buches soll der Umgang mit Zahlen und Grundrechenoperationen genügen, sodass es für jeden Schüler einer weiterführenden Schule geeignet ist. In diesem Buch wird schnell deutlich, dass das mathematische Verständnis stark verknüpft mit der korrekten Verwendung von definierten Begriffen ist. Deswegen sollte jeder Schüler angeregt werden die jeweiligen eingeführten Vokabeln zu verinnerlichen.

Zu jedem Abschnitt werden Übungsaufgaben existieren, welche mit den Lösungen im Anhang verglichen werden können. Die Aufgaben sind so gestellt, dass sie das Verständnis überprüfen und vertiefen. Deswegen ist es ratsam, wenn alle Aufgaben bearbeitet und erst danach mit den Lösungen verglichen werden. In der Geometrie werden auch Aufgaben zum Zeichnen von Körpern gestellt. In den Lösungen werden allerdings keine Lösungen zu diesen Zeichnungen vorhanden sind. Auch werden Aufgaben gestellt, die erst mit Wissen aus den nachfolgenden Kapiteln zu lösen sind. Diese Aufgaben sollten bearbeitet werden, wenn das Wissen mit dem Umgang der Abkürzungen oder Operatoren bekannt ist, um das schon bestehende Wissen zu reaktivieren und weiter zu vertiefen. Bei der Betrachtung der Unteraufgaben wird auffallen, dass die Unteraufgaben an Schwierigkeit gewinnen, sodass eine Binnendifferenzierung hierüber erlangt werden kann. Den Schülern besteht somit auch die Möglichkeit ihre Kompetenzen und Fähigkeiten auszureizen, sodass jeder Schüler gefordert und gefördert werden kann, da von jedem Schwierigkeitsgrad genügend Aufgaben vorhanden sein werden.

Alle Wörter die leicht *schräggestellt* sind, können im Anhang des Buches in einem mathematischen Wörterverzeichnis mit einer kurzen Erklärung nachgeschlagen werden. Der Abschnitt zum Nachschlagen der Wörter soll dem Schüler den Umgang mit der mathematischen Sprache erleichtern und auch aufzeigen, wie aufbauend die mathematische Sprache ist.

Zu Letzt sei angemerkt, dass in absehbarer Zeit wesentlich mehr Aufgaben mit Lösungen es in dieses Buch schaffen werden. Des Weiteren werden auch Aufgaben folgen, die Abschnitte voraussetzen, welche weiter hinten im Buch sind. Zu diesen Aufgaben werden Hinweise auf die betreffenden Abschnitte geliefert, sodass je nach Vorwissen auch komplexere Aufgaben bearbeitet werden können. Generell sollten die Schüler die Aufgaben mit den Rechenmethoden lösen wie es ihnen beliebt, da das Ergebnis das wichtigste an einer Rechnung ist. Folglich sind alle Rechenwege zugelassen, die keine Fehler beinhalten.

„Die Bildung kommt nicht vom Lesen, sondern vom Nachdenken über das Gelesene.“

-CARL HILTY

„Gebildet ist der Mensch, der die höchsten Ergebnisse des Geistes in physiologische Reflexe umformt.“

-NICOLÁS GÓMEZ DÁVILA

Besonderen Dank gebührt den Menschen, die bei der Erstellung dieses Buches geholfen haben.

Inhaltsverzeichnis

1 Mengen	8
2 Algebraische Grundlagen	15
2.1 Grundrechenarten	15
2.2 Bruchrechnung	21
2.3 Brüche als Dezimalzahlen	33
2.4 Einsetzungsverfahren	38
2.5 Prozentrechnung	41
2.6 Negative Zahlen	46
2.7 Assoziativ und Kommutativ	49
2.8 Potenzen	55
2.9 Logarithmen	62
2.10 Äquivalenzumformung	64
2.11 Substitution	70
2.12 Gleichungssysteme	72
2.13 Fakultäten und Binominalkoeffizienten	76
2.14 Gemischte Algebraaufgaben	78
3 Geometrie	82
3.1 Zahlenstrahl	82
3.2 Winkel	86
3.3 Strahlensatz	92
3.4 Rechteck	94
3.5 Dreieck	97
3.6 Symmetrien und Spiegelungen	108
3.7 Spezielle Vierecke	112
3.8 Mehrdimensionale Vielecke	120
3.9 Kreis	133
3.10 Zylinder und Kegel	140
3.11 Kugeln	145
3.12 Tangenten und Sekanten	149
3.13 Zirkelkonstruktionen	150
3.14 Gemischte Geometrieaufgaben	151
4 Trigonometrie	152
4.1 Gemischte Trigonometrieaufgaben	157
5 Funktionen	160
5.1 Wertetabellen und Punkte	163

5.2	Geraden	168
5.3	Stufenfunktionen	176
5.4	Parabeln	179
5.5	Umkehrfunktionen	186
5.6	Hyperbeln	189
5.7	Grenzwerte	192
5.8	Polynomfunktionen	195
5.9	Reihen	198
5.10	Gebrochen rationale Funktionen	201
5.11	Trigonometrische Funktionen	205
5.12	Trigonometrische Identitäten	207
5.13	Exponentialfunktion	210
5.14	Gemischte Funktionenaufgaben	215
6	Differentiation und Integration	219
6.1	Operatoralgebra	219
6.2	Ableitungsregeln	225
6.3	Integration	230
6.4	Integrationsregeln	236
6.5	Partielle und totale Differentiation	240
6.6	Kurvendiskussion	244
6.7	Rotationskörper	256
6.8	Taylorentwicklung	259
6.9	Differentialgleichungen 1. Ordnung	261
6.10	Differentialgleichungen 2. Ordnung	264
6.11	Distributionen	267
6.12	Gemischte Aufgaben zu Analysis	269
7	Wahrscheinlichkeitsrechnung	270
7.1	Permutationen	277
7.2	Verteilungen	280
8	Komplexe Zahlen	282
9	Vektoren	283
9.1	Eigenschaften von Vektoren	283
9.2	Spatprodukt	283
9.3	Matrizen und Tensoren	283
9.4	Vektoranalysis	283
10	Fehlerrechnung	284
10.1	Standardabweichungen	284
10.2	Lineare Regression	284
10.3	Fehlerfortpflanzung	284
11	Physikalische Anwendungen	285
11.1	Lagrange Formalismus	285
11.2	Fourier-Reihe	285
11.3	Ellipse und Ellipsoid	285

12 Ökonomische Anwendungen	286
13 Anhang	287
13.1 Alphabete	287
13.2 Pascal'sches Dreieck	288
13.3 10er Potenzen	289
13.4 Geometrische Eigenschaften von Körpern	290
13.5 Wichtige Brüche als Dezimalzahlen	291
13.6 Lösungen	292
14 Glossar	370

1 Mengen

Zahlen können in verschiedene Kategorien, sogenannte *Mengen*, eingeordnet werden. Dabei bilden die sogenannten *natürlichen Zahlen* die Basis aller anderen Zahlenmengen, die in der Schule besprochen werden. Die natürlichen Zahlen werden durch das Symbol \mathbb{N} beschrieben und beinhalten Zahlen wie $0, 1, 2, 3, 4, 5, 6, 7, 8, 9, 10, \dots$. Die mathematische Schreibweise dazu wäre: $\mathbb{N} = \{0, 1, 2, \dots\}$, wobei in den geschweiften Klammern $\{\}$ alle Zahlen aufgelistet werden, die zur *Zahlenmenge* gehören. Oftmals werden die *natürlichen Zahlen* auch ohne Null verwendet und werden im Folgenden als \mathbb{N}^+ bezeichnet. Die erste Erweiterung der *natürlichen Zahlen* \mathbb{N} sind die *ganzen Zahlen* $\mathbb{Z} = \{\dots, -2, -1, 0, 1, 2, \dots\}$. Bei genauem Betrachten fällt auf, dass die *natürlichen Zahlen* \mathbb{N} eine *Teilmenge* der ganzen Zahlen \mathbb{Z} sind, was mit dem *Mengenoperator* \subset („ist Teilmenge von“) wie folgt geschrieben wird:

$$\mathbb{N} \subset \mathbb{Z} \tag{1.1}$$

Die Folgen der Einführung der *ganzen Zahlen* sind gravierend, da die *Subtraktion* damit an Wichtigkeit verliert, da zum Beispiel aus $-1 = +(-1)$ wird.

Die Erweiterung der ganzen Zahlen \mathbb{Z} sind alle Zahlen, die durch *Brüche* dargestellt werden können. Diese Zahlen werden *rationale Zahlen* $\mathbb{Q} = \{\dots, -2, -\frac{3}{2}, -1, -\frac{1}{2}, 0, \frac{1}{7}, 1, 2, \frac{34}{15}, \dots\}$ genannt.

$$\mathbb{N} \subset \mathbb{Z} \subset \mathbb{Q} \tag{1.2}$$

Aber es gibt auch noch Zahlen, die nicht durch einen Bruch dargestellt werden können. Diese werden *reelle Zahlen* \mathbb{R} genannt und beherbergen Zahlen wie zum Beispiel π , $\sqrt{2}$ und $\sqrt{3}$. Die letzte Erweiterung der Zahlenmengen wird durch die Zahl $i = \sqrt{-1}$ gegeben und führt somit die *komplexen Zahlen* ein \mathbb{C} . *Komplexe Zahlen* werden in der Regel nicht an Schulen besprochen, dennoch hat ihre Einführung einige Vorteile beim Beschreiben von Zusammenhängen im Bereich der *Analysis*¹.

$$\mathbb{N} \subset \mathbb{Z} \subset \mathbb{Q} \subset \mathbb{R} \subset \mathbb{C} \tag{1.3}$$

Es ist möglich *Teilmengen* aufzustellen, dazu werden bestimmte *Mengenoperatoren* wie \subset verwendet. Sei die Menge $\mathbb{M} = \{1, 2, 3, 4\}$ und die Menge $\mathbb{K} = \{3, 4, 5, 6\}$ gegeben, dann existieren folgende *Mengenoperationen*:

¹Die *Analysis* ist eines der großen Teilgebiete der Mathematik neben der *Algebra*. Der Begriff rührt von analysieren her.

Die *Vereinigung* \cup , welche wie folgt dargestellt wird:

$$\mathbb{M} \cup \mathbb{K} = \{1, 2, 3, 4, 5, 6\} \quad \text{Vereinigung von } \mathbb{M} \text{ mit } \mathbb{K} \quad (1.4)$$

Die *Vereinigung* wird auch gelesen als „Alle Zahlen, die sich in \mathbb{M} oder \mathbb{K} befinden“, damit ist gemeint, dass alle Zahlen der ersten *Menge* \mathbb{M} und alle Zahlen der zweiten *Menge* \mathbb{K} eine neue *Menge* bilden in der alle Zahlen aus der *Menge* \mathbb{M} und der *Menge* \mathbb{K} vorkommen. Das mathematische „oder“ ist anders zu gebrauchen als das „oder“ im normalen Sprachgebrauch, da es in der Sprache im Zusammenhang betrachtet werden muss, während es immer die selbe Vorgehensweise in der Mathematik fordert.

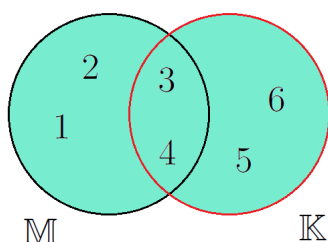


Abbildung 1.1: *Vereinigung* von zwei *Mengen*. Schwarz ist die *Menge* \mathbb{M} und rot die *Menge* \mathbb{K} umrandet. Die Zahlen in der ausgefüllte *Fläche* bildet die *Vereinigung* der beiden *Mengen*.

Die Abbildung (1.1) zeigt wie in der *Menge* \mathbb{M} die Zahlen 1, 2, 3 und 4 und in der *Menge* \mathbb{K} die Zahlen 3, 4, 5 und 6 enthalten sind, da $\mathbb{M} = \{1, 2, 3, 4\}$ und $\mathbb{K} = \{3, 4, 5, 6\}$.

Eine weitere *Mengenoperation* ist der sogenannte *Durchschnitt* \cap :

$$\mathbb{M} \cap \mathbb{K} = \{3, 4\} \quad \text{Durchschnitt von } \mathbb{M} \text{ und } \mathbb{K} \quad (1.5)$$

Der *Durchschnitt* wird gelesen als „Alle Zahlen, die sich in \mathbb{M} und \mathbb{K} befinden“. Auch hier ist zu unterscheiden zwischen dem mathematischen und sprachlichen „und“.

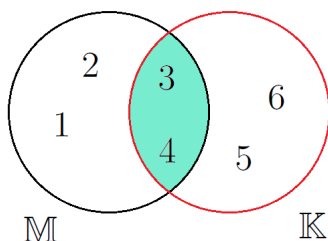


Abbildung 1.2: *Durchschnitt* von zwei *Mengen*. Schwarz ist die *Menge* \mathbb{M} und rot die *Menge* \mathbb{K} umrandet. Die Zahlen in der ausgefüllte *Fläche* bildet den *Durchschnitt* der beiden *Mengen*.

Die Abbildung (1.2) zeigt, was sich hinter dem mathematischen logischen *Operator* „und“ verbirgt. Der *Durchschnitt* ist gegeben als alle Zahlen einer *Menge*, die auch in der anderen *Menge*

vorhanden sind. Somit sind nur die 3 und die 4 in diesem Fall in der resultierenden *Durchschnittsmenge*.

Die letzte wichtige *Mengenoperation* ist die *Differenz* \setminus :

$$\mathbb{M} \setminus \mathbb{K} = \{1, 2\} \quad \text{Differenz von } \mathbb{M} \text{ und } \mathbb{K} \quad (1.6)$$

Dabei wird die *Differenz* gelesen als „Alle Zahlen von \mathbb{M} ohne die Zahlen aus \mathbb{K} “. Grafisch veranschaulicht würde dies wie folgt aussehen:

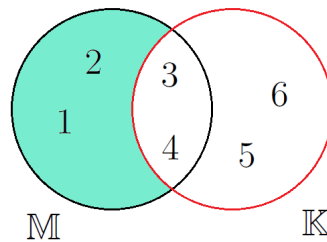


Abbildung 1.3: *Differenz* von \mathbb{M} ohne \mathbb{K} . Schwarz ist die *Menge* \mathbb{M} und rot die *Menge* \mathbb{K} umrandet. Die Zahlen in der ausgefüllte *Fläche* bildet die *Menge*, welche alle Zahlen beinhaltet aus \mathbb{M} allerdings ohne die Zahlen, die in der *Menge* \mathbb{K} enthalten sind.

Deutlich zu erkennen ist, dass die Zahlen, welche in beiden *Mengen* \mathbb{M} und \mathbb{K} vorkommen nicht Teil der resultierenden *Menge* sind. Außerdem wird deutlich, dass die resultierende *Menge* sich unterscheidet wenn die *Mengen* bei dieser *Operation* umdrehen würde.

$$\mathbb{K} \setminus \mathbb{M} = \{5, 6\} \quad \text{Differenz von } \mathbb{K} \text{ und } \mathbb{M} \quad (1.7)$$

Diese Umkehrung der *Mengen* bei der *Operation* hätte ein vollkommen anderes Ergebnis, wie auch in der folgenden Abbildung zu sehen ist.

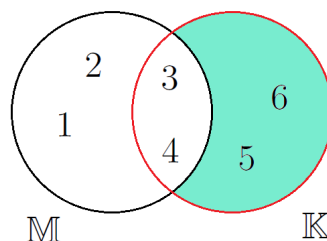


Abbildung 1.4: *Differenz* von \mathbb{K} ohne \mathbb{M} . Schwarz ist die *Menge* \mathbb{M} und rot die *Menge* \mathbb{K} umrandet. Die Zahlen in der ausgefüllte *Fläche* bildet die *Menge*, welche alle Zahlen beinhaltet aus \mathbb{K} allerdings ohne die Zahlen, die in der *Menge* \mathbb{M} enthalten sind.

Es wird deutlich, dass bei der *Differenz* von *Mengen* \setminus die Reihenfolge entscheidender Natur ist, während sich der *Durchschnitt* und die *Vereinigung* nicht verändern würden.

Nun da alle wichtigen *Mengenoperationen* eingeführt wurden, werden noch einige wichtige mathematische Abkürzungen eingeführt, welche zur Beschreibung einer *Menge* des Öfteren von Nöten sein. Diese Abkürzungen können als Vokabeln angesehen werden, welche jeder Schüler beherrschen sollte.

Wenn eine Zahl ein *Element* einer *Zahlenmenge* ist, dann wird dies mathematisch geschrieben als:

$$4 \in \mathbb{N} \quad (1.8)$$

Weitere wichtige Abkürzungen der Mathematik werden nun aufgelistet und im Folgenden verwendet.

\forall	für alle gilt	
\exists	es existiert	
$\exists!$	es existiert genau ein	
\wedge	und	
\vee	oder	
\neg	nicht	
$:=$	definiert als	
\parallel	parallel zu	
\perp	orthogonal (senkrecht) zu	(1.9)
\sphericalangle	Winkel zwischen	
\emptyset	leere Menge	
\Rightarrow	daraus folgt	
$<$	kleiner als	
$>$	größer als	
$\stackrel{!}{=}$	setze gleich	
$\stackrel{\wedge}{=}$	entspricht	

So würde der Satz „Die Menge \mathbb{M} beinhaltet alle Zahlen x , die die Bedingung erfüllen, dass sie *Element* der *reellen Zahlen* sind und dass es genau ein Zahl e gibt durch die man die Zahl x teilen kann, sodass 1 dabei heraus kommt.“ mathematisch so aussehen:

$$\mathbb{M} = \left\{ x \mid x \in \mathbb{R} \wedge \exists! e \forall x \mid \frac{x}{e} = 1 \right\} \quad (1.10)$$

Mittels dieser Abkürzungen ist es möglich eine *Zahlenmenge* einzuführen, welche von besonderer Bedeutung ist - die *Primzahlen*. Also die Zahlen die nur durch selbst oder durch Eins teilbar sind. Diese *Zahlenmenge* kann wie folgt definiert werden:

$$\mathbb{P} = \left\{ p \in \mathbb{N} \mid \nexists \frac{p}{n} \in \mathbb{N} \forall n \neq \{1, p\} \right\} \quad (1.11)$$

1.0.1 Übungsaufgaben zu Mengen

Aufgaben mit Zahlen, die noch unbekannt sind, können vorerst ausgelassen werden. Allerdings sollten diese nach der jeweiligen Einführung nachgeholt werden.

Aufgabe 1: Bestimme die kleinste Zahlenmengen (\mathbb{N} , \mathbb{Z} und \mathbb{Q}) zu denen die jeweiligen Zahlen gehören.

- | | | | |
|-----------------------|-----------------------|----------------|--------------------|
| a) $4 \in$ | b) $-1 \in$ | c) $9 \in$ | d) $0,45 \in$ |
| e) $\frac{1}{2} \in$ | f) $-6 \in$ | g) $4,75 \in$ | h) $0,\bar{3} \in$ |
| i) $\frac{1}{81} \in$ | j) $-\frac{3}{7} \in$ | k) $3 \in$ | l) $0,125 \in$ |
| m) $0,01 \in$ | n) $\frac{1}{11} \in$ | o) $3,141 \in$ | p) $-0,75 \in$ |

Aufgabe 2: Bestimme die kleinste Zahlenmengen (\mathbb{N} , \mathbb{Z} , \mathbb{Q} und \mathbb{R}) zu denen die jeweiligen Zahlen gehören.

- | | | | |
|-----------------------------|--------------------|------------------------------|-----------------------|
| a) $0,\bar{6} \in$ | b) $-\sqrt{4} \in$ | c) $0 \in$ | d) $\sqrt{3} \in$ |
| e) $\frac{7}{8} \in$ | f) $\sqrt{13} \in$ | g) $\frac{2}{\sqrt{16}} \in$ | h) $1\% \in$ |
| i) $\frac{1}{\sqrt{5}} \in$ | j) $-42 \in$ | k) $\sqrt{144} \in$ | l) $\frac{16}{2} \in$ |
| m) $5,01 \in$ | n) $17 \in$ | o) $1,1\bar{6} \in$ | p) $-\sqrt{64} \in$ |

Aufgabe 3: Bestimme die kleinste Zahlenmengen (\mathbb{N} , \mathbb{Z} , \mathbb{Q} und \mathbb{R}) zu denen die jeweiligen Zahlen gehören.

- | | | | |
|------------------------|-------------------------------|--------------------|---------------------------|
| a) $\lg 10 \in$ | b) $\sqrt{9} \in$ | c) $-7 \in$ | d) $\pi \in$ |
| e) $\frac{e^2}{2} \in$ | f) $-\frac{1}{6} \in$ | g) $1 \in$ | h) $0,597813553 \in$ |
| i) $\ln 2 \in$ | j) $-e^{\ln \frac{1}{3}} \in$ | k) $\log_3 9 \in$ | l) $0,1 \in$ |
| m) $28\% \in$ | n) $\frac{\pi}{4} \in$ | o) $\sqrt{17} \in$ | p) $-\frac{1}{\ln e} \in$ |

Aufgabe 4: Bestimme die Vereinigung, den Durchschnitt und jede mögliche Differenz der jeweiligen Mengen.

- | | |
|----------------------------------|---------------------------------|
| a) $M = \{1, 5, 6, 9\}$ | und: $K = \{3, 4, 6, 8\}$ |
| b) $M = \{1, 2, 3, 4, 5, 6, 7\}$ | und: $K = \{1, 2, 3, 5, 7\}$ |
| c) $M = \{5, 7, 9, 11\}$ | und: $K = \{4, 6, 8, 10\}$ |
| d) $M = \{2, 3, 5, 6, 8\}$ | und: $K = \{1, 2, 4, 5, 7, 8\}$ |
| e) $M = \{3, 6, 9\}$ | und: $K = \{2, 3, 5, 6, 8\}$ |
| f) $M = \{1, 3, 5, 7, 9\}$ | und: $K = \{3, 4, 5, 6, 7\}$ |

Aufgabe 5: Bestimme mit den Mengen $M = \{1, 2, 3, 6\}$, $L = \{4, 5, 7, 9\}$ und $K = \{3, 4, 6, 8, 9\}$ die jeweils resultierenden Mengen. (Tipp: Rechne die Klammern immer zu erst.)

- a) $(M \cap K) \cap L =$
 b) $(M \setminus L) \cup (M \setminus K) =$
 c) $(K \setminus L) \cap (M \setminus K) =$
 d) $(K \cap L) \cup (M \cap K) =$
 e) $(L \cup K) \setminus (M \cup K) =$
 f) $(L \cup K) \cap (M \setminus K) =$
 g) $(L \cup K) \setminus (L \cap K) := L \Delta K =$
 h) $M \Delta K =$

Aufgabe 6: Bestimme $M \Delta K$ wie in Aufgabe 5 definiert und zeichne wie in den Abbildungen (1.1) bis (1.4) und kennzeichne die Fläche der resultierenden Menge. Hierbei soll $M = \{1, 3, 4, 5, 6, 7, 9\}$ und $K = \{0, 2, 4, 5, 6, 8\}$ sein.

Aufgabe 7: Bestimme mit den Mengen $M = \{1, 2, 3\}$ und $K = \{\} = \emptyset$ die jeweils resultierenden Mengen.

- a) $M \cap K =$
 b) $M \cup K =$
 c) $M \setminus K =$

Die Lösungen zu diesem Abschnitt finden sich im Anhang im Abschnitt (13.6.1) Lösungen zu Mengen.

2 Algebraische Grundlagen

Um den naturwissenschaftlichen Unterricht und mathematischen Erklärungen besser folgen zu können, müssen die Begrifflichkeiten der *Algebra* geklärt werden. Dazu werden im Laufe dieses Kapitels die wichtigsten mathematischen Vokabeln, Abkürzungen und Rechenvorschriften erläutert.

2.1 Grundrechenarten

In diesem Abschnitt sollen zunächst die Begrifflichkeiten der Grundrechenarten und ihre schriftlichen Rechenverfahren erklärt werden. Dazu wird zunächst ein Beispiel betrachtet, um die Art dieser Rechnung zu verdeutlichen. Anschließend wird anhand eines weiteren Beispiels die Rechenvorschrift in ihrer schriftlichen Anwendung beschrieben.

- *Addition*: Die *Addition* ist die wichtigste Grundrechenart. Mit ihr werden Zahlen zusammengezählt, was immer durch den *Additionsoperator* $+$ beschrieben wird. Das Ergebnis, die sogenannte *Summe*, wird immer auf der anderen Seite eines Gleichheitszeichen $=$ geschrieben.

$$2 + 4 = 6 \tag{2.1}$$

Im Beispiel aus Gleichung (2.1) ist zu sehen, dass die Zwei mit der Vier zusammengezählt wurde, wie es der *Additionsoperator* $+$ (gesprochen „plus“) gefordert hat. Für größere Zahlen lohnt sich eine Schreibweise, die die Zahlen, die addiert werden sollen, untereinander schreibt. Dabei wird das Ergebnis unter einem Strich ausgerechnet.

$$\begin{array}{r} 1337 \\ +4265 \\ \hline 11 \\ \hline 5062 \end{array} \tag{2.2}$$

Bei dieser Art der Schreibweise, werden die Zahlen die untereinander stehen einzeln *addiert*. Dabei wird immer bei den hintersten Zahlen begonnen. Wenn die *addierte* Zahl höher ist als Neun, dann wird die Eins der Zehn zur nächsten Zahlenspalte hinzugezählt. Diese Eins wird auch oft Merkeins genannt und ist in der Beispielrechnung rot eingefärbt. Der Vorteil dieser Schreibweise ist es, dass niemals höhere Zahlen als 9 und 9 *addiert*

werden können. Folglich benötigt der Schüler nur ein sehr gutes Zahlenverständnis von der Zahl 0 bis 18 um jegliche Additionsaufgabe zu lösen. Falls mehr als zwei *Summanden* (im Beispiel sind 1337 und 4265 die *Summanden*) vorkommen ist es immer erlaubt in einer Nebenrechnung zunächst nur zwei *Summanden* zu *addieren* um dann anschließend die *Summe* der ersten beiden *Summanden* mit der nächsten *Summanden* zu verrechnen.

- *Subtaktion*: Die *Subtraktion* ist das Gegenteil der *Addition* und wird durch den *Subtraktionsoperator* – (gesprochen „minus“) beschrieben.

$$5 - 2 = 3 \tag{2.3}$$

Wie die Gleichung (2.3) zeigt, wird von der Zahl 5, dem sogenannten *Minuend*, die Zahl 2, dem *Subtrahend*, abgezogen. Das Ergebnis wird dabei *Differenz* genannt. Wie schon bei der *Addition* lohnt sich die Schreibweise, in der alle Zahlen untereinander aufgeführt werden.

$$\begin{array}{r} 6337 \\ -4265 \\ \hline 1 \\ \hline 2072 \end{array} \tag{2.4}$$

Auch bei der *Subtraktion* werden die Zahlen startend von hinten bearbeitet. Dabei kann die Zahl des *Subtrahenden* größer sein als die des *Minuenden*, wie in der zweiten Zahlenspalte. Hierbei ist die Zahl 6 statt von der 3 von der 13 zu subtrahieren. Die dazu geschriebene Zehn muss anschließend von der nächsten Zahlenspalte abgezogen werden, was durch die Merkeins in rot wieder symbolisiert wird. Auch bei der *Subtraktion* kann es vorkommen, dass mehrere *Subtrahenden* vorzufinden sind. Dabei sind zwei Arten von Nebenrechnungen zulässig: Die erste Variante sieht vor, dass die *Subtrahenden* nacheinander vom *Minuenden* *subtrahiert* werden, während die zweite Variante vorsieht, dass die *Subtrahenden* *addiert* werden und anschließend die *Summe* der *Subtrahenden* vom *Minuend* abgezogen werden.

Beim schriftlichen *Subtrahieren* kann maximal die Zahl 9 als *Subtrahend* der einzelnen Spalten auftauchen. Somit ist die größte Zahl von der abgezogen werden kann die 18. Folglich braucht der Schüler lediglich ein gutes Zahlenverständnis bei der *Subtraktion* von den Zahlen 0 bis 18.

- *Multiplikation*: Die *Multiplikation* ist die erste abkürzende Schreibweise, die ein der Schule eingeführt wird. Dabei wird die Rechnung $3 + 3 + 3 + 3$ abgekürzt zu $4 \cdot 3$, also vier mal die Drei, was durch den *Multiplikationsoperator* \cdot beschrieben wird. Die schriftliche *Multiplikation* sieht Zahlen von 0 bis $9 \cdot 9 = 81$ vor, da auch hier die einzelnen *Ziffern* der Zahl nacheinander bearbeitet werden.

$$\begin{array}{r}
 1337 \cdot 23 \\
 \hline
 2674 \\
 + 3011 \\
 \hline
 29751
 \end{array}
 \tag{2.5}$$

Aus der Gleichung (2.5) ist zu erkennen, dass die Zwei auf die Zahl 7 wirkt und danach auf die 3. Dabei wird die Zehn der Rechnung $2 \cdot 7 = 14$ mit zur nächsten Ziffer von rechts gezählt. Das Ergebnis wird so notiert, dass die am weitest stehende *Ziffer* direkt unter der betrachteten Zahl steht (im Beispiel unter der 2). Anschließend wird dies mit der nächsten *Ziffer*, hier die Drei, wiederholt. Die untereinander geschriebenen Zahlen werden dann *addiert*, sodass sich das Ergebnis, das sogenannte *Produkt*, dann ergibt. Die Zahlen die *multipliziert* werden heißen dabei *Faktoren*.

- *Division*: Die *Division* stellt die umkehrende Frage der *Multiplikation*: „Wie oft passt die Zahl in die andere Zahl?“. Da es sich um die Umkehrung der *Multiplikation* handelt sollten auch wiederum alle Zahlen von 0 bis 81 beherrscht werden.

$$\begin{array}{r}
 2 \ 43 \ 69 : 3 = 08123 \\
 -0 \\
 \hline
 2 \ 4 \\
 -2 \ 4 \\
 \hline
 03 \\
 - 3 \\
 \hline
 06 \\
 - 6 \\
 \hline
 09 \\
 - 9 \\
 \hline
 0
 \end{array}
 \tag{2.6}$$

Bei der schriftlichen *Division* wird zunächst gefragt „Wie oft passt der *Divisor* (3) in die erste *Ziffer* des *Dividenden* (2)?“ Die Antwort wäre „Null mal“ und somit ist die Null die erste *Ziffer* des Ergebnisses, dem sogenannten *Quotienten*. Anschließend wird die gefundene *Ziffer* des *Quotienten* mit dem *Divisor* *multipliziert* und das Ergebnis dieser Rechnung von der ersten *Ziffer* *subtrahiert*. Dann wird die nächste *Ziffer* zur Betrachtung mit nach unten gezogen (im Beispiel die Zahl 4) und nun die sich danach immer wiederholende Frage „Wie

oft passt der *Divisor* in diese Zahl?“ gestellt. Die Antwort wird beim Ergebnis notiert (im Beispiel 8) und diese *Ziffer* des *Quotienten* dann wieder *multipliziert* mit dem *Divisor* von der besagten Zahl *subtrahiert* und anschließend die nächste *Ziffer* des *Dividenden* zur Betrachtung nach unten gezogen. Dieses Prozedur wiederholt sich solange bis alle Zahlen betrachtet wurden.

Bei höheren Zahlen im *Divisor* lohnt es sich diesen in zwei Zahlen zu zerlegen. So kann zum Beispiel der *Divisor* 72 in zwei *Divisoren* 8 und 9 zerlegt werden. Dann muss zu erst durch eine Zahl *dividiert* werden und anschließend der *Quotient* aus der ersten *Division* durch die zweite Zahl *dividiert* werden. Da die *Division* mit am zeitaufwendigsten ist, wird später die Bruchrechnung eingeführt, welche eine *Division* bis zum Ergebnis hin herauszögern kann.

Die mathematischen Vokabeln der Grundrechenarten sind in der folgenden Tabelle noch einmal zusammen gefasst.

Rechenart	1. Teil	Rechenoperator	2. Teil	Ergebnis
Addition	Summand	+	Summand	= Summe
Subtraktion	Minuend	-	Subtrahend	= Differenz
Multiplikation	Faktor	·	Faktor	= Produkt
Division	Dividend	:	Divisor	= Quotient
Division (als Bruch)	Zähler	/	Nenner	= Quotient

Generell gilt, dass die Rechnungen der *Multiplikation* und die der *Division* immer vor jeglicher *Addition* oder *Subtraktion* durchgeführt werden müssen (Punkt- vor Strichrechnung)!

Durch die Einführung der *ganzen Zahlen* \mathbb{Z} werden die Begriffe der *Subtraktion* nicht länger benötigt, da ein *Summand* oder sogar beide *Summanden* negativ sein können, sodass die *Addition* mit *ganzen Zahlen* \mathbb{Z} die Verallgemeinerung von *Addition* und *Subtraktion* der *natürlichen Zahlen* \mathbb{N} ist. Auch die *Divisionsbegriffe* werden nur noch im Sinne der Bruchrechnung verwendet.

2.1.1 Übungsaufgaben zu Grundrechenarten

Aufgabe 1: *Berechne das Ergebnis schriftlich.*

a) $3821 + 1347 =$	b) $5962 + 8912 =$	c) $2512 + 3246 =$	d) $2353 + 4636 =$
e) $4462 + 9543 =$	f) $4156 + 3737 =$	g) $9948 + 5499 =$	h) $4784 + 8377 =$
i) $9745 + 3726 =$	j) $3269 + 9289 =$	k) $4577 + 6201 =$	l) $5031 + 5768 =$
m) $5465 + 1202 =$	n) $8415 + 2560 =$	o) $8762 + 7355 =$	p) $7437 + 1221 =$
q) $4578 + 7377 =$	r) $5786 + 4532 =$	s) $1057 + 7800 =$	t) $4204 + 4621 =$
u) $9424 + 8054 =$	v) $4438 + 4575 =$	w) $7873 + 9724 =$	x) $3432 + 7387 =$

Aufgabe 2: *Berechne das Ergebnis schriftlich.*

a) $3821 - 1347 =$	b) $5962 - 1912 =$	c) $4512 - 3246 =$	d) $9353 - 4636 =$
e) $4462 - 2543 =$	f) $4156 - 3737 =$	g) $9948 - 5499 =$	h) $4784 - 3377 =$
i) $9745 - 3726 =$	j) $7269 - 3289 =$	k) $6201 - 4513 =$	l) $5931 - 5768 =$
m) $5465 - 1202 =$	n) $8415 - 2560 =$	o) $8762 - 7355 =$	p) $7437 - 1221 =$
q) $8578 - 7377 =$	r) $5786 - 4532 =$	s) $9057 - 7800 =$	t) $7204 - 4621 =$
u) $9424 - 8054 =$	v) $7838 - 4575 =$	w) $9873 - 9724 =$	x) $8432 - 7387 =$

Aufgabe 3: *Berechne das Ergebnis schriftlich.*

a) $3821 \cdot 1347 =$	b) $5962 \cdot 1912 =$	c) $4512 \cdot 3246 =$	d) $9353 \cdot 4636 =$
e) $4462 \cdot 2543 =$	f) $4156 \cdot 3737 =$	g) $9948 \cdot 5499 =$	h) $4784 \cdot 3377 =$
i) $9745 \cdot 3726 =$	j) $7269 \cdot 3289 =$	k) $6201 \cdot 4513 =$	l) $5931 \cdot 5768 =$
m) $5465 \cdot 1202 =$	n) $8415 \cdot 2560 =$	o) $8762 \cdot 7355 =$	p) $7437 \cdot 1221 =$
q) $8578 \cdot 7377 =$	r) $5786 \cdot 4532 =$	s) $9057 \cdot 7800 =$	t) $7204 \cdot 4621 =$
u) $9424 \cdot 8054 =$	v) $7838 \cdot 4575 =$	w) $9873 \cdot 9724 =$	x) $8432 \cdot 7387 =$

Aufgabe 4: *Berechne das Ergebnis schriftlich.*

- | | | | |
|------------------|------------------|------------------|------------------|
| a) $7095 : 3 =$ | b) $2568 : 6 =$ | c) $4512 : 2 =$ | d) $5033 : 7 =$ |
| e) $7389 : 9 =$ | f) $9475 : 5 =$ | g) $9872 : 8 =$ | h) $6024 : 8 =$ |
| i) $9416 : 4 =$ | j) $7273 : 7 =$ | k) $7587 : 9 =$ | l) $3682 : 7 =$ |
| m) $7578 : 3 =$ | n) $6738 : 2 =$ | o) $8638 : 7 =$ | p) $8464 : 8 =$ |
| q) $8231 : 1 =$ | r) $4755 : 5 =$ | s) $6024 : 8 =$ | t) $5112 : 6 =$ |
| u) $6840 : 15 =$ | v) $9468 : 12 =$ | w) $7704 : 24 =$ | x) $5904 : 16 =$ |

Aufgabe 5: *Berechne das Ergebnis schriftlich.*

- | | |
|---|---|
| a) $3821 + 1347 \cdot 43 =$ | b) $4525 - 2070 : 6 =$ |
| c) $8124 + 1347 - 4371 =$ | d) $7124 - 2070 + 1392 =$ |
| e) $4284 : 2 + 1347 \cdot 43 =$ | f) $8285 : 5 - 5256 : 8 =$ |
| g) $3482 \cdot 3 - 7432 : 4 =$ | h) $8285 \cdot 8 : 5 - 5256 + 4361 =$ |
| i) $1288 \cdot 2 \cdot 4 + 5416 : 4 : 2 =$ | j) $4265 \cdot 3 - 3236 \cdot 2 + 1454 \cdot 4 =$ |
| k) $822 \cdot 9 \cdot 6 : 3 - 632 \cdot 11 : 2 =$ | l) $4265 : 5 + 6438 : 6 + 17848 : 8 =$ |

Aufgabe 6: *Berechne das Ergebnis schriftlich.*

- a) $1203 + 6799 + 5684 + 2156 + 9852 =$
b) $9982 - 595 - 651 - 3197 - 1637 =$
c) $11 \cdot 4 \cdot 6 \cdot 7 \cdot 3 =$
d) $1587 + 9613 + 9477 + 2674 + 2987 =$
e) $8745 - 2971 - 841 - 1052 - 681 =$
f) $5 \cdot 2 \cdot 4 \cdot 9 \cdot 7 =$
g) $8461 + 5625 + 1098 + 6950 + 8509 =$
h) $7894 - 412 - 753 - 951 - 456 =$
i) $12 \cdot 3 \cdot 5 \cdot 10 \cdot 9 =$

Die Lösungen zu diesem Abschnitt finden sich im Anhang im Abschnitt (13.6.2) Lösungen zur Bruchrechnen.

2.2 Bruchrechnung

Wie bereits in Kapitel 1 erwähnt stellen alle Zahlen, die durch einen *Bruch* dargestellt werden, die *Zahlenmenge* der *rationalen Zahlen* \mathbb{Q} dar. Mit jeder *Zahlenmenge* sind alle Rechenoperationen zulässig.

Ein *Bruch* setzt sich aus seinem *Nenner*, der definiert in wie viele gleichgroße Teile ein Ganzes unterteilt wird, und den *Zähler*, der beschreibt wie viele Teile vom *Nenner* tatsächlich vorzufinden sind

($\text{Bruch} = \frac{\text{Zähler}}{\text{Nenner}}$). Mittels *Brüchen* kann man die gleiche Zahl auf verschiedene Arten darstellen, so ist $\frac{1}{2}$ das Gleiche wie $\frac{2}{4}$. Wenn der *Nenner* erhöht wird spricht man vom *Erweitern*. Bei einer Verkleinerung des *Nenners* wird vom *Kürzen* gesprochen.

Beim *Erweitern* werden *Zähler* und *Nenner* mit der Zahl *multipliziert* mit der man den *Bruch* erweitern möchte. Im folgenden Beispiel wird der *Bruch* im ersten Schritt mit zwei und danach mit vier *erweitert*.

$$\frac{1}{2} = \frac{2}{4} = \frac{8}{16} \quad (2.7)$$

Beim *Kürzen* werden *Zähler* und *Nenner* durch die Zahl *dividiert* mit der man den *Bruch* kürzen möchte. Im folgenden Beispiel wird der *Bruch* im ersten Schritt mit zwei und danach mit acht *erweitert*.

$$\frac{16}{32} = \frac{8}{16} = \frac{1}{2} \quad (2.8)$$

Bei der *Addition* beziehungsweise der *Subtraktion* von *Brüchen* müssen die *Nenner* der beteiligten *Brüche* so *erweitert* oder *gekürzt* werden, dass sie gleich sind. Dann können die *Zähler* verrechnet werden. Um immer einen gemeinsamen *Nenner* zu finden, kann man den ersten *Bruch* mit dem *Nenner* des zweiten *Bruch* und den zweiten *Bruch* mit dem *Nenner* des ersten *Bruchs* erweitern (wie im Subtraktionsbeispiel gezeigt).

$$\begin{aligned} \frac{1}{4} + \frac{1}{2} &= \frac{1}{4} + \frac{1 \cdot 2}{2 \cdot 2} = \frac{1}{4} + \frac{2}{4} = \frac{1+2}{4} = \frac{3}{4} \\ \frac{3}{4} - \frac{1}{6} &= \frac{3 \cdot 6}{4 \cdot 6} - \frac{1 \cdot 4}{6 \cdot 4} = \frac{18}{24} - \frac{4}{24} = \frac{18-4}{24} = \frac{14}{24} = \frac{7}{12} \end{aligned} \quad (2.9)$$

Bei der *Multiplikation* von *Brüchen*, werden die *Nenner* miteinander *multipliziert* und bilden so den neuen *Nenner*. Auch die *Zähler* werden miteinander *multipliziert*.

$$\frac{1}{4} \cdot \frac{1}{2} = \frac{1 \cdot 1}{4 \cdot 2} = \frac{1}{8} \quad (2.10)$$

Bei der *Division* muss man mit dem *Kehrwert*, also der Vertauschung von *Nenner* und *Zähler* des *Divisors*, *multiplizieren*.

$$\frac{1}{4} : \frac{1}{2} = \frac{1}{4} \cdot \frac{2}{1} = \frac{1 \cdot 2}{4 \cdot 1} = \frac{2}{4} = \frac{1}{2} \quad (2.11)$$

Ferner gilt bei Berücksichtigung von *Parametern* oder *Variablen*:

$$\begin{array}{ll} \frac{a}{b} = \frac{a}{b} \cdot 1 = \frac{a}{b} \cdot \frac{n}{n} = \frac{a \cdot n}{b \cdot n} & \text{Erweitern} \\ \frac{a \cdot n}{b \cdot n} = \frac{a}{b} \cdot \frac{n}{n} = \frac{a}{b} \cdot 1 = \frac{a}{b} & \text{Kürzen} \\ \frac{a}{b} + \frac{c}{d} = \frac{a \cdot d}{b \cdot d} + \frac{c \cdot b}{d \cdot b} = \frac{a \cdot d + c \cdot b}{d \cdot b} & \text{Addition} \\ \frac{a}{b} - \frac{c}{d} = \frac{a \cdot d}{b \cdot d} - \frac{c \cdot b}{d \cdot b} = \frac{a \cdot d - c \cdot b}{d \cdot b} & \text{Subtraktion} \\ \frac{a}{b} \cdot \frac{c}{d} = \frac{a \cdot c}{d \cdot b} & \text{Multiplikation} \\ \frac{a}{b} : \frac{c}{d} = \frac{a}{b} \cdot \frac{d}{c} = \frac{a \cdot d}{c \cdot b} & \text{Division} \end{array} \quad (2.12)$$

Im den folgenden Abschnitten wird der Malpunkt zwischen einer Zahl und einem *Parameter* beziehungsweise einer *Variablen* oder zwischen *Parametern* beziehungsweise *Variablen* selbst nicht mehr notiert, es sei denn dieser ist zum Verständnis von besonderer Bedeutung. Aus diesem Grund soll auch auf die Schreibweise für *gemischte Brüche* vollständig verzichtet werden, da in dieser Schreibweise $\frac{13}{6} = 2\frac{1}{6} = 2 + \frac{1}{6}$ das *Additionszeichen* eingespart wird. Sobald das *Multiplikationszeichen* durch eine Konvention im Unterricht fallen gelassen wird, würde es zu Verwirrungen und Missverständnissen kommen, sodass entweder $2\frac{1}{6} = 2 + \frac{1}{6}$ oder $2\frac{1}{6} = 2 \cdot \frac{1}{6}$ gilt. Dieses *Buch* orientiert sich an der Konvention, welche in der höheren Mathematik verwendet wird. Deswegen sollte auf die Schreibweise von gemischten *Brüchen* vollständig verzichtet werden und ausschließlich nur eine einzige Konvention - die des Weglassens des *Multiplikationsoperators* - verwendet werden.

Zur Bruchrechnung ist anzumerken, dass es nicht möglich ist durch die Zahl Null zu *dividieren*. Diese Rechenoperation würde jeder Logik widersprechen und ist damit in der Mathematik nicht vorgesehen. Es existieren Beschreibungen, welche sich damit beschäftigen was in der unmittelbaren Umgebung dieser nicht definierten Rechenoperation geschieht und welche im Abschnitt „Grenzwerte“ und „Komplexe Zahlen“ vorgestellt werden.

2.2.1 Übungsaufgaben zur Bruchrechnung

Aufgabe 1: Welcher Bruch ist größer? Trage die richtigen Zeichen (gleich =, größer als > und kleiner als <) zwischen den Brüchen ein.

$$\begin{array}{l} a) \frac{1}{2} \quad \frac{1}{4} \\ d) \frac{3}{8} \quad \frac{1}{2} \\ g) \frac{4}{16} \quad \frac{1}{4} \\ j) \frac{2}{3} \quad \frac{7}{8} \\ m) \frac{3}{8} \quad \frac{1}{3} \\ p) \frac{2}{5} \quad \frac{3}{8} \\ s) \frac{3}{8} \quad \frac{24}{64} \end{array}$$

$$\begin{array}{l} b) \frac{1}{3} \quad \frac{3}{4} \\ e) \frac{5}{6} \quad \frac{3}{4} \\ h) \frac{2}{5} \quad \frac{7}{15} \\ k) \frac{6}{7} \quad \frac{3}{4} \\ n) \frac{5}{9} \quad \frac{3}{7} \\ q) \frac{3}{2} \quad \frac{5}{3} \\ t) \frac{81}{9} \quad \frac{36}{4} \end{array}$$

$$\begin{array}{l} c) \frac{2}{5} \quad \frac{4}{10} \\ f) \frac{1}{3} \quad \frac{3}{9} \\ i) \frac{2}{3} \quad \frac{3}{6} \\ l) \frac{4}{5} \quad \frac{16}{20} \\ o) \frac{5}{25} \quad \frac{1}{5} \\ r) \frac{14}{8} \quad \frac{16}{9} \\ u) \frac{55}{5} \quad \frac{131}{11} \end{array}$$

Aufgabe 2: Kürze die Brüche bis man sie nicht weiter kürzen kann.

$$\begin{array}{l} a) \frac{8}{16} = \\ d) \frac{6}{24} = \\ g) \frac{75}{125} = \\ j) \frac{16}{48} = \\ m) \frac{12}{96} = \\ p) \frac{33}{3} = \\ s) \frac{24}{72} = \end{array}$$

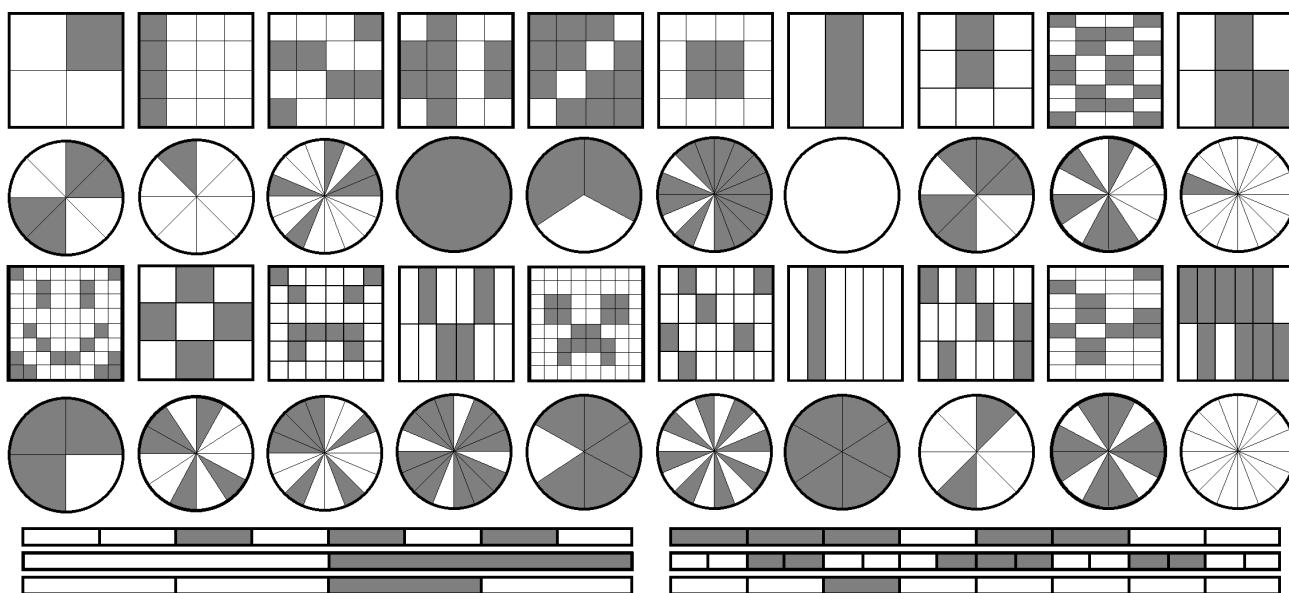
$$\begin{array}{l} b) \frac{6}{14} = \\ e) \frac{48}{64} = \\ h) \frac{30}{75} = \\ k) \frac{6}{18} = \\ n) \frac{16}{64} = \\ q) \frac{54}{72} = \\ t) \frac{36}{66} = \end{array}$$

$$\begin{array}{l} c) \frac{9}{15} = \\ f) \frac{12}{144} = \\ i) \frac{72}{108} = \\ l) \frac{24}{8} = \\ o) \frac{48}{144} = \\ r) \frac{5000}{10000} = \\ u) \frac{63}{108} = \end{array}$$


Aufgabe 3: *Erweitere die Brüche mit der angegebenen Zahl.*

- | | | | | | |
|------------------|---------|-------------------|--------|-------------------|-----------|
| a) $\frac{3}{4}$ | mit: 9 | b) $\frac{5}{7}$ | mit: 7 | c) $\frac{1}{12}$ | mit: 8 |
| d) $\frac{1}{2}$ | mit: 24 | e) $\frac{7}{8}$ | mit: 6 | f) $\frac{4}{6}$ | mit: 11 |
| g) $\frac{5}{7}$ | mit: 8 | h) $\frac{5}{13}$ | mit: 9 | i) $\frac{4}{11}$ | mit: 7 |
| j) $\frac{7}{4}$ | mit: 9 | k) $\frac{6}{11}$ | mit: 5 | l) $\frac{3}{12}$ | mit: 4 |
| m) $\frac{2}{3}$ | mit: 21 | n) $\frac{7}{8}$ | mit: 3 | o) $\frac{4}{6}$ | mit: 13 |
| p) $\frac{3}{9}$ | mit: 8 | q) $\frac{5}{12}$ | mit: 6 | r) $\frac{7}{12}$ | mit: 7 |
| s) $\frac{3}{4}$ | mit: 17 | t) $\frac{5}{6}$ | mit: 4 | u) $\frac{13}{6}$ | mit: 1000 |


Aufgabe 4: *Bestimme Nenner und Zähler des jeweiligen dargestellten Bruchs. (Es ist der jeweilige graue Anteil gefragt.)*




Aufgabe 5: Veranschauliche folgende Brüche jeweils an einem Rechteck: $\frac{4}{5}$, $\frac{3}{7}$, $\frac{1}{9}$, $\frac{5}{7}$ und $\frac{16}{16}$



Aufgabe 6: Veranschauliche folgende Brüche jeweils an einem Rechteck: $\frac{1}{2}$, $\frac{5}{6}$, $\frac{11}{12}$, $\frac{4}{5}$, $\frac{3}{8}$, $\frac{2}{9}$, $\frac{13}{16}$, $\frac{6}{11}$, $\frac{8}{9}$ und $\frac{3}{7}$



Aufgabe 7: Veranschauliche folgende Brüche jeweils an einem Kreis: $\frac{3}{4}$, $\frac{1}{3}$, $\frac{1}{8}$, $\frac{6}{12}$ und $\frac{1}{16}$



Aufgabe 8: *Addiere die folgenden Brüche!*

a) $\frac{2}{4} + \frac{1}{4} =$

b) $\frac{3}{8} + \frac{2}{8} =$

c) $\frac{7}{12} + \frac{4}{12} =$

d) $\frac{25}{9} + \frac{43}{9} =$

e) $\frac{7}{3} + \frac{1}{3} =$

f) $\frac{7}{11} + \frac{14}{11} =$

g) $\frac{6}{32} + \frac{5}{32} =$

h) $\frac{33}{9} + \frac{29}{9} =$

i) $\frac{83}{39} + \frac{23}{39} =$

Aufgabe 9: *Addiere die folgenden Brüche!*

a) $\frac{1}{2} + \frac{1}{4} =$

b) $\frac{3}{7} + \frac{1}{14} =$

c) $\frac{2}{5} + \frac{3}{10} =$

d) $\frac{3}{8} + \frac{1}{2} =$

e) $\frac{5}{16} + \frac{3}{8} =$

f) $\frac{1}{3} + \frac{2}{9} =$

g) $\frac{1}{4} + \frac{3}{32} =$

h) $\frac{2}{5} + \frac{2}{15} =$

i) $\frac{2}{3} + \frac{1}{6} =$

Aufgabe 10: *Subtrahiere die folgenden Brüche!*

a) $\frac{7}{2} - \frac{4}{2} =$

b) $\frac{9}{8} - \frac{4}{8} =$

c) $\frac{12}{9} - \frac{5}{9} =$

d) $\frac{31}{5} - \frac{23}{5} =$

e) $\frac{6}{17} - \frac{5}{17} =$

f) $\frac{8}{13} - \frac{2}{13} =$

g) $\frac{86}{23} - \frac{45}{23} =$

h) $\frac{55}{19} - \frac{21}{19} =$

i) $\frac{65}{83} - \frac{15}{83} =$

Aufgabe 11: *Subtrahiere die folgenden Brüche!*

a) $\frac{1}{2} - \frac{1}{4} =$

b) $\frac{3}{7} - \frac{1}{14} =$

c) $\frac{2}{5} - \frac{3}{10} =$

d) $\frac{1}{2} - \frac{3}{8} =$

e) $\frac{3}{8} - \frac{5}{16} =$

f) $\frac{1}{3} - \frac{2}{9} =$

g) $\frac{1}{4} - \frac{3}{32} =$

h) $\frac{2}{5} - \frac{2}{15} =$

i) $\frac{2}{3} - \frac{1}{6} =$

Aufgabe 12: *Addiere beziehungsweise subtrahiere die folgenden Brüche!*

a) $\frac{5}{2} + \frac{3}{4} =$

d) $\frac{21}{2} - \frac{31}{8} =$

g) $\frac{7}{4} + \frac{67}{32} =$

j) $\frac{1}{4} - \frac{3}{16} =$

m) $\frac{21}{4} - \frac{11}{8} =$

p) $\frac{7}{8} - \frac{11}{32} =$

s) $\frac{1}{8} + \frac{9}{16} =$

v) $\frac{23}{4} + \frac{17}{8} =$

y) $\frac{5}{20} - \frac{1}{1000} =$

b) $\frac{13}{7} - \frac{15}{14} =$

e) $\frac{9}{8} + \frac{19}{16} =$

h) $\frac{13}{5} - \frac{25}{15} =$

k) $\frac{13}{4} - \frac{9}{6} =$

n) $\frac{3}{8} + \frac{9}{32} =$

q) $\frac{13}{5} - 2 =$

t) $\frac{15}{6} - \frac{7}{3} =$

w) $\frac{7}{9} - \frac{11}{18} =$

z) $\frac{13}{15} + 6 =$

c) $\frac{9}{5} + \frac{13}{10} =$

f) $\frac{5}{3} - \frac{11}{9} =$

i) $\frac{13}{3} + \frac{11}{6} =$

l) $\frac{9}{5} + \frac{3}{4} =$

o) $\frac{4}{3} - \frac{10}{9} =$

r) $14 + \frac{11}{6} =$

u) $\frac{9}{5} - \frac{3}{4} =$

x) $\frac{1}{10} - \frac{1}{1000} =$

Aufgabe 13: *Multipliziere die folgenden Brüche!*

a) $\frac{1}{2} \cdot \frac{1}{4} =$

d) $\frac{3}{8} \cdot \frac{1}{2} =$

g) $\frac{1}{4} \cdot \frac{3}{32} =$

j) $\frac{2}{9} \cdot \frac{4}{6} =$

m) $\frac{2}{7} \cdot \frac{9}{4} =$

p) $\frac{5}{6} \cdot \frac{6}{13} =$

s) $\frac{9}{4} \cdot \frac{2}{5} =$

v) $\frac{2}{8} \cdot \frac{6}{11} =$

b) $\frac{3}{7} \cdot \frac{1}{14} =$

e) $\frac{5}{16} \cdot \frac{3}{8} =$

h) $\frac{2}{5} \cdot \frac{2}{15} =$

k) $\frac{6}{5} \cdot \frac{5}{2} =$

n) $\frac{2}{12} \cdot \frac{4}{5} =$

q) $\frac{2}{8} \cdot \frac{8}{20} =$

t) $\frac{9}{15} \cdot \frac{7}{5} =$

w) $\frac{0}{1} \cdot \frac{6}{83} =$

c) $\frac{2}{5} \cdot \frac{3}{10} =$

f) $\frac{1}{3} \cdot \frac{2}{9} =$

i) $\frac{2}{3} \cdot \frac{1}{6} =$

l) $\frac{9}{7} \cdot \frac{10}{11} =$

o) $\frac{2}{9} \cdot \frac{8}{3} =$

r) $\frac{1}{4} \cdot \frac{5}{2} =$

u) $\frac{7}{9} \cdot \frac{9}{4} =$

x) $\frac{5}{4} \cdot \frac{32}{50} =$

Aufgabe 14: *Dividiere die folgenden Brüche!*

a) $\frac{1}{2} : \frac{1}{4} =$

d) $\frac{1}{2} : \frac{3}{8} =$

g) $\frac{1}{4} : \frac{3}{32} =$

j) $\frac{2}{9} : \frac{4}{6} =$

m) $\frac{2}{7} : \frac{9}{4} =$

p) $\frac{5}{6} : \frac{6}{13} =$

s) $\frac{9}{4} : \frac{2}{5} =$

v) $\frac{2}{8} : \frac{6}{11} =$

b) $\frac{3}{7} : \frac{1}{14} =$

e) $\frac{3}{8} : \frac{5}{16} =$

h) $\frac{2}{5} : \frac{2}{15} =$

k) $\frac{6}{5} : \frac{5}{2} =$

n) $\frac{2}{12} : \frac{4}{5} =$

q) $\frac{2}{8} : \frac{8}{20} =$

t) $\frac{9}{15} : \frac{7}{5} =$

w) $\frac{0}{1} : \frac{6}{83} =$

c) $\frac{2}{5} : \frac{3}{10} =$

f) $\frac{1}{3} : \frac{2}{9} =$

i) $\frac{2}{3} : \frac{1}{6} =$

l) $\frac{9}{7} : \frac{10}{11} =$

o) $\frac{2}{9} : \frac{8}{3} =$

r) $\frac{1}{4} : \frac{5}{2} =$

u) $\frac{7}{9} : \frac{9}{4} =$

x) $\frac{5}{4} : \frac{32}{50} =$

Aufgabe 15: *Multipliziere beziehungsweise dividiere die folgenden Brüche!*

a) $\frac{5}{2} \cdot \frac{3}{4} =$

d) $\frac{21}{2} \cdot \frac{31}{8} =$

g) $\frac{7}{4} : \frac{67}{32} =$

j) $\frac{1}{4} \cdot \frac{3}{16} =$

m) $\frac{21}{4} \cdot \frac{11}{8} =$

p) $\frac{7}{8} : \frac{11}{32} =$

s) $\frac{1}{8} \cdot \frac{9}{16} =$

v) $\frac{23}{4} \cdot \frac{17}{8} =$

y) $\frac{5}{20} : \frac{1}{1000} =$

b) $\frac{13}{7} \cdot \frac{15}{14} =$

e) $\frac{9}{8} : \frac{19}{16} =$

h) $\frac{13}{5} : \frac{25}{15} =$

k) $\frac{13}{4} : \frac{9}{6} =$

n) $\frac{3}{8} : \frac{9}{32} =$

q) $\frac{13}{5} : 2 =$

t) $\frac{15}{6} \cdot \frac{7}{3} =$

w) $\frac{7}{9} \cdot \frac{11}{18} =$

z) $\frac{13}{15} \cdot 6 =$

c) $\frac{9}{5} : \frac{13}{10} =$

f) $\frac{5}{3} \cdot \frac{11}{9} =$

i) $\frac{13}{3} \cdot \frac{11}{6} =$

l) $\frac{9}{5} : \frac{3}{4} =$

o) $\frac{4}{3} \cdot \frac{10}{9} =$

r) $14 \cdot \frac{11}{6} =$

u) $\frac{9}{5} : \frac{3}{4} =$

x) $\frac{1}{10} : \frac{1}{1000} =$

Aufgabe 16: Welcher Bruch liegt genau in der Mitte zwischen den angegebenen Brüchen.

a) $\frac{3}{2}$ und $\frac{7}{2}$

b) $\frac{1}{7}$ und $\frac{5}{7}$

c) $\frac{2}{5}$ und $\frac{3}{5}$

d) $\frac{2}{9}$ und $\frac{1}{2}$

e) $\frac{4}{5}$ und $\frac{5}{12}$

f) $\frac{2}{11}$ und $\frac{5}{6}$

g) $\frac{1}{12}$ und $\frac{3}{4}$

h) $\frac{13}{5}$ und $\frac{5}{17}$

i) $\frac{7}{13}$ und $\frac{8}{9}$

j) $\frac{7}{8}$ und $\frac{2}{5}$

k) $\frac{5}{16}$ und 8

l) $\frac{3}{10}$ und $\frac{5}{9}$

m) $\frac{4}{11}$ und $\frac{5}{7}$

n) $\frac{24}{5}$ und $\frac{23}{10}$

o) $\frac{4}{21}$ und $\frac{8}{29}$

Aufgabe 17: Addiere beziehungsweise subtrahiere die folgenden Brüchen!

a) $\frac{1}{3} + \frac{1}{2} + \frac{1}{4} =$

b) $\frac{8}{3} - \frac{3}{4} + \frac{2}{5} =$

c) $\frac{11}{2} - \frac{7}{6} + \frac{3}{8} =$

d) $\frac{4}{5} + \frac{7}{3} + \frac{2}{9} =$

e) $\frac{1}{4} + \frac{5}{6} + \frac{7}{4} =$

f) $\frac{21}{5} - \frac{8}{7} + \frac{2}{3} =$

g) $\frac{2}{5} - \frac{1}{4} + \frac{2}{3} =$

h) $\frac{8}{5} - \frac{3}{7} + \frac{3}{8} =$

i) $\frac{8}{7} - \frac{1}{9} + \frac{7}{5} =$

j) $\frac{7}{8} + \frac{4}{3} + \frac{3}{10} =$

k) $\frac{3}{5} - \frac{2}{7} + \frac{3}{4} =$

l) $\frac{10}{7} - \frac{1}{5} + \frac{5}{9} =$

m) $\frac{14}{5} + \frac{2}{9} + \frac{1}{3} =$

n) $\frac{11}{3} - \frac{8}{9} + \frac{7}{10} =$

o) $\frac{9}{2} + \frac{9}{5} + \frac{7}{4} =$

p) $\frac{2}{7} - \frac{1}{9} + \frac{3}{8} =$

q) $\frac{4}{3} - \frac{2}{3} + \frac{5}{2} =$

r) $\frac{4}{5} + \frac{9}{4} + \frac{3}{7} =$

s) $\frac{8}{3} - \frac{7}{8} + \frac{6}{5} =$

t) $\frac{6}{5} + \frac{11}{3} - 2 =$

u) $\frac{12}{5} - \frac{3}{7} + \frac{11}{9} =$

v) $\frac{8}{9} + \frac{3}{2} + 5 =$

w) $\frac{6}{5} - \frac{3}{4} + \frac{7}{6} =$

x) $\frac{5}{9} + \frac{13}{4} - 3 =$

y) $\frac{11}{2} - \frac{7}{4} + \frac{8}{5} =$

z) $\frac{5}{12} + \frac{7}{11} + 9 =$

Aufgabe 18: *Multipliziere beziehungsweise dividiere die folgenden Brüche!*

$$a) \frac{1}{3} \cdot \frac{1}{2} \cdot \frac{1}{4} =$$

$$c) \frac{11}{2} \cdot \frac{7}{6} \cdot \frac{3}{8} =$$

$$e) \frac{1}{4} \cdot \frac{5}{6} \cdot \frac{7}{4} =$$

$$g) \frac{2}{5} \cdot \frac{1}{4} \cdot \frac{2}{3} =$$

$$i) \frac{8}{7} \cdot \frac{1}{9} \cdot \frac{7}{5} =$$

$$k) \frac{3}{5} \cdot \frac{2}{7} \cdot \frac{3}{4} =$$

$$m) \frac{14}{5} \cdot \frac{2}{9} \cdot \frac{1}{3} =$$

$$o) \frac{9}{2} \cdot \frac{9}{5} \cdot \frac{7}{4} =$$

$$q) \frac{4}{3} \cdot \frac{2}{3} \cdot \frac{5}{2} =$$

$$s) \frac{8}{3} \cdot \frac{7}{8} \cdot \frac{6}{5} =$$

$$u) \frac{12}{5} \cdot \frac{3}{7} \cdot \frac{11}{9} =$$

$$w) \frac{6}{5} \cdot \frac{3}{4} \cdot \frac{7}{6} =$$

$$y) \frac{11}{2} \cdot \frac{7}{4} \cdot \frac{8}{5} =$$

$$b) \frac{8}{3} \cdot \frac{3}{4} \cdot \frac{2}{5} =$$

$$d) \frac{4}{5} \cdot \frac{7}{3} \cdot \frac{2}{9} =$$

$$f) \frac{21}{5} \cdot \frac{8}{7} \cdot \frac{2}{3} =$$

$$h) \frac{8}{5} \cdot \frac{3}{7} \cdot \frac{3}{8} =$$

$$j) \frac{7}{8} \cdot \frac{4}{3} \cdot \frac{3}{10} =$$

$$l) \frac{10}{7} \cdot \frac{1}{5} \cdot \frac{5}{9} =$$

$$n) \frac{11}{3} \cdot \frac{8}{9} \cdot \frac{7}{10} =$$

$$p) \frac{2}{7} \cdot \frac{1}{9} \cdot \frac{3}{8} =$$

$$r) \frac{4}{5} \cdot \frac{9}{4} \cdot \frac{3}{7} =$$

$$t) \frac{6}{5} \cdot \frac{11}{3} \cdot 2 =$$

$$v) \frac{8}{9} \cdot \frac{3}{2} \cdot 5 =$$

$$x) \frac{5}{9} \cdot \frac{13}{4} \cdot 3 =$$

$$z) \frac{5}{12} \cdot \frac{7}{11} \cdot 9 =$$

Aufgabe 19: *Berechne das Ergebnis.*

$$a) \frac{3}{2} + \frac{7}{3} - \frac{1}{6} =$$

$$c) \frac{7}{6} : 2 \cdot \frac{11}{3} - \frac{47}{36} =$$

$$e) 6 \cdot \frac{5}{6} \cdot \frac{4}{7} : \frac{1}{10} =$$

$$g) \frac{4}{7} \cdot \frac{3}{4} \cdot \frac{7}{8} \cdot \frac{8}{11} \cdot \frac{11}{3} \cdot \frac{2}{5} =$$

$$b) \frac{3}{4} \cdot \frac{4}{5} - \frac{1}{6} : \frac{2}{3} =$$

$$d) 2 \cdot \frac{1}{5} \cdot \frac{8}{3} + 2 \cdot \frac{5}{4} \cdot \frac{8}{3} =$$

$$f) \frac{12}{5} + \frac{7}{3} - \frac{3}{4} - \frac{8}{9} + \frac{3}{10} =$$

$$h) \frac{63}{71} \cdot \frac{289}{14} \cdot \frac{71}{33} \cdot \frac{14}{17} \cdot \frac{5}{63} \cdot \frac{33}{289} =$$

Aufgabe 20: *Berechne das Ergebnis.* (Benötigt Abschnitt „Assoziativ und Kommutativ“)

$$a) \frac{4}{3} \cdot \left(\frac{1}{3} - \frac{2}{9} \right) =$$

$$b) \frac{5}{7} : \left(\frac{5}{4} + \frac{2}{5} \right) =$$

$$c) \frac{7}{9} \cdot \left(\frac{3}{2} - \frac{1}{4} \right) =$$

$$d) \frac{3}{4} \cdot \left(\frac{7}{3} - \frac{3}{7} \right) =$$

$$e) \frac{2}{5} \cdot \left(\frac{7}{9} + \frac{4}{5} \right) =$$

$$f) \frac{7}{8} : \left(\frac{5}{6} + \frac{8}{3} \right) =$$

$$g) \frac{4}{5} : \left(\frac{4}{3} - \frac{5}{9} \right) =$$

$$h) \frac{9}{2} \cdot \left(\frac{6}{7} + \frac{9}{5} \right) =$$

Aufgabe 21: *Berechne das Ergebnis.* (Benötigt Abschnitt „Einsetzungsverfahren“ und Abschnitt „Assoziativ und Kommutativ“)

$$a) \frac{a}{b} =$$

$$\text{mit: } a = \frac{1}{3} \text{ und } b = \frac{3}{4}$$

$$b) 2 \cdot \frac{a}{b} =$$

$$\text{mit: } a = \frac{5}{6} \text{ und } b = \frac{3}{7}$$

$$c) \frac{4 \cdot a}{2 \cdot b} =$$

$$\text{mit: } a = \frac{7}{3} \text{ und } b = \frac{9}{4}$$

$$d) \frac{a \cdot c}{b + c} =$$

$$\text{mit: } a = \frac{7}{2} \text{ und } b = \frac{9}{4} \text{ und } c = \frac{7}{8}$$

$$e) \frac{a + a \cdot c}{a \cdot b} =$$

$$\text{mit: } a = \frac{2}{3} \text{ und } b = \frac{5}{4} \text{ und } c = \frac{3}{5}$$

$$f) \frac{a}{b} : \frac{a}{c} =$$

$$\text{mit: } b = \frac{11}{8} \text{ und } c = \frac{5}{9}$$

$$g) \left(\frac{2 \cdot a}{b} + \frac{a}{c} \right) : \frac{a}{3 \cdot b} =$$

$$\text{mit: } b = \frac{1}{6} \text{ und } c = \frac{4}{3}$$

$$h) \frac{6 \cdot a}{b} \cdot \frac{b}{a \cdot c} =$$

$$\text{mit: } c = \frac{1}{12}$$

Aufgabe 22: *Forme die Aufgabe zu einem Bruch um.*

a) $\frac{a}{b} \cdot c$

b) $\frac{a}{b} \cdot \frac{c}{d}$

c) $\frac{a}{b} : \frac{2 \cdot c}{d}$

d) $\frac{a}{b} + 4$

e) $\frac{a}{b} - \frac{c}{d}$

f) $\frac{a}{b} + \frac{2 \cdot c}{d}$

g) $\frac{a}{b} + 4 : \frac{d}{c}$

h) $\frac{a}{b} : \frac{4}{5} - \frac{c}{d} \cdot \frac{2}{3}$

i) $\frac{4 \cdot a}{b} + \frac{2 \cdot c}{a \cdot d}$

j) $\frac{a}{b} + \frac{d}{c} + \frac{dc}{b}$

k) $\frac{a}{b} : \frac{c}{b} : \frac{c}{d}$

l) $\frac{5 \cdot c}{a \cdot b} + \frac{6}{a \cdot d} - \frac{a-d}{3}$

Aufgabe 23: *Kürze im Bruch so viel wie möglich und berechne danach erst das Ergebnis. (Beachte dabei, dass nur Faktoren gekürzt werden können.) (Benötigt Abschnitt „Assoziativ und Kommutativ“)*

a) $\frac{5 \cdot 3 \cdot 2}{2 \cdot 5 \cdot 7} =$

b) $\frac{12 \cdot 6 \cdot 15}{5 \cdot 4 \cdot 6} =$

c) $\frac{63 \cdot 14 \cdot 4}{9 \cdot 7 \cdot 7} =$

d) $\frac{3}{5} \cdot \frac{9}{5} \cdot \frac{5}{9} =$

e) $\frac{7}{8} \cdot \frac{4}{3} \cdot \frac{2}{5} =$

f) $\frac{8}{96} \cdot \frac{112}{4} \cdot \frac{96}{112} =$

g) $\frac{4 \cdot 3 + 5 \cdot 4}{4 \cdot 11} =$

h) $\frac{6 \cdot 8 + 7 \cdot 12}{7 \cdot 4} =$

i) $\frac{14 \cdot 6 + 16 \cdot 5}{2 \cdot 2 \cdot 4} =$

j) $\frac{8}{5} \cdot \frac{9}{2} : \frac{2}{5} =$

k) $\frac{7}{4} \cdot \frac{9}{7} : \frac{9}{3} =$

l) $\frac{298}{517} \cdot \frac{489}{298} : \frac{489}{517} =$

m) $\frac{a \cdot b \cdot d}{d \cdot e \cdot a} =$

n) $\frac{d}{a} \cdot \frac{c}{e} : \frac{e}{a} =$

o) $\frac{8 \cdot a \cdot b + 4 \cdot a \cdot b}{a \cdot 4 \cdot c} =$

Die Lösungen zu diesem Abschnitt finden sich im Anhang im Abschnitt (13.6.3) Lösungen zur Bruchrechnen.

2.3 Brüche als Dezimalzahlen

Um Brüche in *Dezimalzahlen* umzuwandeln bedarf es der schriftlichen *Division* oder eines guten Zahlengefühls. Anhand eines Beispiels soll ersteres verdeutlicht werden.

$$\begin{array}{r}
 \frac{2}{7} = \quad 2 : 7 = 0,285\dots \\
 \quad \quad \quad -0 \\
 \hline
 \quad \quad \quad 20 \\
 \quad \quad \quad -14 \\
 \hline
 \quad \quad \quad 60 \\
 \quad \quad \quad -56 \\
 \hline
 \quad \quad \quad 40 \\
 \quad \quad \quad -35 \\
 \hline
 \quad \quad \quad \vdots
 \end{array} \tag{2.13}$$

An Gleichung (2.13) ist zu erkennen, wie jeder *Bruch* in eine *Dezimalzahl* umgewandelt werden kann. Dabei wird bei der schriftlichen Divisionsrechnung nach jeder *Subtraktion* eine Nachkommastellennull nach unten gezogen, sodass die Rechnung fortgesetzt werden kann bis kein *Rest* mehr existiert, eine *Periodizität* wie bei $\frac{1}{3} = 0,333333333\dots = 0,\bar{3}$ festgestellt wird oder eine genauere *Dezimalzahl* nicht mehr erforderlich ist. Da im Allgemeinen bekannt ist, dass $\frac{3}{3} = 1$ ist, gilt folgende Definition zur *Periodizität*: $3 \cdot 0,\bar{3} = 0,\bar{9} := 1$.

Im Allgemeinen sollte auf eine Umwandlung in *Dezimalzahlen* verzichtet werden, da die *Darstellung* durch einen *Bruch* meistens, das weitere Vorgehen vereinfacht. Die *Darstellung* einer Zahl als *Bruch* ist dabei eine Schreibweise, welche eine Rechnung fordert aber sie nicht ausführt. So kann zum Beispiel durch das Erhalten von *Bruchdarstellungen* folgende Rechnung leichter durchgeführt werden als in der *Dezimalzahlendarstellung*, welche im direkten Vergleich darunter zu finden ist. (Bei dieser Rechnung werden Klammern verwendet, deren Bedeutung genauestens im Abschnitt „Klammersetzung“ besprochen werden. Für diese Rechnung gilt, dass die Rechnung in der Klammer zu erst ausgeführt werden soll.)

$$\begin{aligned}
 \left(\frac{2}{3} + \frac{1}{6}\right) \cdot \frac{3}{5} &= \left(\frac{2 \cdot 2}{3 \cdot 2} + \frac{1}{6}\right) \cdot \frac{3}{5} = \frac{5}{6} \cdot \frac{3}{5} = \frac{\cancel{5} \cdot 3}{6 \cdot \cancel{5}} = \frac{3}{6} = \frac{1}{2} \\
 (0,\bar{6} + 0,1\bar{6}) \cdot 0,6 &= 0,8\bar{3} \cdot 0,6 = 0,5
 \end{aligned} \tag{2.14}$$

Die Gleichung (2.14) zeigt, dass die Rechnung mit den *Brüchen* zwar länger erscheint, aber vollständig im Kopf durchgeführt werden kann. Während die Rechnungen mit den *Dezimalzahlen* vielen nur mit Taschenrechner gelingen und dabei noch die Problematik der *Periodizität* bei der Eingabe in den Taschenrechner besteht, sodass als Ergebnis 0,499999999 auf dem Taschenrechnerdisplay angezeigt wird. Dieses Ergebnis wäre nicht richtig und durch das *Runden* des Ergebnisses bekommt der Schüler oftmals den Eindruck, dass solche Rechnungen nicht ohne Taschenrechner schaffbar seien.

Dabei unterliegt das Prinzip *Runden* klaren Regeln. So gilt, wenn die Stelle hinter der *gerundet* werden soll größer als vier ist, dann wird aufgerundet. Beim Aufrunden wird die *Ziffer* an der gerundet wird um eins erhöht. Andernfalls wird abgerundet und die *Ziffer* bleibt unangetastet.

$$\begin{array}{ll} 0,485 \approx 0,49 & \text{aufrunden} \\ 0,322 \approx 0,32 & \text{abrunden} \end{array} \quad (2.15)$$

Das Prinzip des *Rundens* ist wichtig, da bei vielen Rechnungen im Ergebnis viele Nachkommastellen auftreten. Aus diesem Grund gilt stillschweigend die Konvention, dass immer auf zwei Nachkommastellen gerundet wird, außer es ist anders angegeben.

Dieses Verfahren zur Umwandlung von *Brüchen* in *Dezimalzahlen* ist in erster Linie nützlich um *Prozentwerte* auszurechnen, was detaillierter im Abschnitt „Prozentrechnung“ beschrieben wird. Es ist ratsam für jeden Schüler, wenn jede mögliche Rechnung mit *Brüchen* bewältigt wird, da die *Bruchrechnung* mit zunehmenden Umfang der Mathematik an Bedeutung gewinnt. Aus diesem Grund befindet sich am Anhang dieses Buches eine Auflistung einiger besonders oft vorkommenden *Brüche* und ihrer *Dezimalszahldarstellung* (13.5).

2.3.1 Übungsaufgaben zu Dezimalzahlen

Aufgabe 1: Wandle folgende Brüche in Dezimalzahlen um.

a) $\frac{1}{2} =$

b) $\frac{1}{3} =$

c) $\frac{1}{5} =$

d) $\frac{1}{8} =$

e) $\frac{1}{4} =$

f) $\frac{1}{16} =$

g) $\frac{3}{4} =$

h) $\frac{4}{5} =$

i) $\frac{2}{3} =$

j) $\frac{6}{7} =$

k) $\frac{1}{12} =$

l) $\frac{19}{5} =$

m) $\frac{5}{9} =$

n) $\frac{11}{6} =$

o) $\frac{5}{3} =$

p) $\frac{43}{5} =$

q) $\frac{55}{2} =$

r) $\frac{17}{8} =$

s) $\frac{67}{7} =$

t) $\frac{81}{3} =$

u) $\frac{55}{7} =$

v) $\frac{1}{10} =$

w) $\frac{1}{100} =$

x) $\frac{1}{1000} =$

Aufgabe 2: Berechne folgende Aufgaben.

a) $4 \cdot 0,1 =$

b) $1 + 0,75 =$

c) $9 \cdot 1,001 =$

d) $2,125 - 1 =$

e) $6,\bar{6} + 3,\bar{3} =$

f) $1 + 0,0004 =$

g) $3,003 : 3 =$

h) $100 \cdot 1,001 =$

i) $1000 \cdot 0,001 =$

j) $5,\bar{5} : 5 =$

k) $5 \cdot 0,1 + 0,\bar{3} =$

l) $14 + 0,\bar{7} =$

m) $4 \cdot 0,9 =$

n) $8 - 0,15 =$

o) $4 \cdot 2,212 =$

p) $9,853 - 6 =$

q) $1,5 + 8,7 =$

r) $2 + 1,6974 =$

s) $2,195 : 5 =$

t) $125 \cdot 0,005 =$

u) $0,1 \cdot 0,1 =$

v) $16,24\bar{8} : 8 =$

w) $11 \cdot 0,01 + 1,\bar{1} =$

x) $46 + 8,\bar{5} =$

Aufgabe 3: *Runde die Zahlen auf zwei Nachkommastellen.*

- | | | | |
|--------------------|--------------------|--------------------|----------------------|
| a) $0,562 \approx$ | b) $0,337 \approx$ | c) $0,753 \approx$ | d) $12,2567 \approx$ |
| e) $7,419 \approx$ | f) $2,456 \approx$ | g) $9,783 \approx$ | h) $37,3783 \approx$ |
| i) $5,505 \approx$ | j) $4,782 \approx$ | k) $0,228 \approx$ | l) $25,7342 \approx$ |
| m) $0,111 \approx$ | n) $4,776 \approx$ | o) $5,387 \approx$ | p) $78,0152 \approx$ |
| q) $1,002 \approx$ | r) $1,273 \approx$ | s) $4,324 \approx$ | t) $11,0144 \approx$ |
| u) $2,572 \approx$ | v) $0,004 \approx$ | w) $0,786 \approx$ | x) $35,7855 \approx$ |

Aufgabe 4: *Berechne die Gesamtpreise der Bestellungen.*

- a) 2 Eistee, 1 Pizza, 1 Salat und 1 Eisbecher
- b) 1 Kaffee, 1 Limonade, 1 Gemüseauflauf, 1 Grillkäse und 1 Tiramisu
- c) 1 Kaffee, 1 Eistee, 1 Steak, 1 Bratkartoffeln und 1 Eisbecher
- d) 2 Limonade, 1 Frikassee, 1 Reis und 1 Eisbecher
- e) 2 Kaffee, 1 Lasagne, 1 Suppe und 1 Götterspeise
- f) 1 Kaffee, 1 Eistee, 1 Frikassee, 1 Reis und 1 Tiramisu
- g) 1 Eistee, 1 Pizza, 1 Eisbecher und 1 Tiramisu
- h) 1 Limonade, 1 Eistee, 1 Lasagne, 1 Salat und 1 Eisbecher
- i) 2 Kaffee, 1 Gemüseauflauf, 1 Salat und 1 Tiramisu
- j) 2 Limonade, 3 Stärkeklöße und 1 Götterspeise

Menü	
Getränke	
0,4l Eistee	1,95€
Kaffee	2,40€
0,4l Limonade	1,69€
Vorspeisen	
Suppe	3,99€
Grillkäse	3,49€
Salat	2,69€
Hauptgericht	
Lasagne	6,95€
Pizza	7,95€
Steak	11,95€
Gemüseauflauf	6,45€
Frikassee	8,45€
Beilagen	
Bratkartoffeln	2,95€
Reis	2,45€
Stärkeklöße	3,45€
Desert	
Eisbecher	3,95€
Tiramisu	4,95€
Götterspeise	2,45€

Aufgabe 5: Welche Zahl liegt genau zwischen den angegebenen Zahlen?

a) 3 und 1

b) 1 und 0

c) 5 und 8

d) 0,1 und 0,2

e) 0 und 0,3

f) 0,05 und 0,01

g) 4,3 und 1,2

h) 0,0004 und 0,0034

i) 2,4 und 34,2

j) 84,21 und 5,35

k) 7,8 und 7,8

l) 98,1461 und 477,254

Die Lösungen zu diesem Abschnitt finden sich im Anhang im Abschnitt (13.6.4) Lösungen zu Dezimalzahlen.

2.4 Einsetzungsverfahren

Das *Einsetzungsverfahren* wird oftmals mit Gleichungssystemen in Verbindung gebracht, allerdings ist das dahinter liegende Prinzip von fundamentalerer Bedeutung für den Umgang mit mathematischem und naturwissenschaftlichem Wissen. Bei diesem Verfahren wird entweder für einen *Parameter*, einer *Variable* oder einen *Term* eine Zahl oder einem weiterführender *Term* eingesetzt, sodass es generell zu einer Vereinfachung, einer Beispielrechnung oder der Reduzierung von unbekanntem Größen kommt. Dabei ist ein *Parameter* ein Platzhalter für eine Zahl (oftmals werden a, b, c, d als *Parameter* verwendet), während die *Variable* der Platzhalter für eine veränderliche Zahl (oftmals werden x, y, z als *Variable* verwendet) ist und ein *Term* ein ganzer Abschnitt einer Rechenanweisung (zum Beispiel $5 \cdot x \cdot a$ wäre ein Term).

Als Beispiel für das Einsetzen von Zahlen soll das *Erweitern* bei der Bruchrechnung aus Gleichung (2.12) dienen. Hierbei soll gelten, dass für a der Wert 2, für b der Wert 3 und für den *Erweiterungsparameter* n die Zahl 4 eingesetzt werden soll.

$$\begin{aligned}
 \frac{a}{b} &= \frac{a}{b} \cdot 1 = \frac{a}{b} \cdot \frac{n}{n} = \frac{a \cdot n}{b \cdot n} && \text{mit: } a = 2 \\
 \Rightarrow \frac{2}{b} &= \frac{2}{b} \cdot 1 = \frac{2}{b} \cdot \frac{n}{n} = \frac{2 \cdot n}{b \cdot n} && \text{mit: } b = 3 \\
 \Rightarrow \frac{2}{3} &= \frac{2}{3} \cdot 1 = \frac{2}{3} \cdot \frac{n}{n} = \frac{2 \cdot n}{3 \cdot n} && \text{mit: } n = 4 \\
 \Rightarrow \frac{2}{3} &= \frac{2}{3} \cdot 1 = \frac{2}{3} \cdot \frac{4}{4} = \frac{2 \cdot 4}{3 \cdot 4} = \frac{8}{12}
 \end{aligned} \tag{2.16}$$

Wie bereits oben schon erwähnt wurde, ist dieses Verfahren auch mit *Termen* möglich.

$$\begin{aligned}
 a + b &= c && \text{mit: } a = d - e + f \\
 \Rightarrow d - e - f + b &= c && \text{mit: } c = e - f - d \\
 \Rightarrow d - e - f + b &= e - f - d
 \end{aligned} \tag{2.17}$$

2.4.1 Übungsaufgaben zu Einsetzungsverfahren

Aufgabe 1: Setze in die Gleichungen $a = 3$, $b = 2$, $c = 4$ ein und berechne das Ergebnis.

a) $a + b - c =$

b) $3 \cdot a - 4 \cdot b + c =$

c) $c \cdot b - b \cdot a =$

d) $a \cdot b - b \cdot a =$

e) $4 \cdot a \cdot b + 2 \cdot c \cdot c - 3 \cdot b \cdot c =$

f) $2 \cdot a \cdot b + 2 \cdot a \cdot c + 2 \cdot b \cdot c =$

g) $a \cdot b \cdot c =$

h) $4 \cdot \frac{a}{b} + \frac{c}{a} =$

Aufgabe 2: Setze in die Gleichungen ein und berechne das Ergebnis.

a) $a \cdot a =$

mit: $a = 9$

b) $4 + c \cdot d =$

mit: $c = 2$ und $d = 4$

c) $2 \cdot a \cdot b + 8 =$

mit: $a = 3$ und $b = 7$

d) $7 \cdot a + 4 \cdot b - 3 \cdot c =$

mit: $a = 2$ und $b = 5$ und $c = 3$

e) $a \cdot b \cdot c \cdot d =$

mit: $a = \frac{1}{4}$ und $b = 4$ und $c = 3$ und $d = 9$

f) $\frac{1}{3} \cdot G \cdot h =$

mit: $G = 27$ und $h = 9$

g) $\frac{1}{2} \cdot a \cdot t \cdot t =$

mit: $a = \frac{1}{4}$ und $t = 6$

h) $\frac{1}{2} \cdot a \cdot t \cdot t + v \cdot t =$

mit: $a = 9,81$ und $v = 5$ und $t = 4$

Aufgabe 3: Setze in die Gleichungen ein. (Benötigt Abschnitt „Assoziativ und Kommutativ“)

a) $a \cdot 3 =$

mit: $a = 2 \cdot d$

b) $c \cdot d =$

mit: $c = a + b$ und $d = 2$

c) $a + 4 =$

mit: $a = d \cdot c + 4 \cdot t$

d) $A =$

mit: $A = a \cdot b$ und $b = 3$ und $a = 8$

e) $H - F =$

mit: $F = a - b$ und $H = a + b$ und $b = 2$

f) $\frac{f}{g} =$

mit: $f = 4 \cdot a \cdot b \cdot c \cdot d$ und $g = 2 \cdot a \cdot a \cdot d \cdot d$

g) $\xi \cdot v + \vartheta =$

mit: $\xi = a$ und $v = b$ und $\vartheta = \emptyset$

h) $\Delta + \square + \diamond =$

mit: $\Delta = \nabla - \Xi$ und $\square = \Xi + \Phi$ und $\diamond = \zeta - \nabla - \Phi$

Aufgabe 4: Berechne alle freien Zellen der Tabelle. Die Rechenvorschriften sind jeweils in der ersten Spalte gegeben.

	1	2	3	4	5	6	7
a	3	6	0,25	3,1	$\frac{3}{2}$	$\frac{7}{6}$	$\frac{5}{3}$
b	4	2	1,75	4,5	$\frac{5}{4}$	$\frac{6}{5}$	$\frac{9}{4}$
$c = a \cdot b$							
$d = \frac{a}{b}$							
$e = c \cdot d$							
$f = e + 2 \cdot a$							

Die Lösungen zu diesem Abschnitt finden sich im Anhang im Abschnitt (13.6.5) Lösungen zum Einsetzungsverfahren.

2.5 Prozentrechnung

Die *Prozentrechnung* ist von besonderer Bedeutung in der heutigen Gesellschaft, dabei versteckt sich hinter ihr nur der Bruch $\frac{1}{100}$. Denn pro cent bedeutet übersetzt nicht viel mehr als pro hundert. Aus diesem Bruch heraus hat sich historisch dann das *Prozentzeichen* % entwickelt. Der rechnerische Umgang ist durch das Ersetzen von % durch $\frac{1}{100}$ gegeben.

$$4\% = 4 \cdot \frac{1}{100} = \frac{4}{100} = 0,04 \quad (2.18)$$

Auch andere Rechnungen sind auf diesen Fakt reduzierbar: Sei ein Kapital von 1000€ mit einem Zinssatz von 4% pro Jahr angelegt, wie hoch wären die Zinsen nach einem Jahr? Diese Frage kann leicht dargestellt werden als:

$$1000\text{€} \cdot 4\% = 1000\text{€} \cdot 4 \cdot \frac{1}{100} = 4000\text{€} \cdot \frac{1}{100} = \frac{4000\text{€}}{100} = 40\text{€} \quad , \quad (2.19)$$

wobei genauere Ausführungen zu dieser Art von Rechnungen weiter unten im Kapitel „Ökonomische Anwendungen“ folgen werden.

Der Dreisatz zur Frage „Wieviel sind 4% von 300?“ gestaltet sich als:

$$\begin{array}{ll} 300 \text{ entsprechen:} & 100\% \\ 3 \text{ entsprechen:} & 1\% \\ 12 \text{ entsprechen:} & 4\% \end{array} \quad (2.20)$$

Allerdings ist der Dreisatz durch das Wissen, dass $\% = \frac{1}{100}$ ist, wie folgt verkürzt durchzuführen:

$$300 \cdot 4\% = \frac{4 \cdot 300}{100} = \frac{1200}{100} = 12 \quad , \quad (2.21)$$

wobei in Gleichung (2.21) die Zwischenschritte weggelassen werden könnten, da $\frac{300}{100}$ und $3 \cdot 4$ nicht von besonderer Schwierigkeit sind.

2.5.1 Übungsaufgaben zu Prozentrechnung

Aufgabe 1: Wandele folgende Zahlen in Prozentwerte um.

a) $0,01 =$

b) $100 =$

c) $0,5 =$

d) $0,125 =$

e) $0,0024 =$

f) $289 =$

g) $0,9315 =$

h) $0,0341 =$

i) $0,891 =$

j) $0,54 =$

k) $354 =$

l) $0,976342 =$

m) $0,354 =$

n) $1,1229 =$

o) $245,287 =$

p) $5,1006 =$

q) $0,0005 =$

r) $1,154578 =$

s) $0,999 =$

t) $3,1204 =$

u) $0,0487 =$

v) $3,9552 =$

w) $0,5755 =$

x) $0,000004 =$

Aufgabe 2: Wandele folgende Prozentwerte in Dezimalzahlen um.

a) $1\% =$

b) $100\% =$

c) $54\% =$

d) $1626\% =$

e) $2,374\% =$

f) $2,01\% =$

g) $99\% =$

h) $5\% =$

i) $81,063\% =$

j) $8\% =$

k) $0,4\% =$

l) $30\% =$

m) $0,06\% =$

n) $11,89\% =$

o) $0,9\% =$

p) $12\% =$

q) $0\% =$

r) $587,3\% =$

s) $4\% =$

t) $909\% =$

u) $11\% =$

v) $9786\% =$

w) $8,457\% =$

x) $5,64\% =$

Aufgabe 3: Wandele folgende Brüche in eine Dezimalzahl um und schreibe sie dann als Prozentwert auf. Bei dieser Aufgabe brauchen nur drei Nachkommastellen beachtet werden.

a) $\frac{1}{4} =$

d) $\frac{9}{14} =$

g) $\frac{7}{9} =$

j) $\frac{8}{3} =$

m) $\frac{5}{66} =$

p) $\frac{1}{7} =$

s) $\frac{3}{71} =$

v) $\frac{1}{1} =$

b) $\frac{1}{3} =$

e) $\frac{8}{25} =$

h) $\frac{9}{4} =$

k) $\frac{7}{2} =$

n) $\frac{1}{351} =$

q) $\frac{9}{8} =$

t) $\frac{5}{83} =$

w) $\frac{0}{4} =$

c) $\frac{5}{6} =$

f) $\frac{1}{8} =$

i) $\frac{43}{83} =$

l) $\frac{1}{97} =$

o) $\frac{4}{25} =$

r) $\frac{21}{250} =$

u) $\frac{16}{354} =$

x) $\frac{75}{976} =$

Aufgabe 4: Berechne das Ergebnis.

a) $700 \cdot 1\% =$

d) $80 \cdot 25\% =$

g) $9000 \cdot 99\% =$

j) $6453 \cdot 8\% =$

m) $2040 \cdot 54\% =$

p) $7827 \cdot 44,68\% =$

s) $79,94 \cdot 45\% =$

v) $287,784 \cdot 92,75\% =$

b) $45 \cdot 100\% =$

e) $1500 \cdot 2\% =$

h) $3141 \cdot 0,1\% =$

k) $972 \cdot 245\% =$

n) $2786 \cdot 9\% =$

q) $1837 \cdot 0,827\% =$

t) $3248,69 \cdot 7,34\% =$

w) $954,557 \cdot 3,786\% =$

c) $200 \cdot 4\% =$

f) $50000 \cdot 3\% =$

i) $120 \cdot 5\% =$

l) $5707 \cdot 2\% =$

o) $6872 \cdot 78\% =$

r) $3287 \cdot 0,37\% =$

u) $2304,56 \cdot 0,003\% =$

x) $245,57 \cdot 78,57\% =$

Aufgabe 5: *Berechne das Ergebnis.*

- a) 4% von 1000€ sind:
- b) 2% von 5550€ sind:
- c) 10% von 862434€ sind:
- d) 19% von 299€ sind:
- e) 12% von 1200€ sind:
- f) 11% von 65300€ sind:

Aufgabe 6: *Berechne die Geldsumme nach der angegebenen Zeit und dem angegebenen Prozentsatz.*

- a) 2500€ zu 7% Zinsen pro Jahr über 2 Jahre.
- b) 6000€ zu 3% Zinsen pro Jahr über 4 Jahre.
- c) 4500€ zu 2,125% Zinsen pro Jahr über 5 Jahre.
- d) 15200€ zu 2% Zinsen pro Jahr über 2 Jahre.
- e) 22400€ zu 6% Zinsen pro Jahr über 6 Jahre.
- f) 91200€ zu 1,45% Zinsen pro Jahr über 10 Jahre.
- g) 123500€ zu 3,35% Zinsen pro Jahr über 7 Jahre.
- h) 95200€ zu 9,15% Zinsen pro Jahr über 5 Jahre.
- g) 40500€ zu 2,12% Zinsen pro Jahr über 3 Jahre.
- h) 8240600€ zu 7,985% Zinsen pro Jahr über 12 Jahre.

Aufgabe 7: *Berechne die Geldsumme nach der angegebenen Zeit und dem angegebenen Prozentsatz.*

- a) 5000€ zu 4% Zinsen pro Jahr über 2,5 Jahre.
- b) 8000€ zu 2% Zinsen pro Jahr über 4,25 Jahre.
- c) 12500€ zu 2,25% Zinsen pro Jahr über 5,75 Jahre.
- d) 32300€ zu 3% Zinsen pro Jahr über 1,5 Jahre.
- e) 26800€ zu 7% Zinsen pro Jahr über 0,25 Jahre.
- f) 9500€ zu 2,85% Zinsen pro Jahr über 180 Tage.
- g) 44600€ zu 5,45% Zinsen pro Jahr über 950 Tage.
- h) 54841€ zu 13,05% Zinsen pro Jahr über 5 Tage.
- g) 29812€ zu 9,71% Zinsen pro Jahr über 2,348 Jahre.
- h) 78820€ zu 4,354% Zinsen pro Jahr über 6,7293 Jahre.
- i) 125030€ zu 0,75% Zinsen pro Monat über 32,68 Monate.
- j) 270900€ zu 1,25% Zinsen pro Monat über 4,21 Jahre.

Die Lösungen zu diesem Abschnitt finden sich im Anhang im Abschnitt (13.6.5) Lösungen zur Prozentrechnung.

2.6 Negative Zahlen

Die negativen Zahlen erweitern die *Zahlenmenge* der *Natürlichen Zahlen* \mathbb{N}^1 zu den *Ganzen Zahlen* $\mathbb{Z} = \{-2, -1, 0, 1, 2\}$, indem die *Subtraktion* mit der *Addition* vereinheitlicht wird. Dabei gehört der *Subtraktionsoperator* nun als Vorzeichen zu der Zahl dazu.

$$2 - 1 = 2 + (-1) = -1 + 2 \quad (2.22)$$

Wie die Gleichung (2.22) zeigt, bleibt das Vorzeichen immer bei der jeweiligen Zahl. Dabei gilt, dass das positive Vorzeichen $+$ nicht oftmals nicht mitgeschrieben wird. Wichtig ist dabei, dass Zahlen mit negativem Vorzeichen immer in *Klammern* gesetzt werden, sodass niemals zwei *Grundrechenoperatoren* direkt hinter einander stehen. Als Folge dieser Schreibweise verschwindet die *Subtraktion* nahezu vollständig, da *Parameter* auch negative *Werte* annehmen kann.

$$a - b = a + (-b) = -b + a \quad (2.23)$$

Die Gleichung (2.23) kann neu formuliert werden, indem der Parameter b mit dem Vorzeichen neudefiniert wird: $-b := c$, sodass folgende Gleichung daraus entsteht:

$$a - b = a + (-b) = a + c = c + a \quad (2.24)$$

Aber nicht nur bei der *Addition* sondern auch bei der *Multiplikation* spielt das Vorzeichen eine besondere Rolle. Bei der Multiplikation wird deutlich wie das Vorzeichen im Detail mathematisch zu verstehen ist:

$$-3 \cdot 2 = 2 \cdot (-3) = 2 \cdot (-1) \cdot 3 \quad (2.25)$$

Wie die Gleichung (2.25) zeigt, ist das Vorzeichen durch die *Multiplikation* der Zahl -1 . Folglich wurde die *Zahlenmenge* der *Natürlichen Zahlen* lediglich um eine Zahl, der -1 , zu den *Ganzen Zahlen* \mathbb{Z} erweitert. Dabei dreht die Multiplikation der -1 das Vorzeichen der Zahl um, sodass die doppelte Multiplikation das Vorzeichen erhält. Somit ergibt sich die umgangssprachliche Regel: „Minus mal Minus ergibt Plus!“.

$$(-1) \cdot (-1) = 1 \quad (2.26)$$

Die Bedeutung der Einführung der negativen Zahlen wird im nächsten Abschnitt durch die Besprechung des *Kommutativ-* und *Assoziativgesetzes* detaillierter ausgeführt.

¹ $\mathbb{N} = \{0, 1, 2, 3, 4, \dots\}$

2.6.1 Übungsaufgaben zu den negativen Zahlen

Aufgabe 1: Berechne das Ergebnis der Additionsaufgaben.

a) $-2 + 4 =$

b) $-12 + 25 =$

c) $-34 + 62 =$

d) $-52 + 49 =$

e) $-77 + 53 =$

f) $-145 + 86 =$

g) $-75 - 24 =$

h) $-38 - 52 =$

i) $-367 - 572 =$

j) $-\frac{1}{5} + \frac{3}{10} =$

k) $-\frac{5}{6} + \frac{2}{3} =$

l) $-\frac{1}{4} + \frac{7}{8} =$

m) $-\frac{4}{7} + \frac{6}{5} =$

n) $-\frac{3}{8} + \frac{5}{7} =$

o) $-\frac{4}{9} + \frac{8}{5} =$

p) $-\frac{8}{3} - \frac{9}{4} =$

q) $-\frac{5}{6} - \frac{8}{9} =$

r) $-\frac{4}{7} - \frac{11}{3} =$

Aufgabe 2: Berechne das Ergebnis der Multiplikationsaufgaben.

a) $-7 \cdot 8 =$

b) $-11 \cdot 12 =$

c) $-24 \cdot 5 =$

d) $4 \cdot (-9) =$

e) $17 \cdot (-4) =$

f) $72 \cdot (-3) =$

g) $-5 \cdot (-7) =$

h) $-9 \cdot (-8) =$

i) $-13 \cdot (-13) =$

j) $-\frac{3}{4} \cdot \frac{7}{2} =$

k) $-\frac{6}{7} \cdot \frac{4}{5} =$

l) $-\frac{2}{3} \cdot \frac{5}{9} =$

m) $\frac{7}{5} \cdot \left(-\frac{3}{8}\right) =$

n) $\frac{8}{3} \cdot \left(-\frac{7}{9}\right) =$

o) $\frac{7}{3} \cdot \left(-\frac{9}{7}\right) =$

p) $-\frac{4}{3} \cdot \left(-\frac{4}{7}\right) =$

q) $-\frac{8}{5} \cdot \left(-\frac{5}{9}\right) =$

r) $-\frac{4}{11} \cdot \left(-\frac{12}{5}\right) =$

s) $-\frac{6}{7} : \frac{5}{6} =$

t) $-\frac{3}{5} : \frac{2}{9} =$

u) $\frac{7}{8} : \left(-\frac{11}{3}\right) =$

v) $\frac{15}{4} : \left(-\frac{7}{15}\right) =$

w) $-\frac{11}{7} : \left(-\frac{4}{3}\right) =$

x) $-\frac{5}{13} : \left(-\frac{10}{9}\right) =$

Aufgabe 3: Setze in die Gleichungen die angegebenen Zahlen ein und berechne das Ergebnis.

- a) $a + b =$ mit: $a = -5$ und $b = -9$
b) $3 \cdot a + b =$ mit: $a = -2$ und $b = -3$
c) $a - b =$ mit: $a = -7$ und $b = -11$
d) $4 \cdot a - 6 \cdot b =$ mit: $a = -4$ und $b = -10$
e) $8 \cdot a \cdot b =$ mit: $a = -2$ und $b = -3$
f) $a \cdot b - b \cdot c =$ mit: $a = -5$ und $b = -4$ und $c = -2$
g) $a + b =$ mit: $a = -\frac{2}{3}$ und $b = -\frac{3}{4}$
h) $-2 \cdot a - b =$ mit: $a = -\frac{6}{7}$ und $b = -\frac{4}{5}$
i) $9 \cdot a \cdot b =$ mit: $a = -\frac{9}{5}$ und $b = -\frac{5}{11}$
j) $-2 \cdot a : b =$ mit: $a = -\frac{2}{5}$ und $b = -\frac{7}{8}$
k) $\frac{1}{3} \cdot a : b + \frac{3}{2} \cdot c =$ mit: $a = -\frac{3}{5}$, $b = -\frac{7}{6}$ und $c = -\frac{4}{9}$
l) $a \cdot b : c - b : a =$ mit: $a = -\frac{7}{4}$, $b = -\frac{3}{10}$ und $c = -\frac{5}{8}$

Die Lösungen zu diesem Abschnitt finden sich im Anhang im Abschnitt (13.6.6) Lösungen zu den negativen Zahlen.

2.7 Assoziativ und Kommutativ

Das *Assoziativ-* und das *Kommutativgesetz* helfen beim Rechnen den Überblick selbst über sehr komplex wirkende Sachverhalte zu behalten und sollten deswegen bekannt sein. In diesem Abschnitt werden diese beiden Gesetz und ihre Auswirkungen auf die Mathematik besprochen. Auch wird nochmals motiviert, warum es lohnend sein kann mit *Brüchen* und negativen Zahlen zu arbeiten.

2.7.1 Kommutator

Das *Kommutativgesetz* besagt, dass die Vertauschung von Zahlen, *Parametern* oder *Variablen* bei einer Rechenoperation keinen Einfluss auf das Ergebnis hat. Zur Überprüfung des *Kommutativgesetzes* dient der *Kommutator*, welcher folgende definierte Rechenanweisung ist:

$$[a, b] = a \cdot b - b \cdot a \quad (2.27)$$

Ist der *Kommutator* gleich Null, so gilt, dass $a \cdot b = b \cdot a$ ist. Wenn man nun Zahlen für die *Parameter* a und b einsetzt, so ist die Gültigkeit des *Kommutativgesetzes* intuitiv zu erkennen:

$$[2, 3] = 2 \cdot 3 - 3 \cdot 2 = 6 - 6 = 0 \quad (2.28)$$

Der allgemeine *Kommutator* ist für die *Multiplikation* definiert - wenn nun das *Kommutativgesetz* zum Beispiel für die *Addition* überprüft werden soll, wird am Komma des *Kommutator* gekennzeichnet welcher *Operator* untersucht wird.

$$\begin{aligned} [a, + b] &= a + b - b + a \\ [2, + 3] &= 2 + 3 - 3 + 2 = 5 - 5 = 0 \end{aligned} \quad (2.29)$$

Es wird deutlich, dass ohne die Einführung der *ganzen Zahlen* \mathbb{Z} und der Bruchrechnung und somit die Verallgemeinerung von *Addition* mit *Subtraktion* sowie der *Multiplikation* mit der *Division*, dass *Kommutativgesetz* nicht für die *Subtraktion* und *Division* gelten würde.

$$\begin{aligned} [a, - b] &= a - b - b - a \neq 0 \\ [2, - 3] &= 2 - 3 - 3 - 2 \neq 0 \\ [a, : b] &= a : b - b : a \neq 0 \\ [2, : 3] &= 2 : 3 - 3 : 2 \neq 0 \end{aligned} \quad (2.30)$$

Durch die Einführung *ganzen Zahlen* \mathbb{Z} und der Bruchrechnung verändert sich Gleichung (2.30) zu:

$$\begin{aligned}
[a, + -b] &= (a + (-b)) - (-b + a) = 0 \\
[3, + -2] &= (3 + (-2)) - (-2 + 3) = 1 - 1 = 0 \\
\left[a, \frac{1}{b} \right] &= a \cdot \frac{1}{b} - \frac{1}{b} \cdot a = \frac{a}{b} - \frac{a}{b} = 0 \\
\left[2, \frac{1}{3} \right] &= 2 \cdot \frac{1}{3} - \frac{1}{3} \cdot 2 = \frac{2}{3} - \frac{2}{3} = 0
\end{aligned} \tag{2.31}$$

Die besondere Bedeutung und die Konsequenzen des *Kommutators* werden im Kapitel „Differentiation und Integration“ weiter ausgeführt. Während die Klammern im nächsten Unterabschnitt genaustens erklärt werden

2.7.2 Assoziativgesetz

Das *Assoziativgesetz* besagt, dass die Reihenfolge bei einer Rechnung keine Relevanz besitzen darf. So macht es zum Beispiel keinen Unterschied bei der *Addition* oder *Multiplikation* von drei Zahlen, welche zuerst verrechnet werden.

$$\begin{aligned}
a + b + c &= (a + b) + c = a + (b + c) = b + (a + c) \\
a \cdot b \cdot c &= (a \cdot b) \cdot c = a \cdot (b \cdot c) = b \cdot (a \cdot c)
\end{aligned} \tag{2.32}$$

Die Reihenfolge in Gleichung 2.32 wird beschrieben durch die Klammern, welche angeben welche Rechnung zu erst vollzogen werden soll. Das jeweils letzte Gleichheitszeichen konnte nur durch die Vertauschung der geschriebenen Reihenfolge der *Parameter* a , b und c , also dem *Kommutativgesetz*, geschrieben werden. Erneut zeigt sich, dass die Verallgemeinerung von *Addition* mit *Subtraktion* sowie *Multiplikation* mit *Division* seine Vorteile hat, denn die *Rechenoperatoren* der *Subtraktion* und der *Division* sind nicht *assoziativ*:

$$\begin{aligned}
(a - b) - c &\neq a - (b - c) \\
(a : b) : c &\neq a : (b : c)
\end{aligned} \tag{2.33}$$

Allerdings gilt durch die Einführung der *ganzen Zahlen* \mathbb{Z} und des Bruchrechnens, dass der *Subtraktionsoperator* umgeschrieben werden kann in $- = +(-1)$ sowie der *Divisionsoperator* mit nur seltenen Ausnahmen aus dem mathematischen Gebrauch verschwindet.

2.7.3 Klammersetzung - Distributivgesetz

Wenn eine Rechnung mehr als nur einen *Rechenoperator* beinhaltet, dann lohnt es sich Klammern zu verwenden, um den Überblick zu behalten oder auf bestimmte Sachverhalte aufmerksam zu machen. Im engeren Sinne ist die Rechnung mit Klammern auf die *Multiplikation* reduzierbar. Dabei wirkt der außenstehende Faktor auf jeden *Summanden* innerhalb der Klammer:

$$\begin{aligned}
 a \cdot (b + c) &= a \cdot b + a \cdot c \\
 16 &= 2 \cdot 8 = 2 \cdot (3 + 5) = 2 \cdot 3 + 2 \cdot 5 = 6 + 10 = 16
 \end{aligned}
 \tag{2.34}$$

Das Beispiel aus Gleichung (2.34) zeigt, wie der *Faktor* auf die *Summanden* innerhalb der Klammern wirkt und somit das gleiche Ergebnis produziert, wie die *Multiplikation* des *Faktors* mit der *Summe* der Klammer. Dieses Verfahren mit der Klammersetzung wird Distributivgesetz genannt.

Bei der Verrechnung von *Subtraktionsoperatoren* mit einer Klammer gilt, dass das vorgestellte Minus lediglich eine verkürzte Schreibweise von $(-1) \cdot$ ist:

$$-(b + c) = (-1) \cdot (b + c) = (-1) \cdot b + (-1) \cdot c = -b - c \tag{2.35}$$

Auch *Terme* von *Summen* können miteinander *multipliziert* werden:

$$(a + b) \cdot (c + d) = a \cdot (c + d) + b \cdot (c + d) = a \cdot c + a \cdot d + b \cdot c + b \cdot d \tag{2.36}$$

In Gleichung (2.36) wirken zu erst die *Summanden* der ersten Klammer auf die zweite Klammer, sodass dann die zweite Klammer wie in Gleichung (2.34) *ausmultipliziert* werden kann. Es wird auch ersichtlich, dass die Schreibweise mit den Klammern wesentlich kürzer ist. Das *Ausmultiplizieren* ist trotz der verkürzten Klammerschreibweise oftmals von Vorteil.

Die Klammersetzung ist nicht nur ein Bestandteil einer verkürzten Schreibweise, sondern auch von fundamentaler Bedeutung bei komplexeren *Einsetzungsverfahren*. So sei zum Beispiel $a = g + h$ und soll in die folgende Gleichung eingesetzt werden.

$$a \cdot d = (g + h) \cdot d = g \cdot d + h \cdot d \tag{2.37}$$

Wie Gleichung (2.37) zeigt, sollte bei einer Ersetzung der eingesetzte Term am besten prophylaktisch unklammert werden, um Fehler zu vermeiden. Erst nach einer Reflexion der Gleichung sollten dann die Klammern, wenn möglich, fallen gelassen werden.

Allerdings sollte auch die Umkehrung des *Ausmultiplizierens*, das Ausklammern, beherrscht werden, da es oftmals die Übersicht verbessert, wie in diesem Beispiel:

$$a \cdot b + a \cdot c + a \cdot d + a \cdot e + a \cdot f + g = a \cdot (b + c + d + e + f) + g \tag{2.38}$$

Die Gleichung (2.38) zeigt, dass der *Faktor* a , welcher sich in vielen *Summanden* befindet, *ausgeklammert* wurde um die Übersicht zu verbessern. Generell gilt, dass man gleiche *Vorfaktoren* bei *Summen* *ausklammern* kann.

2.7.4 Übungsaufgaben zur Klammersetzung

Aufgabe 1: *Berechne das Ergebnis.*

$$a) \frac{1}{2}(9 + 7) =$$

$$c) 4(3 + 2) =$$

$$e) \frac{1}{4}(144 - 92) =$$

$$g) 5,5(1,5 + 6,25) =$$

$$i) \frac{1}{2}\left(\frac{3}{4} + \frac{1}{3}\right) =$$

$$k) 4(3 + 2) - 2(1 + 3) =$$

$$b) \frac{25 + 65}{10} =$$

$$d) \frac{16 + 48}{2} =$$

$$f) \frac{3}{5} \cdot \frac{13 - 5}{4} =$$

$$h) \frac{6,3 - 5 - 0,3}{20} : \frac{2}{5} =$$

$$j) \frac{77 - 47}{3} \cdot \frac{3 + 5}{24} =$$

$$l) \frac{12 - 8 + 14}{2} \cdot \left(3 + \frac{9}{2}\right) =$$

Aufgabe 2: *Multipliziere die Klammer aus.*

$$a) 2(a + 7) =$$

$$c) 7(4 + v) =$$

$$e) 6(ab - cd) =$$

$$g) ha(llo - i) =$$

$$i) \text{Tag}(\text{Stunde} - \text{Minute}) =$$

$$k) 2(2a - 3c)4 =$$

$$m) 4 \diamond (3\hbar - 6\Gamma) =$$

$$b) 4(b + c) =$$

$$d) d(b - c) =$$

$$f) mo(ep - ewe) =$$

$$h) te(st + e) =$$

$$j) (4b + 7c)5 =$$

$$l) \xi(\Psi - \Phi) =$$

$$n) 2\tau(5\sigma + 3\rho)3\lambda =$$

Aufgabe 3: *Multipliziere die Klammern aus.*

a) $4(a + b) =$

b) $c(a - 5b) =$

c) $\frac{2}{5}(9a - 5) =$

d) $(a + b)(a + b) =$

e) $\frac{2}{5}\left(\frac{a}{b} - \frac{5c}{d}\right) =$

f) $(a - b)(a - b) =$

g) $(a + b)(c + d) =$

h) $(a - b)(a + b) =$

i) $\frac{a + b}{c} =$

j) $\frac{(a + b)(a - b)}{a - b}(a + b) =$

Aufgabe 4: *Klammere so viel wie möglich aus.*

a) $2a + 2b =$

b) $ab - ad =$

c) $abe + aef =$

d) $3ag - 6a =$

e) $2ab + 2bc - 2bd =$

f) $2a - 4b + 8d =$

g) $ab + ac + ad + ae - af =$

h) $5\Delta\nabla - \Delta\diamond\nabla =$

i) $\Delta\Phi\Gamma + \Phi\nabla\Delta =$

j) $\alpha\beta + \alpha\beta\chi =$

k) $\Theta\Sigma\Xi - \Xi\Pi\Sigma + \Theta\Xi\Phi =$

l) $2\Omega\Sigma - 4\Sigma\Pi + 6\Lambda\Sigma =$

Aufgabe 5: *Klammere so viel wie möglich aus.*

a) $9a + 9b =$

b) $2a + 6 - 8b =$

c) $ab - acd + aa =$

d) $2ab + 4ab + 8ab =$

e) $\frac{5a}{bc} + \frac{25}{bc} =$

f) $abcdefghijkl - bcdefghijk =$

h) $\frac{2a + 13ab}{7} =$

i) $\frac{3cd - 6bd}{a - ba} =$

j) $\frac{\square\nabla - 3\nabla\square}{4 - \diamond} =$

k) $\frac{\hbar\mu\sigma - \hbar\lambda\mu}{\theta\rho + \psi\theta} =$

l) $\frac{4\Pi\Sigma\Theta + 8\delta\Lambda\Sigma}{5\Gamma\Delta - \Gamma} =$

m) $\frac{15asdfgh - 5hfsa}{3\tau\zeta\xi\psi - 9\nu\tau\zeta} =$

Aufgabe 6: Löse die Klammern auf.

a) $(x - 2)(x + 4) =$

b) $(x + 9)(x + 3) =$

c) $(3 + x)(x - 5)(x - 2) =$

d) $(x - 4)(x + 6)(x - 7) =$

e) $(x - 12)(x + 12)(x - 2)(x - 2) =$

f) $(x + 1)(x + 1)(x - 2)(x + 2) =$

g) $\left(x - \frac{1}{2}\right)\left(x + \frac{5}{6}\right)\left(x - \frac{5}{6}\right)\left(x + \frac{1}{2}\right) =$

h) $(x - 3)(x + 4)(x + 7)(x - 8) =$

i) $(-x + a)(x + b)(x - c)(x + d) =$

j) $(x - a)(-x + b)(x + a)(x - c)(x - c)(x + 2d) =$

Die Lösungen zu diesem Abschnitt finden sich im Anhang im Abschnitt (13.6.7) Lösungen zur Klammersetzung.

2.8 Potenzen

Wie schon zuvor wurden viele Rechenmethoden und neue Eigenschaften eingeführt, um die Übersicht oder Handhabung von rechnerischen Ausdrücken zu vereinfachen. Aus dem selben Grund wird die Potenz eingeführt, welche als verkürzte Schreibweise der wiederholten *Multiplikation* einer Zahl dient.

$$\begin{aligned} a \cdot a &= a^2 \\ a \cdot a \cdot a \cdot a \cdot a &= a^5 \\ 2^6 &= 2 \cdot 2 \cdot 2 \cdot 2 \cdot 2 \cdot 2 \end{aligned} \tag{2.39}$$

Für *Potenzen* gelten Rechenregeln, welche schnell erklärt werden können, wenn der abkürzende Charakter wie in Gleichung (2.39) verinnerlicht wurde. Im Folgenden soll eine Regel gezeigt und dann begründet werden, dass diese gilt (außer die Regel ist intuitiv).

$$\begin{aligned} a^2 \cdot a^3 &= a^{2+3} = a^5 = (a \cdot a) \cdot (a \cdot a \cdot a) \\ \Rightarrow a^3 : a^2 &= a^{3-2} = a^1 = a \end{aligned} \tag{2.40}$$

Aus der Bedingung, dass $\frac{a}{a} = 1$ sein muss und mit der Regel aus Gleichung (2.40) ergibt sich daraus, dass $a^1 \cdot \frac{1}{a} = a^0 = 1$ sein muss. Hieraus ergibt sich:

$$\begin{aligned} a^0 &= 1 \\ a^{-1} &= \frac{1}{a} \end{aligned} \tag{2.41}$$

Des Weiteren kann aus Gleichung (2.40) abgeleitet werden, dass Rechnungen mit *Potenzen* nicht *assoziativ* sind:

$$\begin{aligned} a^3 \cdot a^3 &= (a^3)^2 = a^{3 \cdot 2} = a^6 \\ a^{(3^2)} &= a^{3 \cdot 3} = a^9 \end{aligned} \tag{2.42}$$

Außerdem lässt sich aus Gleichung (2.40) mit Gleichung (2.42) ersehen, dass

$$\begin{aligned} (a^2)^{\frac{1}{2}} &= a^{\frac{2}{2}} = a^1 = a \\ \Rightarrow a^{\frac{1}{2}} &:= \sqrt{a} \end{aligned} \tag{2.43}$$

gilt, wobei \sqrt{a} die *Wurzel* von a genannt wird. Die *Wurzel* hat die Potenz 2 auf, wie in Gleichung (2.43) zu sehen ist.

Somit gelten zusammengefasst folgende Regeln für die Potenzrechnung:

$$\begin{aligned}
 a^n \cdot a^m &= a^{n+m} \\
 (a^n)^m &= a^{n \cdot m} \\
 a^0 &= 1 \\
 a^{-n} &= \frac{1}{a^n} \\
 a^{\frac{1}{n}} &= \sqrt[n]{a} \\
 (a^n)^m &\neq a^{(n^m)}
 \end{aligned} \tag{2.44}$$

Abschließend ist noch zu erwähnen, dass bei dem Ausdruck a^n es sich bei a um die *Basis* und bei n um den *Exponenten* handelt.

2.8.1 Wurzeln

Wurzeln sind die Umkehroperationen zum *Potenzieren*. Somit steht hinter der sogenannten Quadratwurzel der Zahl z (\sqrt{z}) die Frage: „Welche Zahl ergibt mit sich selbst multipliziert die Zahl z ?“ Hierzu lohnt es sich einige Zahlen zum Quadrat (zum Beispiel: $8^2 = 64$) zu kennen, um direkt ein Ergebnis einer *Wurzel* zu erkennen. Da es nicht nur die Quadratwurzel der Zahl z ($\sqrt{z} = z^{\frac{1}{2}}$) gibt, sondern auch noch höhere Werte des *Nenners* im *Exponenten*, lohnt es sich stets die jeweilige Wurzel als *Potenz* zu schreiben.

$$\begin{aligned}
 \sqrt{z} &= z^{\frac{1}{2}} = \sqrt[2]{z} \\
 \sqrt[4]{z} &= z^{\frac{1}{4}}
 \end{aligned} \tag{2.45}$$

Es gibt ein schriftliches Verfahren eine *Wurzel* zu ziehen, allerdings bedarf es einer aufwendigeren Erklärung, welche in einer späteren Version dieses Buches folgen wird, da die Schüler heutzutage oftmals bei der Einführung der *Wurzel* mit dem Taschenrechner arbeiten, wird vorerst das schriftliche Wurzelziehverfahren ausgespart.

Außerdem bleibt anzumerken, dass *Wurzeln* aus negativen Zahlen erst im Kapitel „Komplexe Zahlen“ eingeführt werden. Bis zu diesem Zeitpunkt sind Berechnungen von *Wurzeln* aus negativen Zahlen nicht vorgesehen. Folglich sind Rechnungen in denen *Wurzeln* aus negativen Zahlen vorkommen ein Hinweis darauf, dass Rechenfehler aufgetreten sind.

2.8.2 10er Potenzen

Von allen *Potenzen* haben 2er *Potenzen* 2^n in der Informatik und die 10er *Potenzen* 10^n eine besonders wichtige Funktion inne. Gerade in der Physik werden besonders große Größen mit besonders kleinen verrechnet. Die daraus resultierenden Ergebnisse sollen dann wieder in einer Größe angegeben werden, die dem Menschen zur Vorstellung genügen. Deswegen werden viele Größen mit Hilfe der 10er *Potenzen* umgerechnet. Für diese gilt:

$$\begin{aligned}
 10^2 &= 100 \\
 10^{-3} &= \frac{1}{1000} = 0,001
 \end{aligned}
 \tag{2.46}$$

Jede Einheit ist meistens mit einer sprachlichen Abkürzung verbunden, so steht bei 1cm das „centi“ für $\frac{1}{100} = 10^{-2}$. Eine Tabelle mit der Auflistung vieler dieser Abkürzungen und ihre Bedeutung als 10er *Potenz* befinden sich im Anhang (13.3).

Während für alle Einheiten k für Kilo also Tausend steht, steht dies sprachlich bei der Einheit Byte B auch für Tausend. Allerdings versteckt sich hier durch den Fakt, dass Computer nur die 0 (Nein) und die 1 (Ja) kennen, eine andere Zahl:

$$\begin{aligned}
 10^3 m &= 1km \\
 10^6 m &= 1Mm \\
 2^{10} B &= 1kB = 1024B \\
 2^{20} B &= 1MB = 1048576B
 \end{aligned}
 \tag{2.47}$$

Bei der Einheitenumrechnung ist das Verständnis von 10er *Potenz* von elementarer Bedeutung, da

$$\begin{aligned}
 1dm &= 10cm = 10^1 cm \\
 1dm^2 &= 1dm \cdot 1dm = 10cm \cdot 10cm = 100cm^2 = 10^2 cm^2 \\
 1dm^3 &= 1dm \cdot 1dm \cdot 1dm = 10cm \cdot 10cm \cdot 10cm = 1000cm^3 = 10^3 cm^3 := 1l
 \end{aligned}
 \tag{2.48}$$

gilt. Dahinter verstecken sich sprachliche Abkürzungen, die mit *potenziert* werden $100cm^2 = 100(cm)^2 = 100c^2m^2 = 10^2 \frac{1}{10^2} m^2 = 1m^2$. Die Schreibweise für $1cm^2$ ist wieder nichts weiter als eine Konvention zur Abkürzung für $1(cm)^2$. Wie Gleichung (2.48) gibt der *Exponent* der Einheit an, mit welcher Zahl die Anzahl der Null der Standardumrechnung multipliziert wird:

$$\begin{aligned}
 1km &= 1000m = 10^3 m \\
 1km^2 &= (10^3 m)^2 = (10^3)^2 m^2 = 10^{3 \cdot 2} m^2 = 1000000m^2 = 10^6 m^2 \\
 1km^3 &= (10^3 m)^3 = (10^3)^3 m^3 = 10^{3 \cdot 6} m^3 = 1000000000m^3 = 10^9 m^3
 \end{aligned}
 \tag{2.49}$$

2.8.3 Binomische Formeln

Mit Hilfe der *Potenzen* können auch die *Summen potenziert* werden:

$$\begin{aligned}
 (x+d) \cdot (x+d) &= (x+d)^2 = x^2 + x \cdot d + d \cdot x + d^2 = x^2 + 2 \cdot d \cdot x + d^2 \\
 (x-d) \cdot (x-d) &= (x-d)^2 = x^2 - x \cdot d - d \cdot x + d^2 = x^2 - 2 \cdot d \cdot x + d^2 \\
 (x+d) \cdot (x-d) &= x^2 + x \cdot d - d \cdot x + d^2 = x^2 - d^2
 \end{aligned}
 \tag{2.50}$$

Die beiden Gleichungen aus Gleichung (2.50) werden *Binomische Gleichungen* genannt und werden in der Beschreibung der Natur immer wieder vorgefunden und nicht zu Letzt deswegen im Mathematik und naturwissenschaftlichen Unterricht in Klausur- und Übungsaufgaben verwendet.

Generell kann man diese *Binomischen Formel* noch für jede *Potenz* verallgemeinern, dazu dient das sogenannte *Pascal'sche Dreieck*, welches die *Vorfaktoren* wiedergibt.

$(x + d)^0$	1
$(x + d)^1$	$x + d$
$(x + d)^2$	$x^2 + 2 \cdot d \cdot x + d^2$
$(x + d)^3$	$x^3 + 3 \cdot d \cdot x^2 + 3 \cdot d^2 \cdot x + d^3$
$(x + d)^4$	$x^4 + 4 \cdot d \cdot x^3 + 6 \cdot d^2 \cdot x^2 + 4 \cdot d^3 \cdot x + d^4$
$(x + d)^5$	$x^5 + 5 \cdot d \cdot x^4 + 10 \cdot d^2 \cdot x^3 + 10 \cdot d^3 \cdot x^2 + 5 \cdot d^4 \cdot x + d^5$

Dabei pflanzen sich die *Vorfaktoren* (sogenannte *Koeffizienten*) so weiter fort in dem die benachbarten *aufaddiert* werden. Die *Potenzen* des ersten *Parameters* oder *Variable* startet stets mit der höchsten Zahl und nimmt bei jedem weiteren *Summanden* ab, während die *Potenz* des zweiten *Parameters* zunimmt. Die *Vorfaktoren*, welche sich im *Pascal'schen Dreieck* befinden, werden im Kapitel „Wahrscheinlichkeitsrechnung“ durch die sogenannten *Binomialkoeffizienten* erneut auftauchen und nochmals erläutert. Weitere Koeffizienten aus dem Pascal'schen Dreieck können im Anhang (13.2) gefunden werden.

2.8.4 Übungsaufgaben zu Potenzen

Aufgabe 1: *Berechne das Ergebnis.*

a) $2^3 =$

b) $3^4 =$

c) $2^6 =$

d) $2^{-1} =$

e) $10^3 =$

f) $8^3 =$

g) $4^{-3} =$

h) $10^{-6} =$

i) $\left(\frac{1}{6}\right)^2 =$

j) $(5^3)^2 =$

k) $4^{(3^2)} =$

l) $2^6 \cdot 2^2 =$

m) $(2^3 + 2^3)^3 =$

n) $(10^2)^{-1} =$

o) $((2^6)^{-1})^{-1} =$

p) $(100^{\frac{1}{2}})^2 =$

q) $(3,141^{\frac{1}{2,718}})^{2,718} =$

r) $\left(\frac{1}{5^{-1}}\right)^3 =$

Aufgabe 2: *Berechne das Ergebnis.*

a) $\left(\frac{3}{4}\right)^2 =$

b) $\left(\frac{7}{8}\right)^2 =$

c) $\left(\frac{11}{17}\right)^2 =$

d) $\left(\frac{2}{3}\right)^3 =$

e) $\left(\frac{124}{217}\right)^{-1} =$

f) $\left(\frac{9}{7}\right)^{-2} =$

g) $\left(\frac{3}{5}\right)^{-2} =$

h) $\left(\frac{144}{169}\right)^{\frac{1}{2}} =$

i) $\left(\frac{83}{87}\right)^{-1} =$

j) $\left(\frac{8}{3}\right)^{-2} =$

k) $\left(\frac{36}{64}\right)^{\frac{1}{2}} =$

l) $\left(\frac{225}{121}\right)^{-\frac{1}{2}} =$

m) $\left(\frac{5}{2}\right)^{-3} =$

n) $\left(\frac{27}{8}\right)^{\frac{1}{3}} =$

o) $\left(\frac{16}{81}\right)^{-\frac{1}{4}} =$

Aufgabe 3: *Berechne das Ergebnis.*

a) $\sqrt{16} =$

b) $\sqrt{81} =$

c) $\sqrt[3]{8} =$

d) $\sqrt[3]{27} =$

e) $\sqrt{144} =$

f) $\sqrt[5]{100000} =$

g) $\sqrt{289} =$

h) $\sqrt[4]{81} =$

i) $\sqrt{\sqrt{\sqrt{\sqrt{2^{16}}}}} =$

j) $\sqrt{a^{8\frac{1}{4}}} =$

k) $\sqrt[10]{1024} =$

l) $\sqrt[7]{\sqrt[4]{\sqrt[9]{\sqrt[13]{\lambda^{33}}}}}^2 =$

Aufgabe 4: *Rechne die Einheiten um.*

a) $3dm = \quad cm$

b) $4m = \quad cm$

c) $7cm = \quad mm$

d) $500cm = \quad dm$

e) $25km = \quad m$

f) $8000000cm = \quad km$

g) $2dm^2 = \quad cm^2$

h) $14m^2 = \quad cm^2$

i) $9cm^2 = \quad mm^2$

j) $2500cm^2 = \quad dm^2$

k) $65km^2 = \quad m^2$

l) $7500000cm^2 = \quad m^2$

m) $6dm^3 = \quad cm^3$

n) $7m^3 = \quad cm^3$

o) $12cm^3 = \quad mm^3$

p) $3000cm^3 = \quad dm^3$

q) $253km^3 = \quad m^3$

r) $5000000cm^3 = \quad dm^3$

s) $46dm^2 = \quad cm^2$

t) $75m = \quad cm$

u) $34cm^3 = \quad mm^3$

v) $8900cm = \quad dm$

w) $63km^2 = \quad m^2$

x) $74000000cm^3 = \quad dm^3$

Aufgabe 5: *Rechne in die angegebene Einheit um.*

a) $1m^2 = \quad cm^2$

b) $2,718km = \quad mm$

c) $1mm^3 = \quad dm^3$

d) $3m^3 = \quad dm^3$

e) $0,5cm^2 = \quad m^2$

f) $13,3cm^3 = \quad m^3$

g) $10^3km^2 = \quad dm^2$

h) $1,234dm = \quad mm$

i) $\frac{15}{4}\mu m^2 = \quad mm^2$

j) $\frac{1}{3}Mm^3 = \quad km^3$

k) $0,01km^2 = \quad cm^2$

l) $125mm^5 = \quad cm^5$

m) $6,6m^4 = \quad cm^4$

n) $0,025km^7 = \quad mm^7$

o) $3,141Tm^2 = \quad nm^2$

Aufgabe 6: *Rechne in die Klammer aus.*

a) $(a + 4)^2 =$	b) $(a - \sqrt{2})^2 =$
c) $(\sqrt{2}a + 2)^4 =$	d) $(3a + \frac{2}{3})^3 =$
e) $(a - b)^4 =$	f) $(a + b + c)^2 =$
g) $(a + b + c + d)^2 =$	h) $(a + b + c + d + e)^2 =$
i) $(a + b)^6 =$	j) $(a - c)^8 =$
k) $(\hbar + \ell)^{-3} =$	l) $(\square - \nabla)^{-5} =$
m) $(ab + cd)^{-3} =$	n) $(\kappa - \gamma + \eta\epsilon)^{-2} =$

Aufgabe 7: *Berechne das Ergebnis.*

a) $5^2 =$	b) $-5^2 =$	c) $(-5)^2 =$
d) $6^2 =$	e) $-6^2 =$	f) $(-6)^2 =$
g) $4^3 =$	h) $-4^3 =$	i) $(-4)^3 =$
j) $3^4 =$	k) $-3^4 =$	l) $(-3)^4 =$
m) $2^5 =$	n) $-2^5 =$	o) $(-2)^5 =$
p) $13^0 =$	q) $-17^0 =$	r) $(-11)^0 =$

Aufgabe 8: *Schreibe die Zahlen mit 10er-Potenzen auf. Runde dabei auf zwei Nachkommastellen.*

a) 30000 =	b) 8540000 =	c) 72672164 =
d) 47543526 =	e) 583834622 =	f) 12467853 =
g) 0,000001 =	h) 0,0000352 =	i) 0,0000000000647 =
j) 0,000956 =	k) 91245235 =	l) 0,000000007312 =
m) 0,007852 =	n) 456246235674 =	o) 91394,334 =

Die Lösungen zu diesem Abschnitt finden sich im Anhang im Abschnitt (13.6.8) Lösungen zu Potenzen.

2.9 Logarithmen

Da die *Potenzen* eingeführt wurden, sollte auch eine Rechenvorschrift eingeführt werden um den *Exponenten* zu bestimmen. Diese wird *Logarithmus* genannt, welche folgende Frage in mathematischer Art und Weise stellt: „Die Basis und das Ergebnis seien bekannt, welche Größe muss der Exponent haben?“

$$a^c = b \Leftrightarrow c = \log_a b \quad (2.51)$$

Gelesen wird $\log_a c$ als „der *Logarithmus* von b zur Basis a “. Wie für die *Potenzen* gelten auch für die *Logarithmen* Regeln, welche sich aus den *Potenzgesetzen* ableiten lassen.

$$\begin{aligned} a^{n+m} &= a^n \cdot a^m \Leftrightarrow \log_a(n \cdot m) = \log_a n + \log_a m \\ &\Rightarrow \log_a \frac{n}{m} = \log_a n - \log_a m \\ \log_a n^m &= m \cdot \log_a n \\ a^{\log_a n} &= n \\ \log_a n &= \frac{\log_b a}{\log_b n} \\ \log_a a &= 1 \\ \log_a 1 &= 0 \end{aligned} \quad (2.52)$$

Dabei werden folgende Abkürzungen für bestimmte Werte der *Basis* verwendet:

$$\begin{aligned} \log_{10} n &= \lg n \\ \log_2 n &= \text{lb } n \\ \log_e n &= \ln n \end{aligned} \quad (2.53)$$

wobei $e = 2,718281\dots$ die *Euler'sche Zahl* ist, deren Bedeutung im Kapitel der *Funktionen* im Abschnitt der *Exponentialfunktionen* und bei der *Differentiation* noch gerecht wird.

2.9.1 Übungsaufgaben zu Logarithmen

Aufgabe 1: *Berechne das Ergebnis.*

a) $\log_2 16 =$

b) $\lg 1000 =$

c) $\log_8 64 =$

d) $\text{lb } 512 =$

e) $\ln e^9 =$

f) $\log_5 125 =$

g) $\log_{25} 125 =$

h) $\lg (11 \cdot 10^6) =$

i) $\log_{17} 1 =$

j) $\log_3 81 =$

k) $\log_4 64 =$

l) $\log_{15} 225 =$

Aufgabe 2: *Wandle den Logarithmus in Logarithmen mit der angegebenen Basis um.*

a) $\log_5 7 =$ mit der Basis: 3

b) $\log_8 251 =$ mit der Basis: 10

c) $\log_8 512 =$ mit der Basis: 2

d) $\log_3 39 =$ mit der Basis: 5

e) $\lg 24 =$ mit der Basis: 22

f) $\lg (3 \cdot 10^8) =$ mit der Basis: $\frac{1}{2}$

g) $\text{lb} 1 =$ mit der Basis: $\frac{5}{7}$

h) $\ln \pi =$ mit der Basis: $\sqrt{2}$

i) $\lg 9000 =$ mit der Basis: e

j) $\text{lb} 64 =$ mit der Basis: e

Aufgabe 3: *Wandle den Logarithmus so um, dass $\ln x$ isoliert steht.*

(Beispiel: $\ln \frac{x^2}{a} = 2 \ln x - \ln a$.)

a) $\ln x^3 =$

b) $\ln 7x =$

c) $\ln \frac{4x}{5} =$

d) $\ln \frac{2}{x} =$

e) $\ln 4x^4 =$

f) $\ln \frac{2x^{-1}}{3} =$

g) $\lg ax =$

h) $\log_3 5x^4 =$

i) $\log_5 \frac{4x^6}{5} =$

j) $\log_a \frac{bx^c}{d} =$

k) $\log_7 \left(\frac{5}{3x} \right)^3 =$

l) $\log_a \left(\frac{b}{dx^c} \right)^r =$

Die Lösungen zu diesem Abschnitt finden sich im Anhang im Abschnitt (13.6.9) Lösungen zu Logarithmen.

2.10 Äquivalenzumformung

Die *Äquivalenzumformung* stellt die Basis für den Erkenntniserwerb und steht als selbstverständliches Vorwissen aller Schüler im Zentrum des naturwissenschaftlichen Unterrichts. Letztendlich versteckt sich hinter diesem Wort nur die Bedingung, dass auf beiden Seiten des *Äquivalenzzeichens* „=“ immer die gleichen *Operationen* durchgeführt werden müssen. Dabei wird hinter dem *Kommandostrich* „|“ hinter der umzuformenden Gleichung die nachfolgende *Operation* angegeben.

$$\begin{aligned} 0 &= 0 && | +2 \\ \Rightarrow 2 &= 2 \end{aligned} \quad (2.54)$$

Die Gleichung (2.54) zeigt, wie auf beiden Seiten des *Äquivalenzzeichens* die Zwei *addiert* wurde. Dabei steht der Pfeil \Rightarrow für „daraus folgt“, und ist nicht zwingend erforderlich bei einer *Äquivalenzumformung*.

$$\begin{aligned} 8 &= 8 && | -2 \\ 6 &= 6 && | \cdot 3 \\ 18 &= 18 && | : 2 \\ 9 &= 9 \end{aligned} \quad (2.55)$$

Die Gleichung (2.55) zeigt, wie im ersten Schritt auf beiden Seiten des *Äquivalenzzeichens* die Zwei *subtrahiert* wurde. Im zweiten Schritt werden beide Seiten mit drei *multipliziert* und im dritten Schritt durch zwei *dividiert*. In diesen beiden Beispielen sind die vier Grundrechenarten gezeigt, was nicht bedeutet, dass andere Rechenoperationen ausgeschlossen sind.

Äquivalenzumformungen dienen dazu um Gleichung umzustellen und so unbekannte *Parameter* zu bestimmen. *Parameter* sind Platzhalter für *Zahlen* und werden in der Regel mit Buchstaben am Anfang des Alphabets beschrieben. Wenn keine genaue Beschreibung für die *Parameter* angegeben sind, gilt $a, b, \dots \in \mathbb{R}$. Im folgenden Beispiel soll nach x aufgelöst werden.

$$\begin{aligned} 0 &= \frac{a}{d} \cdot x + b - c && | +c \\ c &= \frac{a}{d} \cdot x && | -b \\ c - b &= \frac{a}{d} \cdot x && | \cdot d \\ d \cdot (c - b) &= a \cdot x && | : a \\ \frac{d \cdot (c - b)}{a} &= x \end{aligned} \quad (2.56)$$

Jede *Rechenoperation*, die die Richtigkeit der Gleichung nicht verändert ist zulässig! Die *Addition* der 0 und die *Multiplikation* der 1 sind solche *Operationen*. Dabei ist 0 das so genannte *neutrale Element* der *Addition* und 1 das *neutrale Element* der *Multiplikation*.

$$\begin{aligned} \frac{1}{2} &= \frac{1}{2} \cdot 1 = \frac{1}{2} \cdot \frac{4}{4} = \frac{4}{8} && \text{Multiplikation der 1} \\ 4 &= 4 + 0 = 4 + 6 - 6 = 10 - 6 && \text{Addition der 0} \end{aligned} \quad (2.57)$$

Die Beispiele aus Gleichung (2.57) zeigen, dass die *Multiplikation* des *neutralen Elements* mit dem *Erweitern* von *Brüchen* unmittelbar in Verbindung steht.

2.10.1 Quadratische Ergänzung

Das Ziel bei einer *quadratischen Ergänzung* ist es, eine Gleichung so umzuformen, dass man die *binomischen Formeln* ausnutzen kann um die *Potenz* der Unbekannten zu reduzieren. Als erklärendes Beispiel soll diese allgemeine Gleichung, welche auch allgemeines Polynom zweiter Ordnung oder quadratische Gleichung genannt wird, dienen (Auf die Eigenschaften von Polynome und explizit quadratische Termen wird im Kapitel „Funktionen“ genauer eingegangen.):

$$ax^2 + bx + c = 0 \quad (2.58)$$

Diese Form erinnert an die so genannte erste *binomische Formel* $(x + d)^2 = x^2 + 2dx + d^2$. Aus diesem Grund wird der *Vorfaktor* (*Koeffizient*) a des quadratischen *Terms* ax^2 über *Äquivalenzumformung* entfernt.

$$\begin{aligned} ax^2 + bx + c &= 0 && | : a \\ x^2 + \frac{b}{a}x + \frac{c}{a} &= 0 \end{aligned} \quad (2.59)$$

Durch direktes gegenüberstellen der *Terme* können bestimmte Bedingungen an die *Vorfaktoren* geknüpft werden, sodass die künstliche Generierung einer *Binomischen Formel* möglich wird, dies wird *Koeffizientenvergleich* genannt. Generell wird der *Koeffizientenvergleich* immer angewendet, wenn eine Gleichheit von *Vorfaktoren* zu einer erheblichen Vereinfachung eines Problems dienen könnte.

$$\begin{aligned} x^2 + \frac{b}{a}x + \frac{c}{a} &= 0 \\ x^2 + 2dx + d^2 &= 0 \end{aligned} \quad (2.60)$$

Durch den *Koeffizientenvergleich* der rot markierten *Vorfaktoren*, kann folgende Bedingung aufgestellt werden: $\frac{b}{a} = 2d$) und so der *Parameter* d als $\frac{b}{2a}$ bestimmt werden. Da die zu lösende Gleichung noch kein d^2 beherbergt, muss dieses durch eine *Addition* hinzugefügt werden. Anschließend werden alle Terme die nicht zu einer *Binomischen Formel* gehören auf die andere Seite des Gleichheitszeichens gebracht:

$$\begin{aligned}
 x^2 + \frac{b}{a}x + \frac{c}{a} = 0 & \quad \left| + \left(\frac{b}{2a}\right)^2 \right. \\
 x^2 + \frac{b}{a}x + \left(\frac{b}{2a}\right)^2 + \frac{c}{a} = \left(\frac{b}{2a}\right)^2 & \quad \left| - \frac{c}{a} \right. \\
 x^2 + \frac{b}{a}x + \left(\frac{b}{2a}\right)^2 = \left(\frac{b}{2a}\right)^2 - \frac{c}{a} &
 \end{aligned} \tag{2.61}$$

Nach genauerer Betrachtung ist festzustellen, dass auf der linken Seite des Gleichheitszeichens die erste *binomische Formel* vorzufinden ist. Nach der Ersetzung fällt auf, dass die quadratische *Potenz* und die lineare *Potenz* in der *Variablen* x verschmolzen sind. Um nun nach der *Variable* restlos aufzulösen, muss auf beiden Seiten des Gleichheitszeichens die *Wurzel* gezogen werden, da dies die *Umkehrfunktion* zum Quadrieren ist. Dabei ist zu beachten, dass es eine negative und eine positive Lösung gibt, da zum Beispiel $2^2 = (-2)^2$ ist.

$$\begin{aligned}
 \underbrace{x^2 + \frac{b}{a}x + \left(\frac{b}{2a}\right)^2}_{=\left(x + \frac{b}{2a}\right)^2} = \left(\frac{b}{2a}\right)^2 - \frac{c}{a} \\
 \left(x + \frac{b}{2a}\right)^2 = \left(\frac{b}{2a}\right)^2 - \frac{c}{a} & \quad \left| \sqrt{\quad} \right. \\
 x_{1,2} + \frac{b}{2a} = \pm \sqrt{\left(\frac{b}{2a}\right)^2 - \frac{c}{a}} & \quad \left| - \frac{b}{2a} \right. \\
 x_{1,2} = -\frac{b}{2a} \pm \sqrt{\left(\frac{b}{2a}\right)^2 - \frac{c}{a}} &
 \end{aligned} \tag{2.62}$$

Nach einer Umbenennung der *Parameter* $p = \frac{b}{a}$ und $q = \frac{c}{a}$ erkennt man, dass die so genannte *p-q-Formel* hergeleitet wurde, welche sich lediglich durch die Umbenennung der *Parameter* von der sogenannten *Mitternachtsformel* aus Gleichung (2.62) unterscheidet:

$$\begin{aligned}
 x^2 + px + q = 0 \\
 \Rightarrow x_{1,2} = -\frac{p}{2} \pm \sqrt{\left(\frac{p}{2}\right)^2 - q}
 \end{aligned} \tag{2.63}$$

Um Zeit in bestimmten Klausur- oder Unterrichtssituationen zu sparen empfiehlt es sich die *p-q-Formel* aus Gleichung (2.63) zu verwenden, dennoch sollte von ihrer Benutzung abgeraten werden, denn in der höheren Mathematik (siehe Kapitel „Differentiation und Integration“) sind viele Aufgaben nur noch mittels der *quadratischen Ergänzung* effektiv zu lösen.

Die Zahl unten recht von zum Beispiel x_1 wird *Index* genannt. Ein *Index* hat keine genauere mathematische Funktion, allerdings kann darüber eine zusätzliche Information mitgegeben werden. So bedeutet $x_{1,2}$, dass zwei spezielle *Werte* für x vorliegen, die die *Gleichung* lösen würden. Oftmals wird auch x_0 vorgefunden und steht für einen speziellen konstanten *Wert*. Folglich gibt der *Index* nur genauer an welche Bedeutung genau dieser *Wert* der *Variable* oder des *Parameters* besitzt.

Wenn bei einer Gleichung in offensichtliches *Produkt* mit einer *quadratischen Gleichung* vorliegt, lohnt es sich diese auszuklammern

$$\begin{aligned} ax^3 + bx^2 + cx &= 0 \\ \Rightarrow x \cdot (ax^2 + bx + c) &= 0 \quad , \end{aligned} \quad (2.64)$$

sodass das die *Faktoren* des *Produkts* separiert betrachtet werden können, denn es gilt nach wie vor: Wenn einer der *Faktoren* gleich Null ist, dann ist das gesamte *Produkt* gleich Null.

$$\begin{aligned} \underbrace{x}_{\stackrel{!}{=}0} \cdot \underbrace{(ax^2 + bx + c)}_{\stackrel{!}{=}0} &= 0 \Rightarrow x_1 = 0 \\ \Rightarrow ax^2 + bx + c &= 0 \end{aligned} \quad (2.65)$$

Ab diesem Zeitpunkt kann die restliche Gleichung mit der *quadratischen Ergänzung* gelöst werden. Das *Ausklammerungsverfahren* funktioniert nicht nur bei höheren *Polynomen*, sondern immer, wenn aus allen Bestandteilen der Gleichung *ausgeklammert* werden kann. So ist es möglich bei einigen Gleichungen die Lösungen direkt abzulesen.

$$x^2 - 6x = x(x - 6) \Rightarrow x_1 = 0 \wedge x_2 = 6 \quad (2.66)$$

Aus diesem Grund lohnt es sich nicht immer Klammern aus zu *multiplizieren*.

2.10.2 Übungsaufgaben zur Äquivalenzumformung

Aufgabe 1: Löse folgende Gleichungen nach x auf.

a) $3 \cdot x + 4 = 0$

b) $2 \cdot x - 9 = 0$

c) $9 \cdot x + 55 = 0$

d) $5 \cdot x - 25 = 0$

e) $3 \cdot x + 9 = 6$

f) $x - 66 = 9$

g) $4 \cdot x + 4 = 11$

h) $9 \cdot x - 5 = 4$

i) $32 \cdot x + 3 = 5$

j) $1 \cdot x + 91 = 44 + x \cdot 23$

k) $7 \cdot x + 14 = -3 \cdot x$

l) $98 \cdot x + 15 = 8 \cdot x + 10$

m) $\frac{1}{2} \cdot x + \frac{1}{4} = -\frac{3}{5} \cdot x$

n) $\frac{7}{3} \cdot x + \frac{11}{6} = -3 \cdot x + \frac{1}{4}$

o) $\frac{8}{9} \cdot x - \sqrt{2} = \sqrt{3} \cdot x$

p) $e \cdot x + \pi = -\sqrt{2} \cdot x - \sqrt{e}$

Aufgabe 2: Löse folgende Gleichungen nach x auf.

a) $-16x^2 + 64 = 0$

b) $\sqrt{2x-6} - 144 = 0$

c) $\frac{1}{\sqrt{x}} - 17 = 0$

d) $\ln 5x = 2$

e) $\ln \frac{13}{x} = \sqrt{2}$

f) $\frac{16}{81}x^4 - \sqrt{25} = \log_9 1$

g) $\left(x^4 x^5 x^{\frac{1}{9}}\right)^2 = 49$

h) $e^{2x-6} = 2$

Aufgabe 3: Löse folgende Gleichungen nach x mit Hilfe der p - q -Formel auf.

a) $x^2 + 2x + 1 = 0$

c) $3x^2 + 24x - 3 = 0$

e) $2x^2 - 20x = 6 - 10x$

g) $3x^2 - 6x = 0$

i) $\frac{1}{2}x^2 - 5x = 7 - \frac{5}{2}x$

k) $\frac{4}{5}x^2 - \frac{2}{3}x = \frac{2}{5} - \frac{8}{3}x$

m) $\frac{9}{2}x^2 - \frac{11}{4}x = \frac{13}{4} - \frac{11}{8}x$

o) $\sqrt{2x^2} - \sqrt{3x} = \sqrt{17}$

b) $4x^2 - 16x + 16 = 0$

d) $5x^2 - 20x = 50$

f) $7x = 8 - 3x^2$

h) $x^2 - \frac{1}{2}x - \frac{1}{8} = 0$

j) $\frac{3}{4}x = 6 - \frac{4}{3}x^2$

l) $\frac{11}{4}x = \frac{8}{3} - \frac{3}{4}x^2$

n) $\frac{1}{3}x + \frac{3}{18}x^2 = \frac{5}{6} - \frac{8}{9}x^2$

p) $\pi x + ex^2 = \ln 2 - \frac{1}{2}x^2$

Aufgabe 4: Löse folgende Gleichungen nach x mit Hilfe der quadratischen Ergänzung auf.

a) $x^2 + 4x + 4 = 0$

c) $x^2 + 10x + 25 = 0$

e) $2x^2 + 4x + 2 = 0$

g) $-x^2 + 4x - 4 = 0$

i) $x^2 + 6x - 5 = 0$

k) $3x^2 + 9x - 24 = 0$

m) $-2x^2 + 8x + 3 = 0$

o) $\frac{2}{3}x^2 + \frac{4}{5}x - \frac{5}{6} = 0$

q) $-4x + 3 = 2x^2$

s) $\frac{1}{4}x^2 - \frac{11}{6} = 2x$

u) $-3x + 5 = 6x^2 - 4$

w) $\frac{1}{5}x^2 - \frac{9}{15} = 4x - 3x^2$

b) $x^2 - 16x + 64 = 0$

d) $x^2 - x + \frac{1}{4} = 0$

f) $6x^2 - 36x + 54 = 0$

h) $-\frac{1}{2}x^2 - 3x - \frac{9}{2} = 0$

j) $x^2 - 7x - 12 = 0$

l) $5x^2 - 25x - \frac{1}{4} = 0$

n) $4x^2 - 6x - 16 = 0$

p) $-\frac{8}{5}x^2 + \frac{5}{7}x + \frac{1}{4} = 0$

r) $-x^2 + 5 = 4x$

t) $-\frac{2}{3}x^2 + \frac{3}{4}x = -\frac{5}{2}$

v) $-4x^2 + 20 = 4x - 13$

x) $-\frac{2}{7}x^2 + \frac{3}{14}x - 4 = x^2 - 2x + 3$

Die Lösungen zu diesem Abschnitt finden sich im Anhang im Abschnitt (13.6.10) Lösungen zur Äquivalenzumformung.

2.11 Substitution

Bei jeder Rechnung ist es dem Rechnenden freigestellt Abkürzungen einzuführen. Dieser Prozess wird *Substitution* genannt. Im folgenden Beispiel wird die *Summe* innerhalb der Klammer *substituiert*:

$$\begin{aligned} (x+a)^2 & \quad \text{mit: } y := x+a \\ = y^2 & \end{aligned} \tag{2.67}$$

Dabei ist es wichtig zu beachten, dass bei der *Substitution* ersetzten *Variablen* vollständig eliminiert werden.

$$\begin{aligned} (x+a)^2 \cdot x & \quad \text{mit: } y := x+a \Rightarrow x = y-a \\ = y^2 \cdot (y-a) & = y^3 - a \cdot y^2 \end{aligned} \tag{2.68}$$

Jede *Substitution* ist zulässig. Wichtig wird dieser Prozess besonders wenn komplexere Aufgaben dadurch wesentlich vereinfacht werden können. Aus diesem Grund wird im Kapitel „Differentiation und Integration“ nochmal besonders auf die Substitution eingegangen.

2.11.1 Übungsaufgaben zur Substitution

Aufgabe 1: Schreibe die Gleichung mit der angegebenen Substitution auf.

- a) $(x^2 + x + 1)^3 = 8$ mit: $y = x^2 + x + 1$
 b) $(a + 4x)^{\frac{1}{2}} = 6b - c$ mit: $y^2 = 4x + a$
 c) $(18x - 4ab)^2 = c$ mit: $\sqrt{y} = 18x - 4ab$
 d) $2^{2a-c} = 32$ mit: $b = 2a - c$
 e) $x = 4a$ mit: $y = x + 4a$
 f) $x^2 + 8x + 16 = 0$ mit: $(y + 4)^2 = x^2 + 8x + 16$
 g) $(3a + 2x)(2x - 3a) = 0$ mit: $y = 2x + 3a$
 h) $\ln(x^2 + 4x) = 2$ mit: $y = x^2 + 4x$

Aufgabe 2: Finde die Substitution heraus und schreibe sie auf.

- a) $x^3 + 4x^2 - x - 8 = 0$ $\Rightarrow y - 8 = 0$
 b) $\frac{x}{2} - \frac{2}{x} = 0$ $\Rightarrow y - \frac{1}{y} = 0$
 c) $\frac{x^2}{ab} + \frac{5}{ab} - 3 = 0$ $\Rightarrow dx^2 + 5d - 3 = 0$
 d) $\frac{ax^2 + bx - c}{5} = 0$ $\Rightarrow \frac{y}{5a} = 0$
 e) $ax + bx + cx + xd + xe - f = 0$ $\Rightarrow gx - f = 0$
 f) $x^2 + 4x - 8 = 0$ $\Rightarrow \left(\frac{y}{4} + 2\right)^2 = 0$

Die Lösungen zu diesem Abschnitt finden sich im Anhang im Abschnitt (13.6.11) Lösungen zur Substitution.

2.12 Gleichungssysteme

Nicht jede Gleichung besitzt nur eine Unbekannte, sondern oftmals mehrere. Mit der richtigen Anzahl von Randbedingungen an diese Gleichung können alle Unbekannten mittels eines Gleichungssystem bestimmt werden. Sei ein allgemeines Gleichungssystem mit zwei Unbekannten als Beispiel gegeben:

$$\begin{array}{l} I. \quad 4a = b - 2 \\ II. \quad 2b = 12a + 8 \end{array} \quad (2.69)$$

Das Gleichungssystem besteht dabei aus zwei Gleichungen mit ihren Bezeichnung (*I.* oder *II.*) vor sich hertragen, welche zur besseren Übersicht dienen. Nun kann durch die Äquivalenzumformung eine der Gleichungen umgestellt werden und dann mittels des Einsetzungsverfahrens in die andere Gleichung eingesetzt werden. Dabei werden die Rechenschritte mit einem horizontalen Strich abgetrennt.

$$\begin{array}{l} I. \quad 4a = b - 2 \\ II. \quad 2b = 12a + 8 \quad | : 2 \\ \hline I. \quad 4a = b - 2 \\ II. \quad b = 6a + 4 \quad | II. \text{ in } I. \\ \hline II. \text{ in } I. \quad 4a = (6a + 4) - 2 \\ II. \text{ in } I. \quad 4a = 6a + 2 \quad | -6a \\ II. \text{ in } I. \quad -2a = 2 \quad | : (-2) \\ II. \text{ in } I. \quad a = -1 \quad | : (-2) \end{array} \quad (2.70)$$

Nachdem eine Unbekannte bestimmt wurde, kann diese in die umgestellte Form der zweiten Gleichung eingesetzt werden, sodass auch die andere Unbekannte ausgerechnet werden kann.

$$\begin{array}{l} II. \quad b = 6a + 4 \quad | \text{ mit } a = -1 \\ II. \quad b = 6 \cdot (-1) + 4 \\ II. \quad b = -2 \end{array} \quad (2.71)$$

Dies ist ein allgemeiner Weg um Gleichungssysteme zu lösen und gilt nicht nur für Gleichungssysteme mit zwei Gleichungen sondern für beliebig viele. Dabei muss immer beachtet werden, dass die Anzahl der Gleichungen mit der Anzahl der Unbekannten übereinstimmt, da das Gleichungssystem ansonsten nicht bestimmt (zu wenige Informationen) oder überbestimmt (zu viele Informationen) ist. Letzteres ermöglicht es dem Rechnenden sich auf die trivialeren Informationen zu beschränken.

2.12.1 Übungsaufgaben zu Gleichungssysteme

Aufgabe 1: *Berechne die Unbekannten.*

- | | | | | | |
|----|----|--|-----|-----|---|
| a) | I. | $a = 3b + 9$ | und | II. | $0 = 5b - a - 6$ |
| b) | I. | $5a - 0,5 = b$ | und | II. | $3a + 3b = 8$ |
| c) | I. | $ab = 24$ | und | II. | $2a + 2b = 20$ |
| d) | I. | $2a = 8b - 6$ | und | II. | $5b = 10a + 35$ |
| e) | I. | $0 = 8b - 2 + 5a$ | und | II. | $\frac{1}{2}b = \frac{1}{4}a - \frac{3}{4}$ |
| f) | I. | $-a = 3b + 7$ | und | II. | $2b + 3a = -4$ |
| g) | I. | $-5a = -\sqrt{2}b + 11,25$ | und | II. | $-3a + 4b = 0$ |
| h) | I. | $\frac{9}{4} - \frac{5}{2}b = 2a$ | und | II. | $0 = 4,5a - 2,3b - 7,6$ |
| i) | I. | $4ab = 40$ | und | II. | $\frac{a+b}{4} = \frac{28}{16}$ |
| j) | I. | $0,7a - 0,1b + 1,3 = 0$ | und | II. | $5(2a - b) = 24$ |
| k) | I. | $64 = a^2b^2$ | und | II. | $16a^2 = 81b^2$ |
| l) | I. | $\frac{4}{3}a + 7 = 3,4b + 1,2$ | und | II. | $\frac{4}{5}a = 2a - 6b + 5$ |
| m) | I. | $\frac{1}{6}a - \frac{5}{9}b = 24$ | und | II. | $0 = -3a - b + \frac{3}{8}$ |
| n) | I. | $\sqrt{5}a - \frac{3b}{5} = 2b - 7a + 4$ | und | II. | $3b = \frac{9}{2}a + 22b - 1$ |
| o) | I. | $3b - 9a = \frac{1}{7}b + \frac{10}{9}$ | und | II. | $0 = -4a + 144$ |
| p) | I. | $3ab - 5b = 6$ | und | II. | $7b - 2a = \frac{3}{2}ab$ |

Aufgabe 2: *Berechne die Unbekannten.*

- a) I. $a = 5c - 3b + 2$ und II. $3b = a - 4b + 2$
 und III. $3a - 5c = 4b - 8$
- b) I. $-4a + 2,5c = 0,5b + 3$ und II. $5c = a - b - c + 3$
 und III. $5b - 4a = -3c + 4$
- c) I. $0 = 3c + 8a - 4c - 5$ und II. $4a = b - 10c$
 und III. $5b + 3a + c - 7 = 0$
- d) I. $\frac{4}{3}a + 7 = 3,4b + 1,2c$ und II. $\frac{4}{5}c = 2a - 6b + 5$
 und III. $\frac{1}{2}a - \frac{2}{3}c = \frac{3}{4} + \frac{4}{5}b$
- e) I. $\frac{1}{6}a + 1 - \frac{5}{9}b = 24c$ und II. $8 = -3a - b + \frac{3}{8}c$
 und III. $7ac = 8b - 6$
- f) I. $2abc = 14$ und II. $2ab = -4ac + 6bc$
 und III. $11c = 9ab - 4b + 10$
- g) I. $0 = \frac{a}{bc} - 5$ und II. $\frac{4a}{7} - c = 9bc - \frac{4}{5}ac$
 und III. $ab - cb - ac = 12 - abc$
- h) I. $\sqrt{bc} = 2a$ und II. $5abc = 32$
 und III. $bc = 34 - a$

Aufgabe 3: *Berechne die Unbekannten.*

a)	I. $a = 2b + 4c - 2d + 1$	und	II. $b = 4d - 2a + 5c - 2$
	und III. $c = 3b - d + 4a - 3$		und IV. $d = 7a - 4b + 10c + 6$
b)	I. $a + b + c + d = 24$	und	II. $\frac{7}{2}a + b = 10 - 2d + \frac{1}{3}c$
	und III. $12a - 4d = 14c + 5$		und IV. $2d + 6c = 4$
c)	I. $a = b + c$	und	II. $4b = -c + 3d$
	und III. $ad - 2c = 8$		und IV. $1, 2c + 1, 6d - 4, 4a = 3 - 0, 8b$
d)	I. $4a - 6b = 8c$	und	II. $\frac{1}{2}c + \frac{4b}{5} = 3 - 7d$
	und III. $0 = a + 2b + 3c + 4d$		und IV. $\frac{3}{4}d - c + 2a = 5 - 1, 3b$
e)	I. $\frac{1}{4}a - 5b = 0$	und	II. $7b + 4 = 11d$
	und III. $6b - a = 1, 5d$		und IV. $2c - \frac{3}{10}d = \frac{2}{5} - b$
f)	I. $ca - bd = 2$	und	II. $ab + dc - 6 = 0$
	und III. $cd = \frac{6}{5}a + 1$		und IV. $9d = -c + 7a$

Die Lösungen zu diesem Abschnitt finden sich im Anhang im Abschnitt (??) Lösungen zu Gleichungssysteme.

2.13 Fakultäten und Binominalkoeffizienten

Einige Abkürzungen werden oft bei der Wahrscheinlichkeitsrechnung sowie bei Reihendarstellungen verwendet. Zu diesen zählen *Fakultäten* und *Binominalkoeffizienten*. So kann zum Beispiel die Rechnung

$$6 \cdot 5 \cdot 4 \cdot 3 \cdot 2 \cdot 1 = 720 \quad (2.72)$$

abgekürzt werden, durch den sogenannten *Fakultätsoperator* !:

$$\begin{aligned} 6! &= 6 \cdot 5 \cdot 4 \cdot 3 \cdot 2 \cdot 1 = 720 \\ \Rightarrow n! &= n \cdot (n-1) \cdot \dots \cdot 2 \cdot 1 \end{aligned} \quad (2.73)$$

Dabei ist die *Fakultät* so definiert, dass $0! := 1$ gilt. Einige Konstellationen mit der *Fakultät* kommen besonders häufig vor. Die am häufigsten vorkommende Anordnung von *Fakultäten* wird *Binomialkoeffizient* genannt und ist definiert durch:

$$\binom{n}{k} = \frac{n!}{k!(n-k)!} \quad (2.74)$$

Generell sollte der Umgang mit neuen Abkürzungen, die neu eingeführt wurden, geübt werden, da in der Mathematik noch viele weitere Abkürzungen warten. So werden zum Beispiel im Kapitel „Reihen“ weitere oft vorkommende Abkürzungen eingeführt.

2.13.1 Übungsaufgaben zu Fakultäten und Binomialkoeffizienten

Aufgabe 1: *Berechne das Ergebnis.*

$$\begin{array}{lll} a) 5! & b) 3! & c) \frac{7!}{5!} \\ d) \frac{3!}{4!} \cdot 0! & e) \frac{(4b)!}{b!} & f) 4! \cdot 3! \cdot 2! \end{array}$$

Aufgabe 2: *Berechne das Ergebnis und vergleiche die ausgerechneten Binomialkoeffizienten mit dem Pascal'schen Dreieck.*

$$\begin{array}{lll} a) \binom{2}{1} & b) \binom{8}{4} & c) \binom{5}{3} \cdot \binom{289}{0} \\ d) \binom{7}{2} & e) \binom{3}{1} & f) \binom{4}{2} \cdot \binom{3}{2} \end{array}$$

Aufgabe 3: *Drücke die Terme durch Fakultäten aus.*

$$\begin{array}{lll} a) 4 \cdot 3 \cdot 2 \cdot 1 & b) 11 \cdot 10 \cdot 9 & c) \frac{6 \cdot 5 \cdot 4}{22 \cdot 21 \cdot 20} \\ d) 3 \cdot 2 \cdot 1 \cdot 9 \cdot 8 \cdot 7 & e) 11 \cdot 21 \cdot 22 \cdot 10 \cdot 9 \cdot 23 & f) \frac{6 \cdot 66 \cdot 4 \cdot 7 \cdot 67 \cdot 5 \cdot 65}{11 \cdot 12 \cdot 13 \cdot 10} \end{array}$$

Aufgabe 4: *Beweise folgende Identitäten.*

$$\begin{array}{l} a) \binom{n}{k} = \binom{n}{n-k} \quad \forall n, k \in \mathbb{N} \wedge n \geq k \\ b) \binom{n}{k} = \binom{n-1}{k-1} + \binom{n-1}{k} \quad \forall n, k \in \mathbb{N} \wedge n \geq k \\ c) \binom{n}{k} = \frac{n}{k} \binom{n-1}{k-1} \quad \forall n, k \in \mathbb{N} \wedge n \geq k \end{array}$$

Die Lösungen zu diesem Abschnitt finden sich im Anhang im Abschnitt (13.6.12) Lösungen zu Fakultäten und Binomialkoeffizienten.

2.14 Gemischte Algebraaufgaben

Aufgabe 1: Sortiere die Zahlen nach ihrer Größe.

a) $\frac{5}{3}$; 1,41; 2,13; $\frac{9}{4}$; $\frac{11}{6}$; 2; $\frac{15}{7}$; 2,26 .

b) $\frac{1}{2}$; $\sqrt{2}$; $\frac{4}{7}$; 0,57; $\sqrt{3}$; $\frac{3}{8}$; 0,45; $\frac{5}{9}$.

c) $\sqrt{5}$; $\frac{7}{3}$; $\sqrt{6}$; 2,51; $\frac{14}{5}$; 2,33; $\frac{37}{16}$; $\frac{17}{6}$.

d) $\ln 36$; π ; $\sqrt{13}$; 3,141; e ; $\frac{13}{4}$; $\frac{19}{6}$; $3,\bar{3}$.

e) 5^2 ; $\frac{51}{2}$; $\sqrt{620}$; 8π ; 3^3 ; $\frac{128}{25}$; 24,79; $\lg 10^{25,01}$.

f) $\frac{1}{\sqrt{2}}$; $\frac{7}{10}$; $\frac{\pi}{4}$; 0,734; $\ln 2$; $\frac{2}{3}$; 0,69; $\frac{e}{3}$.

g) $-\frac{7}{3}$; $-\sqrt{6,25}$; $-\frac{3\pi}{4}$; $(-1,34)^3$; $-\ln \pi^2$; $-\frac{15}{6}$; -2,27; $-\frac{5e}{6}$.

Aufgabe 2: Löse die Gleichungen nach x auf.

a) $(x - 2)(x + 2)$

b) $(x + 3)(x + 1)$

c) $(x - 4)(x - 5)$

d) $(x + 1)(x - 6)$

e) $(x - 2,25)(x + 3,3)$

f) $(x - 1,45)(x + 2,05)$

g) $\left(x - \frac{1}{2}\right)\left(x + \frac{3}{4}\right)$

h) $\left(x + \frac{7}{3}\right)\left(x + \frac{2}{9}\right)$

i) $(x - \sqrt{3})(x + \sqrt{2})$

j) $(x - \ln 2)\left(x - \sqrt[3]{e\pi^4}\right)$

Aufgabe 3: Stelle die Gleichung nach der fehlenden Variable um und setze anschließend die gegebenen Werte ein, um das Ergebnis zu berechnen.

- a) $x = vt$ mit: $v = \frac{11}{2}$ und $x = \frac{3}{4}$
- b) $V = abc$ mit: $V = 5$; $a = 2,25$ und $b = \frac{1}{6}$
- c) $V = \frac{1}{3}Gh$ mit: $h = \frac{8}{5}$ und $V = 8$
- d) $x = \frac{1}{2}at^2$ mit: $t = \frac{3}{4}$ und $x = \frac{4}{3}$
- e) $x = \frac{1}{2}at^2$ mit: $a = \frac{9}{2}$ und $x = \frac{1}{8}$
- f) $U = I(R_1 + R_2)$ mit: $U = 20$; $I = 3$ und $R_1 = 470$
- g) $U = \frac{I}{\frac{1}{R_1} + \frac{1}{R_2}}$ mit: $U = -240$; $I = -5$ und $R_2 = 1000$
- h) $O = 2ab + 2ac + 2bc$ mit: $a = 7$; $b = \frac{9}{5}$ und $O = 144$
- i) $c^2 = a^2 + b^2$ mit: $c = \frac{7}{8}$ und $a = \frac{2}{3}$
- j) $a = \sqrt{c^2 - b^2}$ mit: $c = \sqrt{8}$ und $a = \sqrt{5}$
- k) $A = \frac{a+c}{2}h$ mit: $c = 41$; $A = 83$ und $h = 8$
- l) $V = \frac{s^3}{12}\sqrt{2}$ mit: $V = 81$
- m) $O = \pi(r_1^2 + r_2^2 + s_1(r_1 + r_2))$ mit: $O = 5$; $r_1 = \sqrt{3}$ und $r_2 = \frac{5}{3}$
- n) $A = \frac{\pi\alpha}{360}r^2 - \frac{sh}{2}$ mit: $A = \frac{10}{3}$; $\alpha = 44,7$; $h = \sqrt{5}$ und $s = \ln 4$
- o) $O = \pi(r_1^2 + r_2^2 + s_1(r_1 + r_2))$ mit: $O = 3,4$; $r_1 = \frac{1}{10}$ und $s_1 = \sqrt{2}$
- p) $f = ax^2 + bx + c$ mit: $f = 0$; $a = 3$; $b = \frac{5}{2}$ und $c = -4$
- q) $x = \frac{1}{2}at^2 + vt + s$ mit: $a = 11$; $x = 50$; $v = \frac{5}{4}$ und $s = \ln 5$
- r) $N = Ae^{\lambda t}$ mit: $N = 22500$; $A = 12000$ und $t = 365,249$

Aufgabe 4: Berechne alle freien Zellen der Tabelle. Die Rechenvorschriften sind jeweils in der ersten Spalte gegeben.

	1	2	3	4	5	6	7
v	1	2	1,75	$\frac{1}{2}$	$\frac{2}{5}$	$-\frac{6}{5}$	$\sqrt{2}$
t	2	4	2,25	$\frac{3}{4}$	$\frac{1}{4}$	$\frac{4}{3}$	$\sqrt{3}$
$a = v \cdot t$	2						
$x = \frac{1}{2}at^2 + vt$	6						
$\gamma = \frac{1}{\sqrt{1-\frac{v^2}{9}}}$	$\approx 1,06$						
$L = \frac{x}{\gamma}$	$\approx 5,66$						
$m = \frac{4}{3}\pi x^3$	$\approx 904,78$						
$F = m\gamma a$	$\approx 1919,22$						
$r = \frac{\gamma a}{v^2}$	2,12						
$E = \frac{1}{2}mv^2$	$\approx 1809,56$						
$h = \frac{E}{F}$	$\approx 0,94$						

Aufgabe 5: Formuliere aus den Bedingungen mathematische Gleichungen und finde die Werte der Parameter, die das Gleichungssystem lösen.

Aufgabe 6: Schreibe die Aufgabe so um, dass sie kürzer wird.

a) $\bullet + 0 =$

c) $\bullet + \bullet =$

e) $\bullet + (\bullet + \bullet) =$

g) $(\bullet \cdot \bullet) \cdot \bullet =$

i) $\bullet + \bullet - \bullet - \bullet =$

b) $\bullet - 0 =$

d) $\bullet + \bullet + \bullet =$

f) $(\bullet + \bullet) + \bullet =$

h) $\bullet \cdot (\bullet \cdot \bullet) =$

j) $\bullet \cdot \bullet - \bullet \cdot \bullet =$

Aufgabe 7: Schreibe die Aufgabe so um, dass daraus ein Bruch wird oder eine Zahl.

a) $\bullet \cdot 1 =$

c) $\frac{\bullet}{\bullet} =$

e) $\bullet \cdot \frac{\bullet}{\bullet} =$

g) $\frac{\bullet}{\bullet} \cdot \frac{\bullet}{\bullet} =$

i) $\frac{\bullet}{\bullet} : \frac{\bullet}{\bullet} =$

k) $\frac{\bullet}{\bullet} \cdot \frac{\bullet}{\bullet} \cdot \bullet =$

m) $\frac{\bullet}{\bullet} + \frac{\bullet}{\bullet} =$

o) $\frac{\bullet}{\bullet} + \bullet =$

b) $\frac{\bullet}{1} =$

d) $\frac{\bullet \cdot \bullet}{\bullet \cdot \bullet} =$

f) $\frac{\bullet \cdot \bullet \cdot \bullet \cdot \bullet}{\bullet \cdot \bullet \cdot \bullet} =$

h) $\frac{\bullet \cdot \bullet \cdot \bullet}{\bullet \cdot \bullet \cdot \bullet} =$

j) $\frac{\bullet \cdot \bullet \cdot \bullet}{\bullet \cdot \bullet \cdot \bullet} =$

l) $\frac{\bullet \cdot \bullet \cdot \bullet}{\bullet \cdot \bullet \cdot \bullet} =$

n) $\frac{\bullet}{\bullet} - \frac{\bullet}{\bullet} =$

p) $\frac{\bullet}{\bullet} - \bullet =$

Aufgabe 8: Schreibe die Aufgabe durch Ausmultiplizieren oder Benutzen von Potenzgesetzen um.

a) $(\bullet + \bullet) \cdot \bullet =$

c) $-(\bullet + \bullet) =$

e) $\bullet \cdot (\bullet - \bullet) \cdot \bullet =$

g) $(\bullet + \bullet) \cdot (\bullet + \bullet) =$

i) $(\bullet - \bullet) \cdot (\bullet - \bullet) =$

k) $\bullet \cdot \bullet =$

m) $\bullet \cdot \bullet \cdot \bullet =$

o) $\frac{\bullet}{\bullet} =$

b) $\bullet \cdot (\bullet + \bullet) =$

d) $-\bullet \cdot (\bullet - \bullet) =$

f) $\bullet \cdot (\bullet - \bullet + \bullet) =$

h) $(\bullet + \bullet) \cdot (\bullet + \bullet) =$

j) $(\bullet + \bullet) \cdot (\bullet - \bullet) =$

l) $\bullet \cdot \bullet \cdot \bullet \cdot \bullet =$

n) $(\bullet)^{\bullet} =$

p) $(\bullet)^{\bullet} =$

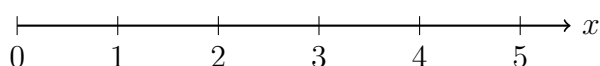
Die Lösungen zu diesem Abschnitt finden sich im Anhang im Abschnitt (13.6.13) Lösungen zu den gemischten Algebraaufgaben.

3 Geometrie

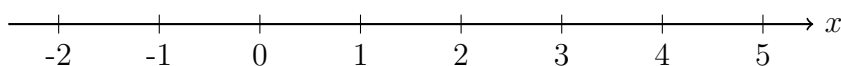
Eines der zentralen Themen der Mathematik in der Schule ist die *Geometrie*. Dies ist dem Fakt geschuldet, dass geometrischen Formen im menschlichen Alltag überall vorzufinden sind und viele Vorgänge durch sie beeinflusst werden.

3.1 Zahlenstrahl

Der *Zahlenstrahl* ist eine Linie, an der es möglich ist Zahlen in regelmäßigen *Abständen* vorzufinden. Diese Linie ist eine *Halbgerade*, also eine gerade Linie mit einem Anfangspunkt (beim Zahlenstrahl wäre dies die 0) aber keinen Endpunkt. Durch die Einführung ganzer Zahlen \mathbb{Z} ¹ wird aus dieser *Halbgeraden* eine *Gerade*, welche weder Anfangs- noch Endpunkt besitzt.



Halbgerade (Zahlenstrahl nur mit \mathbb{N})



Gerade (Zahlenstrahl mit \mathbb{Z})

Eine wichtige Eigenschaft des *Zahlenstrahls* ist, dass ein Einheitenschritt (also der *Abstand* von 1 bis nach 2) beliebig groß sein kann. Allerdings müssen alle Einheitenschritte die gleichen *Abstände* haben - es wird von *äquidistanten Abständen* gesprochen. Das x am *Zahlenstrahl* beschreibt den Namen der *Dimension*, auf der sich die Zahlen befinden.

3.1.1 Intervalle

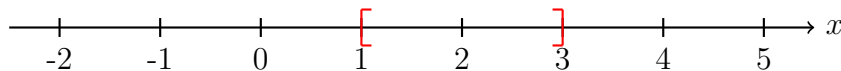
Intervalle sind festgelegte Bereiche auf einem *Zahlenstrahl*. Diese Bereiche können in verschiedene Gruppen eingeteilt werden. Dabei werden die Anfangs- und Endzahlenwerte des *Intervalls* entweder mit (*inklusive Intervallgrenze*) oder nicht (*exklusive Intervallgrenze*) berücksichtigt. Folglich existieren vier verschiedene mögliche Typen von *Intervallen*:

- Beide *Grenzen* des *Intervalls* sind inklusiv, was durch folgenden Formalismus beschrieben wird:

¹ $\mathbb{Z} = \{\dots, -2, -1, 0, 1, 2, \dots\}$

$$[1, 3] = \{x \in \mathbb{R} \mid 1 \leq x \leq 3\} \quad . \quad (3.1)$$

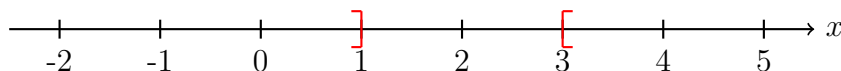
Das *Intervall* von *inklusiv* 1 bis *inklusiv* 3 ist gegeben durch alle Zahlen x zwischen 1 und 3 mit den Zahlen 1 und 3. Graphisch veranschaulichen lässt sich dies durch den *Zahlenstrahl*:



- Beide *Grenzen* des *Intervalls* sind *exklusiv*, was durch folgenden Formalismus beschrieben wird:

$$(1, 3) =]1, 3[= \{x \in \mathbb{R} \mid 1 < x < 3\} \quad . \quad (3.2)$$

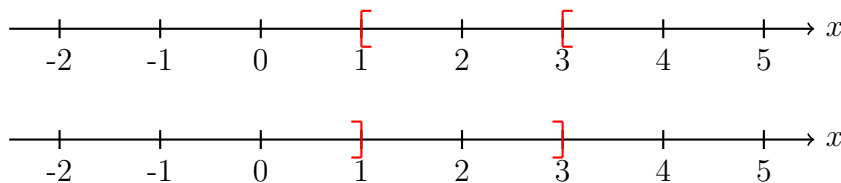
Das *Intervall* von *exklusiv* 1 bis *exklusiv* 3 ist gegeben durch alle Zahlen x zwischen 1 und 3. Graphisch veranschaulichen lässt sich dies durch den *Zahlenstrahl*:



- Eine *Grenzen* des *Intervalls* ist *inklusiv* und die andere *exklusiv*, was durch folgenden Formalismus beschrieben wird:

$$\begin{aligned} [1, 3) &= [1, 3[= \{x \in \mathbb{R} \mid 1 \leq x < 3\} \quad , \\ (1, 3] &=]1, 3] = \{x \in \mathbb{R} \mid 1 < x \leq 3\} \quad . \end{aligned} \quad (3.3)$$

Graphisch lässt sich dies durch den *Zahlenstrahl* veranschaulichen:



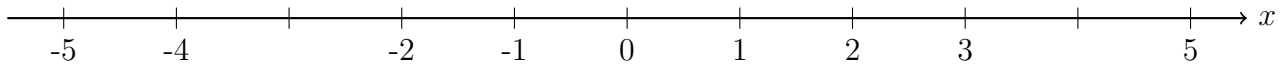
Intervalle werden dazu benötigt um *Lösungsmengen* für bestimmte Probleme anzugeben. Dies wird besonders wichtig, wenn die *Funktionen* eingeführt werden.

Der *Zahlenstrahl* ist ein *eindimensionales* Objekt, da es nur möglich ist sich nach Vorne oder Hinten auf dem *Zahlenstrahl* zu bewegen. Andere Objekte dieser Art sind *Geraden* und *Halbgeraden* im Allgemeinen. Außerdem existieren noch *Strecken*, welche im nachfolgenden Abschnitt erläutert werden.

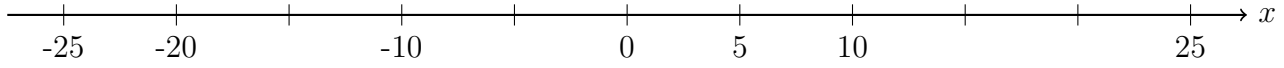
3.1.2 Übungsaufgaben zum Zahlenstrahl

Aufgabe 1: Trage die fehlenden Zahlen ein.

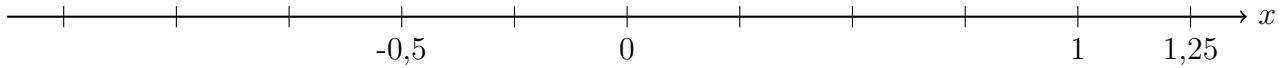
a)



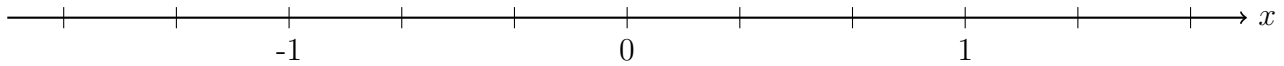
b)



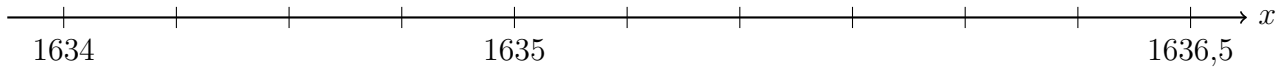
c)



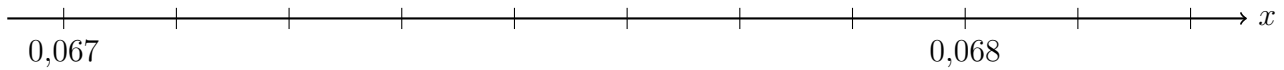
d)



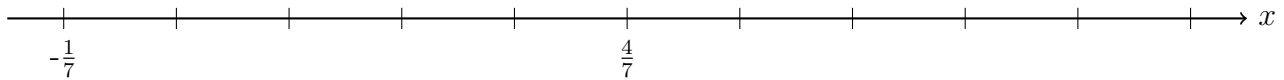
e)



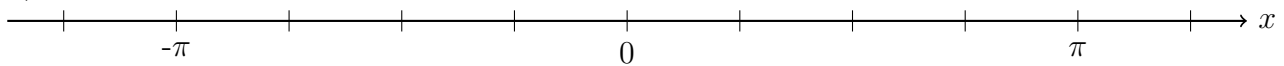
f)



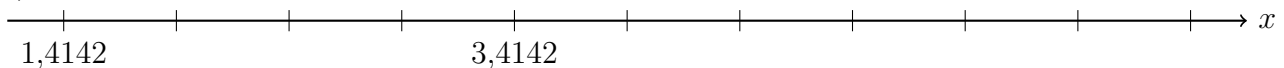
g)



h)



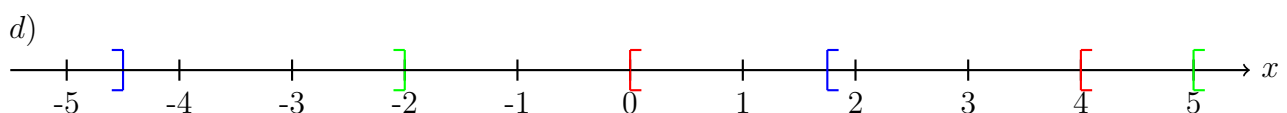
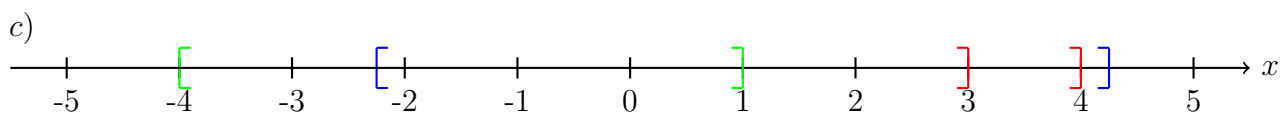
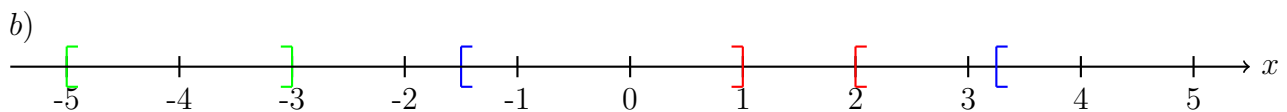
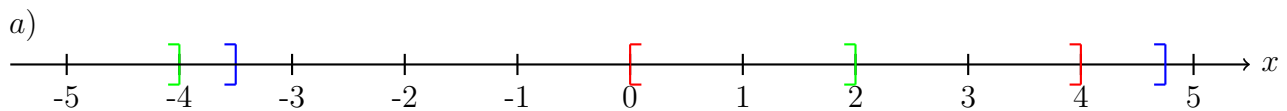
i)



Aufgabe 2: Trage die Intervalle auf einen Zahlenstrahl ein.

- | | | |
|-------------|-----------------|---|
| a) $[0, 5]$ | b) $[-1, 3]$ | c) $\left[-\frac{1}{2}, \frac{9}{4}\right]$ |
| d) $]3, 6[$ | e) $] - 4, -2[$ | f) $\left]-\frac{8}{5}, \frac{17}{8}\right[$ |
| g) $[2, 4[$ | h) $[-4, 1[$ | i) $\left[\frac{1}{4}, \frac{15}{4}\right[$ |
| j) $]1, 7]$ | k) $] - 6, 6]$ | l) $\left]-\frac{17}{5}, -\frac{1}{2}\right]$ |

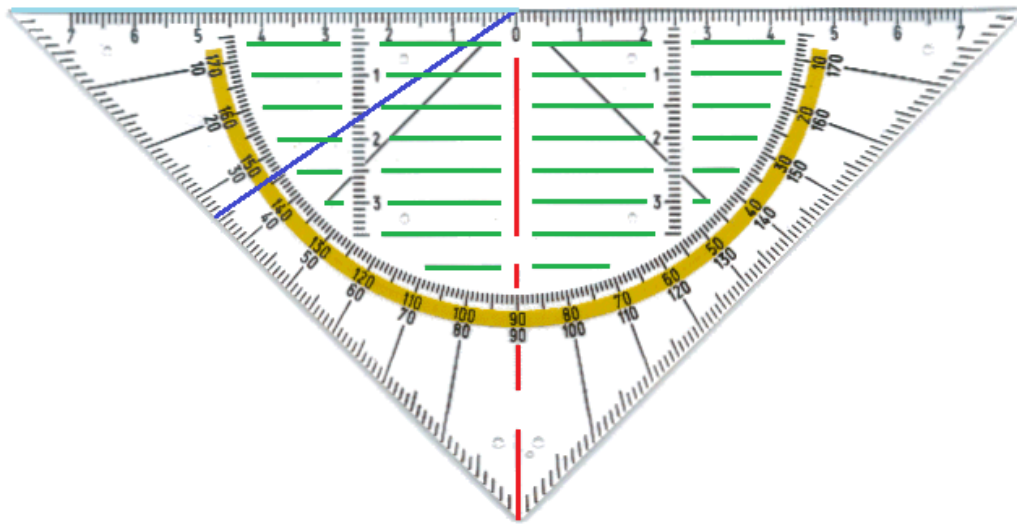
Aufgabe 3: Schreibe die eingezeichneten Intervalle der Zahlenstrahl auf.



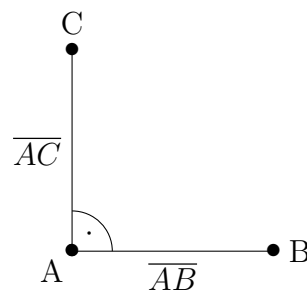
Die Lösungen zu diesem Abschnitt finden sich im Anhang im Abschnitt (13.6.14) Lösungen zum Zahlenstrahl.

3.2 Winkel

Als wichtigster Bestandteil der *Geometrie* in der Schule kann das Geodreieck angesehen werden und sollte in keinem naturwissenschaftlichen und mathematischen Unterricht fehlen.



In der Abbildung mit dem Geodreieck wurden zusätzliche farbige *Strecken* eingefügt, an denen die Funktionsweise des Geodreiecks erklärt werden kann. *Strecken* sind im Allgemeinen gerade Linien mit einem Anfangs- und einem Endpunkt. Eine *Strecke* zwischen den *Punkten* A und B wird durch \overline{AB} verschriftlicht. Die wohl bedeutendste *Strecke* auf dem Geodreieck ist die Nulllinie, welche auch Mittellinie oder Orthogonalitätslinie genannt wird. Diese *Strecke* ist rot markiert. Wenn das Geodreieck so auf eine gezeichnete Linie gelegt wird, dass die Linie von der Nulllinie verdeckt wird, dann kann ein sogenannter *rechter Winkel* zu dieser Linie eingezeichnet werden. Ein solcher *rechter Winkel* zwischen den zwei *Strecken* \overline{AB} und \overline{AC} würde wie folgt aussehen:

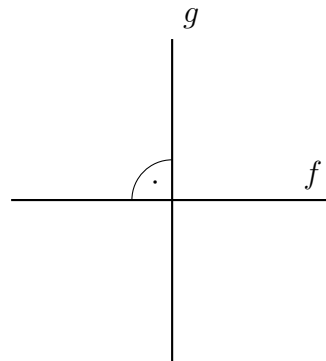


Ein *Winkel* zwischen zwei *Strecken* wird durch einen Bogen beschrieben und der Wert in ihm eingetragen. Dabei stellt der *rechte Winkel* aufgrund seiner Relevanz für die Mathematik und Naturwissenschaften eine Besonderheit da, denn statt den Wert 90° , wie auf dem Geodreieck abzulesen ist, einzutragen, wird stattdessen als abkürzende Schreibweise ein *Punkt* in den *Kreisbogen* gesetzt. *Winkel* werden in der *Geometrie* nahezu immer in der *Einheit Grad* $^\circ$ gemessen, wobei die *Zahl* für einen *rechten Winkel* in der Geschichte irgendwann willkürlich festgelegt wurde. Es gibt noch andere *Einheiten* für die *Winkelmessung*, die sich bis heute nicht in der *Geometrie* durchgesetzt haben. Im Kapitel „Funktionen“ wird noch eine Umrechnung zu einer anderen *Einheit* vorgenommen, da es sich im dortigen Zusammenhang lohnt eine neue

Einheit für die *Winkel* einzuführen. Die mathematische Schreibweise eines *Winkels* am oben gezeigten Beispiels ist wie folgt definiert:

$$\sphericalangle(\overline{AB}, \overline{AC}) = 90^\circ \quad (3.4)$$

und wird gelesen als „Der *Winkel* zwischen der *Strecke* \overline{AB} und der *Strecke* \overline{AC} ist gleich 90° .“ *Winkel* können nicht nur zwischen *Strecken* zu finden sein sondern auch zwischen *Geraden*. *Geraden* sind Linien ohne Anfangs- und Endpunkt. Die *Strecken* \overline{AB} und \overline{AC} werden auch *Schenkel* des *Winkels* genannt.



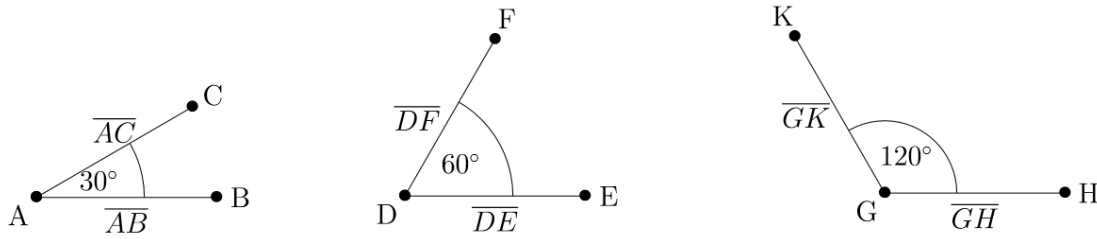
Die Abbildung zeigt einen *rechten Winkel* zwischen der *Gerade* f und g : $\sphericalangle(f, g) = 90^\circ$. Die Eigenschaft, dass *Strecken* und/oder *Geraden* einen *rechten Winkel* zu einander haben, wird *Orthogonalität* genannt. Es wird davon gesprochen, dass zum Beispiel zwei *Geraden orthogonal* zu einander sind (oft wird auch der Begriff „senkrecht“ verwendet). Abkürzend wird die *Orthogonalität* der *Strecken* und *Geraden* in den Beispielen so ausgedrückt:

$$\begin{aligned} \overline{AB} \perp \overline{AC} \\ f \perp g \end{aligned} \quad (3.5)$$

Wie das Geodreieck schon vermuten lässt, gibt es nicht nur *rechte Winkel* sondern sechs andere Einordnungen in Gruppen von *Winkeln*. Dazu ist es unerlässlich *Winkel* messen zu können. Hierfür wird das Geodreieck so positioniert, dass sich der *Schnittpunkt* der Linien direkt auf der Null befindet. Dann muss die erste Linie so ausgerichtet werden, dass sie genau auf der hellblauen Linie liegen würde und die zweite Linie sich unter dem Geodreieck befindet. Diese zweite Linie trifft dann auf eine Gradzahlmarkierung, welche dann den Wert der Winkelgröße angibt. In der Abbildung mit dem Geodreieck sei die dunkelblaue Linie die zweite Linie. Sie trifft die Winkelmarkung (beim gelben Bogen) bei 34° und somit hat der *Winkel* zwischen den blauen Linien auch genau diese Größe. Wenn der *Winkel* allerdings größer als 90° ist, dann müssen die anderen Zahlen (in diesem Fall die gelb unterlegten) verwendet werden.

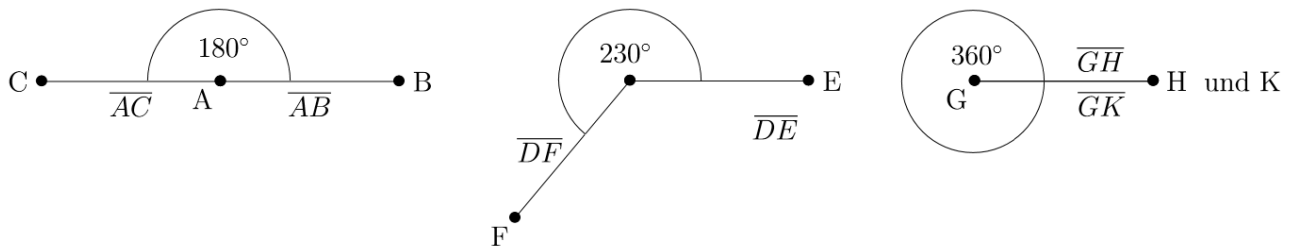
Winkel werden in verschiedene Gruppen eingeordnet. Die ersten drei Arten von *Winkel* können anhand der folgenden drei Beispiele dargestellt werden:

Dabei wird bei einem *Winkel* zwischen 0° und 45° von einem *überspitzten Winkel* gesprochen ($0^\circ < \sphericalangle(\overline{AB}, \overline{AC}) < 45^\circ$). Bei *Winkeln* ab 45° bis 90° ist die Rede von einem *spitzen Winkel*



($45^\circ \leq \angle((\overline{DE}, \overline{DF})) < 90^\circ$). Während ein *Winkel* zwischen 90° und 180° *stumpfer Winkel* genannt wird ($90^\circ < \angle((\overline{GH}, \overline{GK})) < 180^\circ$).


Auch die *Winkel* ab 180° können in drei Gruppen einsortiert werden.



Wobei ein *Winkel* von 180° *gestreckter Winkel* genannt wird ($\angle((\overline{AB}, \overline{AC})) = 180^\circ$). Bei *Winkeln* zwischen 180° und 360° ist die Rede von einem *überstumpfen Winkel* ($180^\circ < \angle((\overline{DE}, \overline{DF})) < 360^\circ$). Abschließend existiert noch ein *Winkel* von 360° , welcher als *voller Winkel* bezeichnet wird ($\angle((\overline{GH}, \overline{GK})) = 360^\circ$).

Überstumpfe Winkel können mit einem Geodreieck nicht direkt gemessen werden, allerdings kann der andere nicht gesuchte *Winkel* abgelesen werden. Danach bedarf es nur einer kleinen Rechnung, um den Wert für den *überstumpfen Winkel* zu erhalten. Dabei wird der abgelesene Wert des nicht gesuchten *Winkels* von einem vollen *Winkel* 360° *subtrahiert*.

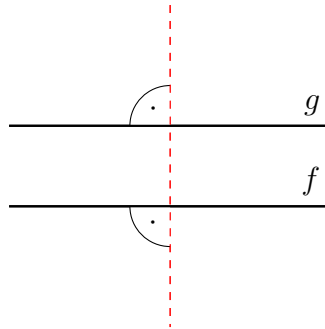
Allerdings gibt es auch *Strecken* und *Geraden*, welche sich nicht schneiden, sodass eine *Winkelbestimmung* entweder schwer oder gar unmöglich wird. Wenn zwei Linien immer den gleichen *Abstand* zu einander haben, dann wird dies *Parallelität* der Linien genannt. Mit den grünen Linien des Geodreiecks kann dies getestet werden.



Die beiden *Geraden* f und g sind *parallel* zu einander, da sie immer den gleichen *Abstand* zu einander haben. Mathematisch wird dies ausgedrückt durch:

$$f \parallel g \tag{3.6}$$

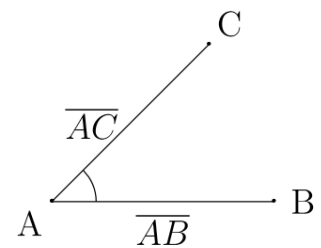
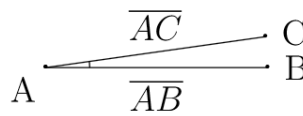
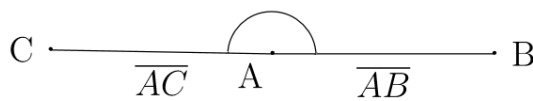
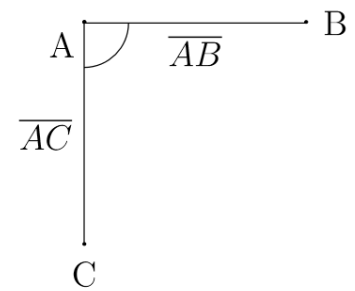
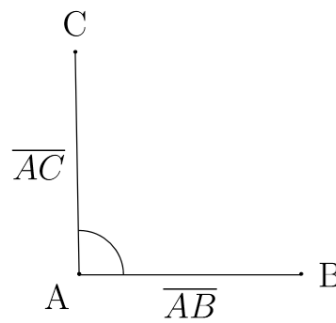
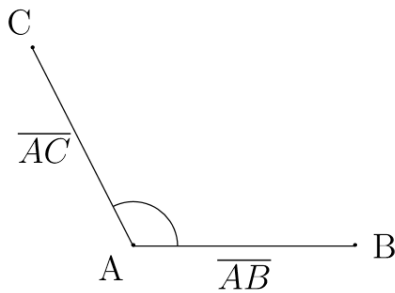
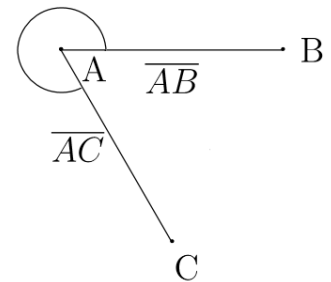
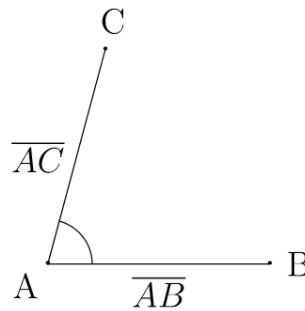
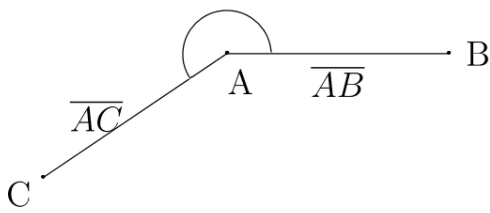
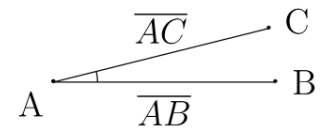
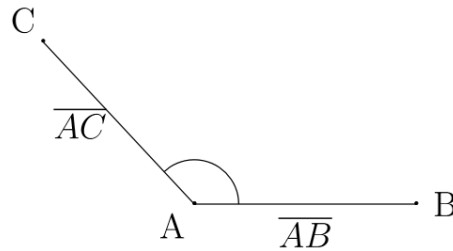
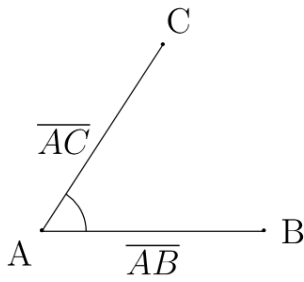
Die *Parallelität* zwischen zwei Linien kann auch überprüft werden, indem eine *orthogonale* Linie zur ersten Linie gezogen wird. Wenn diese auch wieder *orthogonal* zur zweiten Linie ist, ist dies ebenso ein Anzeichen für die *Parallelität*.



Im Großen und Ganzen können viele wichtige Eigenschaften der geometrischen Körper durch *Winkel* und durch *Parallelität* sowie *Orthogonalität* beschrieben werden, sodass diese Begriffe von jedem Schüler verinnerlicht sein sollten.

3.2.1 Übungsaufgaben zu Winkeln

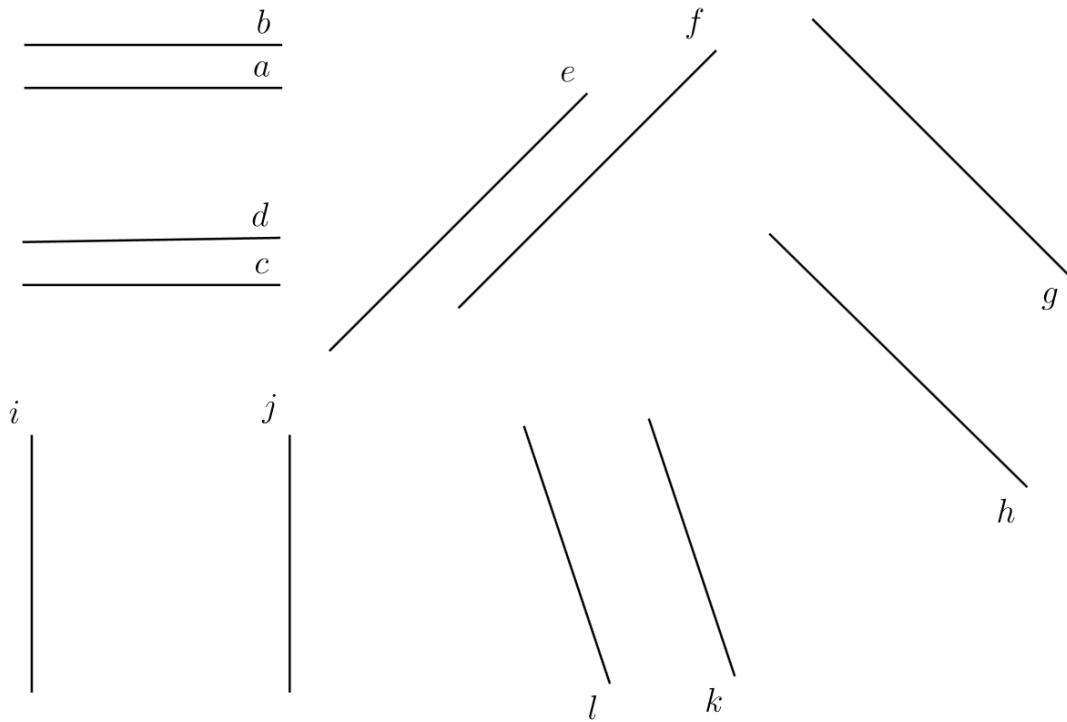
Aufgabe 1: Bestimme die Winkel und ordne sie den Kategorien zu.



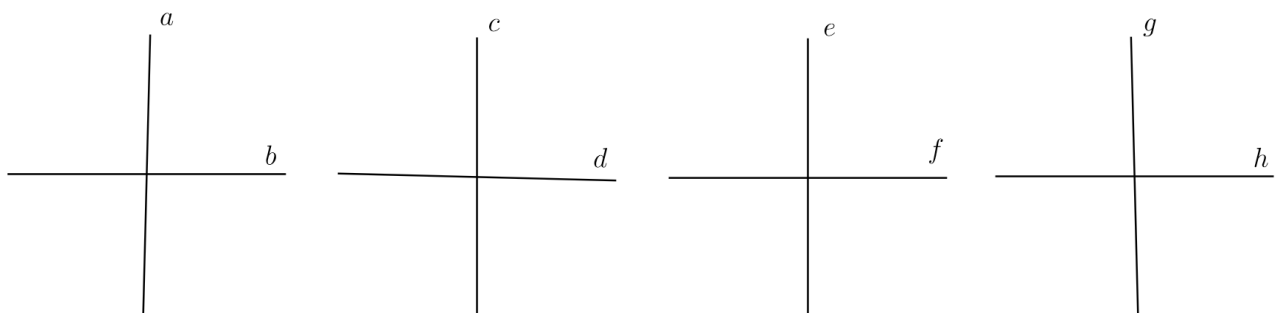
Aufgabe 2: Zeichne die folgenden Winkel.

148° 27° 59° 90° 210° 180° 11° 70°
 30° 60° 120° 330° 267° 240° 94° 5°

Aufgabe 3: Teste auf Parallelität.



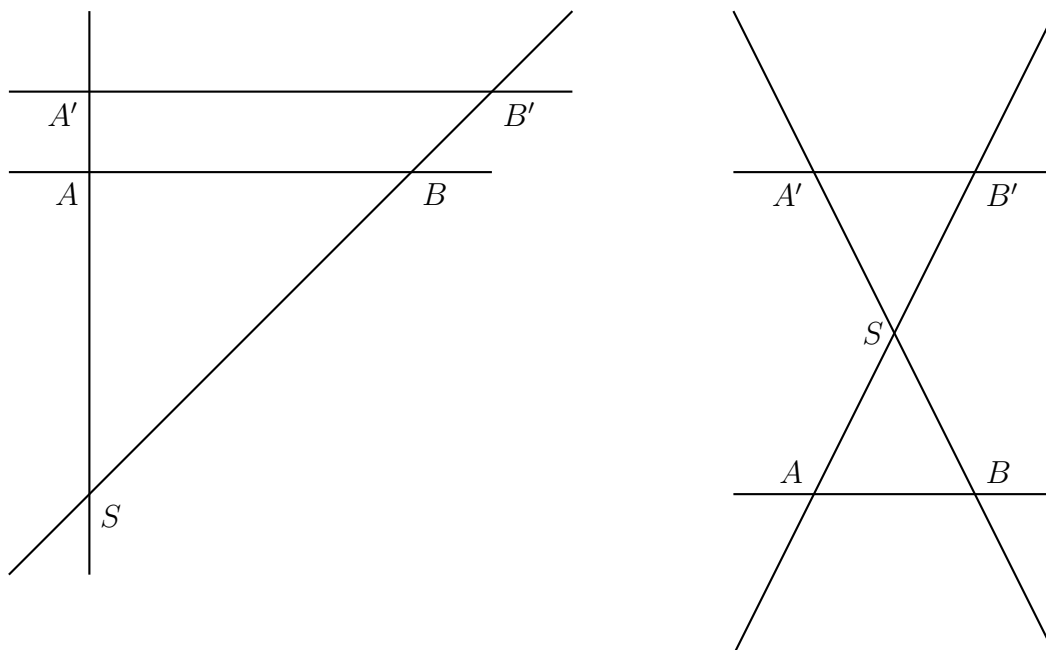
Aufgabe 4: Teste auf Orthogonalität.



Die Lösungen zu diesem Abschnitt finden sich im Anhang im Abschnitt (13.6.15) Lösungen zu Winkeln.

3.3 Strahlensatz

Der *Strahlensatz* wird gerne verwendet um *Streckenlängen* zu bestimmen. Dazu müssen zwei *Geraden parallel* zu einander sein und zwei weitere *Geraden* sich in einem *Punkt* schneiden.



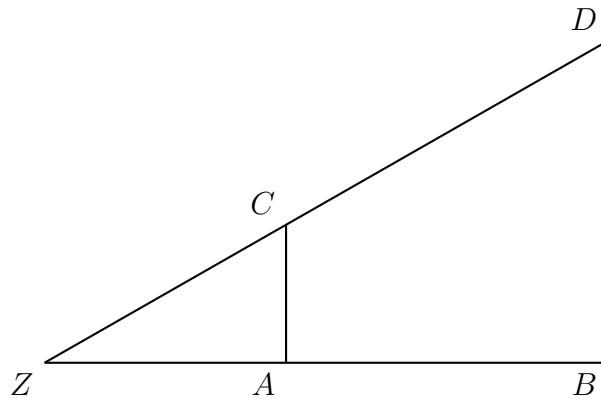
Die Abbildung veranschaulicht diese Bedingung auf die zwei möglichen Arten. Deutlich zu erkennen ist, dass dabei die *parallelen Geraden* auf einer Seite des *Schnittpunktes* oder auf unterschiedlichen Seiten befinden dürfen. Hierbei können Verhältnisse zwischen den jeweiligen *Strecken* aufgestellt werden. So verhält sich \overline{AB} zu $\overline{A'B'}$ wie \overline{AS} zu $\overline{A'S}$. Es gibt noch weitere solche Beziehungen, darunter auch diese:

$$\begin{aligned}
 \frac{\overline{AS}}{\overline{BS}} &= \frac{\overline{A'S}}{\overline{B'S}} \\
 \frac{\overline{BS}}{\overline{B'S}} &= \frac{\overline{AB}}{\overline{B'A'}} \\
 \frac{\overline{AS}}{\overline{A'S}} &= \frac{\overline{AB}}{\overline{B'A'}} \quad (3.7)
 \end{aligned}$$

Der *Strahlensatz* wird nach der Behandlung des *Dreiecks* deutlich an Bedeutung verlieren, deswegen soll er auch nur eine Randnotiz dieses Buches sein.

3.3.1 Übungsaufgaben zum Strahlensatz

Aufgabe 1: Berechne mit dem Strahlensatz für die folgenden Werte die jeweils fehlenden Strecken.

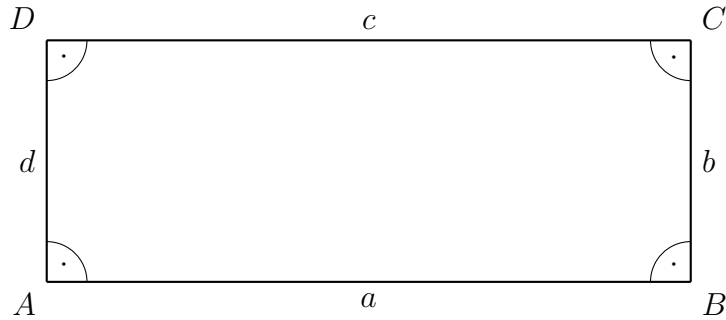


- a) $\overline{ZA} = 5$; $\overline{ZB} = 9$; $\overline{AB} =$; $\overline{DB} = 4$; $\overline{AC} =$
 b) $\overline{ZD} = 12$; $\overline{ZC} = 8$; $\overline{DC} = 4$; $\overline{DB} =$; $\overline{AC} =$
 c) $\overline{ZA} =$; $\overline{ZB} = 2$; $\overline{AB} = \frac{8}{11}$; $\overline{DB} = 7$; $\overline{AC} = 11$
 d) $\overline{ZA} = 5$; $\overline{ZB} = 8$; $\overline{AB} =$; $\overline{ZD} =$; $\overline{ZC} = 4$; $\overline{DC} =$
 e) $\overline{ZA} =$; $\overline{ZB} = \frac{3}{4}$; $\overline{AB} =$; $\overline{DB} = \frac{1}{3}$; $\overline{AC} = \frac{7}{5}$
 f) $\overline{ZD} = \pi$; $\overline{ZC} = \sqrt{2}$; $\overline{DC} =$; $\overline{DB} = e$; $\overline{AC} =$;

Die Lösungen zu diesem Abschnitt finden sich im Anhang im Abschnitt (13.6.16) Lösungen zum Strahlensatz.

3.4 Rechteck

Nachdem *Winkel* anhand von *Strecken* und *Geraden* eingeführt wurden und somit der erste Kontakt mit einer *Ebene*, also einer Ausdehnung in zwei *Dimensionen*, werden nun weitere wichtige Größen für zweidimensionale Körper am *Rechteck* eingeführt. Ein *Rechteck* ist eine *geometrisches* Objekt, welches aus vier *rechten Winkel* besteht. Somit hat ein *Rechteck* insgesamt eine *Winkelsumme* von 360° . Außerdem besitzt jedes *Rechteck* vier *Seiten*. Dabei sind die gegenüber liegenden *Seiten* gleich lang und *parallel* zu einander.



Die Abbildung zeigt, wie die *Seiten* und die *Eckpunkte* eines *Rechtecks* benannt werden. Es gilt, wie bereits erwähnt, dass $\overline{AB} = a = c = \overline{CD}$ und $\overline{BC} = b = d = \overline{DA}$. Die *Strecken* \overline{DB} und \overline{AC} werden *Diagonalen* genannt.

Die bedeutendste *zweidimensionale Größe* von zweidimensionalen *geometrischen* Objekten ist der sogenannte *Flächeninhalt* A . Dieser gibt an wie groß die *Fläche* ist, welche durch die *Seiten* eingerahmt wurde. Dabei ist eine *Fläche* immer vorhanden, wenn zwei Richtungen, also *Dimensionen*, betrachtet werden. Ein Blatt Papier, ein Tisch und auch die Tafel bilden jeweils eine *Fläche*. Die *Fläche* wird in Quadratmeter $1m^2$ gemessen. Dabei ist ein Quadratmeter eine *Fläche* die von einem *Rechteck* eingeschlossen wird von einem Meter $a = 1m$ mal einem Meter $b = 1m$: $1m \cdot 1m = 1m^2$. Somit ist der *Flächeninhalt* A gegeben durch das *Produkt* der beiden *Seiten* a und b .

$$A = a \cdot b \quad (3.8)$$

Die zweite wichtige *Größe* ist der *Umfang* U , welcher den *Rand* der *Fläche* markiert und selbst eine *eindimensionale Größe* ist. Der *Umfang* U ist die *Summe* aller *Strecken*, somit ergibt sich für ein *Rechteck*:

$$U = 2a + 2b \quad (3.9)$$

3.4.1 Übungsaufgaben zu Rechtecken

Aufgabe 1: Bestimme Umfang U und den Flächeninhalt A für die gegebenen Werte von Rechtecken.

a) $a = 3\text{cm}$ und $b = 6\text{cm}$

c) $a = 9\text{cm}$ und $b = 12\text{cm}$

e) $a = 27\text{cm}$ und $b = 3\text{cm}$

g) $a = 0,5\text{cm}$ und $b = 2\text{cm}$

i) $a = \frac{5}{6}\text{cm}$ und $b = \frac{10}{7}\text{cm}$

k) $a = \sqrt{2}\text{cm}$ und $b = \sqrt{3}\text{cm}$

m) $a = 2^3\text{cm}$ und $b = 4^{-1}\text{cm}$

b) $a = 2\text{cm}$ und $b = 7\text{cm}$

d) $a = 4\text{cm}$ und $b = 17\text{cm}$

f) $a = 1,5\text{cm}$ und $b = 60\text{cm}$

h) $a = \frac{3}{4}\text{cm}$ und $b = \frac{6}{5}\text{cm}$

j) $a = \frac{3}{10}\text{cm}$ und $b = \frac{11}{12}\text{cm}$

l) $a = \ln 5\text{cm}$ und $b = \lg 12\text{cm}$

n) $a = e\text{cm}$ und $b = \pi\text{cm}$

Aufgabe 2: Bestimme Umfang U und den Flächeninhalt A für die gegebenen Werte von Rechtecken. Gib das Ergebnis in der Einheit der längeren Seite an. Runde dabei das Ergebnis bis auf drei Nachkommastellen.

a) $a = 3\text{dm}$ und $b = 6\text{cm}$

c) $a = 4,2\text{m}$ und $b = 430\text{cm}$

e) $a = \frac{1}{9}\text{cm}$ und $b = 27\text{dm}$

g) $a = \frac{3}{4}\text{mm}$ und $b = \frac{5}{7}\text{dm}$

i) $a = \sqrt{111}\text{cm}$ und $b = 120\text{mm}$

b) $a = \frac{1}{2}\text{dm}$ und $b = 90\text{mm}$

d) $a = 2\text{mm}$ und $b = 2\text{cm}$

f) $a = 1,125\text{km}$ und $b = 8000\text{m}$

h) $a = \frac{4}{5}\text{m}$ und $b = \frac{11}{2}\text{cm}$

j) $a = \sqrt{83}\text{mm}$ und $b = \frac{11}{13}\text{cm}$

Aufgabe 3: Bestimme Umfang U , Flächeninhalt A , Länge a und Breite b der jeweiligen Rechtecke.

a) $A = 12\text{cm}^2$ und $b = 3\text{cm}$

b) $U = 36\text{cm}$ und $a = 6\text{cm}$

c) $a = 11\text{cm}$ und $b = 5\text{dm}$

d) $A = 156\text{cm}^2$ und $b = 1,3\text{dm}$

e) $U = 15\text{dm}$ und $b = \frac{1}{16}\text{m}$

f) $A = \frac{72}{45}\text{cm}^2$ und $a = \frac{80}{9}\text{mm}$

g) $U = 56\text{dm}$ und $A = \frac{3}{4}\text{m}^2$

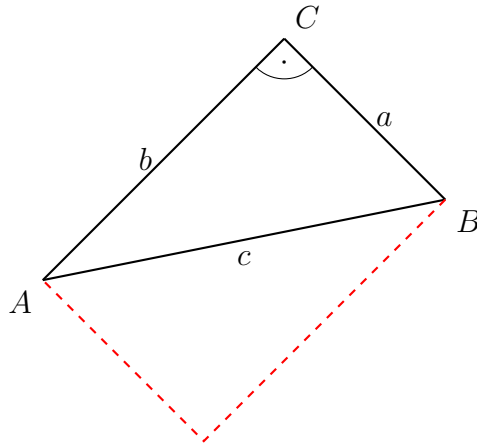
h) $A = \frac{4}{17}\text{mm}^2$ und $U = \frac{83}{11}\text{mm}$

Aufgabe 4: Ein rechteckiger Kuchen mit der Länge a und der Breite b soll zur Hälfte in Stücke mit Rand und zur Hälfte in Stücke ohne Rand zu teilen. Berechne alle möglichen Schnittkombinationen die möglich sind.

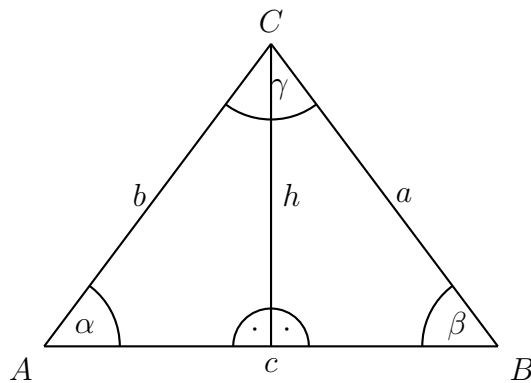
Die Lösungen zu diesem Abschnitt finden sich im Anhang im Abschnitt (13.6.17) Lösungen zu Rechtecken.

3.5 Dreieck

Wenn ein *Rechteck* entlang einer *Diagonalen* in zwei Objekte zerschnitten wird, so ergeben sich daraus zwei *Dreiecke* mit jeweils einem *rechten Winkel* - *rechtwinklige Dreiecke*. *Dreiecke* sind mit *Abstand* die wichtigste *geometrische* Konstruktion der Mathematik, denn nicht zu Letzt lässt sich jede eckige *geometrische* Form in *Dreiecke* unterteilen und sogar die Eigenschaften des *Kreises* an ihnen erklären. Das *rechtwinklige Dreieck* ist hierbei das bedeutendste *Dreieck*.



Die Abbildung zeigt die Benennung der *Größen* eines *rechtwinkligen Dreiecks*. Da das *Dreieck* aus dem Zerschneiden eines *Rechtecks* in zwei Teile gewonnen wurde, ist die *Winkelsumme* eines *Dreiecks* gegeben als 180° . Allerdings müssen nicht alle *Dreiecke* einen *rechten Winkel* besitzen, sodass auch die *Winkel* benannt werden müssen.



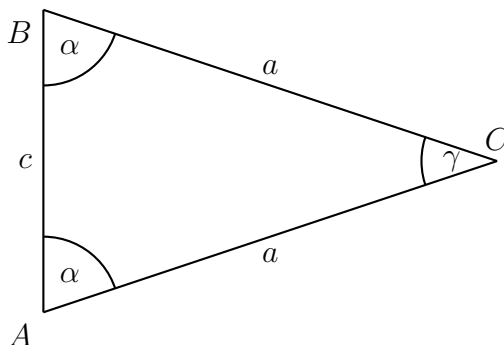
Die Abbildung zeigt, dass die Winkel mit griechischen Buchstaben benannt werden - das vollständige griechische Alphabet sowie andere können im Anhang gefunden werden (13.1). Außerdem ist zu erkennen, dass ein beliebiges *Dreieck* immer in zwei *rechtwinklige Dreiecke* unterteilt werden können. Dazu bedarf es der Konstruktion der sogenannten *Höhe h* des *Dreiecks*, wobei dann in diesem Fall die *Seite c* die *Grundseite g* wäre. Die *Höhe h* muss immer *orthogonal* zur *Grundseite g* sein und im *Punkt* enden, welcher der *Grundseite g* gegenüber liegt (in der Abbildung wäre dies der Punkt C).

Aus der Zerlegung des *Rechtecks* in zwei *Dreiecke* ergibt sich, dass der *Flächeninhalt A* eines *Dreiecks* halb so groß sein muss wie ein *Rechteck* mit gleichen Maßen. Die Bedingung zur Berechnung des *Flächeninhalts A* beim *Rechteck* waren dessen Eigenschaften, dass die gegenüber liegenden *Seiten* gleich lang und alle *Winkel rechte Winkel* sein müssen. Somit muss die Hälfte

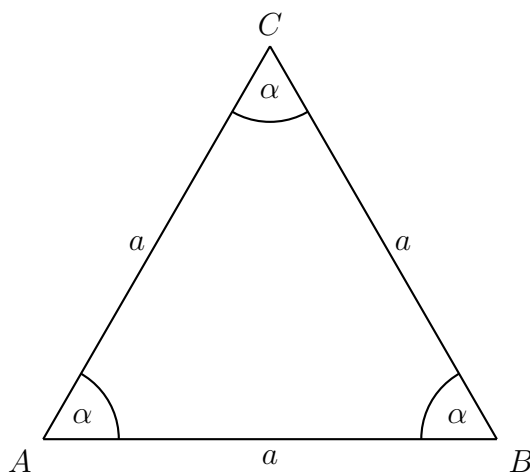
des *Produkts* der *Grundseite* g mit der *Höhe* h den *Flächeninhalt* A des *Dreiecks* widerspiegeln, da die *Grundseite* g und die *Höhe* h ein *Rechteck* aufspannen. Der *Umfang* U ist wieder gegeben durch die *Summe* aller *Strecken*, die die *Fläche* umranden.

$$\begin{aligned} A &= \frac{gh}{2} \\ U &= a + b + c \end{aligned} \quad (3.10)$$

Neben dem *rechtwinkligen Dreieck* gibt es noch weitere spezielle *Dreiecke*. Darunter fällt das sogenannte *gleichschenklige Dreieck*, bei dem zwei *Seiten* gleich lang sind. Nicht nur die *Schenkellängen* zum *Winkel* γ sind gleich groß, sondern auch die anderen beiden *Winkel*.



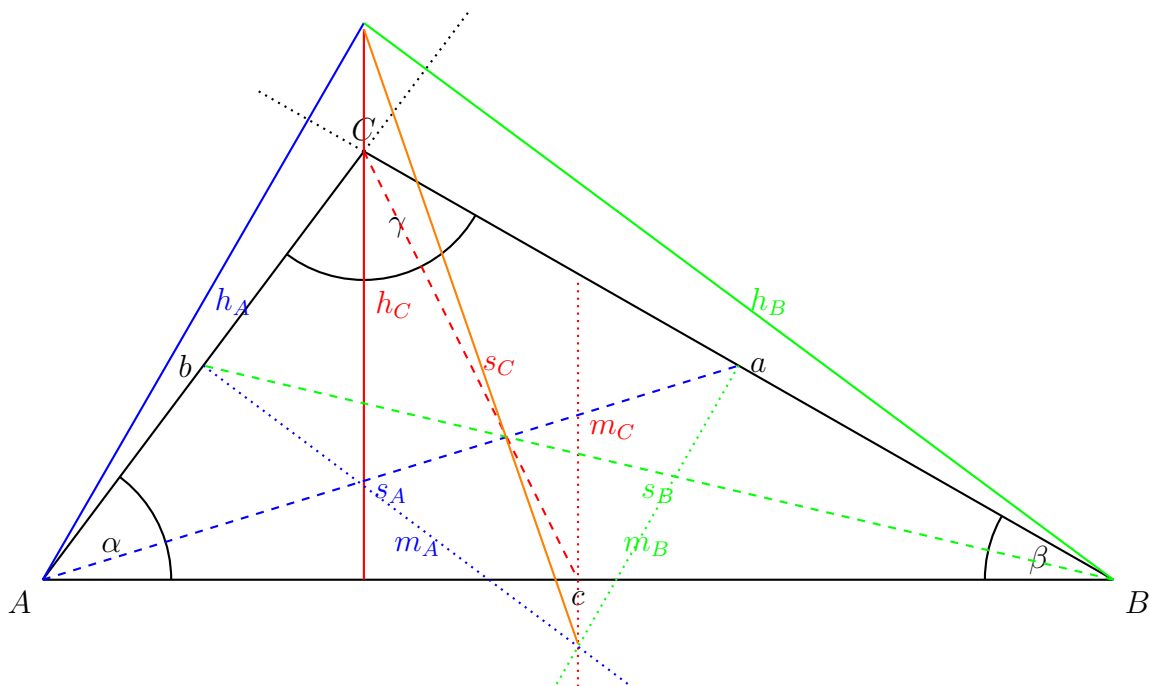
Das *Geodreieck* ist ein solches *gleichschenkliges Dreieck*. Durch die Bestimmung eines *Winkels* sind alle *Winkel* bekannt - Diese Eigenschaft kann in vielen Aufgaben ausgenutzt werden. Des Weiteren gibt es noch den Spezialfall, dass alle *Seiten* des *Dreiecks* gleich lang und alle *Winkel* gleich groß sind - das *gleichseitige Dreieck*. Damit ergibt sich automatisch, dass jeder *Winkel* exakt 60° messen muss.



Nachdem das *Dreieck* und dessen spezielle Formen eingeführt wurden, werden im Folgenden weitere *Größen* eingeführt, welche manchmal Aufgaben vereinfachen oder gar erst lösbar machen.

Eine solche Größe ist der *Schwerpunkt*. Dieser kann zeichnerisch ermittelt werden, indem die *Seitenhalbierenden* gefunden werden. Dabei wird die Mitte einer *Seite* mit dem gegenüberliegenden *Punkt* verbunden. Der *Schnittpunkt* der *Seitenhalbierenden* ist der *Schwerpunkt* S . Durch die Konstruktion einer *Orthogonalen* in der Mitte einer jeden Seite ergeben sich die sogenannten *Mittelsenkrechten*. Auch sie haben einen *Schnittpunkt*, welcher auch *Mittelpunkt* des *Umkreises* M genannt wird. An diesem Punkt wäre es möglich einen *Kreis* zu ziehen, sodass alle *Eckpunkte* des *Dreiecks* auf dem *Kreis* liegen würden.

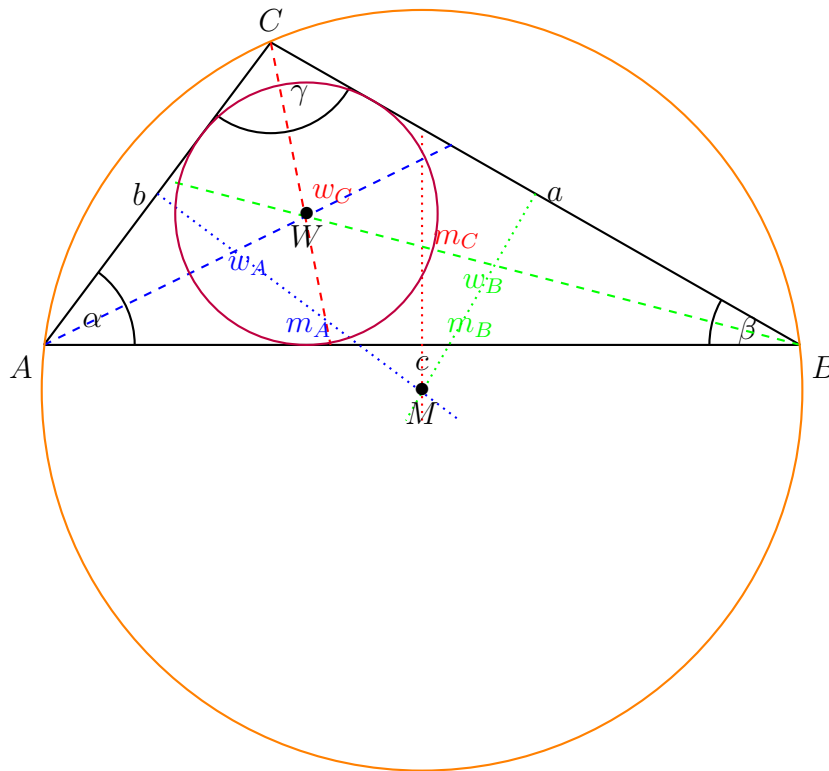
Eine sogenannte *Winkelhalbierende* kann, wie der Name es schon erahnen lässt, durch die Halbierung des *Winkels* konstruiert werden. Der *Schnittpunkt* der *Winkelhalbierenden* wird *Mittelpunkt* des *Innenkreises* W genannt und dient zur Konstruktion eines *Kreis*, der jede *Seite* berührt aber nicht schneidet.



In der Abbildung wurden alle *Höhen* h als solide, alle *Seitenhalbierenden* s als gestrichelte und alle *Mittelsenkrechten* m als gepunktete Linien eingezeichnet. Dabei sind alle Linien die vom *Punkt* A ausgehen blau, alle Linien die vom *Punkt* B ausgehen grün und alle Linien die vom *Punkt* C ausgehen rot gehalten. Es fällt auf, dass der *Schnittpunkt* der *Höhen* sowie der *Schnittpunkt* *Mittelsenkrechten* außerhalb des *Dreiecks* liegen. Dies rührt daher, dass ein *Winkel* größer als 90° ist.

Die *Schnittpunkte* der *Winkelhalbierenden*, der *Seitenhalbierenden* und der *Höhen* liegen auf einer *Geraden*, der sogenannten *Euler'schen Gerade*, welche in der Abbildung orange eingezeichnet ist. Dabei ist das *Streckenverhältnis* immer das gleiche. Die *Strecke* \overline{HS} ist dabei immer doppelt so lang wie die *Strecke* \overline{SM} .

Zur Veranschaulichung des *Innen-* und *Umkreises* dient folgende Abbildung:

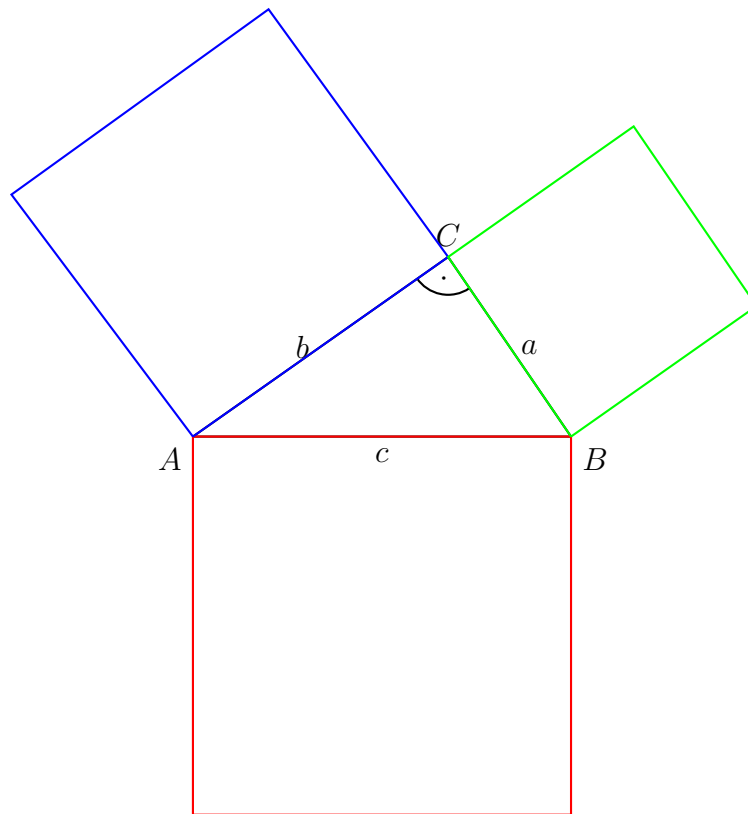


In der Abbildung sind die *Winkelhalbierenden* w gestrichelt und die *Mittelsenkrechten* m gepunktet. Dabei sind alle Linien die vom *Punkt A* ausgehen blau, alle Linien die vom *Punkt B* ausgehen grün und alle Linie die vom *Punkt C* ausgehen rot gehalten. Der *Innenkreis* ist in einem dunklen violett gehalten und hat seinen *Mittelpunkt* beim *Punkt W*, während der *Umkreis* ist in orange gezeichnet wurde und seinen *Mittelpunkt* beim *Punkt M* hat.

Nachdem nun die Konstruktion von verschiedenen wichtigen *Punkten* und *Strecken* beziehungsweise *Geraden* erläutert wurde, soll das *rechtwinklige Dreieck* genauer betrachtet werden. Zu nächst soll der *Satz des Pythagoras* betrachtet werden, welcher wohl der berühmteste *Satz* der Mathematik ist. Ein *Satz* in der Mathematik ist eine bewiesene *Gleichung*, die bis auf in sehr speziellen Ausnahmefällen immer ihre Gültigkeit besitzt.

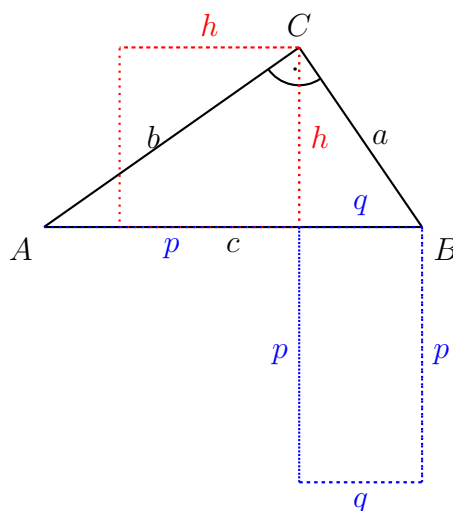
$$a^2 + b^2 = c^2 \quad (3.11)$$

Wie das a^2 , b^2 und c^2 schon suggerieren, werden hierbei *Flächeninhalte* von *Rechtecken* mit den gleichen *Seitenlängen* (sogenannte *Quadrate*), die von den jeweiligen *Seiten* des *Dreiecks* aufgespannt werden, ins Verhältnis gebracht.



Die Abbildung zeigt deutlich die verschiedenen *Flächen* der *Quadrate*. Dabei gilt, dass der *Flächeninhalt*, der am größten ist und von der längsten *Seite* c aufgespannt wird, genau so groß ist wie die *Summe* der beiden anderen *Flächen*. Die längste *Seite* eines *rechtwinkligen Dreiecks* wird *Hypotenuse* genannt und befindet sich immer gegenüber vom *rechten Winkel*. Die beiden anderen *Seiten* heißen *Katheten* und werden vom Kapitel „Trigonometrie“ detaillierter unterschieden und untersucht.

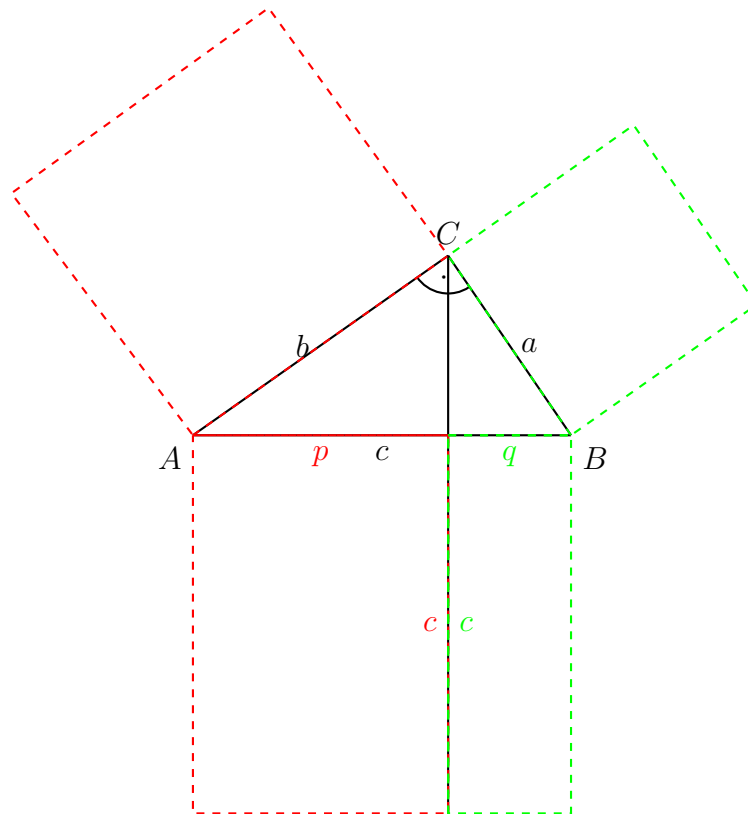
Neben dem *Satz des Pythagoras* existieren noch weitere *Sätze*. Einer von ihnen ist der sogenannte *Höhensatz von Euklid*.



Die Abbildung zeigt, dass die *Flächeninhalte* aus dem *Quadrat*, welches durch die *Höhe* h mit sich selbst aufgespannt wird, mit dem *Rechteck* aus der unterteilten *Hypotenuse* aus p und q in Verbindung gebracht werden. Es gilt:

$$h^2 = pq \quad (3.12)$$

Zu guter Letzt wird noch auf den *Kathetensatz* hingewiesen, welcher die *Rechtecke* aus den Teilstücken der *Hypotenuse* mit der *Hypotenuse* und jeweiligen *Kathetenquadraten* in Verbindung setzt.



Allgemein gilt:

$$\begin{aligned} a^2 &= cq \\ b^2 &= cp \end{aligned} \quad (3.13)$$

Es soll nochmals betont werden, dass das *Dreieck* eine zentrale Rolle in der Mathematik einnimmt. Und auch grade in den Naturwissenschaften sind *Dreiecke* von fundamentaler Wichtigkeit. Im Kapitel „Trigonometrie“ werden die Eigenschaften des *Dreiecks* und Beziehungen von *Größen* des *Dreiecks* untereinander weiter beleuchtet bis sich daraus resultierendes Wissen nochmals vertieft wird im Kapitel „Funktionen“.

3.5.1 Übungsaufgaben zu Dreiecken

Aufgabe 1: Bestimme Umfang U und den Flächeninhalt A für die gegebenen Werte von rechtwinkligen Dreiecken. (Benutze die vorgestellten Sätze!)

- | | | | | | |
|----|---------------------|-------------------------|----|----------------------|-------------------------|
| a) | $g = 9cm$ | und $a = 4cm$ | b) | $g = 11cm$ | und $a = 5cm$ |
| c) | $a = 4cm$ | und $b = 6cm$ | d) | $g = 7cm$ | und $b = 6cm$ |
| e) | $p = 2,5cm$ | und $q = 2cm$ | f) | $c = 12cm$ | und $q = 3cm$ |
| g) | $a = \frac{1}{2}cm$ | und $b = \frac{1}{3}cm$ | h) | $c = \frac{7}{3}cm$ | und $q = \frac{3}{4}cm$ |
| i) | $p = \frac{4}{5}cm$ | und $q = \frac{7}{4}cm$ | j) | $h = \frac{11}{5}cm$ | und $p = \frac{4}{3}cm$ |
| k) | $q = \frac{9}{5}cm$ | und $h = \frac{5}{3}cm$ | l) | $c = 4\sqrt{2}cm$ | und $p = \ln 5cm$ |
| m) | $p = ecm$ | und $q = \sqrt{3}cm$ | n) | $c = 2\pi cm$ | und $q = \sqrt{17}cm$ |

Aufgabe 2: Du befindest dich mit deinem Geodreieck 20m weit weg von einem Turm und hältst das Geodreieck auf 1,5m Höhe vom Boden. Du schaust entlang der längsten Kante, sodass die Kante und die Spitze des Turms eine Linie bilden. Dabei ist die Kante die noch unten zeigt nun parallel zum Boden. Wie hoch ist der Turm?

Aufgabe 3: Konstruiere folgende Dreiecke und beschrifte sie vollständig. Miss die Winkel.

- | | | | |
|----|---------------|-------------|-----------------|
| a) | $a = 3cm$; | $b = 4cm$ | und $c = 5cm$ |
| b) | $a = 5cm$; | $b = 5cm$ | und $c = 7cm$ |
| c) | $a = 6cm$; | $b = 4cm$ | und $c = 8cm$ |
| d) | $a = 4cm$; | $b = 7cm$ | und $c = 9cm$ |
| e) | $a = 7cm$; | $b = 5,5cm$ | und $c = 8,7cm$ |
| f) | $a = 3,4cm$; | $b = 4,6cm$ | und $c = 7,1cm$ |

Aufgabe 4: *Konstruiere folgende rechtwinklige Dreiecke ($\gamma = 90^\circ$) und beschrifte sie vollständig. Miss die fehlenden Seite.*

a) $b = 4\text{cm}$ und $c = 5\text{cm}$

b) $a = 5\text{cm}$ und $c = 7\text{cm}$

c) $a = 6\text{cm}$ und $c = 8\text{cm}$

d) $a = 4\text{cm}$ und $c = 9\text{cm}$

e) $a = 7\text{cm}$ und $b = 4\text{cm}$

f) $a = 3\text{cm}$ und $b = 6\text{cm}$

Aufgabe 5: *Konstruiere folgende Dreiecke und beschrifte sie vollständig. Miss die fehlende Seite.*

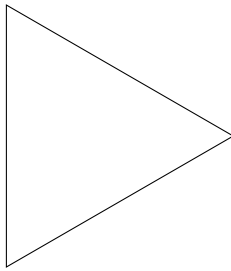

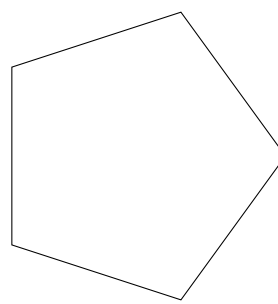
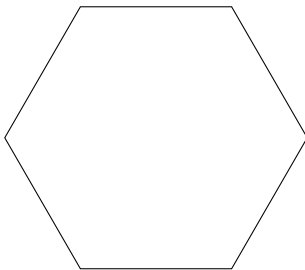
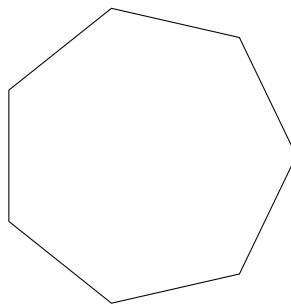
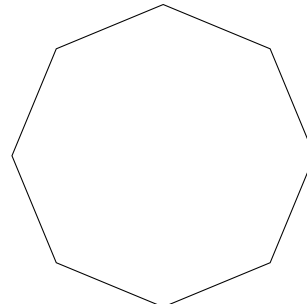
a) $a = 5\text{cm}$; $b = 4\text{cm}$ und $\alpha = 50^\circ$

b) $a = 5,2\text{cm}$; $b = 5,8\text{cm}$ und $\beta = 40^\circ$

c) $a = 6\text{cm}$; $b = 4\text{cm}$ und $\gamma = 75^\circ$

d) $a = 8,5\text{cm}$; $b = 7\text{cm}$ und $\alpha = 68^\circ$

Aufgabe 6: Unterteile die Figuren, sodass die jeweilig Figur nur noch aus rechtwinkligen Dreiecken besteht. Beachte die maximale Anzahl der Dreiecke n , die angegeben ist.

 $n = 2$  $n = 2$  $n = 10$  $n = 12$  $n = 14$  $n = 16$ 

Aufgabe 7: Stelle die Gleichungen auf und bestimme alle Winkel des Dreiecks.

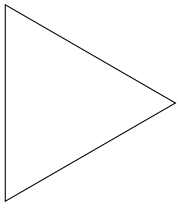
- Der Winkel α ist doppelt so groß wie der Winkel β . Dabei gilt, dass der Winkel β genauso groß ist wie der Winkel γ .
- Der Winkel α ist doppelt so groß wie der Winkel β , der doppelt so groß ist wie der Winkel γ .
- Der Winkel α ist halb so groß wie der Winkel β , der viermal größer ist als der Winkel γ .
- Der Winkel α ist dreimal so groß wie der Winkel β , der dreimal kleiner ist als der Winkel γ .
- Der Winkel α ist siebenmal so groß wie der Winkel β und der letzte Winkel des Dreiecks ist ein rechter Winkel.
- Der Winkel α ist dreimal kleiner der Winkel β , der viermal kleiner ist als der Winkel γ .
- Der Winkel α ist dreieinhalbmal größer der Winkel β , der dreiviertel kleiner ist als der Winkel γ .
- Der Winkel α ist π -mal kleiner der Winkel β , der $\sqrt{2}$ -mal größer ist als der Winkel γ .

Aufgabe 8: *Berechne die fehlenden Größen der Dreiecke ohne rechten Winkel.*

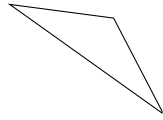
	1	2	3	4	5	6
a	5	4				$\frac{11}{2}$
b	7	6	5		$\frac{11}{3}$	
c		9		7	$\frac{22}{5}$	
h_a				6		
h_b				5		$\frac{17}{4}$
h_c	3		7		$\frac{7}{3}$	
A		16	42	28		$\frac{16}{3}$
U	18		18		$\frac{83}{7}$	$\frac{62}{5}$

Aufgabe 9: Benenne die Dreiecke nach ihrer Art. TODO

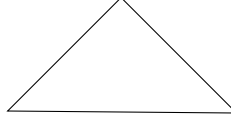
a)



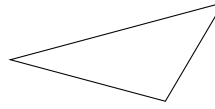
b)



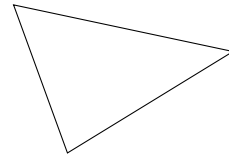
c)



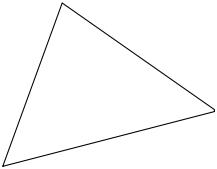
d)



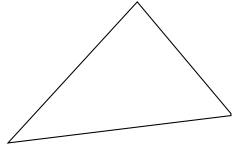
e)



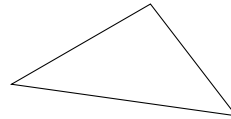
f)



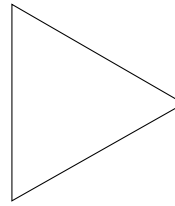
g)



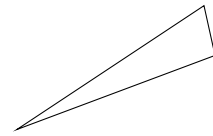
h)



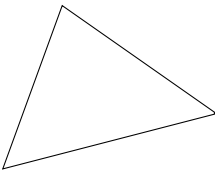
i)



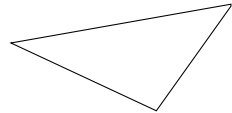
j)



k)



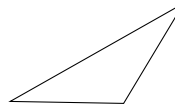
l)



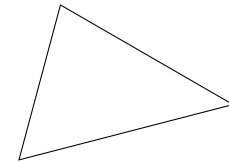
m)



n)



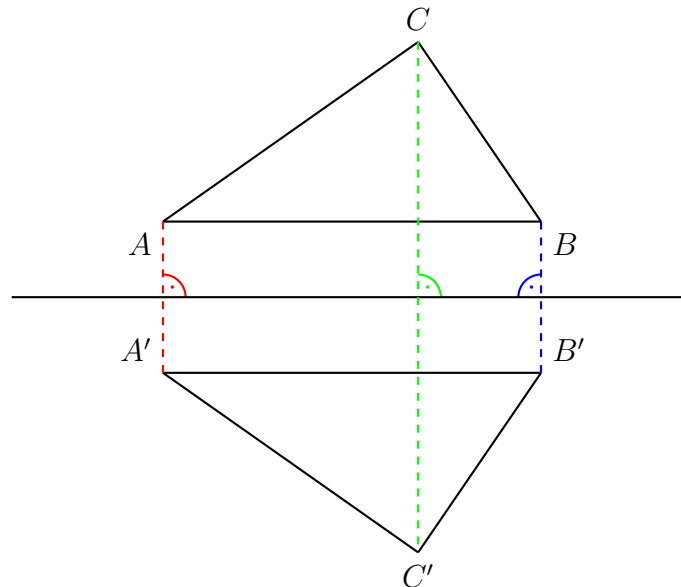
o)



Die Lösungen zu diesem Abschnitt finden sich im Anhang im Abschnitt (13.6.18) Lösungen zu Dreiecken.

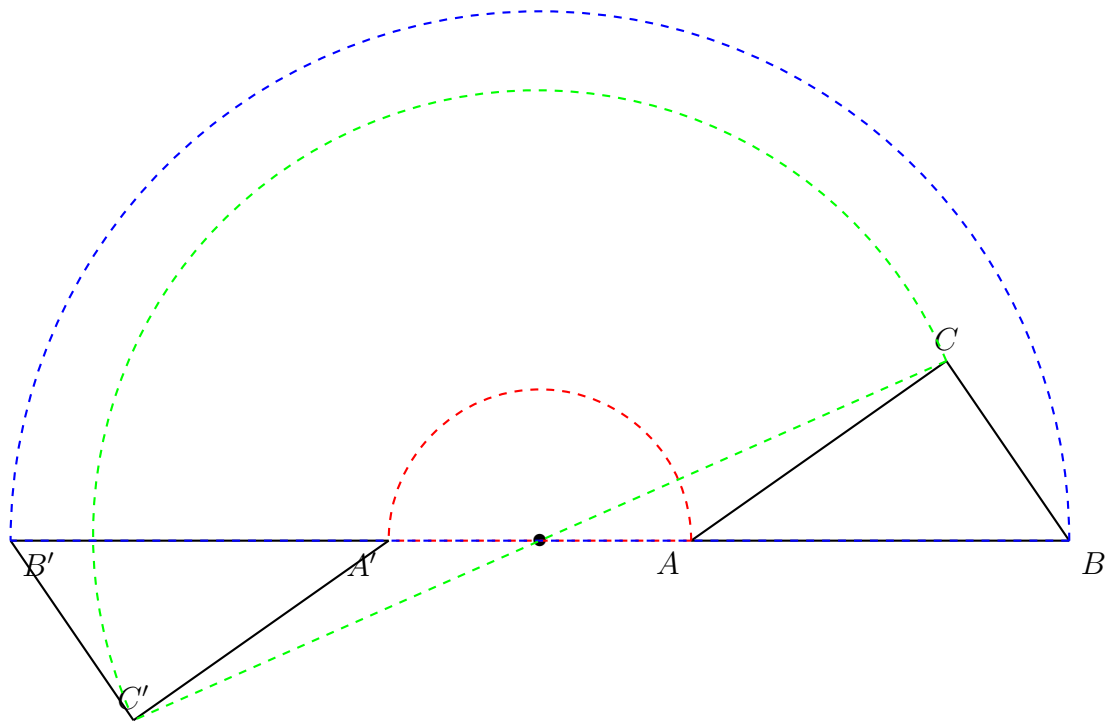
3.6 Symmetrien und Spiegelungen

Symmetrien sind wichtige Eigenschaften von Objekten und *Funktionen*. Die bis jetzt erfolgreichste Beschreibung der Natur beruht ausschließlich auf *Symmetrien*. Aus diesem Grund sollen in diesem Abschnitt zwei spezielle Formen von *Symmetrien* vorgestellt werden. Um eine *Symmetrie* verstehen zu können müssen *Spiegelungen* eingeführt werden. Dabei wird im Wesentlichen zwischen zwei Arten von *Spiegelungen* unterschieden. Die erste Art ist eine *Achsen spieg elung* mit den Eigenschaften, dass alle *Punkte*, die einen *Abstand* zu einer beliebigen *Achse* haben, mit dem gleichen *Abstand* auf die andere *Seite* der *Achse* eingezeichnet - *gespiegelt* - werden.



In der Abbildung ist zu erkennen wie eine solche *Achsen spieg elung* aussieht. Hierbei zeigen die gestrichelten Linien, dass die *Abstände* zwischen den *Eckpunkten* (A , B und C) und der *Achse* genauso lang sind wie die *Abstände* der *Spiegelecke* (A' , B' und C') zur *Spiegelachse*. Dabei meint *Abstand* immer die kürzeste *Strecke* zwischen *Punkt* und *Achse*, was immer die *orthogonale Strecke* zur *Achse* ist.

Die zweite Art der *Spiegelungen* ist die *Punktspiegelung*, dabei wird ein Objekt in einem *Punkt* um 180° gedreht. Dabei sind die *Abstände* der *Eckpunkte* (A , B und C) zum *Spiegelpunkt* genauso groß wie die *Abstände* der *Spiegelecke* (A' , B' und C') zum *Spiegelpunkt*, wie an der folgenden Abbildung zu erkennen ist.



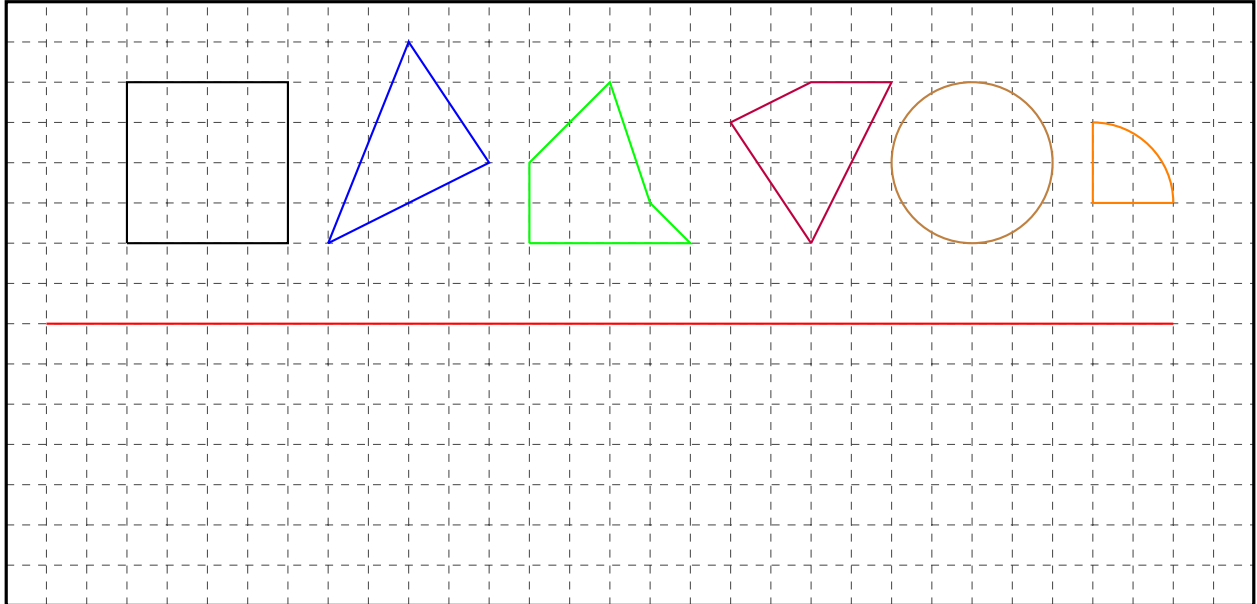
Im Allgemeinen wird bei diesen beiden *Spiegelungen* von einer *Achsen-* oder *Punktsymmetrie* gesprochen, wenn nach einer solchen *Spiegelung* das Ergebnisbild identisch zum Ausgangsbild ist. Die wohl bedeutendste *Symmetrie* in der Beschreibung der Natur ist die *radiale Symmetrie*², welche angibt, dass es keine Relevanz hat in welche Richtung ausgehend von einem *Punkt* das Problem betrachtet wird. Folglich ist die *radiale Symmetrie* eine noch speziellere *Punktsymmetrie*.

²heißt soviel wie Kreissymmetrie

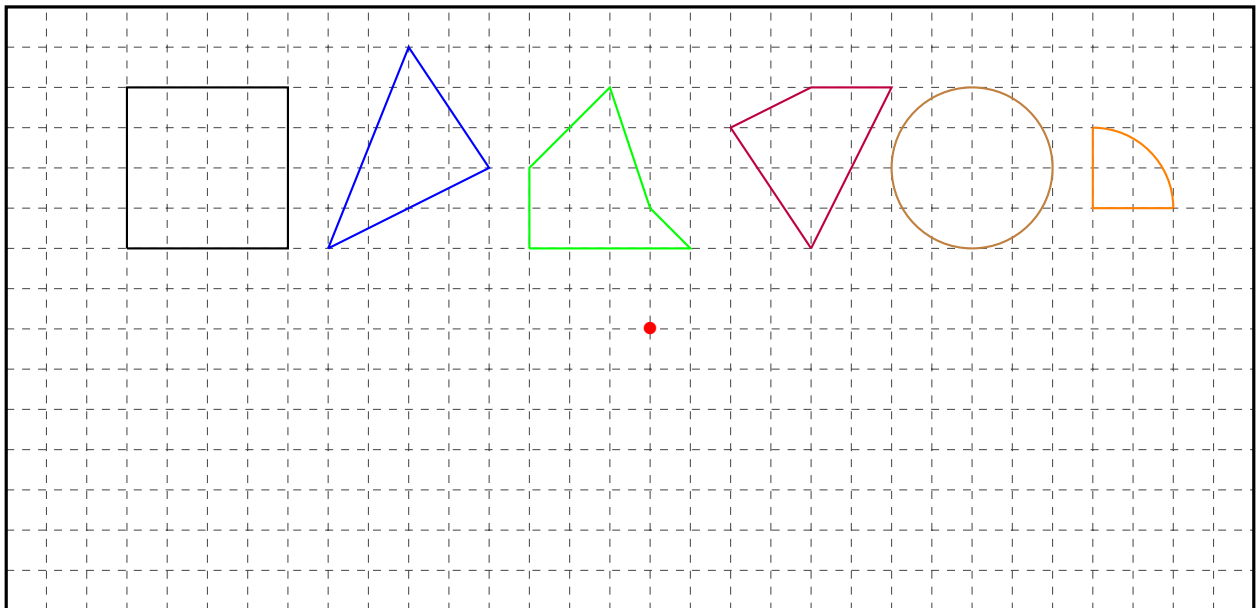
3.6.1 Übungsaufgaben zu Symmetrien

Aufgabe 1: Spiegel die Körper an den angegebenen Achsen oder Punkten. (Übernehme die Figuren in dein Heft, deine Mappe oder deinen Block.)

a)

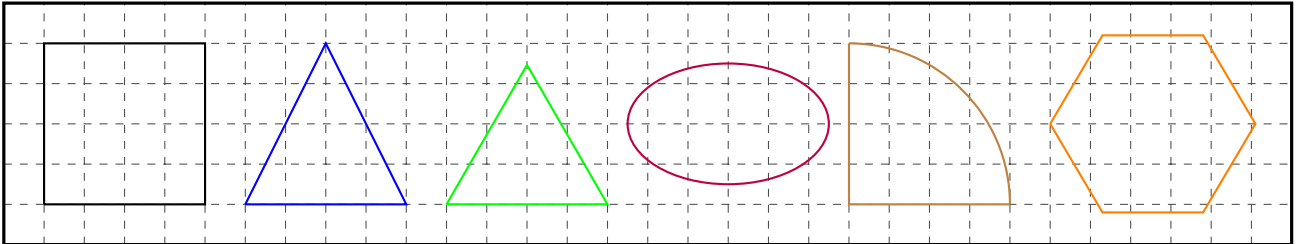


b)

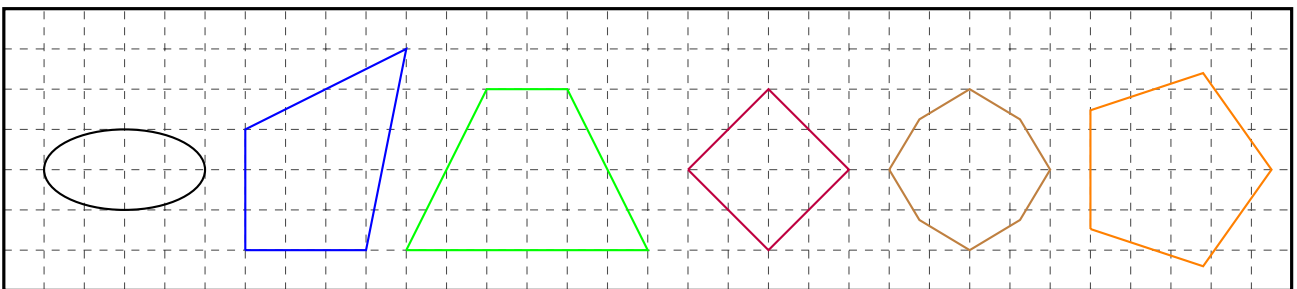


Aufgabe 2: Zeichne die Symmetrieachsen und Symmetriepunkte ein. (Übernehme die Figuren in dein Heft, deine Mappe oder deinen Block.)

a)

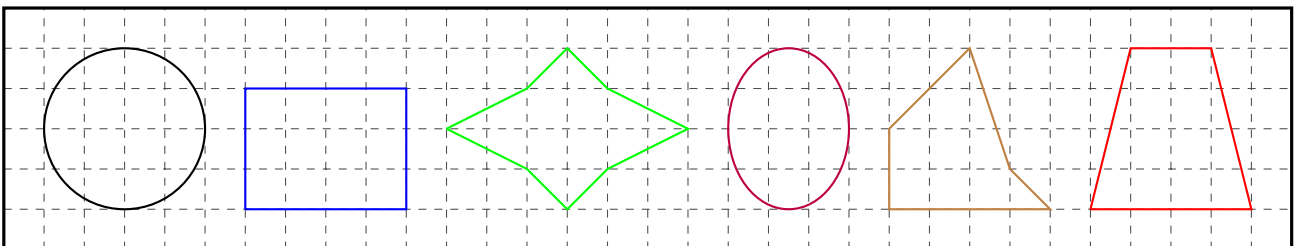


b)



Aufgabe 3: Wie viele Symmetrieachsen und Symmetriepunkte besitzen die Körper?

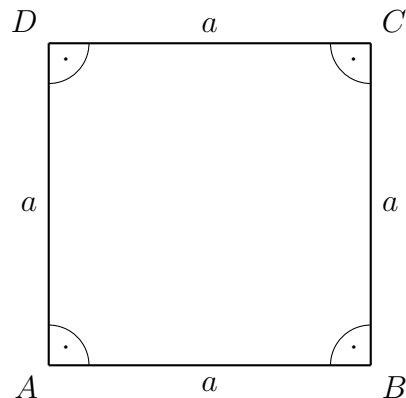
a)



Die Lösungen zu diesem Abschnitt finden sich im Anhang im Abschnitt (13.6.19) Lösungen zu Dreiecken.

3.7 Spezielle Vierecke

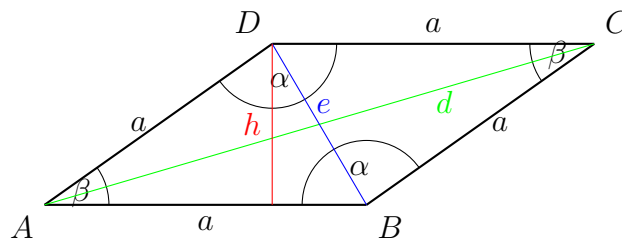
Wie bereits schon im vorigen Abschnitt beschrieben, gibt es spezielle Vierecke. So wird ein *Rechteck*, bei dem alle Seiten die gleiche Länge vorweisen können, *Quadrat* genannt.



Die Berechnung des *Flächeninhalts* A und des *Umfangs* U sind beim *Quadrat* trivialer Natur und ergeben sich als:

$$\begin{aligned} A &= a^2 \\ U &= 4a \end{aligned} \quad (3.14)$$

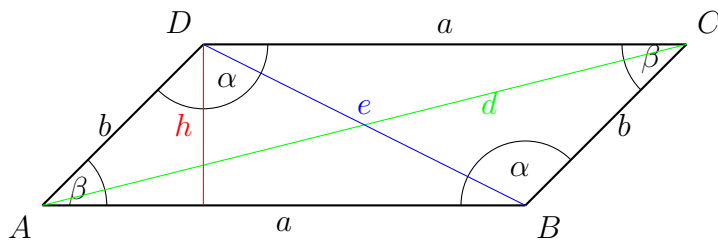
Ein Viereck mit vier gleich langen *Seiten*, deren gegenüber liegende *Winkel* gleich groß sind, wird *Raute* genannt (selten auch *Rhombus*).



Die Berechnung des *Flächeninhalts* A ist ähnlich wie bei einem *Dreieck* mit dem Unterschied, dass durch die Einzeichnung der *Diagonale* e zwei *Dreiecke* vorliegen. Somit muss der *Flächeninhalt* A_{Δ} eines der *Dreiecke* verdoppelt werden, sodass sich daraus wiederum der *Flächeninhalt* der *Raute* $A = 2A_{\Delta}$ ergibt. Somit gilt für den *Umfang* U und dem *Flächeninhalt* A (wobei in der Abbildung die *Grundseite* g gleich a ist):

$$\begin{aligned} A &= gh \\ U &= 4a \end{aligned} \quad (3.15)$$

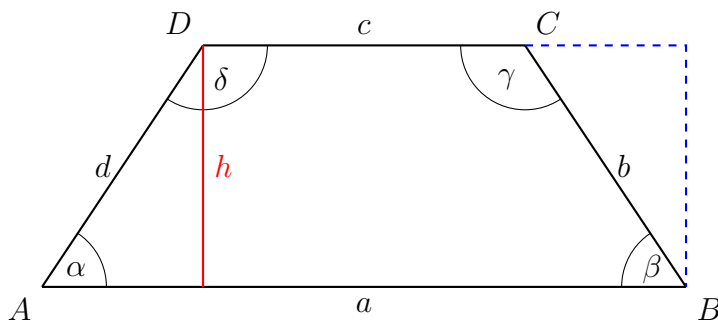
Wenn nun die benachbarten *Seiten* eine unterschiedliche Länge besitzen aber die gegenüber liegenden *Seiten* gleich lang und *parallel* zu einander sind, wird von einem *Parallelogramm* gesprochen.



Dabei unterscheidet sich zur *Raute* lediglich der *Umfang* U , welcher nach wie vor durch die Aufsummierung der *Seiten* gegeben ist:

$$\begin{aligned} A &= gh \\ U &= 2a + 2b \end{aligned} \quad (3.16)$$

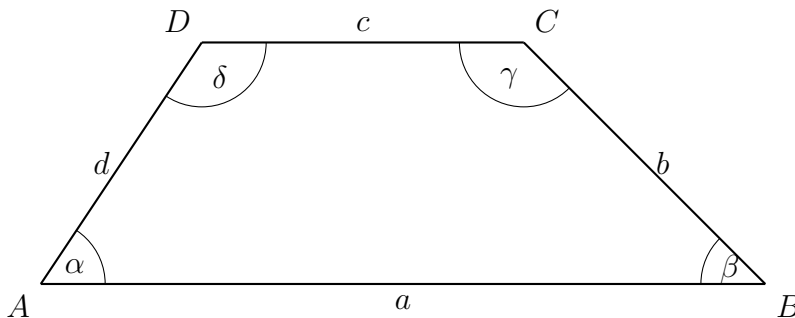
Wenn mindestens zwei *Seiten parallel* zu einander sind, allerdings sonst keine Größen zwingend gleich groß sein müssen, ist die Rede von einem *Trapez*.



Die Abbildung zeigt ein *Trapez* bei dem die *Winkel* δ und γ sowie α und β gleich groß und aus diesem Grund auch die *Seiten* d und b gleich lang sind. Auch zeigt die Abbildung wie aus einem solchen *Trapez* wieder ein *Rechteck* gewonnen werden kann. Dabei wären die *Seiten* dieses *Rechtecks* gegeben durch die *Höhe* h und dem *Mittelwert* m der *Summe* von a und c . Hierbei gilt $m = \frac{a+c}{2}$ und somit:

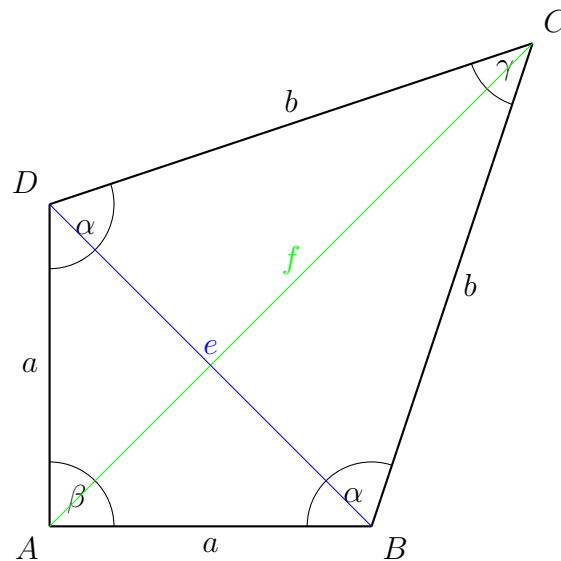
$$\begin{aligned} A &= \frac{a+c}{2}h \\ U &= a + b + c + d \end{aligned} \quad (3.17)$$

Wie bereits erwähnt müssen nur zwei *Seiten parallel* zu einander sein, sodass von einem *Trapez* gesprochen werden kann.



Dabei verändert sich die Berechnungsmethode des *Flächeninhalts* A und des *Umfangs* U nicht und ist genauso durchzuführen wie in Gleichung (3.17)

Als letztes soll der *Drachen* eingeführt werden. Er zeichnet sich dadurch aus, dass zwei *Winkel* gleich groß sind, welche sich gegenüber liegen.



Wie die Abbildung zeigt sind die *Schenkel* des *Winkels* β und die *Schenkel* des *Winkels* γ jeweils gleichlang, was auch ein Merkmal eines *Drachens* ist. Dabei ist ein *Drachen* aus zwei *Dreiecken* aufgebaut, deren *Flächeninhalte* addiert werden können. Die *Höhen* dieser *Dreiecke* sind gegeben durch die Einzeichnung der *Diagonalen* e und f . Somit gilt:

$$\begin{aligned} A &= \frac{fe}{2} \\ U &= 2a + 2b \end{aligned} \tag{3.18}$$

3.7.1 Übungsaufgaben zu Vierecken

Aufgabe 1: Bestimme Umfang U und den Flächeninhalt A für die gegebenen Werte von jeweiligen angegeben Viereck.

- a) Quadrat: $a = 2cm$
- b) Raute: $a = 5cm$ und $h = 4cm$
- c) Parallelogramm: $a = 6cm$, $b = 3cm$ und $h_a = 2cm$
- d) Trapez: $a = 4cm$, $c = 11cm$, $b = d$ und $h = 4cm$
- e) Drachen: $a = 4cm$, $b = 6cm$ und $e = 6cm$

Aufgabe 2: Bestimme Umfang U und den Flächeninhalt A für die gegebenen Werte von den Quadraten.

- | | | |
|------------------------|------------------------|------------------------|
| a) $a = 4cm$ | b) $a = 11cm$ | c) $a = 15dm$ |
| d) $a = \frac{5}{6}cm$ | e) $a = \frac{3}{4}km$ | f) $a = \frac{5}{12}m$ |
| e) $a = \sqrt{5}mm$ | g) $a = \sqrt{149}m$ | h) $a = \sqrt{88}dm$ |
| i) $a = emm$ | j) $a = \pi m$ | k) $a = \ln 2dm$ |

Aufgabe 3: Bestimme Umfang U und den Flächeninhalt A für die gegebenen Werte von den Rauten.

- | | | | |
|---------------------------|----------------------------|-------------------------|--------------------------|
| a) $a = 4cm$ | und $h = 6cm$ | b) $a = 9dm$ | und $h = 11dm$ |
| c) $a = 2m$ | und $h = 50cm$ | d) $a = 3km$ | und $h = 100m$ |
| e) $a = \frac{1}{2}\mu m$ | und $h = \frac{1}{3}\mu m$ | f) $a = \frac{7}{8}cm$ | und $h = \frac{3}{4}cm$ |
| g) $a = \frac{11}{3}mm$ | und $h = \frac{6}{7}mm$ | h) $a = \frac{14}{5}km$ | und $h = \frac{5}{9}km$ |
| i) $a = \frac{7}{4}dm$ | und $h = \frac{7}{5}cm$ | j) $a = \frac{17}{9}cm$ | und $h = \frac{11}{8}mm$ |
| k) $a = \sqrt{5}Mm$ | und $h = \sqrt{3}Mm$ | l) $a = \sqrt{17}nm$ | und $h = \sqrt{2}nm$ |
| m) $a = emm$ | und $h = \pi dm$ | n) $a = \ln 9m$ | und $h = \ln 2m$ |

Aufgabe 4: Bestimme Umfang U und den Flächeninhalt A für die gegebenen Werte von den Parallelogramm.

- a) $a = 3cm, b = 7cm$ und $h_a = 4cm$
b) $a = 7dm, b = 6dm$ und $h_a = 5dm$
c) $a = 9m, b = 8m$ und $h_a = 6m$
d) $a = 4km, b = 44km$ und $h_a = 2km$
e) $a = 2cm, b = 5dm$ und $h_a = 5mm$
f) $a = 4m, b = 9cm$ und $h_a = 25dm$
g) $a = 90dm, b = 60mm$ und $h_a = 4m$
h) $a = 46km, b = 1dm$ und $h_a = 1dm$
i) $a = \frac{1}{4}cm, b = \frac{1}{2}cm$ und $h_a = \frac{1}{6}cm$
j) $a = \frac{11}{3}dm, b = \frac{6}{7}dm$ und $h_a = \frac{7}{8}dm$
k) $a = \frac{13}{8}dm, b = \frac{1}{10}mm$ und $h_a = \frac{144}{10}cm$
l) $a = \sqrt{7}dm, b = \sqrt{2}dm$ und $h_a = \sqrt{3}dm$
m) $a = \lg 125cm, b = \ln 6cm$ und $h_a = \text{lb}5cm$
n) $a = edm, b = \pi dm$ und $h_a = \sqrt{5}dm$

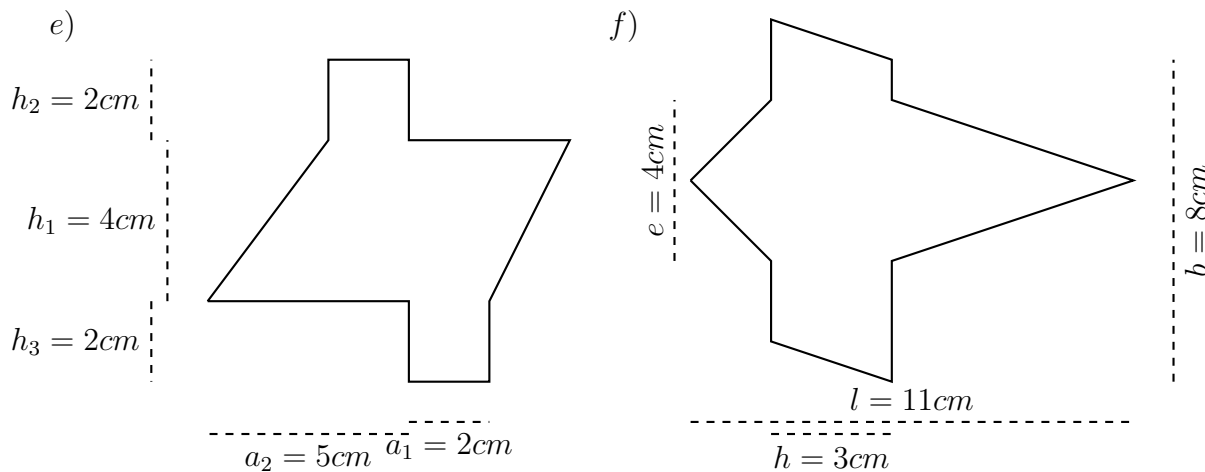
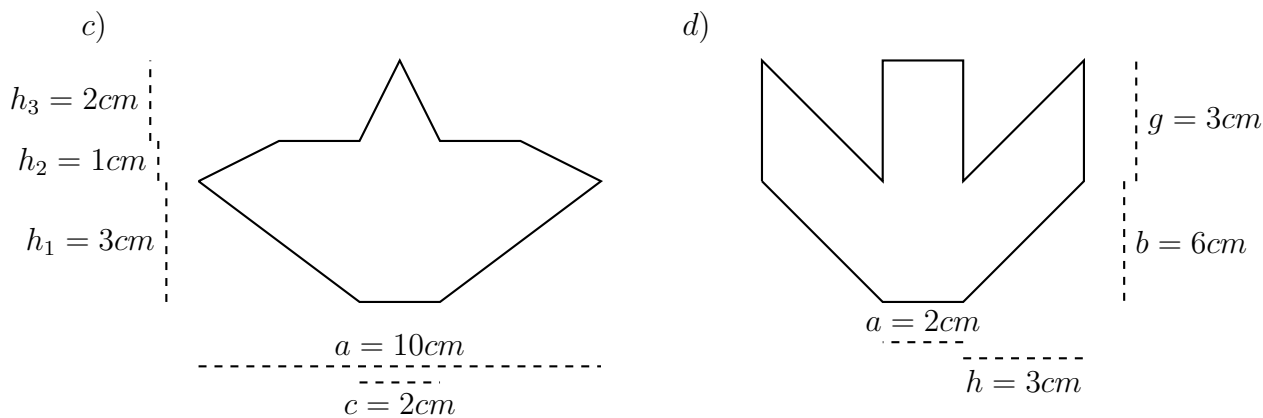
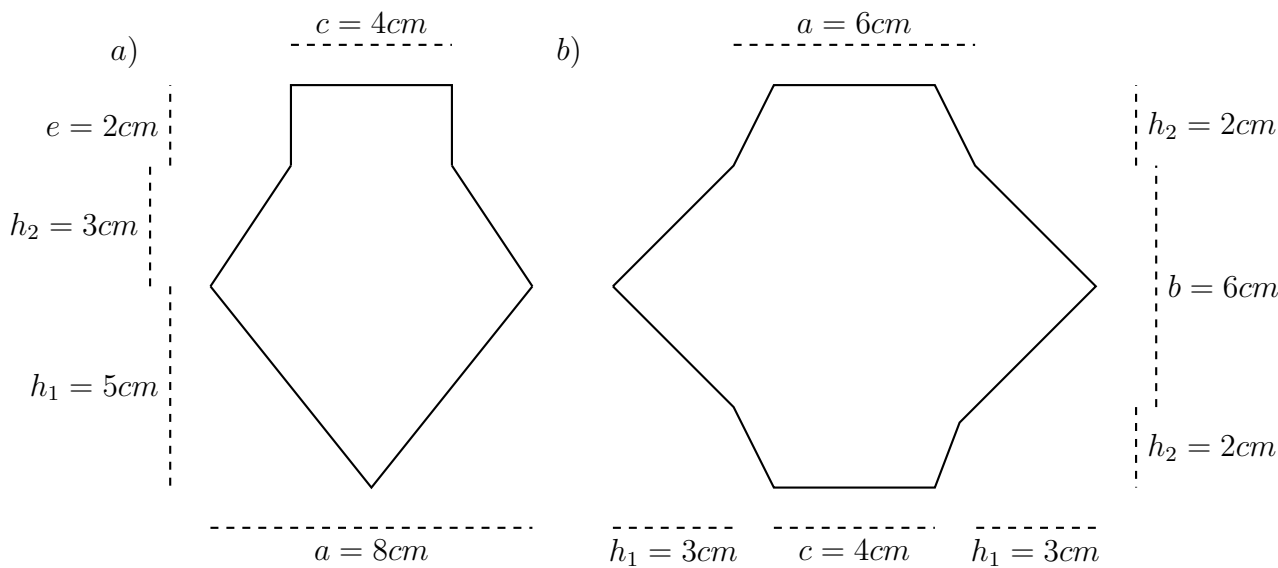
Aufgabe 5: Bestimme Umfang U und den Flächeninhalt A für die gegebenen Werte von den Trapez.

- a) $a = 4cm, c = 3cm, d = b$ und $h_a = 5cm$
 b) $a = 7cm, c = 5cm, d = b$ und $h_a = 3cm$
 c) $a = 120mm, c = 6cm, d = b$ und $h_a = 2,4cm$
 d) $a = 5dm, c = 11cm, d = b$ und $h_a = 9cm$
 e) $a = 11cm, c = 4mm, d = b$ und $h_a = \frac{7}{5}cm$
 f) $a = 3km, c = 1,5km, d = b$ und $h_a = 1,65km$
 g) $a = 9cm, c = \frac{1}{5}dm, d = b$ und $h_a = 5,53cm$
 h) $a = \frac{3}{4}cm, c = \frac{5}{4}cm, d = b$ und $h_a = \frac{4}{7}cm$
 i) $a = \frac{15}{8}mm, c = \frac{7}{10}mm, d = b$ und $h_a = \frac{5}{4}cm$
 j) $a = \frac{11}{5}dm, c = \frac{38}{9}cm, d = b$ und $h_a = \frac{1}{8}dm$
 k) $a = \frac{7}{6}m, c = \frac{11}{4}dm, d = b$ und $h_a = \frac{3}{4}m$
 l) $a = \frac{9}{4}m, c = \frac{6}{5}m, d = b$ und $h_a = \frac{8}{3}dm$
 m) $a = \sqrt{17}cm, c = \sqrt{3}cm, d = b$ und $h_a = \sqrt{7}$
 n) $a = \ln 2cm, c = \pi mm, d = b$ und $h_a = emm$

Aufgabe 6: Bestimme Umfang U und den Flächeninhalt A für die gegebenen Werte von den Drachen.

- a) $a = 4cm, b = 9cm,$ und $e = 6cm$
 b) $a = 5cm, b = 6cm,$ und $e = 5,5cm$
 c) $a = 3,2cm, b = 114mm,$ und $e = 7,2cm$
 d) $a = 4dm, b = 1,7m,$ und $e = 2,25m$
 e) $a = \frac{1}{4}cm, b = \frac{4}{5}cm,$ und $e = \frac{5}{8}cm$
 f) $a = \frac{4}{7}mm, b = \frac{1}{6}cm,$ und $e = \frac{5}{4}mm$
 g) $a = \frac{2}{30}dm, b = \frac{7}{3}cm,$ und $e = \frac{3}{100}m$
 h) $a = \sqrt{10}cm, b = \pi cm,$ und $e = ecm$

Aufgabe 7: Bestimme Umfang U und Flächeninhalt A für die jeweiligen Vielecke.



Aufgabe 8: Bestimme Umfang U und den Flächeninhalt A für die gegebenen Werte von den Trapez.

- a) $a = 5cm, c = 4cm, d = 2b$ und $h_a = 7cm$
 b) $a = 3cm, c = 2cm, d = 3b$ und $h_a = 6cm$
 c) $a = 60dm, c = 2m, d = \frac{1}{2}b$ und $h_a = 5m$
 d) $a = 6dm, c = 12cm, d = 2, 25b$ und $h_a = 3dm$
 e) $a = \frac{3}{4}cm, c = \frac{3}{2}mm, d = 1, 5b$ und $h_a = \frac{4}{3}cm$
 f) $a = \frac{5}{3}km, c = \frac{5}{6}km, d = \frac{1}{3}b$ und $h_a = \frac{9}{5}km$

Aufgabe 9: Die Winkelsumme eines Vierecks beträgt immer 360° . Berechne alle Winkel der jeweiligen Vierecke.

- a) Der erste Winkel α ist doppelt so groß wie der Winkel β , aber nur halb so groß wie der Winkel γ . Dabei ist der Winkel δ viermal größer als der Winkel γ .
 b) Der erste Winkel α ist doppelt so groß wie der Winkel β , der doppelt so groß wie der Winkel γ ist, der wiederum doppelt so groß wie der Winkel δ ist.
 c) Bei einem Parallelogramm ist der Winkel α dreimal größer als der Winkel β .
 d) Bei einem Drachen ist die Summe der gleichgroßen Winkel α zweimal größer als die Summe der anderen beiden Winkel. Der Winkel β ist dabei nur 1,5-mal größer als der Winkel γ .
 e) Die Summe der Winkel α und β ist doppelt so groß wie die Summe der Winkel γ und δ . Dabei sind α und β gleich groß.
 f) Die Differenz der Winkel α und β ergibt den Winkel γ , wobei der die Summe von γ und β den Wert des Winkels δ ergeben. Außerdem ist der Winkel α um 20° größer als der Winkel δ .
 g) Bei einem symmetrischen Trapez ist der Winkel δ genau 125° groß.
 h) Der erste Winkel α ist zweimal kleiner als der Winkel β , der dreimal kleiner als der Winkel γ ist, der wiederum viermal kleiner als der Winkel δ ist.
 i) Bei einem Drachen ist der Winkel β doppelt so groß wie der Winkel γ . Beide zusammen haben eine Summe von 130° .

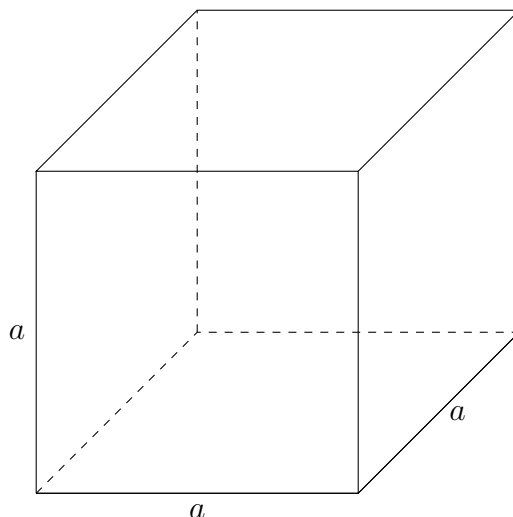
Aufgabe 10: Konstruiere aus den gegebenen Werten das jeweilige Viereck. (Keine Lösungen)

- a) Ein symmetrisches

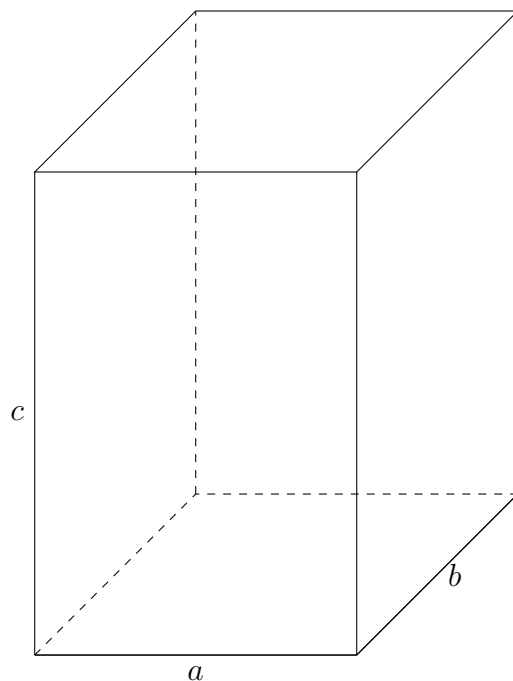
Die Lösungen zu diesem Abschnitt finden sich im Anhang im Abschnitt (13.6.20) Lösungen zu Vierecken.

3.8 Mehrdimensionale Vielecke

Nachdem die wichtigsten Objekte in zwei *Dimensionen* besprochen wurden, wird eine weitere *Dimension* eingeführt. So kommt nach der x -Richtung und der y -Richtung die z -Richtung hinzu, welche auch wieder in einem 90° -*Winkel* zu den beiden anderen Richtungen steht. Da ein Blatt Papier nur eine zweidimensionale *Fläche* ist, muss die dritte *Dimension* durch eine Konvention hinzugefügt werden. Dazu wird die z -Richtung in einem 45° zur x - und y -Richtung eingezeichnet. Dabei wird die Länge in z -Richtung beim Einzeichnen halbiert. *Strecken*, die sich hinter *Flächen* befinden, werden gestrichelt. So würde ein *Quadrat*, welches in z -Richtung ebenso um die gleiche *Seitenlänge* a erweitert wird, *Würfel* genannt werden.




Die Abbildung zeigt genau so einen *Würfel*. Der *Würfel* zeichnet sich dadurch aus, dass alle *Winkel* 90° besitzen und alle *Seiten* gleich lang sind. Wie im zweidimensionalen das *Quadrat* ein Spezialfall des *Rechtecks* ist, so ist auch im dreidimensionalen ein *Würfel* ein Spezialfall eines sogenannten *Quaders*.



Wie die Abbildung zeigt, sind nur alle *Strecken*, die *parallel* zu einander sind gleich lang. Das sind die *Strecken*, die jeweils in eine *Dimension* zeigen. Wie auch schon bei der *Flächenberechnung* soll nun das *Volumen* des Körpers bestimmt werden. Das *Volumen* V ist ein *Größe*, die in $1m^3$ gemessen wird. Dabei gilt $1m^3 = 1m \cdot 1m \cdot 1m$ und somit wird das *Volumen* eines *Quaders* durch die *Multiplikation* der jeweiligen unterschiedlichen *Seiten* bestimmt. Folglich Länge mal Breite mal Höhe.

$$V = abc \quad (3.19)$$

Jeder *Quader* zeichnet sich auch dadurch aus, dass er acht *Ecken*, zwölf *Kanten* und sechs *Seiten* besitzt. Jeder dreidimensionale Körper kann aufgeklappt werden. Dazu werden alle *Flächen* so aneinander gezeichnet, sodass dadurch der Körper wieder erschaffen werden kann. So sind die Anzahl der *Ecken*, *Kanten* und *Flächen* ersichtlicher.

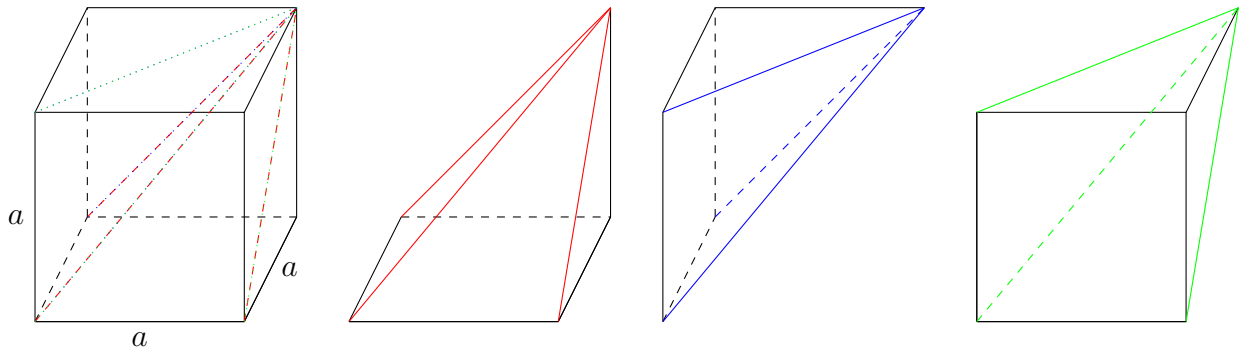


Die Abbildung zeigt so eine *Darstellung*, welche *Netz* genannt wird. Das *Netz* des *Quaders* zeigt, dass die *Oberfläche* O über die *Summe* der jeweiligen *Rechteckflächeninhalte* berechnet werden kann. Dabei ist die *Oberfläche*, die *Fläche*, die das *Volumen* umrandet und wird wie jede *Fläche* in $1m^2$ gemessen.

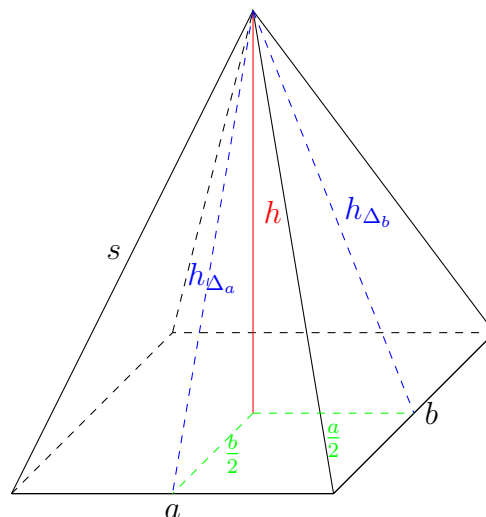
$$O = 2ab + 2ac + 2bc \quad (3.20)$$

Aus der *Flächenberechnung*, wo eine *Fläche* stets durch einen *Umfang* umrandet und nun aus der *Volumenberechnung*, wo das *Volumen* durch eine *Oberfläche* umrandet wird, kann generell gesagt werden, dass der sogenannte *Rand* immer eine *Dimension* kleiner ist als die Gesamtanzahl der *Dimensionen*.

Bisher wurde der *Quader* und der *Würfel* betrachtet, bei denen jeweils acht *Eckpunkt* vorhanden werden. Wenn nun ein Körper eine viereckiger *Grundfläche* haben soll, aber nur aus fünf *Eckpunkten* bestehen soll, dann wäre die *Volumenbestimmung* scheinbar schwieriger Natur. Allerdings kann jeder *Quader* der „unten“ wie „oben“ die *Grundfläche* aufweist in drei exakt gleiche Körper verschritten werden, die nur aus fünf *Eckpunkten* bestehen und eine viereckiger *Grundfläche* besitzen.



Die Abbildung zeigt, wie so ein *Quader* zerlegt werden könnte. Ein solcher Körper heißt *Pyramide*. Dabei ist es nicht wichtig, wo sich der zulaufende *Punkt*, die Spitze, befindet. Im Folgenden soll sich dieser *Punkt* über dem *Schwerpunkt* der *Grundfläche* befinden.

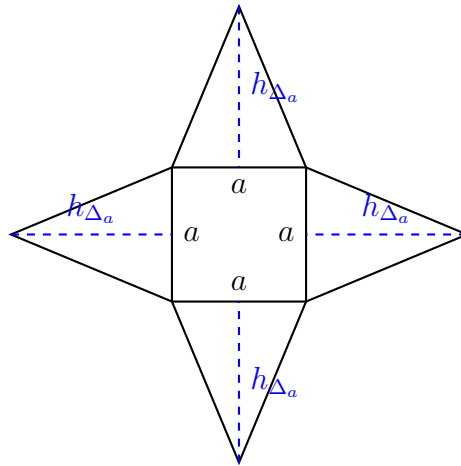


Das *Volumen* V der *Pyramide* mit *rechteckiger Grundseite* aus der Abbildung wäre gegeben durch:

$$V = \frac{1}{3}abh \quad , \quad (3.21)$$

da die *Pyramide* dreimal in einen *Quader* mit den Maßen a , b und h passen würde.

Die *Oberfläche* O wäre nach Betrachtung des *Netzes* der *Pyramide* auch nichts weiter als die *Flächeninhalt* der *Dreiecke* addiert mit der *Grundfläche*, welche in diesem Beispiel *quadratisch* gewählt sei ($b=a$).



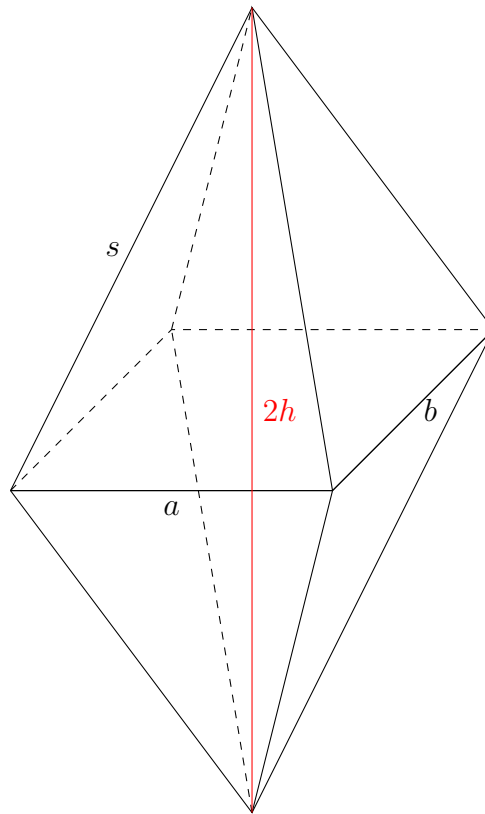
Wie das *Netz* schon vermuten lässt, wird die *Höhe* der *Dreiecke* h_{Δ_a} benötigt. Diese kann über den *Satz des Pythagoras* bestimmt werden (siehe dazu die *Abbildung* der *Pyramide*):

$$h_{\Delta_a} = \sqrt{h^2 + \frac{a^2}{4}} . \quad (3.22)$$

Somit ergibt sich für die *Oberfläche* der *Pyramide* O aus:

$$O = ah_{\Delta_a} + bh_{\Delta_b} + ab . \quad (3.23)$$

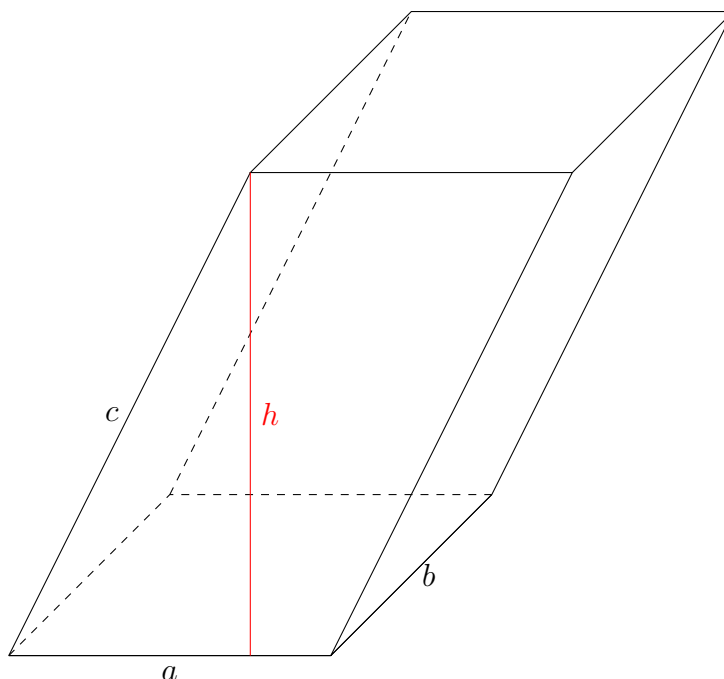
Viele Körper sind aus *Quadern* und *Pyramiden* zusammen gesetzt, wie zum Beispiel das *Oktaeder*:



Wie aus der Abbildung des *Oktaeders* zu erkennen ist, ist dieser Körper aus zwei *Pyramiden* zusammengesetzt, sodass das *Volumen* V und die *Oberfläche* O (also zwei *Pyramiden* ohne die *Grundflächen*) gegeben ist als:

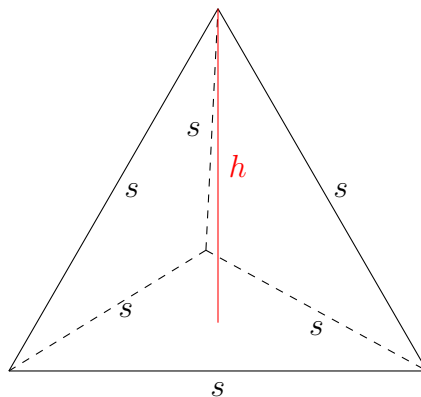
$$\begin{aligned} O &= 2ah_{\Delta_a} + 2bh_{\Delta_b} \\ V &= \frac{2}{3}abh \quad . \end{aligned} \tag{3.24}$$

Wie schon bei der *Pyramide*, müssen die Körper nicht nur *rechte Winkel* aufweisen, wie zum Beispiel dieses *schiefe Prisma* mit *rechteckiger Grundfläche*:



Da die *Winkel* im Verhältnis zu einander kleiner und größer geworden sind, wird das *Volumen* durch die *Höhe* h limitiert. Generell gilt für jeden Körper zur Berechnung des *Volumens* immer „*Grundseite* mal *Höhe*“. Somit ist es völlig ausreichend einen Körper zu unterteilen in Teilkörper, die berechnet werden können.

Zu guter Letzt soll noch das *Tetraeder* vorgestellt werden:



Das *Tetraeder* zeichnet sich dadurch aus, dass es auf vier *gleichseitigen Dreiecken* besteht und der einzige Körper mit nur vier *Flächen* ist. Die *Oberfläche* O und das *Volumen* V ist gegeben durch das Prinzip, welches anhand der *Pyramide* erläutert wurde, als:

$$\begin{aligned} O &= s^2\sqrt{3} \\ V &= \frac{s^3}{12}\sqrt{2} . \end{aligned} \quad (3.25)$$

Bei einem *Tetraeder* sind die *Winkel* der zwischen den *Kanten* gleich groß und haben den Wert von $109,5^\circ$.

Da nun viele eckige Körper eingeführt wurden soll im folgenden Abschnitt der *Kreis* und danach die *Ellipse* vorgestellt werden, sodass auch *Rundungen* berechnet werden können.

Informationen zu der Anzahl der *Ecken*, *Kanten* und *Flächen* eines Körpers sind im Anhang zu finden: 13.4 .

3.8.1 Übungsaufgaben zu mehrdimensionalen Vielecken

Aufgabe 1: Berechne das Volumen V und die Oberfläche O der Quader.

- a) Länge: $a = 4\text{cm}$, Breite: $b = 5\text{cm}$ und Höhe: $c = 4\text{cm}$
- b) Länge: $a = 3\text{cm}$, Breite: $b = 4\text{cm}$ und Höhe: $c = 6\text{cm}$
- c) Länge: $a = 3\text{cm}$, Breite: $b = 1\text{cm}$ und Höhe: $c = 9\text{cm}$
- d) Länge: $a = 7\text{cm}$, Breite: $b = 7\text{cm}$ und Höhe: $c = 1\text{cm}$
- e) Länge: $a = 8\text{cm}$, Breite: $b = 3\text{cm}$ und Höhe: $c = 2\text{cm}$
- f) Länge: $a = 4\text{cm}$, Breite: $b = 9\text{cm}$ und Höhe: $c = 4\text{cm}$
- g) Länge: $a = 2\text{cm}$, Breite: $b = 11\text{cm}$ und Höhe: $c = 8\text{cm}$
- h) Länge: $a = 9\text{cm}$, Breite: $b = 6\text{cm}$ und Höhe: $c = 7\text{cm}$
- i) Länge: $a = 7\text{cm}$, Breite: $b = 4\text{cm}$ und Höhe: $c = 2\text{cm}$
- j) Länge: $a = 2\text{km}$, Breite: $b = 5\text{km}$ und Höhe: $c = 5\text{km}$
- k) Länge: $a = 1\text{dm}$, Breite: $b = 9\text{dm}$ und Höhe: $c = 11\text{dm}$
- l) Länge: $a = 12\text{m}$, Breite: $b = 2\text{m}$ und Höhe: $c = 3\text{m}$
- m) Länge: $a = \frac{14}{7}\text{m}$, Breite: $b = \frac{144}{12}\text{m}$ und Höhe: $c = \frac{8}{4}\text{m}$
- n) Länge: $a = 12\text{mm}$, Breite: $b = 12\text{mm}$ und Höhe: $c = 0\text{mm}$

Aufgabe 1a: Berechne das Volumen V und die Oberfläche O der Quader.

- | | |
|---|--|
| a) $a = \frac{1}{2}\text{cm}$, $b = \frac{2}{5}\text{cm}$ und $c = \frac{1}{3}\text{cm}$ | b) $a = \frac{3}{4}\text{cm}$, $b = \frac{1}{4}\text{cm}$ und $c = \frac{3}{5}\text{cm}$ |
| c) $a = \frac{4}{9}\text{cm}$, $b = \frac{5}{1}\text{cm}$ und $c = \frac{2}{7}\text{cm}$ | d) $a = \frac{10}{3}\text{cm}$, $b = \frac{1}{10}\text{cm}$ und $c = \frac{5}{8}\text{cm}$ |
| e) $a = \frac{7}{9}\text{cm}$, $b = 3\text{cm}$ und $c = \frac{15}{4}\text{cm}$ | f) $a = \frac{12}{7}\text{cm}$, $b = \frac{1}{100}\text{cm}$ und $c = \frac{12}{11}\text{cm}$ |
| g) $a = \frac{4}{5}\text{dm}$, $b = \frac{1}{2}\text{cm}$ und $c = \frac{3}{4}\text{cm}$ | h) $a = \frac{5}{2}\text{cm}$, $b = \frac{35}{3}\text{mm}$ und $c = \frac{8}{7}\text{cm}$ |
| i) $a = \frac{56}{5}\text{mm}$, $b = \frac{37}{4}\text{cm}$ und $c = \frac{9}{8}\text{dm}$ | j) $a = \frac{1}{2}\text{m}$, $b = \frac{4}{3}\text{dm}$ und $c = \frac{45}{12}\text{cm}$ |

Aufgabe 2: Wenn die Seiten a und b die Grundfläche $G = a \cdot b$ bilden und die Höhe $h = c$ eines Quaders gegeben ist, wie groß ist dann das jeweilige Volumen V der Quader?

- a) Grundfläche: $G = 12\text{cm}^2$ und Höhe: $h = 3\text{cm}$
- b) Grundfläche: $G = 6\text{cm}^2$ und Höhe: $h = 5\text{cm}$
- c) Grundfläche: $G = 11\text{cm}^2$ und Höhe: $h = 9\text{cm}$
- d) Grundfläche: $G = 11\text{cm}^2$ und Höhe: $h = 3\text{cm}$
- e) Grundfläche: $G = 7\text{km}^2$ und Höhe: $h = 7\text{km}$
- f) Grundfläche: $G = 289\text{dm}^2$ und Höhe: $h = 1\text{dm}$
- g) Grundfläche: $G = \frac{16}{4}\text{m}^2$ und Höhe: $h = \frac{35}{5}\text{cm}$

Aufgabe 3: Wenn ein Kubikdezimeter dm^3 einem Liter l entspricht, wie viele Liter Wasser passen in die Quader hinein?

- a) Länge: $a = 4\text{dm}$, Breite: $b = 4\text{dm}$ und Höhe: $c = 4\text{dm}$
- b) Länge: $a = 5\text{dm}$, Breite: $b = 2\text{dm}$ und Höhe: $c = 3\text{dm}$
- c) Grundfläche: $G = 8\text{dm}^2$ und Höhe: $h = 9\text{dm}$
- d) Länge: $a = 10\text{cm}$, Breite: $b = 1\text{m}$ und Höhe: $c = 4\text{dm}$
- e) Grundfläche: $G = 11\text{dm}^2$ und Höhe: $h = 3\text{dm}$
- f) Grundfläche: $G = 17\text{dm}^2$ und Höhe: $h = 12\text{dm}$

Aufgabe 4: Ein Würfel hat ein Volumen V von 60dm^3 , wie viel Liter könnte eine Pyramide mit den gleichen Maßen halten?

Aufgabe 5: Ein Schwimmbecken ist 250dm lang und 100dm breit. Es hat eine Tiefe von 20dm . Wie viel Liter Wasser passen in dieses Schwimmbecken?

Aufgabe 6: Ein Geschenk soll Geschenkpapier eingepackt werden. Dabei ist das Geschenk 12cm lang, 6cm breit und 4cm hoch. Wie viel Quadratzentimeter Geschenkpapier werden benötigt?

Aufgabe 7: In einem Karton mit der Länge 10cm , der Breite 10cm und der Höhe 10cm befinden sich Zuckerwürfel mit einer Länge von 1cm , einer Breite von 1cm und einer Höhe von 1cm . Wie viele Zuckerwürfel befinden sich in dem Karton, wenn dieser vollständig mit

Zuckerwürfel gefüllt ist.

Aufgabe 8: Eine Kiste hat ein Volumen von 81dm^3 und besitzt eine Grundfläche von 9dm^2 . Wie hoch ist die Kiste?

Aufgabe 9: Ein Gefäß hat eine dreieckige Grundfläche, die 1dm^2 groß ist. Es hat eine Höhe von 2dm . Wie viel Liter Milch kann in dieses Gefäß gefüllt werden?

Aufgabe 10: Bestimme die Oberfläche O und das Volumen V für die gegebenen Werte der jeweiligen Würfel.

- | | | | |
|-------------------------------|-------------------------------|-------------------------------|----------------------------------|
| a) $a = 4\text{cm}$ | b) $a = 7\text{dm}$ | c) $a = 11\text{m}$ | d) $a = 12\text{km}$ |
| e) $a = \frac{3}{5}\text{cm}$ | f) $a = \frac{6}{7}\text{dm}$ | g) $a = \frac{11}{9}\text{m}$ | h) $a = \frac{17}{3}\text{km}$ |
| i) $a = 3,6\text{cm}$ | j) $a = 2,8\text{dm}$ | k) $a = 8,2\text{m}$ | l) $a = 14,24\text{km}$ |
| m) $a = \sqrt{7}\text{cm}$ | n) $a = \sqrt{15}\text{dm}$ | o) $a = \sqrt{467}\text{m}$ | p) $a = \sqrt{214,346}\text{km}$ |
| q) $a = \ln 5\text{cm}$ | r) $a = \ln 2\text{dm}$ | s) $a = e\text{m}$ | t) $a = \pi\text{km}$ |

Aufgabe 11: Bestimme das Volumen V für die gegebenen Werte der jeweiligen Prismen.

- | | |
|--|--------------------------------|
| a) Dreiecksprisma: $G = 4\text{cm}^2$ | und $h = 3\text{cm}$ |
| b) Vierecksprisma: $G = 6\text{cm}^2$ | und $h = 8\text{cm}$ |
| c) Sechsecksprisma: $G = 7,4\text{cm}^2$ | und $h = 3,2\text{cm}$ |
| d) Zehnecksprisma: $G = \frac{1}{3}\text{cm}^2$ | und $h = \frac{5}{6}\text{cm}$ |
| e) Dreiecksprisma: $G = \frac{13}{4}\text{cm}^2$ | und $h = \frac{9}{2}\text{cm}$ |
| f) Fünfecksprisma: $G = \frac{6}{7}\text{cm}^2$ | und $h = \frac{7}{9}\text{cm}$ |
| g) Neunecksprisma: $G = \sqrt{2}\text{cm}^2$ | und $h = \sqrt{3}\text{cm}$ |
| h) Vierecksprisma: $G = e\text{cm}^2$ | und $h = \pi\text{cm}$ |

Aufgabe 12: Bestimme die Oberfläche O und das Volumen V für die gegebenen Werte der jeweiligen Pyramiden mit rechteckiger Grundfläche.

- a) $a = 4cm$, $b = 4cm$ und $h = 6cm$
 b) $a = 3cm$, $b = 4cm$ und $h = \frac{9}{2}cm$
 c) $a = 3cm$, $b = \frac{7}{3}cm$ und $h_{\Delta_a} = 5cm$
 d) $a = \frac{9}{7}cm$, $b = \frac{5}{4}cm$ und $h_{\Delta_b} = 8cm$
 e) $a = \frac{5}{9}cm$, $b = \frac{3}{5}cm$ und $h = \frac{11}{3}cm$
 f) $a = \sqrt{2}cm$, $b = \sqrt{3}cm$ und $h = \sqrt{5}cm$
 g) $a = \ln 2cm$, $b = \ln 3cm$ und $h = \ln 5cm$
 h) $a = \pi cm$, $b = ecm$ und $h_{\Delta_b} = \sqrt{17}cm$

Aufgabe 13: Bestimme die Oberfläche O und das Volumen V für die gegebenen Werte der jeweiligen Oktaeder.

- a) $a = 7cm$, $b = 7cm$ und $h = 3cm$
 b) $a = 9cm$, $b = 2cm$ und $h = \frac{9}{5}cm$
 c) $a = 8cm$, $b = \frac{11}{4}cm$ und $h_{\Delta_a} = 7cm$
 d) $a = \frac{5}{4}cm$, $b = \frac{7}{3}cm$ und $h_{\Delta_b} = 6cm$
 e) $a = \frac{11}{7}cm$, $b = \frac{5}{9}cm$ und $h = \frac{17}{3}cm$
 f) $a = \sqrt{7}cm$, $b = \sqrt{11}cm$ und $h = \sqrt{5}cm$
 g) $a = \ln 10cm$, $b = \ln 5cm$ und $h = \ln 7cm$
 h) $a = \pi cm$, $b = ecm$ und $h_{\Delta_b} = \sqrt{2}cm$

Aufgabe 14: Bestimme die Oberfläche O und das Volumen V für die gegebenen Werte der jeweiligen Tetraeder.

- a) $s = 4cm$ b) $s = 9cm$ c) $s = \frac{3}{4}cm$
 d) $s = \frac{7}{5}cm$ e) $s = \frac{13}{3}cm$ f) $s = \sqrt{2}cm$
 g) $s = \ln 3cm$ h) $s = \pi cm$ i) $s = edm$

Aufgabe 15: Bestimme Oberfläche O und Volumen V für die gegebenen Werte der jeweiligen Körper.

a) Würfel: $a = 3\text{cm}$

b) Quader: $a = 2\text{cm}, b = 9\text{cm}$ und $c = 4\text{cm}$

c) Pyramide: $b = a = 4\text{cm}$ und $h = 6\text{cm}$

d) Pyramide: $a = 3\text{cm}, b = 4\text{cm}$ und $h = 5\text{cm}$

e) Quader ohne eine gleichmäßige Pyramide mit der Grundfläche $a \cdot b$:

$$a = 6\text{cm}, b = 5\text{cm} \text{ und } c = h = 4\text{cm}$$

f) Quader mit einer gleichmäßigen Pyramide mit der Grundfläche $a \cdot b$ oben drauf:

$$a = 2,5\text{cm}, b = 5\text{cm} \text{ und } c = h = 2,5\text{cm}$$

Aufgabe 16: Bestimme die Oberfläche O und das Volumen V für die gegebenen Werte der jeweiligen gleichmäßigen Prismen.

a) gleichmäßiges Dreiecksprisma: $a = 4\text{cm}$ und $h = 3\text{cm}$

b) gleichmäßiges Vierecksprisma: $a = 4\text{cm}$ und $h = 3\text{cm}$

c) gleichmäßiges Fünfecksprisma: $a = 4\text{cm}$ und $h = 3\text{cm}$

d) gleichmäßiges Sechsecksprisma: $a = 4\text{cm}$ und $h = 3\text{cm}$

e) gleichmäßiges Siebenecksprisma: $a = 4\text{cm}$ und $h = 3\text{cm}$

f) gleichmäßiges Achtecksprisma: $a = 4\text{cm}$ und $h = 3\text{cm}$

g) gleichmäßiges Dreiecksprisma: $a = \frac{4}{3}\text{cm}$ und $h = \frac{11}{4}\text{cm}$

h) gleichmäßiges Vierecksprisma: $a = \frac{4}{3}\text{cm}$ und $h = \frac{11}{4}\text{cm}$

i) gleichmäßiges Fünfecksprisma: $a = \frac{4}{3}\text{cm}$ und $h = \frac{11}{4}\text{cm}$

j) gleichmäßiges Sechsecksprisma: $a = \frac{4}{3}\text{cm}$ und $h = \frac{11}{4}\text{cm}$

k) gleichmäßiges Siebenecksprisma: $a = \frac{4}{3}\text{cm}$ und $h = \frac{11}{4}\text{cm}$

l) gleichmäßiges Achtecksprisma: $a = \frac{4}{3}\text{cm}$ und $h = \frac{11}{4}\text{cm}$

Aufgabe 17: Bestimme die Oberfläche O und das Volumen V für die gegebenen Werte der jeweiligen schiefen Prismen. (Benötigt Kapitel „Trigonometrie“)

- a) schiefes gleichmäßiges Dreiecksprisma: $a = 2cm$, $c = 4cm$ und $\alpha = 60^\circ$
 b) schiefes gleichmäßiges Vierecksprisma: $a = 2cm$, $c = 4cm$ und $\alpha = 60^\circ$
 c) schiefes gleichmäßiges Fünfecksprisma: $a = 2cm$, $c = 4cm$ und $\alpha = 60^\circ$
 d) schiefes gleichmäßiges Sechsecksprisma: $a = 2cm$, $c = 4cm$ und $\alpha = 60^\circ$
 e) schiefes gleichmäßiges Dreiecksprisma: $a = \frac{6}{5}cm$, $c = \frac{7}{3}cm$ und $\alpha = 44^\circ$
 f) schiefes gleichmäßiges Vierecksprisma: $a = \frac{6}{5}cm$, $c = \frac{7}{3}cm$ und $\alpha = 44^\circ$
 g) schiefes gleichmäßiges Fünfecksprisma: $a = \frac{6}{5}cm$, $c = \frac{7}{3}cm$ und $\alpha = 44^\circ$
 h) schiefes gleichmäßiges Sechsecksprisma: $a = \frac{6}{5}cm$, $c = \frac{7}{3}cm$ und $\alpha = 44^\circ$

Aufgabe 18: Bestimme die Oberfläche O und das Volumen V für die gegebenen Werte der jeweiligen Pyramiden mit den angegebenen Grundflächen.

- a) Pyramide mit gleichmäßiger Dreieckgrundfläche: $a = 4cm$ und $h = 7cm$
 b) Pyramide mit gleichmäßiger Fünfeckgrundfläche: $a = 4cm$ und $h = 7cm$
 c) Pyramide mit gleichmäßiger Sechseckgrundfläche: $a = 4cm$ und $h = 7cm$
 d) Pyramide mit gleichmäßiger Dreieckgrundfläche: $a = \frac{5}{4}cm$ und $h = \frac{11}{5}cm$
 e) Pyramide mit gleichmäßiger Fünfeckgrundfläche: $a = \frac{5}{4}cm$ und $h = \frac{11}{5}cm$
 f) Pyramide mit gleichmäßiger Sechseckgrundfläche: $a = \frac{5}{4}cm$ und $h = \frac{11}{5}cm$

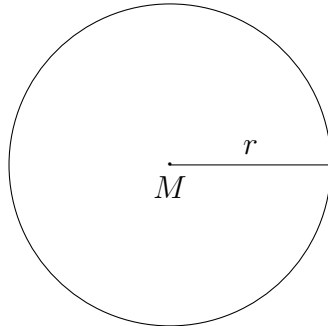
Aufgabe 19: Berechne für die angegebenen Werte der Quader die Höhe h .

- a) $V = \frac{7}{5}cm^3$ und $G = \frac{11}{6}cm^2$ b) $V = 8cm^3$ und $G = \frac{10}{3}cm^2$
 c) $V = \frac{1}{2}cm^3$ und $G = \frac{1}{10}cm^2$ d) $V = \frac{8}{7}cm^3$ und $G = 2cm^2$
 e) $V = \frac{11}{12}cm^3$ und $G = \sqrt{83}cm^2$ f) $V = \pi cm^3$ und $G = ecm^2$

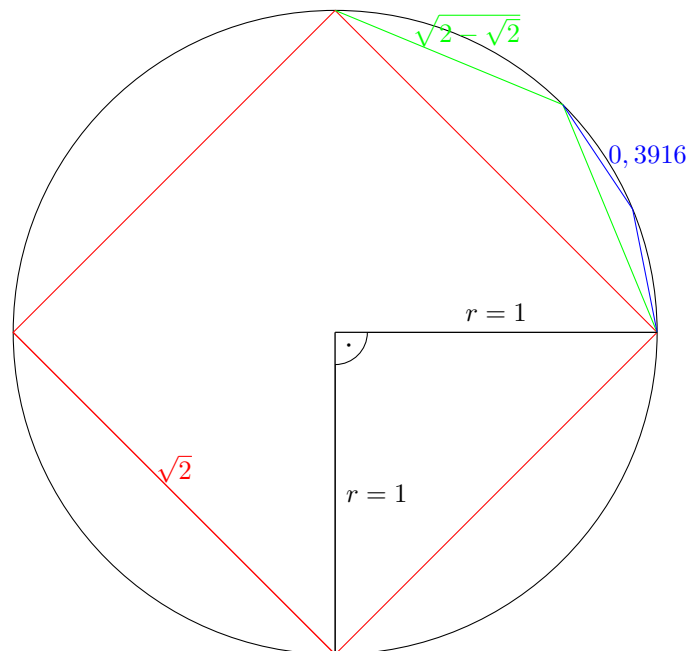
Die Lösungen zu diesem Abschnitt finden sich im Anhang im Abschnitt (13.6.21) Lösungen zu mehrdimensionalen Vielecken.

3.9 Kreis

Ein *Kreis* zeichnet sich dadurch aus, dass er rund ist und der *Abstand* vom *Mittelpunkt* zum *Kreis* selbst immer gleich groß ist. Dieser *Abstand* wird *Radius* r genannt. Der doppelte *Radius* wird als *Durchmesser* $d = 2r$ bezeichnet.



Die Abbildung zeigt einen *Kreis* mit *Radius* r mit dem *Mittelpunkt* M . In der *Geometrie* sind gerade die *Größen* des *Flächeninhalts* und des *Umfangs* interessant. Beide Werte sollen anhand eines *Kreises* mit *Radius* $r = 1$ ermittelt werden. Da wird zu nächst ein *Quadrat* in den *Kreis* gezeichnet, welches die *Seitenlänge* $a = \sqrt{2}$ besitzt. Dies wird offensichtlich durch die Verwendung des *Satz des Pythagoras*. Anschließend soll in der noch nicht vom roten *Quadrat* ein *gleichschenkliges Dreieck*, welches grün sein soll, eingezeichnet werden, sodass alle *Eckpunkte* sich auf dem schwarzen *Kreisbogen* befinden. Anschließend wird wieder ein *Dreieck*, das blau sein soll, so eingezeichnet, dass es im noch nicht erschlossenen Raum liegt und dazu wieder alle *Eckpunkte* sich auf dem *Kreisbogen* befinden.



Die Abbildung zeigt genau dieses Verfahren. Wenn diese Prozedur oft genug wiederholt wurde, soll der *Umfang* des eckigen Körpers und auch der *Flächeninhalt* bestimmt werden. Dies wird nun im Weiteren schrittweise geschehen.

Um den *Umfang* zu bestimmen, werden jeweils die *Schenkellängen* der *gleichschenkligen Dreiecke* benötigt, welche dann mit der Anzahl der *Ecken* des jeweiligen resultierenden Vielecks *multipliziert* wird. (Die genaue Berechnung der jeweiligen *Schenkellängen* und auch der *Höhen* für den *Flächeninhalt* soll hier nicht genauer erläutert werden, dies kann jeder Schüler nach Bearbeitung des Kapitels „Trigonometrie“ selbst nachrechnen.)

$$\begin{aligned}
 U_{\text{rot},4} &= 4 \cdot \sqrt{2} = 5,6568 \\
 U_{\text{grün},8} &= 8 \cdot \sqrt{2 - \sqrt{2}} = 6,1229 \\
 U_{\text{blau},16} &= 16 \cdot 0.3916 = 6,2656 \\
 &\vdots \\
 U_{\infty} &= 6,2832
 \end{aligned} \tag{3.26}$$

Beim *Flächeninhalt* A müssen noch über den *Satz des Pythagoras* die jeweiligen *Höhen der Dreiecke* bestimmt werden. Sie sind immer gegeben als die *Wurzel* aus der neuen *Seitenlänge* zum *Quadrat* *subtrahiert* mit der halben alten *Seitenlänge* zum *Quadrat*.

$$\begin{aligned}
 A_4 &= A_{\text{rot}} = 2 \\
 A_8 &= A_{\text{rot}} + 4A_{\text{grün}} = 2,82843 \\
 A_{16} &= A_8 + 8A_{\text{blau}} = 3,07216 \\
 &\vdots \\
 A_{\infty} &= 3,14159 := \pi
 \end{aligned} \tag{3.27}$$

Der *Flächeninhalt* A_{∞} eines regelmäßigen Unendlichecks - einem *Kreis* -, dessen *Eckpunkte* alle auf dem *Kreisbogen* mit dem *Radius* $r = 1$ liegen beträgt genau π . π ist eine *irrationale Zahl*³ und wird auch *Kreiszahl* genannt. Mittels dieser *Kreiszahl* π lassen sich die *Größen* eines *Kreises* mit beliebigen *Radius* r darstellen.

$$\begin{aligned}
 A &= \pi r^2 \\
 U &= 2\pi r
 \end{aligned} \tag{3.28}$$

Auch noch andere weitere *Größen* des *Kreises* lassen sich über π darstellen, dazu werden im nächsten Unterabschnitt Teile des *Kreises* berechnet und anschließend das *Bogenmaß* eingeführt.

3.9.1 Bogenmaß

Da der *Kreis* mit dem *Radius* $r = 1$, der sogenannte *Einheitskreis*, einen *Umfang* von $U = 2\pi$ besitzt, kann ein Zusammenhang zwischen *Umfang* und einem *vollen Winkel* 360° gesehen werden. Der *Kreis* steht symbolisch für einen *vollen Winkel* und dadurch kann die Beziehung

³irrationale Zahlen können nicht durch Brüche dargestellt werden: $\mathbb{I} = \mathbb{R} \setminus \mathbb{Q}$.

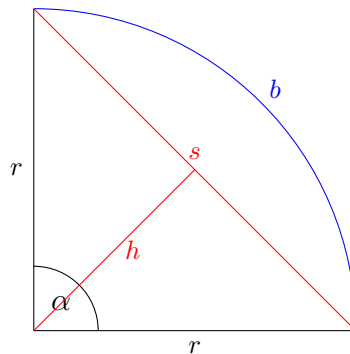
$$\begin{aligned}
 2\pi \text{ rad} &= 360^\circ \\
 \Rightarrow 1^\circ &= \frac{\pi}{180} \text{ rad} \\
 \Leftrightarrow 1 \text{ rad} &= \frac{180^\circ}{\pi}
 \end{aligned}
 \tag{3.29}$$

aufgestellt werden. Dabei ist rad die *Einheit Radian*, welche für die Länge des jeweiligen *Kreisbogen* steht. Oftmals empfiehlt es sich in *Radian* zu rechnen, da dies nicht selten die Gleichungen erheblich vereinfachen würde. Je nach dem, ob *Grad* oder *Radian* als *Einheit* gewählt wurde, muss diese auch im Taschenrechner verändert werden, da sonst die Ergebnisse nicht der Realität entsprechen. Die Umrechnung ist über den Dreisatz oder der folgenden Gleichung möglich:

$$\begin{aligned}
 \alpha [\text{rad}] &= \frac{2\pi}{360^\circ} \alpha [^\circ] \quad , \\
 \alpha [^\circ] &= \frac{360^\circ}{2\pi} \alpha [\text{rad}] \quad .
 \end{aligned}
 \tag{3.30}$$

3.9.2 Kreisteile

Wie schon oben beschrieben, ist der *Umfang* des *Kreises* durch $U = 2\pi r$ und der *Flächeninhalt* durch $A = \pi r^2$ gegeben. Somit ergeben sich auch Teilgrößen wie der *Kreisbogen* b , der *Kreisausschnitt* und der *Kreisabschnitt*.



Die Abbildung zeigt einen *Kreisausschnitt* mit allen Unterteilungen für einen *Kreisabschnitt* sowie den *Kreisbogen*. Dabei ist der *Kreisbogen* b ein *Bruchteil* des *Umfangs*, der durch $2\pi r$ und 360° beschrieben wird. Somit ergibt sich, dass für einen *Winkel* α folgende *Bogenlänge* b ergibt:

$$b = \frac{2\pi r}{360} \alpha \quad .
 \tag{3.31}$$

Der *Flächeninhalt* des *Kreisausschnittes*, der durch die gesamte umrandete *Fläche* beschrieben wird, der anteilige *Flächeninhalt* eines ganzen *Kreises*:

$$A_{\text{Kreisausschnitt}} = \frac{\pi\alpha}{360}r^2 = \frac{br}{2}\alpha . \quad (3.32)$$

Der *Flächeninhalt* dieses *Kreisausschnittes* ohne die des *Dreiecks* mit der *Grundfläche* s und der *Höhe* h , wird *Kreisabschnitt* genannt. Durch die Beschreibung wird klar wie der *Flächeninhalt* eines *Kreisabschnittes* berechnet wird:

$$A_{\text{Kreisabschnitt}} = \frac{\pi\alpha}{360}r^2 - \frac{sh}{2} = \frac{br - sh}{2}\alpha . \quad (3.33)$$

Mit diesen *Teilgrößen* des *Kreises* und dem Wissen über den ganzen *Kreis*, lassen sich nahezu alle Probleme berechnen.

3.9.3 Übungsaufgaben zu Kreisen

Aufgabe 1: Bestimme Umfang U und den Flächeninhalt A für die gegebenen Werte der Kreise.

- | | | |
|---------------------------------|---------------------------------|----------------------------------|
| a) $r = 3\text{cm}$, | b) $r = 6\text{cm}$, | c) $d = 11\text{cm}$, |
| d) $r = \frac{2}{3}\text{mm}$, | e) $r = \frac{5}{6}\text{dm}$, | f) $d = \frac{7}{4}\text{m}$, |
| g) $r = \frac{2}{7}\text{cm}$, | h) $r = \frac{9}{5}\text{cm}$, | i) $d = \frac{11}{3}\text{cm}$, |
| j) $r = \sqrt{5}\text{cm}$, | k) $r = \pi\text{cm}$, | l) $d = \ln 6\text{cm}$, |
| m) $d = 0,5\text{cm}$, | n) $r = 2,718\text{cm}$, | o) $d = \frac{6}{7}\text{cm}$. |

Aufgabe 2: Bestimme Umfang U und den Flächeninhalt A für die gegebenen Werte der Kreis-ausschnitt.

- | | | | |
|----------------------------------|----------------------------------|-----------------------------------|--------------------------------|
| a) $\alpha = 60^\circ$ | und $r = 5\text{cm}$ | b) $\alpha = 230^\circ$ | und $r = 2\text{cm}$ |
| c) $\alpha = 177^\circ$ | und $r = \sqrt{17}\text{cm}$ | d) $\alpha = 55^\circ$ | und $r = 3\text{cm}$ |
| e) $\alpha = 145^\circ$ | und $r = 7\text{cm}$ | f) $\alpha = 310^\circ$ | und $r = 2,5\text{cm}$ |
| g) $\alpha = 130,4^\circ$ | und $r = \frac{3}{4}\text{cm}$ | h) $\alpha = \frac{145^\circ}{6}$ | und $r = \frac{7}{2}\text{cm}$ |
| i) $\alpha = \frac{99^\circ}{5}$ | und $r = \frac{5}{3}\text{cm}$ | j) $\alpha = \frac{189^\circ}{7}$ | und $r = \frac{9}{7}\text{cm}$ |
| k) $\alpha = \frac{4^\circ}{5}$ | und $r = \frac{11}{12}\text{cm}$ | l) $\alpha = \sqrt{3025}^\circ$ | und $r = \sqrt{111}\text{cm}$ |

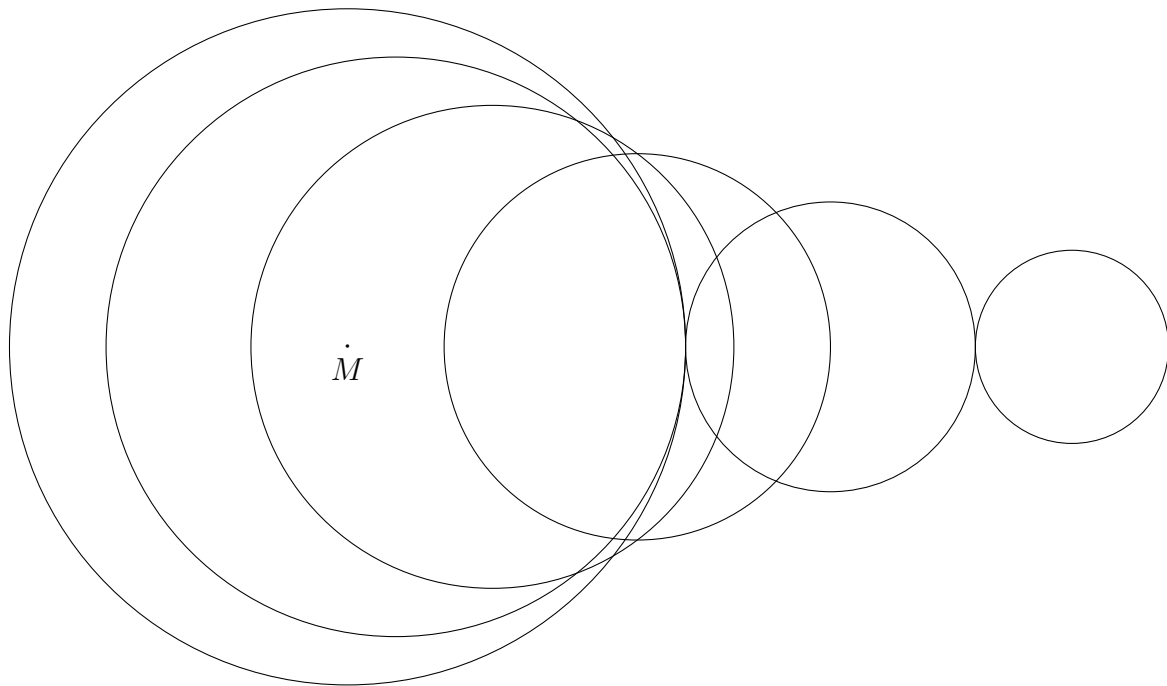
Aufgabe 3: Rechne die Einheiten um.

- | | | |
|---------------------------------|---------------------------------|----------------------------------|
| a) $180^\circ =$ | b) $360^\circ =$ | c) $90^\circ =$ |
| d) $45^\circ =$ | e) $30^\circ =$ | f) $120^\circ =$ |
| g) $36^\circ =$ | h) $55^\circ =$ | i) $193^\circ =$ |
| j) $11^\circ =$ | k) $466^\circ =$ | l) $1643^\circ =$ |
| m) $\frac{3\pi}{4}\text{rad} =$ | n) $\frac{3\pi}{2}\text{rad} =$ | o) $\frac{5\pi}{4}\text{rad} =$ |
| p) $1,2\pi\text{rad} =$ | q) $1,75\text{rad} =$ | r) $0,\bar{3}\text{rad} =$ |
| s) $\frac{4\pi}{5}\text{rad} =$ | t) $\frac{\pi}{9}\text{rad} =$ | u) $\frac{9\pi}{7}\text{rad} =$ |
| v) $\frac{\pi}{12}\text{rad} =$ | w) $\frac{7\pi}{3}\text{rad} =$ | x) $\frac{11\pi}{9}\text{rad} =$ |

Aufgabe 4: *Zeichne die angegebenen Kreismuster.*

- a) Alle Kreise mit geradem Radius sollen im Mittelpunkt M gezeichnet werden und alle mit ungeradem Radius im Mittelpunkt N . Dabei gilt, dass M 1cm links von N ist. Zeichne für folgende Radien: $r = \{2\text{cm}, 3\text{cm}, 4\text{cm}, 5\text{cm}, 6\text{cm}, 7\text{cm}\}$.
- b) Zeichne einen Kreis mit Radius $r = 7\text{cm}$ im Mittelpunkt M , zeichne danach einen Kreis der einen Radius von einem Zentimeter weniger hat und sich der Mittelpunkt 1cm weiter links befindet. Wiederhole dies bis du einen Kreis mit Radius $r = 2\text{cm}$ gezeichnet hast.
- c) Wähle einen Punkt P auf deinem Blatt, zeichne dann jeweils einen Kreisbogen mit 116° , sodass die Strecke vom jeweiligen Kreisbogenmittelpunkt zum Punkt P hin den Kreisbogen halbieren würde, mit Radius $r = 4\text{cm}$ mit einem Abstand von 3cm nach links, rechts, oben und unten zu P .
- d) Wähle einen Punkt P und gehe von ihm aus $\sqrt{50}\text{cm}$ diagonal nach links oben, rechts oben, links unten und rechts unten. Zeichne in diesen Punkten einen Viertelkreis, sodass die Linie zum Punkt P den Kreisbogen halbieren würde. Zeichne dann einen Kreis vom Punkt P aus, sodass dieser alle vier Viertelkreise berührt. Welchen Radius hat dieser innere Kreis?

Aufgabe 5: *Beschreibe das Schema der Zeichnung.*



Aufgabe 6: Zeichne einen Halbkreis und verbinde die Enden des Kreisbogens. Zeichne anschließend vier beliebige Dreiecke in diesen Halbkreis unter der Bedingung, dass die Enden des Halbkreis zwei Eckpunkte der Dreiecke sind und der letzte Eckpunkt des jeweiligen Dreiecks sich auf dem Kreisbogen befindet. Messe anschließend den Winkel der Dreiecke beim jeweiligen Eckpunkt, der auf dem Kreisbogen und nicht an den Enden des Kreisbogens ist. Was auffällt wird „Satz des Thales“ genannt.

Aufgabe 7: Bestimme Umfang U und den Flächeninhalt A für die gegebenen Werte der Kreisabschnitt. (Benötigt Kapitel „Trigonometrie“)

a) $r = 5\text{cm}$ und $\alpha = 90^\circ$

b) $r = 4\text{cm}$ und $\alpha = 75^\circ$

c) $r = 7,45\text{cm}$ und $\alpha = 122^\circ$

d) $r = \frac{9}{4}\text{cm}$ und $\alpha = 23^\circ$

e) $r = \frac{7}{13}\text{cm}$ und $\alpha = 95^\circ$

f) $r = \sqrt{7}\text{cm}$ und $\alpha = 146^\circ$

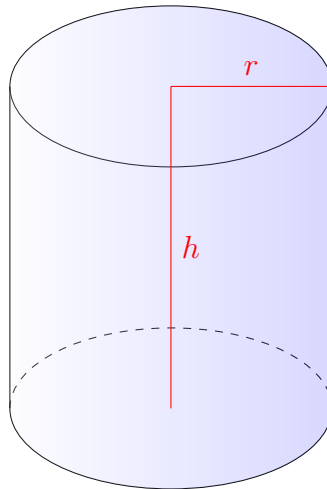
g) $r = \ln 4\text{cm}$ und $\alpha = \frac{3}{4}\pi \text{ rad}$

h) $r = e\text{cm}$ und $\alpha = \frac{1}{3}\pi \text{ rad}$


Die Lösungen zu diesem Abschnitt finden sich im Anhang im Abschnitt (13.6.22) Lösungen zu Kreisen.

3.10 Zylinder und Kegel

Ein dreidimensionaler Körper, der einen *Kreis* als *Grundfläche* hat, welche gegenüberliegend mit einem *Abstand* einer *Höhe* h wieder vorzufinden ist, wird *Zylinder* genannt.



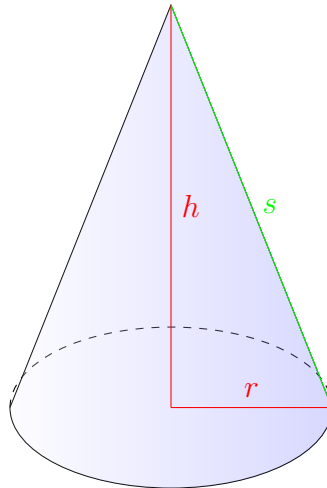
Die Abbildung zeigt, dass sich der *Zylinder* ähnlich wie das das *Prisma* behandeln lässt. Der einzige Unterschied ist dadurch gegeben, dass es sich um *runde Grundflächen* handelt und dass ein *Zylinder* nur zwei *Kanten*, drei *Flächen* und keinen *Eckpunkt* besitzt, wie das *Netz* offenbart:



Das *Volumen* V ist erneut gegeben durch „*Grundfläche* G mal *Höhe* h “ und am *Netz* aus der Abbildung ist erkennbar, dass die *Oberfläche* O sich aus zwei gleichen *Kreisen* und einem *Rechteck* mit den *Seitenlängen* $2\pi r$ und h zusammensetzt:

$$\begin{aligned} V &= Gh = \pi r^2 h \\ O &= 2 \cdot \pi r^2 + \pi r h \quad . \end{aligned} \tag{3.34}$$

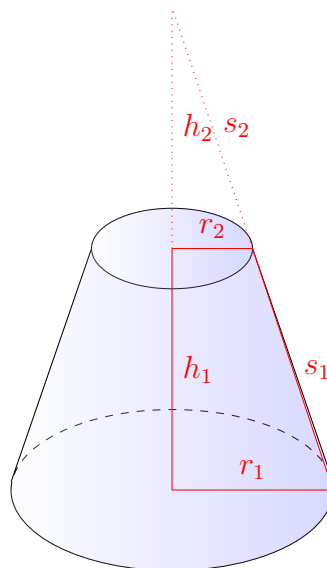
Sobald der Körper in der *Höhe* h wieder zu einem *Punkt* wieder zusammenläuft und dabei als *Grundfläche* einen *Kreis* besitzt, wird dieser Körper als *Kegel* bezeichnet.



Der *Kegel* ist im Vergleich zum *Zylinder* genauso zu handhaben wie die *Pyramide* im Vergleich zum *Quader*. Somit ergibt sich das *Volumen* des *Kegels* V als ein Drittel des *Volumens* eines *Zylinders*. Bei der *Oberfläche* ist dies nicht so trivial, denn ein *Kreis* als *Grundfläche* wird mit einem *Kreisausschnitt* addiert. Dabei hat der *Kreisausschnitt* den *Radius* s und eine *Kreisbogenlänge* $b = 2\pi r$.

$$\begin{aligned} V &= \frac{1}{3}Gh = \frac{1}{3}\pi r^2 h \\ O &= \pi r^2 + \pi r s = \pi r(r + s) \end{aligned} \quad (3.35)$$

Falls ein *Zylinder* mit unterschiedlich großen *Kreisen* vorzufinden ist, wird im allgemeinen von einem *Kegelstumpf* gesprochen. Hierbei wurde lediglich ein Teil eines *Kegels* mit der *Höhe* $h = h_1 + h_2$ abgeschnitten.



Durch umstellen von Gleichungen ergibt sich das *Volumen* und die *Oberfläche* des *Kegelstumpfes* zu:

$$\begin{aligned} V &= \frac{1}{3}G_1h_1 - \frac{1}{3}G_2h_2 = \frac{1}{3}\pi h (r_1^2 + r_1r_2 + r_2^2) \\ O &= \pi r_1^2 + \pi r_2^2 + \pi r_1s_1 - \pi r_2s_2 = \pi (r_1^2 + r_2^2 + s_1(r_1 + r_2)) \quad . \end{aligned} \tag{3.36}$$

Generell bleibt noch anzumerken, dass die *Mantelfläche* M immer gegeben ist als die *Oberfläche* ohne *Grundfläche*.

Informationen zu der Anzahl der *Ecken*, *Kanten* und *Flächen* eines Körpers sind im Anhang zu finden: 13.4 .

3.10.1 Übungsaufgaben zu Zylindern und Kegeln

Aufgabe 1: Bestimme das Volumen V und die Oberfläche O für die gegebenen Werte der Zylinder.

- a) $r = 5\text{cm}$ und $h = 11\text{cm}$, b) $r = 47\text{cm}$ und $h = 85\text{cm}$
 c) $r = \frac{1}{4}\text{cm}$ und $h = \sqrt{9}\text{cm}$, d) $r = \sqrt{7}\text{cm}$ und $h = 2\text{cm}$
 e) $r = \frac{7}{3}\text{cm}$ und $h = \sqrt{5}\text{cm}$, f) $r = \sqrt{50}\text{cm}$ und $h = \sqrt{\frac{3}{16}}\text{cm}$

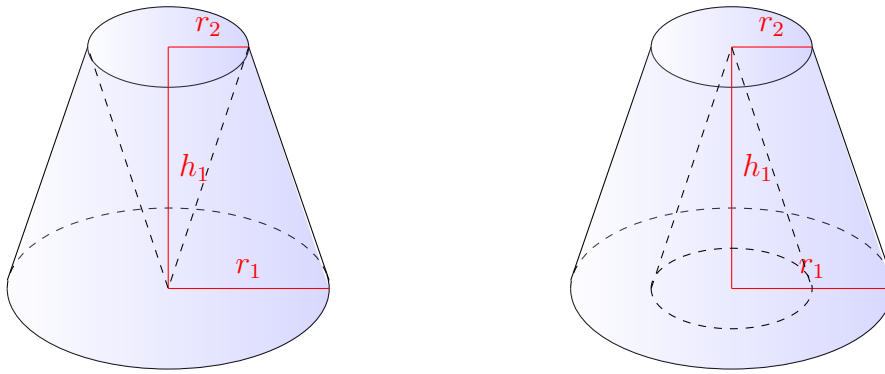
Aufgabe 2: Bestimme das Volumen V und die Oberfläche O für die gegebenen Werte der Kegel.

- a) $r = 4\text{cm}$ und $h = 2,7\text{cm}$, b) $r = \sqrt{2}\text{cm}$ und $h = \frac{2}{5}\text{cm}$
 c) $r = 7\text{cm}$ und $h = 4,3\text{cm}$, d) $r = \frac{10}{7}\text{cm}$ und $h = 4\text{cm}$
 e) $r = 5\text{cm}$ und $h = 1,4\text{cm}$, f) $r = \frac{1}{8}\text{cm}$ und $h = 9\text{cm}$

Aufgabe 3: Bestimme das Volumen V und die Oberfläche O für die gegebenen Werte der Kegelstümpfe.

- a) $r_1 = 4\text{cm}$, $r_2 = 2\text{cm}$ und $h_1 = 5\text{cm}$, b) $r_1 = 3,5\text{cm}$, $r_2 = 1,5\text{cm}$ und $h_1 = 7\text{cm}$,
 c) $r_1 = 6\text{cm}$, $r_2 = 2\text{cm}$ und $h_1 = 9\text{cm}$, d) $r_1 = \frac{1}{3}\text{cm}$, $r_2 = \frac{9}{4}\text{cm}$ und $h_1 = \frac{13}{2}\text{cm}$,
 e) $r_1 = 1\text{cm}$, $r_2 = 5\text{cm}$ und $h_1 = \frac{7}{4}\text{cm}$, f) $r_1 = \pi\text{cm}$, $r_2 = 2,718\text{cm}$ und $h_1 = \sqrt{2}\text{cm}$.

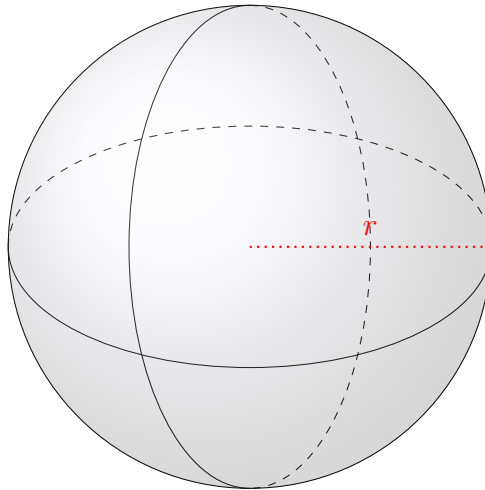
Aufgabe 4: Bestimme das Volumen V und die Oberfläche O der Körper. (Es handelt sich um einen Kegelstumpf mit $h_1 = h_2 = 4\text{cm}$ und $r_1 = 4\text{cm}$ aus dem ein Kegel der Höhe h_1 und Radius $r_2 = 2\text{cm}$ herausgeschnitten wurde.)



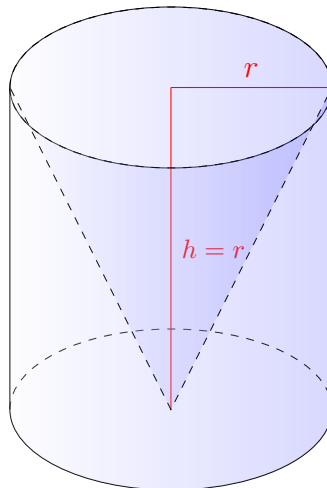
Die Lösungen zu diesem Abschnitt finden sich im Anhang im Abschnitt (13.6.23) Lösungen zu Zylindern und Kegeln.

3.11 Kugeln

Ähnlich wie beim zweidimensionalen *Kreis* die *Größen* über ein Näherungsverfahren (ein *iteratives* Verfahren - also schrittweise) bestimmt wurden, kann auch das *Volumen* und die *Oberfläche* einer *Kugel* mit *iterativen* Methoden bestimmt werden. Dabei ist eine *Kugel* ein Objekt, dass von seinem *Mittelpunkt* ausgehend in drei *Raumdimensionen* immer den gleichen *Abstand* zu seiner *Oberfläche* besitzt.



Um das *Volumen* zu berechnen, wird der *Satz von Cavalieri* benutzt, welcher aussagt, dass Körper, die auf jeder *Höhe* den gleichen *Flächeninhalt* besitzen auch das gleiche *Volumen* haben müssen. Somit muss eine *Halbkugel* das gleiche *Volumen* haben wie ein *Zylinder* aus dem ein *Kegel* mit *Radius* r und *Höhe* $h = r$ herausgeschnitten wurde:



Da wie bereits anhand von *Pyramiden* und *Quadern* gezeigt, passen drei der *Kegel* aus der Abbildung in den *Zylinder*. Somit ist das *Volumen* einer *Halbkugel* gegeben als $\frac{2}{3}\pi r^3$ und folglich, dass einer *Kugel* durch:

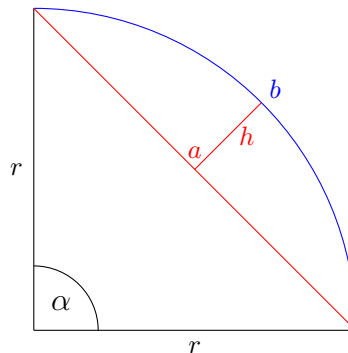
$$V = \frac{4}{3}\pi r^3 \quad (3.37)$$

Während bei der *Oberfläche* wieder ein *iteratives* Verfahren verwendet werden kann, sodass

$$O = 4\pi r^2 \quad (3.38)$$

gefunden werden kann.

Wie auch schon beim *Kreis* gibt es bei der *Kugel* sogenannte *Kugelabschnitte* und *Kugelausschnitte*. Für den *Kugelausschnitt* gilt erneut, dass es sich um einen *Bruchteil* einer *Kugel* handelt.



Die Abbildung ist auf zwei *Dimensionen* reduziert, zeigt aber die wichtigen *Größen* für die Berechnung. So ergibt sich für den *Kugelausschnitt*:

$$\begin{aligned} V &= \frac{2}{3}\pi r^2 h \\ O &= \pi r^2 (2h + a) \quad . \end{aligned} \quad (3.39)$$

Beim *Kugelabschnitt* muss der *Kegel* mit dem *Radius a* vom *Volumen subtrahiert* werden. Ebenso muss dies bei der *Oberfläche* berücksichtigt werden, sodass die *Grundfläche* des *Kegels* hinzu *addiert* werden muss, während die *Mantelfläche*⁴ wegfällt. Somit ergibt sich:

$$\begin{aligned} V &= \frac{1}{3}\pi h^2 (3r - h) \\ O &= \pi (2rh + a^2) = \pi (4rh - h^2) \quad . \end{aligned} \quad (3.40)$$

Da nun alle wichtigen *geometrischen* Körper und *Größen* eingeführt wurden, können diese nun auch alle vollständig berechnet werden. Um noch den Zusammenhang zwischen den *Winkeln* und den *Seitenlängen* eines Körpers in Verbindung zu bringen, wird im nachfolgenden Kapitel das Verständnis für *geometrische* Probleme weiter vertieft.

Informationen zu der Anzahl der *Ecken*, *Kanten* und *Flächen* eines Körpers sind im Anhang zu finden: 13.4 .

⁴Die Mantelfläche ist die Oberfläche ohne Grundfläche.

3.11.1 Übungsaufgaben zu Kugeln

Aufgabe 1: Bestimme das Volumen V und die Oberfläche O für die gegebenen Werte der Kugeln.

- a) $r = 3\text{cm}$, b) $r = \pi\text{cm}$, c) $d = 4\text{cm}$,
d) $d = 0,5\text{cm}$, e) $r = 2,718\text{cm}$, f) $d = \frac{6}{7}\text{cm}$.

Aufgabe 2: Bestimme das Volumen V und die Oberfläche O für die gegebenen Werte der Kugelausschnitte.

- a) $r = 4\text{cm}$ und $\alpha = 90^\circ$
b) $r = 7\text{cm}$ und $\alpha = 45^\circ$
c) $r = 3,33\text{cm}$ und $\alpha = 100^\circ$
d) $r = \frac{32}{7}\text{cm}$ und $\alpha = 12^\circ$
e) $r = \frac{23}{33}\text{cm}$ und $\alpha = 88^\circ$
f) $r = \sqrt{8}\text{cm}$ und $\alpha = 177^\circ$
g) $r = \ln 6\text{cm}$ und $\alpha = \frac{5}{6}\pi \text{ rad}$
h) $r = e\text{cm}$ und $\alpha = \frac{1}{7}\pi \text{ rad}$

Aufgabe 3: Bestimme das Volumen V und die Oberfläche O für die gegebenen Werte der Kugelabschnitte.

$$a) \ r = 8\text{cm} \quad \text{und} \quad \alpha = 90^\circ$$

$$b) \ r = 3\text{cm} \quad \text{und} \quad \alpha = 33^\circ$$

$$c) \ r = 6,12\text{cm} \quad \text{und} \quad \alpha = 134^\circ$$

$$d) \ r = \frac{21}{4}\text{cm} \quad \text{und} \quad \alpha = 5^\circ$$

$$e) \ r = \frac{7}{13}\text{cm} \quad \text{und} \quad \alpha = 87^\circ$$

$$f) \ r = \sqrt{14}\text{cm} \quad \text{und} \quad \alpha = 2^\circ$$

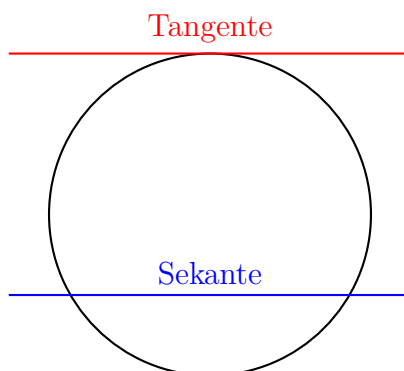
$$g) \ r = \ln 5\text{cm} \quad \text{und} \quad \alpha = \frac{3}{11}\pi \text{ rad}$$

$$h) \ r = e\text{cm} \quad \text{und} \quad \alpha = \frac{1}{9}\pi \text{ rad}$$

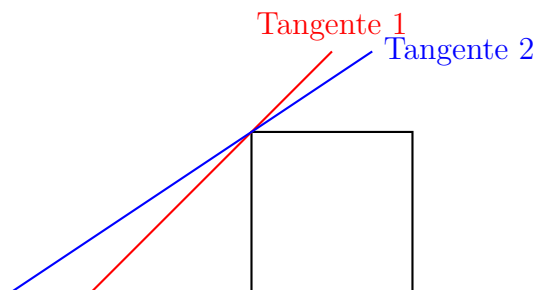
Die Lösungen zu diesem Abschnitt finden sich im Anhang im Abschnitt (13.6.24) Lösungen zu Kreisen.

3.12 Tangenten und Sekanten

Am Ende dieses Kapitels werden noch zwei spezielle *Geraden* in Bezug auf andere Körper eingeführt. Die erste spezielle *Gerade* ist die *Sekante*, welche einen Körper schneidet. Dabei hat die *Sekante* oftmals mehr als nur einen *Schnittpunkt*, da ein *geometrisches* Objekt nach allen *Seiten* begrenzt ist. Die zweite spezielle *Geradenart* wird *Tangente* genannt, welche einen Körper nur **berührt** aber **nicht schneidet**. Somit hat eine *Tangente* nur einen *Berührungspunkt*.



Die Abbildung zeigt anhand eines *Kreises* deutlich die Unterschiede dieser *Geradenarten*. Die *Tangente* ist dabei die wichtigere Art, da über diese in den nachfolgenden Kapiteln weitere mathematische Definitionen und Erkenntnisse gewonnen werden können. Bei Objekten oder Figuren, welche keine *Eckpunkte* verfügen, existiert zu jedem *Punkt* des Objekts oder der Figur nur eine einzige *Tangente*, während an *Eckpunkten* eine unendliche Anzahl an *Tangenten* existiert.



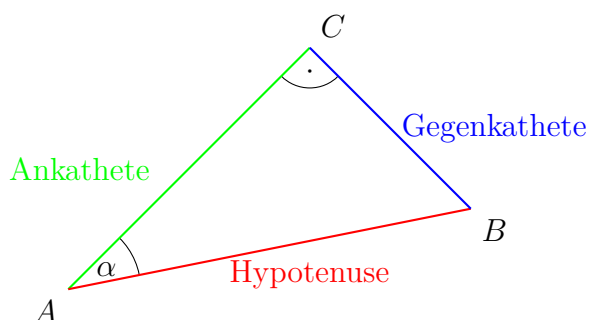
Die Abbildung zeigt, dass an jedem *Eckpunkt* mehrere *Tangenten* existieren. Der Unterschied zwischen *Eckpunkten* und „glatten“ Figuren wird im Kapitel „Differentiation und Integration“ eine entscheidende Bedeutung zukommen.

3.13 Zirkelkonstruktionen

3.14 Gemischte Geometrieaufgaben

4 Trigonometrie

Die *Trigonometrie* beschreibt den Zusammenhang von *Winkeln* mit *Seitenlängen* von *geometrischen* Objekten. Dazu wird sich in erster Linie auf das *rechtwinklige Dreieck* konzentriert, da jede *Fläche* außer *kreisartige* Objekte durch *rechtwinklige Dreiecke* darstellbar sind. Dabei wird ein *rechtwinkliges Dreieck* betrachtet mit einem *Winkel* α .



Wie die Abbildung zeigt, werden dann die *Seiten* im Bezug auf den *Winkel* α benannt. Dabei ist die *Ankathete* immer die *Kathete* des *rechtwinkligen Dreiecks*, welche sich am zu untersuchenden *Winkel* befindet. Nun wird ein Verhältnis aufgestellt, *definiert* und mit einem Namen versehen:

$$\frac{\text{Gegenkathete}}{\text{Hypotenuse}} := \text{Sinus vom Winkel } \alpha = \sin(\alpha) = \sin \alpha \quad (4.1)$$

Dabei kann auch der *Winkel* β um den Eckpunkt *B* über dieses Verhältnis bestimmt werden, da wegen der *Winkelsumme* es *Dreiecks* bei einem *rechtwinkligen Dreieck* die *Winkelbeziehung* $90^\circ - \alpha = \beta$ gilt. Somit muss auch die folgende Beziehung gelten:

$$\frac{\text{Gegenkathete}}{\text{Hypotenuse}} := \text{Sinus vom Winkel } 90^\circ + \beta = \sin(90^\circ + \beta) \quad (4.2)$$

Allerdings wäre dann die *Gegenkathete* von α die *Ankathete* von β , sodass eine neue *Definition* getroffen werden kann:

$$\frac{\text{Ankathete}}{\text{Hypotenuse}} := \text{Kosinus vom Winkel } \alpha = \cos(\alpha) = \cos \alpha \quad , \quad (4.3)$$

wobei $\sin(90^\circ + \delta) = \cos(\delta)$ gilt. Dies bedeutet, dass der *Kosinus* nur eine bequeme abkürzende Schreibweise und nichts weiter als ein *Sinus* ist, der um 90° verschoben wurde. Allerdings zeigt sich, dass sich diese Abkürzung lohnt, vor allem wenn der *Sinus* und der *Kosinus* genauer untersucht werden, was im Kapitel „Funktionen“ und auch „Differentiation und Integration“ geschieht.

Wenn nun *Sinus* und *Kosinus* in ein Verhältnis gesetzt werden, ergeben sich weitere Abkürzungen, welche sich lohnen:

$$\begin{aligned} \frac{\sin \alpha}{\cos \alpha} &= \frac{\text{Ankathete}}{\text{Hypotenuse}} : \frac{\text{Gegenkathete}}{\text{Hypotenuse}} \\ &= \frac{\text{Ankathete}}{\text{Hypotenuse}} \cdot \frac{\text{Hypotenuse}}{\text{Gegenkathete}} \\ &= \frac{\text{Ankathete}}{\text{Gegenkathete}} \\ &:= \text{Tangens vom Winkel } \alpha = \tan(\alpha) = \tan \alpha \quad , \end{aligned} \tag{4.4}$$

wobei durch die *Umkehrung* des Verhältnisses der *Kotangens* zu definieren ist:

$$\frac{\cos \alpha}{\sin \alpha} := \cot(\alpha) = \cot \alpha = \frac{1}{\tan \alpha} \quad . \tag{4.5}$$

Mit diesen *Definitionen* kann mit Hilfe eines *Winkels* und einer *Seitenlänge* alles in einem *rechtwinkligen Dreieck* berechnet werden. Da die *Hypotenuse* immer größer sein muss als die *Ankathete* ist der *Sinus* und somit auch der *Kosinus* bei der Betrachtung des *rechtwinkligen Dreiecks* zwischen den Zahlen 1 und 0 stets vorzufinden. Das wiederum bedeutet, dass die Werte vom *Tangens* und *Kotangens* bei der *geometrischen* Betrachtung eines *rechtwinkligen Dreiecks* zwischen 0 und ∞ liegen können.

Um einen *Winkel* mit diesen *trigonometrischen Funktionen* aus zwei *Seitenlängen* bestimmen zu können, muss auch die *Umkehrung* dieser *Funktion* eingeführt werden, welche in diesem Abschnitt gegeben sei als:

$$\begin{aligned} \alpha &= \sin^{-1} \left(\frac{a}{c} \right) = \arcsin \left(\frac{a}{c} \right) \\ \alpha &= \cos^{-1} \left(\frac{b}{c} \right) = \arccos \left(\frac{b}{c} \right) \\ \alpha &= \tan^{-1} \left(\frac{a}{b} \right) = \arctan \left(\frac{a}{b} \right) \\ \alpha &= \cot^{-1} \left(\frac{b}{a} \right) = \text{arccot} \left(\frac{b}{a} \right) \quad , \end{aligned} \tag{4.6}$$

wobei diese *Funktionen* *Arcussinus*, *Arcuskosinus*, *Arcustangens* und *Arcuskotangens* genannt werden. Für sie gilt für die *Äquivalenzumformung*:

$$\begin{aligned}
 \sin \alpha &= \frac{a}{c} & | \arcsin \\
 \arcsin(\sin \alpha) &= \arcsin\left(\frac{a}{c}\right) \\
 \alpha &= \arcsin\left(\frac{a}{c}\right) .
 \end{aligned}
 \tag{4.7}$$

Mehr Details zu diesen *Umkehrungen der trigonometrischen Funktionen* werden im Abschnitt „Umkehrfunktionen“ und „Trigonometrische Funktionen“ zu finden sein. Es genügt zu diesem Zeitpunkt das Wissen, dass *Arcus-Funktionen* die *trigonometrischen Funktionen* aufheben und wo sie auf dem Taschenrechner zu finden sind.

Durch die Anwendung dieser *trigonometrischen* Regeln und dem *Satz des Pythagoras* sowie aller bekannten Beziehungen im *rechtwinkligen Dreieck* können noch der *Sinussatz*

$$\frac{a}{\sin \alpha} = \frac{b}{\sin \beta} = \frac{c}{\sin \gamma} = \frac{abc}{2A}
 \tag{4.8}$$

und der *Kosinussatz*, welcher ein verallgemeinerter *Satz des Pythagoras* ist, da $\cos 90^\circ = 0$ ist.

$$\begin{aligned}
 a^2 &= b^2 + c^2 - 2bc \cos \alpha \\
 b^2 &= a^2 + c^2 - 2ac \cos \beta \\
 c^2 &= b^2 + a^2 - 2ba \cos \gamma
 \end{aligned}
 \tag{4.9}$$

hergeleitet werden, welche für jedes beliebige *Dreieck* ihre Gültigkeit besitzen. Hierbei bleibt zu beachten, dass der *Winkel* α der *Seite* a gegenüberliegend ist. In diesem Buch wird nicht weiter auf diese *Sätze* eingegangen, da die Einteilung eines *beliebigen Dreiecks* in zwei rechtwinklige zum Beweis dieser Gleichungen führt. Somit kann der Schüler mit dem Wissen rund um das *rechtwinklige Dreieck* alle Probleme lösen und benötigt hierzu nicht den *Sinus-* und *Kosinussatz*.

4.0.1 Übungsaufgaben zur Trigonometrie

Aufgabe 1: Bestimme alle Winkel und Seiten des jeweiligen rechtwinkligen Dreiecks. (Beachte, dass die Seite a gegenüberliegend vom Eckpunkt A und dem Winkel α ist.)

a) $a = 7\text{cm}$ und $c = 11\text{cm}$

b) $a = 4\text{cm}$ und $b = 6\text{cm}$

c) $\alpha = 55^\circ$ und $c = 9\text{cm}$

d) $a = 5,35\text{cm}$ und $\beta = 18^\circ$

e) $b = 14\text{cm}$ und $\beta = 81^\circ$

f) $a = \pi\text{cm}$ und $\alpha = 27,18^\circ$

g) $c = \sqrt{60}\text{cm}$ und $\beta = \frac{1}{3}\pi\text{rad}$

h) $c = \frac{83}{17}\text{cm}$ und $\alpha = \frac{1}{7}\pi\text{rad}$

Aufgabe 2: Bestimme alle Winkel und Seiten des jeweiligen Dreiecks. (Beachte, dass die Seite a gegenüberliegend vom Eckpunkt A und dem Winkel α ist.)

a) $a = 4\text{cm}$, $b = 6\text{cm}$ und $\gamma = 60^\circ$

b) $a = 5\text{cm}$, $c = 8\text{cm}$ und $\beta = 34^\circ$

c) $c = 90\text{mm}$, $b = 0,6\text{dm}$ und $\alpha = 72^\circ$

d) $a = \frac{3}{4}\text{dm}$, $b = \frac{50}{6}\text{cm}$ und $\gamma = 4^\circ$

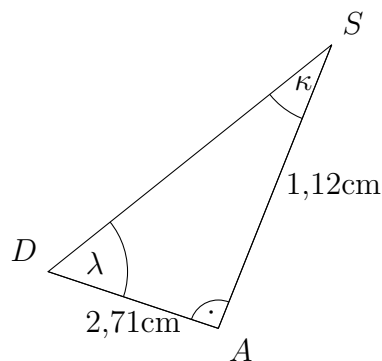
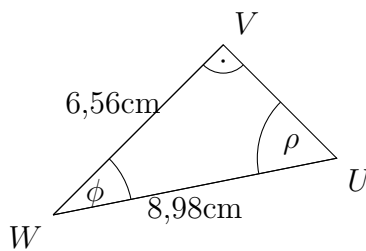
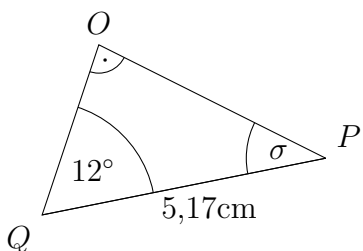
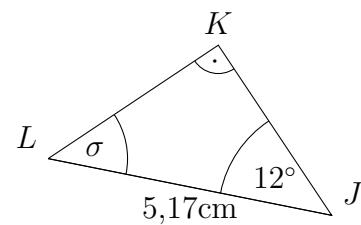
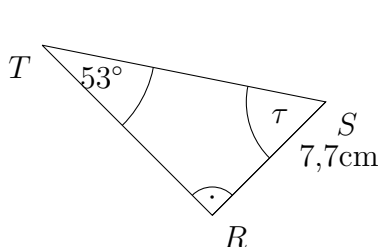
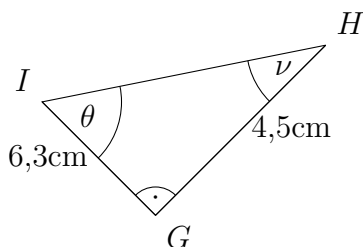
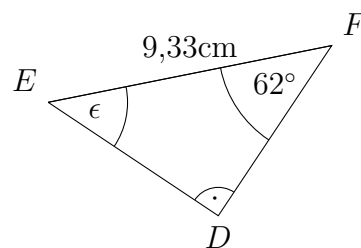
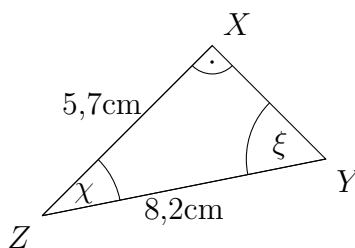
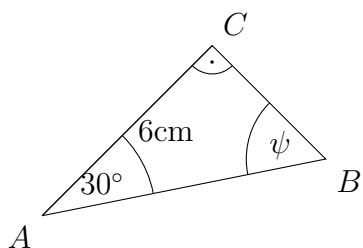
e) $b = 3\text{cm}$, $\gamma = 45^\circ$ und $\beta = 23^\circ$

f) $c = \frac{5}{4}\text{cm}$, $\alpha = 64^\circ$ und $\gamma = 18^\circ$

g) $a = 55,4\text{km}$, $\alpha = 86,3^\circ$ und $\beta = 47^\circ$

h) $c = \sqrt{17}$, $\gamma = 94,3^\circ$ und $\beta = 36,6^\circ$

Aufgabe 3: Bestimme alle unbekanntes Winkel und Seiten. (Die Skizzen entsprechen nicht den realen Werten.) Beschrifte zu nächst das Dreieck komplett und finde für jeden Winkel die Bezeichnung der Katheten heraus.



Die Lösungen zu diesem Abschnitt finden sich im Anhang im Abschnitt (13.6.24) Lösungen zur Trigonometrie.

4.1 Gemischte Trigonometrieaufgaben

Aufgabe 1: Fülle die Tabelle aus.

	1	2	3	4	5	6
a	2	4	6	4,7	$\frac{1}{2}$	$\frac{3}{10}$
b	3	6	9	7,05	$\frac{3}{4}$	$\frac{9}{20}$
c						
$\frac{a}{b}$						
$\frac{b}{a}$						
$\frac{a}{c}$						
$\frac{b}{c}$						

Aufgabe 2: Fülle die Tabelle aus.

	1	2	3	4	5	6
α in $[\circ]$	5	11	30	45	60	90
α in $[rad]$						
$\sin \alpha$						
$\cos \alpha$						
$\tan \alpha$						
$\cot \alpha$						
	1	2	3	4	5	6
α in $[\circ]$	120	135	210	240	300	315
α in $[rad]$						
$\sin \alpha$						
$\cos \alpha$						
$\tan \alpha$						
$\cot \alpha$						

Aufgabe 3: Fülle die Tabelle aus.

	1	2	3	4	5	6
a	4	7	3,4	5,35	$\frac{7}{3}$	$\sqrt{10}$
b	5	9	7,2	8,31	$\frac{8}{5}$	$\sqrt{15}$
c						
$\alpha = \arctan\left(\frac{a}{b}\right)$ in $[\circ]$						
$\alpha = \arcsin\left(\frac{a}{c}\right)$ in $[\circ]$						
$\alpha = \arccos\left(\frac{b}{c}\right)$ in $[\circ]$						
$\beta = \arctan\left(\frac{b}{a}\right)$ in $[\circ]$						
$\beta = \arcsin\left(\frac{b}{c}\right)$ in $[\circ]$						
$\beta = \arccos\left(\frac{a}{c}\right)$ in $[\circ]$						

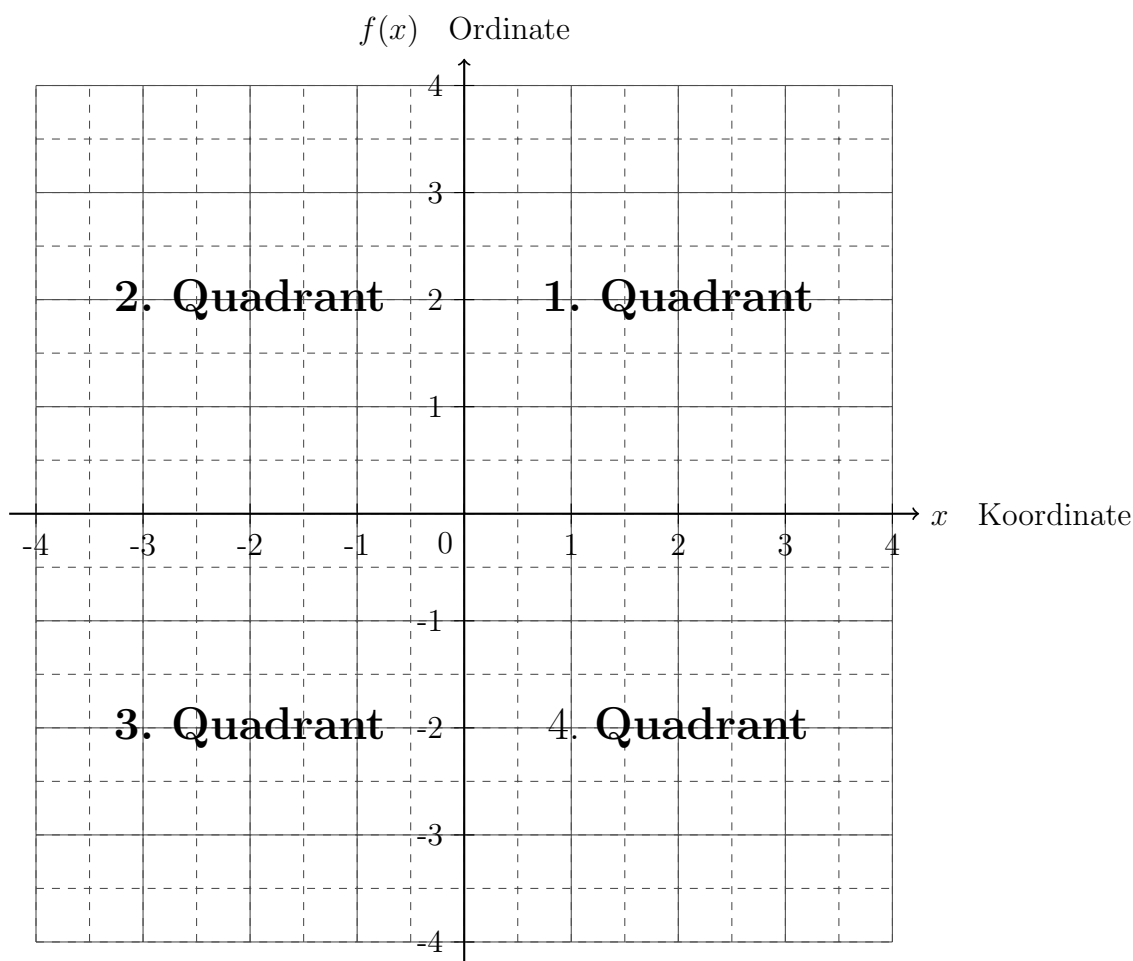
Aufgabe 4: Zeichne ein rechtwinkliges Dreieck mit dem angegebenen Winkel. (Keine Lösung!)

- a) $\alpha = 25^\circ$ b) $\alpha = 55^\circ$ c) $\alpha = 17^\circ$ d) $\alpha = 63^\circ$ e) $\alpha = 37^\circ$
 f) $\alpha = 45^\circ$ g) $\alpha = 74^\circ$ h) $\alpha = 27^\circ$ i) $\alpha = 69^\circ$ j) $\alpha = 5^\circ$

Die Lösungen zu diesem Abschnitt finden sich im Anhang im Abschnitt (13.6.25) Lösungen zu den gemischten Trigonometrie.

5 Funktionen

Um *Funktionen* verstehen zu können, müssen zunächst Begrifflichkeiten des sogenannten *Koordinatensystems* besprochen und verinnerlicht werden. Ein *Koordinatensystem* in zwei *Dimensionen* ist ein *Zahlenstrahl* mit den sogenannten *Variablenwerten* x und einem darauf *orthogonalen* *Zahlenstrahl*, der den Variablenzahlenstrahl bei Null schneidet und auf dem die sogenannten *Funktionswerte* $f(x)$ aufgetragen sind. Dabei wird $f(x)$ gelesen als „ f von x “. Der Variablenzahlenstrahl wird *Koordinate* genannt (oftmals auch x -Achse, was zu Verwirrungen führen kann, wenn die Variable einen anderen Namen als x hat), während der darauf *orthogonale* *Zahlenstrahl* *Ordinate* genannt wird. Ein *Koordinatensystem* ist somit in vier Bereiche aufgeteilt, welche *Quadranten* genannt werden. Die Reihenfolge der Benennung wird offensichtlicher nach der Besprechung einiger *Funktionen*.



Ein *Koordinatensystem* stellt also eine zweidimensionale *Fläche* dar, welche keine Umrandung besitzt - eine sogenannte *Ebene*.

Eine *Funktion* ist dabei eine Vorschrift, die fordert, dass für eine *Variable* ein Wert in eine Gleichung eingesetzt wird. Der resultierende Wert wird dann *Funktionswert* genannt. Somit entsteht immer ein *Wertepaar*, welches dann im *Koordinatensystem* eingesetzt wird. Mathematisch würde dies so formuliert werden: Eine *Funktion* f bildet Zahlen x einer *Zahlenmenge* auf eine andere *Zahlenmenge* ab. Dabei darf für jeden Wert von x nur ein abgebildeter Wert existieren. Diese Forderung wird *Eindeutigkeit* genannt.

$$f : x \mapsto f(x) \tag{5.1}$$

Ein Beispiel für eine solche *Funktion* wäre:

$$f(x) = 2x \tag{5.2}$$

Dabei wird das Doppelte der in die *Variable* x eingesetzten Zahl auf den *Funktionswert* $f(x)$ *abgebildet*.

Eine *Funktion* kann auch *punkt-* oder *achsensymmetrisch* sein. Dazu werden über das *Einsetzverfahren* folgende Gleichungen überprüft:

$$\begin{aligned} f(x) &= f(-x) && \text{Achsensymmetrie} \\ f(x) &= -f(-x) && \text{Punktsymmetrie} \end{aligned} \tag{5.3}$$

Bei der *Achsensymmetrie* ist die *Funktion* nach einer *Spiegelung* an der *Ordinate*, während bei der *Punktsymmetrie* die *Funktion* nach einer 180° *Drehung* um den *Koordinatenursprung* identisch ist. Die *Achse* der *Symmetrie* sowie der kann sich auch verschieben, allerdings kann dann das *Koordinatensystem* so verschoben werden, dass diese *Symmetrien* doch wieder mit der Gleichung (5.3) überprüft werden können.

Wie bereits schon aus den vorherigen Kapiteln bekannt ist, sind nicht alle Rechenoperationen zulässig, wie zum Beispiel die *Division* durch Null oder noch nicht zulässig, wie die *Wurzel* einer negativen Zahl. Deswegen besitzt jede *Funktion* einen sogenannten *Definitionsbereich*, welche Zahlen in eine *Funktion* eingesetzt werden können und durch die *Definitionsmenge* \mathbb{D} beschrieben wird. Bei einer *Abbildung* des *Variablenwertes* auf einen *Funktionswert*, sind auch nicht alle Bereiche auf der *Ordinate* betroffen. Alle möglichen Zahlen des *Funktionswertes*, werden in der *Wertemenge* \mathbb{W} beschrieben. Für das Beispiel auf Gleichung (5.2) wäre die *Definitionsmenge* und *Wertemenge* gegeben als:

$$\begin{aligned} \mathbb{D} &= \{x \in \mathbb{R}\} \\ \mathbb{W} &= \{f(x) \in \mathbb{R}\} \end{aligned} \tag{5.4}$$

Dabei kann jede *Definitionsmenge* berechnet werden, indem die Region die einen bestimmten Wert nicht erreichen darf mit diesem gleichgesetzt wird. So sei zum Beispiel $f(x) = \frac{1}{2x-2}$ gegeben. Folglich darf für dieses Beispiel der *Nenner* nicht Null werden und somit wird der *Nenner*

alleine behandelt und gleich Null gesetzt $0 = 2x - 2$. Anschließend wird diese aufgestellte Gleichung nach x aufgelöst. Das resultierende Ergebnis ist die Zahl, für die die *Funktion* $f(x)$ nicht *definiert* ist.

Anzumerken bleibt, dass nicht jede *Funktion* mit dem Buchstaben f und nicht jede *Variable* mit x betitelt sein muss, so gilt zum Beispiel in der Physik die Strecke x als *Funktion* der Zeit t , also $x(t)$. Im Allgemeinen können alle Reaktionen auf etwas in *Variablen-* und *Funktionswert* übersetzt werden, sodass bei genügend Informationen daraus die *Funktion* ersichtlich wird. Mit dieser *Funktion* ist es möglich die Zukunft auszurechnen, wie zum Beispiel bei der physikalischen *Funktion* $x(t) = vt$, wobei v eine konstante Geschwindigkeit ist. Somit kann vorherbestimmt werden, welche Strecke x nach einer beliebigen Zeit t für die Geschwindigkeit v zurückgelegt wurde. Dies ist auch bei wesentlich komplexeren Zusammenhängen möglich, sodass gilt, dass alles berechnet werden kann. Jedoch müssen immer Vereinfachungen angenommen werden, da die Gleichungen sonst zu unübersichtlich und nicht mal von Hochleistungscomputern in annehmbarer Zeit berechnet werden können. Wie solche Methoden im Detail funktionieren, wird im Kapitel „Wahrscheinlichkeitsrechnung“ und „Physikalische Anwendungen“ skizziert.

Nachdem die Grundbegrifflichkeiten einer *Funktion* erläutert wurden, soll das Arbeiten mit *Funktionen* erschlossen werden.

5.1 Wertetabellen und Punkte

Um *Funktionen* zeichnen und dann später ihre Form ausnutzen zu können, bedarf es sogenannter *Wertetabellen*. Dabei werden verschiedene Werte für die *Variable* x eingesetzt und dann verrechnet. Der resultierende *Funktionswert* $f(x)$ wird dann so notiert, dass der Zusammenhang zwischen der eingesetzten Zahl für die *Variable* und dem *Funktionswert* erkennbar wird.

An zwei Beispielen soll das Prinzip der *Wertetabelle* erläutert werden - hierbei kann die Spalte mit „Rechnung“ und „Punkte“ beim Erstellen einer *Wertetabelle* weggelassen werden, welche hier lediglich für die Erklärung dient:

- Die erste Funktion die untersucht wird, sei die folgende:

$$f(x) = 2x + 1 \quad (5.5)$$

Für die *Variable* werden nun verschiedene Zahlen eingesetzt und der *Funktionswert* dann berechnet.

Punkte	P_{-2}	P_{-1}	P_0	P_1	P_2	P_3
x	-2	-1	0	1	2	3
Rechnung	$2 \cdot (-2) + 1$	$2 \cdot (-1) + 1$	$2 \cdot 0 + 1$	$2 \cdot 1 + 1$	$2 \cdot 2 + 1$	$2 \cdot 3 + 1$
$f(x)$	-3	-1	1	3	5	7

- Die zweite *Funktion* die untersucht wird, sei die folgende:

$$g(x) = x^2 - 1 \quad (5.6)$$

Für die *Variable* werden nun verschiedene Zahlen eingesetzt und der *Funktionswert* dann berechnet.

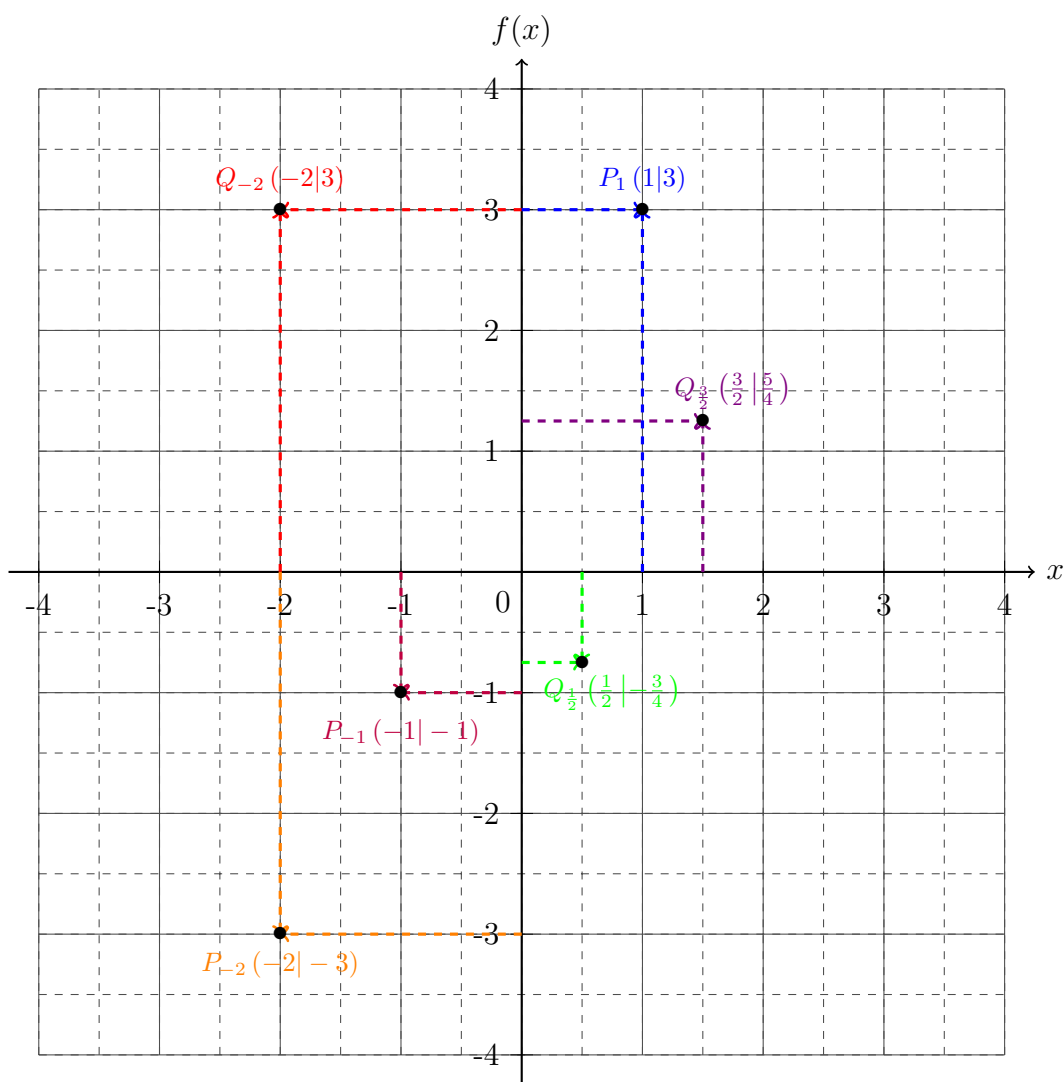
Punkte	Q_{-2}	Q_{-1}	Q_0	$Q_{\frac{1}{2}}$	Q_1	$Q_{\frac{3}{2}}$	Q_2
x	-2	-1	0	$\frac{1}{2}$	1	$\frac{3}{2}$	2
Rechnung	$(-2)^2 - 1$	$(-1)^2 - 1$	$0^2 - 1$	$(\frac{1}{2})^2 - 1$	$1^2 - 1$	$(\frac{3}{2})^2 - 1$	$2^2 - 1$
$g(x)$	3	0	-1	$-\frac{3}{4}$	0	$\frac{5}{4}$	3

Die Wertetabellen zeigen, dass immer für die Variable x die entsprechende Zahl eingesetzt wurde. Dabei sind diese Zahlen frei zu wählen.

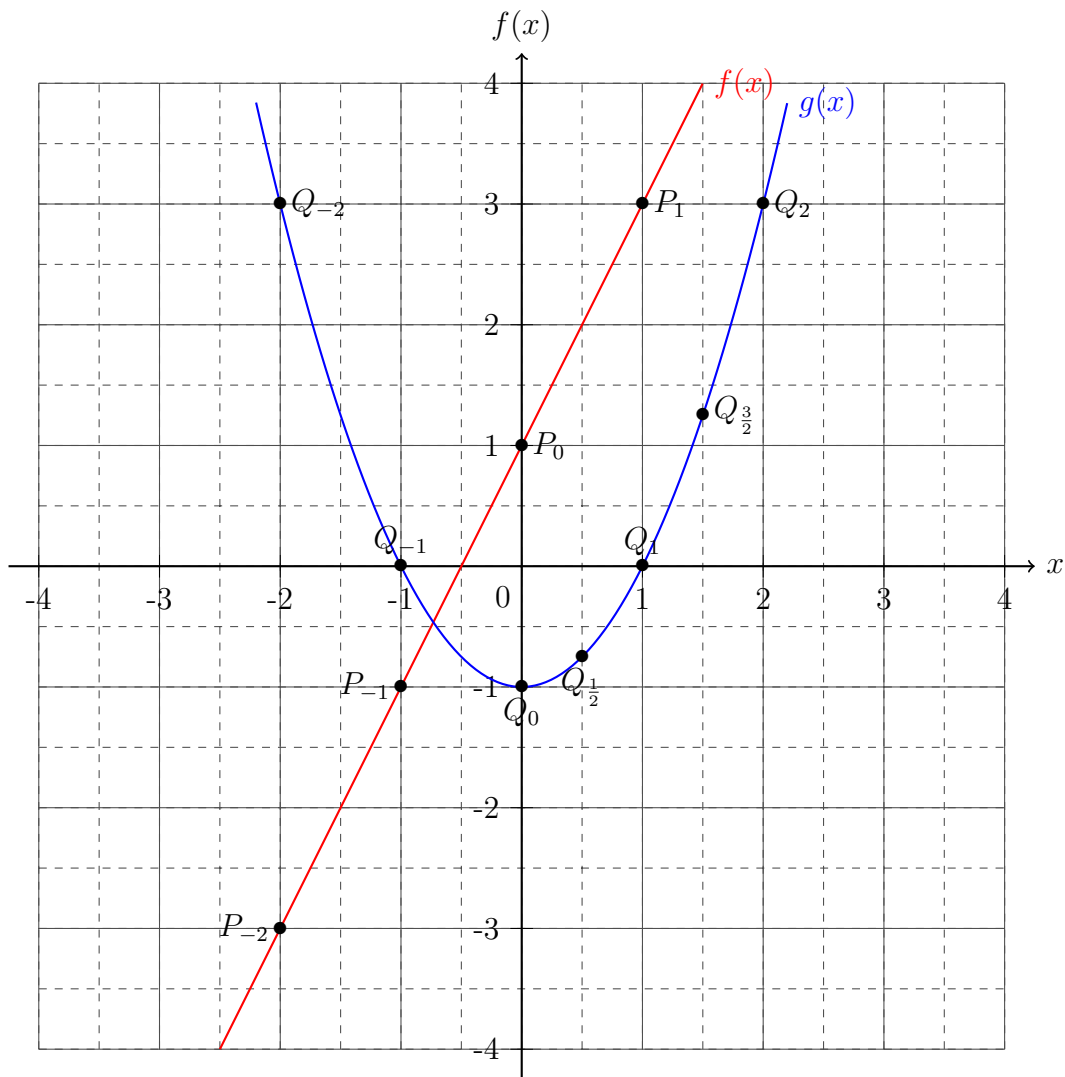
Die jeweiligen Variablen- und Funktionswerte bilden Paare, welche auch Wertepaare genannt werden. Diese symbolisieren einen Punkt im Koordinatensystem. Dabei wird bei einem Punkt P immer zu erst der Variablenwert x und anschließend der Funktionswert $f(x)$ genannt

$$P(x|f(x)) \quad . \quad (5.7)$$

Diese Punkte geben an, wie viele Schritte (den Variablenwert) auf der Koordinate zurückgelegt werden müssen, um dann anschließend die Anzahl der Schritte des Funktionswertes auf der Ordinate zu gehen. Im folgenden Koordinatensystem sind einige Punkte aus den beiden Wertetabellenbeispielen nach diesem Schema eingezeichnet.



Die Punkte der jeweiligen Wertetabellen können verbunden werden, sodass sich das Muster der Punkte zeigt. Dieses Muster wird Graph der Funktion genannt und bietet Aufschluss zu den Eigenschaften der Funktion.



Das Ziel einer Wertetabelle ist es den Graphen einer Funktion zeichnen zu können, um daraus und der Struktur der Funktion den Werte- und Definitionsbereich sowie weitere Eigenschaften bestimmen zu können. Im Kapitel „Differentiation und Integration“ wird auf dieses zeichnerische Element vollständig verzichtet, sodass alle Informationen einer Funktion errechnet werden können. In den weiteren Abschnitten dieses Kapitels werden spezielle Arten von Funktionen analysiert.

5.1.1 Übungsaufgaben zu Wertetabellen und Punkte

Aufgabe 1: Zeichne die Punkte in ein Koordinatensystem.

$A(1|6)$

$B(-2|4)$

$C(6|0)$

$D(-7,5|-1)$

$E\left(\frac{1}{2}|3\right)$

$F\left(-\frac{7}{4}|-6,25\right)$

$G(8|-8)$

$H\left(\sqrt{6,25}\left|-\frac{3}{4}\right.\right)$

$I(7,25|-6,75)$

$J\left(-4\left|-\frac{33}{4}\right.\right)$

$K(-5|\sqrt{2})$

$L(2|-2^3)$

$M(289^0|\ln e^{1,5})$

$N\left(-3!\left|\frac{5!}{4!}\right.\right)$

$O\left(-\sqrt[4]{81}\left|\left(\frac{3}{2}\right)\right.\right)$

$P(\pi|e)$

Aufgabe 2: Berechne die angegebenen Wertetabellen für die jeweiligen Funktionen.

x	-2	-1	0	$\frac{1}{2}$	1	$\frac{3}{2}$	2
$f(x)$							

x	$-\sqrt{2}$	$-\frac{1}{3}$	$\frac{1}{5}$	$\frac{8}{7}$	e	π	$\sqrt{17}$
$f(x)$							

- a) $f(x) = x + 1$
 b) $f(x) = -2x + 3$
 c) $f(x) = \frac{3}{4}x + \frac{1}{2}$
 d) $f(x) = -\frac{4}{3}x + \frac{8}{5}$
 e) $f(x) = x^2 + 2x - 3$
 f) $f(x) = 3x^2 - 6x - 2$
 g) $f(x) = x^3 - 4x^2 + 2$
 h) $f(x) = x^4 - 2x^2 - 5$

Aufgabe 3: *Zeichne die Funktionen und bestimme die Definitions- und Wertebereiche.*

a) $f(x) = \frac{1}{2}x - 2$

b) $g(x) = x^2 + 2x + 1$

c) $h(x) = -\frac{2}{3}x + \frac{1}{2}$

d) $l(x) = -x^2 + 3x - 2$

e) $k(x) = -\frac{1}{2}x^{\frac{1}{2}}$

f) $m(x) = -4x^{-1}$

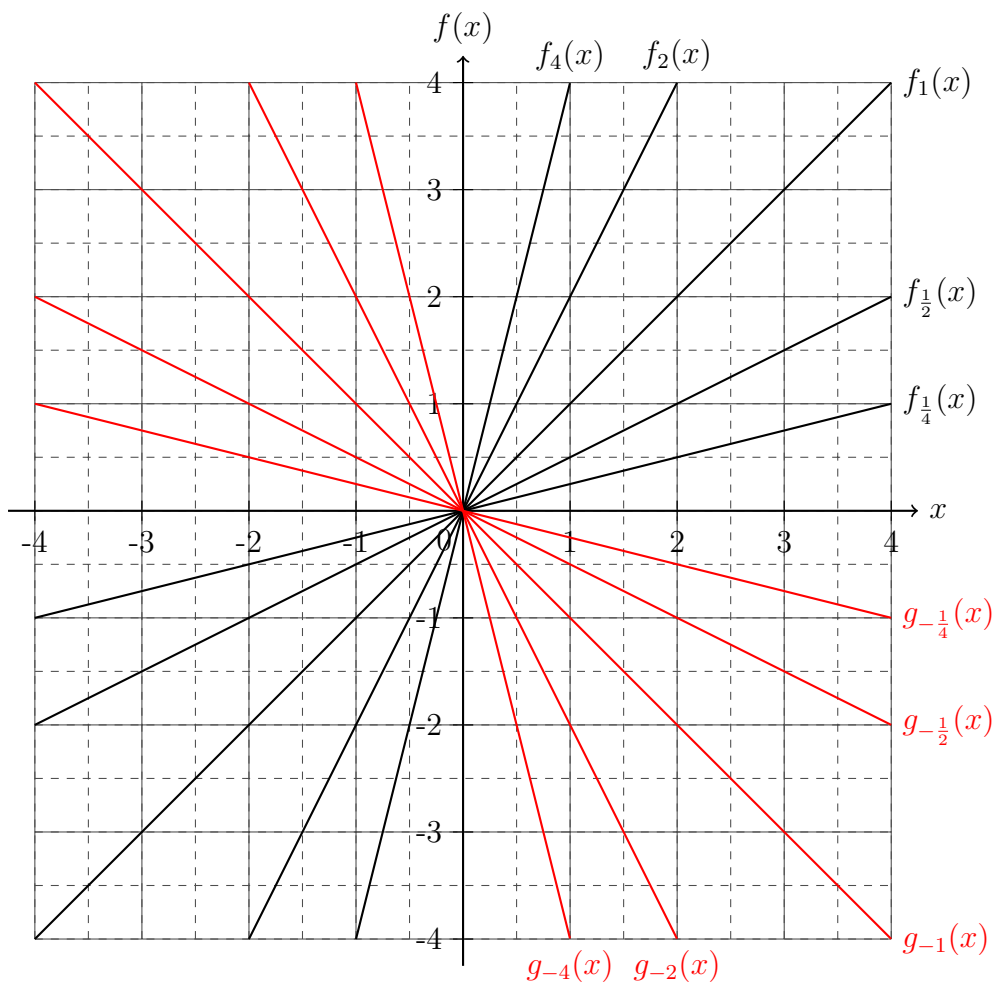
Die Lösungen zu diesem Abschnitt finden sich im Anhang im Abschnitt (13.6.26) Lösungen zu Wertetabellen und Punkte.

5.2 Geraden

Geraden sind die simpelsten *Funktionen*. Sie sind *definiert* durch die allgemeine *Geradenfunktionsgleichung*:

$$f(x) = mx + b, \quad (5.8)$$

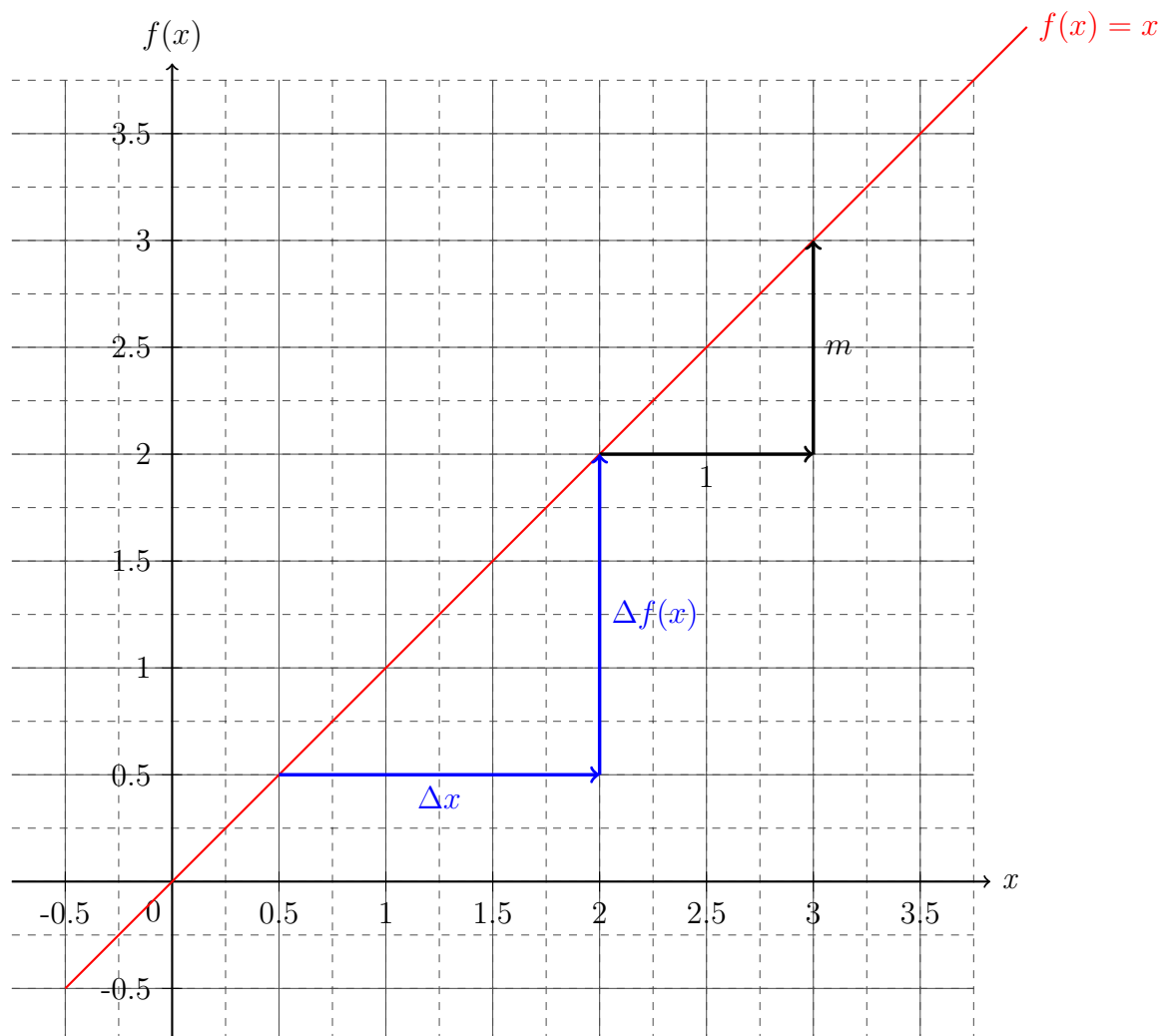
wobei x die *Variable* der *Funktion* $f(x)$ ist und m und b *Parameter* sind. Eine *Gerade* ist eine *lineare Funktion*, oder auch eine *Funktion erster Ordnung*, da der *Term* mit der höchsten *Potenz* als mx^1 gegeben ist. Da eine *Funktion* immer einen *Parameter* mehr besitzt als die *Zahl* ihrer *Ordnung*, werden für eine *Funktion erster Ordnung* zwei Informationen benötigt, um alle *Eigenschaften* der *Funktion* bestimmen und den *Graphen* zeichnen zu können. Diese Informationen können *Punkte* sein oder Angaben der *Parameter* m und b . Zu nächst wird sich auf die *Bedeutung* der *Parameter* beschränkt. Dazu werden für m verschiedene *Geraden* gezeichnet unter der *Bedingung*, dass $b = 0$ ist, wobei für positive Werte von m die *Funktion* f und für negative Werte g genannt wird.



Die Abbildung zeigt deutlich, dass die *Geraden* mit positiven Werten von m von links unten nach rechts oben gehen und je höher der Wert ist, desto stärker ist die *Steigung* der *Geraden*. Für negative Werte von m sinken die *Geraden* von links oben nach rechts unten. Auch hier

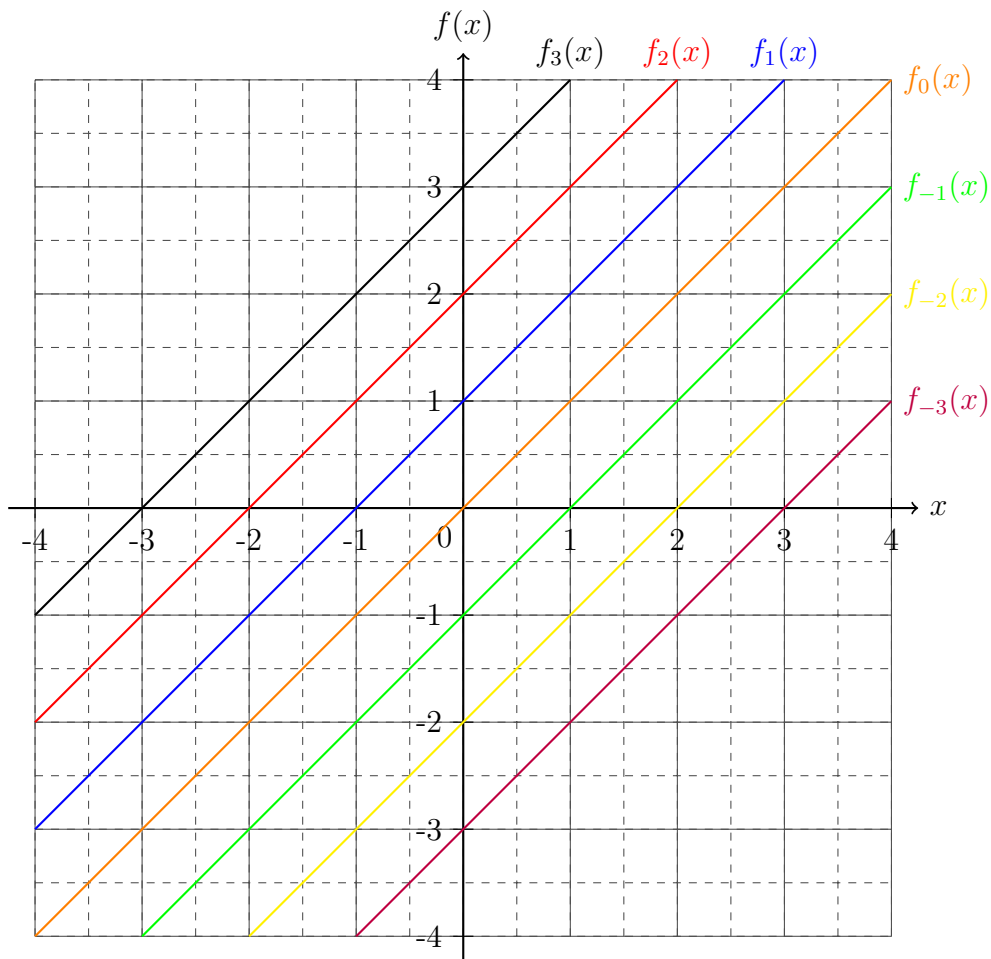
nimmt die *Steigung* zu je größer der *Betrag* von m wird. Somit kann festgehalten werden, dass m die *Steigung* der *Geraden* symbolisiert.

Die *Steigung* einer *Geraden* kann auch gemessen werden. Dabei wird auf der *Koordinate* einen Einheitschritt nach rechts gegangen und dann *orthogonal* dazu wieder zur *Funktion parallel* zur *Ordinate*. Die Strecke die *parallel* zur *Ordinate* ist, ist der Wert des *Steigungsparameters* m .



Dies nennt man das *Steigungsdreieck*, dabei können auch mehrere Schritte entlang der *Koordinate* zurückgelegt werden, sodass im Allgemeinen $m = \frac{\text{Ordinatenschritte}}{\text{Koordinatenschritte}} = \frac{\Delta f(x)}{\Delta x}$, wobei Δx die *Differenz* zwischen zwei Werten von x also $\Delta x = x_2 - x_1$ für $x_2 > x_1$ und $\Delta f(x)$ die *Differenz* zwischen zwei Werten von $f(x)$ folglich $\Delta f(x) = f(x_2) - f(x_1)$ beschreibt.

Im nächsten Fall soll die *Steigung* m auf 1 festgelegt werden und der *Parameter* b variiert werden. Dabei wandern die Werte von b von -3 bis 3 .



Im *Koordinatensystem* ist deutlich zu erkennen, dass der Wert von b mit dem Wert der *Ordinate* übereinstimmt, wenn sich *Ordinate* und die *Gerade* treffen, somit wird b auch der *Ordinaten-schnittwert* oder *Offset* der *Funktion* genannt.

Da die *Parameter* diskutiert wurden, wird nun das Verfahren beschrieben wie aus zwei *Punkten* diese *Parameter* berechnet werden können. Dazu seien die beiden *Punkte* zum Beispiel: $P(-1|-4)$ und $Q(2|3)$. Diese *Punkte* werden in die allgemeine *Geradengleichung* eingesetzt

$$\begin{aligned} P : \quad & -4 = m \cdot (-1) + b \\ Q : \quad & 3 = m \cdot 2 + b \end{aligned} \tag{5.9}$$

und dann eine der beiden Gleichungen nach einem unbekanntem *Parameter* aufgelöst.

$$P : \quad m - 4 = b \tag{5.10}$$

Diese Gleichung für den *Parameter* b wird nun in die zweite Gleichung eingesetzt und anschließend nach m aufgelöst:

$$\begin{aligned}
 P \text{ in } Q : \quad & 3 = 2m + (m - 4) \\
 & 3 = 3m - 4 \quad | +4 \\
 & 7 = 3m \quad | : 3 \\
 & \frac{7}{3} = m \quad .
 \end{aligned} \tag{5.11}$$

Der berechnete Wert für m wird dann wieder in die Gleichung (5.10) eingesetzt um b zu bestimmen:

$$\begin{aligned}
 P \text{ mit } m : \quad & \frac{7}{3} - 4 = b \\
 & -\frac{5}{3} = b \quad .
 \end{aligned} \tag{5.12}$$

Somit ergibt sich *Geradengleichung* mit den Werten von m und b zu:

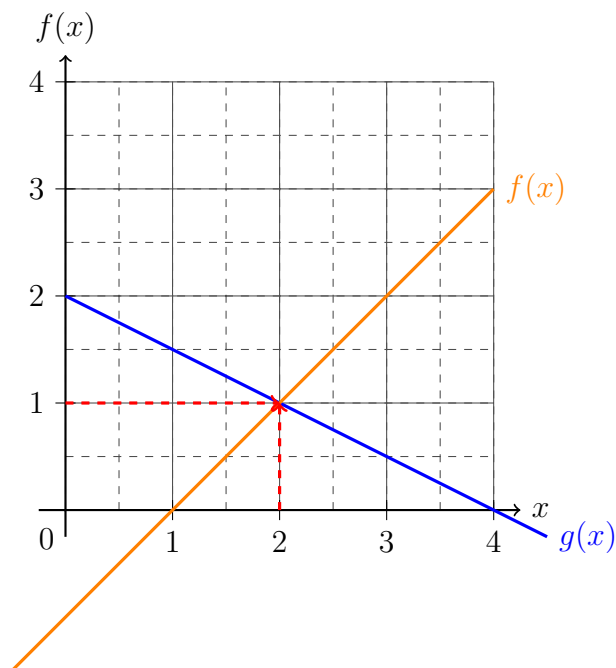
$$\begin{aligned}
 f(x) &= mx + b \\
 \Rightarrow f(x) &= \frac{7}{3}x - \frac{5}{3} \quad .
 \end{aligned} \tag{5.13}$$

Mittels dieses Verfahrens ist nun die *Geradenfunktionsgleichung* berechnet. Auch für komplexere *Funktionen* kann genau dieses Verfahren angewendet werden, allerdings erhöht sich die Anzahl der *Parameter* und der Gleichungen, sodass es eher zu einer Übersichtsaufgabe wird. Wenn die *Steigung* einer *Geraden* gleich Null ($m=0$) ist, dann wird von einer *Konstanten* gesprochen.

Aber auch noch ein anderer Wert ist interessant, nämlich der *Variablenwert* für den *Schnittpunkt* mit der *Koordinate*. Dieser Wert wird *Nullstelle* genannt und kann berechnet werden, indem man den *Funktionswert* $f(x) \stackrel{!}{=} 0$ setzt, da der *Ordinatenwert* beim schneiden der *Koordinate* Null ist. Somit folgt eine kurze *Äquivalenzumformung* nach x und die *Nullstelle* x_N ist berechnet:

$$\begin{aligned}
 f(x) \stackrel{!}{=} 0 &= mx + b \\
 \Rightarrow -\frac{b}{m} &= x_N \quad .
 \end{aligned} \tag{5.14}$$

Aber nicht nur die *Nullstellen* sind im Umgang mit *Funktionen* interessant, sondern auch die *Punkte* in denen sich die *Funktionen* schneiden.



Wie die Abbildung zeigt, besitzen die Graphen von $f(x)$ und $g(x)$ in dem Punkt $P(2|1)$ den gleichen Variablen- und Funktionswerte. Um diesen Punkt im Allgemeinen zu berechnen, können beide Funktionen gleichgesetzt werden und anschließend nach x aufgelöst werden. Für Geraden würde dies eine kleine Äquivalenzumformung bedeuten, während für höhere Funktionen sich die Techniken der Äquivalenzumformung wie zum Beispiel durch quadratische Ergänzung erweitern würden.

$$\begin{aligned}
 g(x) &\stackrel{!}{=} f(x) \\
 -\frac{1}{2}x + 2 &= x - 1 & \left| +\frac{1}{2}x + 1 \right. \\
 3 &= \frac{3}{2}x & \left| \cdot \frac{2}{3} \right. \\
 \Rightarrow 2 &= x_{\times} & \left| \cdot \frac{2}{3} \right.
 \end{aligned} \tag{5.15}$$

In Gleichung (5.15) wird die Berechnung der Schnittstelle x_{\times} gezeigt. Anschließend muss noch x_{\times} in $f(x)$ oder $g(x)$ eingesetzt und das Ergebnis berechnet werden:

$$\begin{aligned}
 f(x_{\times}) &= x_{\times} - 1 \\
 &= 2 - 1 = 1
 \end{aligned} \tag{5.16}$$

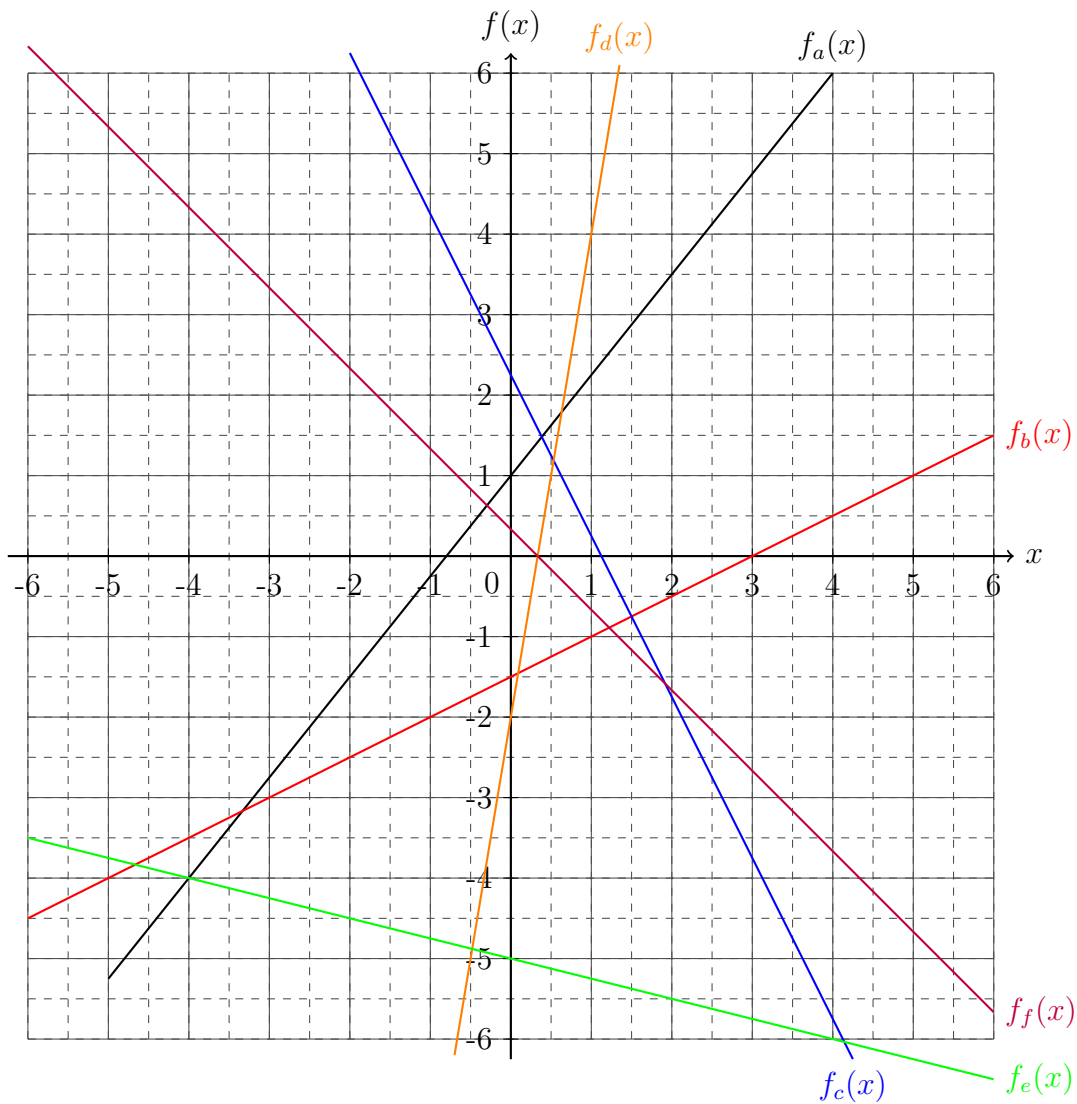
Somit ist, wie im Koordinatensystem zu sehen war, der Schnittpunkt der Funktionen $P_{\times} = (x_{\times} | f(x_{\times})) = (2|1)$.

5.2.1 Übungsaufgaben zu Geraden

Aufgabe 1: Bestimme aus den gegebenen Punkte die Geradenfunktionsgleichung, bestimme anschließend die Nullstelle und zeichne den Graphen.

- a) $P_a(-2|-2)$ und $Q_a(0|4)$
b) $P_b\left(\frac{1}{2}|1\right)$ und $Q_b(-1|-4)$
c) $P_c(-4|2)$ und $Q_c(4|5)$
d) $P_d(-3|-5)$ und $Q_d(5|2)$
e) $P_e\left(\frac{1}{3}|\frac{2}{3}\right)$ und $Q_e\left(-\frac{1}{6}|-3\right)$
f) $P_f\left(\sqrt{2}|\sqrt{3}\right)$ und $Q_f(e|\pi)$

Aufgabe 2: Bestimme den Steigungsparameter m und den Ordinatenschnittwert b aus den dargestellten Graphen. Gib die Geradenfunktionsgleichung an.



Aufgabe 3: Bestimme den Schnittpunkt $P_{\times}(x_{\times} | f(x_{\times}))$ der beiden Geraden.

- a) $f(x) = 3x - 2$ und $g(x) = x + 3$
 b) $f(x) = \frac{1}{6}x + 2$ und $g(x) = -3x + \frac{4}{5}$
 c) $f(x) = -3x$ und $g(x) = 2x - 6$
 d) $f(x) = \frac{1}{2}x + \sqrt{7}$ und $g(x) = \frac{7}{3}x - 3$
 e) $f(x) = 9x - e^2$ und $g(x) = \pi x + \frac{1}{4}$
 f) $f(x) = -\sqrt{2}x$ und $g(x) = x \ln 2 - 6$

Aufgabe 4: Bestimme die Nullstellen der Geraden x_N .

a) $f(x) = 5x - 9$

b) $f(x) = \frac{1}{3}x - 6$

c) $f(x) = -3x + 4$

d) $f(x) = -12x + \frac{8}{17}$

e) $f(x) = 9x + 4$

f) $f(x) = 15x + \sqrt{2}$

g) $f(x) = \frac{3}{4}x + \frac{1}{5}$

h) $f(x) = 3x - \frac{5}{6}$

i) $f(x) = -\sqrt{2}x - 45$

j) $f(x) = \frac{1}{\sqrt{2}}x + \ln 4$

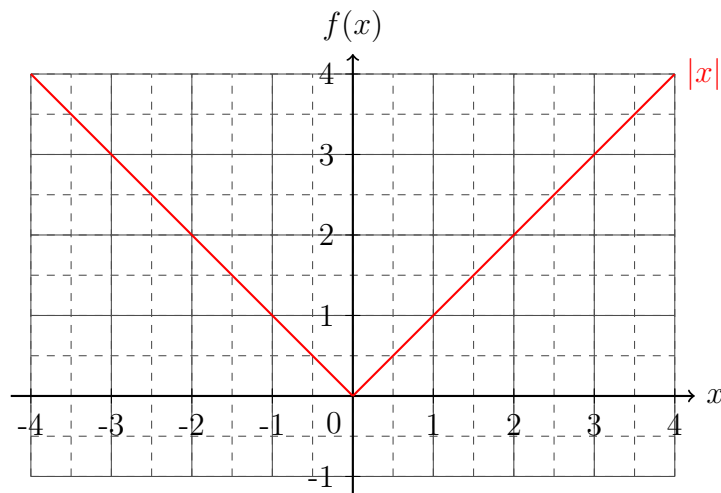
Die Lösungen zu diesem Abschnitt finden sich im Anhang im Abschnitt (13.6.27) Lösungen zu Geraden.

5.3 Stufenfunktionen

Die *Betragsfunktion* ist die bekannteste Stufenfunktion und im Wesentlichen eine *Gerade* mit der *Steigung* $m = 1$, die an der *Ordinate* gespiegelt ist. Durch diesen Sprung im *Koordinatensprung* wird die *Betragsfunktion* in zwei Bereiche unterteilt und da diese *Funktionsstyp* öfter vorkommt wird diese spezielle Form abgekürzt:

$$f(x) = |x| = \begin{cases} x & , \forall x \geq 0 \\ -x & , \forall x < 0 \end{cases} \quad (5.17)$$

Wie an Gleichung (5.17) zu erkennen ist, ist die *Betragsfunktion* in zwei Bereiche geteilt. Dabei ist für negative Werte der *Variable* ein *Subtraktionsoperator* vorgestellt. Dies bedeutet, dass die negativen *Variablenwerte* zu positiven *Funktionswerten* umgewandelt werden. Für positive *Variablenwerte* hat die *Variable* ein Vorzeichen, sodass auch in diesem Bereich positive *Funktionswerte* resultieren. Der *Graph* dieser *Funktion* ist in der folgenden Abbildung dargestellt.



An der Abbildung ist zu erkennen, dass die *Betragsfunktion* einen Knick im *Koordinatensprung* besitzt und dass die *Funktion* *achsensymmetrisch* bezüglich der *Ordinate* ist. Die *Achse* der *Symmetrie* sowie der Knick der *Funktion* kann verschoben werden, indem in den *Betragsstrichen* eine Zahl *addiert* wird.

$$f(x) = |x - 2| = \begin{cases} x & , \forall x \geq 2 \\ -x & , \forall x < 2 \end{cases} \quad (5.18)$$

Um den *Funktionswert* der *Betragsfunktion* eines beliebigen *Variablenwertes* zu bestimmen, kann in nahezu allen Fällen, die in der Schule diskutiert werden, die Zahl *quadratiert* und anschließend die *Wurzel* daraus gezogen werden.

$$|a| = \sqrt{a^2} \quad (5.19)$$

Dieses Verfahren wird oftmals dazu verwendet um Längen zu bestimmen und findet seine Anwendung zum Beispiel im Kapitel „Vektoren“. Aber es existieren neben der Betragsfunktion auch noch andere Stufenfunktionen. Generell lässt sich festhalten, dass Stufenfunktionen immer für spezielle Intervalle definiert sind.

$$f(x) = \begin{cases} ax^2 + bx + c & , \forall x \geq q \\ mx + b & , \forall p < x < q \\ nx + d & , \forall x \leq p \end{cases} \quad (5.20)$$

Somit ist die Funktion aus Gleichung (5.20) in drei Intervalle unterteilt. Stufenfunktionen kommen in vielen Bereichen der Naturwissenschaften öfters vor. Zwei weitere speziellen Stufenfunktionen werden im Abschnitt „Distributionen“ vorgestellt.

5.3.1 Übungsaufgaben zu Stufenfunktionen

Aufgabe 1: *Zeichne die Stufenfunktionen.*

a)

Die Lösungen zu diesem Abschnitt finden sich im Anhang im Abschnitt (??) Lösungen zu Stufenfunktionen.

5.4 Parabeln

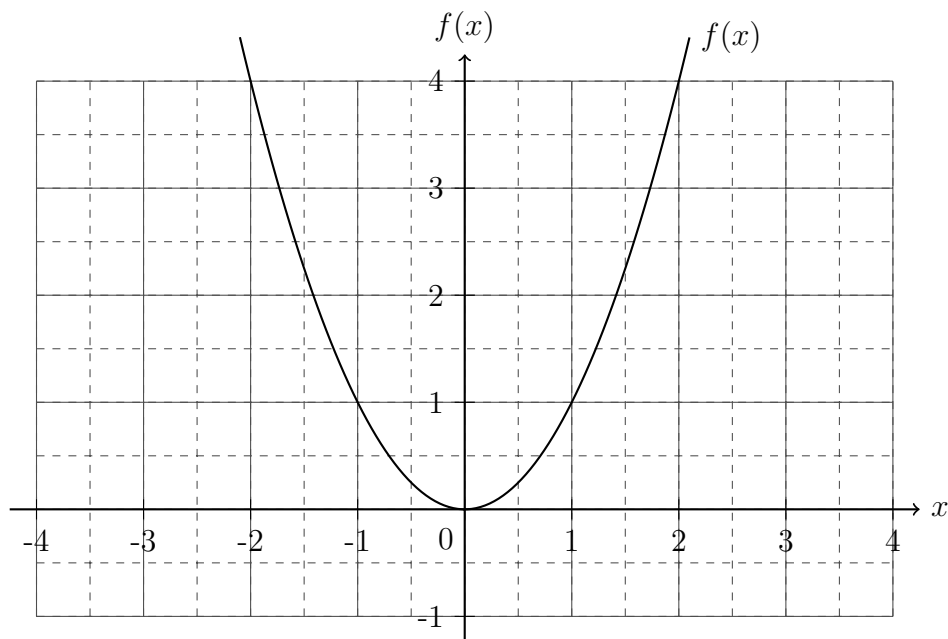
Nach den *Geraden* sind die *Parabeln* die nächst komplexere Form der *Funktionen*. *Parabeln* sind *Funktionen* zweiter Ordnung und werden auch *quadratische Funktionen* genannt.

$$f(x) = ax^2 + bx + c \quad (5.21)$$

Wie die Gleichung (5.21) zeigt, besitzt eine *Parabel* drei *Parameter*. Diese *Darstellung* der *Parabel* wird auch *Parameterdarstellung* genannt. Da die *quadratische Ergänzung* schon eingeführt wurde, kann dieser Gleichung auch so umgeformt werden, dass sich eine *binomische Formel* offenbart (dabei wurden die *Parameter* umdefiniert):

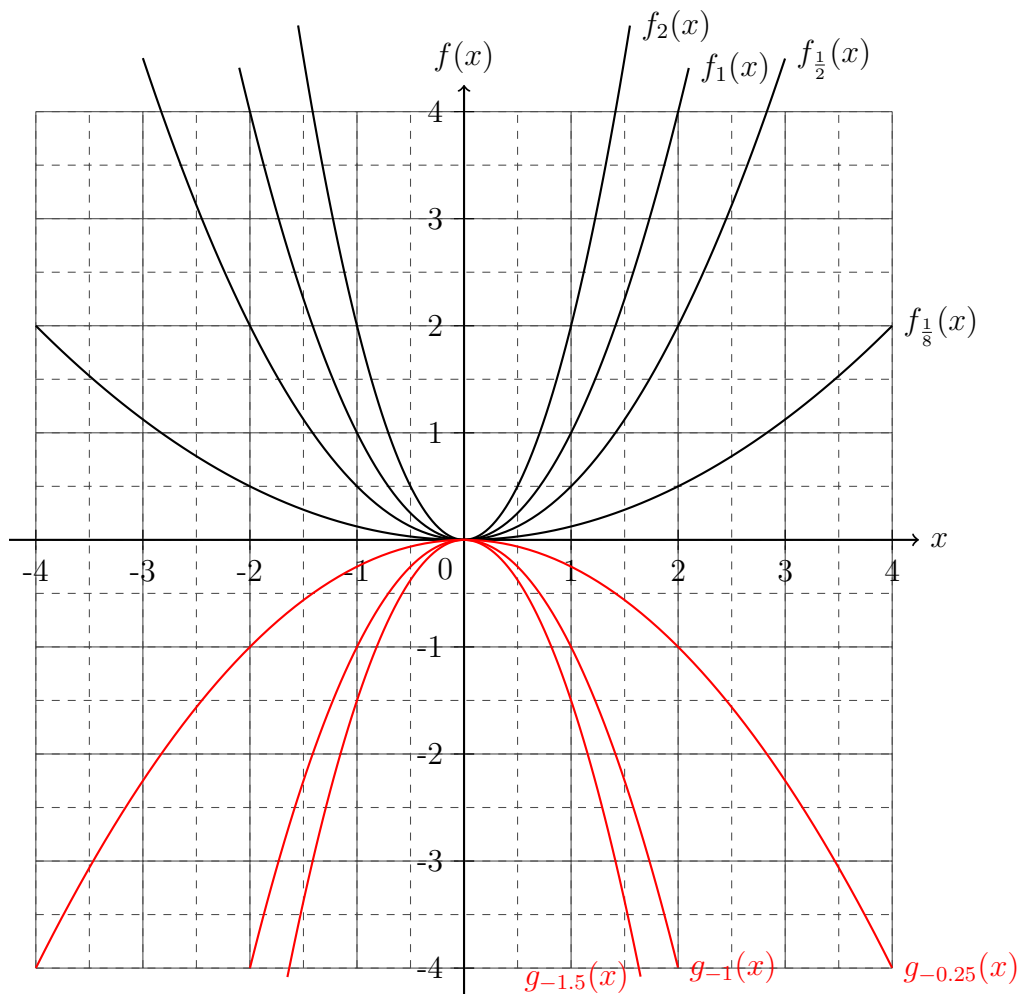
$$f(x) = \alpha(x - d)^2 + e \quad (5.22)$$

Diese *Darstellung* der *Parabel* wird *Scheitelpunktsform* genannt. Durch das Auflösen der *binomischen Formel* und einer Vereinfachung kann die Gleichung (5.22) auf die Gleichung (5.21) gebracht werden. Anhand der *Scheitelpunktsform* werden im Folgenden die Eigenschaften der *Parabel* erläutert. Sei zu erst $\alpha = 1$, $d = 0$ und $e = 0$.



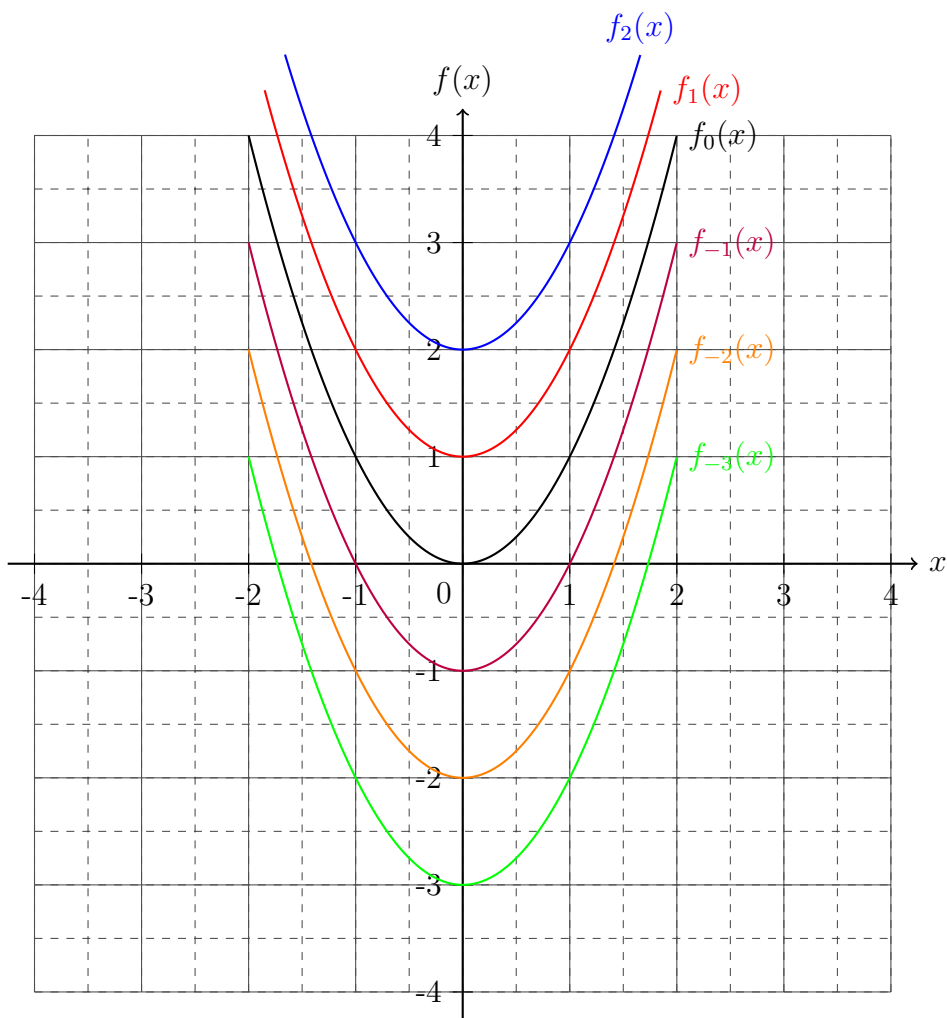
Aus dem Graphen wird ersichtlich, dass die *Parabel* *achsensymmetrisch* ist, da sie an der *Ordinate* *gespiegelt* wieder sich selbst ergibt. Auch zu erkennen ist, dass die *Funktionswerte* der vereinfachten *Parabel* $f(x) = x^2$ immer stärker zunehmen je weiter ein *Variablenwert* x vom *Koordinatenursprung* $x = 0$ entfernt ist. Außerdem sind alle *Funktionswerte* positiv, da das *Quadrat* das Vorzeichen aufhebt. Der *Scheitelpunkt* der *Parabel* ist der *Punkt* an dem sich die Richtung der *Funktion* umdreht. Hier wäre es das *Minimum* der *Funktion* im *Punkt* $S(0|0)$.

Sei nun im folgenden *Koordinatensystem* $d = 0$ und $e = 0$, während α variiert wird. Dabei soll wieder gelten, dass die *Funktion* für positive Werte von α den Namen f und für negative Werte den Namen g trägt.



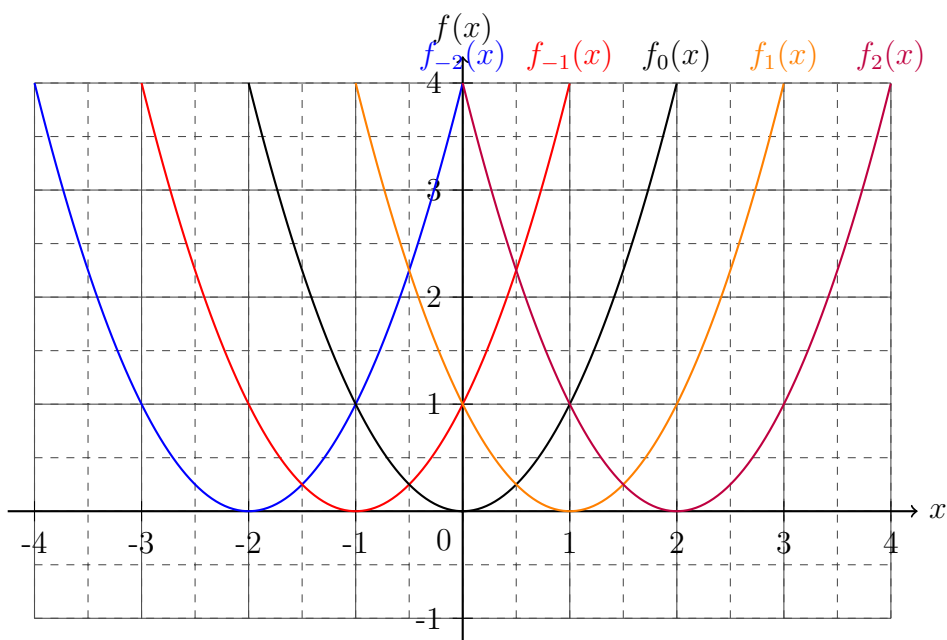
Die Graphen für verschiedene Werte von α zeigen deutlich, dass die Parabeln für Werte unter 1 gestreckt und für über 1 gestaucht sind. Aus diesem Grund heißt α auch *Stauchungsparameter*. Der Wert von α kann abgelesen werden, indem das Verhältnis $\frac{\Delta f(x)}{\Delta x}$ bestimmt wird, wobei $\Delta x = 1$ gewählt und vom Scheitelpunkt aus parallel zur Koordinate gegangen werden sollte. Der Wert des Verhältnisses ist gleichzusetzen mit α . Des Weiteren fällt auf, dass die Parabel für positive α nach oben und für negative α nach unten geöffnet ist. Folglich entscheidet das Vorzeichen des *Stauchungsparameters* über die Öffnung der Parabel.

Nun soll der *Parameter* e variiert werden, dazu wird der *Stauchungsparameter* $\alpha = 1$ und $d = 0$ gewählt.



Die Graphen zeigen, dass e den *Offset* des *Scheitelpunkts* in *Ordinatenrichtung*.

Zu Letzt soll d variiert werden, dafür wird der *Stauchungsparameter* α und der *Offset* des *Scheitelpunkts* in *Ordinatenrichtung* $e = 0$ gewählt.



Durch die *Graphen* wird deutlich, dass der *Parameter* d den *Versatz* des *Scheitelpunktes* der *Parabel* auf der *Koordinate* beschreibt.

Aus dieser *Darstellung* der *Parabel* wird deutlich, welche *Macht* die *quadratische Ergänzung* inneohnt, da aus einer *Parameterdarstellung* schnell eine *Scheitelpunktsform* gewonnen und somit die *Position* des *Scheitelpunktes* und die *Stauchung* abgelesen werden kann. Dabei gilt generell, dass der *Scheitelpunkt* S durch $S(d|e)$ gegeben ist. Der *Scheitelpunkt* S würde in der *Parameterdarstellung* durch $S\left(-\frac{b}{2a} \mid c - \frac{b^2}{4a}\right)$ gegeben sein.

Die *Nullstellen* von *quadratischen Funktionen* lassen sich über die *quadratische Ergänzung* berechnen. Da es sich um eine *Funktion zweiter Ordnung* handelt werden auch zwei *Nullstellen* zu berechnen sein, wie bei den *Graphen* $f_{-3}(x)$, $f_{-2}(x)$ und $f_{-1}(x)$ bei der *Variation* von e schon zu erkennen war und schon im *Abschnitt* zur *quadratischen Ergänzung* thematisiert wurde.

Des Weiteren bleibt zu erwähnen, dass eine *Funktion zweiter Ordnung* insgesamt drei *Parameter* besitzt, folglich werden drei *Informationen* benötigt, um alle drei *Parameter* bestimmen zu können. Dies geschieht über das gleiche *Verfahren* wie bei den *Geradenfunktionen*, nur dass ein *Parameter* und eine *Gleichung* hinzu kommt.

5.4.1 Übungsaufgaben zu Parabeln

Aufgabe 1: Zeichne die Graphen der quadratischen Funktionen, bestimme den Scheitelpunkt und die Nullstellen, falls sie vorhanden sind. Stelle die Funktion anschließend zur Scheitelpunktsform um.

a) $f_a(x) = x^2 - 2x + 1$

c) $f_c(x) = 2x^2 + 8x + 32$

e) $f_e(x) = x^2 + 8x - 1$

g) $f_g(x) = 3x^2 + 6x - 15$

i) $f_i(x) = -2x^2 + 5x - 3$

k) $f_k(x) = \frac{1}{2}x^2 - \frac{3}{2}x + \frac{7}{8}$

m) $f_m(x) = \frac{4}{3}x^2 + \frac{64}{21}x + \frac{256}{147} - \ln 2$

o) $f_o(x) = -x^2 + 2\sqrt{34}x - \sqrt{5} - 3$

b) $f_b(x) = x^2 - 8x + 16$

d) $f_d(x) = 4x^2 - 8x + 8$

f) $f_f(x) = x^2 - 6x - 7$

h) $f_h(x) = 2x^2 - 8x - 14$

j) $f_j(x) = -2x^2 - 12x - 14$

l) $f_l(x) = \frac{5}{4}x^2 + \frac{3}{2}x + \frac{7}{60}$

n) $f_n(x) = \sqrt{2}x^2 - 2e\sqrt{2}x + \sqrt{2}e^2 + \pi$

p) $f_p(x) = -\frac{1}{6}x^2 + \frac{3}{4}x - \sqrt{17} - \frac{27}{32}$

Aufgabe 2: Berechne die Schnittpunkte zwischen den gegebenen Funktionen falls welche vorhanden sind.

a) $f_a(x) = x^2 - 3x - 5$ und: $g_a(x) = x + 1$

b) $f_b(x) = x^2 + 7x - \frac{4}{5}$ und: $g_b(x) = 5x + \frac{3}{5}$

c) $f_c(x) = 2x^2 - \frac{5}{2}x - 7$ und: $g_c(x) = x^2 - \frac{1}{2}x + 1$

d) $f_d(x) = -\frac{1}{3}(x - 9)^2 + 6$ und: $g_d(x) = 2(x + 3)^2 - \frac{5}{6}$

Aufgabe 3: Zeichne die Graphen der quadratischen Funktionen, bestimme den Scheitelpunkt und die Nullstellen, falls sie vorhanden sind. Stelle die Funktion anschließend zur Parameterform um.

a) $f_a(x) = (x - 3)^2 - 4$

b) $f_b(x) = (x + 2)^2 - 1$

c) $f_c(x) = (x - 2)^2 + 8$

d) $f_d(x) = 2(x - 1)^2 - 7$

e) $f_e(x) = -(x + 8)^2 - \frac{1}{2}$

f) $f_f(x) = 4(x - 9)^2 + \frac{4}{3}$

g) $f_g(x) = -2\left(x + \frac{3}{4}\right)^2 + \frac{1}{8}$

h) $f_h(x) = \frac{1}{2}\left(x - \frac{4}{3}\right)^2 - \frac{1}{4}$

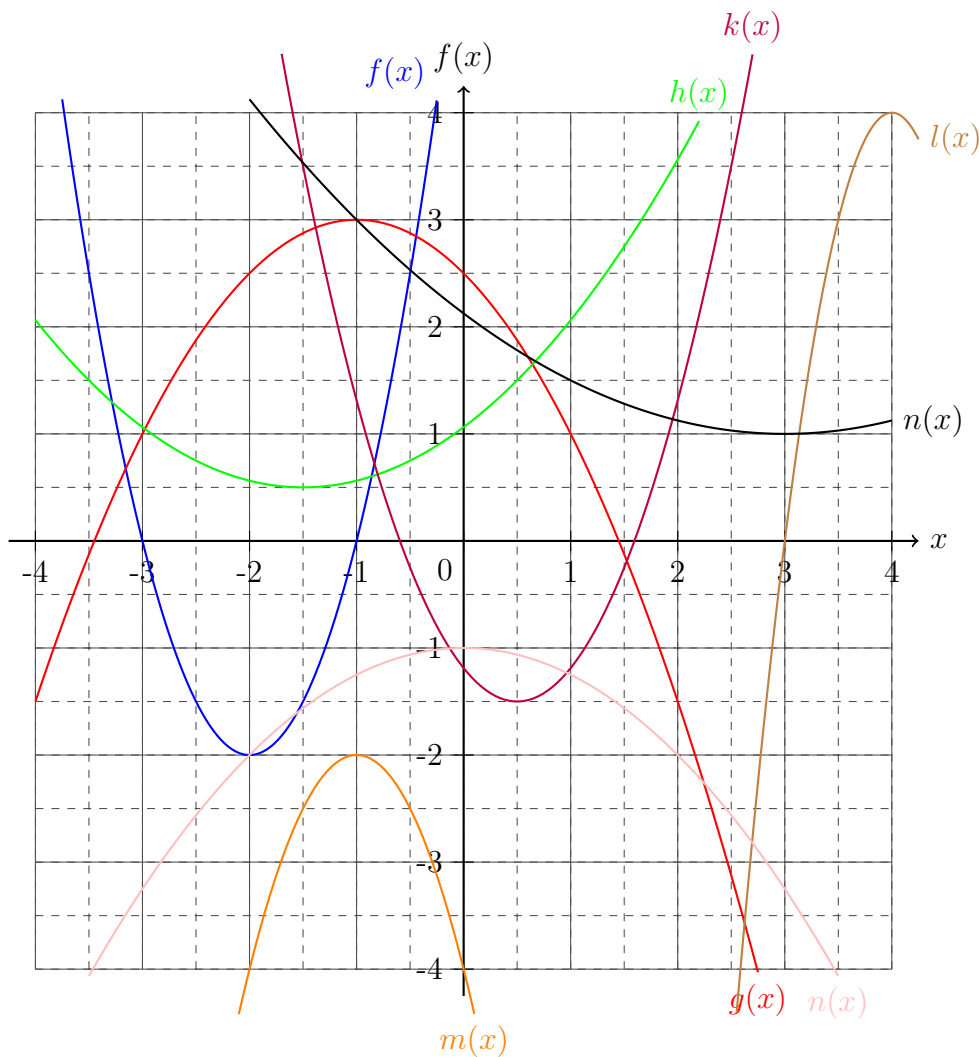
i) $f_i(x) = -\frac{5}{3}\left(x + \frac{53}{34}\right)^2 - \frac{9}{8}$

j) $f_j(x) = \frac{9}{7}\left(x - \frac{11}{13}\right)^2 + \frac{\sqrt{3}}{4}$

i) $f_i(x) = -\sqrt{5}(x + \sqrt{3})^2 - \sqrt{8}$

j) $f_j(x) = \ln 2(x - e)^2 + \pi$

Aufgabe 4: Bestimme die Funktionsgleichungen der quadratischen Funktionen.



Aufgabe 5: *Teste auf Achsensymmetrie.*

a) $f_a(x) = 6x^2 + 4$

b) $f_b(x) = \left(x + \frac{2}{3}\right)^2 - 3$

c) $f_c(x) = -\frac{1}{2}(x - 2)^2 - 2x + 3$

d) $f_d(x) = \pi(x - e)^2 + 2ex + \sqrt{2}$

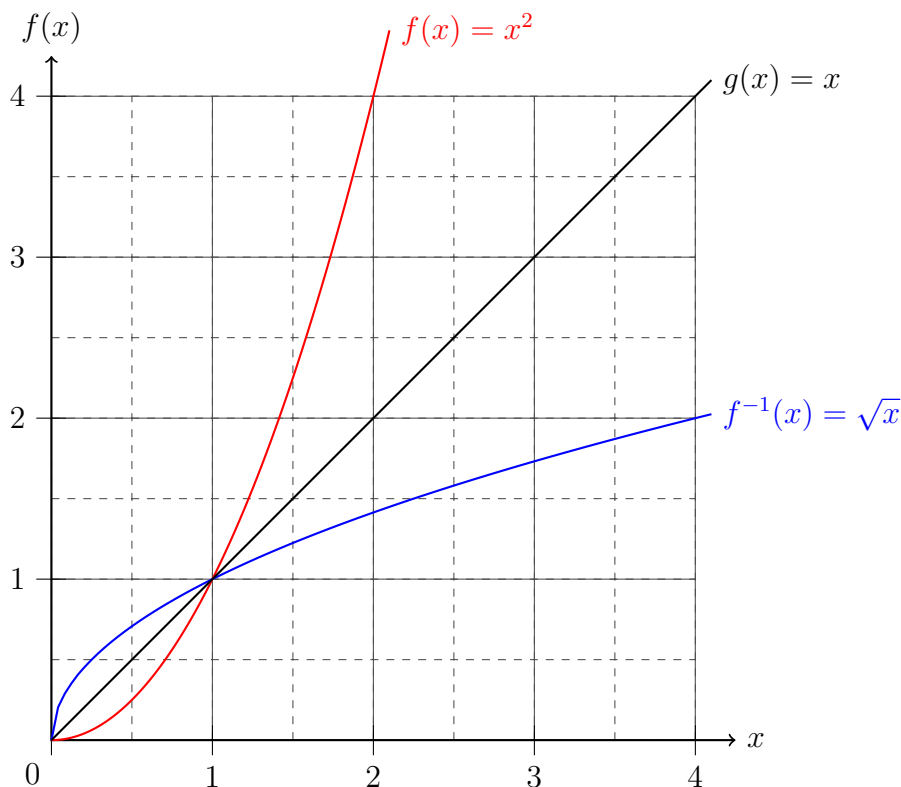
Die Lösungen zu diesem Abschnitt finden sich im Anhang im Abschnitt (13.6.28) Lösungen zu Parabeln.

5.5 Umkehrfunktionen

Wie schon bei den Grundlagen der *Algebra* eingeführt wurde, existiert zu jeder *Rechenoperation* eine *Umkehrung*. Folglich existiert zu jeder *Funktion* eine *Umkehrfunktion*. Die Unterschiede der *Funktion* zur *Umkehrfunktion* sind andere *Werte-* und *Definitionsbereiche*. Sei eine *Funktion* $f(x)$ gegeben, dann beschreibt $f^{-1}(x)$ die *Umkehrfunktion* und es gilt dabei immer:

$$f(f^{-1}(x)) = f^{-1}(f(x)) = x \quad . \quad (5.23)$$

Die Gleichung (5.23) sagt aus, dass die *Funktion* $f(x)$ von der *Umkehrfunktion* $f^{-1}(x)$ und die *Umkehrfunktion* $f^{-1}(x)$ von der *Funktion* $f(x)$ gleich der *Variable* x ist. Folglich kann die *Funktion* $f(x)$ statt x in die *Umkehrfunktion* $f^{-1}(x)$ eingesetzt werden und das Ergebnis ist stets x - das gleiche gilt auch für die *Umkehrfunktion* $f^{-1}(x)$ eingesetzt in die *Funktion* $f(x)$. So ist zum Beispiel die *Umkehrfunktion* der *Funktion* $f(x) = x^2$ gegeben als $f^{-1}(x) = \sqrt{x}$,



wobei die *Graphen* im *ersten Quadranten* im *Koordinatensystem* zu sehen sind. Auch zu sehen ist, dass $f(x)$ gespiegelt an der *Geraden* $g(x) = x$ die *Umkehrfunktion* $f^{-1}(x)$ ergibt. So die *Umkehrfunktion* $f^{-1}(x)$ zu bestimmen ist graphisch immer möglich. Allerdings gibt es auch ein *algebraisches Verfahren*¹. Zur Verdeutlichung sei die *Funktion* $f(x) = -\frac{1}{2}9,81x^2 + 5$ gegeben.

¹Verfahren durch Umstellungen von Gleichungen.

$$\begin{aligned}
f(x) &= -\frac{1}{2}9,81x^2 + 5 \quad | -5 \\
f(x) - 5 &= -\frac{1}{2}9,81x^2 \quad \left| : \left(\frac{9,81}{2} \right) \right. \\
\frac{2(5 - f(x))}{9,81} &= x^2 \quad |\sqrt{} \\
\sqrt{\frac{2(5 - f(x))}{9,81}} &= x \quad |\text{Umbenennung} \\
\Rightarrow f^{-1}(x) &= \sqrt{\frac{2(5 - x)}{9,81}}
\end{aligned} \tag{5.24}$$

Die Gleichung (5.24) zeigt, dass die *Umkehrfunktion* berechnet werden kann, indem nach der *Variable* aufgelöst wird. Als abschließender Schritt werden $f(x)$ in x und x in $f^{-1}(x)$ umbenannt. Über dieses Verfahren lassen sich alle *Umkehrfunktionen* bestimmen. Wichtig ist hierbei, dass die unterschiedlichen *Definitions-* und *Wertebereiche* berücksichtigt und niedergeschrieben werden. So unterscheiden sich diese bei der *Beispielfunktion* zu ihrer *Umkehrfunktion* stark:

$$\begin{aligned}
f(x) : \quad \mathbb{D} &= \{x \in \mathbb{R}\} & \mathbb{W} &= \{x \in \mathbb{R} | x \leq 5\} \\
\Rightarrow f^{-1}(x) : \quad \mathbb{D} &= \{x \in \mathbb{R} | x \leq 5\} & \mathbb{W} &= \{x \in \mathbb{R}^+\}
\end{aligned} \tag{5.25}$$

In den folgenden Abschnitten werden die *Funktionen* analysiert und ihre *Umkehrfunktionen* vorgestellt.

5.5.1 Übungsaufgaben zu Umkehrfunktionen

Aufgabe 1: *Bestimme die Umkehrfunktionen.*

a) $f(x) = x + 6$

b) $f(x) = 3x - 9$

c) $f(x) = x^2 - 64$

d) $f(x) = -x^2 + 3x + 8$

e) $f(x) = 4x^2 + 8x - 6$

f) $f(x) = -\frac{3}{4}x^2 + \frac{1}{2}x + \frac{1}{6}$

Aufgabe 2: *Zeichne den Graphen der Funktion und der Umkehrfunktion in ein Koordinatensystem.*

a) $f(x) = x - 1$

b) $f(x) = 2x + 2$

c) $f(x) = -\frac{1}{2}x + 2$

d) $f(x) = 2x^2 - 72$

e) $f(x) = x^2 - 4x - 8$

f) $f(x) = 8x^2 - 16x + 32$

g) $f(x) = \frac{1}{2}x^2 + 2x - \frac{4}{5}$

h) $f(x) = -\frac{4}{3}x^2 + \frac{7}{2}x + \frac{5}{6}$

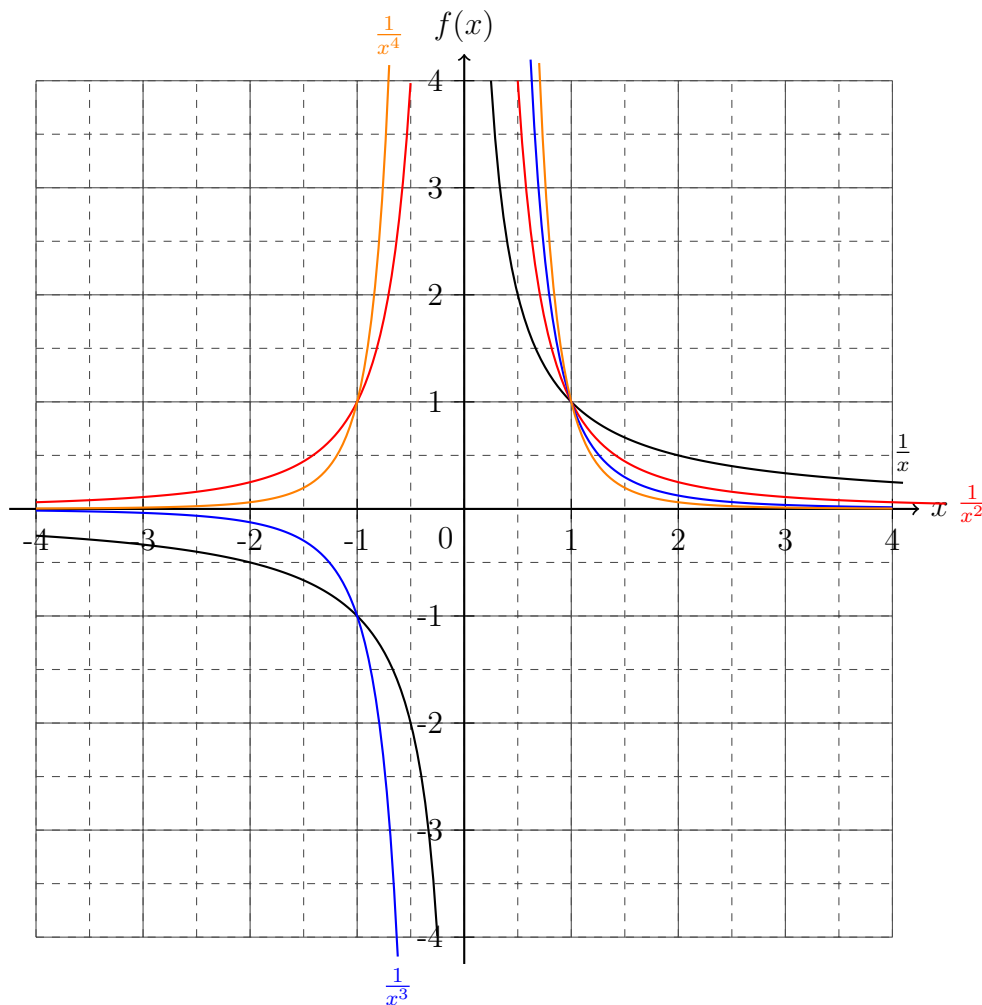
Die Lösungen zu diesem Abschnitt finden sich im Anhang im Abschnitt (13.6.29) Lösungen zu Umkehrfunktionen.

5.6 Hyperbeln

Nachdem die *Gerade* und *Parabel* vorgestellt wurde, soll in diesem Abschnitt die *Hyperbel* besprochen werden. Eine *Hyperbel* ist definiert durch:

$$f(x) = \frac{1}{x} \quad (5.26)$$

Wie schon in der Einleitung des Kapitels erwähnt wurde, muss bei einer *Funktion* die *Definitionsmenge* bestimmt werden, welche bei einer *Hyperbel* durch die *reellen Zahlen* \mathbb{R} ohne 0 gegeben ist. Die *Hyperbel* beschreibt die Grundform aller *Funktionen* mit negativer *Potenz*.



Wie die Abbildung zeigt, dass die *Hyperbel* und höhere *Potenzen* der selben bei $x = 0$ von rechts gegen ∞ und von links gegen $-\infty$ gehen. Dabei steigen die *Funktionen* stärker an je höher die *Potenz* ist. Je weiter sich die *Funktionen* vom *Koordinatenursprung* entfernen, desto weiter schmiegen sich die *Funktionen* der *Koordinate* an. Dabei ist dieses Verhalten der *Funktionen* auch stärker je höher die *Potenz* ist. Auch zu erkennen ist, dass alle *Graphen* durch den *Punkt* $P(1|1)$ gehen. Gerade *Potenzen* sind an der *Ordinate* gespiegelt in den *zweiten Quadranten*, während ungerade *Potenzen* im *Koordinatenursprung* in den *dritten Quadranten* gespiegelt

werden.

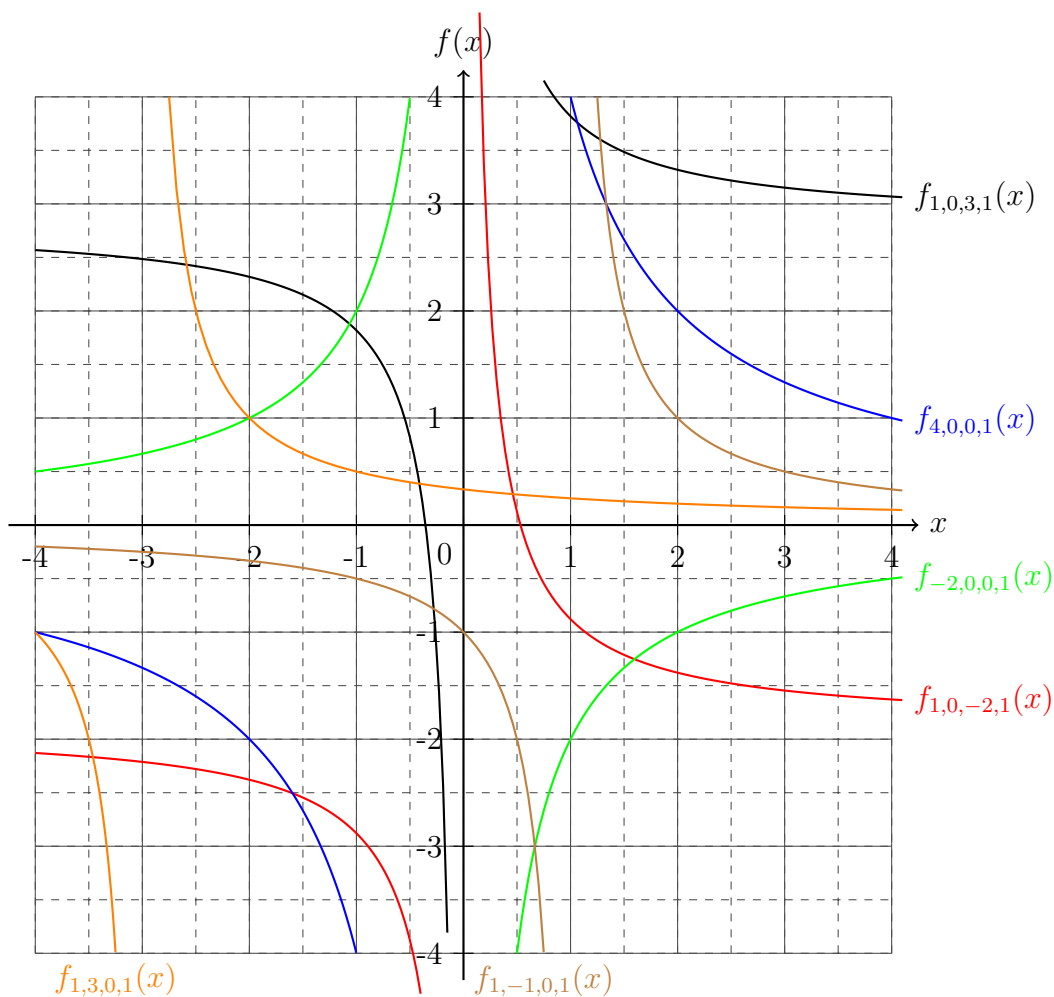
Die Umkehrfunktion der Hyperbel ist wieder eine Hyperbel. Für höhere Potenzen gilt:

$$f(x) = \frac{1}{x^n} \Rightarrow f^{-1}(x) = \frac{1}{\sqrt[n]{x}} \quad (5.27)$$

Wenn die Hyperbel um eine Zahl c addiert wird, dann wird diese auf der Ordinate verschoben, sodass eine Nullstelle entsteht. Würde eine Zahl b im Nenner addiert werden, verschiebt sich die Hyperbel entlang der Koordinate und eine in den Zähler multiplizierte Zahl a würden den Punkt verschieben an dem sich alle weiteren Potenzen von x schneiden würden. Dabei bestimmt das Vorzeichen von a ob sich die Hyperbel hauptsächlich im ersten und dritten oder im zweiten und vierten Quadranten aufhält. Der Punkt an dem sich alle höheren Potenzen schneiden würden, ist gegeben als $P(\sqrt[n]{a}|\sqrt[n]{a})$, wenn die anderen Parameter gleich Null gesetzt würden.

$$f_{a,b,c,n}(x) = \frac{a}{x^n + b} + c \quad (5.28)$$

Im folgenden Koordinatensystem sind für $n = 1$ jeweils zwei Variationen der Parameter als Graph dargestellt.



5.6.1 Übungsaufgaben zu Hyperbeln

Aufgabe 1: Bestimme die Nullstelle x_n und die Definitionsmenge \mathbb{D} .

a) $f(x) = \frac{1}{x} - 2$

b) $f(x) = \frac{2}{x} + \frac{1}{4}$

c) $f(x) = \frac{1}{x-2} + 3$

d) $f(x) = \frac{1}{3} \frac{1}{x+5} - 3$

e) $f(x) = \frac{2}{x - \frac{2}{3}} + \sqrt{5}$

f) $f(x) = \frac{\pi}{x - \sqrt{2}} + e$

Aufgabe 2: Bestimme die Umkehrfunktionen.

a) $f(x) = \frac{1}{x-3}$

b) $f(x) = \frac{1}{2x} - \frac{1}{3}$

c) $f(x) = \frac{9}{4x-2} + 3$

d) $f(x) = \frac{1}{4} \frac{1}{x^2-6} + 4$

e) $f(x) = \frac{2}{3x^2-27} + \frac{7}{8}$

f) $f(x) = \frac{e}{x^3 \ln 2 - \pi} + \sqrt{2}$

Die Lösungen zu diesem Abschnitt finden sich im Anhang im Abschnitt (13.6.30) Lösungen zu Hyperbeln.

5.7 Grenzwerte

Wie schon beim Graphen der *Hyperbel* zu sehen war, haben einige *Funktionen* Lücken in der *Definitionsmenge* x_L . Dabei zeigen die *Funktionen* oftmals ein interessantes Verhalten an diesen Stellen. So ist bei der *Hyperbel* ein Sprung von $-\infty$ zu ∞ zu sehen. Diese Stelle wird dann *Polstelle mit Vorzeichenwechsel*. Bei der *Funktion* $f(x) = \frac{1}{x^2}$ war kein Sprung festzustellen, sodass lediglich von einer *Polstelle* gesprochen wird. Von einer *Definitionslücke* ist die Rede, wenn eine *Funktion* in einem *Punkt* nicht *definiert* ist, allerdings kein Verhalten festzustellen ist, dass nicht zu einer *Polstelle* passt. Solche *Funktionen* werden später im Abschnitt „gebrochen rationale Funktionen“ behandelt.

Um das Verhalten um solche Lücken in der *Definitionsmenge* oder für besonders große oder kleine Zahlen zu beschreiben, dient der sogenannte *Grenzwert*. Dabei wird zwischen einem *linksseitigen* und einem *rechtsseitigen Grenzwert* - also ob von den kleineren Zahlen oder von den größeren Zahlen aus zur Lücke gegangen wird.

$$\begin{aligned} \lim_{x \nearrow x_L} f(x) & \quad \text{linksseitiger Grenzwert} \\ \lim_{x \searrow x_L} f(x) & \quad \text{rechtsseitiger Grenzwert} \end{aligned} \quad (5.29)$$

Für die *Hyperbel* $\frac{1}{x}$ existieren folgende *Grenzwerte*:

$$\begin{aligned} \lim_{x \nearrow 0} f(x) &= -\infty \\ \lim_{x \searrow 0} f(x) &= \infty \\ \lim_{x \rightarrow \infty} f(x) &= 0 \\ \lim_{x \rightarrow -\infty} f(x) &= 0 \end{aligned} \quad (5.30)$$

Generell kann bei jeder *Funktion* der *Grenzwert* gegen ∞ und $-\infty$ bestimmt werden. Dabei sind die *Grenzwerte* in der Schule von relativ trivialer Natur, sodass sich das *Verhalten* offenbart, indem Zahlen nahe der Zielzahl einsetzt. Für das Verhalten einer *Funktion* gegen besonders große oder kleine Zahlen zu bestimmen reicht es aus zwei besonders große oder kleine Zahl einzusetzen und die *Funktionswerte* zu vergleichen. Für die *Hyperbel* ergibt sich daraus, dass die *Funktionswerte* gegen Null gehen. Dabei bedeutet „gegen Null“, dass die Erreichung dieses *Funktionswertes* unerreichbar ist. Die *Funktion*, die diese nicht erreichbaren *Funktionswerte* beschreibt, wird *Asymptote* genannt. Aus diesem Grund wird von einem *asymptotischen Verhalten* gegen Null für große Zahlen bei einer *Hyperbel* gesprochen.

Einige wichtige *Grenzwerte*:

$$\begin{aligned}\lim_{n \rightarrow \infty} \sqrt[n]{a} &= 1 \\ \lim_{n \rightarrow \infty} \sqrt[n]{n} &= 1 \\ \lim_{n \rightarrow \infty} \sqrt[n]{n!} &= \infty \\ \lim_{n \rightarrow \infty} \frac{n}{\sqrt[n]{n!}} &= e \\ \lim_{n \rightarrow \infty} \left(1 + \frac{x}{n}\right)^n &= e^x \\ \lim_{n \rightarrow \infty} \frac{a^n}{n!} &= 0 \\ \lim_{n \rightarrow \infty} n (\sqrt[n]{a} - 1) &= \ln a\end{aligned}\tag{5.31}$$

5.7.1 Übungsaufgaben zu Grenzwerte

Aufgabe 1: Bestimme die links- und rechtsseitigen Grenzwerte.

$$a) f(x) = \frac{1}{x-6}$$

$$b) f(x) = \frac{1}{2x-8}$$

$$c) f(x) = \frac{1}{5x-2}$$

$$d) f(x) = \frac{1}{x^2-9}$$

$$e) f(x) = \frac{1}{2x^2-4}$$

$$f) f(x) = \frac{1}{4x^2-1}$$

Die Lösungen zu diesem Abschnitt finden sich im Anhang im Abschnitt (13.6.31) Lösungen zu Grenzwerte.

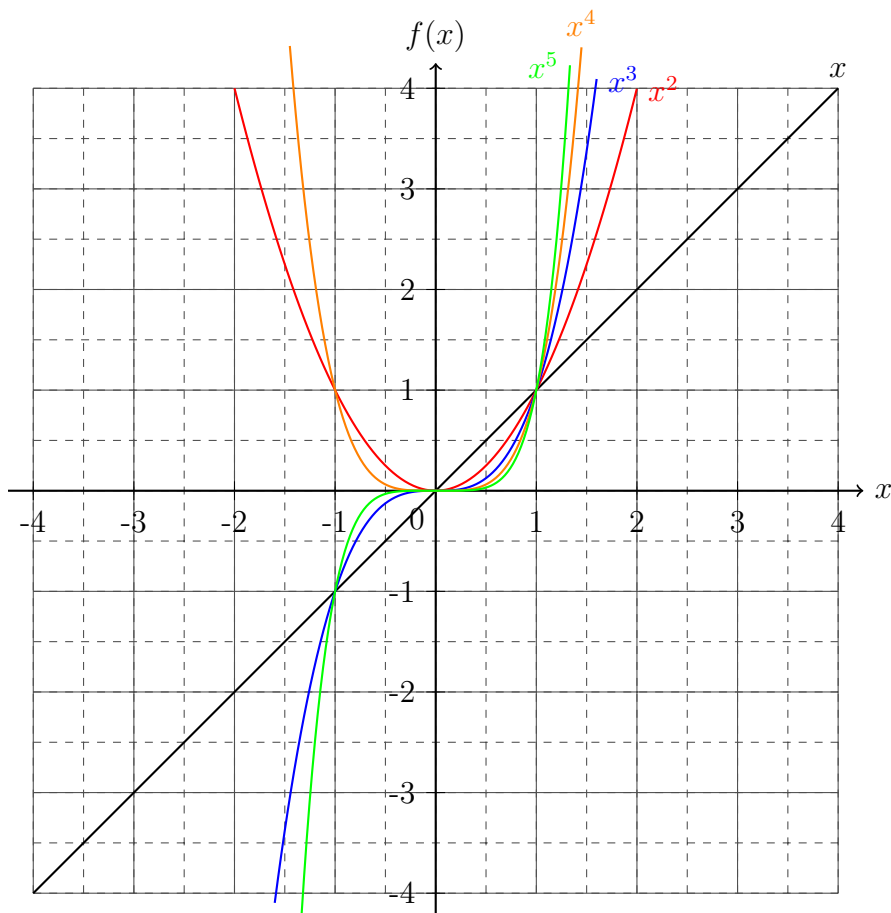
5.8 Polynomfunktionen

Nach der Diskussion der *Geraden* und der *Parabeln* kann ein Zusammenhang zwischen diesen festgestellt werden. Dabei lohnt sich eine Gegenüberstellung der *linearen* und *quadratischen Funktion* mit höheren *Funktionen*:

$$\begin{aligned}
 f_1(x) &= a_1x + a_0 && 1. \text{ Ordnung} \\
 f_2(x) &= a_2x^2 + a_1x + a_0 && 2. \text{ Ordnung} \\
 f_3(x) &= a_3x^3 + a_2x^2 + a_1x + a_0 && 3. \text{ Ordnung} \\
 f_4(x) &= a_4x^4 + a_3x^3 + a_2x^2 + a_1x + a_0 && 4. \text{ Ordnung} \\
 f_5(x) &= a_5x^5 + a_4x^4 + a_3x^3 + a_2x^2 + a_1x + a_0 && 5. \text{ Ordnung} \\
 &\vdots &&
 \end{aligned}
 \tag{5.32}$$

Deutlich an der Gleichung (5.32) ist zu erkennen, dass durch die Höhe der *Potenzen* die Anzahl der *Terme* und der *Parameter* zunimmt. Die rechte Seite der *Funktionsgleichungen* werden *Polynome* genannt. *Polynome* zeichnen sich dadurch aus, dass die *Potenzen* der *Variablen* *aufaddiert* werden und dabei jeweils ihren spezifische *Vorfaktoren* besitzen.

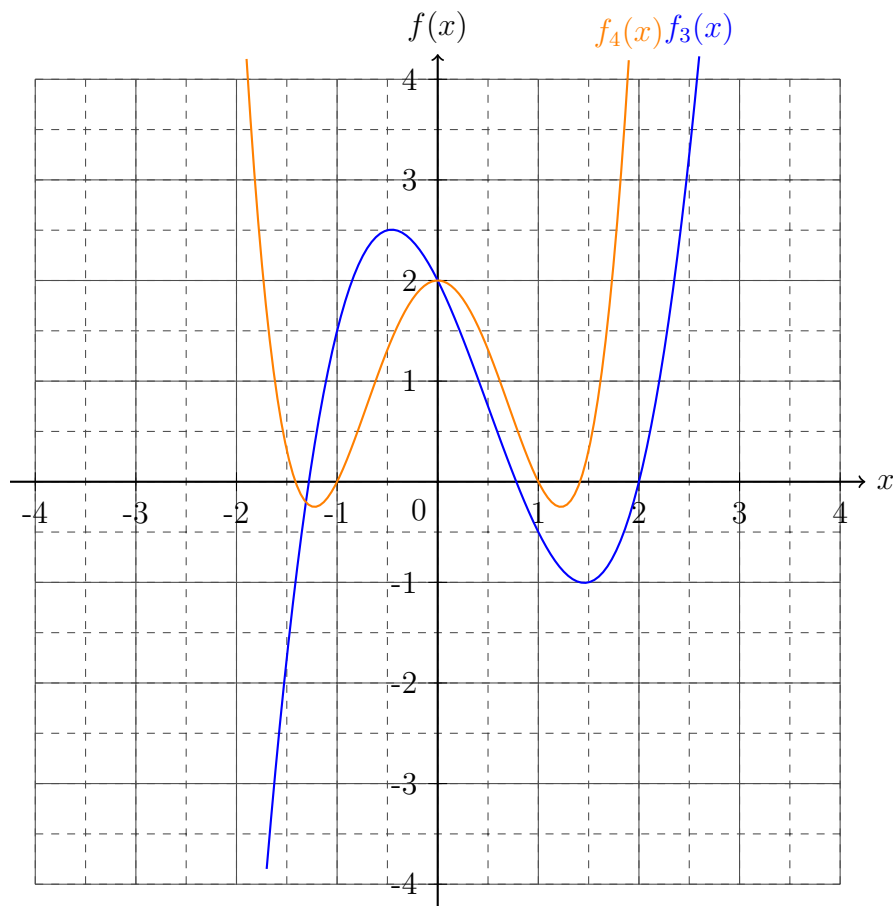
Dabei unterscheiden sich die Eigenschaften der *Polynomfunktionen* je nach Ordnung. Um diese vergleichen zu können, werden nur die höchsten *Terme* der *Polynome* berücksichtigt.



Ungerade *Potenzen* sind dabei *symmetrisch* in einem *Punkt*, während gerade *Potenzen* *symmetrisch* zu einer Linie *parallel* zur *Ordinate* sind. Außerdem zeigt die Abbildung auch, dass mit

steigender *Potenz* die *Funktionen* nach dem *Punkt* $P(1|1)$ einen stärkeren Anstieg zeigen und vor diesem *Punkt* schneller gegen Null gehen.

Um mehr Eigenschaften der *Polynomfunktionen* in den dazugehörigen *Graphen* ablesen zu können, werden nun beliebige Beispiele von *Polynomen* dritter und vierter *Ordnung* graphisch dargestellt.



Aus dem *Koordinatensystem* ist das charakteristisch Bild der *Graphen* von *Polynomfunktionen* dritter und vierter *Ordnung* zu erkennen. Dabei fällt auf, dass eine *Funktion* eines *Polynom* dritter *Ordnung* zwei Stellen besitzt, die dem *Scheitelpunkt* der *Parabel* ähneln. Diese Stellen werden werden *Extremstellen* und die dazu gehörigen *Punkte* werden *Extrempunkte* genannt. Dabei wird unterschieden zwischen *Minima* und *Maxima*. Eine *Polynomfunktion* vierter *Ordnung* besitzt drei *Extrempunkte*.

Die Berechnung der *Nullstellen* wird in einer späteren Version des Buches an dieser *Stelle* vorgestellt.

5.8.1 Übungsaufgaben zu Polynomfunktionen

Aufgabe 1: *Zeichne den Graphen der jeweiligen Funktion.*

a) $f(x) = x^4 - 2x^2 + 1$

b) $g(x) = x^3 + 2x^2 - 3x + 1$

c) $h(x) = 2x^4 - 3x^3 - 2x$

d) $k(x) = x^5 - 3x^3 - 2$

e) $l(x) = 2x^4 - 4x + 2$

f) $m(x) = -x^3 + \frac{1}{4}x^2 - x + 4$

g) $n(x) = -\frac{1}{2}x^4 - x^3 - 5x$

h) $o(x) = -x^5 - \frac{3}{4}x^3 - \frac{6}{5}x^2$

Aufgabe 2: *Bestimme die Nullstellen der Funktionen.*

a) $f(x) = 2x^4 - 8x^2 + 32$

b) $f(x) = -x^3 + 4x^2 + 7x$

c) $f(x) = -x^4 + 4x^2 + 7$

d) $f(x) = \frac{1}{2}x^4 + 6x^2 + 18$

e) $f(x) = 5x^5 + 15x^4$

f) $f(x) = \frac{1}{2}x^3 + 3x^2 - \frac{9}{2}x$

g) $f(x) = -2x^6 + 8x^5 + 4x^4$

h) $f(x) = -\frac{1}{2}x^4 - \frac{1}{4}x^3 + \frac{7}{8}$

Die Lösungen zu diesem Abschnitt finden sich im Anhang im Abschnitt (13.6.32) Lösungen zu Polynomfunktionen.

5.9 Reihen

Da oftmals viele ähnliche *Terme aufaddiert* oder *-multipliziert* werden, gibt es auch für dieses Prozedere eine abkürzende Schreibweise. Zu nächst wird die Abkürzung für die *Addition* eingeführt - die *Summenreihe* \sum . Dabei sei als Beispiel $x^5 + x^4 + x^3 + x^2 + x + 1$ gegeben. Die abkürzende Schreibweise würde wie folgt aussehen:

$$\sum_{n=0}^5 x^n = x^5 + x^4 + x^3 + x^2 + x + 1 \quad , \quad (5.33)$$

wobei die Gleichung (5.33) als „Die *Summe* über x^n von $n = 0$ bis $n = 5$ “ gesprochen wird. Somit wird unter dem *Summenzeichen* \sum den durchlaufenden *Parameter* (hier n) und den Startwert an. Über dem *Summenzeichen* \sum ist der maximale Wert des *Parameters* bei der *Addition* angegeben. Für komplexere *addierte Terme* könnte eine solche *Summe* zum Beispiel so aussehen:

$$\sum_{n=2}^4 \frac{1}{n!} \cdot \log_n (\sqrt[n]{x}) = \frac{1}{2!} \cdot \log_2 (\sqrt[2]{x}) + \frac{1}{3!} \cdot \log_3 (\sqrt[3]{x}) + \frac{1}{4!} \cdot \log_4 (\sqrt[4]{x}) \quad . \quad (5.34)$$

Viele komplexere *Summen* sind schon bekannt, allerdings wurden sie noch nicht in ihrer *Summenform* vorgestellt. Da diese *Summen* besonders oft vorkommen, wurden für diese *Summen* wiederum Abkürzungen eingeführt:

$$\begin{aligned} \sum_{n=0}^{\infty} \frac{1}{n!} x^n &= e^x \\ \sum_{n=0}^{\infty} \frac{(-1)^n}{(2n+1)!} x^{2n+1} &= \sin x \\ \sum_{n=0}^{\infty} \frac{(-1)^n}{(2n)!} x^{2n} &= \cos x \end{aligned} \quad (5.35)$$

Auch das Beispiel aus Gleichung (5.33) ist eine besondere *Summenreihe* - die sogenannte *geometrische Reihe*:

$$\begin{aligned} \sum_{n=0}^{\infty} x^n &= \frac{1}{1-x} \\ \sum_{n=0}^k x^n &= \frac{1-x^{k+1}}{1-x} \end{aligned} \quad (5.36)$$

Aber auch die *Vorfaktoren* der *binomischen Formeln* für höhere *Potenzen* k lassen sich über *Reihen* darstellen:

$$\sum_{n=0}^{\infty} \binom{k}{n} = (1+x)^k \quad (5.37)$$

Für *Polynome* wird oftmals auch eine *Summenreihe* verwendet

$$\sum_{n=0}^k c_n x^n, \quad (5.38)$$

wobei c_n für jede *Potenz* von x einen anderen Wert haben kann und sind *Koeffizienten*, also *Vorfaktoren*.

Wesentlich seltener kommen *Produktreihen* \prod vor, welche nur kurz vorgestellt werden sollen.

$$\prod_{n=0}^4 x^n = x^0 \cdot x^1 \cdot x^2 \cdot x^3 \cdot x^4 \quad (5.39)$$

Dabei ist die *Fakultät* eine oft vorkommende *Produktreihe* und wird durch den *Fakultätsoperator* $!$ abgekürzt.

$$\prod_{n=0}^k n = k! \quad (5.40)$$

Wichtig für jeden Schüler ist es zu wissen was sich hinter diesen Symbolen verbirgt, sodass weiterführende Zusammenhänge hergestellt werden können und Gleichungen mit komplexer Struktur den Schüler nicht abschrecken lassen, da bekannt ist, dass es sich lediglich um eine abkürzende Schreibweise handelt. Hierbei sollte auch beachtet werden, dass *Reihen* mit *Summanden* beziehungsweise *Faktoren* oftmals nicht vollständig ausgeschrieben werden können. Allerdings werden in einigen Rechnungen zur Verdeutlichung Teile der *Reihe* benötigt, sodass eine korrekte Schreibweise hierfür noch eingeführt werden muss.

$$e^x = \sum_{n=0}^{\infty} \frac{1}{n!} x^n = 1 + x + \frac{1}{2}x^2 + \frac{1}{3!}x^3 + \frac{1}{4!}x^4 + \mathcal{O}(x^5) \quad (5.41)$$

Wobei in der Gleichung (5.41) das $\mathcal{O}(x^5)$ die Bedeutung besitzt, dass alle *Terme* mit der *Ordnung* fünf oder größer in x nicht ausgeschrieben werden, aber dennoch vorhanden sind. Dieses Überbleibsel der restlichen *Ordnungen* muss in jeder Rechnung mit getragen werden, solange ein *Äquivalenzzeichen* verwendet wird.

5.9.1 Übungsaufgaben zu Reihen

Aufgabe 1: *Schreibe die Reihe bis zur 5. Ordnung $\mathcal{O}(x^6)$ aus.*

a)

Aufgabe 2: *Schreibe die Summe beziehungsweise das Produkt als Reihe auf.*

a)

Die Lösungen zu diesem Abschnitt finden sich im Anhang im Abschnitt (??) Lösungen zu Reihen.

5.10 Gebrochen rationale Funktionen

Gebrochen rationale Funktionen sind *Funktionen*, die im *Nenner* und im *Zähler* ein *Polynom* vorzuweisen haben. Dabei wird zwischen *echten* und *unechten gebrochen rationalen Funktionen* unterschieden. Eine *echt gebrochen rationale Funktion* wäre zum Beispiel:

$$f(x) = \frac{x^2 + 4x + 4}{x^2 - 25} , \quad (5.42)$$

wobei der *Nenner* nicht wegzudiskutieren ist. Anders sieht dies bei den *unecht gebrochen rationalen Funktionen* aus, welche oftmals in Verbindung mit den *binomischen Formeln* vorzufinden sind.

$$f(x) = \frac{x^2 - 9}{x + 3} = \frac{(x - 3)(x + 3)}{x + 3} = x - 3 , \quad (5.43)$$

Gleichung (5.43) zeigt, dass die *Funktion* bei $x = -3$ aufgrund der Bruchschreibweise nicht definiert ist, allerdings kann durch Anwendung der *binomischen Formeln* gezeigt werden, dass es sich bei dieser Struktur der *Funktion* lediglich um eine *Gerade* handelt. Allerdings sind einige *Brüche* nicht so einfach zu kürzen wie in diesem Beispiel. Hierfür bedarf es der sogenannten *Polynomdivision*, also der *Division* durch ein *Polynom*. Dabei wird wie bei der schriftlichen *Division* der *Grundrechenarten* gerechnet, allerdings statt durch *Zahlen* zu *dividieren*, wird durch einen *Funktionsterm* dividiert. Um die *Polynomdivision* zu demonstrieren sei folgende *Funktion* gegeben:

$$f(x) = \frac{2x^4 + 2x^3 - 4x^2 + 8x - 48}{x - 2} , \quad (5.44)$$

wobei durch die *Polynomdivision* überprüft werden kann ob es sich um eine *echte* oder *unechte gebrochen rationale Funktion* handelt.

$$\begin{array}{r}
 (2x^4 + 2x^3 - 4x^2 + 8x - 48) : (x - 2) = 2x^3 + 6x^2 + 8x + 24 \\
 -(2x^4 - 4x^3) \\
 \hline
 6x^3 - 4x^2 + 8x - 48 \\
 -(6x^3 - 12x^2) \\
 \hline
 8x^2 + 8x - 48 \\
 -(8x^2 - 16x) \\
 \hline
 24x - 48 \\
 -(24x - 48) \\
 \hline
 0
 \end{array}$$

Bei der *Polynomdivision* ist kein *Restterm* vorhanden, sodass der Schluss gezogen werden kann, dass es sich um eine *unechte gebrochen rationale Funktion* handelt. Das Verfahren der *Polynomdivision* ist auch nützlich wenn *Null-* oder andere *Stellen* bei höheren *Polynomfunktionen* bestimmt werden sollen.

Insgesamt zeigt sich durch diese Unterscheidung, dass *unechte gebrochen rationale Funktionen* keine *Polstelle* sondern eine *Definitionslücke* besitzen, wobei bei komplexeren *Funktionen* lediglich sich nur die *Polstellenanzahl* reduziert.

5.10.1 Übungsaufgaben zu gebrochen rationalen Funktionen

Aufgabe 1: Führe die Polynomdivision durch.

a) $(x^3 - x^2 - 5x - 3) : (x - 3)$

b) $(x^5 + x^3 + 5x^2 - 2x + 10) : (x^2 + 2)$

c) $\left(\frac{25}{2}x^5 - \frac{35}{2}x^3 + 15x^2 - 21\right) : \left(x^2 + \frac{5}{2}x + 3\right)$

d) $(x^4 - 25) : (x^2 + 5)$

e) $\left(x^5 + x^4 + x^3 - \frac{7}{3}x^2 - \frac{7}{3}x - \frac{7}{3}\right) : (x^2 + x + 1)$

f) $(-9x^3 - 60x^2 + 48x - 9) : (9x - 3)$

g) $\left(-\frac{\ln 2 \cdot x^3}{3} - \frac{\ln 2 \cdot x^2}{7} - \frac{e^\pi x}{3} - \frac{e^\pi}{7}\right) : \left(\frac{1}{3}x + \frac{1}{7}\right)$

h) $\left(-\sqrt{2}x^4 + \sqrt{34}x^3 + ex^2 - e\sqrt{17}x - \pi x + \pi\sqrt{17}\right) : \left(-x + \sqrt{17}\right)$

Aufgabe 2: Führe die Polynomdivision durch und addiere den Rest dividiert durch den Divisor zum Ergebnis.

a) $(x^2 - 4x + 2) : (x + 5)$

b) $(x^3 + 3x^2 - 5) : (x^2 - 2)$

c) $(6x^4 + x^2 - 15) : (x - 1)$

d) $\left(\frac{2}{3}x^6 - 3x^4 + 8\right) : (4x^2 + 2)$

e) $(-7x^3 - 9x + 2) : \left(\frac{1}{5}x - 3\right)$

f) $(x^9 - x^4 + x^2 + 1) : (x^2 - 3)$

Aufgabe 3: Überprüfe mit der Polynomdivision welche Funktion eine echte und welche eine unechte gebrochen rationale Funktion ist.

$$a) f(x) = \frac{x^2 - 49}{x + 7}$$

$$b) f(x) = \frac{9x^2 - 15x + 6}{x - 1}$$

$$c) f(x) = \frac{8x^3 + 4x^2 + 2x + 2}{x + 2}$$

$$d) f(x) = \frac{10x^3 - 17x^2 + 12x - 3}{2x - 1}$$

$$e) f(x) = \frac{x^4 + 256}{x^2 + 4}$$

$$f) f(x) = \frac{\sqrt{2}x^3 - ex^2 + \pi\sqrt{2}x - e\pi}{x^2 + \pi}$$

Aufgabe 4: Zeichne den Graphen der jeweiligen Funktion.

$$a) f(x) = \frac{x^2 - 25}{x + 5}$$

$$b) f(x) = 2x - 2 + \frac{1}{x + 1}$$

$$c) f(x) = \frac{x^3 + 4x - 7}{x - 2}$$

$$d) f(x) = \frac{3x^3 - x + 4}{x^2 - 4}$$

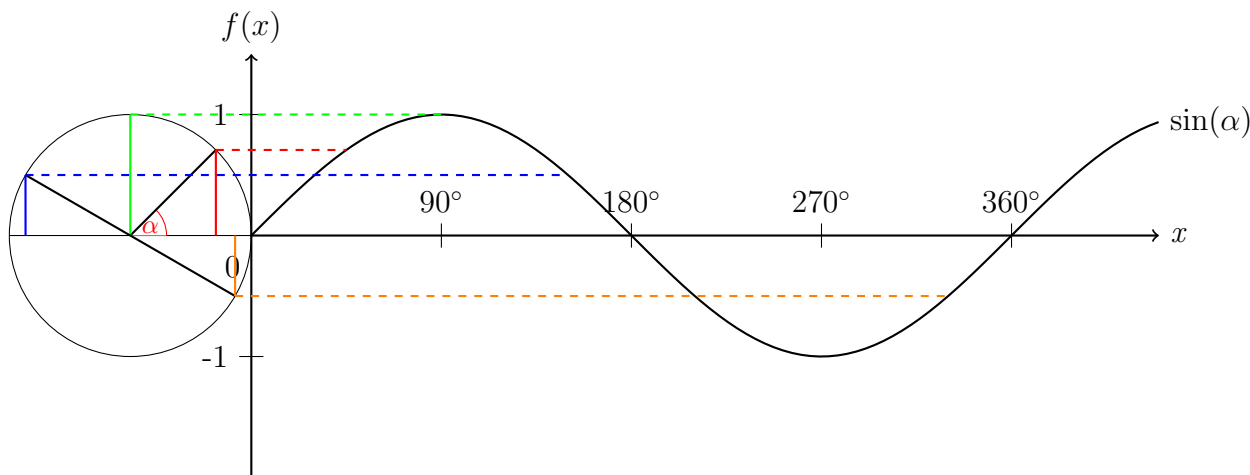
$$e) f(x) = x^2 + 2 + \frac{1}{x - 3}$$

$$f) f(x) = -\frac{1}{4}x - 2 + \frac{1}{x^2 - 2}$$

Die Lösungen zu diesem Abschnitt finden sich im Anhang im Abschnitt (13.6.33) Lösungen zu gebrochen rationalen Funktionen.

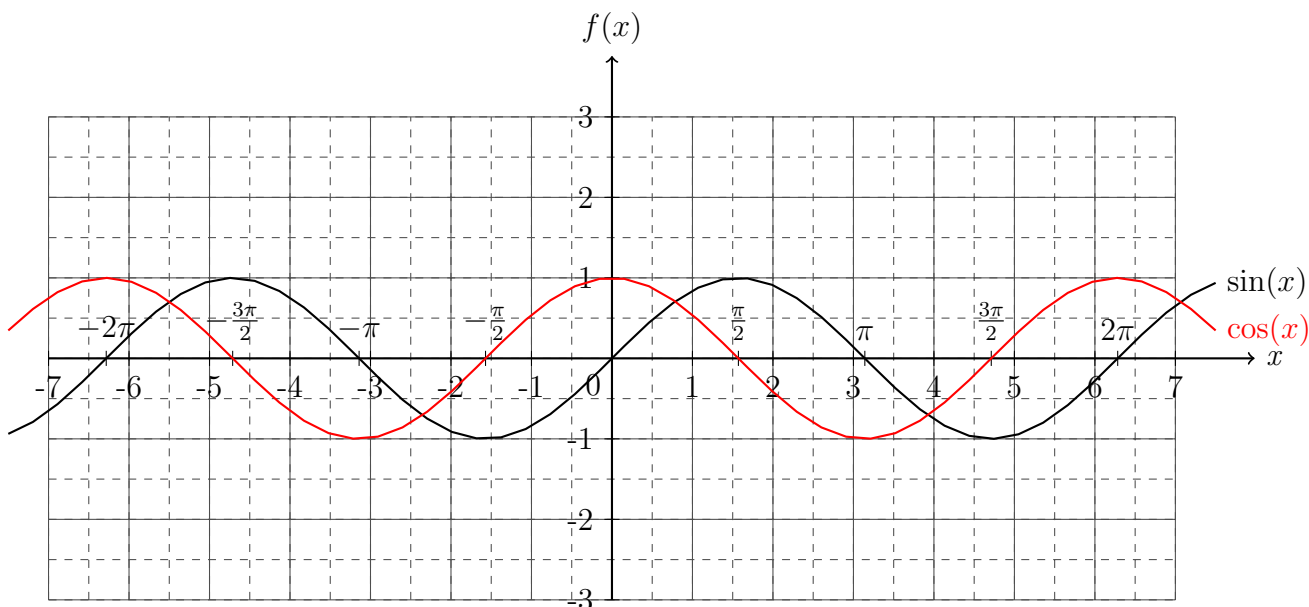
5.11 Trigonometrische Funktionen

Als die *Trigonometrie* eingeführt wurde, wurden auch schon die *trigonometrischen Funktionen* eingeführt, da $\sin(x)$ und $\cos(x)$ sowie $\tan(x)$ und $\cot(x)$ sind bereits *Funktionen*, wie auch an der sprachlichen Übersetzung zu erahnen war: „Sinus von x “. Um den *Graphen* der *Sinus-Funktion* zu veranschaulichen, wird ein *Kreis* mit *Radius* $r = 1$ gewählt, sodass die *Hypotenuse* auch immer gleich 1 ist. Daraus folgt, dass die *Gegenkathete* zum Winkel α , welcher sich am *Kreismittelpunkt* befindet, den *Sinus-Funktionswert* entspricht.



Durch den *Graphen* und den sogenannten *Einheitskreis* wird auch ersichtlich, dass sich die *Sinusfunktion* sich nach $360^\circ = 2\pi\text{rad}$ wiederholt. Diese *periodische* Eigenschaft der *Funktion* ist besonders oft in den Naturwissenschaften zur Beschreibung der Natur vorzufinden.

Da der *Kosinus* nur ein um 90° verschobener *Sinus* ist ähneln sich auch die *Funktionsgraphen*.



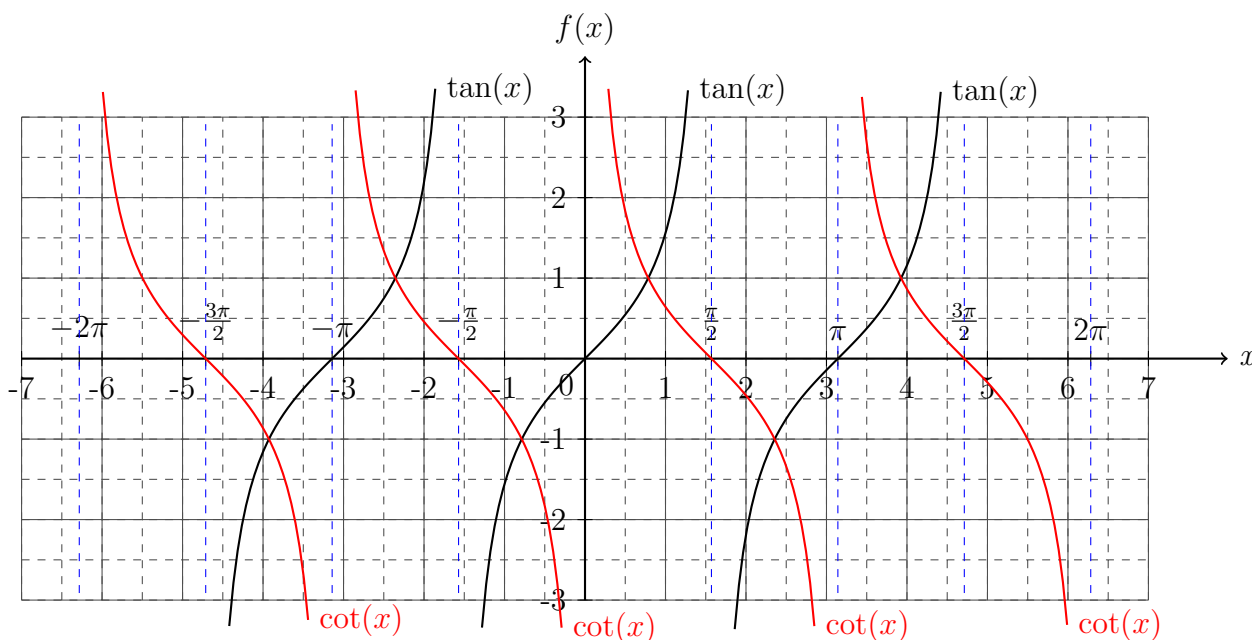
Durch die *Graphen* zeigen sich die wichtigen Eigenschaften, dass die *Funktionen* sich zwischen 1 und -1 bewegt und dass

$$\begin{aligned}\sin 0 &= 0 \quad \text{und} \\ \cos 0 &= 1\end{aligned}\tag{5.45}$$

gilt. Außerdem ist zu erkennen, dass der *Kosinus* *symmetrisch* zur *Ordinate* und dass der *Sinus* *punktsymmetrisch* zum *Koordinatenursprung* ist.

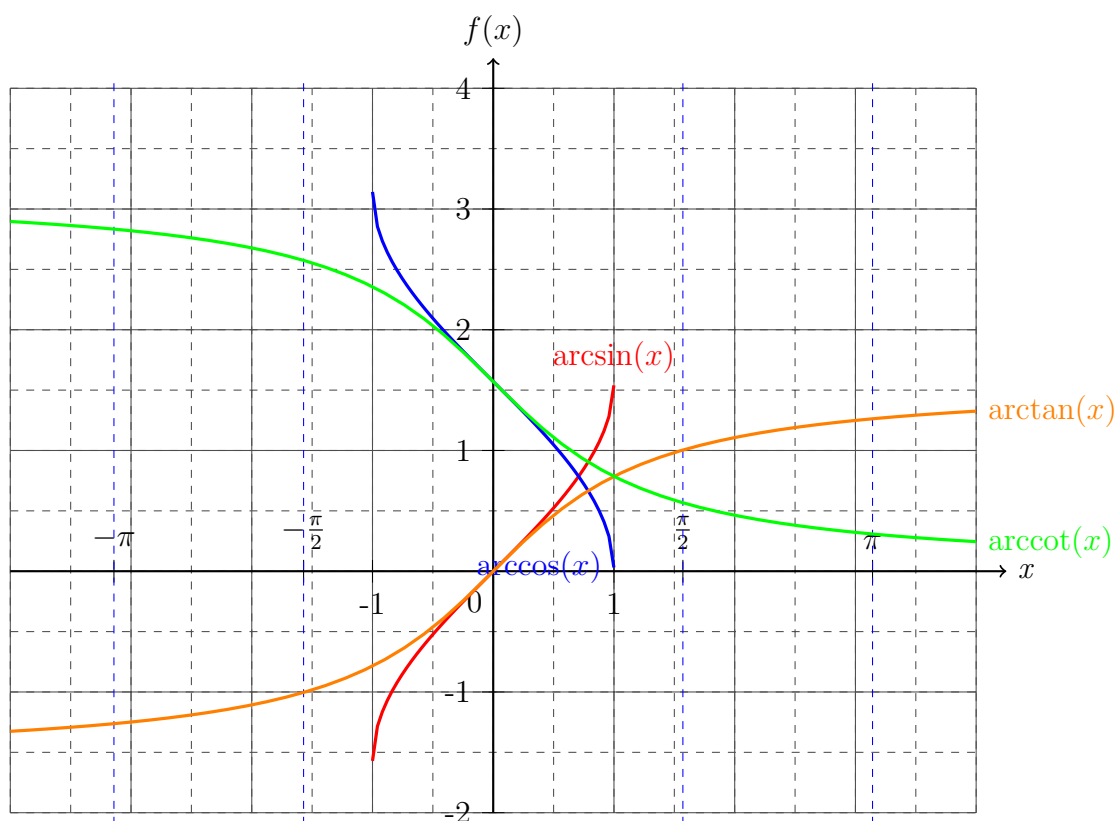
$$\begin{aligned}\sin(-x) &= -\sin x \quad \text{und} \\ \cos(-x) &= \cos x\end{aligned}\tag{5.46}$$

Der *Tangens* und der *Kotangens* sind *Brüche* aus *Sinus* und *Kosinus*, was wiederum bedeutet, dass es *periodische* Lücken in der *Definitionsmenge* muss. Dies zeigt sich auch in der Darstellung der *Graphen*.



Die *Graphen* zeigen, dass bei der *Tangens-* und der *Kotangens-Funktion* in *periodischen* Abständen zu *Polstellen* vorzufinden sind. Dabei ist die *Polstelle* des *Tangens* die *Nullstelle* des *Kotangens* und anders herum.

Die *Graphen* der *Umkehrfunktionen* sind im folgenden *Koordinatensystem* veranschaulicht.



5.12 Trigonometrische Identitäten

Wie schon im vorigen Abschnitt zu sehen war, gibt es Beziehungen zwischen *Sinus*, *Kosinus*, *Tangens* und *Kotangens*, den sogenannten *trigonometrischen Funktionen*. Diese Beziehungen können hergeleitet und bewiesen werden. Die wichtigste *trigonometrische Identität* ist der *Satz des Pythagoras* an einem *rechtwinkligen Dreieck* mit der *Hypotenusenlänge* von 1. Somit ergeben sich die *Katheten* zur Länge $\sin x$ und $\cos x$, sodass daraus die folgende *Identität* folgt:

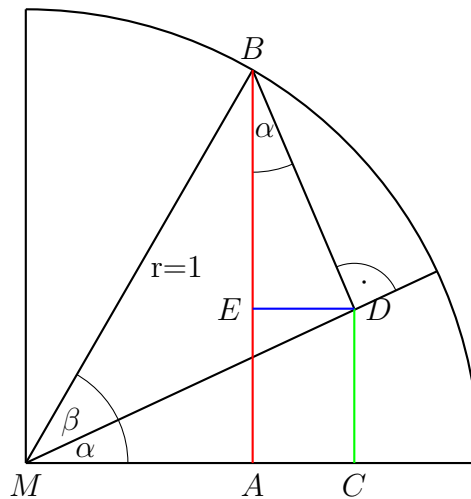
$$1 = \sin^2 x + \cos^2 x \quad , \quad (5.47)$$

wobei $\sin^2 x = \sin x \cdot \sin x$ ist.

Des Weiteren gelten noch die sogenannten *Additionstheoreme*:

$$\begin{aligned} \cos(x \pm y) &= \cos x \cos y \mp \sin x \sin y \quad , \\ \sin(x \pm y) &= \sin x \cos y \pm \cos x \sin y \quad , \end{aligned} \quad (5.48)$$

welche anhand des *Einheitskreises* bewiesen werden können.



Dabei ist die Strecke $\overline{AB} = \sin(\alpha + \beta)$ sowie die Strecke $\overline{BD} = \sin \beta$. Der Kosinus für den Winkel α wäre dann $\cos \alpha = \frac{\overline{BE}}{\overline{BD}}$, sodass dann $\overline{BE} = \cos \alpha \sin \beta$ ist. Da der Sinus von α durch das Verhältnis $\frac{\overline{CD}}{\overline{MD}}$ gegeben ist, ergibt sich mit $\cos \beta = \frac{\overline{MD}}{\overline{MB}}$ ein Ausdruck für die Strecke $\overline{BE} = \cos \alpha \sin \beta$. Die Strecke \overline{AB} besteht aus der Summe der Strecken \overline{BE} und \overline{EA} und somit wäre das Additionstheorem für den Sinus bewiesen. Für die Differenz der Winkel werden die Symmetrieeigenschaften der trigonometrischen Funktionen ausgenutzt. Auch für den Kosinus kann eine ähnliche Herleitung aus dieser Abbildung beschrieben werden.

Aus dieser Beziehung und den anderen vorgestellten Eigenschaften aus dem vorherigen Abschnitt können noch weitere *Identitäten*.

$$\begin{aligned}
 \sin 2x &= 2 \sin x \cos x \quad , \\
 \cos 2x &= \cos^2 x - \sin^2 x = 1 - 2 \sin^2 x = 2 \cos^2 x - 1 \quad , \\
 \cos^2 x &= \frac{1}{2} (1 + \cos 2x) \quad , \\
 \sin^2 x &= \frac{1}{2} (1 - \cos 2x) \quad .
 \end{aligned}
 \tag{5.49}$$

Die ersten beiden *Identitäten* können mit den *Additionstheoremen* schnell gezeigt werden, da $\sin 2x = \sin(x + x)$ und $\cos 2x = \cos(x + x)$. Mit Hilfe dieser Beiden *Identitäten* können schnell die beiden weiteren bewiesen werden.

All diese *Identität* können genutzt werden um weitere zu beweisen und sind oft in Aufgaben sowie in der Beschreibung der Natur nützlich.

5.12.1 Übungsaufgaben zu trigonometrischen Funktionen.

Aufgabe 1: Zeichne folgende Funktionen in ein Koordinatensystem für $x \in [-7, 7]$ und schreibe die Definitions- und Wertemenge auf.

a) $f(x) = \sin\left(x + \frac{\pi}{6}\right)$

b) $g(x) = \cos\left(x - \frac{\pi}{6}\right)$

c) $h(x) = 1 + \sin(2x)$

d) $l(x) = x + \cos(x)$

e) $k(x) = 1 + \sin(2x)$

f) $m(x) = x + \cos(x)$

g) $n(x) = \tan(2x)$

h) $o(x) = x \sin(x)$

Aufgabe 2: Beweise folgende Identitäten. Verwende dabei nur die schon bewiesenen Identitäten (Die Additionstheoreme, den trigonometrischen Satz des Pythagoras und die vorherigen Unteraufgaben. Beispiel: Bei Aufgabe b ist die Identität aus Aufgabe a erlaubt).

a) $\sin(2x) = 2 \sin(x) \cos(x)$

b) $\cos(2x) = \cos^2(x) - \sin^2(x) = 1 - 2 \sin^2(x) = 2 \cos^2(x) - 1$

c) $\cos^2(x) = \frac{1}{2} (1 + \cos(2x))$

d) $\sin^2(x) = \frac{1}{2} (1 - \cos(2x))$

Aufgabe 3: Bestimme alle Nullstellen.

a) $f(x) = \sin(x)$

b) $f(x) = \cos(x)$

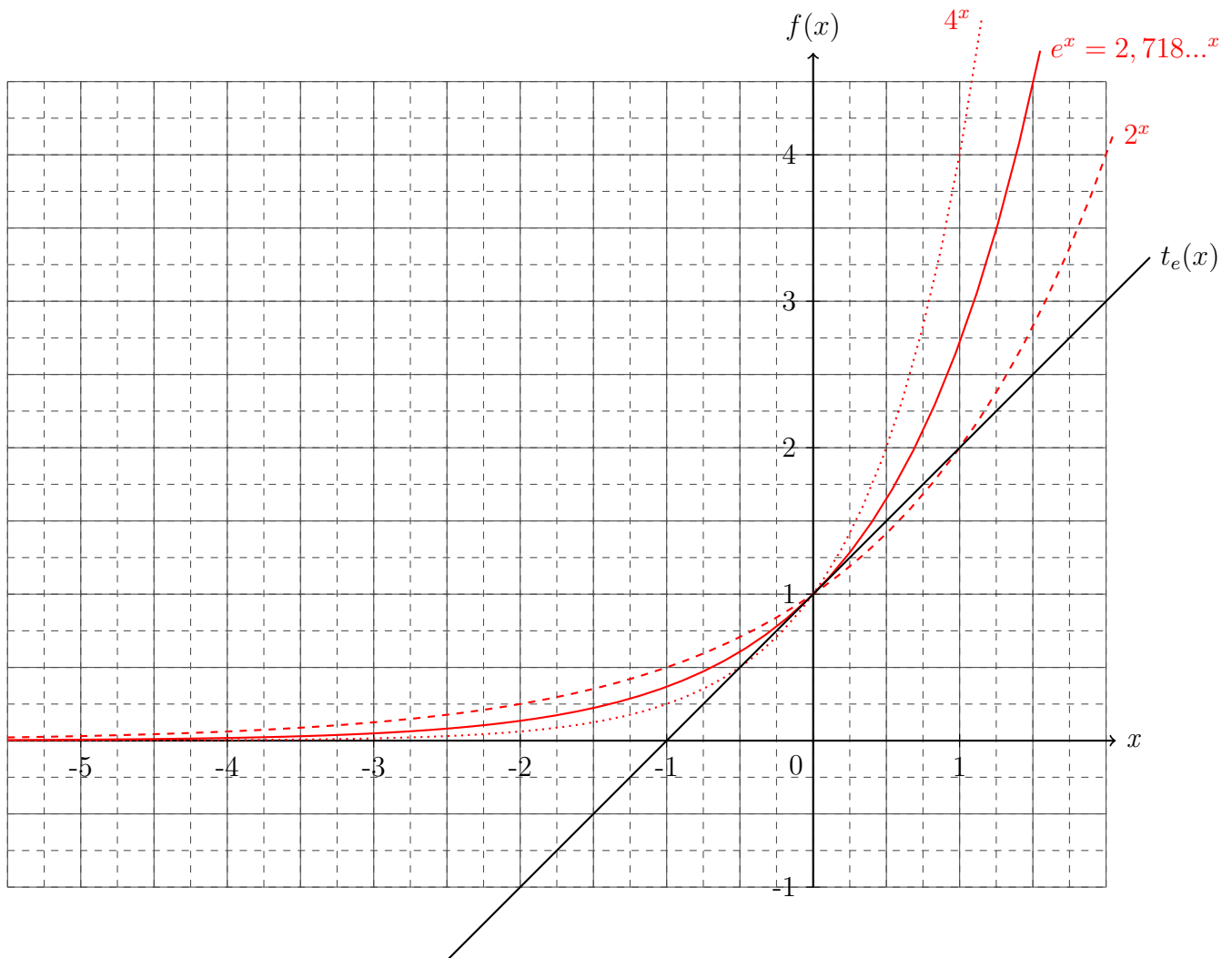
c) $f(x) = \tan(x)$

d) $f(x) = \cot(x)$

Die Lösungen zu diesem Abschnitt finden sich im Anhang im Abschnitt (13.6.34) Lösungen zu trigonometrischen Funktionen.

5.13 Exponentialfunktion

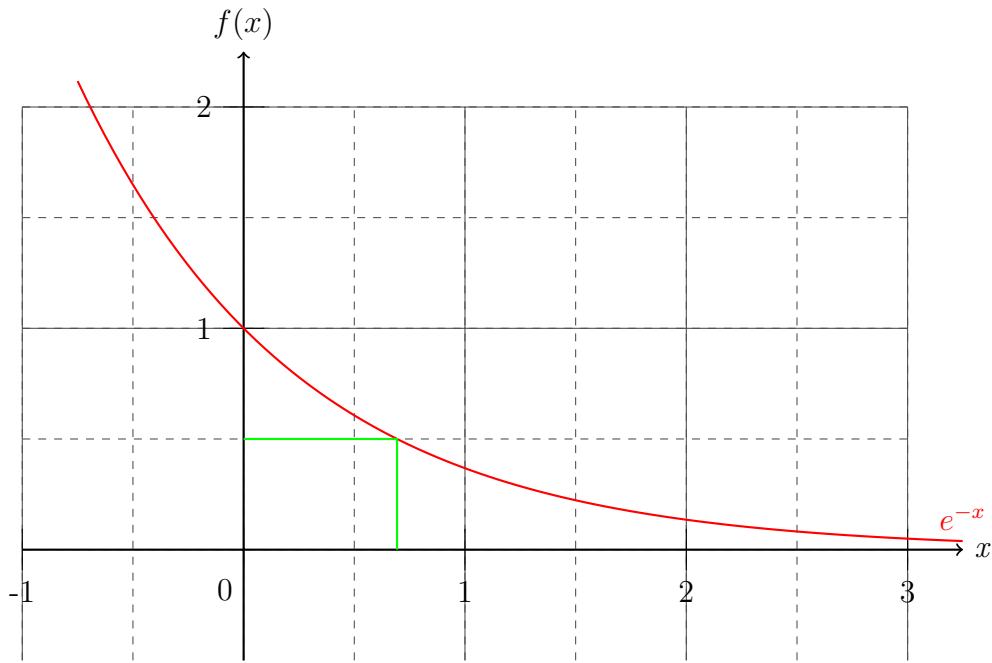
Zu guter Letzt wird noch die *Exponentialfunktionen* thematisiert. Dabei steht eine Zahl als *Basis* und im *Exponenten* die *Variable*. Dabei wurde schon im Abschnitt der *Logarithmen* die Zahl e eingeführt. Ihre besondere Rolle in der Mathematik hat sich im Laufe der Kapitel dabei schon wie bei den *Reihen* herauskristallisiert. Allerdings kann die große Bedeutung dieser Zahl in der *Basis* erst vollständig verstanden werden, wenn das Kapitel „Differentiation und Integration“ behandelt wurde. Für diesen Abschnitt ist die Wirkungsweise der *Exponentialfunktionen* von Bedeutung. Dazu finden sich im folgenden *Koordinatensystem* einige *Exponentialfunktionen* mit unterschiedlicher *Basis* wieder.



Dabei kann den *Graphen* entnommen werden, dass sich alle *exponentiellen Funktionen* für hohe negative Zahlen *asymptotisch* gegen Null bewegen, während die *Funktionswerte* für hohe positive Zahlen gegen Unendlich laufen. Diese Eigenschaft gilt es in sehr vielen Fällen, besonders in der Physik, auszunutzen, da die *Division* durch eine *Exponentialfunktion* bedenkenlos durchgeführt werden kann. Im *Koordinatensystem* befindet sich auch die *Funktion* $t_e(x)$, welche eine *Gerade* mit *Steigungsparameter* $m = 1$ ist. Diese spezielle *Gerade* ist eine *Tangente* der *Exponentialfunktion* mit der *Basis* e . Diese besondere Eigenschaft wird sich im späteren Verlaufes des Buches offenbaren.

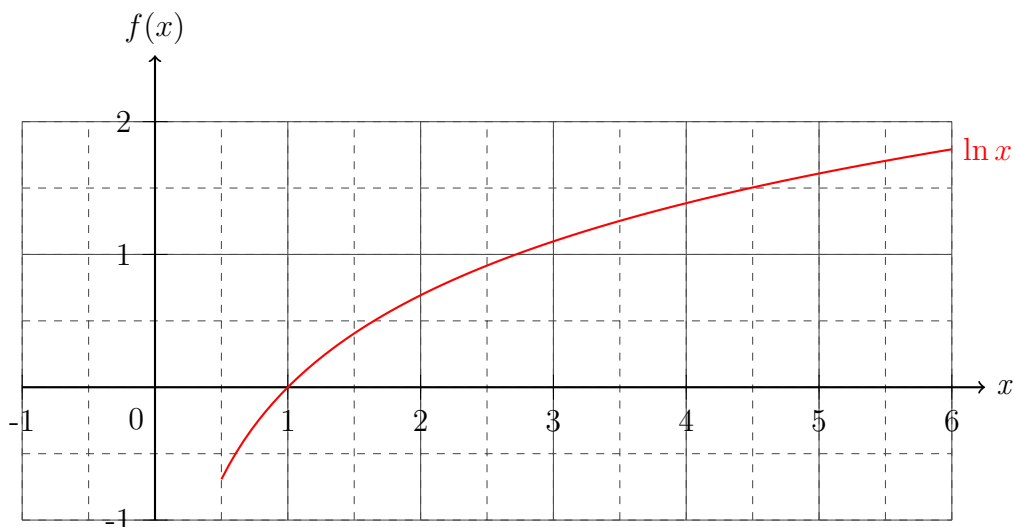
Eine weitere Eigenschaft die aus dem *Koordinatensystem* abzulesen ist, ist die Tatsache, dass sich der *Funktionswert* bei einem Schritt auf der *Koordinate* mit dem Wert der *Basis* der *Exponentialfunktion* multipliziert. So entwickeln sich die *Funktionswerte* für $f(x) = 2^x$ mit dem wachsenden *Exponenten*: $f(0) = 1$, $f(1) = 2$, $f(2) = 4$, $f(3) = 8$, $f(4) = 16$, und so weiter.

Wenn die Rede vom *exponentiellen Zerfall* ist, dann wird die *Funktion* $e^{-\lambda x}$ betrachtet. Dabei gibt der *Parameter* λ an wie stark der Zerfall von statten geht.

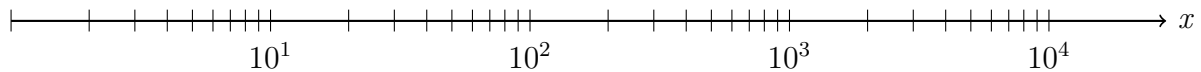


Im *Koordinatensystem* wurde für den *Parameter* $\lambda = 1$ gewählt. Ebenso wurde ins *Koordinatensystem* die Stelle eingetragen, an der sich der *Funktionswert* um die Hälfte reduziert hat. Dieser Wert wird in den Naturwissenschaften oftmals mit *Halbwertszeit* betitelt.

Die *Umkehrfunktion* der *Exponentialfunktion* ist der *Logarithmus*, dessen *Graph* wie folgt aussieht:



Um die Auswirkungen der *Exponentialfunktion* auf die anderen *Funktionen* zu verdeutlichen, wird zu Letzt noch das *logarithmische Koordinatensystem* vorgestellt. Dabei wird auf eine oder beide *Achsen* des *Koordinatensystems* eine *logarithmische Skala* aufgetragen,

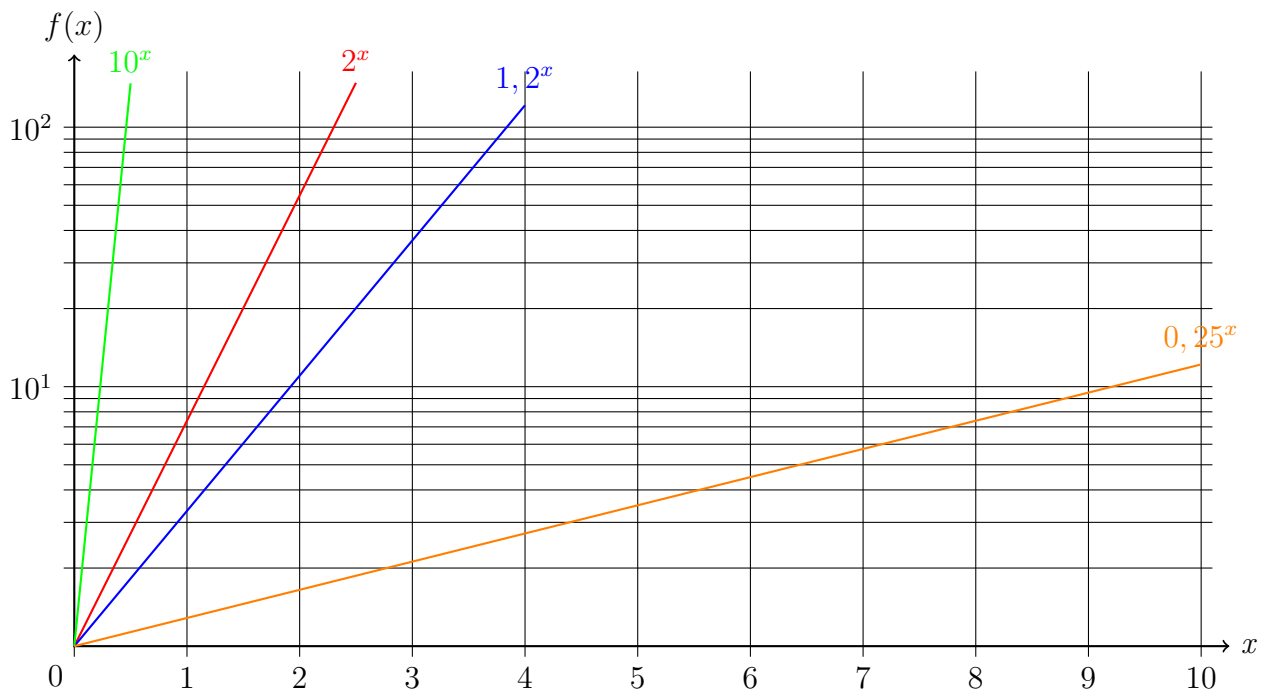


welche ihre *Werte* über den *Logarithmus* bekommen:

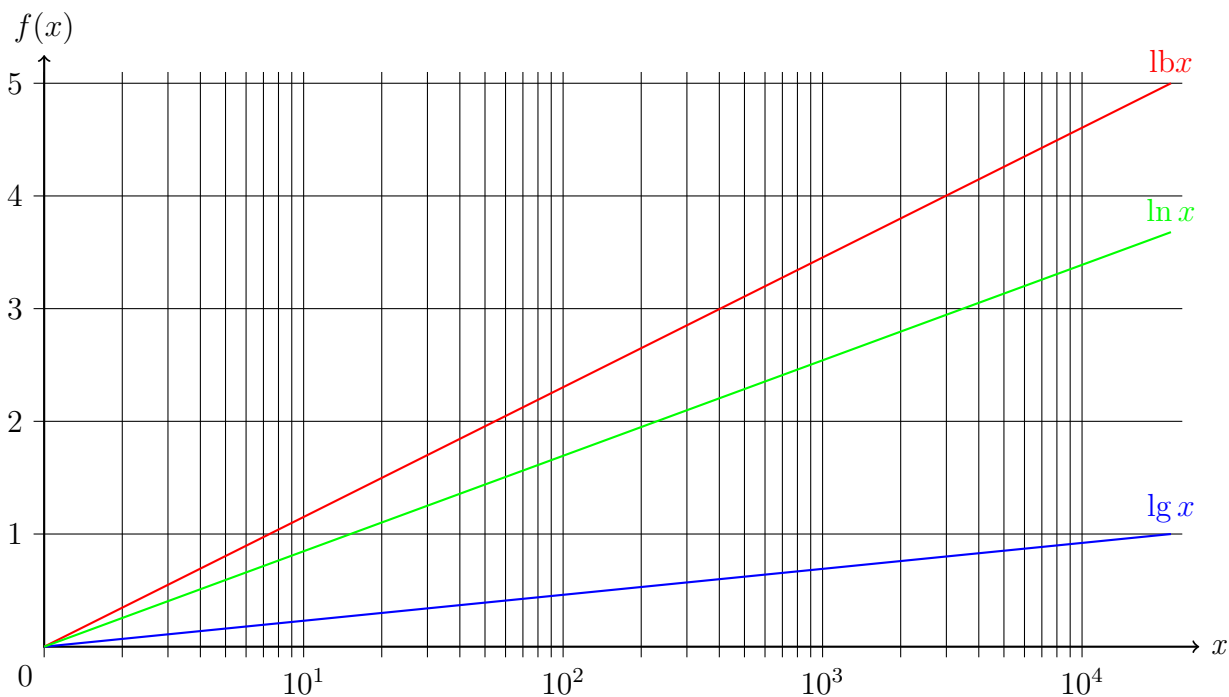
x	1	2	3	4	5	6	7	8	9	10	20
$\ln x$	0	0,69	1,10	1,39	1,61	1,79	1,94	2,08	2,20	2,30	2,30+0,69

Folglich gibt es insgesamt drei Arten von *logarithmischem Koordinatensystemen*:

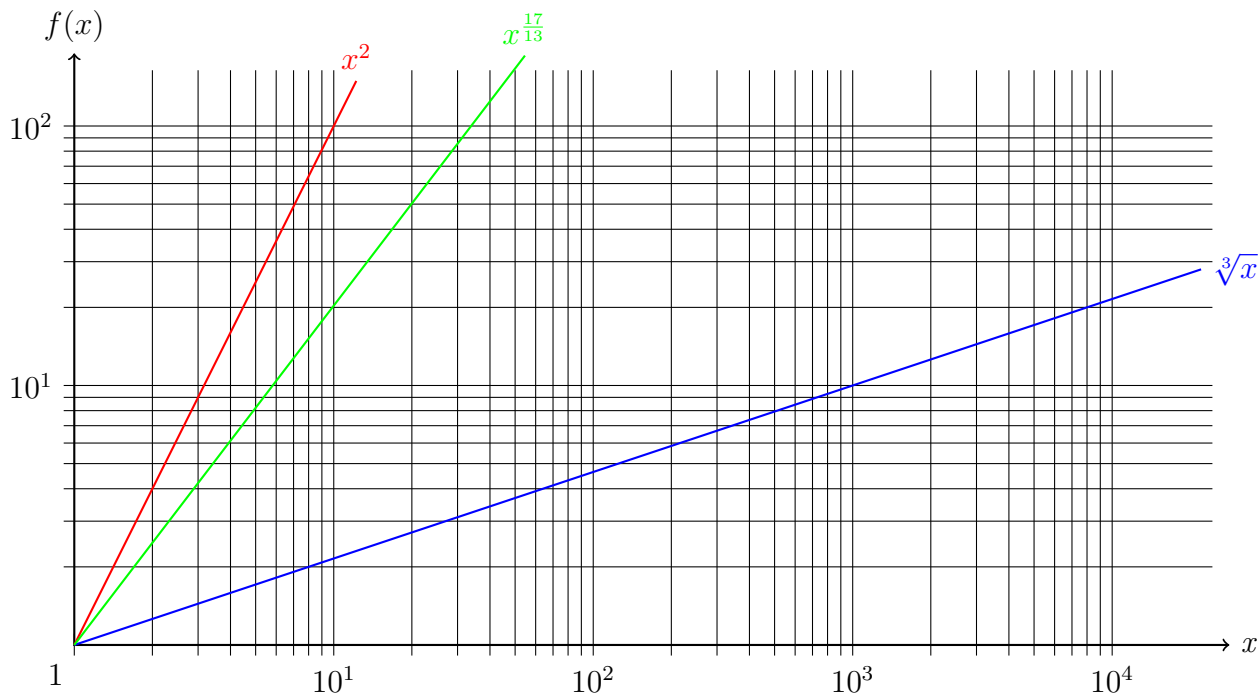
Auf der *Koordinate* befindet sich eine *logarithmische Skala* und auf der *Ordinate* eine *normale Skala*. Wenn auf diesem Papier *Werte* einer *exponentielle Funktion* eingetragen werden, ergeben sie sich zu einer *Geraden*. Dabei gibt die *Steigung* der *Geraden* den *Wert* der *Basis* der *exponentiellen Funktion* an.



Auf der *Koordinate* befindet sich eine *normale Skala* und auf der *Ordinate* eine *logarithmische Skala*. Wenn in dieses *Koordinatensystem* *Werte* einer *logarithmische Funktion* eingetragen werden, ergeben sie sich zu einer *Geraden*. Dabei gibt die *Steigung* der *Geraden* den *Kehrwert* der *Basis* der *logarithmischen Funktion* an.



Auf der *Koordinate* und der *Ordinate* befindet sich eine *logarithmische Skala*. Wenn in dieses *Koordinatensystem* Werte einer *Potenzfunktion* eingetragen werden, ergeben sie sich zu einer *Geraden*. Dabei gibt die *Steigung* der *Geraden* den *Wert* der *Potenz* der *Funktion* an.



Für ein tieferes Verständnis von *Funktionen* sollte das Kapitel „Differentiation und Integration“ sowie „Komplexe Zahlen“ bearbeitet werden, da viele Zusammenhänge zwischen den Arten der *Funktionen* und ihren Eigenschaften dadurch besonders deutlich erkennbar werden.

5.13.1 Übungsaufgaben zu Exponentialfunktionen.

Aufgabe 1: Zeichne die Funktionen für die Funktionswerte $f(x) \in [-5, 5]$ und berechne die Nullstelle.

a) $f(x) = 2^x - 1$

b) $g(x) = 3^{-x} - 2$

c) $h(x) = 1,5^x - 0,5$

d) $k(x) = 0,4^x - 4$

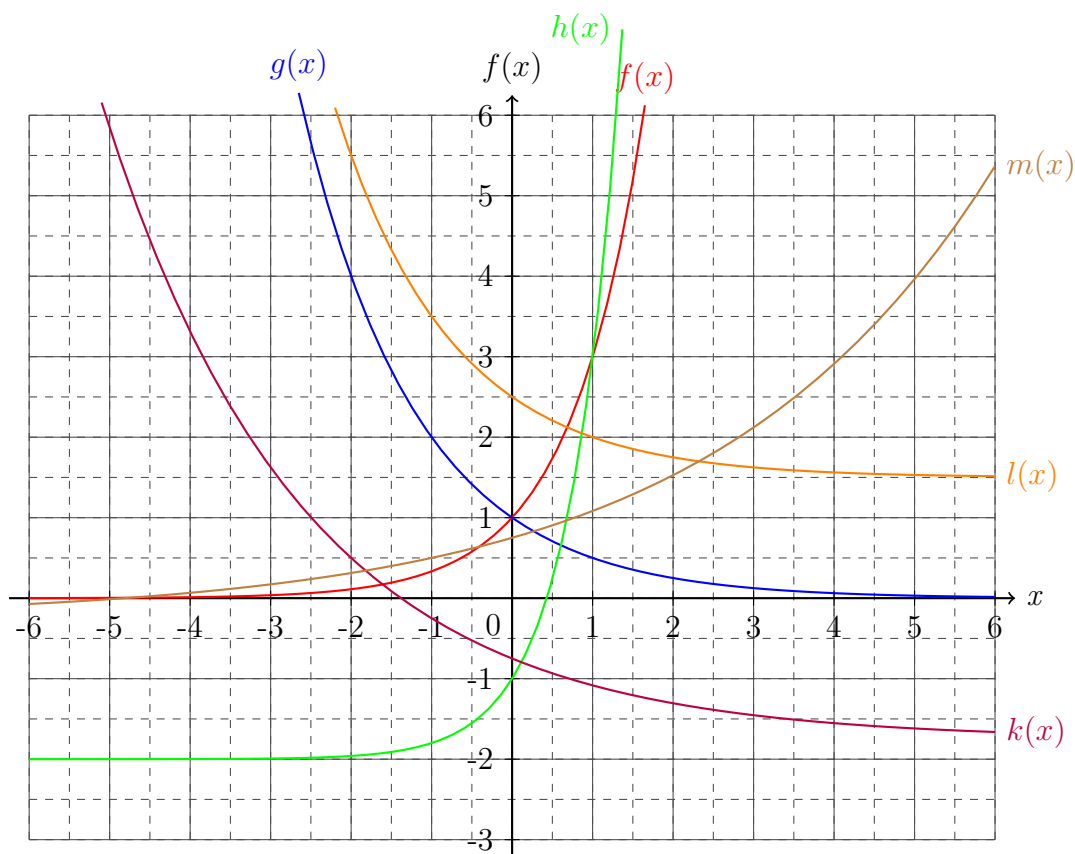
e) $l(x) = 0,2^x - 2,25$

f) $m(x) = 0,75^x - 3$

g) $n(x) = 2^{\frac{1}{2}x} - 3,6$

h) $o(x) = 3^{\frac{1}{6}x^2} - 5$

Aufgabe 2: Bestimme die Funktionsgleichung der exponentiellen Funktionsgraphen.



Die Lösungen zu diesem Abschnitt finden sich im Anhang im Abschnitt (13.6.35) Lösungen zu Exponentialfunktionen.

5.14 Gemischte Funktionenaufgaben

Aufgabe 1: Zeichne folgende Funktionen in die vier Arten von Koordinatensystemen

$$f(x) = x$$

$$g(x) = x^2$$

$$h(x) = x^3$$

$$k(x) = \frac{1}{x}$$

$$l(x) = \frac{1}{x^2}$$

$$m(x) = \sin(x)$$

$$n(x) = \sqrt{x}$$

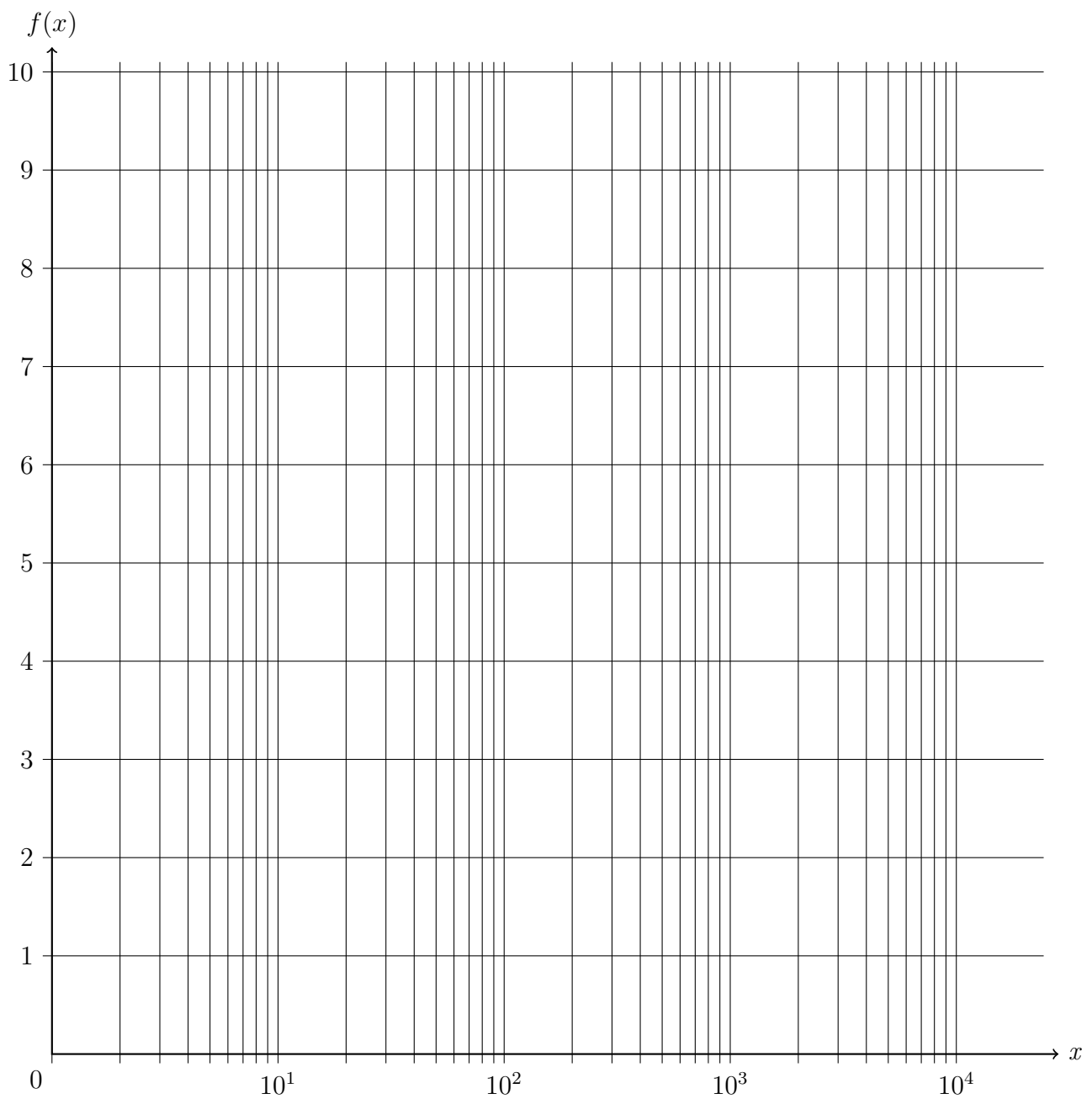
$$o(x) = \sqrt[4]{x}$$

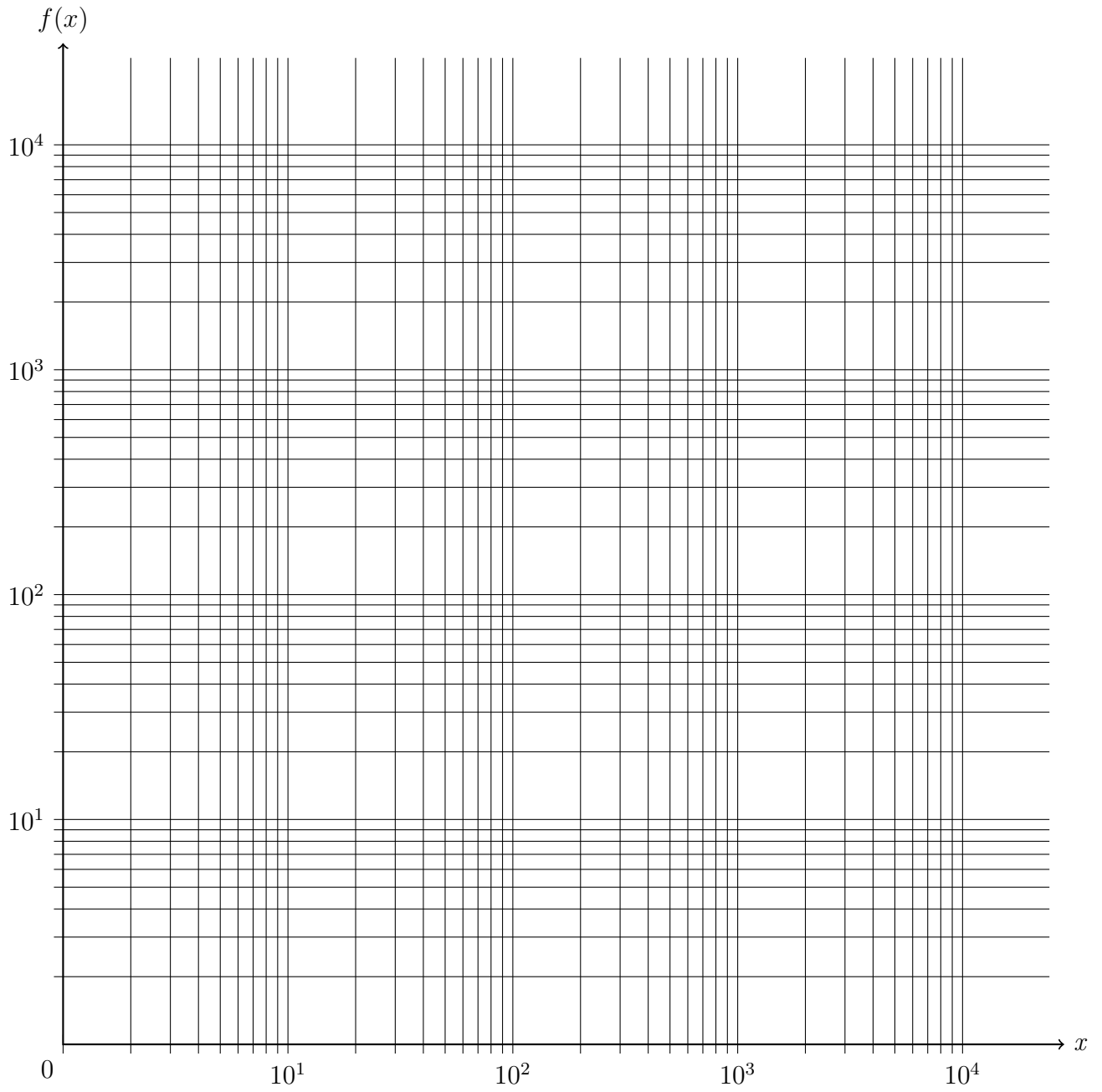
$$p(x) = e^x$$

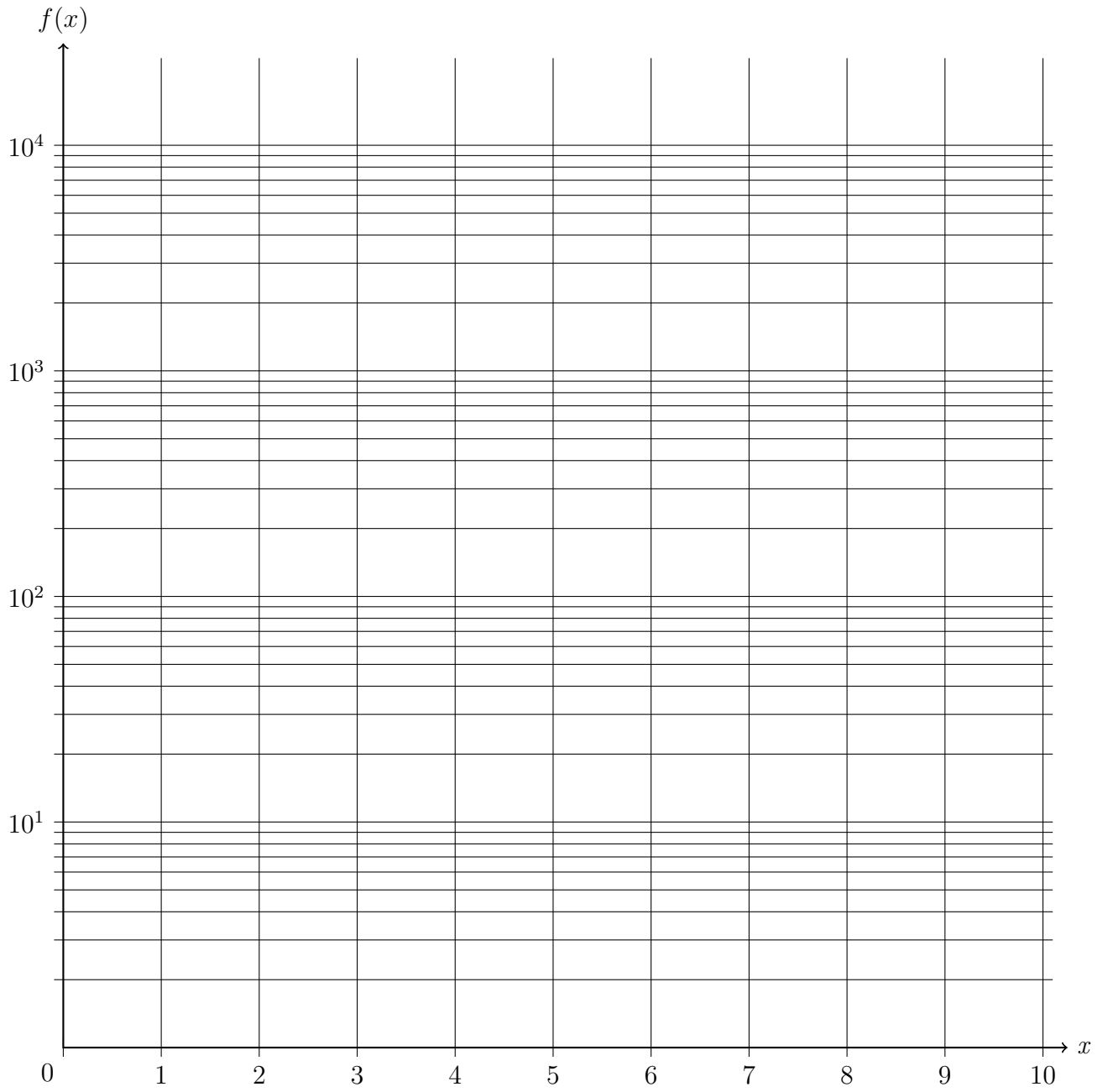
$$q(x) = 2^x$$

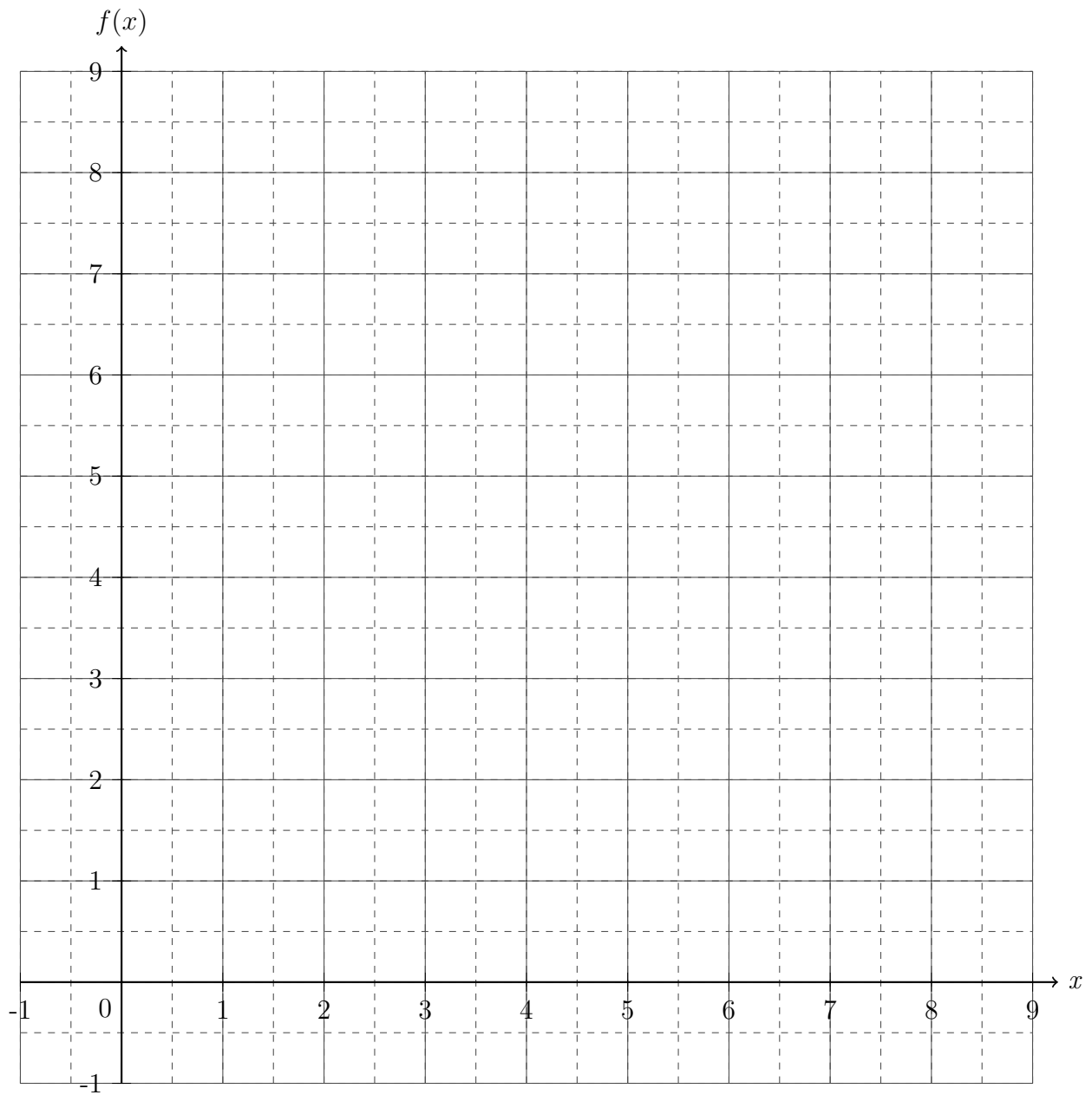
$$r(x) = \text{lb}(x)$$

$$s(x) = \ln(x)$$







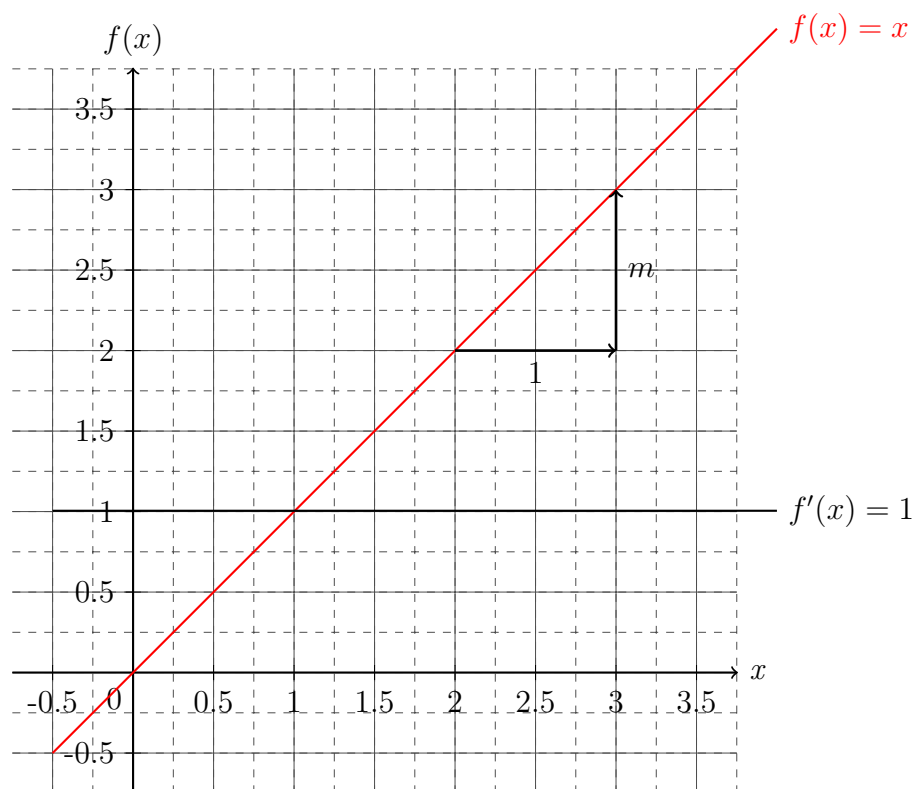


Die Lösungen zu diesem Abschnitt finden sich im Anhang im Abschnitt (??) Lösungen zu Exponentialfunktionen.

6 Differentiation und Integration

Die *Differentiation* und die *Integration* sind wichtige Kernelemente der *Analysis*. Um diese beiden *Operationen* effektiv einzuführen, sollte die *Geradengleichung* $f(x) = mx + b$ mit der *Steigung* der *Geraden* m und dem *Ordinatenschnittpunkt* b nochmals ins Gedächtnis gerufen werden.

Seien die *Geraden* $f(x) = x$ und $f'(x) = 1$ gegeben, dann kann durch die Veranschaulichung im *Koordinatensystem* gesehen werden, dass die *Steigung* der *Gerade* $f(x)$ gleich dem Wert der *Geraden* $f'(x)$ also gleich eins ist. Die *Steigung* der *Gerade* $f'(x)$ ist Null, da es sich um eine *Konstante* handelt wie im *Koordinatensystem* zu erkennen ist. Dabei ist der Begriff „*Steigung*“ so *definiert*: „Wenn man einen Einheitschritt nach rechts von der *Geraden* aus geht, ist die *Steigung* der *Geraden* gleich der Einheitschritte *orthogonal* zum gegangenen Schritt - folglich nach oben für positive *Steigung* und nach unten für negative *Steigung*.“



6.1 Operatoralgebra

Mathematisch lässt sich ein Ausdruck definieren, der sprachlich fordert: „*Bestimme die Steigung von der Funktion!*“ Diese Forderung wird durch den sogenannten *Differentialoperator* $\frac{\partial}{\partial x}$ erfüllt, der „*d nach d x*“ gelesen wird. Ein solcher *Operator* wirkt nur nach rechts, das heißt alle *Größen*

die links vom *Operator* unangetastet stehen bleiben. Somit soll folgende Rechenvorschrift für den *Operator* gelten, um den veranschaulichten Forderungen im vorherigen *Koordinatensystem* gerecht zu werden:

$$\begin{aligned}\frac{d}{dx}x &= 1 && \text{siehe Funktionenbeispiel} \\ \frac{d}{dx}1 &= 0 && \text{im Koordinatensystem}\end{aligned}\tag{6.1}$$

Somit würde das *Kommutativgesetz*, welches für normale Zahlen, *Parameter* und *Variablen* gegeben ist durch

$$\begin{aligned}3 \cdot 5 - 5 \cdot 3 &= 0 \\ a \cdot b - b \cdot a &= 0 = [a, b] \quad ,\end{aligned}\tag{6.2}$$

wobei $[a, b] = a \cdot b - b \cdot a = 0$ der sogenannte *Kommutator* ist, sich wie folgt verändern:

$$\begin{aligned}\left[\frac{d}{dx}, x\right] &= \frac{d}{dx}x - x\frac{d}{dx} \\ &= \frac{d}{dx}x - x\frac{d}{dx}1 \\ &= 1 - 0 \\ &= 1 \quad .\end{aligned}\tag{6.3}$$

Durch *Äquivalenzumformung* der Gleichung (6.3) ergibt sich:

$$\begin{aligned}\frac{d}{dx}x - x\frac{d}{dx} &= 1 && \left| +x\frac{d}{dx} \right. \\ \frac{d}{dx}x &= 1 + x\frac{d}{dx}\end{aligned}\tag{6.4}$$

Dieser Ausdruck ist von zentraler Bedeutung, der es durch ein triviales *Einsetzungsverfahren* ermöglicht den *Operator* an einer *Variable* vorbei zu ziehen. Sei zum Beispiel die *Steigung* der *Funktion* $g(x) = x^2$ gesucht, dann lässt sich dies mit Hilfe der Gleichung (6.4) bestimmen, indem *Terme* der Form $\frac{d}{dx}x$ durch den Ausdruck $(1 + x\frac{d}{dx})$ ersetzt werden.

$$\begin{aligned}
\frac{d}{dx}x^2 &= \frac{d}{dx}x \cdot x \\
&= \left(1 + x \frac{d}{dx}\right)x \\
&= x + x \frac{d}{dx}x \\
&= x + x \left(1 + x \frac{d}{dx}\right) \\
&= x + x + x^2 \underbrace{\frac{d}{dx}}_{=0} \\
&= 2x
\end{aligned} \tag{6.5}$$

Ähnlich verhält sich das Prozedere mit der Funktion $h(x) = x^3$, wobei lediglich die Anzahl der Schritte zunimmt.

$$\begin{aligned}
\frac{d}{dx}x^3 &= \frac{d}{dx}x \cdot x \cdot x \\
&= \left(1 + x \frac{d}{dx}\right)x \cdot x \\
&= x \cdot x + x \frac{d}{dx}x \cdot x \\
&= x \cdot x + x \left(1 + x \frac{d}{dx}\right) \cdot x \\
&= x \cdot x + x \cdot x + x^2 \frac{d}{dx} \cdot x \\
&= x \cdot x + x \cdot x + x^2 \left(1 + x \frac{d}{dx}\right) \\
&= x^2 + x^2 + x^2 + x^3 \underbrace{\frac{d}{dx}}_{=0} \\
&= 3x^2
\end{aligned} \tag{6.6}$$

Dies kann für x^4 und höhere *Potenzen* von x auch bestimmt werden, wobei sich die Anzahl der Schritte nur weiter erhöhen würde. Bei der Gegenüberstellung der Ergebnisse ist eine Regel für die *Ableitung* von *Polynomen* erkennbar, sodass die Prozedur des wiederholten Einsetzens überflüssig wird.

$$\begin{aligned}
\frac{d}{dx}1 &= 0 \\
\frac{d}{dx}x &= 1 + x \frac{d}{dx} = 1 \\
\frac{d}{dx}x^2 &= 2x + x^2 \frac{d}{dx} = 2x \\
\frac{d}{dx}x^3 &= 3x^2 + x^3 \frac{d}{dx} = 3x^2 \\
\frac{d}{dx}x^4 &= 4x^3 + x^4 \frac{d}{dx} = 4x^3 \\
\frac{d}{dx}x^5 &= 5x^4 + x^5 \frac{d}{dx} = 5x^4
\end{aligned} \tag{6.7}$$

Gleichung (6.7) zeigt deutlich, dass sich die Potenz bei der Anwendung vom *Differentialoperator* um eins verringert und als *Vorfaktor* wieder zu finden ist. Somit ergibt sich folgende allgemeine Regel für die Anwendung des *Differentialoperators* - es wird auch vom „Ableiten“ gesprochen - auf ein *Polynom*:

$$\begin{aligned}
\frac{d}{dx}x^n &= nx^{n-1} + x^n \frac{d}{dx} \\
\Rightarrow \frac{d}{dx}x^n &= nx^{n-1}
\end{aligned} \tag{6.8}$$

Als verkürzende Schreibweise soll von nun an gelten:

$$\frac{d}{dx}f(x) = f'(x) \quad . \tag{6.9}$$

Dabei bedeutet der Strich bei $f'(x)$, dass es sich um die *Ableitung* der *Funktion* $f(x)$ handelt und dass der wirkende *Differentialoperator* nach x (also $\frac{d}{dx}$) gewirkt hat. So gilt zum Beispiel ebenso:

$$\begin{aligned}
\frac{d}{dy}f(y) &= f'(y) && \text{Funktion von } y \text{ deswegen Differentialoperator nach } y \\
\frac{d}{dz}f(z) &= f'(z) && \text{Funktion von } z \text{ deswegen Differentialoperator nach } z \\
\frac{d}{dt}f(t) &= \dot{x}(t) && \text{Funktion von } t \text{ deswegen Differentialoperator nach } t,
\end{aligned} \tag{6.10}$$

wobei letztes ein Spezialfall der Physik ist, da nach der Zeit t *abgeleitet* wurde. Generell werden in der Physik immer die *Ableitungen* nach der Zeit mit einem *Punkt* über der *Funktion* beschrieben.

6.1.1 Übungsaufgaben zum Differentiationsoperator

Aufgabe 1: Führe den Operator mit Hilfe des Kommutators an allen Termen vorbei.

- | | |
|----------------------------|-------------------------------|
| a) $\frac{d}{dx}x^4$ | b) $\frac{d}{dx}3x^2$ |
| c) $\frac{d}{dx}(x+1)$ | d) $\frac{d}{dx}(x^3+x^2)$ |
| e) $\frac{d}{dx}5(x^2+x)$ | f) $\frac{d}{dx}x^2+x^7$ |
| g) $\frac{d}{dx}5x^3+8x^9$ | h) $\frac{d}{dx}(x^3+77)+x^9$ |

Aufgabe 2: Leite die Funktionen ab.

- | | |
|------------------------------|--|
| a) $f(x) = x^6$ | b) $f(x) = x^{55}$ |
| c) $f(x) = x^{\frac{1}{2}}$ | d) $f(x) = x^{-1}$ |
| e) $f(x) = x+1$ | f) $f(x) = x^2+x^6+7$ |
| g) $f(x) = 4x^5$ | h) $f(x) = \pi x^3$ |
| i) $f(x) = ex^4 + \sqrt{2}$ | j) $f(x) = \frac{4}{x^2}$ |
| k) $f(x) = \sqrt{4x}$ | l) $f(x) = \frac{1}{5}x^{\frac{5}{2}} + 3$ |
| m) $f(x) = -x^{\frac{2}{3}}$ | n) $f(x) = -x^{-8}$ |
| o) $f(x) = x^{-\frac{5}{6}}$ | p) $f(x) = e\pi$ |

Aufgabe 3: Führe den Operator mit Hilfe des Kommutators an allen Termen vorbei. Halte immer alle angegebenen Ordnungen ausgeschrieben. Führe die Reihendarstellung anschließend durch Ausklammern wieder zur Funktionsdarstellung zurück.

$$\begin{aligned}
 a) \quad \frac{d}{dx} e^x &= \frac{d}{dx} \sum_{n=0}^{\infty} \frac{1}{n!} x^n = \frac{d}{dx} \left[1 + x + \frac{1}{2!} x^2 + \frac{1}{3!} x^3 + \frac{1}{4!} x^4 + \frac{1}{5!} x^5 + \mathcal{O}(x^6) \right] \\
 b) \quad \frac{d}{dx} e^{ax} &= \frac{d}{dx} \sum_{n=0}^{\infty} \frac{1}{n!} (ax)^n = \frac{d}{dx} \left[1 + ax + \frac{1}{2!} a^2 x^2 + \frac{1}{3!} a^3 x^3 + \frac{1}{4!} a^4 x^4 + \frac{1}{5!} a^5 x^5 + \mathcal{O}(x^6) \right] \\
 c) \quad \frac{d}{dx} \sin x &= \frac{d}{dx} \sum_{n=0}^{\infty} \frac{(-1)^n}{(2n+1)!} x^{2n+1} = \frac{d}{dx} \left[x - \frac{1}{3!} x^3 + \frac{1}{5!} x^5 - \frac{1}{7!} x^7 + \mathcal{O}(x^9) \right] \\
 c) \quad \frac{d}{dx} \cos x &= \frac{d}{dx} \sum_{n=0}^{\infty} \frac{(-1)^n}{(2n)!} x^{2n} = \frac{d}{dx} \left[1 - \frac{1}{2!} x^2 + \frac{1}{4!} x^4 - \frac{1}{6!} x^6 + \mathcal{O}(x^8) \right]
 \end{aligned}$$

Aufgabe 4: Leite mit den Ergebnissen aus Aufgabe 3 folgende Funktionen ab.

$$\begin{array}{ll}
 a) \quad f(x) = e^x & b) \quad f(x) = e^{-x} \\
 c) \quad f(x) = e^{4x} & d) \quad f(x) = \frac{1}{2} e^{-3x} \\
 e) \quad f(x) = \sin x & f) \quad f(x) = -\sin x \\
 g) \quad f(x) = \cos x & h) \quad f(x) = -\cos x \\
 i) \quad f(x) = \sin 4x & j) \quad f(x) = -\sin 3x \\
 k) \quad f(x) = \cos 5x & l) \quad f(x) = -\cos 2x
 \end{array}$$

Die Lösungen zu diesem Abschnitt finden sich im Anhang im Abschnitt (13.6.36) Lösungen zur Differentiationsoperator.

6.2 Ableitungsregeln

Die erste *Ableitungsregel* wurde schon in Gleichung (6.8) beschrieben und gilt für jede Art von *Polynomen*.

$$\frac{d}{dx}x^n = nx^{n-1} + x^n \frac{d}{dx} \quad (6.11)$$

Diese *Ableitungsregel* ist besonders nützlich im Zusammenhang mit den *Potenzgesetzen*, denn so lassen sich bestimmte *Funktionen* über einer *Variable* als *Basis* mit einer Zahl im *Exponenten darstellen*. Mit Hilfe dieser *Ableitungsregel* besteht die Möglichkeit wesentlich komplexere, also zusammengesetzte, *Funktionen abzuleiten*. Dazu sei $f(x) = g(x) + h(x)$, dann gilt unter der Verwendung der Regeln für die Klammersetzung:

$$\frac{d}{dx}(g(x) + h(x)) = \frac{d}{dx}g(x) + \frac{d}{dx}h(x) \quad (6.12)$$

Sei nun $f(x) = g(x)h(x)$ und zum Beispiel mit $g(x) = x^n$ und $h(x) = x^m$, dann gilt unter Berücksichtigung der *Potenzgesetze* und Gleichung (6.11) und der verkürzten Schreibweise aus Gleichung (6.9):

$$\begin{aligned} \frac{d}{dx}f(x) &= \frac{d}{dx}g(x)h(x) = \frac{d}{dx}x^n x^m = \frac{d}{dx}x^{n+m} = (n+m)x^{n+m-1} \\ &= \frac{d}{dx}x^n x^m = \left(nx^{n-1} + x^n \frac{d}{dx} \right) x^m \\ &= nx^{n-1}x^m + x^n \frac{d}{dx}x^m \\ &= nx^{n-1}x^m + x^n \left(mx^{m-1} + x^m \frac{d}{dx} \right) \\ &= nx^{n-1}x^m + x^n mx^{m-1} \\ &= g'(x)h(x) + g(x)h'(x) \\ &= nx^{n-1+m} + mx^{n+m-1} = (n+m)x^{n+m-1} \end{aligned} \quad (6.13)$$

Wie Gleichung (6.13) zeigt, kann diese Aufgabe schnell über die *Potenzgesetze* in einer Zeile gelöst werden. Dieses Ergebnis soll als Vergleich dienen, um die *Ableitungsregel* für *Polynome* auf die zusammengesetzte *Funktion* $f(x)$ anzuwenden. Dabei wird erneut wie schon beim Herleiten der *Ableitungsregel* für *Polynome* das *Einsetzungsverfahren* verwendet. In der vorletzten Zeile dieser Rechnung ist zu erkennen, dass

$$f'(x) = \frac{d}{dx}f(x) = \frac{d}{dx}g(x)h(x) = g'(x)h(x) + g(x)h'(x) \quad , \quad (6.14)$$

gilt. Diese *Ableitungsregel* aus Gleichung (6.14) wird *Leibnizregel* oder *Produktregel* genannt. Ihr Nutzen wird sich offenbaren wenn nicht nur *Polynome* zur Diskussion stehen.

Mit der *Leibnizregel* und der *Substitution*, soll nun noch eine weitere *Ableitungsregel* bestimmt werden. Dabei soll gelten, dass die *Funktion* $f(x)$ eine verkettete *Funktion* sein soll: $f(x) =$

$g(x) \circ h(x) = g(h(x))$ mit dem Beispiel, dass $g(x) = x^2$ und $h(x) = 2x + 1$ sei - mit den Ableitungen $g'(x) = 2x$ und $h'(x) = 2$. Wie die Verkettung fordert, wird $h(x)$ in die Funktion $g(x)$ eingesetzt. Daraus ergibt sich folgende Ableitung mit der Überprüfung des Ergebnisses durch die Ableitungsregel der Polynome sowie den Binomischen Formeln:

$$\begin{aligned}
 \frac{d}{dx} f(x) &= \frac{d}{dx} g(h(x)) = \frac{d}{dx} (2x + 1)^2 = \frac{d}{dx} 4x^2 + 4x + 1 = 8x + 4 \\
 &= \frac{d}{dx} (2x + 1)(2x + 1) \quad \text{Leibnizregel} \\
 &= (2x + 1) \frac{d}{dx} (2x + 1) + (2x + 1) \frac{d}{dx} (2x + 1) \\
 &= (2x + 1) 2 + (2x + 1) 2 \\
 &= 2 \cdot 2 (2x + 1) \quad \text{Vergleich mit } g'(x), h'(x) \text{ und } h(x) \\
 &= h'(x) \cdot g'(h(x)) = 8x + 4
 \end{aligned} \tag{6.15}$$

Die letzte Zeile offenbart durch den Vergleich der Terme mit den Funktionen $g(x)$ und $h(x)$ sowie ihren Ableitungen $g'(x)$ und $h'(x)$ die allgemeine Regel der Ableitung von verketteten Funktionen.

$$f'(x) = \frac{d}{dx} f(x) = \frac{d}{dx} g(h(x)) = h'(x) \cdot g'(h(x)) \tag{6.16}$$

Diese Regel wird *Kettenregel* genannt und wird ihre Bedeutung erst offenbaren, wenn Funktionen angenommen werden, deren abgekürzte Schreibweise ihre Herkunft aus Polynomen nicht mehr offensichtlich zeigen.

Mittels der *Substitution* $y := h(x)$ würde das Polynom in der Klammer ersetzt werden. Allerdings muss auch der Ableitungsoperator $\frac{d}{dx}$ nach $\frac{d}{dy}$ umgewandelt werden. Dies geschieht wie folgt (Hier sollte erwähnt werden, dass es sich lediglich um eine Nebenrechnung handelt, um die Substitution zu durchführen zu können. Die gezeigten Schritte der Rechnung sehen intuitiv aus, sind allerdings nicht ohne weitere Prüfungen und tiefer liegende Mathematik durchführbar.):

$$\begin{aligned}
 \frac{d}{dx} y &= \frac{dy}{dx} = h'(x) && | \cdot dx \\
 dy &= dx \cdot h'(x) && | : h'(x) \\
 \Rightarrow dx &= \frac{dy}{h'(x)} && \text{eingesetzt in: } \frac{d}{dx} \\
 \Rightarrow \frac{d}{dx} &= h'(x) \frac{d}{dy}
 \end{aligned} \tag{6.17}$$

Der gefundene Ausdruck für $\frac{d}{dx}$ wird nun mit eingesetzt, wenn die Substitution durchgeführt wird.

$$\begin{aligned}
 \frac{d}{dx} f(x) &= \frac{d}{dx} g(h(x)) \quad \text{mit: } y := h(x) \text{ und: } \frac{d}{dx} = h'(x) \frac{d}{dy} \\
 &= h'(x) \frac{d}{dy} g(y) \\
 &= h'(x) g'(y) \quad \text{mit: } y = h(x) \text{ zurück eingesetzt} \\
 &= h'(x) g'(h(x))
 \end{aligned} \tag{6.18}$$

Gleichung (6.17) und (6.18) zeigen eine Herleitung der *Kettenregel* ohne Spezifizierung der *Funktionen*, sodass festgehalten werden kann, dass jede *differenzierbare verkettete Funktion* über diese Regel *ableitbar* ist.

Einige *Funktionen* haben eine sehr komplex anmutende Struktur, sodass die *Ableitung* manchmal nicht intuitiv erscheint. Allerdings erscheint oftmals die *Umkehrfunktion* dieser *Funktionen* in einer trivialeren Form. Aus diesem Grund muss ein Ausdruck gefunden werden, wie aus der leicht zu bestimmenden *Ableitung* der verwandten *Umkehrfunktion* die *Ableitung* der gewünschten *Funktion* gewonnen werden kann. Als Ansatz wird die Gleichung (5.23) gewählt:

$$\begin{aligned}
 f(f^{-1}(x)) = x & \quad \left| \frac{d}{dx} \right. \\
 \frac{d}{dx} f(f^{-1}(x)) = \frac{d}{dx} x & \quad | \text{Kettenregel} \\
 \left(\frac{d}{dx} f^{-1}(x) \right) f'(f^{-1}(x)) = 1 & \quad | : f'(f^{-1}(x)) \\
 \frac{d}{dx} f^{-1}(x) = \frac{1}{f'(f^{-1}(x))} &
 \end{aligned} \tag{6.19}$$

Diese Gleichung zur Bestimmung der *Ableitung* einer *Umkehrfunktion* $f^{-1}(x)$ über die verwandte *Funktion* $f(x)$ ermöglicht es selbst *Umkehrfunktion* mit unbekannter Struktur abzuleiten, da lediglich die Struktur der *Funktion* bekannt sein muss.

Mit den erschlossenen *Ableitungsregeln* können alle *Funktionen* abgeleitet werden. Allerdings bedarf es bei speziellen *Funktionsarten* noch einen technischen Zwischenschritt der Vereinfachung, wobei die Gleichung (5.23) erneut ausgenutzt werden kann.

$$\begin{aligned}
 f(x) = a^x & \quad | \text{mit: } f(f^{-1}(x)) = x \\
 f(x) = e^{\ln a^x} & \quad | \text{mit: } \ln a^x = x \ln a \\
 f(x) = e^{x \ln a} & \quad \left| \frac{d}{dx} \right. \\
 \Rightarrow \frac{d}{dx} f(x) = a^x \ln a &
 \end{aligned} \tag{6.20}$$

An Gleichung (6.20) ist deutlich zu erkennen, wie die Verbindung zwischen *Funktion* und *Umkehrfunktion* von der besonders leicht abzuleitenden *Exponentialfunktion* mit der Kombination der *Logarithmengesetze* ausgenutzt wird. Mittels dieses Verfahrens kann auch die Funktion $f(x) = x^x$ abgeleitet werden:

$$\begin{aligned}
 f(x) = x^x & \quad | \text{mit: } f(f^{-1}(x)) = x \\
 f(x) = e^{\ln x^x} & \quad | \text{mit: } \ln x^x = x \ln x \\
 f(x) = e^{x \ln x} & \quad \left| \frac{d}{dx} \right. \\
 \Rightarrow \frac{d}{dx} f(x) = (\ln x + 1) e^{x \ln x} & \\
 \Rightarrow \frac{d}{dx} f(x) = (\ln x + 1) x^x &
 \end{aligned} \tag{6.21}$$

6.2.1 Übungsaufgaben zu den Ableitungsregeln

Aufgabe 1: Leite die Funktionen mit der Kettenregel ab.

$$a) f(x) = (2x + 3)^3$$

$$b) f(x) = (x^3 + 2)^2$$

$$c) f(x) = \left(x^4 - \frac{1}{4}\right)^{\frac{1}{2}}$$

$$d) f(x) = \sqrt{4x^2 + 3x}$$

$$e) f(x) = e^{3x^2}$$

$$f) f(x) = e^{\frac{1}{2}x^3 - 4x + 6}$$

$$g) f(x) = \sin(5x)$$

$$h) f(x) = \frac{1}{3} \cos(-2x^3)$$

$$i) f(x) = (5x^2 + 6x)^{-\frac{1}{2}}$$

$$j) f(x) = (\cos(3x))^{-3}$$

Aufgabe 2: Leite die Funktionen mit der Produktregel ab.

$$a) f(x) = xe^x$$

$$b) f(x) = x^3e^x$$

$$c) f(x) = 2x^2e^{5x}$$

$$d) f(x) = x^{\frac{1}{2}}e^{-\frac{1}{2}x}$$

$$e) f(x) = x^4 \sin 5x$$

$$f) f(x) = \frac{1}{2}x^{2,34} \sin \frac{x}{2}$$

$$g) f(x) = e^{-3x} \cos \frac{3x}{4}$$

$$h) f(x) = \sin(ax) \cos(bx)$$

$$i) f(x) = e^{-2x} \cos(6x) \cos(\pi x)$$

$$j) f(x) = \sin(ax) \cos(bx)e^{dx}$$

Aufgabe 3: Leite die Funktionen mithilfe der Ableitungsregel für Umkehrfunktionen ab.

$$a) f^{-1}(x) = \ln x$$

$$b) f^{-1}(x) = \log_a x$$

$$c) f^{-1}(x) = \sin^{-1} x$$

$$d) f^{-1}(x) = \cos^{-1} x$$

$$e) f^{-1}(x) = \tan^{-1} x$$

$$f) f^{-1}(x) = \cot^{-1} x$$

Aufgabe 4: Leite die Funktionen ab.

a) $f(x) = \frac{\sin x}{\cos x}$

c) $f(x) = x \ln x - x$

e) $f(x) = \frac{1}{2a} \sin^2 ax$

b) $f(x) = \frac{x^2 - 4x - 3}{2x - 1}$

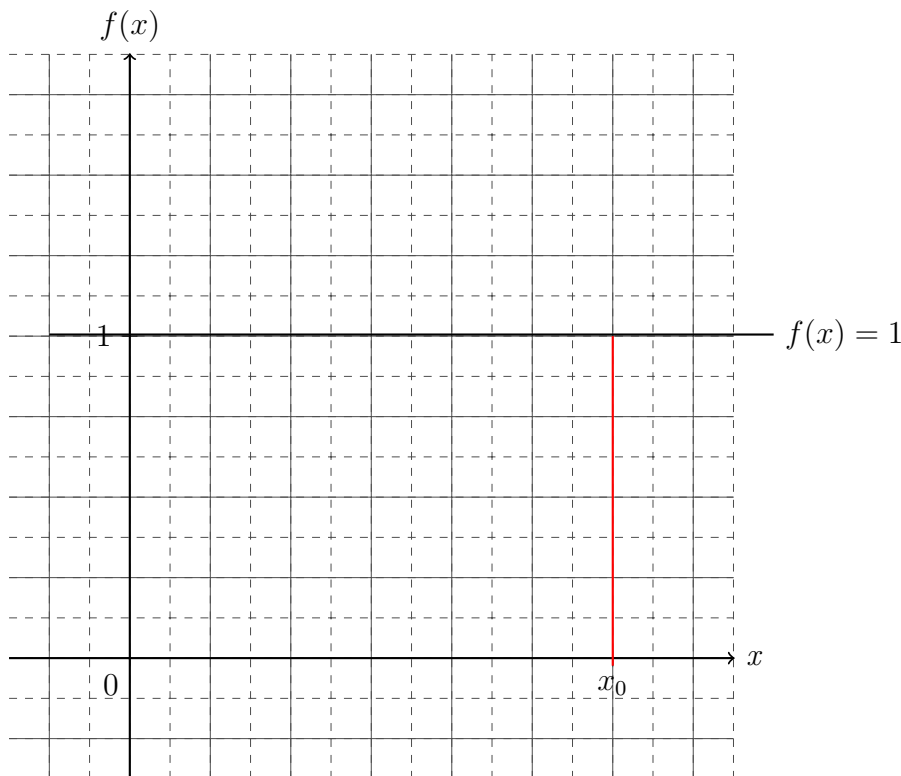
d) $f(x) = x \ln^2 x - 2x \ln x + 2x$

f) $f(x) = \frac{ax - 1}{a^2} e^{ax}$

Die Lösungen zu diesem Abschnitt finden sich im Anhang im Abschnitt (13.6.37) Lösungen zu den Ableitungsregeln.

6.3 Integration

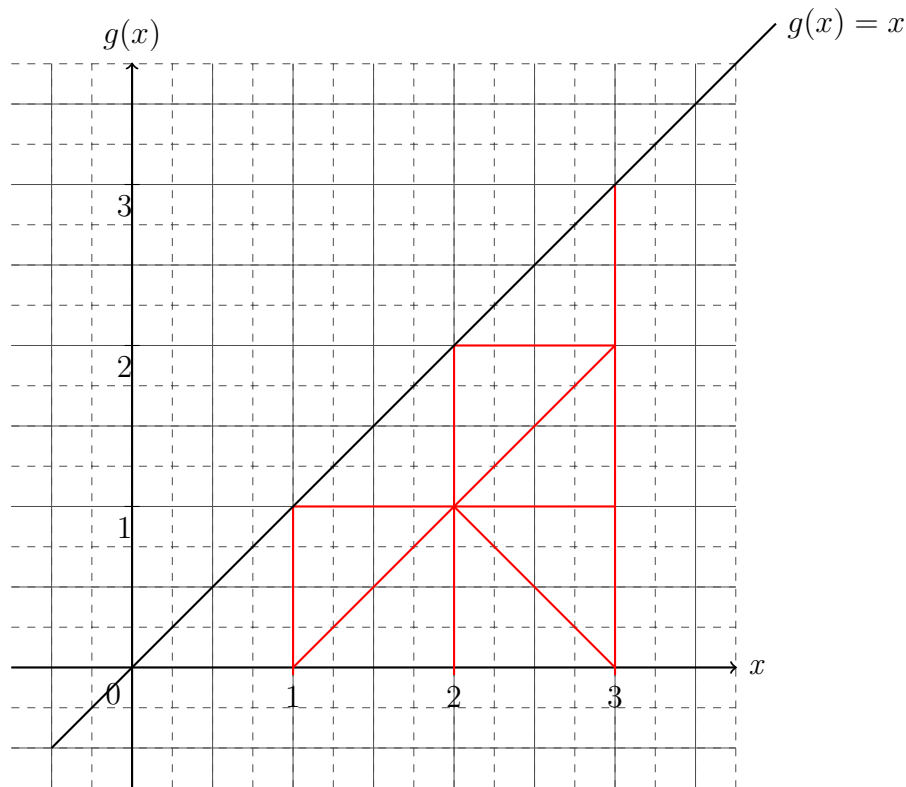
Nachdem die *Differentiation* zur Bestimmung der *Steigung* einer *Funktion* eingeführt wurde, soll nun eine weitere Eigenschaft der *Funktion* untersucht werden. Sei eine *Funktion* $f(x) = 1$ gegeben. Nun soll der *Flächeninhalt* bestimmt werden, der von der *x-Achse* und *Funktion* $f(x)$ eingeschlossen wird, von $x = 0$ bis $x = x_0$ bestimmt werden.



Der *Flächeninhalt* als *Funktion* $F(x)$ wäre gegeben als:

$$\begin{aligned}
 F(x) &= f(x) \cdot x && \text{mit: } f(x) = 1 \\
 F(x) &= x && \text{mit: } x = x_0 \\
 \Rightarrow F(x_0) &= x_0
 \end{aligned}
 \tag{6.22}$$

Die *Ableitung* der *Flächeninhaltsfunktion* $F(x)$ wäre wieder die *Funktion* $f(x)$. Als weiteres Beispiel soll die *Funktion* $g(x) = x$ gegeben sein und erneut soll der *Flächeninhalt* als *Funktion* von x , also $G(x)$, bestimmt werden.



Der *Flächeninhalt* unterhalb der *Funktion* $g(x)$ bildet ein *Dreieck*. Somit ist die *Flächeninhaltsfunktion* $G(x)$ gegeben als:

$$G(x) = \frac{g(x) \cdot x}{2} \quad \text{mit: } g(x) = x \quad (6.23)$$

$$G(x) = \frac{1}{2}x^2$$

Die *Ableitung* der *Flächeninhaltsfunktion* $G(x)$ wäre $\frac{1}{2}2x = x = g(x)$. Somit wäre erneut die *Ableitung* der *Flächeninhaltsfunktion* $G(x)$ die *Ausgangsfunktion* $g(x)$. Aus dieser Erkenntnis kann wieder aus der sprachlichen Forderung „Bestimme den *Flächeninhalt* unter der *Funktion* $f(x)$ der durch die *Grenzen* $x = a$ bis $x = b$ und x -*Achse* begrenzt ist!“ einen mathematischen Formalismus entstehen lassen:

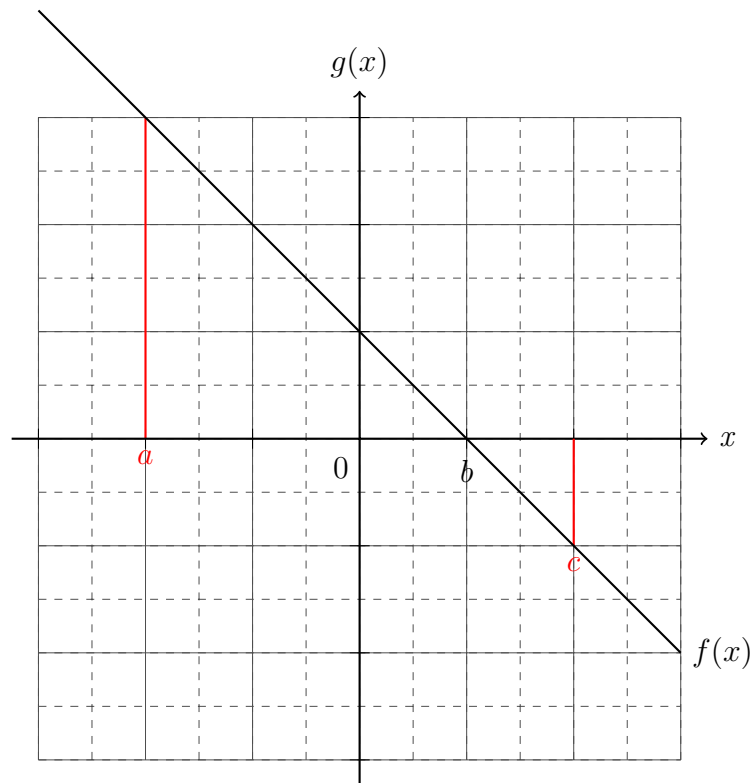
$$F(x) = \int f(x)dx$$

$$F(a) - F(b) = \int_a^b f(x)dx \quad (6.24)$$

$$F(x) + G(x) = \int f(x) + g(x)dx = \int f(x)dx + \int g(x)dx$$

Diese *Operation* wird *Integration* genannt. Dabei wird Gleichung (6.24) gelesen als „Die *Stammfunktion* $F(x)$ ist gleich das *Integral* über die *Funktion* $f(x)$ nach x in den *Grenzen* von a bis b “. Bei der *Integration* mit *Grenzen* handelt es sich um die *bestimmte Integration*. Hierbei ist es wichtig, ob im *Integrationsintervall* sich eine *Nullstelle* befindet, denn wenn sich die *Funktion* unterhalb der *Koordinate* befindet, dann ist das *Vorzeichen* des *Flächeninhalts* negativ.

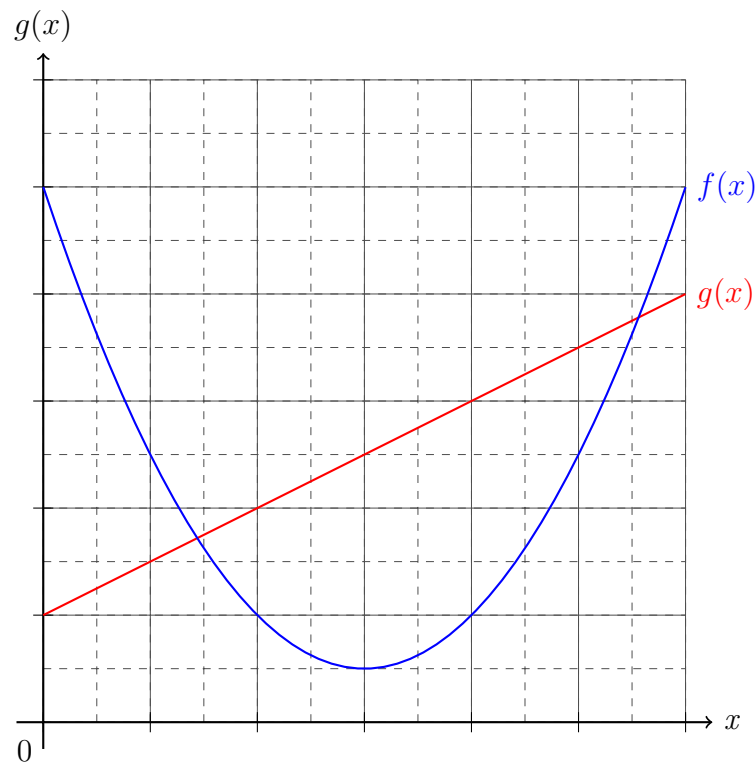
Folglich gibt es durch die *Betragsfunktion* und durch die Umkehrung der *Integrationsgrenzen* eine Möglichkeit den gesamten *Flächeninhalt* zu bestimmen.



Mit der *Nullstelle* bei $x = b$ ist der *Flächeninhalt* zwischen $[a, c]$ durch das *Integral*

$$\begin{aligned}
 \int_a^c |f(x)| dx &= \int_a^b |f(x)| + \int_b^c |f(x)| \\
 &= \int_a^b f(x) - \int_b^c f(x) \quad \text{für } f(x) \in \mathbb{R}^+ \forall x \in [a, b] \quad (6.25) \\
 &= \int_a^b f(x) + \int_c^b f(x)
 \end{aligned}$$

beschrieben. Wenn der eingeschlossene *Flächeninhalt* zwischen zwei *Funktionen* bestimmt werden soll, müssen zu nächst die *Schnittpunkte* der *Funktionen* bestimmt werden, da diese die *Integrationsgrenzen* beschreiben.



Dabei wird der *Flächeninhalt* zwischen der Funktion $g(x)$ und der Koordinate vom *Flächeninhalt* zwischen der Funktion $f(x)$ und der Koordinate subtrahiert.

$$\begin{aligned} A &= \int_{x_{\times 1}}^{x_{\times 2}} f(x) dx - \int_{x_{\times 1}}^{x_{\times 2}} g(x) dx \\ &= \int_{x_{\times 1}}^{x_{\times 2}} f(x) - g(x) dx \end{aligned} \tag{6.26}$$

Bei dieser *Flächeninhaltsbestimmung* muss immer beachtet werden, welche *Funktion* die höheren *Funktionswerte* im jeweiligen *Intervall* besitzt. Von dieser *Funktion* wird stets die *Funktion* mit den niedrigeren *Funktionswerten* unterm *Integral* - dem sogenannten *Integranden* - abgezogen.

6.3.1 Übungsaufgaben zur Integration

Aufgabe 1: Integriere die Funktionen.

a) $\int x^3 dx =$

b) $\int 4x^6 dx =$

c) $\int 3x - 3 dx =$

d) $\int 9 dx =$

e) $\int x^5 - x^3 + 5 dx =$

f) $\int 4x^3 + x dx =$

g) $\int \frac{2}{3} x^{\frac{1}{3}} dx =$

h) $\int 11x^5 - 6x^3 dx =$

i) $\int \frac{10}{3} x^9 - 3x^8 + 5x^6 dx =$

j) $\int \frac{12}{5} x^4 - x^3 + 7x^2 - 19x + 3 dx =$

k) $\int \sqrt{x} dx =$

l) $\int \frac{1}{x^2} dx =$

Aufgabe 2: Bestimme den Flächeninhalt unter den Graphen in den angegebenen Grenzen.
(Beachte die Nullstellen)

a) $\int_2^4 x^6 dx =$

b) $\int_1^6 4x^2 dx =$

c) $\int_0^4 7x - 3x^2 dx =$

d) $\int_{-2}^3 5x dx =$

e) $\int_0^7 6x^2 - 2x + 5 dx =$

f) $\int_{-1}^2 2x^2 + 5x dx =$

g) $\int_{-\frac{1}{2}}^2 \frac{5}{6} x^{\frac{7}{6}} dx =$

h) $\int_{-\frac{6}{5}}^5 4x^2 + 2x - 6 dx =$

i) $\int_{\frac{1}{4}}^{\frac{3}{4}} 3x^2 + 4x - 8 dx =$

j) $\int_{-\frac{7}{2}}^{\frac{2}{3}} -7x^2 + 5x + 4 dx =$

k) $\int_2^3 \sqrt{x} dx =$

l) $\int_{-3}^{-1} \frac{1}{x^2} dx =$

Aufgabe 3: *Bestimme den Flächeninhalt zwischen den Funktionen.*

- a) $f(x) = x + 2$ und $g(x) = x^2 - 2x + 4$
b) $f(x) = -x + \frac{1}{4}$ und $g(x) = \frac{1}{2}x^2 - \frac{3}{2}x + \frac{5}{8}$
c) $f(x) = \frac{1}{4}x - 3$ und $g(x) = -\frac{3}{4}x^2 + x - 2$
d) $f(x) = -x^2 + 4$ und $g(x) = x^2 - 2x + 4$
e) $f(x) = -x^2 + 4x - 4$ und $g(x) = x^2 - 4x + 4$
f) $f(x) = \sqrt{x}$ und $g(x) = \frac{1}{2}x^2 - 3x + 5$

Die Lösungen zu diesem Abschnitt finden sich im Anhang im Abschnitt (13.6.38) Lösungen zur Integration.

6.4 Integrationsregeln

Nachdem der Formalismus eingeführt wurde, soll ein allgemeines *Polynom* x^n untersucht werden. Dazu wird die *Ableitung* von x^n gebildet und über *Äquivalenzumformung* und mit *Potenzgesetzen* die Gleichung umgestellt:

$$\begin{aligned}
 \frac{d}{dx}x^n &= nx^{n-1} && \text{substituiere: } m = n - 1 \Rightarrow n = m + 1 \\
 \Rightarrow \frac{d}{dx}x^{m+1} &= (m+1)x^m && | : (m+1) \\
 \frac{1}{m+1} \frac{d}{dx}x^{m+1} &= x^m && | \cdot dx \\
 \frac{1}{m+1} \frac{d}{dx}x^{m+1} dx &= x^m dx && \left| \int \right. \\
 \Rightarrow \int x^m dx &= \frac{1}{m+1} x^{m+1}
 \end{aligned} \tag{6.27}$$

Die letzte Zeile der Gleichung (6.27) zeigt die hergeleitete Regel für die *Integration* von *Polynomen*. Nachdem das generelle *Integrationsgesetz* für *Polynome* gefunden wurde, die *Produktregel* als Ausgangspunkt für die Herleitung einer weiteren *Integrationsregel* dienen.

$$\begin{aligned}
 \frac{d}{dx}f(x)g(x) &= f'(x)g(x) + f(x)g'(x) && | \cdot dx \\
 \frac{d}{dx}f(x)g(x) dx &= f'(x)g(x) dx + f(x)g'(x) dx && \left| \int \right. \\
 f(x)g(x) &= \int f'(x)g(x) dx + \int f(x)g'(x) dx && \left| - \int f(x)g'(x) dx \right. \\
 \Rightarrow \int f'(x)g(x) dx &= f(x)g(x) - \int f(x)g'(x) dx
 \end{aligned} \tag{6.28}$$

Diese *Integrationsregel* wird „*partielle Integration*“ genannt. Sie wird dazu verwendet *Funktionsprodukte* zu *integrieren* bei dem eine *Teilfunktion* $f(x)$ leicht zu *integrieren* ist, während die andere *Teilfunktion* $g(x)$ eine *Funktion* ist die eine unbekannte *Stammfunktion* besitzt, deren *Ableitung* allerdings bekannt ist. Generell wird diese *Integrationsregel* dazu verwendet, um das *Produkt* eines *Polynoms* mit einer anderen *Funktion* zu *integrieren*. Dabei bildet in der Regel das *Polynom* die *Funktion* $g(x)$, sodass dieses nach mehrfacher Anwendung der *partiellen Integration* und dem *Einsetzungsverfahren* dieses *Polynom* restlos verschwindet und die *Funktion* $f(x)$ alleinstehend unter dem *Integral* vorzufinden.

Abschließend soll die *Kettenregel* in eine Regel der *Integration* überführt werden.

$$\begin{aligned}
 \frac{d}{dx}f(g(x)) &= g'(x)f'(g(x)) && | dx \\
 \frac{d}{dx}f(g(x)) dx &= g'(x)f'(g(x)) dx && \left| \int \right. \\
 f(g(x)) &= \int g'(x)f'(g(x)) dx
 \end{aligned} \tag{6.29}$$

Durch *Substitution* lässt sich dieses *Integral* lösen, hierbei wird $y := g(x)$ gewählt:

$$\begin{aligned} \int g'(x)f'(g(x)) dx & \quad \text{substituiere: } y := g(x) \Rightarrow dx = \frac{dy}{g'(x)} \\ & = \int f'(y) dy = f(y) \quad \text{zurück eingesetzt: } g(x) = y \\ & = f(g(x)) \end{aligned} \quad (6.30)$$

Aus den Gleichungen (6.29) und (6.30) ist erkennbar, dass die *Kettenregel* der *Ableitung* überführt in die *Integration* durch *Substitution* bearbeitet werden kann. Aus diesem Grund wird diese Regel „*Integration* durch *Substitution*“ genannt.

Mit *Grenzen* würde sich bei der *Integration* durch *Substitution* die *Grenzen* mit verändern:

$$\begin{aligned} \int_a^b g'(x)f'(g(x)) dx & \quad \text{substituiere: } y := g(x) \Rightarrow dx = \frac{dy}{g'(x)} \\ & = \int_{g(a)}^{g(b)} f'(y) dy \end{aligned} \quad (6.31)$$

Dabei wird die obere *Grenze* und die unteren *Grenze* eingesetzt in die *Stammfunktion* und anschließend von einander *subtrahiert*. Für diesen Prozess gibt es zwei verschiedene Schreibweisen. Die erste Schreibweise umklammert den *Term*, in den einzusetzen ist, während die zweite Schreibweise einen senkrechten Strich vorsieht und aussagt, dass für alle *Variablen* links vom Strich eingesetzt werden soll.

$$\begin{aligned} \int_{g(a)}^{g(b)} f'(y) dy & = [f(y)]_{g(a)}^{g(b)} \\ & = f(y) \Big|_{x=g(a)}^{x=g(b)} \\ & = f(g(b)) - f(g(a)) \end{aligned} \quad (6.32)$$

Da nun alle Regeln für die *Integration* und der *Differentiation* bekannt sind, werden im folgenden Abschnitt beide Methoden dazu verwendet um spezielle Gleichungen zu lösen - die sogenannten *Differentialgleichungen*.

6.4.1 Übungsaufgaben zu den Integrationsregeln

Aufgabe 1: Integriere die Funktionen mit der partiellen Integration.

$$a) \int x e^x dx =$$

$$b) \int x^2 e^{2x} dx =$$

$$c) \int x \sin(x) dx =$$

$$d) \int x \cos(2x) dx =$$

$$e) \int x^3 \sin\left(\frac{1}{2}x\right) dx =$$

$$f) \int 4x^2 2^x dx =$$

$$g) \int \frac{3}{4} x^2 e^{-x} - 1 dx =$$

$$h) \int \sin(x) \cos(x) dx =$$

Aufgabe 2: Integriere die Funktionen durch Substitution.

$$a) \int 2x e^{x^2} dx$$

$$b) \int x^3 e^{\frac{1}{4}x^4} dx$$

$$c) \int 12x^3 e^{4x^3} dx$$

$$d) \int \frac{3x^2}{2\sqrt{x^3}} e^{\sqrt{x^3}} dx$$

$$e) \int 4x^3 \cos(x^4) dx$$

$$f) \int x \sin(2x^2) dx$$

$$g) \int \frac{1}{\cos^2(x)} \sqrt{\tan(x)} dx$$

$$h) \int \frac{1}{x} \sin(\ln(x)) dx$$

Aufgabe 3: Integriere die Funktionen.

$$a) \quad b)$$

Aufgabe 4: Bestimme den Flächeninhalt zwischen der Funktion und der Koordinate in den angegebenen Grenzen.

$$a) \quad b)$$

Aufgabe 5: *Bestimme den Flächeninhalt zwischen der Funktion und der Koordinate in den angegebenen Grenzen.*

a) b)

Aufgabe 6: *Bestimme den eingeschlossenen Flächeninhalt zwischen den Funktionen.*

a) b)

Aufgabe 7: *Bestimme den eingeschlossenen Flächeninhalt zwischen den Funktionen.*

a) b)

Die Lösungen zu diesem Abschnitt finden sich im Anhang im Abschnitt (13.6.39) Lösungen zu den Integrationsregeln.

6.5 Partielle und totale Differentiation

Es existieren mehrere Formen des *Differentialoperators*, dabei sind die meisten Formen zusammengesetzte Objekte aus *partiellen* und *totalen Differentialoperatoren*. Die zusammengesetzten Formen werden im Kapitel der *Vektoranalysis* weiter ausgeführt, während in diesem Abschnitt der Unterschied zwischen der *partiellen* und der *totalen Differentiation* herausgearbeitet wird. Der in den obigen Abschnitten verwendete *Operator* ist der *totale Differentialoperator*:

$$\frac{d}{dx}x^n = nx^{n-1} . \quad (6.33)$$

Dabei besitzt dieser *Operator* noch weitere Eigenschaften welche schon eingeführt wurden:

$$\begin{aligned} \frac{d}{dx}f(x) &= f'(x) , \\ \Rightarrow \frac{d}{dx}x^n f(x) &= nx^{n-1}f(x) + x^n f'(x) , \\ \Rightarrow \frac{d}{dx}(x^n + f(x)) &= nx^{n-1} + f'(x) . \end{aligned} \quad (6.34)$$

In der Gleichung (6.34) wird deutlich, dass der *totale Differentialoperator* auch Größen ableitet, welche nur eine Abhängigkeit - also keinen direkten Bezug zur betrachteten *Variable* - besitzen. Dies ist der gravierende Unterschied zum *partiellen Differentialoperator*, welcher indirekte Bezüge zur *Variable* ignoriert. Die Eigenschaften für die *partielle Differentiation* sind:

$$\frac{\partial}{\partial x}x^n = nx^{n-1} , \quad (6.35)$$

wobei im Weiteren mehrere *Variablen* der *Funktion* angenommen werden, um die Eigenschaften der *partiellen Differentiation* zu verdeutlichen. Dabei wird eine *Funktion* $f(x, y(x)) = x^n + y(x)$ betrachtet, die von den *Variablen* x und y abhängt, wobei y wiederum eine Abhängigkeit von x besitzt. Mit dieser Beispielfunktion werden nun die Eigenschaften der *totalen* und der *partiellen Differentiation* gegenüber gestellt:

$$\begin{aligned} \frac{\partial}{\partial x}f(x, y(x)) &= nx^{n-1} , \\ \frac{d}{dx}f(x, y(x)) &= nx^{n-1} + y'(x) . \end{aligned} \quad (6.36)$$

Aus der Gleichung (6.36) wird deutlich, wie der *partielle Differentialoperator* $\frac{\partial}{\partial x}$ den Bezug von y zu x ignoriert, während die *totale Differentiation* den Bezug aufnimmt. Folglich besitzt die Deklaration der *Variablen* einer *Funktion* eine besondere Bedeutung, wenn zwischen den *Differentialoperatoren* unterschieden werden muss. In der *Analysis* mit einer *Variablen* sind die Eigenschaften der *totalen Differentiation* mit der der *partiellen* übereinstimmend. Während sich bei *Funktionen* mit mehreren *Variablen* es zu Unterschieden kommen kann. Dabei setzt sich ein Teil des *totalen Differentialoperators* aus *partiellen Ableitungen* zusammen. Dieser Teil wird auch das *totale Differential* genannt, welches bei einer *Funktion* mit mehreren *Variablen* wie folgt definiert ist:

$$\begin{aligned} f(x(t), y(t), z(t)) &\Rightarrow \frac{df}{dt} := \frac{\partial f}{\partial x} \frac{dx}{dt} + \frac{\partial f}{\partial y} \frac{dy}{dt} + \frac{\partial f}{\partial z} \frac{dz}{dt} \\ &\Rightarrow df := \frac{\partial f}{\partial x} dx + \frac{\partial f}{\partial y} dy + \frac{\partial f}{\partial z} dz . \end{aligned} \tag{6.37}$$

Die Bildung und Verwendung des *totalen Differentials* wird bei komplexeren *Integrationsaufgaben* sowie bei einer *generellen Koordinatentransformation* - dem Wechsel der *Koordinatensysteme* - benötigt, was in den weiterführenden Abschnitten zur *Vektoranalysis* thematisiert wird. Außerdem sind die Unterschiede zwischen der *totalen* und *partiellen Differentiation* bei der *Fehlerrechnung* von fundamentaler Bedeutung, sodass beide Typen der *Operatoren* bekannt sein sollten.

6.5.1 Übungsaufgaben zur partieller und totaler Differentiation

Aufgabe 1: Leite partiell ab.

$$a) \frac{\partial}{\partial x} x^4 - 3x^2 + 1 =$$

$$b) \frac{\partial}{\partial x} \frac{1}{3} x^6 - t(x) =$$

$$c) \frac{\partial}{\partial x} e^x + a(x) =$$

$$d) \frac{\partial}{\partial x} b(x)x^{c(x)} =$$

$$e) \frac{\partial}{\partial x} e^x - x^2 + a(x)x =$$

$$f) \frac{\partial}{\partial x} \frac{a(x)t^2(x)}{2} + v(x)t(x) + x =$$

$$g) \frac{\partial}{\partial x} ax^b - cx^d =$$

$$h) \frac{\partial}{\partial x} a^3(x) + b(x) =$$

Aufgabe 2: Leite partiell ab (Beachte dabei die Ableitungsregeln).

$$a) \frac{\partial}{\partial x} x^2 e^{a(x)x} =$$

$$b) \frac{\partial}{\partial x} \sin(\sqrt{2xt(x)}) =$$

$$c) \frac{\partial}{\partial x} \sqrt{x} e^{3x} =$$

$$d) \frac{\partial}{\partial x} \frac{3x + f(x)}{(x-3)^2} =$$

$$e) \frac{\partial}{\partial x} \frac{\sin(ax)}{\cos(a(x)x)} =$$

$$f) \frac{\partial}{\partial x} x^{d(x)x} =$$

$$g) \frac{\partial}{\partial x} \sin(ax) e^{x^2} \cos(a(x)) =$$

$$h) \frac{\partial}{\partial x} \frac{1}{3} \tan(\ln(d(x)))x^3 =$$

Aufgabe 3: Leite total ab (Beachte dabei die Ableitungsregeln).

$$a) \frac{d}{dx} x^2 e^{a(x)x} =$$

$$b) \frac{d}{dx} \sin(\sqrt{2xt(x)}) =$$

$$c) \frac{d}{dx} \sqrt{x} e^{3x} =$$

$$d) \frac{d}{dx} \frac{3x + f(x)}{(x-3)^2} =$$

$$e) \frac{d}{dx} \frac{\sin(ax)}{\cos(a(x)x)} =$$

$$f) \frac{d}{dx} x^{d(x)x} =$$

$$g) \frac{d}{dx} \sin(ax) e^{x^2} \cos(a(x)) =$$

$$h) \frac{d}{dx} \frac{1}{3} \tan(\ln(d(x)))x^3 =$$

Aufgabe 4: Bilde das totale Differential der Funktionen.

a) $f(x, y) = x^2 + y^2$

c) $f(x, y) = ye^x$

e) $f(x, y, t) = \sqrt{xt} - y^t$

g) $f(x, y, z, t) = \frac{4}{3}\pi x^3 y z^2 + yt^2$

b) $f(x, y(x)) = xy - y^3$

d) $f(x, y(x)) = x^2 + 2yx + y^2$

f) $f(x(t), y(t)) = \sqrt{x^2 + y^2} - t$

h) $f(x(y(t))) = x^4$

Die Lösungen zu diesem Abschnitt finden sich im Anhang im Abschnitt (??) Lösungen zur partieller und totaler Differentiation.

6.6 Kurvendiskussion

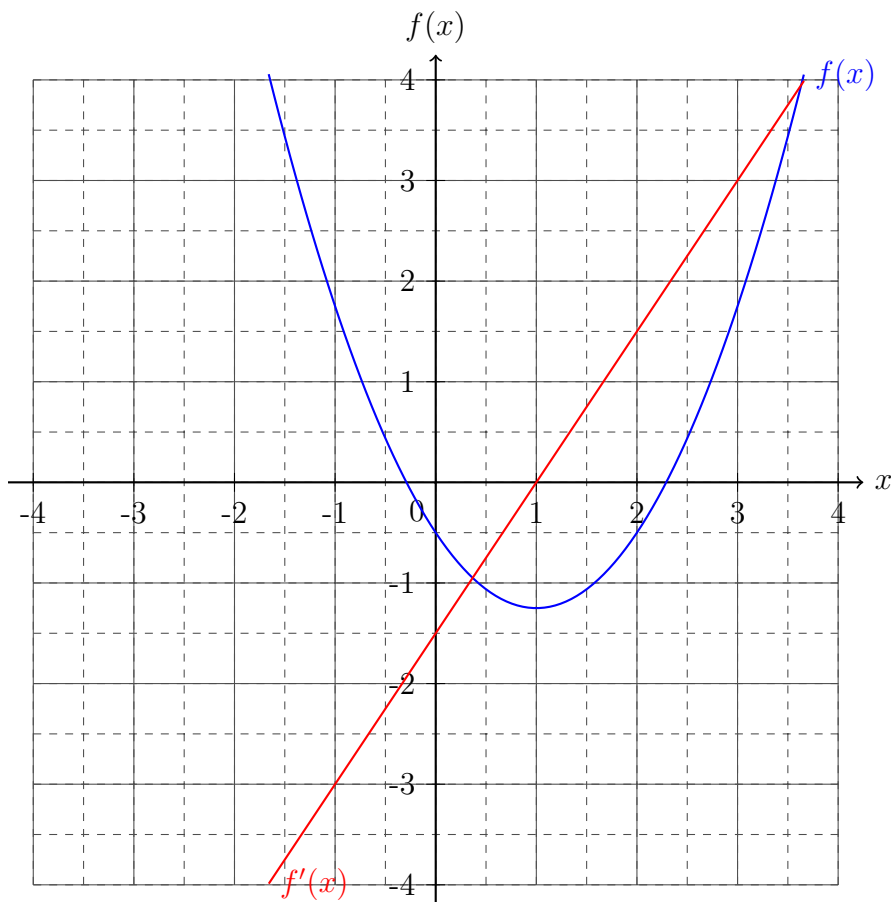
Die *Kurvendiskussion* verbindet alle Methoden der Analyse von *Funktionen*, dabei bilden sich noch weitere Charakteristiken heraus, welche in der Kombination mit den *Differentialoperatoren* aufkommen. Diese Eigenschaften der *Funktionen* werden in diesem Abschnitt zunächst vorgestellt und anschließend ein zusammenfassender Überblick über eine vollständige *Kurvendiskussion* geboten.

6.6.1 Extrempunkte

Bei der *Parabel* wurde bereits der sogenannte *Scheitelpunkt* bestimmt, wobei die *Scheitelpunktsform* ausgenutzt wurde. Ein *Scheitelpunkt* und somit auch jeder andere *Extrempunkt* besitzt eine *Tangente* mit der *Steigung* $m_t = 0$. In diesem Unterabschnitt soll dies für alle *Funktionen* verallgemeinert werden. Dazu sei eine *Parabel* $f(x)$ zur beispielhaften Untersuchung gegeben:

$$\begin{aligned} f(x) &= \frac{3}{4}(x-1)^2 - \frac{5}{4} , \\ \Rightarrow S(d|e) &= S\left(1 \mid \frac{5}{4}\right) , \\ \Rightarrow \frac{d}{dx}f(x) &= f'(x) = \frac{3}{2}x - \frac{3}{2} . \end{aligned} \tag{6.38}$$

Die *Graphen* der *Parabel* $f(x)$ und ihrer *Ableitung* $f'(x)$, welche eine *Gerade* ist, werden in ein *Koordinatensystem* gezeichnet, sodass die Zusammenhänge sich verdeutlichen:



Die Graphen zeigen, dass der *Extremwert* der *Parabel* d und den *Nullstellenwert* der *Ableitung* den selben Wert besitzen.

$$\begin{aligned} \frac{d}{dx}f(x) = f'(x) &= \frac{3}{2}x - \frac{3}{2} \stackrel{!}{=} 0 \\ &\Rightarrow x_{N_{f'(x)}} = 1 \end{aligned} \quad (6.39)$$

Aus dieser These kann ein allgemeines Gesetz hergeleitet werden, welches besagt, dass die *Extremstellen* x_E der *Funktion* die *Nullstellen* ihrer *Ableitung* sind:

$$\frac{d}{dx}f(x) = f'(x) \stackrel{!}{=} 0 \Rightarrow \text{Auflösen nach den Extremstellen} . \quad (6.40)$$

Da die *Steigung* der *Geraden* - also der *Ableitung* - positiv ist, handelt es sich bei der *Extremstelle* um ein *Minimum* (was in einigen Mathematikbüchern auch *Tiefpunkt* genannt wird). Wäre die *Steigung* der *Ableitung* negativ, würde es sich um ein *Maximum* (*Hochpunkt*) handeln. Wobei als *notwendige Bedingung* für einen *Extrempunkt* eine *Nullstelle* der *Ableitung* $\exists f'(x_E) = 0$ gegeben sein muss, reicht dieses noch nicht aus um tatsächlich einen *Extrempunkt* zu identifizieren. Um einen *Extrempunkt* genaustens zu bestimmen und seinen Typ (*Maximum* oder *Minimum*) festlegen zu können, müssen die *Punkte* in der Umgebung der *Extremstellen* auf der *Ordinate* höher (*Minimum*) oder niedriger (*Maximum*) liegen:

$$\begin{aligned} f'(x_E) = 0 \text{ und } f''(x_E) < 0 &\Rightarrow \text{Maximum} , \\ f'(x_E) = 0 \text{ und } f''(x_E) > 0 &\Rightarrow \text{Minimum} , \end{aligned} \quad (6.41)$$

wobei dies als *hinreichende Bedingung* bezeichnet wird. Bei einigen speziellen *Funktion* wie zum Beispiel $f(x) = x^4$ verlieren die Kriterien der *hinreichenden Bedingung* ihre Aussage, da für diese und alle anderen speziellen Funktionen dieses Typs

$$f'(x_E) = 0 \text{ und } f''(x_E) = 0 \quad (6.42)$$

gilt, und somit das *Verhalten* um diesen *Punkt* betrachtet werden muss. Nach der Untersuchung des *links-* und *rechtsseitigen Grenzwertes* eines direkt benachbarten Variablenwertes $x_E \pm \delta x$

$$\begin{aligned} \lim_{x \nearrow x_E - \delta x} f''(x) > 0 \text{ und } \lim_{x \searrow x_E + \delta x} f''(x) > 0 &\Rightarrow \text{Minimum} , \\ \lim_{x \nearrow x_E - \delta x} f''(x) < 0 \text{ und } \lim_{x \searrow x_E + \delta x} f''(x) < 0 &\Rightarrow \text{Maximum} , \\ \lim_{x \nearrow x_E - \delta x} f''(x) < 0 \text{ und } \lim_{x \searrow x_E + \delta x} f''(x) > 0 &\Rightarrow \text{kein Extrempunkt} , \\ \lim_{x \nearrow x_E - \delta x} f''(x) > 0 \text{ und } \lim_{x \searrow x_E + \delta x} f''(x) < 0 &\Rightarrow \text{kein Extrempunkt} , \end{aligned} \quad (6.43)$$

kann dann bestimmt werden, ob es sich um einen *Extrempunkt* und gegebenenfalls um welche Art es sich handelt. Dabei steht die *Extremstelle* x_E im Fokus der Untersuchungen, wobei der *Extrempunkt* gegeben ist durch:

$$E(x_E | f(x_E)) . \quad (6.44)$$

6.6.2 Monotonie

Das *Monotonieverhalten* beschreibt ob eine *Funktion* wachsend, fallend oder konstant ist. Ist eine *Funktion* für alle *Variablenwerte* des *Definitionsbereiches* \mathbb{D} wachsend wird von einem *streng monoton steigendem Verhalten* gesprochen. Bei einer *Funktion*, die für alle *Variablenwerte* fallende *Funktionswerte* besitzt, wird dies als ein *streng monoton fallendes Verhalten* genannt. Weist eine *Funktion* in einem *Intervall* einen konstanten Bereich auf ist aber ansonsten *streng monoton steigend* oder *fallend* gilt die *Funktion* im Allgemeinen lediglich nur noch als *monoton steigend* oder *fallend*.

$$\begin{aligned}
 f'(x) > 0 \quad \forall x \in \mathbb{D} &\Rightarrow \text{streng monoton steigend} \\
 f'(x) < 0 \quad \forall x \in \mathbb{D} &\Rightarrow \text{streng monoton fallend} \\
 f'(x) \geq 0 \quad \forall x \in \mathbb{D} &\Rightarrow \text{monoton steigend} \\
 f'(x) \leq 0 \quad \forall x \in \mathbb{D} &\Rightarrow \text{monoton fallend}
 \end{aligned}
 \tag{6.45}$$

Das *Monotonieverhalten* kann auch auf *Intervalle* angewendet werden, sodass zum Beispiel für die *Funktion* $f(x) = x^2$ folgende *Monotonien* festgestellt werden können:

$$\begin{aligned}
 f'(x) > 0 \quad \forall x \in]-\infty, 0[&\Rightarrow \text{streng monoton steigend} \\
 f'(x) < 0 \quad \forall x \in]0, \infty[&\Rightarrow \text{streng monoton fallend}
 \end{aligned}
 \tag{6.46}$$

6.6.3 Satz von l'Hopital

Bei *gebrochen rationalen Funktionen* kann das *Verhalten* meistens nur schwer direkt abgelesen werden, da die *Gewichtung* der einzelnen *Funktionsteile* im *Grenzwert* unbekannt sind. Um dennoch eine *Aussage* über einen *Grenzwert* einer *gebrochen rationalen Funktion* machen zu können, wird in der Regel der *Satz von l'Hopital* verwendet. Dieser *Satz* sagt aus, dass der *Grenzwert* der *gebrochen rationalen Funktion* gleich dem *Quotienten* des *Grenzwertes* der *Ableitung* des *Zählers* mit dem *Grenzwert* der *Ableitung* des *Nenners* ist.

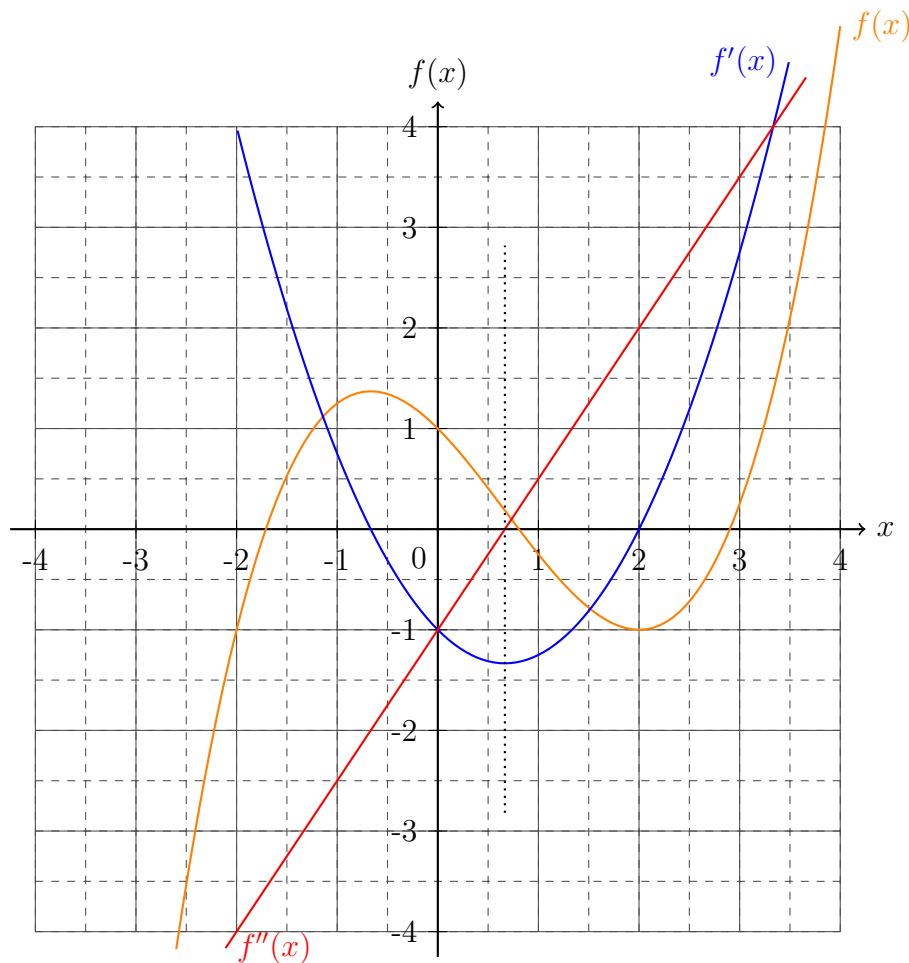
$$\lim_{x \rightarrow x_0} f(x) = \lim_{x \rightarrow x_0} \frac{g(x)}{h(x)} = \frac{\lim_{x \rightarrow x_0} g'(x)}{\lim_{x \rightarrow x_0} h'(x)}
 \tag{6.47}$$

6.6.4 Wende- und Sattelpunkte

Bei *Funktionen* höherer *Ordnung* existieren noch weitere *Punkte* von besonderem Interesse. Um diese *Punkte* zu untersuchen wird wieder eine *Beispielfunktion*

$$\begin{aligned}
 f(x) &= \frac{1}{4}x^3 - \frac{1}{2}x^2 - x + 1 \quad , \\
 f'(x) &= \frac{3}{4}x^2 - x - 1 \quad , \\
 \Rightarrow S(d|e) &= S\left(\frac{2}{3} \middle| \frac{4}{3}\right) \quad , \\
 f''(x) &= \frac{3}{2}x - 1 \quad , \\
 f'''(x) &= \frac{3}{2} \quad .
 \end{aligned}
 \tag{6.48}$$

Diese *Funktionen* werden erneut durch ihren *Graphen* in einem *Koordinatensystem* veranschaulicht:



Deutlich an den *Graphen* wird, dass die *Variablenwerte* für den *Scheitelpunkt* der *Ableitung* und der *Nullstelle* der zweiten *Ableitung* mit dem *Variablenwert* der *Funktion* übereinstimmen, bei dem sich die *Richtung* der *Krümmung* der *Funktion* ändert. Der *Variablenwert* ist im *Koordinatensystem* durch die gepunktete Linie verdeutlicht. Dieser *Punkt* der *Funktion* wird *Wendepunkt* genannt. Für *Wendestellen* x_W gelten folgende Kriterien:

$$\begin{aligned} f''(x_W) &= 0 \quad , \\ f'''(x_W) &\neq 0. \end{aligned} \tag{6.49}$$

Wenn allerdings die erste *Ableitung* für diesen *Variablenwert* x_W auch gleich Null ist, dann handelt es sich um einen sogenannten *Sattelpunkt*. Für einen *Sattelpunkt* gelten die folgenden Kriterien:

$$\begin{aligned} f'(x_S) &= 0 \quad , \\ f''(x_S) &= 0 \quad , \\ f'''(x_S) &\neq 0 \quad . \end{aligned} \tag{6.50}$$

An *Wende-* wie auch *Sattelpunkten* ändert sich die *Krümmung* der *Funktion*. Das bedeutet, dass die *Steigung* vor einem *Wende-* oder *Sattelpunkt* abnimmt und nach ihm folglich zu nimmt und vice versa.

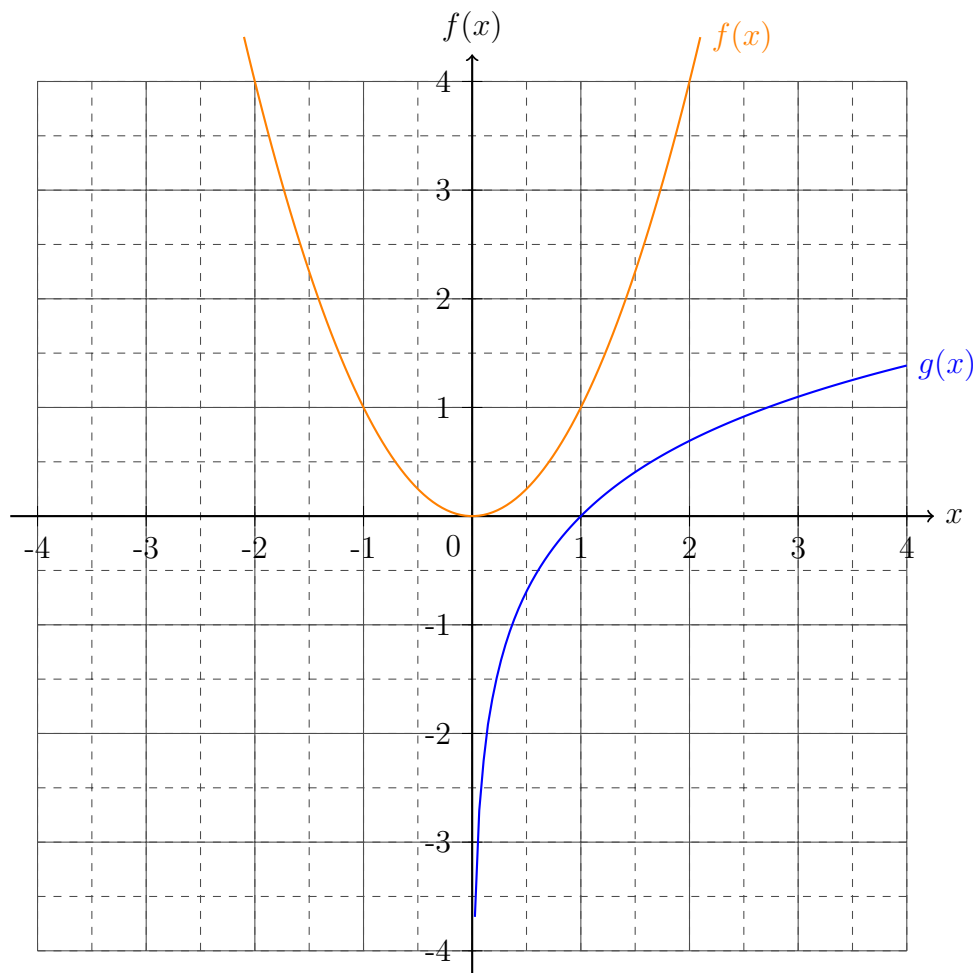
6.6.5 Konvexe und konkave Funktionen

Die Krümmung der Funktion kann entweder konkav oder konvex sein. So ist zum Beispiel die Normalparabel $f(x) = x^2$ eine konvexe Funktion für die gesamte Definitionsmenge. Für diese Eigenschaft muss folgendes Kriterium gelten:

$$f\left(\frac{x_1 + x_2}{2}\right) \leq \frac{f(x_1) + f(x_2)}{2} \quad \forall x_1 \neq x_2 . \quad (6.51)$$

Für eine konkave Funktion, wie zum Beispiel $g(x) = \ln(x)$, kann dieses Kriterium umgedreht werden:

$$f\left(\frac{x_1 + x_2}{2}\right) \geq \frac{f(x_1) + f(x_2)}{2} \quad \forall x_1 \neq x_2 . \quad (6.52)$$



Durch die *Graphen* der *Funktionen* wird deutlich, dass die *Steigung* einer *konkaven Funktion* immer weiter abnimmt und die *Steigung* einer *konvexen Funktion* immer weiter zunimmt. An einem *Wende- oder Sattelpunkt* wird folglich folgt auf ein *konkaves Intervall* ein *konvexes* und vice versa. Ergo sind die *Intervallgrenzen* für *konkave* oder *konvexe* Teilstücke der *Funktion* durch die *Wende- und Sattelpunkte* begrenzt.

6.6.6 Vollständige Kurvendiskussion

Eine vollständige Kurvendiskussion beinhaltet folgende Schritte:

1.	Definitions- und Wertemenge:	$\mathbb{D} = \{x \in \}$ und $\mathbb{W} = \{f(x) \in \}$
2.	Symmetrien:	Achsensymmetrie $f(x) = f(-x)$ oder Punktsymmetrie $f(x) = -f(-x)$
3.	Verhalten:	$\lim_{x \rightarrow \infty} f(x) \wedge \lim_{x \rightarrow -\infty} f(x)$ $\wedge \lim_{x \searrow x_0 \notin \mathbb{D}} f(x) \wedge \lim_{x \nearrow x_0 \notin \mathbb{D}} f(x)$
4.	Polstellen:	$f(x) = \frac{g(x)}{h(x)} \Rightarrow h(x_P) \stackrel{!}{=} 0 \Rightarrow x_P =$ $\lim_{x \searrow x_P} f(x) \wedge \lim_{x \nearrow x_P} f(x)$
5.	Asymptoten:	Bestimme durch Polynomdivision die Teilfunktion an der sich die Funktion im Unendlichen annähert.
6.	Nullstellen:	$f(x_N) \stackrel{!}{=} 0$
7.	Extremstellen:	$f'(x_E) \stackrel{!}{=} 0 \wedge f''(x_E) < 0 \Rightarrow$ Minimum $f'(x_E) \stackrel{!}{=} 0 \wedge f''(x_E) > 0 \Rightarrow$ Maximum
8.	Wendestellen:	$f''(x_W) \stackrel{!}{=} 0 \wedge f'''(x_W) \neq 0$
9.	Sattelpunkte:	$f'(x_S) = 0 \wedge f''(x_S) \stackrel{!}{=} 0 \wedge f'''(x_S) \neq 0$

10.	Monotonie:	$f'(x) > 0 \quad \forall x \in \mathbb{D} \Rightarrow$ streng monoton steigend $f'(x) < 0 \quad \forall x \in \mathbb{D} \Rightarrow$ streng monoton fallend $f'(x) \geq 0 \quad \forall x \in \mathbb{D} \Rightarrow$ monoton steigend $f'(x) \leq 0 \quad \forall x \in \mathbb{D} \Rightarrow$ monoton fallend
11.	Konvex oder konkav:	konvex: $f\left(\frac{x_1+x_2}{2}\right) \leq \frac{f(x_1)+f(x_2)}{2} \quad \forall x_1 \neq x_2$ konkav: $f\left(\frac{x_1+x_2}{2}\right) \geq \frac{f(x_1)+f(x_2)}{2} \quad \forall x_1 \neq x_2$
12.	Stammfunktion:	$\int f(x)dx = F(x)$
13.	Graph:	Erstelle eine Wertetabelle und übertrage die Punkte in ein Koordinatensystem und verbinde diese sinnerfassend.

6.6.7 Beispiel einer vollständige Kurvendiskussion

In diesem Beispiel wird eine *gebrochen rationale Funktion* angeführt, welche viele Eigenschaften beherbergt. Des Weiteren wurde eine solche *Funktion* als Beispiel ausgewählt, da hier mehrere Schwierigkeiten und Überlegungen einhergehen, welche in der Regel nicht in so komprimierter Form vorkommen. Die *Beispielfunktion* ist gegeben durch:

$$f(x) = \frac{\frac{1}{2}x^3 - 2x^2 - 3}{x^2 - 3x} . \quad (6.53)$$

Am Anfang jeder *Kurvendiskussion* werden alle benötigten *Ableitungen* gebildet:

$$\begin{aligned}
f'(x) &= \frac{x^4 - 6x^3 + 12x^2 + 12x - 18}{2x^2(x-3)^2} , \\
f''(x) &= \frac{3x^3 - 18x^2 + 54x - 54}{x^3(x-3)^3} , \\
f'''(x) &= \frac{9(x^4 + 8x^3 - 36x^2 + 72x - 54)}{x^4(x-3)^4} .
\end{aligned} \quad (6.54)$$

Schritt 1: Bestimme die *Definitions-* und *Wertemenge*. Um die Bereiche zu berechnen, für die die *Funktion* nicht definiert ist muss der *Nenner* gleich Null gesetzt werden:

$$0 \stackrel{!}{=} x^2 - 3x = x(x-3) \Rightarrow x_{\notin \mathbb{D},1} = 0 \wedge x_{\notin \mathbb{D},2} = 3 . \quad (6.55)$$

Da die *Funktion* im *Zähler* ein *Polynom ungerader Ordnung* besitzt, ergibt sich für die *Definitions-* und *Wertemenge*

$$\begin{aligned}\mathbb{D} &= \{x \in \mathbb{R} \setminus \{0; 3\}\} \quad , \\ \mathbb{W} &= \{f(x) \in \mathbb{R}\} \quad .\end{aligned}\tag{6.56}$$

Schritt 2: Überprüfe nach *Symmetrien*. Um die *Symmetrien* einer *gebrochen rationalen Funktion* zu untersuchen, wird eine *Polynomdivision* durchgeführt:

$$\begin{aligned}f(x) &= \left(\frac{1}{2}x^3 - 2x^2 - 3\right) : (x^2 - 3x) \\ &= \frac{1}{2}x - \frac{1}{2} - \frac{\frac{3}{2}x + 3}{x^2 - 3x} \quad .\end{aligned}\tag{6.57}$$

Durch die *Polynomdivision* wird deutlich, dass das *rationale Polynom* der *Funktion* gerade und ungerade Potenzen aufzeigt. Folglich besitzt die *Funktion* keine *Achsen-* oder *Punktsymmetrie*.

Schritt 3: Bestimme das *Verhalten* im *Unendlichen* und um die nicht definierten Bereiche. Um das *Verhalten* der *Funktion* zu verstehen, muss zunächst der *Grenzwert* des *gebrochen rationalen Terms* der *Funktion* nach der *Polynomdivision* verstanden werden.

$$\lim_{x \rightarrow \pm\infty} -\frac{\frac{3}{2}x + 3}{x^2 - 3x} = -\frac{\lim_{x \rightarrow \pm\infty} \frac{3}{2}}{\lim_{x \rightarrow \pm\infty} 2x - 3} = \pm 0 \quad .\tag{6.58}$$

In der Gleichung (6.58) wurde der *Satz von l'Hopital* angewendet, sodass sich zeigt, dass je nach Vorzeichen der *gebrochen rationale Term* der *Funktion* von unten beziehungsweise von oben gegen Null läuft. Somit ergeben sich folgende *Grenzwerte*:

$$\begin{aligned}\lim_{x \rightarrow \pm\infty} f(x) &= \pm\infty \quad , \\ \lim_{x \nearrow 0} f(x) &= -\infty & \lim_{x \searrow 0} f(x) &= \infty \quad , \\ \lim_{x \nearrow 3} f(x) &= \infty & \lim_{x \searrow 3} f(x) &= -\infty \quad .\end{aligned}\tag{6.59}$$

Schritt 4: Bestimmungen der *Polstellen* und ihrer Art. Aus Gleichung (6.59) zeigt sich, dass zwei *Polstellen mit Vorzeichenwechsel* existieren sie befinden sich bei:

$$x_{P_1} = 0 \wedge x_{P_2} = 3 \quad .\tag{6.60}$$

Schritt 5: Bestimme die *Asymptoten*, falls vorhanden. Um die *Asymptote* bestimmen zu können muss die *Funktion* nach der *Polynomdivision* aus Gleichung (6.57) betrachtet werden. Aus Gleichung (6.58) ist bekannt, dass der *gebrochen rationale Term* sich schnell der Null annähert, sodass dieser nur die Annäherungsrichtung an die *rationalen Terme* der *Funktion* beschreibt. Folglich ist die *Asymptote* gegeben durch:

$$A(x) = \frac{1}{2}x - \frac{1}{2} \quad .\tag{6.61}$$

Durch den *Grenzwert* aus Gleichung (6.58) ist ersichtlich, dass die *Asymptote* im negativen *Variablenwertebereich* von oben und im positiven *Variablenwertebereich* von unten angenähert wird.

Schritt 6: Bestimme die *Nullstellen*. Bei einer *gebrochen rationalen Funktion* ist bei der *Nullstellenbestimmung* der *Zähler* von Bedeutung. Somit gilt

$$0 \stackrel{!}{=} \frac{1}{2}x^3 - 2x^2 - 3 \Rightarrow x_N \approx 4,321 \Rightarrow N(4,321|0) . \quad (6.62)$$

Gleichung (6.62) wurde hierbei mit einem programmierbaren Taschenrechner gelöst, welcher bei *Funktionen höherer Ordnung* herangezogen werden sollte, da durch die schriftlichen *iterativen Verfahren* zur Lösung der Gleichung ansonsten zu viel Zeit benötigt werden würde.

Schritt 7: Bestimme die *Extrempunkte* und ihre Art. Um die Extremwerte zu bestimmen muss die erste *Ableitung* $f'(x)$ aus Gleichung (6.54) gleich Null gesetzt werden. Da es sich um eine *gebrochen rationale Funktion* handelt muss wie schon bei der *Nullstelle* nur der *Zähler* berücksichtigt werden:

$$0 \stackrel{!}{=} x^4 - 6x^3 + 12x^2 + 12x - 18 \Rightarrow x_{E_1} \approx -1,25166 \wedge x_{E_2} \approx 0,954537 . \quad (6.63)$$

Um die Art der *Extrempunkte* zu überprüfen, müssen die mit dem programmierbaren Taschenrechner bestimmten Werte aus Gleichung (6.63) in die zweite *Ableitung* $f''(x)$ eingesetzt werden:

$$\begin{aligned} f''(x_{E_1}) &\approx -1,60937 \Rightarrow E_{max}(-1,25166|-1,60937) , \\ f''(x_{E_2}) &\approx 2,88384 \Rightarrow E_{min}(0,954537|2,88384) . \end{aligned} \quad (6.64)$$

Schritt 8: Bestimme die *Wendepunkte*. Um die *Wendepunkte* zu bestimmen muss die zweite *Ableitung* $f''(x)$ gleich Null gesetzt werden. Wie schon bei den *Null-* und *Extremstellen* wird nur der *Zähler* betrachtet:

$$0 \stackrel{!}{=} 3x^3 - 18x^2 + 54x - 54 \Rightarrow x_W \approx -8,3984 . \quad (6.65)$$

Der ermittelte Wert muss abschließend noch in die dritte *Ableitung* $f'''(x)$ eingesetzt werden:

$$f'''(x_W) \approx -0,000317 \neq 0 \Rightarrow \exists x_W \text{ als Wendepunkt} . \quad (6.66)$$

Hierbei ist der *Wendepunkt* gegeben als:

$$W(-8,3984|-4,59897) . \quad (6.67)$$

Schritt 9: Überprüfe, ob ein *Wendepunkt* ein *Sattelpunkt* ist. Der berechnete *Variablenwert* des *Wendepunkts* x_W wird in die erste *Ableitung* $f'(x)$ eingesetzt.

$$f'(x_W) = 1,01013 \neq 0 \quad (6.68)$$

Wie aus Gleichung (6.68) ersichtlich wird, ist der *Wendepunkt* kein *Sattelpunkt*.

Schritt 10: Untersuche die *Funktion* in *Intervallen* nach ihrer *Monotonie*. Die *Monotonie* wird durch *Sattel-* und *Extrempunkte* sowie *Polstellen* beeinflusst. Folglich können an ihnen die *Grenzen* der *Intervalle* festgemacht werden:

$$\begin{aligned} f'(x) > 0 \quad \forall x \in] - \infty, x_{E_{max}} [& \quad \text{streng monoton steigend} \quad , \\ f'(x) < 0 \quad \forall x \in] x_{E_{max}}, 0 [& \quad \text{streng monoton fallend} \quad , \\ f'(x) < 0 \quad \forall x \in] 0, x_{E_{min}} [& \quad \text{streng monoton fallend} \quad , \\ f'(x) > 0 \quad \forall x \in] x_{E_{min}}, 3 [& \quad \text{streng monoton steigend} \quad , \\ f'(x) > 0 \quad \forall x \in] 3, \infty [& \quad \text{streng monoton steigend} \quad . \end{aligned} \quad (6.69)$$

Schritt 11: Untersuche die *Funktion* in *Intervallen* ob sie *konvex* oder *konkav* ist. Eine *Funktion* kann ihre *konkave* oder *konvexe* Eigenschaft nur an *Polstellen* und *Wendepunkten* wechseln, sodass die *Intervallgrenzen* durch diese *Punkte* gegeben sind:

$$\begin{aligned}] - \infty, x_W [& \quad \text{konvex} \quad , \\] x_W, 0 [& \quad \text{konkav} \quad , \\] 0, 3 [& \quad \text{konvex} \quad , \\] 3, \infty [& \quad \text{konvex} \quad . \end{aligned} \quad (6.70)$$

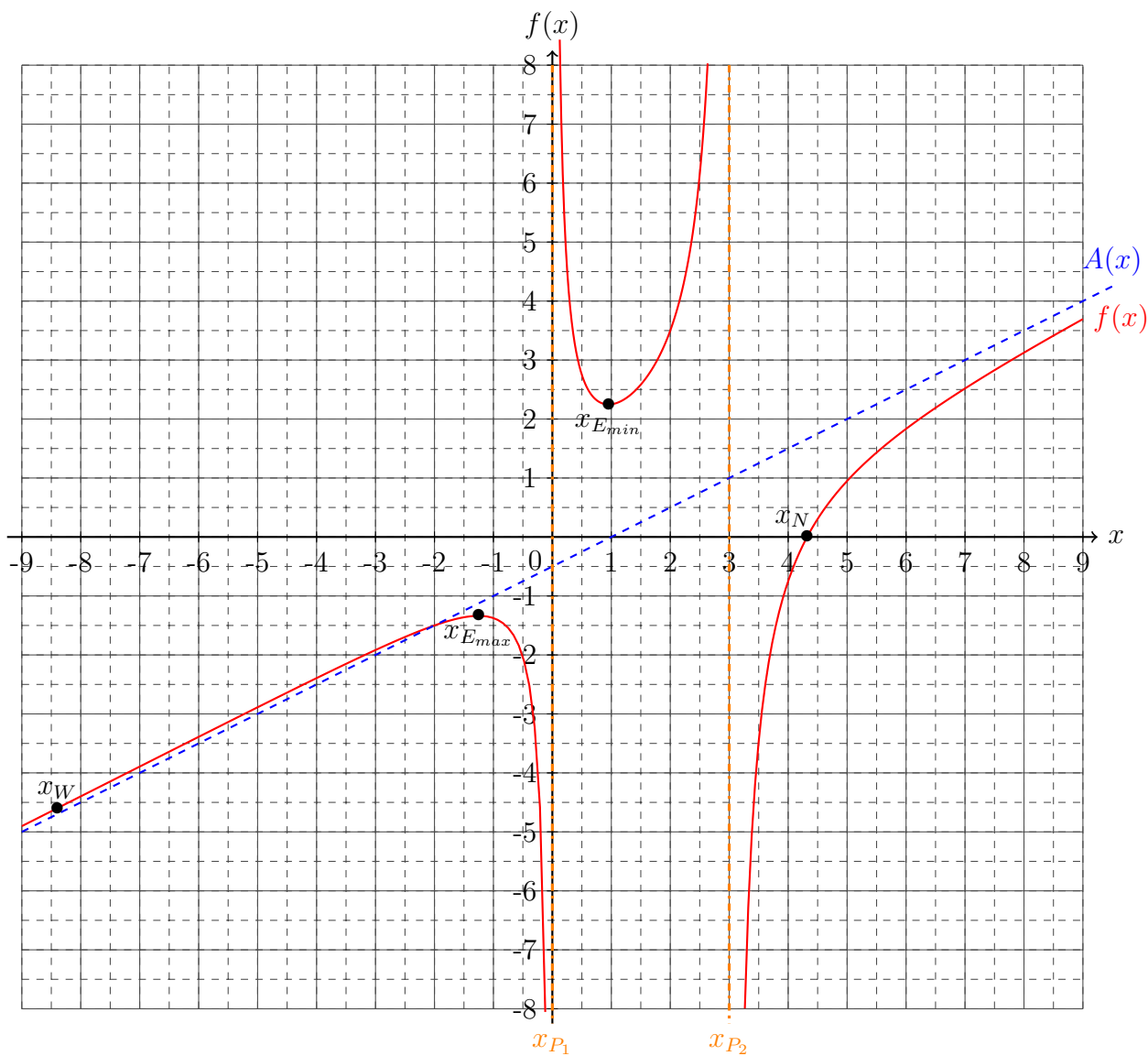
Durch die Untersuchung der *Grenzwerte* kann dies untermauert werden, da sich gegen $-\infty$ die *Funktion* von oben an die *Asymptote* $A(x)$ annähert aber allerdings bei der *Polstelle* $x_P = 0$ gegen $-\infty$ rennt, muss die *Funktion* vorm *Wendepunkt* *konvex* sein. Ähnliche Argumentationen lassen sich auch für die anderen *Intervalle* anstellen.

Schritt 12: Bilde die *Stammfunktion* $F(x)$ der Funktion $f(x)$. Dazu wird das *unbestimmte Integral* der *Funktion* gebildet:

$$\int f(x) dx = F(x) = \frac{1}{4} ((x-2)x - 10 \ln(3-x) + 4 \ln x) + c \quad , \quad (6.71)$$

wobei die die *Funktion* in aus Gleichung (6.57) durch *Faktorisierung* des *Nenners* und einer weiteren *Polynomdivision* noch weiter umgeformt wurde, sodass die *Nenner* leicht durch die *Integration* in einen *Logarithmus* überführt werden konnten.

Schritt 13: Zeichne den *Graphen* der *Funktion*. Hierfür werden zunächst alle ermittelten *Punkte* und zusätzliche Informationen in das *Koordinatensystem* eingefügt um dann noch fehlende Bereiche mit *Punkten* aus einer *Wertetabelle* zu bestimmen.



Eine *vollständige Kurvendiskussion* beansprucht viel Zeit und viele Kombinationen des bereits erlernten Wissens über die *Analysis* und *Algebra*. Dennoch ist eine *Kurvendiskussion* unabdingbar, wenn ein Sachverhalt in der Wirtschaft, der Naturwissenschaften oder anderen Bereichen genaustens beleuchtet werden muss.

6.6.8 Übungsaufgaben zur Kurvendiskussion

Aufgabe 1: Berechne die Extrempunkte (mit hinreichender und notwendiger Bedingung).

a) $f(x) = x^2 - 4x - 5$

b) $f(x) = 2x^2 - 3x + 8$

c) $f(x) = 3x^2 + 2x - 1$

d) $f(x) = \frac{1}{3}x^2 + \frac{3}{5}x + \frac{13}{17}$

e) $f(x) = x^3 + x^2 - x - 1$

f) $f(x) = x^3 - 5x - 10$

g) $f(x) = \frac{1}{2}x^3 + \frac{7}{4}x^2$

h) $f(x) = \frac{2}{3}x^3 + \frac{1}{6}x^2 - 9x$

i) $f(x) = (x - 1)e^x$

j) $f(x) = x^2e^x$

k) $f(x) = xe^{x^2}$

l) $f(x) = (3x - 2)e^{\frac{1}{2}x}$

m) $f(x) = (2x^2 - x - 4)e^{\frac{1}{4}x}$

n) $f(x) = \left(-\frac{1}{2}x + 2\right)e^{\pi x^2}$

Aufgabe 2: Berechne die Wendepunkte (mit hinreichender und notwendiger Bedingung) und überprüfe ob diese Sattelpunkte sind.

a)

b)

Aufgabe 3: Führe eine vollständige Kurvendiskussion durch.

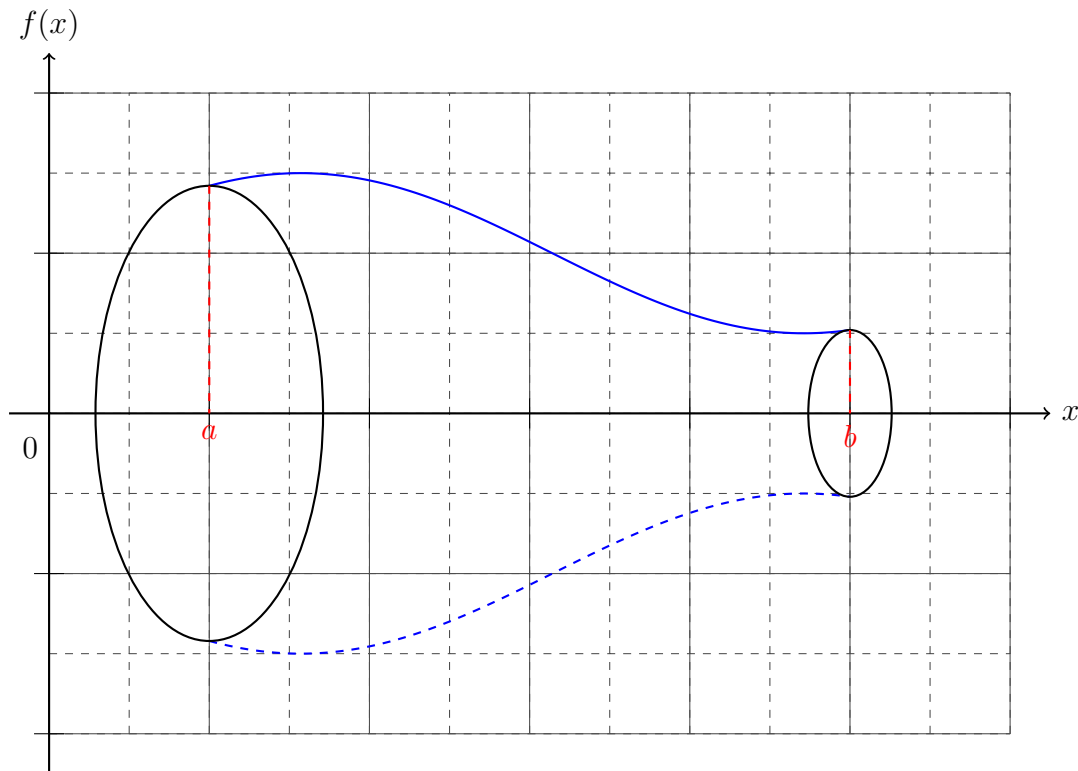
a)

b)

Die Lösungen zu diesem Abschnitt finden sich im Anhang im Abschnitt (??) Lösungen zur Kurvendiskussion.

6.7 Rotationskörper

Mit dem *Integral* ist es nicht nur möglich eingeschlossene *Flächeninhalte* zu bestimmen, sondern auch von dreidimensionalen Körpern, welche entstehen, wenn die eingeschlossene *Fläche* um eine Achse rotiert wird. Diese *Rotationskörper* können benutzt werden, um das *Volumen* und die *Oberfläche* von Objekten wie zum Beispiel Vasen zu bestimmen.



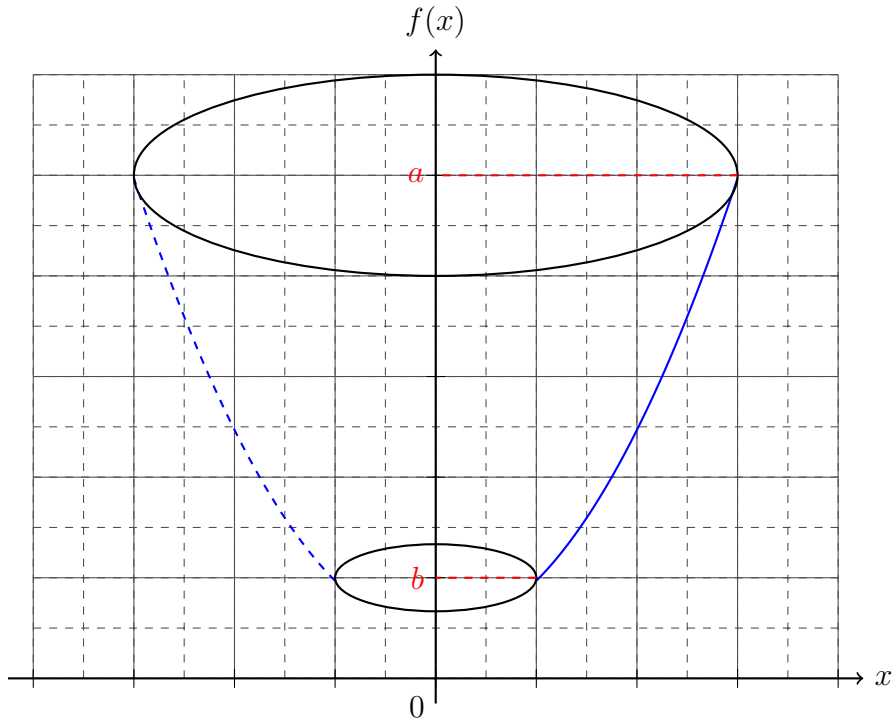
Für das *Volumen* ergibt sich, wie aus der *Geometrie* bekannt, *Grundfläche* mal *Höhe*, wobei über alle möglichen *Höhen* im *Intervall* integriert wird

$$V_x = \pi \int_a^b f^2(x) dx \quad , \quad (6.72)$$

und für die *Mantelfläche*

$$M_x = 2\pi \int_a^b f(x) \sqrt{1 + f'^2(x)} dx \quad . \quad (6.73)$$

Für die *Rotation* um die *Ordinate*



ergibt sich

$$V_y = 2\pi \int_a^b x f(x) dx . \quad (6.74)$$

Genauere *Herleitungen* dieser *Gleichungen* werden in einer späteren Version des Buches folgen.

6.7.1 Übungsaufgaben zu den Rotationskörpern

Aufgabe 1: *Berechne das Volumen des Rotationskörpers um die Koordinate in den angegebenen Grenzen.*

a) b)

Aufgabe 2: *Berechne das Volumen des Rotationskörpers um die Ordinate in den angegebenen Grenzen.*

a) b)

Aufgabe 3: *Berechne das Volumen des Rotationskörpers um die Koordinate in den angegebenen Grenzen.*

a) b)

Aufgabe 4: *Berechne das Volumen des Rotationskörpers um die Ordinate in den angegebenen Grenzen.*

a) b)

Aufgabe 5: *Berechne die Oberfläche des Rotationskörpers um die Koordinate in den angegebenen Grenzen.*

a) b)

Die Lösungen zu diesem Abschnitt finden sich im Anhang im Abschnitt (??) Lösungen zu den Rotationskörpern.

6.8 Taylorentwicklung

Viele *Funktionen* sind relativ einfach zu *differenzieren*, allerdings schwer zu analysieren. Durch die sogenannte *Taylorentwicklung* kann jede *Funktion* *iterativ* durch ein *Polynom* beschrieben werden. Die *Taylorentwicklung* ist definiert durch die *Taylorreihe*:

$$\mathcal{T}_f(x; a) = \sum_{n=0}^{\infty} \frac{f^{(n)}(x)}{n!} \Big|_{x=a} (x-a)^n . \quad (6.75)$$

Die *Taylorreihe* \mathcal{T} der *Funktion* $f(x)$ um die Stelle a ist gegeben durch *Summe* der n -ten *Ableitungen* $f^{(n)}(x)$ durch die n -te *Fakultät*. Nachdem die *Ableitungen* gebildet wurden soll links vom Querstrich $|$ alle *Variablen* x durch den Wert a ersetzt werden. Abschließend bekommt jeder *Summand* der gesamten *Summe* ein *binomiales Polynom* der n -ten *Ordnung*.

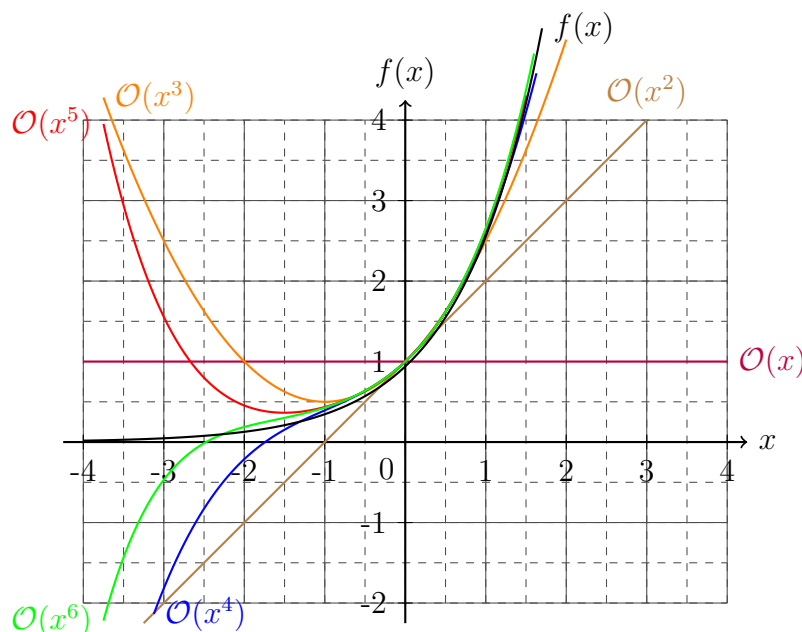
Mittels der *Taylorreihe*, kann jeder *Funktion* als *Polynom* dargestellt werden. Somit ist die *Entwicklung* einer beliebigen *Funktion* $f(x)$ um den Wert $a = 0$ gegeben durch:

$$\begin{aligned} \mathcal{T}_f(x; 0) &= \frac{f^{(0)}(0)}{0!} (x-0)^0 + \frac{f^{(1)}(0)}{1!} (x-0)^1 + \frac{f^{(2)}(0)}{2!} (x-0)^2 + \frac{f^{(3)}(0)}{3!} (x-0)^3 + \mathcal{O}(x^4) \\ &= f(0) + f'(0)x + \frac{f''(0)}{2!} x^2 + \frac{f'''(0)}{6} x^3 + \mathcal{O}(x^4) . \end{aligned} \quad (6.76)$$

Unter der Anwendung der Gleichung (6.75) kann die *Funktion* $f(x) = e^x$ um $a = 0$ entwickelt werden.

$$\mathcal{T}_f(x; 0) = 1 + x + \frac{1}{2}x^2 + \frac{1}{6}x^3 + \frac{1}{24}x^4 + \frac{1}{120}x^5 + \mathcal{O}(x^6) . \quad (6.77)$$

Graphisch lässt sich die Annäherung an der *Funktion* $f(x)$ um den *Punkt* $a = 0$ durch die Einzeichnung der *Graphen* je nach betrachteter *Ordnung* $\mathcal{O}(x^n)$. Hieraus folgt, dass mit zunehmender *Ordnung* die Genauigkeit der Annäherung zunimmt.



6.8.1 Übungsaufgaben zur Taylorentwicklung

Aufgabe 1: *Entwickle bis zur angegebenen Ordnung und um den angegebenen Punkt.*

- a) $f(x) = \sin(x)$ bis $\mathcal{O}(x^8)$ um $a = 0$ $\forall x \in \mathbb{R}$
b) $f(x) = \cos(x)$ bis $\mathcal{O}(x^9)$ um $a = 0$ $\forall x \in \mathbb{R}$
c) $f(x) = \sqrt{1+x}$ bis $\mathcal{O}(x^5)$ um $a = 0$ $\forall |x| \leq 1$
d) $f(x) = \frac{1}{\sqrt{1+x}}$ bis $\mathcal{O}(x^5)$ um $a = 0$ $\forall |x| < 1$

Die Lösungen zu diesem Abschnitt finden sich im Anhang im Abschnitt (??) Lösungen zur Taylorentwicklung.

6.9 Differentialgleichungen 1. Ordnung

Differentialgleichungen beschreiben Zusammenhänge zwischen einer *Funktion* und seinen *Ableitungen*. Diese *Gleichungen* können über *Integration* und *Ableitungsansätze* gelöst werden. Generell sind zwei *Differentialgleichungstypen* mit jeweils zwei Unterarten mit den bereits vorgestellten Methoden lösbar. In diesem Abschnitt werden die *Differentialgleichungen* erster *Ordnung* vorgestellt, also dem Zusammenhang zwischen der *Funktion* und seiner *ersten Ableitung*. Dabei wird jeder *Differentialgleichung* in zwei Teile aufgeteilt, in den *homogenen* und *inhomogenen* Teil, welche man über jeweils andere Methoden lösen kann.

$$\underbrace{f(x) - \omega f'(x)}_{\text{homogen}} = \underbrace{k}_{\text{inhomogen}} \quad (6.78)$$

Um diese beispielhafte *Differentialgleichung* zu lösen, wird stets zu erst die *homogene Differentialgleichung* gelöst. Dazu wird sich der bekannten *Operatoralgebra* bemächtigt und alles was sich auf die *Variable* x bezieht auf die eine Seite des Gleichheitszeichen und alles was sich auf die *Funktionsvariable* f bezieht auf die andere Seite des Gleichheitszeichen gebracht.

$$\begin{aligned} f(x) - \frac{1}{\omega} f'(x) &= 0 \\ f - \frac{1}{\omega} \frac{df}{dx} &= 0 \quad \left| + \frac{1}{\omega} \frac{df}{dx} \right. \\ f &= \frac{1}{\omega} \frac{df}{dx} \quad \left| \cdot dx \right. \\ f dx &= \frac{1}{\omega} df \quad \left| : f \right. \\ dx &= \frac{1}{\omega} \frac{1}{f} df \quad \left| \int \right. \\ \int dx &= \int \frac{1}{\omega} \frac{1}{f} df \quad (6.79) \\ x + c &= \frac{1}{\omega} \ln(f) \quad \left| \cdot \omega \right. \\ x\omega + c\omega &= \ln(f) \quad \left| e^{(\cdot)} \right. \\ e^{x\omega + c\omega} &= f(x) \\ \Rightarrow f_H(x) &= e^{x\omega + c\omega} \\ f_H(x) &= e^{x\omega} \cdot e^{c\omega} \\ f_H(x) &= e^{x\omega} \cdot e^{c\omega} \\ f_H(x) &= A e^{x\omega} \end{aligned}$$

Dieses Verfahren wird *Separation der Variablen* genannt. Dieses Verfahren zeichnet sich wie gezeigt dadurch aus, dass die *Variablen* separiert werden, eine *Integration* durchgeführt und anschließend nach der *Funktionsvariablen* aufgelöst wird. Bei der *Integration* darf niemals die *Integrationskonstante* c vergessen werden. Im letztem Schritt wurden die *Konstanten* zusammengefasst und durch A *substituiert*.

Nachdem die *homogene Lösung* der *Differentialgleichung* gefunden wurde, muss noch die *inhomogene Gleichung* bestimmt werden. Dies wird in der Regel durch den *Ansatz* „*Variation*

der Konstanten“ bewerkstelligt. Für diesen Ansatz wird die *substituierte* zusammengefasste Konstante A in Abhängigkeit der Variable x gesetzt.

$$\begin{aligned} f_H(x) &= Ae^{x\omega} \\ \Rightarrow \text{Ansatz: } f_A(x) &= A(x)e^{x\omega} \\ f'_A(x) &= \omega A(x)e^{x\omega} + A'(x)e^{x\omega} \end{aligned} \quad (6.80)$$

Dieser Ansatz $f_A(x)$ mit seiner Ableitung $f'_A(x)$ wird in die *Differentialgleichung* eingesetzt und anschließend für die entstehende *Differentialgleichung* der ehemaligen Konstante gelöst.

$$\begin{aligned} f(x) - \frac{1}{\omega}f'(x) &= k \\ \Rightarrow A(x)e^{x\omega} - \frac{1}{\omega}(\omega A(x)e^{x\omega} + A'(x)e^{x\omega}) &= k \\ \frac{1}{\omega}A'(x)e^{x\omega} &= k \quad \left| \text{Separation der Variablen} \right. \\ \frac{1}{\omega} \frac{dA}{dx} e^{x\omega} &= k \quad \left| \begin{array}{l} e^{x\omega} \\ \omega dx \end{array} \right. \\ dA &= \omega k e^{-x\omega} dx \quad \left| \int \right. \\ \int dA &= \int \omega k e^{-x\omega} dx \\ \Rightarrow A(x) &= -k e^{-x\omega} + c \end{aligned} \quad (6.81)$$

Die Lösung für $A(x)$ wird in den Ansatz aus Gleichung (6.80) eingesetzt, sodass die *inhomogene* Lösung - die *partikuläre* Lösung - $f_p(x)$ gefunden wurde:

$$\begin{aligned} f_A(x) &= A(x)e^{x\omega} \quad \text{mit } A(x) = -k e^{-x\omega} + c \\ \Rightarrow f_p(x) &= (-k e^{-x\omega} + c) e^{x\omega} \\ \Rightarrow f_p(x) &= -k + c e^{x\omega} . \end{aligned} \quad (6.82)$$

Die gesamte Lösung der *Differentialgleichung* ergibt sich durch die *Addition* der *homogenen* $f_H(x)$ und der *partikulären* Lösung $f_p(x)$.

$$\begin{aligned} f(x) &= f_H(x) + f_p(x) \\ \Rightarrow f(x) &= Ae^{x\omega} - k + ce^{x\omega} \\ f(x) &= (A + c)e^{x\omega} - k \\ f(x) &= Be^{x\omega} - k . \end{aligned} \quad (6.83)$$

Durch spezielle Bedingungen an die *Differentialgleichung* kann die *Konstante* B genauestens bestimmt werden. Wie mit diesen *Randbedingungen* umgegangen wird, wird in einer späteren Version des Buches detailliert in Beispielen ausgeführt.

6.9.1 Übungsaufgaben zu Differentialgleichungen 1. Ordnung

Aufgabe 1: Löse die homogenen Differentialgleichungen durch Separation der Variablen.

a) b)

Aufgabe 2: Finde die inhomogenen Lösungen der Differentialgleichungen durch Variation der Konstanten.

a) b)

Aufgabe 3: Löse die inhomogenen Differentialgleichungen durch Separation der Variablen und Variation der Konstanten.

a) b)

Die Lösungen zu diesem Abschnitt finden sich im Anhang im Abschnitt (??) Lösungen zu Differentialgleichungen 1. Ordnung.

6.10 Differentialgleichungen 2. Ordnung

Die zweite *Differentialgleichungsart* ist die *Differentialgleichung* zweiter *Ordnung*. Diese stellt einen Zusammenhang zwischen der *Funktion*, der ersten und der zweiten *Ableitung* auf. In diesem Abschnitt werden die *inhomogenen Differentialgleichungen* zweiter *Ordnung* ausgelassen, da sie selten in der Naturwissenschaft vorkommen und individueller mit verschiedenen speziellen *Ansätzen* behandelt werden müssen. *Inhomogene Differentialgleichungen* zweiter *Ordnung* werden in einer späteren Version des Buches ausführlicher erläutert.

$$f''(x) + \gamma f'(x) - \omega^2 f(x) = 0 \quad (6.84)$$

Um eine *homogene Differentialgleichung* zweiter *Ordnung* zu lösen, wird in der Regel der *Exponentialansatz*

$$f(x) = Ae^{\lambda t} \quad (6.85)$$

und die damit verbundenen *Ableitungen* verwendet

$$\begin{aligned} f'(x) &= \lambda Ae^{\lambda t} \\ f''(x) &= \lambda^2 Ae^{\lambda t} \end{aligned} \quad (6.86)$$

und in die *Differentialgleichung* eingesetzt

$$\lambda^2 Ae^{\lambda t} + \gamma \lambda Ae^{\lambda t} - \omega^2 Ae^{\lambda t} = 0 \quad (6.87)$$

Mittels dieses *Ansatzes* wurde die unbekannte *Funktion* $f(x)$ durch den unbekanntem *Parameter* λ ersetzt. Der *Parameter* A kann durch *Randbedingungen* ungleich Null gewählt werden. Durch die Eigenschaften der *Exponentialfunktion* und der Irrelevanz des *Parameters* A kann die Gleichung für λ über *quadratische Ergänzung* gelöst werden.

$$\begin{aligned} \lambda^2 Ae^{\lambda t} + \gamma \lambda Ae^{\lambda t} - \omega^2 Ae^{\lambda t} &= 0 && | : Ae^{\lambda t} \\ \lambda^2 + \gamma \lambda - \omega^2 &= 0 && \left| + \frac{\gamma^2}{4} \right. \\ \lambda^2 + \gamma \lambda + \frac{\gamma^2}{4} - \omega^2 &= \frac{\gamma^2}{4} && \left| + \omega^2 \right. \\ \lambda^2 + \gamma \lambda + \frac{\gamma^2}{4} &= \frac{\gamma^2}{4} + \omega^2 && \\ \left(\lambda + \frac{\gamma}{2} \right)^2 &= \frac{\gamma^2}{4} + \omega^2 && \left| \sqrt{\quad} \right. \\ \lambda_{1,2} + \frac{\gamma}{2} &= \pm \sqrt{\frac{\gamma^2}{4} + \omega^2} && \left| - \frac{\gamma}{2} \right. \\ \lambda_{1,2} &= -\frac{\gamma}{2} \pm \sqrt{\frac{\gamma^2}{4} + \omega^2} \end{aligned} \quad (6.88)$$

Diese beiden Lösungen für den *Parameter* λ werden in den *Ansatz* $f(x) = Ae^{\lambda t}$ eingesetzt und die beiden Lösungen zusammen *addiert*:

$$\begin{aligned} f(x) &= Ae^{\lambda_1 t} + Ae^{\lambda_2 t} \\ f(x) &= Ae^{\left(-\frac{\gamma}{2} + \sqrt{\frac{\gamma^2}{4} + \omega^2}\right)t} + Ae^{\left(-\frac{\gamma}{2} - \sqrt{\frac{\gamma^2}{4} + \omega^2}\right)t} . \end{aligned} \tag{6.89}$$

Über den *Exponentialansatz* kann jede *homogene Differentialgleichung* zweiter *Ordnung* gelöst werden.

6.10.1 Übungsaufgaben zu Differentialgleichungen 2. Ordnung

Aufgabe 1: Löse die homogenen Differentialgleichungen durch den exponentiellen Ansatz.

a) b)

Aufgabe 2: Finde die inhomogenen Lösungen der Differentialgleichungen durch den angegebenen Ansatz.

a) b)

Aufgabe 3: Finde die inhomogenen Lösungen der Differentialgleichungen und den Ansatz zur Lösung.

a) b)

Aufgabe 4: Löse die inhomogenen Differentialgleichungen.

a) b)

Die Lösungen zu diesem Abschnitt finden sich im Anhang im Abschnitt (??) Lösungen zu Differentialgleichungen 2. Ordnung.

6.11 Distributionen

Eine *Distribution* ist im tieferem Sinne keine *Funktion*. Die δ -*Distribution* kann durch *Funktionen* und *Grenzwerte* ausgedrückt werden und ist ausschließlich unter einem *Integral* vorzufinden. Die δ -*Distribution* besitzt folgende Eigenschaften:

$$\begin{aligned}
 \int_{-\infty}^{\infty} f(x)\delta(x)dx &= f(0) \\
 \int_{-\infty}^{\infty} f(x)\delta(x-a)dx &= f(a) \\
 \int_{-\infty}^{\infty} \delta(x)dx &= 1 \\
 \int_{-\infty}^{\infty} \delta(x-a)dx &= 1 \\
 \int_a^b \delta(x-c)dx &= \begin{cases} f(c) & , \forall a < c < b \\ \frac{1}{2}f(c) & , \forall a = c \vee b = c \\ 0 & , \forall c < a < b \vee a < b < c \end{cases} \\
 \delta(-x) &= \delta(x) \\
 \delta(ax) &= \frac{1}{|a|}\delta(x) \quad \forall a \neq 0 \\
 \delta(h(x)) &= \frac{1}{|h'(a)|}\delta(x-a) \quad \text{mit: } h(a) = 0 \wedge h'(a) \neq 0 \text{ für: } \exists!x_N = a \\
 \delta(h(x)) &= \sum_{n=1}^N \frac{1}{|h'(a_n)|}\delta(x-a_n) \quad \text{mit: } h(a_n) = 0 \wedge h'(a_n) \neq 0 \\
 \int_{-\infty}^{\infty} f(x)\delta'(x-a) &= -f'(a) \\
 H'(x) &= \delta(x)
 \end{aligned} \tag{6.90}$$

Wobei $H(x)$ eine spezielle *Stufenfunktion* ist. Es handelt sich um die *Heaviside-Funktion*. Sie ist definiert durch:

$$H(x) = \begin{cases} 0 & , \forall x < 0 \\ \frac{1}{2} & , \forall x = 0 \\ 1 & , \forall x > 0 \end{cases} \tag{6.91}$$

Die δ -*Distribution* wurde in der Physik eingeführt um analytische Probleme zu umgehen und auf die physikalischen Messungen anzupassen. So kann bei einer elektrischen Punktquelle die Quellladung durch die δ -*Distribution* beschrieben, während sich ohne sie zuvor eine *Unendlichkeit* auftrat.

6.11.1 Übungsaufgaben zu Distributionen

Aufgabe 1: *Löse die Integrale mit Distribution.*

a) b)

Aufgabe 2: *Zeige die Richtigkeit der Gleichungen.*

a) b)

Die Lösungen zu diesem Abschnitt finden sich im Anhang im Abschnitt (??) Lösungen zu Distributionen.

6.12 Gemischte Aufgaben zu Analysis

Aufgabe 1: Löse die Differentialgleichung und führe bei der gefunden Funktionsgleichung eine Kurvendiskussion durch.

a) b)

Aufgabe 2: Die gesuchte Funktion schneidet die Koordinate bei einem Variablenwert von $x = 2$ und ist ein Polynom zweiter Ordnung. Außerdem besitzt die Funktion ein Maximum bei $E_{\max}(1|3)$. Bestimme die Funktionsgleichung.

Aufgabe 3: Die gesuchte Funktion dritten Grades besitzt einen Sattelpunkt bei $S(1|\frac{1}{2})$ und schneidet die Koordinate bei $x = -\frac{1}{4}$. Bestimme die Funktionsgleichung.

Aufgabe 4: Die gesuchte Exponentialfunktion verdoppelt ihren Funktionswert nach einer Veränderung des Variablenwertes um ein Drittel. Außerdem schneidet die Funktion die Ordinate beim Wert -1 . Bestimme die Funktionsgleichung.

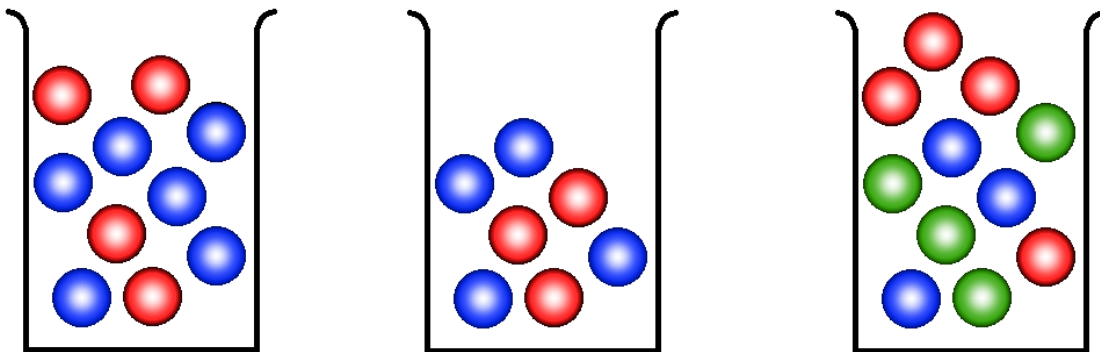
Aufgabe 5: Die gesuchte Funktion vierten Grades berührt die Koordinate bei den Werten $x_1 = 0,25$ und $x_2 = -1,75$ und besitzt zum Variablenwert $x = 1$ den Funktionswert $f(1) = 5$. Bestimme die Funktionsgleichung.

Die Lösungen zu diesem Abschnitt finden sich im Anhang im Abschnitt (??) Lösungen zu den gemischten Aufgaben zur Analysis.

7 Wahrscheinlichkeitsrechnung

Die *Wahrscheinlichkeitsrechnung* basiert darauf, dass die Ergebnisse in *Verhältnissen* (2 : 3 „Zwei zu Drei“) oder in *Prozentwerten* 25% angegeben werden. Beide dieser Angabearten basieren auf der *Bruchrechnung*. Folglich kann aus den *Verhältnissen* der *Prozentwert* bestimmt werden, da es sich um einen *Bruch* in einer Schreibweise mit dem *Divisionsoperator* handelt.

Nahezu alle einfachen *Wahrscheinlichkeitsprobleme* können auf Ziehungen von Kugeln mit einer Farbe aus einem Behältnis übersetzt werden. Dabei gibt der *Nenner* des *Bruches*, der die *Wahrscheinlichkeit* beschreibt, die Gesamtanzahl der Kugeln an, während der *Zähler* die Anzahl der betrachteten Farbe der Kugeln angibt.



$$\text{rot: } \frac{4}{10} = 40\%$$

$$\text{blau: } \frac{6}{10} = 60\%$$

$$\text{rot: } \frac{3}{7} \approx 42,86\%$$

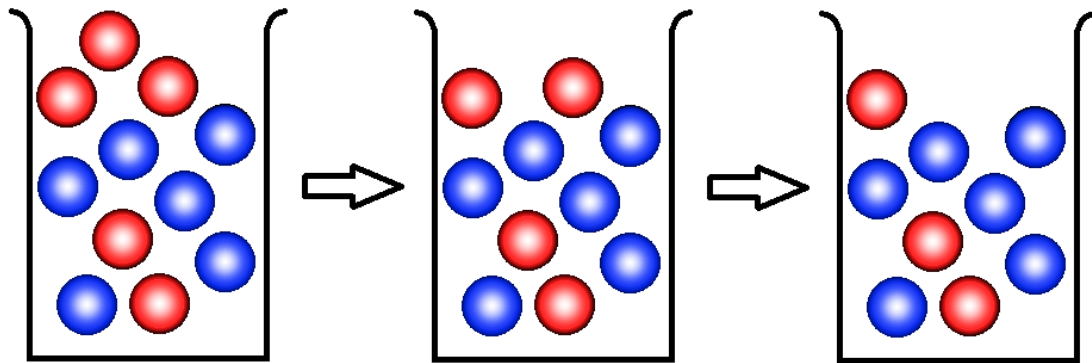
$$\text{blau: } \frac{4}{7} \approx 57,14\%$$

$$\text{rot: } \frac{4}{11} = 36,3\overline{6}\%$$

$$\text{blau: } \frac{3}{11} = 27,2\overline{7}\%$$

$$\text{grün: } \frac{4}{11} = 36,3\overline{6}\%$$

Wenn nun Ziehungen aneinander gereiht werden und die *Wahrscheinlichkeit* für jeden einzelnen Zug bestimmt werden soll, dann muss zunächst geklärt werden, ob die gezogene Kugel wieder zurück gelegt wird oder eben nicht. Wenn es sich um eine Ziehung mit Zurücklegen (ZmZ) handelt, dann ist die jeweilige *Wahrscheinlichkeit* der Farbarten der Kugeln konstant. Wenn allerdings die Kugel nicht zurück gelegt wird, dann reduziert sich die Gesamtanzahl der Kugeln - der *Nenner* - und die Anzahl der Kugeln mit der Farbe, welche gezogen wurde, um eins. Während die Kugelanzahlen - der jeweilige *Zähler* - *konstant* bleiben.



$$\text{rot: } \frac{5}{11} = 45, \overline{45}\%$$

$$\text{blau: } \frac{6}{11} = 54, \overline{54}\%$$

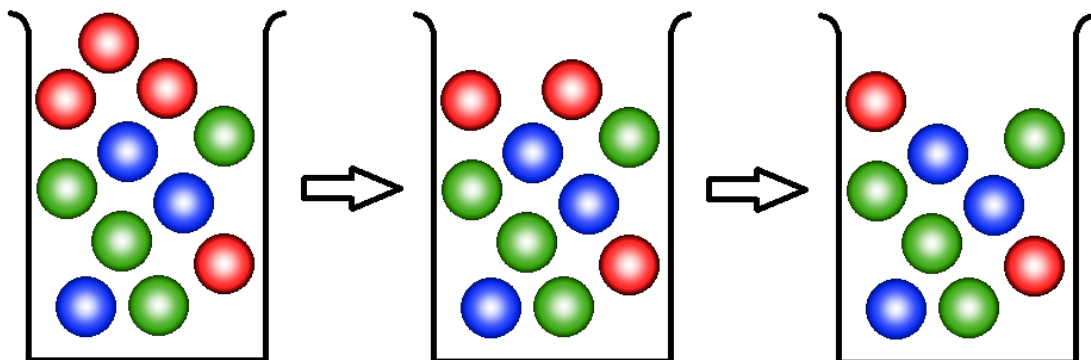
$$\text{rot: } \frac{4}{10} = 40\%$$

$$\text{blau: } \frac{6}{10} = 60\%$$

$$\text{rot: } \frac{3}{9} = 33, \overline{3}\%$$

$$\text{blau: } \frac{6}{9} = 66, \overline{6}\%$$

Dabei macht es keinen Unterschied, ob zwei, drei, vier oder mehr Farben vorhanden sind.



$$\text{rot: } \frac{4}{11} = 36, \overline{36}\%$$

$$\text{blau: } \frac{3}{11} = 27, \overline{27}\%$$

$$\text{grün: } \frac{4}{11} = 36, \overline{36}\%$$

$$\text{rot: } \frac{3}{10} = 30\%$$

$$\text{blau: } \frac{3}{10} = 30\%$$

$$\text{grün: } \frac{4}{10} = 40\%$$

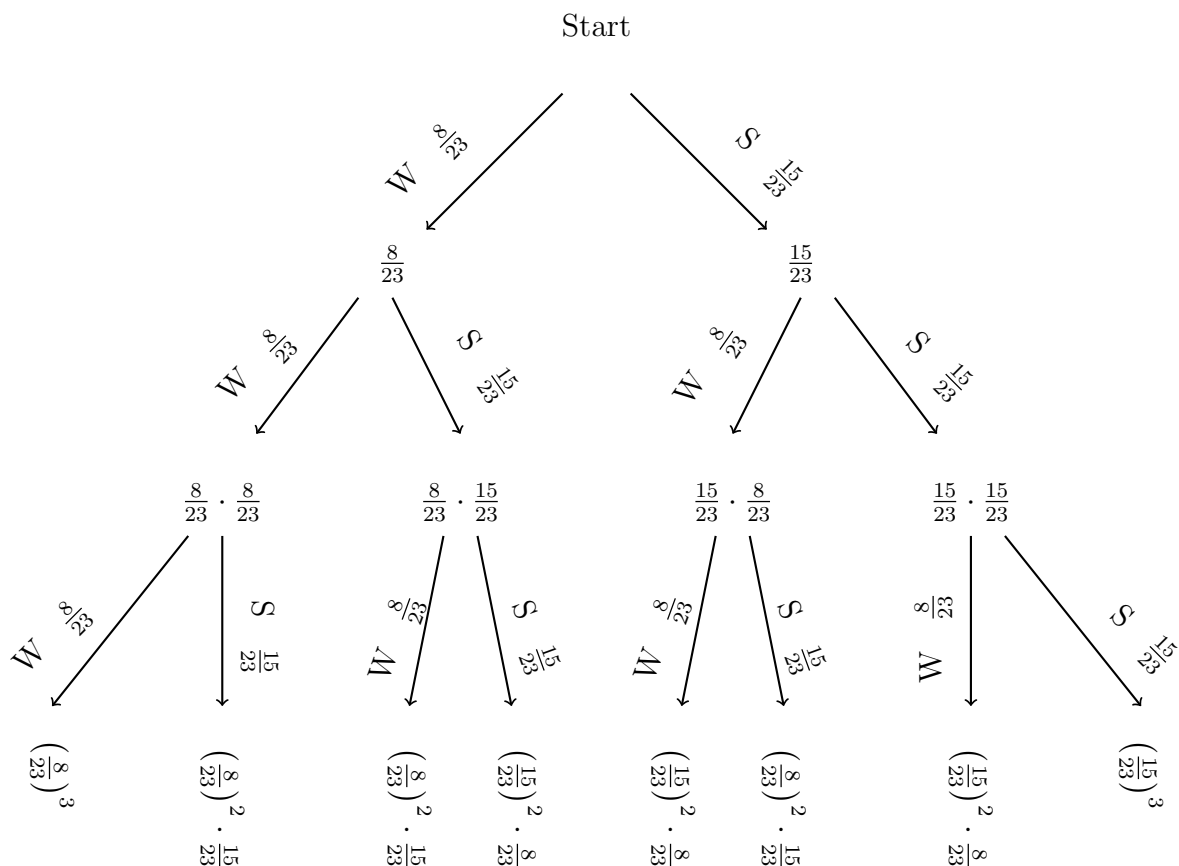
$$\text{rot: } \frac{2}{9} = 22, \overline{2}\%$$

$$\text{blau: } \frac{3}{9} = 33, \overline{3}\%$$

$$\text{grün: } \frac{4}{9} = 44, \overline{4}\%$$

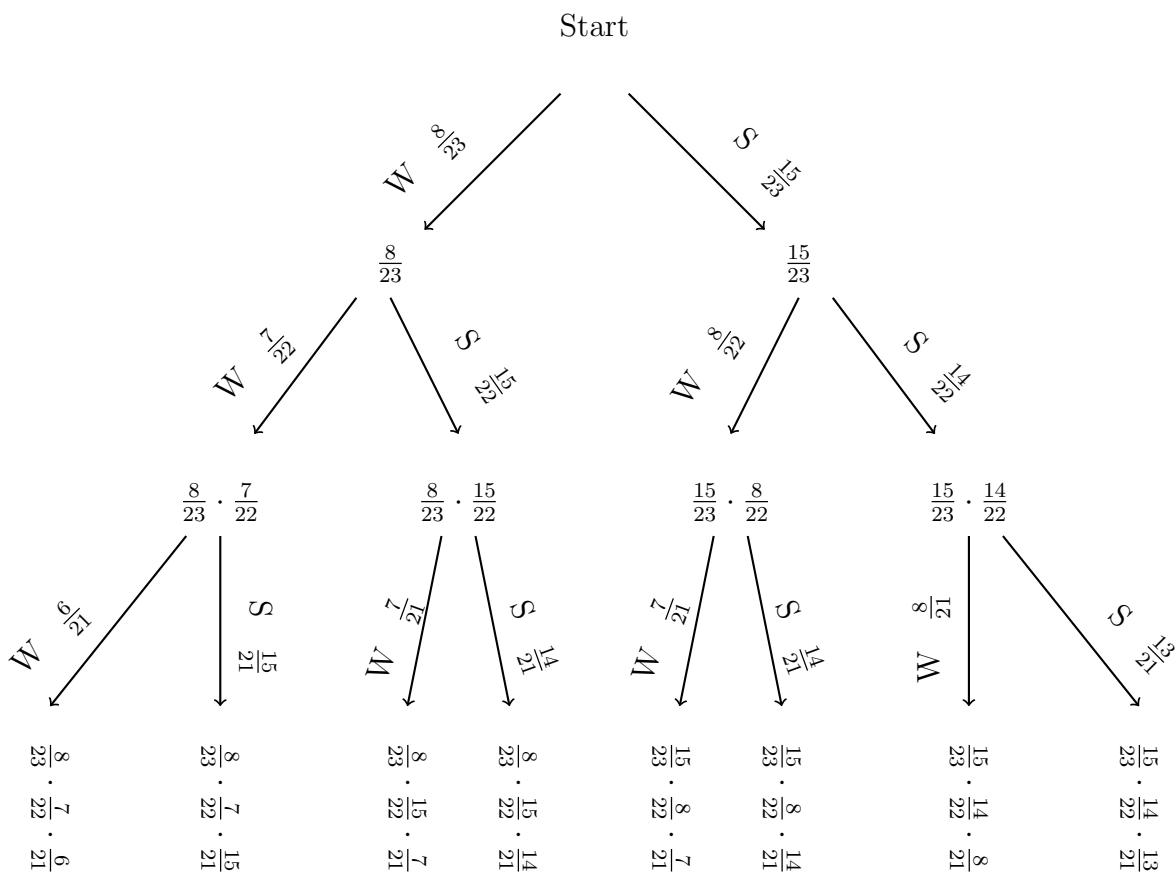
Sei im weiteren ein Gefäß gegeben in dem sich 8 weiße und 15 schwarze Kugeln befinden. Aus diesem Gefäß soll dreimal eine Kugel gezogen und anschließend wieder zurückgelegt werden. Wie hoch ist die *Wahrscheinlichkeit* für jede mögliche Reihenfolge der Ziehungen? Diese Frage lässt sich schnell durch ein sogenanntes *Baumdiagramm* beantworten. Dabei wird von einem Startwert, also 100% ausgegangen und dann die erste Ziehung vollführt. Anschließend wird von

den neuen Startwerten ($100\% \cdot \frac{8}{23}$ und $100\% \cdot \frac{15}{23}$) erneut gezogen. Die Zugwahrscheinlichkeit wird dann mit dem vorangegangenen Startwert *multipliziert*. Da die *Summe* aller möglichen Einzelwahrscheinlichkeit wieder 100% ergeben muss, lassen sich die Zwischenwahrscheinlichkeiten bei aneinander gereihten Ziehungen leicht durch *Addition* überprüfen.

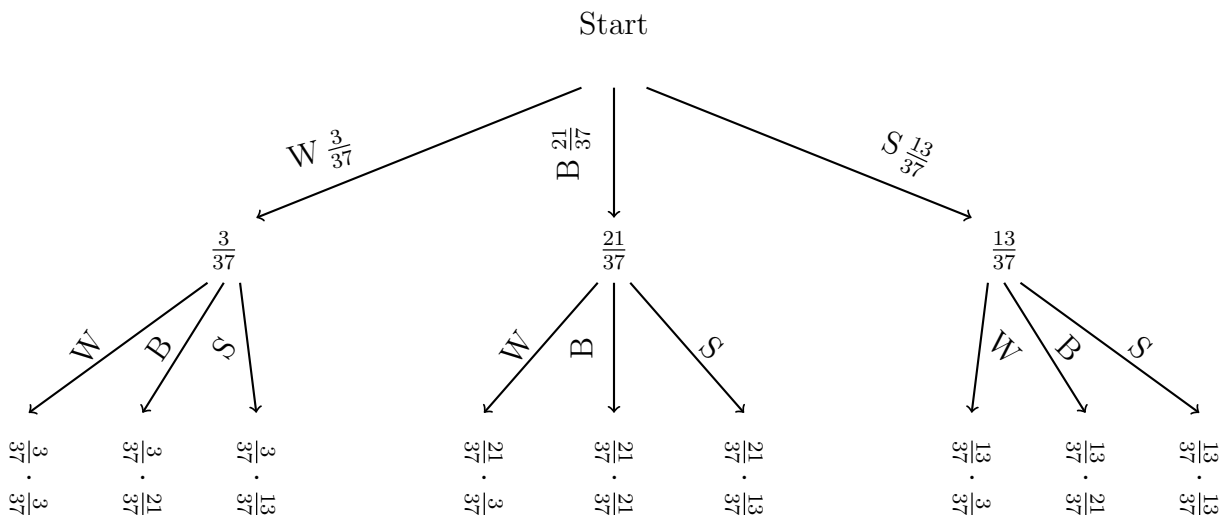


Das *Baumdiagramm* zeigt, wie sich so eine Ziehung fortsetzt und liefert die Endwahrscheinlichkeiten für jeden *Pfad*. Oftmals ist die Reihenfolge in der die Kugeln gezogen werden von keiner Bedeutung, sodass alle *Pfade* mit der gewünschten Anzahl der jeweiligen Kugeln *zusammenaddiert* werden müssen. Bei Ziehungen mit Zurücklegen muss lediglich die Anzahl der *Pfade* mit der Endwahrscheinlichkeit *multipliziert* werden.

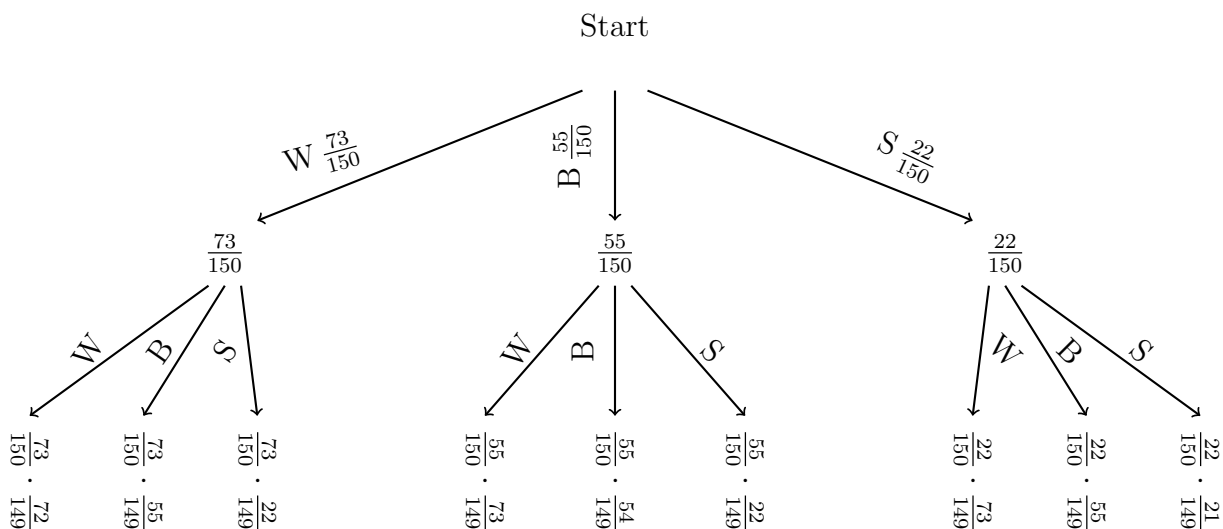
Im nächsten Beispiel wird die gezogene Kugel nicht zurückgelegt. Bei einer Ziehung ohne Zurücklegen (ZoZ) reduziert sich bei jedem Schritt die Gesamtanzahl der Kugeln und je nach *Pfad* die Anzahl der Kugeln der zuvor gezogenen Farbe.



Es wird schon deutlich, dass für Ziehungen ohne Zurücklegen der *Nenner* durch einen *Bruch* von *Fakultäten* ausgedrückt werden kann. Für Ziehungen mit mehr Farben ändert sich dieses Verfahren lediglich nur durch die Anzahl der *Pfade* $\sum P$, welche stets durch die Anzahl der Farben F hoch der Ziehungen N gegeben ist. Seien zum Beispiel in einem Gefäß 13 schwarze, 3 weiße und 21 blaue Kugeln gegeben und nach irgendeinem Pfad nach zwei Ziehungen mit Zurücklegen gefragt, so ergibt sich das folgende *Baumdiagramm*.



Sei allerdings ein Gefäß mit 22 schwarzen, 73 weißen und 55 blauen Kugeln gegeben und nach irgendeinem Pfad nach zwei Ziehungen ohne Zurücklegen gefragt, so ergibt sich wiederum das folgende *Baumdiagramm*.



Im Wesentlichen können vier Grundfragen an eine *Wahrscheinlichkeitsrechnung* mit Baumdiagramm gestellt werden. Dabei geht es vorrangig um die Anzahl $\#$ von Kugeln einer bestimmten Farbe n_F . Dabei beschreibt die Raute $\#$ den mathematischen Begriff Anzahl, während n die gewünschte Anzahl und F die gewünschte Farbe ist. In diesen Grundfragen verbergen sich Schlüsselwörter oder deren sprachlichen Synonyme, welche mathematisch übersetzt werden müssen.

$$\begin{aligned}
 \text{höchstens: } & \# \leq n_F \\
 \text{weniger als: } & \# < n_F \\
 \text{mehr als: } & \# > n_F \\
 \text{mindestens: } & \# \geq n_F
 \end{aligned} \tag{7.1}$$

Sei nach mindestens zwei blauen Kugeln gefragt, so ergibt sich auf das letzte Beispiel bezogen als *Wahrscheinlichkeit* der *Pfad* der zwei oder mehr blaue Kugeln zulässt: $\frac{55}{150} \cdot \frac{54}{149}$.

Baumdiagramme sind notwendig, um ein Verständnis für *Wahrscheinlichkeiten* aufzubauen. Im späteren Verlauf werden dann noch Systeme vorgestellt bei denen *Baumdiagramme* sich zeitlich nicht mehr lohnen würden, da die Zahl der Ziehungen gegen *Unendlich* laufen wird.

7.0.1 Übungsaufgaben zu Einführung in die Wahrscheinlichkeitsrechnung

Aufgabe 1: *Erstelle ein Baumdiagramm und beantworte die dazugehörigen Fragen.*

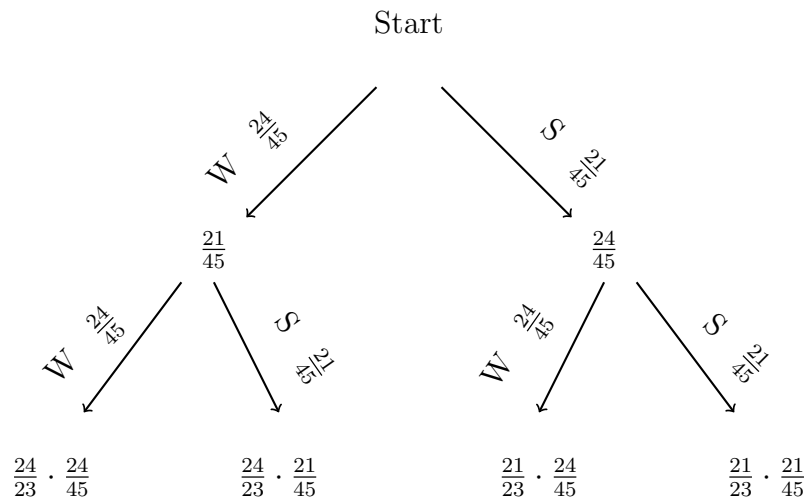
a) b)

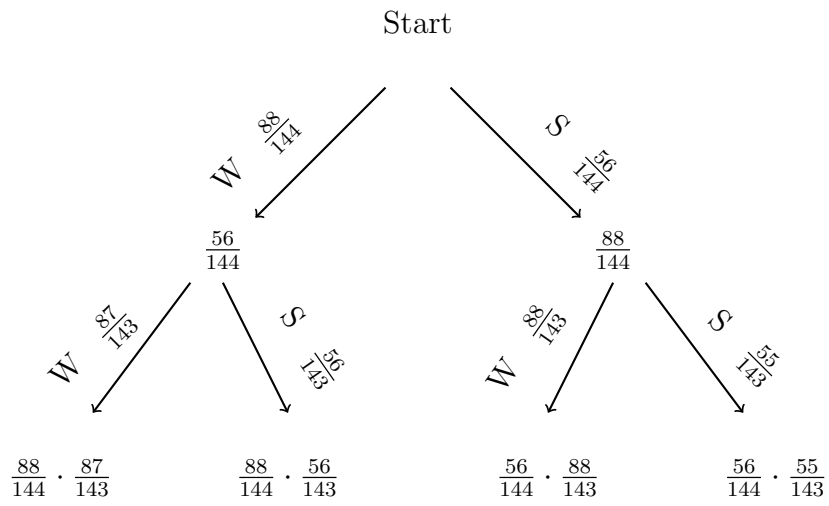
Aufgabe 2: *Erstelle ein Baumdiagramm und beantworte die dazugehörigen Fragen.*

a) b)

Aufgabe 3: *Beantworte die Fragen.*

a) b)

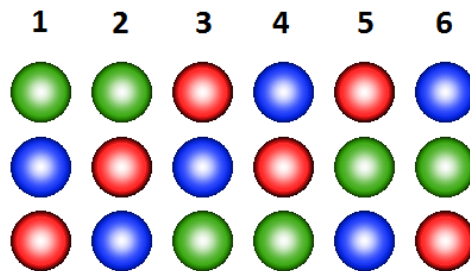




Die Lösungen zu diesem Abschnitt finden sich im Anhang im Abschnitt (??) Lösungen zur Einführung in die Wahrscheinlichkeitsrechnung.

7.1 Permutationen

Permutationen P sind unterschiedliche Anordnungen von den gleichen Komponenten. So können drei verschiedene Kugeln auf sechs verschiedene Arten angeordnet werden.

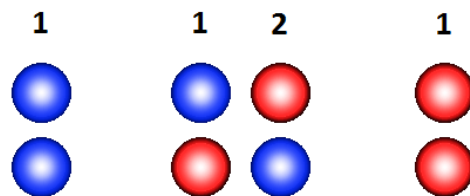


So können vier verschiedene Kugeln auf vierundzwanzig Arten angeordnet werden. Wenn zwei Kugeln die gleiche Farbe besitzen und eine dritte Kugel eine andere Farbe hat, können diese auf drei verschiedene Arten angeordnet werden. Somit ergibt sich folgendes Gesetz:

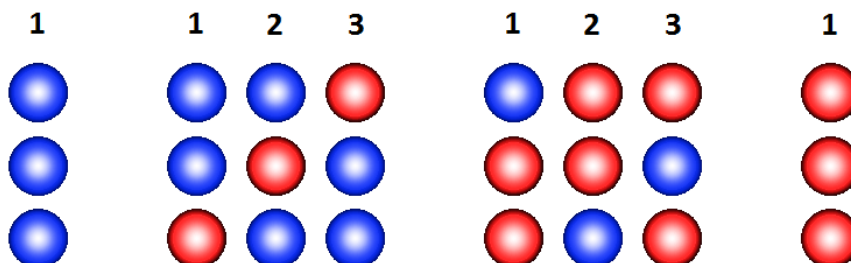
$$\#P = \frac{\#K!}{\#F_1! \#F_2! \dots \#F_N!} = \frac{\#K!}{\prod_{i=1}^N \#F_i}, \quad (7.2)$$

wobei die Anzahl der *Permutationen* $\#P$ gegeben ist durch die *Fakultät* der Anzahl aller Kugeln $\#K$ *dividiert* durch das *Produkt* der Anzahl der jeweiligen farbigen Kugeln $\#F_i$. Dabei gibt der *Index* die Farbe an und N die gesamte Anzahl aller Farben.

So können alle *Pfade* von *Baumdiagrammen* durch *Permutationen* dargestellt werden. Für zwei Ziehungen mit Zurücklegen mit zwei Farben ergibt sich:



Für drei Ziehungen mit Zurücklegen für zwei Farben ergeben sich folgende Kombinationsmöglichkeiten:



Die jeweiligen *Permutationsmöglichkeiten* sind bei den *Baumdiagrammen* gegeben durch die *Binomialkoeffizienten*, welche schon aus dem ersten Kapitel bekannt sind. So kann bei zwei Farben die Anzahl der *Pfade* darüber bestimmt werden, indem das *Pascal'sche Dreieck* betrachtet

wird. Für mehr Farben ergeben sich auch mehr mögliche *Permutationen*. Die verschiedenen *Permutationen* für die jeweiligen *Pfade* bei mehreren Farben können über die *Reihe*

$$\left(\sum_{i=1}^N F_i \right)^Z, \quad (7.3)$$

wobei Z der Anzahl der Ziehungen entspricht.

7.1.1 Übungsaufgaben zu Permutationen

Aufgabe 1: *Schreibe alle möglichen Anordnungen auf.*

a) b)

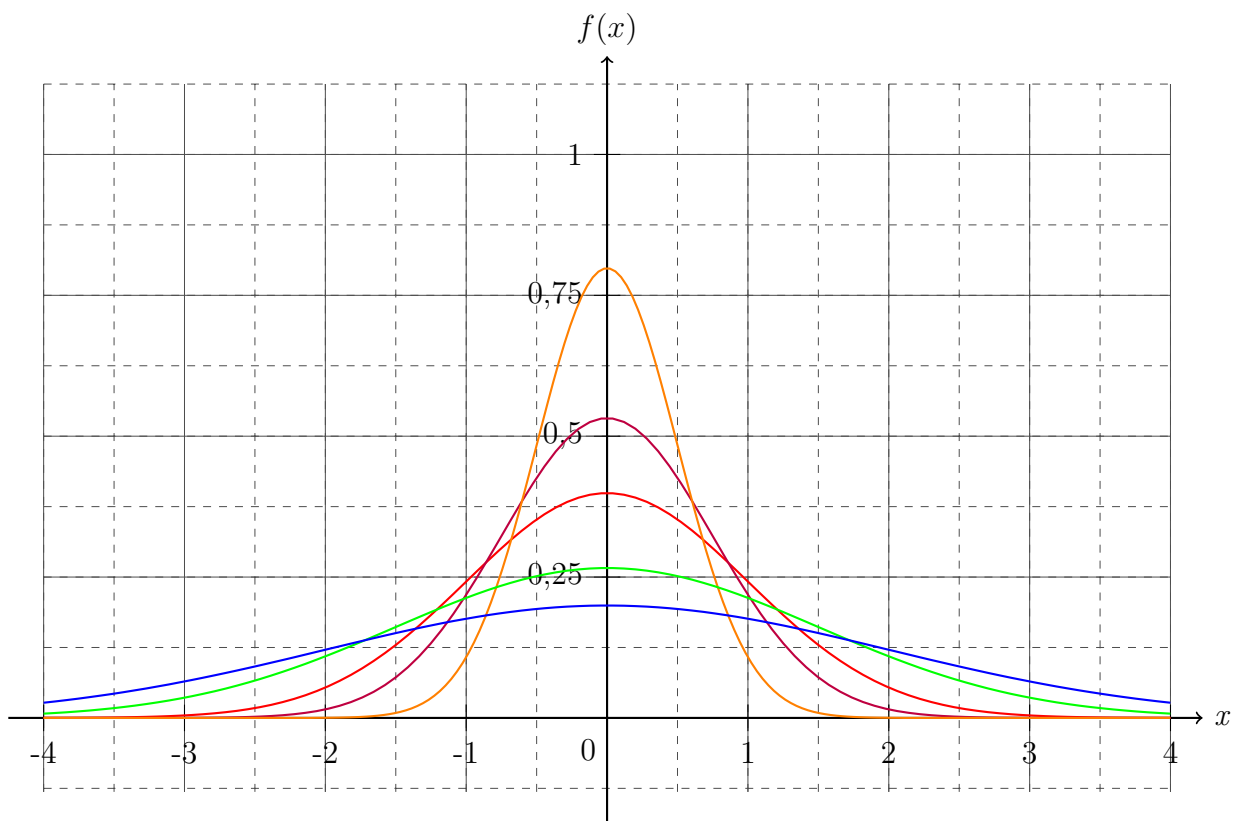
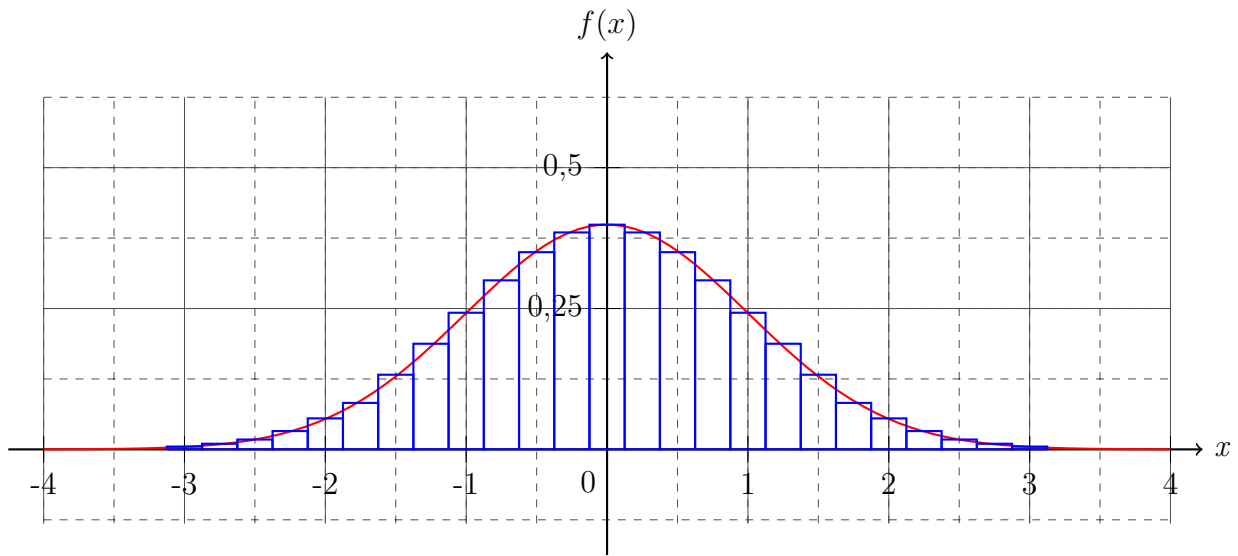
Aufgabe 2: *Bestimme die Anzahl der Permutationen.*

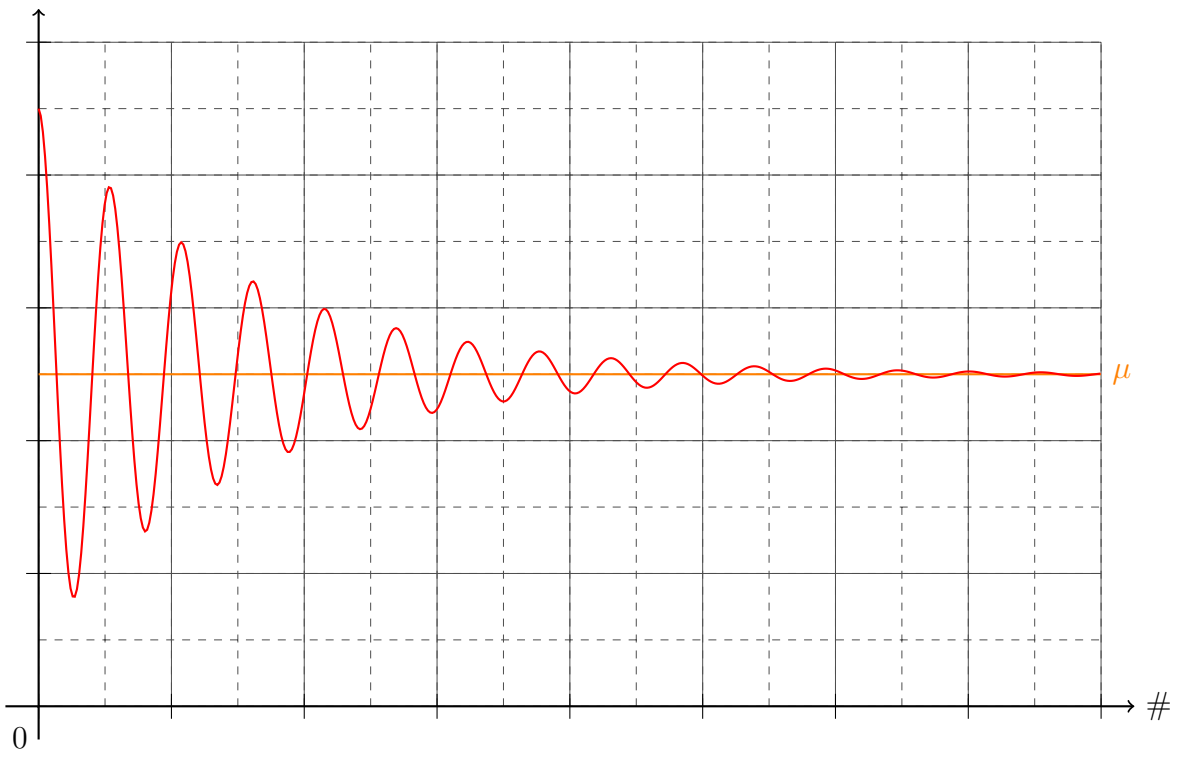
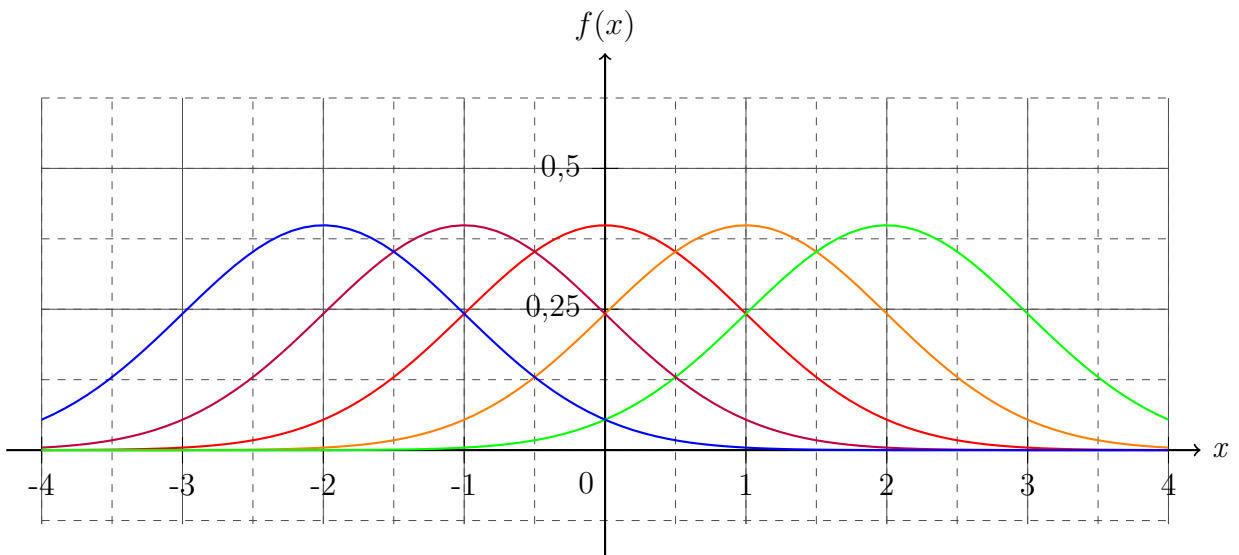
a) b)

Die Lösungen zu diesem Abschnitt finden sich im Anhang im Abschnitt (??) Lösungen zu Permutationen.

7.2 Verteilungen

Die Gauß-Verteilung





8 Komplexe Zahlen

9 Vektoren

9.1 Eigenschaften von Vektoren

9.2 Spatprodukt

9.3 Matrizen und Tensoren

9.4 Vektoranalysis

10 Fehlerrechnung

10.1 Standardabweichungen

10.2 Lineare Regression

10.3 Fehlerfortpflanzung

11 Physikalische Anwendungen

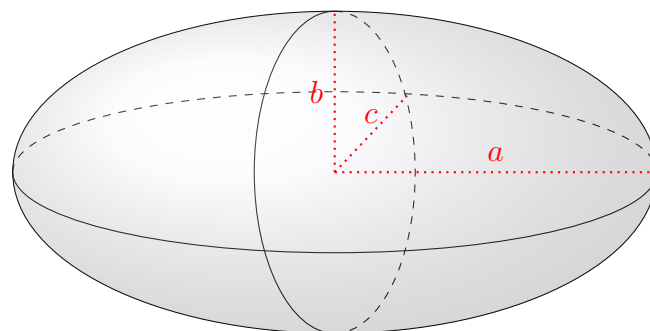
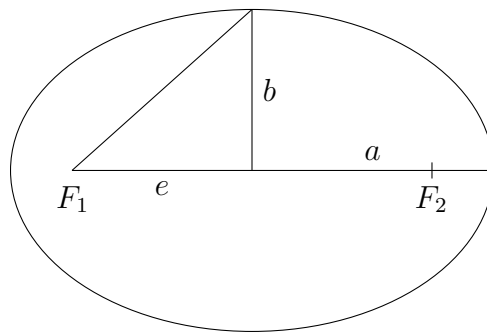
11.1 Lagrange Formalismus

11.1.1 Euler-Lagrange Gleichungen

11.1.2 Noether Theorem

11.2 Fourier-Reihe

11.3 Ellipse und Ellipsoid



12 Ökonomische Anwendungen

13 Anhang

13.1 Alphabete

Griechisches Alphabet:

<i>A</i> α	Alpha	<i>I</i> ι	Jota	<i>P</i> ρ	Rho
<i>B</i> β	Beta	<i>K</i> κ	Kappa	Σ σ ς	Sigma
Γ γ	Gamma	Λ λ	Lambda	<i>T</i> τ	Tau
Δ δ	Delta	<i>M</i> μ	My	Υ υ	Ypsilon
<i>E</i> ϵ	Epsilon	<i>N</i> ν	Ny	Φ ϕ φ	Phi
<i>Z</i> ζ	Zeta	Ξ ξ	Xi	<i>X</i> χ	Chi
<i>H</i> η	Eta	<i>O</i> o	Omikron	Ψ ψ	Psi
Θ θ	Theta	Π π	Pi	Ω ω	Omega

Altdeutsches Alphabet:

\mathfrak{A} a	A a	\mathfrak{J} j	J j	\mathfrak{S} s	S s
\mathfrak{B} b	B b	\mathfrak{K} k	K k	\mathfrak{T} t	T t
\mathfrak{C} c	C c	\mathfrak{L} l	L l	\mathfrak{U} u	U u
\mathfrak{D} d	D d	\mathfrak{M} m	M m	\mathfrak{V} v	V v
\mathfrak{E} e	E e	\mathfrak{N} n	N n	\mathfrak{W} w	W w
\mathfrak{F} f	F f	\mathfrak{O} o	O o	\mathfrak{X} x	X x
\mathfrak{G} g	G g	\mathfrak{P} p	P p	\mathfrak{Y} y	Y y
\mathfrak{H} h	H h	\mathfrak{Q} q	Q q	\mathfrak{Z} z	Z z
\mathfrak{I} i	I i	\mathfrak{R} r	R r		

Zurück zum Text durch folgenden Link: (3.5).

13.2 Pascal'sches Dreieck

```

      1
     1 1
    1 2 1
   1 3 3 1
  1 4 6 4 1
 1 5 10 10 5 1
 1 6 15 20 15 6 1
 1 7 21 35 35 21 7 1
 1 8 28 56 70 56 28 8 1
 1 9 36 84 126 126 84 36 9 1
 1 10 45 120 210 252 210 120 45 10 1
 1 11 55 165 330 462 462 330 165 55 11 1
 1 12 66 220 495 792 924 792 495 220 66 12 1
 1 13 78 286 715 1287 1716 1716 1287 715 286 78 13 1
 1 14 91 364 1001 2002 3003 3432 3003 2002 1001 364 91 14 1
 1 15 105 455 1365 3003 5005 6435 6435 5005 3003 1365 455 105 15 1

```

Zurück zum Text durch folgenden Link: [\(2.8.3\)](#).

13.3 10er Potenzen

Symbol	Name	10er Potenz	Ausgeschrieben	Sprachlich
<i>Y</i>	Yotta	10^{24}	1.000.000.000.000.000.000.000.000	Quadrillion
<i>Z</i>	Zetta	10^{21}	1.000.000.000.000.000.000.000	Trilliade
<i>E</i>	Exa	10^{18}	1.000.000.000.000.000.000	Trillion
<i>P</i>	Peta	10^{15}	1.000.000.000.000.000	Billarde
<i>T</i>	Tera	10^{12}	1.000.000.000.000	Billion
<i>G</i>	Giga	10^9	1.000.000.000	Milliarde
<i>M</i>	Mega	10^6	1.000.000	Million
<i>k</i>	Kilo	10^3	1.000	Tausend
<i>h</i>	Hekto	10^2	100	Hundert
<i>da</i>	Deka	10^1	10	Zehn
		10^0	1	Eins
<i>d</i>	dezi	10^{-1}	0,1	Zehntel
<i>c</i>	centi	10^{-2}	0,01	Hundertstel
<i>m</i>	milli	10^{-3}	0,001	Tausendstel
μ	mikro	10^{-6}	0,000.001	Millionstel
<i>n</i>	nano	10^{-9}	0,000.000.001	Milliardstel
<i>p</i>	piko	10^{-12}	0,000.000.000.001	Billionstel
<i>f</i>	femto	10^{-15}	0,000.000.000.000.001	Billiardstel
<i>a</i>	atto	10^{-18}	0,000.000.000.000.000.001	Trillionstel
<i>z</i>	zepto	10^{-21}	0,000.000.000.000.000.000.001	Trilliardstel
<i>y</i>	yokto	10^{-24}	0,000.000.000.000.000.000.000.001	Quadrillionstel

13.4 Geometrische Eigenschaften von Körpern

Name	Ecken	Kanten	Flächen
Würfel	8	12	6
Dreiecksprisma	6	9	5
Quader	8	12	6
Fünfecksprisma	10	15	7
Sechsecksprisma	12	18	8
Siebenecksprisma	14	21	9
Achtecksprisma	16	24	10
n-ecksprisma	$2n$	$3n$	$n+2$
Dreieckspyramide	4	6	4
Viereckspyramide	5	8	5
Fünfeckspyramide	6	10	6
Sechseckspyramide	7	12	7
Siebeneckspyramide	8	14	8
n-eckspyramide	$n+1$	$2n$	$n+1$
n-eckspyramidenstumpf	$2n$	$3n$	$n+2$
Tetraeder	4	6	4
Oktaeder	8	12	8
Zylinder	0	2	3
Kegel	1	1	2
Kegelstumpf	0	2	3
Kugel	0	0	1

13.5 Wichtige Brüche als Dezimalzahlen

$$\frac{1}{2} = 0,5$$

$$\frac{1}{8} = 0,125$$

$$\frac{3}{2} = 1,5$$

$$\frac{3}{8} = 0,375$$

$$\frac{5}{2} = 2,5$$

$$\frac{7}{8} = 0,875$$

$$\frac{1}{3} = 0,\bar{3}$$

$$\frac{4}{3} = 1,\bar{3}$$

$$\frac{5}{6} = 0,8\bar{3}$$

$$\frac{1}{9} = 0,\bar{1}$$

$$\frac{1}{5} = 0,2$$

$$\frac{1}{10} = 0,1$$

$$\frac{1}{100} = 0,01 = 1\%$$

$$\frac{1}{4} = 0,25$$

$$\frac{1}{16} = 0,0625$$

$$\frac{3}{4} = 0,75$$

$$\frac{5}{8} = 0,625$$

$$\frac{5}{4} = 1,25$$

$$\frac{9}{8} = 1,125$$

$$\frac{2}{3} = 0,\bar{6}$$

$$\frac{1}{6} = 0,1\bar{6}$$

$$\frac{1}{12} = 0,08\bar{3}$$

$$\frac{5}{9} = 0,\bar{5}$$

$$\frac{3}{5} = 0,6$$

$$\frac{7}{10} = 0,7$$

$$\frac{1}{1000} = 0,001 = 1\text{‰}$$

13.6 Lösungen

13.6.1 Lösungen zu Mengen

Aufgabe 1:

- | | | | |
|----------------------------------|----------------------------------|---------------------------|-------------------------------|
| a) $4 \in \mathbb{N}$ | b) $-1 \in \mathbb{Z}$ | c) $9 \in \mathbb{N}$ | d) $0,45 \in \mathbb{Q}$ |
| e) $\frac{1}{2} \in \mathbb{Q}$ | f) $-6 \in \mathbb{Z}$ | g) $4,75 \in \mathbb{Q}$ | h) $0,\bar{3} \in \mathbb{Q}$ |
| i) $\frac{1}{81} \in \mathbb{Q}$ | j) $-\frac{3}{7} \in \mathbb{Q}$ | k) $3 \in \mathbb{N}$ | l) $0,125 \in \mathbb{Q}$ |
| m) $0,01 \in \mathbb{Q}$ | n) $\frac{1}{11} \in \mathbb{Q}$ | o) $3,141 \in \mathbb{Q}$ | p) $-0,75 \in \mathbb{Q}$ |

Aufgabe 2:

- | | | | |
|--|-------------------------------|---|----------------------------------|
| a) $0,\bar{6} \in \mathbb{Q}$ | b) $-\sqrt{4} \in \mathbb{Z}$ | c) $0 \in \mathbb{N}$ | d) $\sqrt{3} \in \mathbb{R}$ |
| e) $\frac{7}{8} \in \mathbb{Q}$ | f) $\sqrt{13} \in \mathbb{R}$ | g) $\frac{2}{\sqrt{16}} \in \mathbb{Q}$ | h) $1\% \in \mathbb{Q}$ |
| i) $\frac{1}{\sqrt{5}} \in \mathbb{R}$ | j) $-42 \in \mathbb{Z}$ | k) $\sqrt{144} \in \mathbb{N}$ | l) $\frac{16}{2} \in \mathbb{N}$ |
| m) $5,01 \in \mathbb{Q}$ | n) $17 \in \mathbb{N}$ | o) $1,1\bar{6} \in \mathbb{Q}$ | p) $-\sqrt{64} \in \mathbb{Z}$ |

Aufgabe 3:

- | | | | |
|-----------------------------------|--|-------------------------------|--------------------------------------|
| a) $\lg 10 \in \mathbb{N}$ | b) $\sqrt{9} \in \mathbb{N}$ | c) $-7 \in \mathbb{Z}$ | d) $\pi \in \mathbb{R}$ |
| e) $\frac{e^2}{2} \in \mathbb{R}$ | f) $-\frac{1}{6} \in \mathbb{Q}$ | g) $1 \in \mathbb{N}$ | h) $0,597813553 \in \mathbb{Q}$ |
| i) $\ln 2 \in \mathbb{R}$ | j) $-e^{\ln \frac{1}{3}} \in \mathbb{Q}$ | k) $\log_3 9 \in \mathbb{N}$ | l) $0,1 \in \mathbb{Q}$ |
| m) $28\% \in \mathbb{Q}$ | n) $\frac{\pi}{4} \in \mathbb{R}$ | o) $\sqrt{17} \in \mathbb{R}$ | p) $-\frac{1}{\ln e} \in \mathbb{Z}$ |

Aufgabe 4:

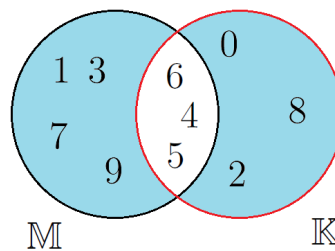
- a) $M \cup K = \{1, 3, 4, 5, 6, 8, 9\}$; $M \cap K = \{6\}$; $M \setminus K = \{1, 5, 9\}$; $K \setminus M = \{3, 4, 8\}$;
- b) $M \cup K = \{1, 2, 3, 4, 5, 6, 7\} = M$; $M \cap K = \{1, 2, 3, 5, 7\} = K$; $M \setminus K = \{4, 6\}$;
 $K \setminus M = \{\} = \emptyset$;
- c) $M \cup K = \{4, 5, 6, 7, 8, 9, 10, 11\}$; $M \cap K = \{\} = \emptyset$; $M \setminus K = M$; $K \setminus M = K$;
- d) $M \cup K = \{1, 2, 3, 4, 5, 6, 7, 8\}$; $M \cap K = \{2, 5, 8\}$; $M \setminus K = \{3, 6\}$; $K \setminus M = \{1, 4, 7\}$;
- e) $M \cup K = \{2, 3, 5, 6, 8, 9\}$; $M \cap K = \{3, 6\}$; $M \setminus K = \{9\}$; $K \setminus M = \{2, 5, 8\}$;
- f) $M \cup K = \{1, 3, 5, 6, 7, 9\}$; $M \cap K = \{3, 5, 7\}$; $M \setminus K = \{1, 9\}$; $K \setminus M = \{4, 6\}$

Aufgabe 5:

- a) $(M \cap K) \cap L = \emptyset$;
 b) $(M \setminus L) \cup (M \setminus K) = M$;
 c) $(K \setminus L) \cap (M \setminus K) = \emptyset$;
 d) $(K \cap L) \cup (M \cap K) = \{3, 4, 6, 9\}$;
 e) $(L \cup K) \setminus (M \cup K) = \{5, 7\}$;
 f) $(L \cup K) \cap (M \setminus K) = \emptyset$;
 g) $(L \cup K) \setminus (L \cap K) := L \Delta K = \{3, 5, 6, 7, 8\}$;
 h) $M \Delta K = \{1, 2, 4, 8, 9\}$;

Aufgabe 6:

$$M \Delta K = \{0, 1, 2, 3, 4, 7, 8, 9\}$$

**Aufgabe 7:**

- a) $M \cap K = \emptyset$; b) $M \cup K = M$; c) $M \setminus K = M$

Zurück zu den Aufgaben durch folgenden Link: [\(1.0.1\)](#).

13.6.2 Lösungen zu Grundrechenarten

Aufgabe 1:

- | | |
|--------------------------|--------------------------|
| a) $3821 + 1347 = 5168$ | b) $5962 + 8912 = 14874$ |
| c) $2512 + 3246 = 5758$ | d) $2353 + 4636 = 6989$ |
| e) $4462 + 9543 = 14005$ | f) $4156 + 3737 = 7883$ |
| g) $9948 + 5499 = 15447$ | h) $4784 + 8377 = 13161$ |
| i) $9745 + 3726 = 13471$ | j) $3269 + 9289 = 12459$ |
| k) $4577 + 6201 = 10778$ | l) $5031 + 5768 = 11099$ |
| m) $5465 + 1202 = 6667$ | n) $8415 + 2560 = 10975$ |
| o) $8762 + 7355 = 16117$ | p) $7437 + 1221 = 8658$ |
| q) $4578 + 7377 = 11955$ | r) $5786 + 4532 = 10318$ |
| s) $1057 + 7800 = 8857$ | t) $4204 + 4621 = 8825$ |
| u) $9424 + 8054 = 17478$ | v) $4438 + 4575 = 9013$ |
| w) $7873 + 9724 = 17597$ | x) $3432 + 7387 = 10819$ |

Aufgabe 2:

- | | |
|-------------------------|-------------------------|
| a) $3821 - 1347 = 2474$ | b) $5962 - 1912 = 4050$ |
| c) $4512 - 3246 = 1266$ | d) $9353 - 4636 = 4717$ |
| e) $4462 - 2543 = 1919$ | f) $4156 - 3737 = 419$ |
| g) $9948 - 5499 = 4449$ | h) $4784 - 3377 = 1407$ |
| i) $9745 - 3726 = 6019$ | j) $7269 - 3289 = 3980$ |
| k) $6201 - 4513 = 1688$ | l) $5931 - 5768 = 163$ |
| m) $5465 - 1202 = 4263$ | n) $8415 - 2560 = 6055$ |
| o) $8762 - 7355 = 1407$ | p) $7437 - 1221 = 6216$ |
| q) $8578 - 7377 = 1201$ | r) $5786 - 4532 = 1254$ |
| s) $9057 - 7800 = 1257$ | t) $7204 - 4621 = 2583$ |
| u) $9424 - 8054 = 1370$ | v) $7838 - 4575 = 3263$ |
| w) $9873 - 9724 = 149$ | x) $8432 - 7387 = 1045$ |

Aufgabe 3:

- | | |
|---------------------------------|---------------------------------|
| a) $3821 \cdot 1347 = 5146887$ | b) $5962 \cdot 1912 = 11399344$ |
| c) $4512 \cdot 3246 = 14645952$ | d) $9353 \cdot 4636 = 43360508$ |
| e) $4462 \cdot 2543 = 11346866$ | f) $4156 \cdot 3737 = 15530972$ |
| g) $9948 \cdot 5499 = 54704052$ | h) $4784 \cdot 3377 = 16155568$ |
| i) $9745 \cdot 3726 = 36309870$ | j) $7269 \cdot 3289 = 23907741$ |
| k) $6201 \cdot 4513 = 27985113$ | l) $5931 \cdot 5768 = 34210008$ |
| m) $5465 \cdot 1202 = 6568930$ | n) $8415 \cdot 2560 = 21542400$ |
| o) $8762 \cdot 7355 = 64444510$ | p) $7437 \cdot 1221 = 9080577$ |
| q) $8578 \cdot 7377 = 63279906$ | r) $5786 \cdot 4532 = 26222152$ |
| s) $9057 \cdot 7800 = 70644600$ | t) $7204 \cdot 4621 = 33289684$ |
| u) $9424 \cdot 8054 = 75900896$ | v) $7838 \cdot 4575 = 35858850$ |
| w) $9873 \cdot 9724 = 96005052$ | x) $8432 \cdot 7387 = 62287184$ |

Aufgabe 4:

- | | |
|----------------------|----------------------|
| a) $7095 : 3 = 2365$ | b) $2568 : 6 = 856$ |
| c) $4512 : 2 = 2256$ | d) $5033 : 7 = 719$ |
| e) $7389 : 9 = 821$ | f) $9475 : 5 = 1895$ |
| g) $9872 : 8 = 1234$ | h) $6024 : 8 = 753$ |
| i) $9416 : 4 = 2354$ | j) $7273 : 7 = 1039$ |
| k) $7587 : 9 = 843$ | l) $3682 : 7 = 526$ |
| m) $7578 : 3 = 2526$ | n) $6738 : 2 = 3369$ |
| o) $8638 : 7 = 1234$ | p) $8464 : 8 = 1058$ |
| q) $8231 : 1 = 8231$ | r) $4755 : 5 = 951$ |
| s) $6024 : 8 = 753$ | t) $5112 : 6 = 852$ |
| u) $6840 : 15 = 456$ | v) $9468 : 12 = 789$ |
| w) $7704 : 24 = 321$ | x) $5904 : 16 = 369$ |

Aufgabe 5:

- | | |
|---|---|
| a) $3821 + 1347 \cdot 43 = 61742$ | b) $4525 - 2070 : 6 = 4180$ |
| c) $8124 + 1347 - 4371 = 5100$ | d) $7124 - 2070 + 1392 = 6446$ |
| e) $4284 : 2 + 1347 \cdot 43 = 60063$ | f) $8285 : 5 - 5256 : 8 = 1000$ |
| g) $3482 \cdot 3 - 7432 : 4 = 8588$ | h) $8285 \cdot 8 : 5 - 5256 + 4361 = 12361$ |
| i) $1288 \cdot 2 \cdot 4 + 5416 : 4 : 2 = 10981$ | j) $4265 \cdot 3 - 3236 \cdot 2 + 1454 \cdot 4 = 12139$ |
| k) $822 \cdot 9 \cdot 6 : 3 - 632 \cdot 11 : 2 = 11320$ | l) $4265 : 5 + 6438 : 6 + 17848 : 8 = 4157$ |

Aufgabe 6:

a) $1203 + 6799 + 5684 + 2156 + 9852 = 25694$

b) $9982 - 595 - 651 - 3197 - 1637 = 3902$

c) $11 \cdot 4 \cdot 6 \cdot 7 \cdot 3 = 5544$

d) $1587 + 9613 + 9477 + 2674 + 2987 = 26338$

e) $8745 - 2971 - 841 - 1052 - 681 = 3200$

f) $5 \cdot 2 \cdot 4 \cdot 9 \cdot 7 = 2520$

g) $8461 + 5625 + 1098 + 6950 + 8509 = 30643$

h) $7894 - 412 - 753 - 951 - 456 = 5322$

i) $12 \cdot 3 \cdot 5 \cdot 10 \cdot 9 = 16200$

Zurück zu den Aufgaben durch folgenden Link: (2.1.1).

13.6.3 Lösungen zur Bruchrechnung**Aufgabe 1:**

a) $\frac{1}{2} > \frac{1}{4}$

d) $\frac{3}{8} < \frac{1}{2}$

g) $\frac{4}{16} = \frac{1}{4}$

j) $\frac{2}{3} < \frac{7}{8}$

m) $\frac{3}{8} > \frac{1}{3}$

p) $\frac{2}{5} > \frac{3}{8}$

s) $\frac{3}{8} = \frac{24}{64}$

b) $\frac{1}{3} < \frac{3}{4}$

e) $\frac{5}{6} > \frac{3}{4}$

h) $\frac{2}{5} < \frac{7}{15}$

k) $\frac{6}{7} > \frac{3}{4}$

n) $\frac{5}{9} > \frac{3}{7}$

q) $\frac{3}{2} < \frac{5}{3}$

t) $\frac{81}{9} = \frac{36}{4}$

c) $\frac{2}{5} = \frac{4}{10}$

f) $\frac{1}{3} = \frac{3}{9}$

i) $\frac{2}{3} > \frac{3}{6}$

l) $\frac{4}{5} = \frac{16}{20}$

o) $\frac{5}{25} = \frac{1}{5}$

r) $\frac{14}{8} < \frac{16}{9}$

u) $\frac{55}{5} = \frac{131}{11}$

Aufgabe 2:

a) $\frac{8}{16} = \frac{1}{2}$	b) $\frac{6}{14} = \frac{3}{7}$	c) $\frac{9}{15} = \frac{1}{2}$
d) $\frac{6}{24} = \frac{1}{4}$	e) $\frac{48}{64} = \frac{3}{4}$	f) $\frac{12}{144} = \frac{1}{12}$
g) $\frac{75}{125} = \frac{3}{5}$	h) $\frac{30}{75} = \frac{6}{15}$	i) $\frac{72}{108} = \frac{2}{3}$
j) $\frac{16}{48} = \frac{1}{3}$	k) $\frac{6}{18} = \frac{1}{3}$	l) $\frac{24}{8} = 3$
m) $\frac{12}{96} = \frac{1}{8}$	n) $\frac{16}{64} = \frac{1}{4}$	o) $\frac{48}{144} = \frac{1}{3}$
p) $\frac{33}{3} = 11$	q) $\frac{54}{72} = \frac{3}{4}$	r) $\frac{5000}{10000} = \frac{1}{2}$
s) $\frac{24}{72} = \frac{1}{3}$	t) $\frac{36}{66} = \frac{6}{11}$	u) $\frac{63}{108} = \frac{7}{12}$

Aufgabe 3:

a) $\frac{3}{4} \cdot 9 = \frac{27}{36}$	b) $\frac{5}{7} \cdot 7 = \frac{35}{49}$	c) $\frac{1}{12} \cdot 8 = \frac{8}{96}$
d) $\frac{1}{2} \cdot 24 = \frac{24}{48}$	e) $\frac{7}{8} \cdot 6 = \frac{42}{48}$	f) $\frac{4}{6} \cdot 11 = \frac{44}{66}$
g) $\frac{5}{7} \cdot 8 = \frac{40}{56}$	h) $\frac{5}{13} \cdot 9 = \frac{45}{113}$	i) $\frac{4}{11} = \frac{28}{77} \cdot 7$
j) $\frac{7}{4} \cdot 9 = \frac{63}{36}$	k) $\frac{6}{11} \cdot 5 = \frac{30}{55}$	l) $\frac{3}{12} \cdot 4 = \frac{12}{48}$
m) $\frac{2}{3} \cdot 21 = \frac{42}{63}$	n) $\frac{7}{8} \cdot 3 = \frac{21}{24}$	o) $\frac{4}{6} \cdot 13 = \frac{52}{78}$
p) $\frac{3}{9} \cdot 8 = \frac{24}{72}$	q) $\frac{5}{12} \cdot 6 = \frac{30}{72}$	r) $\frac{7}{12} \cdot 7 = \frac{49}{84}$
s) $\frac{3}{4} \cdot 17 = \frac{51}{68}$	t) $\frac{5}{6} \cdot 4 = \frac{20}{24}$	u) $\frac{13}{6} \cdot 1000 = \frac{13000}{6000}$

Aufgabe 4:

Quadrate: $\frac{1}{4}, \frac{1}{4}, \frac{3}{8}, \frac{1}{2}, \frac{3}{4}, \frac{1}{4}, \frac{1}{3}, \frac{2}{9}, \frac{1}{2}$ und $\frac{1}{2}$.

Kreise: $\frac{1}{2}, \frac{1}{8}, \frac{5}{16}, 1, \frac{2}{3}, \frac{13}{16}, 0, \frac{5}{8}, \frac{5}{12}$ und $\frac{1}{16}$.

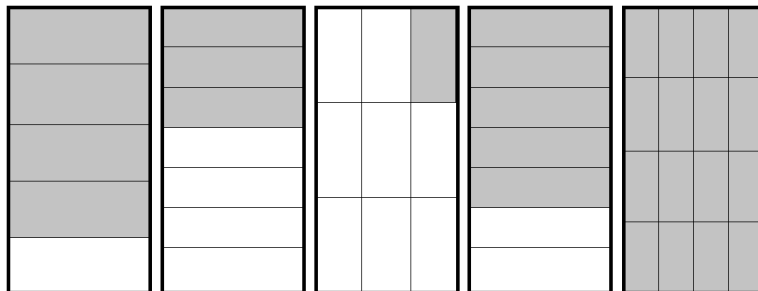
Quadrate: $\frac{18}{64}, \frac{4}{9}, \frac{10}{36}, \frac{4}{12}, \frac{16}{64}, \frac{6}{24}, \frac{1}{6}, \frac{6}{18}, \frac{10}{32}$ und $\frac{9}{12}$.

Kreise: $\frac{3}{4}, \frac{5}{12}, \frac{7}{16}, \frac{12}{16}, \frac{5}{6}, \frac{8}{16}, \frac{6}{6}, \frac{2}{8}, \frac{8}{12}$ und $\frac{0}{16}$.


Rechtecke links: $\frac{3}{8}, \frac{1}{2}$ und $\frac{1}{4}$

Rechtecke rechts: $\frac{5}{8}, \frac{7}{16}$ und $\frac{1}{8}$

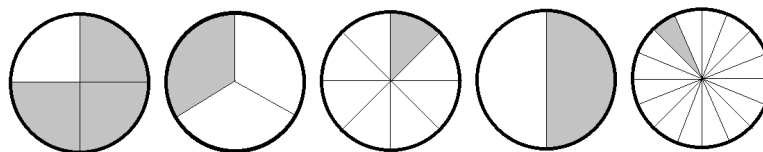
Aufgabe 5: Veranschauliche folgende Brüche jeweils an einem Rechteck: $\frac{4}{5}$, $\frac{3}{7}$, $\frac{1}{9}$, $\frac{5}{7}$ und $\frac{16}{16}$



Aufgabe 6: Veranschauliche folgende Brüche jeweils an einem Rechteck: $\frac{1}{2}$, $\frac{5}{6}$, $\frac{11}{12}$, $\frac{4}{5}$, $\frac{3}{8}$, $\frac{2}{9}$, $\frac{13}{16}$, $\frac{6}{11}$, $\frac{8}{9}$ und $\frac{3}{7}$



Aufgabe 7: Veranschauliche folgende Brüche jeweils an einem Kreis: $\frac{3}{4}$, $\frac{1}{3}$, $\frac{1}{8}$, $\frac{6}{12}$ und $\frac{1}{16}$



Aufgabe 8:

$$a) \frac{2}{4} + \frac{1}{4} = \frac{3}{4}$$

$$b) \frac{3}{8} + \frac{2}{8} = \frac{5}{8}$$

$$c) \frac{7}{12} + \frac{4}{12} = \frac{11}{12}$$

$$d) \frac{25}{9} + \frac{43}{9} = \frac{67}{9}$$

$$e) \frac{7}{3} + \frac{1}{3} = \frac{8}{3}$$

$$f) \frac{7}{11} + \frac{14}{11} = \frac{21}{11}$$

$$g) \frac{6}{32} + \frac{5}{32} = \frac{11}{32}$$

$$h) \frac{33}{9} + \frac{29}{9} = \frac{62}{9}$$

$$i) \frac{83}{39} + \frac{23}{39} = \frac{106}{39}$$

Aufgabe 9:

$$a) \frac{1}{2} + \frac{1}{4} = \frac{3}{4}$$

$$b) \frac{3}{7} + \frac{1}{14} = \frac{1}{2}$$

$$c) \frac{2}{5} + \frac{3}{10} = \frac{7}{10}$$

$$d) \frac{3}{8} + \frac{1}{2} = \frac{7}{8}$$

$$e) \frac{5}{16} + \frac{3}{8} = \frac{11}{16}$$

$$f) \frac{1}{3} + \frac{2}{9} = \frac{5}{9}$$

$$g) \frac{1}{4} + \frac{3}{32} = \frac{11}{32}$$

$$h) \frac{2}{5} + \frac{2}{15} = \frac{8}{15}$$

$$i) \frac{2}{3} + \frac{1}{6} = \frac{5}{6}$$

Aufgabe 10:

a) $\frac{7}{2} - \frac{4}{2} = \frac{3}{2}$

b) $\frac{9}{8} - \frac{4}{8} = \frac{5}{8}$

c) $\frac{12}{9} - \frac{5}{9} = \frac{7}{9}$

d) $\frac{31}{5} - \frac{23}{5} = \frac{8}{5}$

e) $\frac{6}{17} - \frac{5}{17} = \frac{1}{17}$

f) $\frac{8}{13} - \frac{2}{13} = \frac{6}{13}$

g) $\frac{86}{23} - \frac{45}{23} = \frac{41}{23}$

h) $\frac{55}{19} - \frac{21}{19} = \frac{24}{19}$

i) $\frac{65}{83} - \frac{15}{83} = \frac{50}{83}$

Aufgabe 11:

a) $\frac{1}{2} - \frac{1}{4} = \frac{1}{4}$

b) $\frac{3}{7} - \frac{1}{14} = \frac{5}{14}$

c) $\frac{2}{5} - \frac{3}{10} = \frac{1}{10}$

d) $\frac{1}{2} - \frac{3}{8} = \frac{1}{8}$

e) $\frac{3}{8} - \frac{5}{16} = \frac{1}{16}$

f) $\frac{1}{3} - \frac{2}{9} = \frac{1}{9}$

g) $\frac{1}{4} - \frac{3}{32} = \frac{5}{32}$

h) $\frac{2}{5} - \frac{2}{15} = \frac{4}{15}$

i) $\frac{2}{3} - \frac{1}{6} = \frac{1}{2}$

Aufgabe 12:

a) $\frac{5}{2} + \frac{3}{4} = \frac{13}{4}$

b) $\frac{13}{7} - \frac{15}{14} = \frac{11}{14}$

c) $\frac{9}{5} + \frac{13}{10} = \frac{32}{10}$

d) $\frac{21}{2} - \frac{31}{8} = \frac{53}{8}$

e) $\frac{9}{8} + \frac{19}{16} = \frac{37}{16}$

f) $\frac{5}{3} - \frac{11}{9} = \frac{4}{9}$

g) $\frac{7}{4} + \frac{67}{32} = \frac{123}{32}$

h) $\frac{13}{5} - \frac{25}{15} = \frac{14}{15}$

i) $\frac{13}{3} + \frac{11}{6} = \frac{37}{6}$

j) $\frac{1}{4} - \frac{3}{16} = \frac{1}{16}$

k) $\frac{13}{4} - \frac{9}{6} = \frac{7}{4}$

l) $\frac{9}{5} + \frac{3}{4} = \frac{51}{20}$

m) $\frac{21}{4} - \frac{11}{8} = \frac{31}{8}$

n) $\frac{3}{8} + \frac{9}{32} = \frac{21}{32}$

o) $\frac{4}{3} - \frac{10}{9} = \frac{2}{9}$

p) $\frac{7}{8} - \frac{11}{32} = \frac{17}{32}$

q) $\frac{13}{5} - 2 = \frac{3}{5}$

r) $14 + \frac{11}{6} = \frac{95}{6}$

s) $\frac{1}{8} + \frac{9}{16} = \frac{11}{16}$

t) $\frac{15}{6} - \frac{7}{3} = \frac{1}{6}$

u) $\frac{9}{5} - \frac{3}{4} = \frac{21}{20}$

v) $\frac{23}{4} + \frac{17}{8} = \frac{63}{8}$

w) $\frac{7}{9} - \frac{11}{18} = \frac{5}{9}$

x) $\frac{1}{10} - \frac{1}{1000} = \frac{99}{1000}$

y) $\frac{5}{20} - \frac{1}{1000} = \frac{249}{1000}$

z) $\frac{13}{15} + 6 = \frac{103}{15}$

Aufgabe 13:

$$\begin{aligned}
 a) \quad & \frac{1}{2} \cdot \frac{1}{4} = \frac{1}{8} \\
 d) \quad & \frac{3}{8} \cdot \frac{1}{2} = \frac{3}{16} \\
 g) \quad & \frac{1}{4} \cdot \frac{3}{32} = \frac{3}{128} \\
 j) \quad & \frac{2}{9} \cdot \frac{4}{6} = \frac{8}{54} \\
 m) \quad & \frac{2}{7} \cdot \frac{9}{4} = \frac{9}{14} \\
 p) \quad & \frac{5}{6} \cdot \frac{6}{13} = \frac{15}{39} \\
 s) \quad & \frac{9}{4} \cdot \frac{2}{5} = \frac{9}{10} \\
 v) \quad & \frac{2}{8} \cdot \frac{6}{11} = \frac{6}{44}
 \end{aligned}$$

$$\begin{aligned}
 b) \quad & \frac{3}{7} \cdot \frac{1}{14} = \frac{3}{98} \\
 e) \quad & \frac{5}{16} \cdot \frac{3}{8} = \frac{15}{128} \\
 h) \quad & \frac{2}{5} \cdot \frac{2}{15} = \frac{4}{75} \\
 k) \quad & \frac{6}{5} \cdot \frac{5}{2} = 3 \\
 n) \quad & \frac{2}{12} \cdot \frac{4}{5} = \frac{2}{15} \\
 q) \quad & \frac{2}{8} \cdot \frac{8}{20} = \frac{1}{10} \\
 t) \quad & \frac{9}{15} \cdot \frac{7}{5} = \frac{21}{25} \\
 w) \quad & \frac{6}{1} \cdot \frac{0}{83} = 0
 \end{aligned}$$

$$\begin{aligned}
 c) \quad & \frac{2}{5} \cdot \frac{3}{10} = \frac{6}{50} \\
 f) \quad & \frac{1}{3} \cdot \frac{2}{9} = \frac{2}{27} \\
 i) \quad & \frac{2}{3} \cdot \frac{1}{6} = \frac{1}{9} \\
 l) \quad & \frac{9}{7} \cdot \frac{10}{11} = \frac{90}{77} \\
 o) \quad & \frac{2}{9} \cdot \frac{8}{3} = \frac{16}{27} \\
 r) \quad & \frac{1}{4} \cdot \frac{5}{2} = \frac{5}{8} \\
 u) \quad & \frac{7}{9} \cdot \frac{9}{4} = \frac{7}{4} \\
 x) \quad & \frac{5}{4} \cdot \frac{32}{50} = \frac{8}{10}
 \end{aligned}$$

Aufgabe 14:

$$\begin{aligned}
 a) \quad & \frac{1}{2} : \frac{1}{4} = 2 \\
 d) \quad & \frac{1}{2} : \frac{3}{8} = \frac{4}{3} \\
 g) \quad & \frac{1}{4} : \frac{3}{32} = \frac{8}{3} \\
 j) \quad & \frac{2}{9} : \frac{4}{6} = \frac{1}{3} \\
 m) \quad & \frac{2}{7} : \frac{9}{4} = \frac{8}{63} \\
 p) \quad & \frac{5}{6} : \frac{6}{13} = \frac{25}{12} \\
 s) \quad & \frac{9}{4} : \frac{2}{5} = \frac{45}{8} \\
 v) \quad & \frac{2}{8} : \frac{6}{11} = \frac{11}{21}
 \end{aligned}$$

$$\begin{aligned}
 b) \quad & \frac{3}{7} : \frac{1}{14} = 6 \\
 e) \quad & \frac{3}{8} : \frac{5}{16} = \frac{6}{5} \\
 h) \quad & \frac{2}{5} : \frac{2}{15} = 3 \\
 k) \quad & \frac{6}{5} : \frac{5}{2} = 3 \\
 n) \quad & \frac{2}{12} : \frac{4}{5} = \frac{5}{24} \\
 q) \quad & \frac{2}{8} : \frac{8}{20} = \frac{5}{8} \\
 t) \quad & \frac{9}{15} : \frac{7}{5} = \frac{3}{7} \\
 w) \quad & \frac{0}{1} : \frac{6}{83} = 0
 \end{aligned}$$

$$\begin{aligned}
 c) \quad & \frac{2}{5} : \frac{3}{10} = \frac{4}{3} \\
 f) \quad & \frac{1}{3} : \frac{2}{9} = \frac{3}{2} \\
 i) \quad & \frac{2}{3} : \frac{1}{6} = 4 \\
 l) \quad & \frac{9}{7} : \frac{10}{11} = \frac{99}{70} \\
 o) \quad & \frac{2}{9} : \frac{8}{3} = \frac{1}{12} \\
 r) \quad & \frac{1}{4} : \frac{5}{2} = \frac{1}{10} \\
 u) \quad & \frac{7}{9} : \frac{9}{4} = \frac{28}{81} \\
 x) \quad & \frac{5}{4} : \frac{32}{50} = \frac{125}{64}
 \end{aligned}$$

Aufgabe 15:

a) $\frac{5}{2} \cdot \frac{3}{4} = \frac{15}{8}$

d) $\frac{21}{2} \cdot \frac{31}{8} = \frac{651}{16}$

g) $\frac{7}{4} : \frac{67}{32} = \frac{56}{67}$

j) $\frac{1}{4} \cdot \frac{3}{16} = \frac{3}{64}$

m) $\frac{21}{4} \cdot \frac{11}{8} = \frac{231}{32}$

p) $\frac{7}{8} : \frac{11}{32} = \frac{28}{11}$

s) $\frac{1}{8} \cdot \frac{9}{16} = \frac{9}{128}$

v) $\frac{23}{4} \cdot \frac{17}{8} = \frac{391}{32}$

y) $\frac{5}{20} : \frac{1}{1000} = 250$

b) $\frac{13}{7} \cdot \frac{15}{14} = \frac{195}{98}$

e) $\frac{9}{8} : \frac{19}{16} = \frac{18}{19}$

h) $\frac{13}{5} : \frac{25}{15} = \frac{39}{25}$

k) $\frac{13}{4} : \frac{9}{6} = \frac{39}{18}$

n) $\frac{3}{8} : \frac{9}{32} = \frac{4}{3}$

q) $\frac{13}{5} : 2 = \frac{13}{10}$

t) $\frac{15}{6} \cdot \frac{7}{3} = \frac{35}{6}$

w) $\frac{7}{9} \cdot \frac{11}{18} = \frac{77}{162}$

z) $\frac{13}{15} \cdot 6 = \frac{26}{5}$

c) $\frac{9}{5} : \frac{13}{10} = \frac{18}{13}$

f) $\frac{5}{3} \cdot \frac{11}{9} = \frac{55}{27}$

i) $\frac{13}{3} \cdot \frac{11}{6} = \frac{26}{11}$

l) $\frac{9}{5} : \frac{3}{4} = \frac{36}{15}$

o) $\frac{4}{3} \cdot \frac{10}{9} = \frac{40}{27}$

r) $14 \cdot \frac{11}{6} = \frac{77}{3}$

u) $\frac{9}{5} : \frac{3}{4} = \frac{36}{15}$

x) $\frac{1}{10} : \frac{1}{1000} = 100$

Aufgabe 16:

a) $\frac{5}{2}$

d) $\frac{13}{36}$

g) $\frac{5}{12}$

j) $\frac{51}{80}$

m) $\frac{83}{154}$

b) $\frac{3}{7}$

e) $\frac{73}{120}$

h) $\frac{123}{85}$

k) $\frac{133}{32}$

n) $\frac{71}{20}$

c) $\frac{5}{10} = \frac{1}{2}$

f) $\frac{67}{132}$

i) $\frac{167}{234}$

l) $\frac{77}{180}$

o) $\frac{142}{609}$

Aufgabe 17:

a) $\frac{1}{3} + \frac{1}{2} + \frac{1}{4} = \frac{13}{12}$

c) $\frac{11}{2} - \frac{7}{6} + \frac{3}{8} = \frac{113}{24}$

e) $\frac{1}{4} + \frac{5}{6} + \frac{7}{4} = \frac{17}{6}$

g) $\frac{2}{5} - \frac{1}{4} + \frac{2}{3} = \frac{49}{60}$

i) $\frac{8}{7} - \frac{1}{9} + \frac{7}{5} = \frac{766}{315}$

k) $\frac{3}{5} - \frac{2}{7} + \frac{3}{4} = \frac{149}{140}$

m) $\frac{14}{5} + \frac{2}{9} + \frac{1}{3} = \frac{151}{45}$

o) $\frac{9}{2} + \frac{9}{5} + \frac{7}{4} = \frac{161}{20}$

q) $\frac{4}{3} - \frac{2}{3} + \frac{5}{2} = \frac{19}{6}$

s) $\frac{8}{3} - \frac{7}{8} + \frac{6}{5} = \frac{359}{120}$

u) $\frac{12}{5} - \frac{3}{7} + \frac{11}{9} = \frac{1006}{315}$

w) $\frac{6}{5} - \frac{3}{4} + \frac{7}{6} = \frac{97}{60}$

y) $\frac{11}{2} - \frac{7}{4} + \frac{8}{5} = \frac{107}{20}$

b) $\frac{8}{3} - \frac{3}{4} + \frac{2}{5} = \frac{139}{60}$

d) $\frac{4}{5} + \frac{7}{3} + \frac{2}{9} = \frac{151}{45}$

f) $\frac{21}{5} - \frac{8}{7} + \frac{2}{3} = \frac{391}{105}$

h) $\frac{8}{5} - \frac{3}{7} + \frac{3}{8} = \frac{433}{280}$

j) $\frac{7}{8} + \frac{4}{3} + \frac{3}{10} = \frac{301}{120}$

l) $\frac{10}{7} - \frac{1}{5} + \frac{5}{9} = \frac{562}{315}$

n) $\frac{11}{3} - \frac{8}{9} + \frac{7}{10} = \frac{313}{90}$

p) $\frac{2}{7} - \frac{1}{9} + \frac{3}{8} = \frac{277}{504}$

r) $\frac{4}{5} + \frac{9}{4} + \frac{3}{7} = \frac{487}{140}$

t) $\frac{6}{5} + \frac{11}{3} - 2 = \frac{43}{15}$

v) $\frac{8}{9} + \frac{3}{2} + 5 = \frac{133}{18}$

x) $\frac{5}{9} + \frac{13}{4} - 3 = \frac{29}{36}$

z) $\frac{5}{12} + \frac{7}{11} + 9 = \frac{1327}{132}$

Aufgabe 18:

a) $\frac{1}{3} \cdot \frac{1}{2} \cdot \frac{1}{4} = \frac{1}{24}$

c) $\frac{11}{2} \cdot \frac{7}{6} \cdot \frac{3}{8} = \frac{154}{9}$

e) $\frac{1}{4} : \frac{5}{6} : \frac{7}{4} = \frac{6}{35}$

g) $\frac{2}{5} : \frac{1}{4} \cdot \frac{2}{3} = \frac{16}{15}$

i) $\frac{8}{7} \cdot \frac{1}{9} : \frac{7}{5} = \frac{40}{441}$

k) $\frac{3}{5} : \frac{2}{7} \cdot \frac{3}{4} = \frac{14}{5}$

m) $\frac{14}{5} : \frac{2}{9} \cdot \frac{1}{3} = \frac{21}{5}$

o) $\frac{9}{2} \cdot \frac{9}{5} \cdot \frac{7}{4} = \frac{567}{40}$

q) $\frac{4}{3} : \frac{2}{3} \cdot \frac{5}{2} = 5$

s) $\frac{8}{3} \cdot \frac{7}{8} : \frac{6}{5} = \frac{5}{14}$

u) $\frac{12}{5} \cdot \frac{3}{7} \cdot \frac{11}{9} = \frac{44}{35}$

w) $\frac{6}{5} \cdot \frac{3}{4} \cdot \frac{7}{6} = \frac{21}{20}$

y) $\frac{11}{2} \cdot \frac{7}{4} : \frac{8}{5} = \frac{385}{64}$

b) $\frac{8}{3} \cdot \frac{3}{4} : \frac{2}{5} = \frac{15}{2}$

d) $\frac{4}{5} : \frac{7}{3} \cdot \frac{2}{9} = \frac{8}{105}$

f) $\frac{21}{5} \cdot \frac{8}{7} \cdot \frac{2}{3} = \frac{16}{5}$

h) $\frac{8}{5} \cdot \frac{3}{7} \cdot \frac{3}{8} = \frac{9}{35}$

j) $\frac{7}{8} : \frac{4}{3} : \frac{3}{10} = \frac{35}{16}$

l) $\frac{10}{7} : \frac{1}{5} : \frac{5}{9} = \frac{90}{7}$

n) $\frac{11}{3} \cdot \frac{8}{9} \cdot \frac{7}{10} = \frac{308}{135}$

p) $\frac{2}{7} : \frac{1}{9} : \frac{3}{8} = \frac{48}{7}$

r) $\frac{4}{5} : \frac{9}{4} : \frac{3}{7} = \frac{112}{135}$

t) $\frac{6}{5} : \frac{11}{3} \cdot 2 = \frac{36}{55}$

v) $\frac{8}{9} : \frac{3}{2} : 5 = \frac{16}{135}$

x) $\frac{5}{9} : \frac{13}{4} \cdot 3 = \frac{20}{39}$

z) $\frac{5}{12} \cdot \frac{7}{11} : 9 = \frac{35}{1188}$

Aufgabe 19:

a) $\frac{3}{2} + \frac{7}{3} - \frac{1}{6} = \frac{11}{3}$

c) $\frac{7}{6} : 2 \cdot \frac{11}{3} - \frac{47}{36} = \frac{5}{6}$

e) $6 \cdot \frac{5}{6} \cdot \frac{4}{7} : \frac{1}{10} = \frac{200}{7}$

g) $\frac{4}{7} \cdot \frac{3}{4} \cdot \frac{7}{8} \cdot \frac{8}{11} \cdot \frac{11}{3} \cdot \frac{2}{5} = \frac{2}{5}$

b) $\frac{3}{4} \cdot \frac{4}{5} - \frac{1}{6} : \frac{2}{3} = \frac{7}{20}$

d) $2 \cdot \frac{1}{5} \cdot \frac{8}{3} + 2 \cdot \frac{5}{4} \cdot \frac{8}{3} = \frac{116}{15}$

f) $\frac{12}{5} + \frac{7}{3} - \frac{3}{4} - \frac{8}{9} + \frac{3}{10} = \frac{611}{180}$

h) $\frac{63}{71} \cdot \frac{289}{14} \cdot \frac{71}{33} \cdot \frac{14}{17} \cdot \frac{5}{63} \cdot \frac{33}{289} = \frac{5}{17}$

Aufgabe 20:

$$\begin{array}{ll}
 a) \frac{4}{3} \cdot \left(\frac{1}{3} - \frac{2}{9} \right) = \frac{4}{27} & b) \frac{5}{7} : \left(\frac{5}{4} + \frac{2}{5} \right) = \frac{100}{231} \\
 c) \frac{7}{9} \cdot \left(\frac{3}{2} - \frac{1}{4} \right) = \frac{35}{36} & d) \frac{3}{4} \cdot \left(\frac{7}{3} - \frac{3}{7} \right) = \frac{10}{7} \\
 e) \frac{2}{5} \cdot \left(\frac{7}{9} + \frac{4}{5} \right) = \frac{142}{225} & f) \frac{7}{8} : \left(\frac{5}{6} + \frac{8}{3} \right) = \frac{1}{4} \\
 g) \frac{4}{5} : \left(\frac{4}{3} - \frac{5}{9} \right) = \frac{36}{35} & h) \frac{9}{2} \cdot \left(\frac{6}{7} + \frac{9}{5} \right) = \frac{837}{70}
 \end{array}$$

Aufgabe 21:

$$\begin{array}{ll}
 a) \frac{a}{b} = \frac{4}{9} & \text{mit: } a = \frac{1}{3} \text{ und } b = \frac{3}{4} \\
 b) 2 \cdot \frac{a}{b} = \frac{35}{9} & \text{mit: } a = \frac{5}{6} \text{ und } b = \frac{3}{7} \\
 c) \frac{4 \cdot a}{2 \cdot b} = \frac{56}{27} & \text{mit: } a = \frac{7}{3} \text{ und } b = \frac{9}{4} \\
 d) \frac{a \cdot c}{b + c} = \frac{49}{34} & \text{mit: } a = \frac{7}{2} \text{ und } b = \frac{9}{4} \text{ und } c = \frac{7}{8} \\
 e) \frac{a + a \cdot c}{a \cdot b} = \frac{32}{25} & \text{mit: } a = \frac{2}{3} \text{ und } b = \frac{5}{4} \text{ und } c = \frac{3}{5} \\
 f) \frac{a}{b} : \frac{a}{c} = \frac{99}{40} & \text{mit: } b = \frac{11}{8} \text{ und } c = \frac{5}{9} \\
 g) \left(\frac{2 \cdot a}{b} + \frac{a}{c} \right) : \frac{a}{3 \cdot b} = \frac{51}{8} & \text{mit: } b = \frac{1}{6} \text{ und } c = \frac{4}{3} \\
 h) \frac{6 \cdot a}{b} \cdot \frac{b}{a \cdot c} = 72 & \text{mit: } c = \frac{1}{12}
 \end{array}$$

Aufgabe 22:

$$\begin{array}{ll}
 \text{a)} \quad \frac{a}{b} \cdot c = \frac{a \cdot c}{b} & \text{b)} \quad \frac{a}{b} \cdot \frac{c}{d} = \frac{a \cdot c}{b \cdot d} \\
 \text{c)} \quad \frac{a}{b} : \frac{2 \cdot c}{d} = \frac{a \cdot d}{2 \cdot b \cdot c} & \text{d)} \quad \frac{a}{b} + 4 = \frac{a + 4 \cdot b}{b} \\
 \text{e)} \quad \frac{a}{b} - \frac{c}{d} = \frac{d \cdot a - c \cdot b}{d \cdot b} & \text{f)} \quad \frac{a}{b} + \frac{2 \cdot c}{d} = \frac{a \cdot d + 2 \cdot c \cdot b}{b \cdot d} \\
 \text{g)} \quad \frac{a}{b} + 4 : \frac{d}{c} = \frac{a \cdot d + 4 \cdot c \cdot b}{bd} & \text{h)} \quad \frac{a}{b} : \frac{4}{5} - \frac{c}{d} \cdot \frac{2}{3} = \frac{15 \cdot a \cdot d - 8 \cdot a \cdot c}{12 \cdot b \cdot d} \\
 \text{i)} \quad \frac{4 \cdot a}{b} + \frac{2 \cdot c}{a \cdot d} = \frac{4 \cdot a \cdot a \cdot d + 2 \cdot c \cdot b}{a \cdot b \cdot d} & \text{j)} \quad \frac{a}{b} + \frac{d}{c} + \frac{dc}{b} = \frac{a \cdot c + d \cdot b + c \cdot dc}{b \cdot c} \\
 \text{k)} \quad \frac{a}{b} : \frac{c}{b} : \frac{c}{d} = \frac{a \cdot d}{c \cdot c} & \text{l)} \quad \frac{a \cdot b \cdot d \cdot d + 18 \cdot b - 15 \cdot c \cdot d - a \cdot a \cdot b \cdot d}{3 \cdot a \cdot b \cdot d}
 \end{array}$$

Aufgabe 23:

$$\begin{array}{lll}
 \text{a)} \quad \frac{\cancel{3} \cdot 3 \cdot \cancel{2}}{\cancel{2} \cdot \cancel{3} \cdot 7} = \frac{3}{7} & \text{b)} \quad \frac{\overbrace{1\cancel{2}}^3 \cdot \cancel{6} \cdot \overbrace{1\cancel{5}}^3}{\cancel{3} \cdot \cancel{4} \cdot \cancel{6}} = 9 & \text{c)} \quad \frac{\overbrace{\cancel{6} \cdot 1\cancel{4}}^2 \cdot 4}{\cancel{9} \cdot \cancel{7} \cdot \cancel{7}} = 2 \\
 \text{d)} \quad \frac{3 \cdot \cancel{9} \cdot \cancel{5}}{5 \cdot \cancel{3} \cdot \cancel{9}} = \frac{3}{5} & \text{e)} \quad \frac{7 \cdot \cancel{4} \cdot \cancel{2}}{\cancel{8} \cdot 3 \cdot 5} = \frac{7}{15} & \text{f)} \quad \frac{\overbrace{\cancel{8}}^2 \cdot 1\cancel{2} \cdot 9\cancel{6}}{9\cancel{6} \cdot \cancel{4} \cdot 1\cancel{2}} = 2 \\
 \text{g)} \quad \frac{\cancel{4} \cdot 3 + 5 \cdot \cancel{4}}{\cancel{4} \cdot 11} = \frac{8}{11} & \text{h)} \quad \frac{6 \cdot \overbrace{\cancel{8}}^2 + 7 \cdot \overbrace{1\cancel{2}}^3}{7 \cdot \cancel{4}} = \frac{33}{7} & \text{i)} \quad \frac{\overbrace{1\cancel{4}}^7 \cdot \overbrace{\cancel{6}}^3 + \overbrace{1\cancel{6}}^4 \cdot 5}{2 \cdot 2 \cdot \cancel{4}} = \frac{41}{4} \\
 \text{j)} \quad \frac{8}{\cancel{3}} \cdot \frac{9}{2} : \frac{2}{\cancel{3}} = 18 & \text{k)} \quad \frac{\cancel{7}}{4} \cdot \frac{\cancel{9}}{\cancel{7}} : \frac{\cancel{9}}{3} = \frac{3}{4} & \text{l)} \quad \frac{2\cancel{9}8}{5\cancel{1}7} \cdot \frac{4\cancel{8}9}{2\cancel{9}8} : \frac{4\cancel{8}9}{5\cancel{1}7} = 1 \\
 \text{m)} \quad \frac{\cancel{d} \cdot b \cdot \cancel{d}}{\cancel{d} \cdot e \cdot \cancel{d}} = \frac{b}{e} & \text{n)} \quad \frac{d}{\cancel{d}} \cdot \frac{c}{e} : \frac{e}{\cancel{d}} = \frac{d \cdot c}{e \cdot e} & \text{o)} \quad \frac{\overbrace{\cancel{8}}^2 \cdot \cancel{d} \cdot b + \cancel{4} \cdot \cancel{d} \cdot b}{\cancel{d} \cdot \cancel{4} \cdot c} = \frac{3 \cdot b}{c}
 \end{array}$$

Zurück zu den Aufgaben durch folgenden Link: (2.2.1).

13.6.4 Lösungen zu Dezimalzahlen

Aufgabe 1:

a) $\frac{1}{2} = 0,5$	b) $\frac{1}{3} = 0,\bar{3}$	c) $\frac{1}{5} = 0,2$
d) $\frac{1}{8} = 0,125$	e) $\frac{1}{4} = 0,25$	f) $\frac{1}{16} = 0,0625$
g) $\frac{3}{4} = 0,75$	h) $\frac{4}{5} = 0,8$	i) $\frac{2}{3} = 0,\bar{6}$
j) $\frac{6}{7} = 0,\overline{857142}$	k) $\frac{1}{12} = 0,08\bar{3}$	l) $\frac{19}{5} = 3,8$
m) $\frac{5}{9} = 0,\bar{5}$	n) $\frac{11}{6} = 1,8\bar{3}$	o) $\frac{5}{3} = 1,\bar{6}$
p) $\frac{43}{5} = 8,6$	q) $\frac{55}{2} = 27,5$	r) $\frac{17}{8} = 2,125$
s) $\frac{67}{7} = 9,\overline{571428}$	t) $\frac{81}{3} = 27$	u) $\frac{55}{7} = 7,\overline{857142}$
v) $\frac{1}{10} = 0,1$	w) $\frac{1}{100} = 0,01$	x) $\frac{1}{1000} = 0,001$

Aufgabe 2:

a) $4 \cdot 0,1 = 0,4$	b) $1 + 0,75 = 1,75$	c) $9 \cdot 1,001 = 9,009$
d) $2,125 - 1 = 1,125$	e) $6,\bar{6} + 3,\bar{3} = 10$	f) $1 + 0,0004 = 1,0004$
g) $3,003 : 3 = 1,001$	h) $100 \cdot 1,001 = 100,1$	i) $1000 \cdot 0,001 = 1$
j) $5,\bar{5} : 5 = 1,\bar{1}$	k) $5 \cdot 0,1 + 0,\bar{3} = 0,8\bar{3}$	l) $14 + 0,\bar{7} = 14,\bar{7}$
m) $4 \cdot 0,9 = 3,6$	n) $8 - 0,15 = 7,85$	o) $4 \cdot 2,212 = 8,848$
p) $9,853 - 6 = 3,853$	q) $1,5 + 8,7 = 10,2$	r) $2 + 1,6974 = 3,6974$
s) $2,195 : 5 = 0,439$	t) $125 \cdot 0,005 = 0,625$	u) $0,1 \cdot 0,1 = 0,01$
v) $16,24\bar{8} : 0,8 = 20,3\bar{1}$	w) $11 \cdot 0,01 + 1,\bar{1} = 1,22\bar{1}$	x) $46 + 8,\bar{5} = 54,\bar{5}$

Aufgabe 3:

a) $0,562 \approx 0,56$	b) $0,337 \approx 0,34$	c) $0,753 \approx 0,75$	d) $12,2567 \approx 12,26$
e) $7,419 \approx 7,42$	f) $2,456 \approx 2,46$	g) $9,783 \approx 9,78$	h) $37,3783 \approx 37,38$
i) $5,505 \approx 5,51$	j) $4,782 \approx 4,78$	k) $0,228 \approx 0,23$	l) $25,7342 \approx 25,73$
m) $0,111 \approx 0,11$	n) $4,776 \approx 4,78$	o) $5,387 \approx 5,39$	p) $78,0152 \approx 78,02$
q) $1,002 \approx 1,00$	r) $1,273 \approx 1,27$	s) $4,324 \approx 4,32$	t) $11,0144 \approx 11,01$
u) $2,572 \approx 2,57$	v) $0,004 \approx 0,00$	w) $0,786 \approx 0,79$	x) $35,7855 \approx 35,79$

Aufgabe 4:

- a) 18,49€ b) 18,98€ c) 23,20€ d) 18,23€ e) 18,19€
f) 20,20€ g) 18,80€ h) 17,23€ i) 18,89€ j) 16,18€

Aufgabe 5:

- a) 2 b) 0,5 c) 6,5 d) 0,15
e) 0,15 f) 0,03 g) 2,75 h) 0,0019
i) 18,3 j) 44,78 k) 7,8 l) 287,7

Zurück zu den Aufgaben durch folgenden Link: (2.3.1).

13.6.5 Lösungen zu Einsetzungsverfahren**Aufgabe 1:**

- a) $a + b - c = 1$
b) $3 \cdot a - 4 \cdot b + c = 5$
c) $c \cdot b - b \cdot a = 2$
d) $a \cdot b - b \cdot a = 0$
e) $4 \cdot a \cdot b + 2 \cdot c \cdot c - 3 \cdot b \cdot c = 32$
f) $2 \cdot a \cdot b + 2 \cdot a \cdot c + 2 \cdot b \cdot c = 52$
g) $a \cdot b \cdot c = 24$
h) $4 \cdot \frac{a}{b} + \frac{c}{a} = \frac{22}{3} = 7, \bar{3}$

Aufgabe 2:

- a) $a \cdot a = 81$ mit: $a = 9$
 b) $4 + c \cdot d = 12$ mit: $c = 2$ und $d = 4$
 c) $2 \cdot a \cdot b + 8 =$ mit: $a = 3$ und $b = 7$
 d) $7 \cdot a + 4 \cdot b - 3 \cdot c = 25$ mit: $a = 2$ und $b = 5$ und $c = 3$
 e) $a \cdot b \cdot c \cdot d = 27$ mit: $a = \frac{1}{4}$ und $b = 4$ und $c = 3$ und $d = 9$
 f) $\frac{1}{3} \cdot G \cdot h = 81$ mit: $G = 27$ und $h = 9$
 g) $\frac{1}{2} \cdot a \cdot t \cdot t = 18$ mit: $a = \frac{1}{4}$ und $t = 6$
 h) $\frac{1}{2} \cdot a \cdot t \cdot t + v \cdot t = 98,48$ mit: $a = 9,81$ und $v = 5$ und $t = 4$

Aufgabe 3:

- a) $a \cdot 3 = 6 \cdot d$ mit: $a = 2 \cdot d$
 b) $c \cdot d = 2 \cdot a + 2 \cdot b$ mit: $c = a + b$ und $d = 2$
 c) $a + 4 = d \cdot c + 4 \cdot t + 4$ mit: $a = d \cdot c + 4 \cdot t$
 d) $A = 24$ mit: $A = a \cdot b$ und $b = 3$ und $a = 8$
 e) $H - F = 4$ mit: $F = a - b$ und $H = a + b$ und $b = 2$
 f) $\frac{f}{g} = \frac{2 \cdot b \cdot c}{a \cdot d}$ mit: $f = 4 \cdot a \cdot b \cdot c \cdot d$ und $g = 2 \cdot a \cdot a \cdot d \cdot d$
 g) $\xi \cdot v + \vartheta = a \cdot b + \wp$ mit: $\xi = a$ und $v = b$ und $\vartheta = \wp$
 h) $\Delta + \square + \diamond = \zeta$ mit: $\Delta = \nabla - \Xi$ und $\square = \Xi + \Phi$ und $\diamond = \zeta - \nabla - \Phi$

Aufgabe 4:

	1	2	3	4	5	6	7
a	3	6	0,25	3,1	$\frac{3}{2}$	$\frac{7}{6}$	$\frac{5}{3}$
b	4	2	1,75	4,5	$\frac{5}{4}$	$\frac{6}{5}$	$\frac{9}{4}$
$c = a \cdot b$	12	12	0,4375	13,95	$\frac{15}{8}$	$\frac{7}{5}$	$\frac{15}{4}$
$d = \frac{a}{b}$	$\frac{3}{4}$	3	7	0,68	$\frac{6}{5}$	$\frac{35}{36}$	$\frac{20}{27}$
$e = c \cdot d$	9	36	3,0625	9,61	$\frac{9}{4}$	$\frac{49}{36}$	$\frac{25}{9}$
$f = e + 2 \cdot a$	15	48	3,5625	15,81	$\frac{21}{4}$	$\frac{133}{4}$	$\frac{55}{9}$

Zurück zu den Aufgaben durch folgenden Link: (2.4.1).

Lösung zur Prozentrechnung**Aufgabe 1:**

a) $0,01 = 1\%$

d) $0,125 = 12,5\%$

g) $0,9315 = 93,15\%$

j) $0,54 = 54\%$

m) $0,354 = 35,4\%$

p) $5,1006 = 510,06\%$

s) $0,999 = 99,9\%$

v) $3,9552 = 395,52\%$

b) $100 = 10000\%$

e) $0,0024 = 0,24\%$

h) $0,0341 = 3,41\%$

k) $354 = 35400\%$

n) $1,1229 = 112,29\%$

q) $0,0005 = 0,05\%$

t) $3,1204 = 312,04\%$

w) $0,5755 = 57,55\%$

c) $0,5 = 50\%$

f) $289 = 2,89\%$

i) $0,891 = 89,1\%$

l) $0,976342 = 97,6342\%$

o) $245,287 = 24528,7\%$

r) $1,154578 = 115,4578\%$

u) $0,0487 = 4,87\%$

x) $0,000004 = 0,0004\%$

Aufgabe 2:

a) $1\% = 0,01$

d) $1626\% = 16,26$

g) $99\% = 0,99$

j) $8\% = 0,08$

m) $0,06\% = 0,0006$

p) $12\% = 0,12$

s) $4\% = 0,04$

v) $9786\% = 97,86$

b) $100\% = 1$

e) $2,374\% = 0,02374$

h) $5\% = 0,05$

k) $0,4\% = 0,004$

n) $11,89\% = 0,1189$

q) $0\% = 0$

t) $909\% = 9,09$

w) $8,457\% = 0,08457$

c) $54\% = 0,54$

f) $2,01\% = 0,0201$

i) $81,063\% = 0,81063$

l) $30\% = 0,30$

o) $0,9\% = 0,009$

r) $587,3\% = 5,873$

u) $11\% = 0,11$

x) $5,64\% = 0,0564$

Aufgabe 3:

a) $\frac{1}{4} = 25\%$

b) $\frac{1}{3} \approx 33,3\%$

c) $\frac{5}{6} \approx 83,3\%$

d) $\frac{9}{14} \approx 64,3\%$

e) $\frac{8}{25} = 32\%$

f) $\frac{1}{8} = 12,5\%$

g) $\frac{7}{9} \approx 77,7\%$

h) $\frac{9}{4} = 225\%$

i) $\frac{43}{83} \approx 51,8\%$

j) $\frac{8}{3} \approx 266,67\%$

k) $\frac{7}{2} = 350\%$

l) $\frac{1}{97} \approx 10,31\%$

m) $\frac{5}{66} \approx 7,58\%$

n) $\frac{1}{351} \approx 0,28\%$

o) $\frac{4}{25} = 16\%$

p) $\frac{1}{7} \approx 14,29\%$

q) $\frac{9}{8} = 112,5\%$

r) $\frac{21}{250} = 8,4\%$

s) $\frac{3}{71} \approx 4,23\%$

t) $\frac{5}{83} \approx 6,02\%$

u) $\frac{16}{354} \approx 4,52\%$

v) $\frac{1}{1} = 100\%$

w) $\frac{0}{4} = 0\%$

x) $\frac{75}{976} \approx 7,68\%$

Aufgabe 4:

a) $700 \cdot 1\% = 7$

b) $45 \cdot 100\% = 45$

c) $200 \cdot 4\% = 8$

d) $80 \cdot 25\% = 20$

e) $1500 \cdot 2\% = 30$

f) $50000 \cdot 3\% = 1500$

g) $9000 \cdot 99\% = 8910$

h) $3141 \cdot 0,1\% = 3,141$

k) $972 \cdot 245\% = 2381,4$

l) $5707 \cdot 2\% = 114,14$

m) $2040 \cdot 54\% = 1101,6$

n) $2786 \cdot 9\% = 250,74$

o) $6872 \cdot 78\% = 5360,16$

p) $7827 \cdot 44,68\% = 3497,1036$

q) $1837 \cdot 0,827\% = 15,19199$

r) $3287 \cdot 0,37\% = 12,1619$

s) $79,94 \cdot 45\% = 35,973$

t) $3248,69 \cdot 7,34\% = 238,453846$

u) $2304,56 \cdot 0,003\% = 0,0691368$

v) $287,784 \cdot 92,75\% = 266,91966$

w) $954,557 \cdot 3,786\% = 36,13952802$

x) $245,57 \cdot 78,57\% = 192,944349$

Aufgabe 5:

- a) 4% von 1000€ sind: $4\% \cdot 1000\text{€} = 40\text{€}$
b) 2% von 5550€ sind: $2\% \cdot 5550\text{€} = 111\text{€}$
c) 10% von 862434€ sind: $10\% \cdot 862434\text{€} = 86243,4\text{€}$
d) 19% von 299€ sind: $19\% \cdot 299\text{€} = 56,81\text{€}$
e) 12% von 1200€ sind: $12\% \cdot 1200\text{€} = 144\text{€}$
f) 11% von 65300€ sind: $11\% \cdot 65300\text{€} = 7183\text{€}$

Aufgabe 6:

- a) 2863,25€ b) 6753,05€ c) 4998,88€
d) 15814,08€ e) 31774,83€ f) 105321,09€
g) 155539,37€ h) 147487,65€ i) 43130,79€
j) 20716673,68€

Aufgabe 7:

- a) 5515,10€ b) 8702,43€ c) 14206,07€
d) 33764,35€ e) 27257,17€ f) 9632,57€
g) 51205,80€ h) 54933,23€ i) 159610,93€
j) 506418,17€

Zurück zu den Aufgaben durch folgenden Link: (2.5.1).

13.6.6 Lösungen zu den negativen Zahlen**Aufgabe 1:**

a) $-2 + 4 = 2$

d) $-52 + 49 = -3$

g) $-75 - 24 = -99$

j) $-\frac{1}{5} + \frac{3}{10} = \frac{1}{2}$

m) $-\frac{4}{7} + \frac{6}{5} = \frac{22}{35}$

p) $-\frac{8}{3} - \frac{9}{4} = -\frac{59}{12}$

b) $-12 + 25 = 13$

e) $-77 + 53 = -24$

h) $-38 - 52 = -90$

k) $-\frac{5}{6} + \frac{2}{3} = -\frac{1}{6}$

n) $-\frac{3}{8} + \frac{5}{7} = \frac{19}{56}$

q) $-\frac{5}{6} - \frac{8}{9} = -\frac{31}{18}$

c) $-34 + 62 = 28$

f) $-145 + 86 = -59$

i) $-367 - 572 = -939$

l) $-\frac{1}{4} + \frac{7}{8} = \frac{5}{8}$

o) $-\frac{4}{9} + \frac{8}{5} = \frac{52}{45}$

r) $-\frac{4}{7} - \frac{11}{3} = -\frac{89}{21}$

Aufgabe 2:

a) $-7 \cdot 8 = -56$

d) $4 \cdot (-9) = -36$

g) $-5 \cdot (-7) = 35$

j) $-\frac{3}{4} \cdot \frac{7}{2} = -\frac{21}{8}$

m) $\frac{7}{5} \cdot \left(-\frac{3}{8}\right) = -\frac{21}{40}$

p) $-\frac{4}{3} \cdot \left(-\frac{4}{7}\right) = \frac{16}{21}$

s) $-\frac{6}{7} : \frac{5}{6} = -\frac{36}{35}$

v) $\frac{15}{4} : \left(-\frac{7}{15}\right) = -\frac{225}{28}$

b) $-11 \cdot 12 = -156$

e) $17 \cdot (-4) = -68$

h) $-9 \cdot (-8) = 72$

k) $-\frac{6}{7} \cdot \frac{4}{5} = -\frac{24}{35}$

n) $\frac{8}{3} \cdot \left(-\frac{7}{9}\right) = -\frac{42}{27}$

q) $-\frac{8}{5} \cdot \left(-\frac{5}{9}\right) = \frac{8}{9}$

t) $-\frac{3}{5} : \frac{2}{9} = -\frac{27}{10}$

w) $-\frac{11}{7} : \left(-\frac{4}{3}\right) = \frac{33}{28}$

c) $-24 \cdot 5 = -120$

f) $72 \cdot (-3) = -216$

i) $-13 \cdot (-13) = 169$

l) $-\frac{2}{3} \cdot \frac{5}{9} = -\frac{10}{27}$

o) $\frac{7}{3} \cdot \left(-\frac{9}{7}\right) = -3$

r) $-\frac{4}{11} \cdot \left(-\frac{12}{5}\right) = \frac{48}{55}$

u) $\frac{7}{8} : \left(-\frac{11}{3}\right) = -\frac{21}{88}$

x) $-\frac{5}{13} : \left(-\frac{10}{9}\right) = \frac{9}{26}$

Aufgabe 3:

a) $a + b = -14$

b) $3 \cdot a + b = -9$

c) $a - b = 4$

d) $4 \cdot a - 6 \cdot b = 44$

e) $8 \cdot a \cdot b = 40$

f) $a \cdot b - b \cdot c = 12$

g) $a + b = -\frac{17}{12}$

h) $-2 \cdot a - b = \frac{32}{35}$

i) $9 \cdot a \cdot b = \frac{81}{11}$

j) $-2 \cdot a : b = -\frac{32}{35}$

k) $\frac{1}{3} \cdot a : b + \frac{3}{2} \cdot c = -\frac{52}{105}$

l) $a \cdot b : c - b : a = -\frac{177}{175}$

mit: $a = -5$ und $b = -9$

mit: $a = -2$ und $b = -3$

mit: $a = -7$ und $b = -11$

mit: $a = -4$ und $b = -10$

mit: $a = -2$ und $b = -3$

mit: $a = -5$ und $b = -4$ und $c = -2$

mit: $a = -\frac{2}{3}$ und $b = -\frac{3}{4}$

mit: $a = -\frac{6}{7}$ und $b = -\frac{4}{5}$

mit: $a = -\frac{9}{5}$ und $b = -\frac{5}{11}$

mit: $a = -\frac{2}{5}$ und $b = -\frac{7}{8}$

mit: $a = -\frac{3}{5}$, $b = -\frac{7}{6}$ und $c = -\frac{4}{9}$

mit: $a = -\frac{7}{4}$, $b = -\frac{3}{10}$ und $c = -\frac{5}{8}$

Zurück zu den Aufgaben durch folgenden Link: (2.6.1).

13.6.7 Lösungen zur Klammersetzung

Aufgabe 1:

$$a) \frac{1}{2}(9+7) = 8$$

$$c) 4(3+2) = 20$$

$$e) \frac{1}{4}(144-92) = 13$$

$$g) 5,5(1,5+6,25) = 42,625$$

$$i) \frac{1}{2}\left(\frac{3}{4} + \frac{1}{3}\right) = \frac{13}{24}$$

$$k) 4(3+2) - 2(1+3) = 12$$

$$b) \frac{25+65}{10} = 9$$

$$d) \frac{16+48}{2} = 32$$

$$f) \frac{3}{5} \cdot \frac{13-5}{4} = \frac{6}{5}$$

$$h) \frac{6,3-5-0,3}{20} : \frac{2}{5} = \frac{1}{8}$$

$$j) \frac{77-47}{3} \cdot \frac{3+5}{24} = \frac{10}{8}$$

$$l) \frac{12-8+14}{2} \cdot \left(3 + \frac{9}{2}\right) = \frac{135}{2}$$

Aufgabe 2:

$$a) 2(a+7) = 2a+14$$

$$c) 7(4+v) = 28+7v$$

$$e) 6(ab-cd) = 6ab-6cd$$

$$g) ha(llo-i) = hallo-hai$$

$$i) = TagStunde - TagMinute$$

$$k) 2(2a-3c)4 = 16a-24c$$

$$m) 4 \diamond (3\hbar - 6\Gamma) = 12 \diamond \hbar - 24 \diamond \Gamma$$

$$b) 4(b+c) = 4b+4c$$

$$d) d(b-c) = db-dc$$

$$f) mo(ep-ewe) = moep-moewe$$

$$h) te(st+e) = test+tee$$

$$j) (4b+7c)5 = 20b+35c$$

$$l) \xi(\Psi-\Phi) = \xi\Psi-\xi\Phi$$

$$n) 2\tau(5\sigma+3\rho)3\lambda = 30\tau\sigma\lambda+18\tau\rho\lambda$$

Aufgabe 3:

$$a) 4(a+b) = 4a+4b$$

$$c) \frac{2}{5}(9a-5) = \frac{18a}{5} - 10$$

$$e) \frac{2}{5}\left(\frac{a}{b} - \frac{5c}{d}\right) = \frac{2a}{5b} - \frac{2c}{d}$$

$$g) (a+b)(c+d) = ac+ad+bc+bd$$

$$i) \frac{a+b}{c} = \frac{a}{c} + \frac{b}{c}$$

$$b) c(a-5b) = ac-5bc$$

$$d) (a+b)(a+b) = aa+2ab+bb$$

$$f) (a-b)(a-b) = aa-2ab+bb$$

$$h) (a-b)(a+b) = aa-bb$$

$$j) \frac{(a+b)(a-b)}{a-b}(a+b) = a+2ab+bb$$

Aufgabe 4:

- | | |
|--|--|
| a) $2a + 2b = 2(a + b)$ | b) $ab - ad = a(b - d)$ |
| c) $abe + aef = ae(b - f)$ | d) $3ag - 6a = 3a(g - 2)$ |
| e) $2ab + 2bc - 2bd = 2b(a + c - d)$ | f) $2a - 4b + 8d = 2(a - 2b + 4d)$ |
| g) $ab + ac + ad + ae - af = a(b + c + d + e - f)$ | h) $5\Delta\nabla - \Delta\circ\nabla = \Delta\nabla(5 - \circ)$ |
| i) $\Delta\Phi\Gamma + \Phi\nabla\Delta = \Delta\Phi(\Gamma + \nabla)$ | j) $\alpha\beta(1 + \chi) =$ |
| k) $\Theta\Sigma\Xi - \Xi\Pi\Sigma + \Theta\Xi\Phi = \Xi(\Theta\Sigma - \Pi\Sigma + \Theta\Phi)$ | l) $2\Omega\Sigma - 4\Sigma\Pi + 6\Lambda\Sigma = 2\Sigma(\Omega - 2\Pi + 3\Lambda)$ |

Aufgabe 5:

- | | |
|--|--|
| a) $9a + 9b = 9(a + b)$ | b) $2a + 6 - 8b = 2(a + 3 - 4b)$ |
| c) $ab - acd + aa = a(b - cd + a)$ | d) $2ab + 4ab + 8ab = 2ab(1 + 2 + 4)$ |
| e) $\frac{5a}{bc} + \frac{25}{bc} = \frac{5}{bc}(a + 5)$ | f) $abcdefghijkl - bcdefghijk = bcdefghijk(al - 1)$ |
| h) $\frac{2a + 13ab}{7} = \frac{a}{7}(2 + 13b)$ | i) $\frac{3cd - 6bd}{a - ba} = \frac{2d}{a} \frac{c - 2b}{1 - b}$ |
| j) $\frac{\square\nabla - 3\nabla\square}{4 - \diamond} = \frac{-2}{4 - \diamond}\nabla\square$ | k) $\frac{\hbar\mu\sigma - \hbar\lambda\mu}{\theta\rho + \psi\theta} = \frac{\hbar\mu}{\theta} \frac{\sigma - \lambda}{\rho + \psi}$ |
| l) $\frac{4\Pi\Sigma\Theta + 8\delta\Lambda\Sigma}{5\Gamma\Delta - \Gamma} = \frac{4\Sigma}{\Gamma} \frac{\Pi\Theta + \delta\Lambda}{5\Delta - 1}$ | m) $\frac{15asdfgh - 5hfsa}{3\tau\zeta\xi\psi - 9\nu\tau\zeta} = \frac{5hfsa}{3\tau\zeta} \frac{3dg - 1}{\xi\psi - 3\nu}$ |

Aufgabe 6:

- a) $x^2 + 2x - 8$
b) $x^2 + 12x + 27$
c) $x^3 - 4x^2 - 11x + 30$
d) $x^3 - 5x^2 - 38x + 168$
e) $x^4 - 4x^3 - 140x^2 + 576x - 576$
f) $x^4 + 2x^3 - 3x^2 - 8x - 4$
g) $x^4 - \frac{17x^2}{18} + \frac{25}{144}$
h) $x^4 - 69x^2 - 44x + 672$
i) $-x^4 + ax^3 - bx^3 + cx^3 - dx^3 + abx^2 - acx^2 + bcx^2 - bdx^2 + cdx^2$
 $- abcx + abdx - acdx + bc dx - abcd$
j) $-x^6 + bx^5 + 2cx^5 - 2dx^5 + a^2x^4 - 2bcx^4 + 2bdx^4 - c^2x^4 + 4cdx^4$
 $- a^2bx^3 - 2a^2cx^3 + 2a^2dx^3 + bcx^3 - 4bcdx^3 - 2c^2dx^3 + 2a^2bcx^2 - 2a^2bdx^2$
 $+ a^2c^2x^2 - 4a^2cdx^2 + 2bc^2dx^2 - a^2bc^2x + 4a^2bcdx + 2a^2c^2dx - 2a^2bc^2d$

Zurück zu den Aufgaben durch folgenden Link: (2.7.4).

13.6.8 Lösungen zur Potenzen

Aufgabe 1:

$$a) 2^3 = 8$$

$$d) 2^{-1} = \frac{1}{2}$$

$$g) 4^{-3} = \frac{1}{64}$$

$$j) (5^3)^2 = 3125$$

$$m) (2^3 + 2^3)^3 = 4096$$

$$p) \left(100^{\frac{1}{2}}\right)^2 = 100$$

$$b) 3^4 = 81$$

$$e) 10^3 = 1000$$

$$h) 10^{-6} = \frac{1}{1000000}$$

$$k) 4^{(3^2)} = 4096$$

$$n) (10^2)^{-1} = \frac{1}{100}$$

$$q) \left(3,141^{\frac{1}{2,718}}\right)^{2,718} = 3,141$$

$$c) 2^6 = 64$$

$$f) 8^3 = 512$$

$$i) \left(\frac{1}{6}\right)^2 = \frac{1}{36}$$

$$l) 2^6 \cdot 2^2 = 256$$

$$o) \left((2^6)^{-1}\right)^{-1} = 64$$

$$r) \left(\frac{1}{5^{-1}}\right)^3 = 125$$

Aufgabe 2:

a) $\left(\frac{3}{4}\right)^2 = \frac{9}{16}$

b) $\left(\frac{7}{8}\right)^2 = \frac{49}{64}$

c) $\left(\frac{11}{17}\right)^2 = \frac{131}{289}$

d) $\left(\frac{2}{3}\right)^3 = \frac{8}{27}$

e) $\left(\frac{124}{217}\right)^{-1} = \frac{217}{124}$

f) $\left(\frac{9}{7}\right)^{-2} = \frac{49}{81}$

g) $\left(\frac{3}{5}\right)^{-2} = \frac{25}{9}$

h) $\left(\frac{144}{169}\right)^{\frac{1}{2}} = \frac{12}{13}$

i) $\left(\frac{83}{87}\right)^{-1} = \frac{87}{83}$

j) $\left(\frac{8}{3}\right)^{-2} = \frac{1}{9}$

k) $\left(\frac{36}{64}\right)^{\frac{1}{2}} = \frac{3}{4}$

l) $\left(\frac{225}{121}\right)^{-\frac{1}{2}} = \frac{11}{15}$

m) $\left(\frac{5}{2}\right)^{-3} = \frac{8}{125}$

n) $\left(\frac{27}{8}\right)^{\frac{1}{3}} = \frac{3}{2}$

o) $\left(\frac{16}{81}\right)^{-\frac{1}{4}} = \frac{3}{2}$

Aufgabe 3:

a) $\sqrt{16} = 4$

b) $\sqrt{81} = 9$

c) $\sqrt[3]{8} = 2$

d) $\sqrt[3]{27} = 3$

e) $\sqrt{144} = 12$

f) $\sqrt[5]{100000} = 10$

g) $\sqrt{289} = 17$

h) $\sqrt[4]{81} = 3$

i) $\sqrt{\sqrt{\sqrt{\sqrt{2^{16}}}}} = 2$

j) $\sqrt{a^{8\frac{1}{4}}} = a^2$

k) $\sqrt[10]{1024} = 2$

l) $\sqrt[7]{\sqrt[4]{\sqrt[9]{\sqrt[13]{\lambda^{33}}}}} = \lambda$

Aufgabe 4:

- | | |
|--------------------------------------|-------------------------------|
| a) $3dm = 30cm$ | b) $4m = 400cm$ |
| c) $7cm = 70mm$ | d) $500cm = 50dm$ |
| e) $25km = 25000m$ | f) $8000000cm = 80km$ |
| g) $2dm^2 = 200cm^2$ | h) $14m^2 = 140\,000cm^2$ |
| i) $9cm^2 = 900mm^2$ | j) $2500cm^2 = 25dm^2$ |
| k) $65km^2 = 65\,000\,000m^2$ | l) $7500000cm^2 = 750m^2$ |
| m) $6dm^3 = 6000cm^3$ | n) $7m^3 = 7000000cm^3$ |
| o) $12cm^3 = 12000mm^3$ | p) $3000cm^3 = 3dm^3$ |
| q) $253km^3 = 253\,000\,000\,000m^3$ | r) $5000000cm^3 = 5000dm^3$ |
| s) $46dm^2 = 4600cm^2$ | t) $75m = 7500cm$ |
| u) $34cm^3 = 34000mm^3$ | v) $8900cm = 890dm$ |
| w) $63km^2 = 63\,000\,000m^2$ | x) $74000000cm^3 = 74000dm^3$ |

Aufgabe 5:

- | | | |
|---|--|--|
| a) $1m^2 = 10^4cm^2$ | b) $2,718km = 2,718 \cdot 10^6mm$ | c) $1mm^3 = 10^6dm^3$ |
| d) $3m^3 = 3 \cdot 10^3dm^3$ | e) $0,5cm^2 = 5 \cdot 10^{-5}m^2$ | f) $13,3cm^3 = 133 \cdot 10^{-7}m^3$ |
| g) $10^3km^2 = 10^9dm^2$ | h) $1,234dm = 123,4mm$ | i) $\frac{15}{4}\mu m^2 = \frac{15}{4} \cdot 10^6mm^2$ |
| j) $\frac{1}{3}Mm^3 = \frac{1}{3} \cdot 10^9km^3$ | k) $0,01km^2 = 10^8cm^2$ | l) $125mm^5 = 125 \cdot 10^{-5}cm^5$ |
| m) $6,\bar{6}m^4 = 6,\bar{6} \cdot 10^8cm^4$ | n) $0,025km^7 = 0,025 \cdot 10^{42}mm^7$ | o) $3,141Tm^2 = 3,141 \cdot 10^{36}nm^2$ |

Aufgabe 6:

$$a) (a + 4)^2 = a^2 + 8a + 16$$

$$c) (\sqrt{2}a + 2)^4 = 4a^4 + 16\sqrt{2}a^3 + 48a^2 + 32\sqrt{2}a + 16$$

$$d) \left(3a + \frac{2}{3}\right)^3 = 27a^3 + 18a^2 + 4a + \frac{8}{27}$$

$$e) (a - b)^4 = a^4 - 4a^3b + 6a^2b^2 - 4ab^3 + b^4$$

$$f) (a + b + c)^2 = a^2 + 2ab + b^2 + 2bc + c^2 + 2ac$$

$$g) (a + b + c + d)^2 = a^2 + b^2 + c^2 + d^2 + 2ab + 2ac + 2ad + 2bc + 2bd + 2cd$$

$$h) a^2 + b^2 + c^2 + d^2 + e^2 + 2ab + 2ac + 2ad + 2ae + 2bc + 2bd + 2be + 2cd + 2ce + 2de$$

$$i) (a + b)^6 = a^6 + 6a^5b + 15a^4b^2 + 20a^3b^3 + 15a^2b^4 + 6ab^5 + b^6$$

$$j) (a - c)^8 = a^8 - 8a^7c + 28a^6c^2 - 56a^5b^3 + 70a^4b^4 - 56a^3b^5 + 28a^2b^6 - 8ab^7 + b^8$$

$$k) (\hbar + \ell)^{-3} = \frac{1}{\hbar^3 + 3\hbar^2\ell + 3\hbar\ell^2 + \ell^3}$$

$$l) (\square - \nabla)^{-5} = \frac{1}{\square^5 - 5\square^4\nabla + 10\square^3\nabla^2 - 10\square^2\nabla^3 + 5\square\nabla^4 - \nabla^5}$$

$$m) (ab + cd)^{-3} = \frac{1}{a^3b^3 + 3a^2b^2cd + 3abc^2d^2 + c^3d^3}$$

$$n) (\kappa - \gamma + \eta\epsilon)^{-2} = \frac{1}{\kappa^2 + \gamma^2 + \eta^2\epsilon^2 - 2\kappa\gamma + 2\kappa\eta\epsilon - 2\gamma\eta\epsilon}$$

Aufgabe 7:

- | | | |
|---------------|-----------------|------------------|
| a) $5^2 = 25$ | b) $-5^2 = -25$ | c) $(-5)^2 = 25$ |
| d) $6^2 = 36$ | e) $-6^2 = -36$ | f) $(-6)^2 = 36$ |
| g) $4^3 = 64$ | h) $-4^3 = -64$ | i) $(-4)^3 = 64$ |
| j) $3^4 = 81$ | k) $-3^4 = -81$ | l) $(-3)^4 = 81$ |
| m) $2^5 = 32$ | n) $-2^5 = -32$ | o) $(-2)^5 = 32$ |
| p) $13^0 = 1$ | q) $-17^0 = -1$ | r) $(-11)^0 = 1$ |

Aufgabe 8:

- | | | |
|-------------------------|-------------------------|--------------------------|
| a) $3,00 \cdot 10^4$ | b) $8,54 \cdot 10^6$ | c) $7,27 \cdot 10^7$ |
| d) $4,75 \cdot 10^7$ | e) $5,84 \cdot 10^8$ | f) $1,25 \cdot 10^7$ |
| g) $1,00 \cdot 10^{-6}$ | h) $3,52 \cdot 10^{-5}$ | i) $6,47 \cdot 10^{-11}$ |
| j) $9,56 \cdot 10^4$ | k) $9,12 \cdot 10^7$ | l) $7,31 \cdot 10^{-9}$ |
| m) $7,85 \cdot 10^{-3}$ | n) $4,56 \cdot 10^{11}$ | o) $9,14 \cdot 10^4$ |

Zurück zu den Aufgaben durch folgenden Link: (2.8.4).

13.6.9 Lösungen zu Logarithmen**Aufgabe 1:**

- | | | |
|----------------------------------|--|------------------------|
| a) $\log_2 16 = 4$ | b) $\lg 1000 = 3$ | c) $\log_8 64 = 2$ |
| d) $\text{lb } 512 = 9$ | e) $\ln e^9 = 9$ | f) $\log_5 125 = 3$ |
| g) $\log_{25} 125 = \frac{3}{2}$ | h) $\lg (11 \cdot 10^6) = 6 + \lg 11 \approx 7,04$ | i) $\log_{17} 1 = 0$ |
| j) $\log_3 81 = 4$ | k) $\log_4 64 = 3$ | l) $\log_{15} 225 = 2$ |

Aufgabe 2:

$$a) \log_5 7 = \frac{\log_3 7}{\log_3 5}$$

$$c) \log_8 512 = \frac{\text{lb} 512}{\text{lb} 8} = \frac{9}{3} = 3$$

$$e) \lg 24 = \frac{\log_{22} 24}{\log_{22} 10}$$

$$g) \text{lb} 1 = \frac{\log_{\frac{5}{7}} 1}{\log_{\frac{5}{7}} 2} = 0$$

$$i) \lg 9000 = 2 \frac{\ln 9}{\ln 10}$$

$$b) \log_8 251 = \frac{\lg 251}{\lg 8}$$

$$d) \log_3 39 = \frac{\log_5 39}{\log_5 3}$$

$$f) \lg (3 \cdot 10^8) = 8 \cdot \frac{\log_{\frac{1}{2}} 3}{\log_{\frac{1}{2}} 10}$$

$$h) \ln \pi = \frac{\log_{\sqrt{2}} \pi}{\log_{\sqrt{2}} e}$$

$$j) \text{lb} 64 = \frac{\ln 64}{\ln 2}$$

Aufgabe 3:

$$a) \ln x^3 = 3 \ln x$$

$$c) \ln \frac{4x}{5} = \ln x + \ln \frac{4}{5}$$

$$e) \ln 4x^4 = \ln 4 + 4 \ln x$$

$$g) \lg ax = \frac{\ln a + \ln x}{\ln 10}$$

$$i) \log_5 \frac{4x^6}{5} = \frac{\ln 4 - \ln 5 + 6 \ln x}{\ln 5}$$

$$k) \log_7 \left(\frac{5}{3x} \right)^3 = 3 \cdot \frac{\ln 5 - \ln 3 - \ln x}{\ln 7}$$

$$b) \ln 7x = \ln 7 + \ln x$$

$$d) \ln \frac{2}{x} = \ln 2 - \ln x$$

$$f) \ln \frac{2x^{-1}}{3} = \ln \frac{2}{3} - \ln x$$

$$h) \log_3 5x^4 = \frac{\ln 5 + 4 \ln x}{\ln 3}$$

$$j) \log_a \frac{bx^c}{d} = \frac{\ln b - \ln d + c \ln x}{\ln a}$$

$$l) \log_a \left(\frac{b}{dx^c} \right)^r = r \cdot \frac{\ln b - \ln d - \ln x}{\ln a}$$

Zurück zu den Aufgaben durch folgenden Link: [\(2.9.1\)](#).

13.6.10 Lösungen zur Äquivalenzumformung**Aufgabe 1:**

a) $\Rightarrow x = -\frac{4}{3}$

b) $\Rightarrow x = \frac{9}{2}$

c) $\Rightarrow x = -\frac{55}{9}$

d) $\Rightarrow x = 5$

e) $\Rightarrow x = -1$

f) $\Rightarrow x = 75$

g) $\Rightarrow x = \frac{7}{4}$

h) $\Rightarrow x = 1$

i) $\Rightarrow x = \frac{1}{16}$

j) $\cdot 23 \Rightarrow x = \frac{47}{22}$

k) $\Rightarrow x = -\frac{7}{5}$

l) $\Rightarrow x = -\frac{1}{12}$

m) $\Rightarrow x = -\frac{5}{22}$

n) $\Rightarrow x = -\frac{57}{192}$

o) $\Rightarrow x = \frac{\sqrt{2}}{\frac{8}{9} - \sqrt{3}}$

p) $\Rightarrow x = -\frac{\pi + \sqrt{e}}{e + \sqrt{2}}$

Aufgabe 2:

a) $\Rightarrow x_{1,2} = \pm 2$

b) $\Rightarrow x = 9$

c) $\Rightarrow x = \frac{1}{289}$

d) $\Rightarrow x = \frac{e^2}{5}$

e) $\Rightarrow x = e^{-\sqrt{2} + \ln 13}$

f) $\Rightarrow x_{1,2} = \pm \frac{3}{2} \sqrt[4]{5}$

g) $\Rightarrow x_{1,2} = \pm 7$

h) $\Rightarrow x = \frac{1}{2}(6 + \ln 2) = 3 + \ln \sqrt{2}$

Aufgabe 3:

a) $\Rightarrow x_1 = -1$

b) $\Rightarrow x_1 = 4$

c) $\Rightarrow x_{1,2} = -4 \pm \sqrt{17}$

d) $\Rightarrow x_{1,2} = -2 \pm \sqrt{14}$

e) $\Rightarrow x_{1,2} = \frac{5 \pm \sqrt{37}}{2}$

f) $\Rightarrow x_{1,2} = \frac{7 \pm \sqrt{145}}{6}$

g) $\Rightarrow x_1 = 0 \wedge x_2 = 2$

h) $\Rightarrow x_{1,2} = \frac{1 \pm \sqrt{3}}{4}$

i) $\Rightarrow x_1 = 7 \wedge x_2 = -2$

j) $\Rightarrow x_{1,2} = -\frac{9}{32} \pm \frac{\sqrt{521}}{32}$

k) $\Rightarrow x_{1,2} = -\frac{5}{4} \pm \frac{\sqrt{33}}{4}$

l) $\Rightarrow x_{1,2} = -\frac{11}{6} \pm \frac{\sqrt{249}}{6}$

m) $\Rightarrow x_{1,2} = -\frac{11}{72} \pm \frac{\sqrt{3865}}{72}$

n) $\Rightarrow x_{1,2} = -\frac{3}{19} \pm \frac{7\sqrt{6}}{19}$

o) $\Rightarrow x_{1,2} = -\frac{\sqrt{6}}{4} \pm \frac{\sqrt{2}\sqrt{4\sqrt{34}+3}}{4}$

p) $\Rightarrow x_{1,2} = -\frac{\pi}{2e+1} \pm \frac{\sqrt{4e \ln 2 + 2 \ln 2 + \pi^2}}{2e+1}$

Aufgabe 4:

- | | |
|---|--|
| a) $\Rightarrow x_1 = -2$ | b) $\Rightarrow x_1 = 8$ |
| c) $\Rightarrow x_1 = -5$ | d) $\Rightarrow x_1 = \frac{1}{2}$ |
| e) $\Rightarrow x_1 = -1$ | f) $\Rightarrow x_1 = 3$ |
| g) $\Rightarrow x_{1,2} = 2$ | h) $\Rightarrow x_{1,2} = -3$ |
| i) $\Rightarrow x_{1,2} = -3 \pm \sqrt{14}$ | j) $\Rightarrow x_{1,2} = -\frac{7}{2} \pm \frac{\sqrt{97}}{2}$ |
| k) $\Rightarrow x_{1,2} = -\frac{3}{2} \pm \frac{\sqrt{41}}{2}$ | l) $\Rightarrow x_{1,2} = -\frac{5}{2} \pm \frac{3\sqrt{70}}{10}$ |
| m) $\Rightarrow x_{1,2} = -2 \pm \frac{\sqrt{22}}{4}$ | n) $\Rightarrow x_{1,2} = -\frac{3}{4} \pm \frac{\sqrt{73}}{4}$ |
| o) $\Rightarrow x_{1,2} = -\frac{3}{5} \pm \frac{\sqrt{161}}{10}$ | p) $\Rightarrow x_{1,2} = -\frac{25}{112} \pm \frac{\sqrt{2585}}{112}$ |
| q) $\Rightarrow x_{1,2} = -1 \pm \frac{\sqrt{10}}{2}$ | r) $\Rightarrow x_{1,2} = x_1 = 1 \wedge x_2 = -5$ |
| s) $\Rightarrow x_{1,2} = -4 \pm \frac{\sqrt{210}}{3}$ | t) $\Rightarrow x_{1,2} = -\frac{9}{16} \pm \frac{\sqrt{1041}}{16}$ |
| u) $\Rightarrow x_{1,2} = x_1 = 1 \wedge x_2 = -\frac{3}{2}$ | v) $\Rightarrow x_{1,2} = -\frac{1}{2} \pm \frac{\sqrt{34}}{2}$ |
| w) $\Rightarrow x_{1,2} = -\frac{5}{8} \pm \frac{\sqrt{37}}{8}$ | x) $\Rightarrow \mathbb{L} = \emptyset$ |

Zurück zu den Aufgaben durch folgenden Link: (2.10.2).

13.6.11 Lösungen zur Substitution**Aufgabe 1:**

- a) $(x^2 + x + 1)^3 = 8$ mit: $y = x^2 + x + 1 \Rightarrow y^3 = 8$
 b) $(a + 4x)^{\frac{1}{2}} = 6b - c$ mit: $y^2 = 4x + a \Rightarrow \sqrt{y^2} = 6b - c$
 c) $(18x - 4ab)^2 = c$ mit: $\sqrt{y} = 18x - 4ab \Rightarrow \sqrt{y^2} = c$
 d) $2^{2a-c} = 32$ mit: $b = 2a - c \Rightarrow 2^b = 32$
 e) $x = 4a$ mit: $y = x + 4a \Rightarrow y + 4a = 4a$
 f) $x^2 + 8x + 16 = 0$ mit: $(y + 4)^2 = x^2 + 8x + 16 \Rightarrow (y + 4)^2 = 0$
 g) $(3a + 2x)(2x - 3a) = 0$ mit: $y = 2x + 3a \Rightarrow y^2 - 6ya = 0$
 h) $\ln(x^2 + 4x) = 2$ mit: $y = x^2 + 4x \Rightarrow \ln y = 2$

Aufgabe 2:

a) $x^3 + 4x^2 - x - 8 = 0 \Rightarrow y - 8 = 0$ mit: $y = x^3 + 4x^2 - x$

b) $\frac{x}{2} - \frac{2}{x} = 0 \Rightarrow y - \frac{1}{y} = 0$ mit: $y = \frac{x}{2}$

c) $\frac{x^2}{ab} + \frac{5}{ab} - 3 = 0 \Rightarrow dx^2 + 5d - 3 = 0$ mit: $d = \frac{1}{ab}$

d) $\frac{ax^2 + bx - c}{5} = 0 \Rightarrow \frac{y}{5a} = 0$ mit: $y = a(ax^2 + bx - c)$

e) $ax + bx + cx + xd + xe - f = 0 \Rightarrow gx - f = 0$ mit: $g = a + b + c + d + e$

f) $x^2 + 4x - 8 = 0 \Rightarrow \left(\frac{y}{4} + 2\right)^2 = 0$ mit: $y = 4x - 8$

Zurück zu den Aufgaben durch folgenden Link: (2.11.1).

13.6.12 Lösungen zu Gleichungssysteme

Aufgabe 1:

- a) $a = 31,5$ und $b = 7,5$
- b) $a = \frac{19}{36}$ und $b = \frac{77}{36}$
- c) $a = -4 \vee -6$ und $b = -6 \vee -4$
- d) $a = -\frac{25}{7}$ und $b = -\frac{1}{7}$
- e) $a = \frac{71}{18}$ und $b = \frac{17}{18}$
- f) $a = -\frac{68}{7}$ und $b = -\frac{17}{7}$
- g) $a \approx -1,856$ und $b \approx -1,392$
- h) $a \approx 1,525$ und $b \approx -0,320$
- i) $a = 2 \vee 5$ und $b = 5 \vee 2$
- j) $a = \frac{89}{25}$ und $b = \frac{948}{25}$
- k) $a = 3\sqrt{2} \vee -3\sqrt{2}$ und $b = \frac{4}{3}\sqrt{2} \vee \frac{4}{3}\sqrt{2}$
- l) $a \approx 4,541$ und $b \approx -0,075$
- m) $a = \frac{581}{44}$ und $b = -\frac{3453}{88}$
- n) $a \approx 0,420$ und $b \approx -0,047$
- o) $a = 36$ und $b = 113,7\bar{8}$
- p) $a \approx -0,473 \vee 1,880$ und $b \approx 1,880 \vee -0,473$

Zurück zu den Aufgaben durch folgenden Link: [\(2.12.1\)](#).

13.6.13 Lösungen zu Fakultäten und Binomialkoeffizienten

Aufgabe 1:

- a) $5! = 120$ b) $3! = 6$ c) $\frac{7!}{5!} = 120$
- d) $\frac{3!}{4!} \cdot 0! = \frac{1}{4}$ e) $\frac{(4b)!}{b!} = 24$ f) $4! \cdot 3! \cdot 2! = 288$

Aufgabe 2:

$$\begin{array}{lll}
 a) \binom{2}{1} = 2 & b) \binom{8}{4} = 70 & c) \binom{5}{3} \cdot \binom{289}{0} = 10 \\
 d) \binom{7}{2} = 21 & e) \binom{3}{1} = 3 & f) \binom{4}{2} \cdot \binom{3}{2} = 6 \cdot 3 = 18
 \end{array}$$

Aufgabe 3: *Drücke die Terme durch Fakultäten aus.*

$$\begin{array}{ll}
 a) 4 \cdot 3 \cdot 2 \cdot 1 = 4! & b) 11 \cdot 10 \cdot 9 = \frac{11!}{8!} \\
 c) \frac{6 \cdot 5 \cdot 4}{22 \cdot 21 \cdot 20} = \frac{6! \cdot 19!}{22! \cdot 3!} & d) 3 \cdot 2 \cdot 1 \cdot 9 \cdot 8 \cdot 7 = \frac{9! \cdot 3!}{6!} \\
 e) 11 \cdot 21 \cdot 22 \cdot 10 \cdot 9 \cdot 23 = \frac{23! \cdot 11!}{20! \cdot 8!} & f) \frac{6 \cdot 66 \cdot 4 \cdot 7 \cdot 67 \cdot 5 \cdot 65}{11 \cdot 12 \cdot 13 \cdot 10} = \frac{67! \cdot 7! \cdot 9!}{64! \cdot 3! \cdot 13!}
 \end{array}$$

Aufgabe 4: *Beweise folgende Identitäten.*

$$\begin{aligned}
 a) \binom{n}{n-k} &= \frac{n!}{(n-k)!(n-(n-k))!} \\
 &= \frac{n!}{(n-k)!k!} \\
 &= \binom{n}{k}
 \end{aligned}$$

$$\begin{aligned}
 b) \binom{n}{k} &= \binom{n-1}{k-1} + \binom{n-1}{k} \\
 &= \frac{(n-1)!}{(k-1)!(n-k)!} + \frac{(n-1)!}{k!(n-k-1)!} \\
 &= \frac{(n-1)!k}{k(k-1)!(n-k)!} + \frac{(n-1)!(n-k)}{k!(n-k)(n-k-1)!} \\
 &= \frac{(n-1)!(k+n-k)}{k!(n-k)!} \\
 &= \frac{n!}{k!(n-k)!} \\
 &= \binom{n}{k}
 \end{aligned}$$

$$\begin{aligned} c) \quad \binom{n}{k} &= \frac{n}{k} \binom{n-1}{k-1} \\ &= \frac{n}{k} \left(\frac{(n-1)!}{(k-1)!(n-1-k+1)!} \right) && \text{mit: } n(n-1)! =! \\ &= \left(\frac{n!}{(k!(n-k)!)} \right) \\ &= \binom{n}{k} \end{aligned}$$

Zurück zu den Aufgaben durch folgenden Link: [\(2.13.1\)](#).

13.6.14 Lösungen zu den gemischten Algebraaufgaben

Aufgabe 1:

$$a) 1,41; \frac{5}{3}; \frac{11}{6}; 2; 2,13; \frac{15}{7}; \frac{9}{4}; 2,26 .$$

$$b) \frac{3}{8}; 0,45; \frac{1}{2}; \frac{5}{9}; 0,57; \frac{4}{7}; \sqrt{2}; \sqrt{3} .$$

$$c) \sqrt{5}; \frac{37}{16}; 2,33; \frac{7}{3}; \sqrt{6}; 2,51; \frac{14}{5}; \frac{17}{6} .$$

$$d) e; \frac{19}{6}; \frac{13}{4}; \pi; 3,141; 3,\bar{3}; \ln 36; \sqrt{13} .$$

$$e) 24,79; \sqrt{620}; 5^2; \lg 10^{25,01}; 8\pi; \frac{51}{2}; 3^3; \frac{128}{25} .$$

$$f) \frac{2}{3}; 0,69; \ln 2; \frac{7}{10}; \frac{1}{\sqrt{2}}; 0,734; \frac{\pi}{4}; \frac{e}{3} .$$

$$g) -\frac{15}{6}; (-1,34)^3; -\frac{3\pi}{4}; -\frac{7}{3}; -\ln \pi^2; -2,27; -\frac{5e}{6}; -\sqrt{6,25} .$$

Aufgabe 2:

$$a) x_{1,2} = \pm 2$$

$$b) x_1 = -3 \wedge x_2 = -1$$

$$c) x_1 = 4 \wedge x_2 = 5$$

$$d) x_1 = -1 \wedge x_2 = 6$$

$$e) x_1 = 2,25 \wedge x_2 = -3,3$$

$$f) x_1 = 1,45 \wedge x_2 = -2,05$$

$$g) x_1 = \frac{1}{2} \wedge x_2 = -\frac{3}{4}$$

$$h) x_1 = -\frac{7}{3} \wedge x_2 = -\frac{2}{9}$$

$$i) x_1 = \sqrt{3} \wedge x_2 = -\sqrt{2}$$

$$j) x_1 = \ln 2 \wedge x_2 = \sqrt[3]{e\pi^4}$$

Aufgabe 3:

$$a) \Rightarrow t = \frac{x}{v} = \frac{3}{22}$$

$$b) \Rightarrow c = \frac{V}{ab} = \frac{120}{9}$$

$$c) \Rightarrow G = \frac{3V}{h} = 15$$

$$d) \Rightarrow a = \frac{2x}{t^2} = \frac{128}{27}$$

$$e) \Rightarrow t = \sqrt{\frac{2x}{a}} \approx 0,24$$

$$f) \Rightarrow R_2 = \frac{U}{I} - R_1 \approx -463,33$$

$$g) \Rightarrow R_1 = \frac{I}{U} - R_2 \approx -999,98$$

$$h) \Rightarrow c = \frac{O - 2ab}{2a + 2b} = 6,75$$

$$i) \Rightarrow b = \sqrt{c^2 - a^2} \approx 0,57$$

$$j) \Rightarrow b = \sqrt{c^2 - a^2} = \sqrt{3}$$

$$k) \Rightarrow a = \frac{2A}{h} - c = -\frac{81}{4}$$

$$l) \Rightarrow s = \sqrt[3]{\frac{12V}{\sqrt{2}}} \approx 8,83$$

$$m) \Rightarrow s_1 = \frac{\frac{O}{\pi} - r_1^2 - r_2^2}{r_1 + r_2} \approx -1,23$$

$$n) \Rightarrow r = \sqrt{\frac{360}{\pi\alpha} \left(A + \frac{sh}{2} \right)} \approx 3,54$$

$$o) \Rightarrow r_{2,1,2} = -\frac{s_1}{2} \pm \sqrt{\frac{s_1^2}{4} - r_1^2 - s_1 r_1 + \frac{O}{\pi}} \Rightarrow r_{2,1} \approx 0,49 \wedge r_{2,2} \approx -1,90$$

$$p) \Rightarrow x_{1,2} = -\frac{b}{2a} \pm \sqrt{\left(\frac{b}{2a}\right)^2 - \frac{c}{a} + \frac{f}{a}} \Rightarrow x_1 \approx 0,81 \wedge x_2 \approx -1,64$$

$$q) \Rightarrow t_{1,2} = -\frac{v}{a} \pm \sqrt{\frac{v^2}{a^2} - \frac{2s}{a} + \frac{2x}{a}} \Rightarrow t_1 \approx 2,85 \wedge t_2 \approx -3,08$$

$$r) \Rightarrow \lambda = \frac{1}{t} \ln \frac{N}{A} = 0,0017$$

Aufgabe 4:

	1	2	3	4	5	6	7
v	1	2	1,75	$\frac{1}{2}$	$\frac{2}{5}$	$-\frac{6}{5}$	$\sqrt{2}$
t	2	4	2,25	$\frac{3}{4}$	$\frac{1}{4}$	$\frac{4}{3}$	$\sqrt{3}$
$a = v \cdot t$	2	8	3,9375	$\frac{3}{8}$	$\frac{1}{10}$	$-\frac{8}{5}$	$\sqrt{6}$
$x = \frac{1}{2}at^2 + vt$	6	72	$\approx 13,90$	$\approx 0,48$	$\approx 0,10$	$\approx -3,02$	$\frac{5\sqrt{6}}{2}$
$\gamma = \frac{1}{\sqrt{1-\frac{v^2}{9}}}$	$\approx 1,06$	$\approx 1,34$	$\approx 1,23$	$\approx 1,014$	$\approx 1,009$	$\approx 1,09$	$\frac{3}{\sqrt{7}}$
$L = \frac{x}{\gamma}$	$\approx 5,66$	$\approx 53,67$	$\approx 11,29$	$\approx 0,47$	$\approx 0,10$	$\approx -2,77$	$\frac{5}{6}\sqrt{42}$
$m = \frac{4}{3}\pi x^3$	$\approx 904,78$	$\approx 1,56 \cdot 10^6$	$\approx 5,40 \cdot 10^5$	$\approx 0,46$	$\approx 0,0046$	$\approx -115,63$	$\approx 961,91$
$F = m\gamma a$	$\approx 1919,22$	$\approx 1,68 \cdot 10^7$	$\approx 2,62 \cdot 10^6$	$\approx 0,18$	$\approx 0,00046$	$\approx 201,86$	$\approx 2671,67$
$r = \frac{\gamma a}{v^2}$	2,12	$\approx 2,68$	$\approx 1,58$	$\approx 1,52$	$\approx 0,126$	$\approx -1,21$	$\frac{3}{14}\sqrt{42}$
$E = \frac{1}{2}mv^2$	$\approx 1809,56$	$\approx 3,13 \cdot 10^6$	$\approx 8,28 \cdot 10^5$	$\approx 0,058$	$\approx 0,00037$	$\approx -83,25$	$\approx 961,91$
$h = \frac{E}{F}$	$\approx 0,94$	$\approx 0,19$	$\approx 0,32$	$\approx 0,33$	$\approx 0,793$	$\approx -0,41$	$\approx 0,36$

Aufgabe 6:

- a) $\bullet + 0 = \bullet$
- b) $\bullet - 0 = \bullet$
- c) $\bullet + \bullet = 2 \cdot \bullet$
- d) $\bullet + \bullet + \bullet = 3 \cdot \bullet$
- e) $\bullet + (\bullet + \bullet) = 3 \cdot \bullet$
- f) $(\bullet + \bullet) + \bullet = 3 \cdot \bullet$
- g) $(\bullet \cdot \bullet) \cdot \bullet = \bullet \cdot \bullet \cdot \bullet$
- h) $\bullet \cdot (\bullet \cdot \bullet) = \bullet \cdot \bullet \cdot \bullet$
- i) $\bullet + \bullet - \bullet - \bullet = 0$
- j) $\bullet \cdot \bullet - \bullet \cdot \bullet = 0$

Aufgabe 7:

- a) $\bullet \cdot 1 = \bullet$
- b) $\frac{\bullet}{1} = \bullet$
- c) $\frac{\bullet}{\bullet} = 1$
- d) $\frac{\bullet \cdot \bullet}{\bullet \cdot \bullet} = \frac{\bullet}{\bullet}$
- e) $\frac{\bullet \cdot \bullet}{\bullet} = \bullet$
- f) $\frac{\bullet \cdot \bullet \cdot \bullet}{\bullet \cdot \bullet} = \bullet$
- g) $\frac{\bullet \cdot \bullet \cdot \bullet}{\bullet \cdot \bullet} = \frac{\bullet \cdot \bullet \cdot \bullet}{\bullet \cdot \bullet}$
- h) $\frac{\bullet \cdot \bullet \cdot \bullet}{\bullet \cdot \bullet} = \frac{\bullet \cdot \bullet \cdot \bullet}{\bullet \cdot \bullet}$
- i) $\frac{\bullet \cdot \bullet}{\bullet} = \frac{\bullet \cdot \bullet}{\bullet}$
- j) $\frac{\bullet \cdot \bullet}{\bullet} = \frac{\bullet \cdot \bullet}{\bullet}$
- k) $\frac{\bullet \cdot \bullet \cdot \bullet}{\bullet \cdot \bullet} = \frac{\bullet \cdot \bullet \cdot \bullet}{\bullet \cdot \bullet}$
- l) $\frac{\bullet \cdot \bullet}{\bullet} = \frac{\bullet \cdot \bullet}{\bullet}$
- m) $\frac{\bullet}{\bullet} + \frac{\bullet}{\bullet} = \frac{\bullet \cdot \bullet + \bullet \cdot \bullet}{\bullet \cdot \bullet}$
- n) $\frac{\bullet}{\bullet} - \frac{\bullet}{\bullet} = \frac{\bullet \cdot \bullet - \bullet \cdot \bullet}{\bullet \cdot \bullet}$
- o) $\frac{\bullet}{\bullet} + \frac{\bullet}{\bullet} = \frac{\bullet + \bullet}{\bullet}$
- p) $\frac{\bullet}{\bullet} - \frac{\bullet}{\bullet} = \frac{\bullet - \bullet}{\bullet}$

Aufgabe 8:

a) $(\bullet + \bullet) \cdot \bullet =$

c) $-(\bullet + \bullet) =$

e) $\bullet \cdot (\bullet - \bullet) \cdot \bullet =$

g) $(\bullet + \bullet) \cdot (\bullet + \bullet) =$

i) $(\bullet - \bullet) \cdot (\bullet - \bullet)$

k) $\bullet \cdot \bullet =$

m) $\bullet \cdot \bullet =$

o) $\frac{\bullet}{\bullet} =$

b) $\bullet \cdot (\bullet + \bullet) =$

d) $-\bullet \cdot (\bullet - \bullet) =$

f) $\bullet \cdot (\bullet - \bullet + \bullet) =$

h) $(\bullet + \bullet) \cdot (\bullet + \bullet) =$

j) $(\bullet + \bullet) \cdot (\bullet - \bullet) =$

l) $\bullet \cdot \bullet \cdot \bullet \cdot \bullet =$

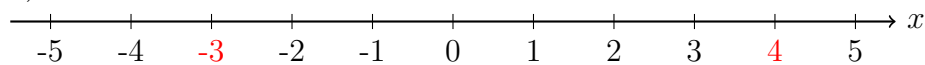
n) $(\bullet)^{\bullet} =$

p) $(\bullet)^{\frac{\bullet}{\bullet}} =$

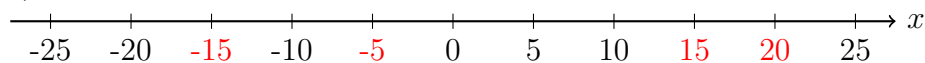
Zurück zu den Aufgaben durch folgenden Link: (2.14).

13.6.15 Lösungen zum Zahlenstrahl**Aufgabe 1:**

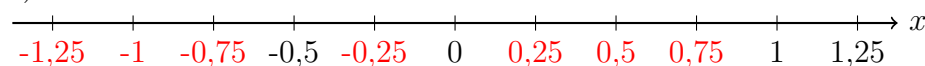
a)



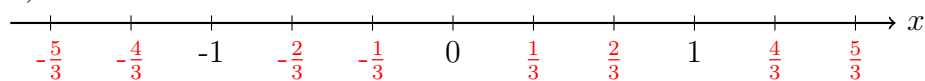
b)



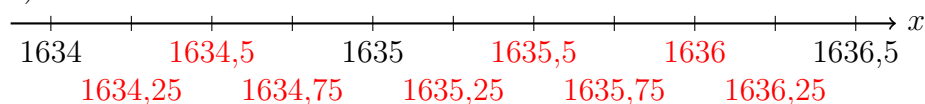
c)



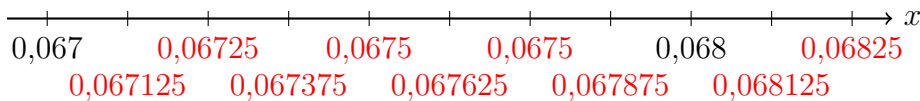
d)



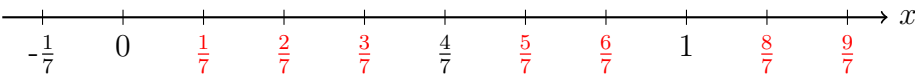
e)



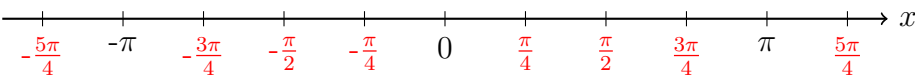
f)



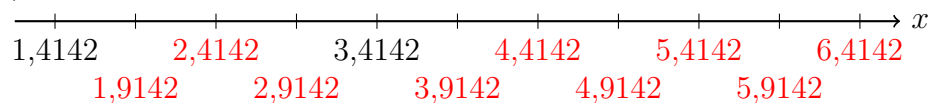
g)



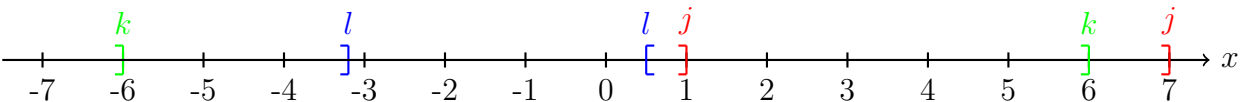
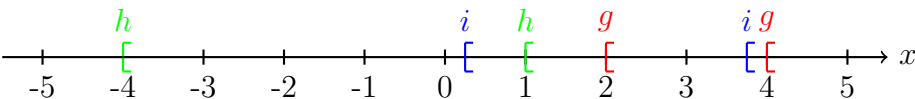
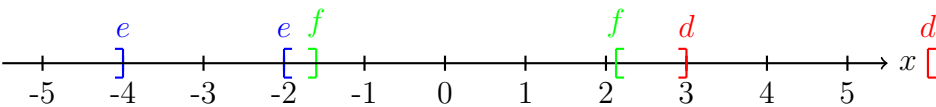
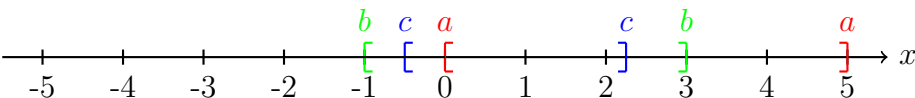
h)



i)



Aufgabe 2:



Aufgabe 3:

a) rot: $[0, 4]$	grün: $] - 4, 2]$	blau: $] - \frac{7}{2}, \frac{19}{4}]$
b) rot: $] 1, 2 [$	grün: $[-5, -3]$	blau: $\left[-\frac{3}{2}, \frac{13}{4} [$
c) rot: $] 3, 4]$	grün: $[-4, 1]$	blau: $\left[-\frac{9}{4}, \frac{17}{4} \right]$
d) rot: $[0, 4 [$	grün: $] - 2, 5 [$	blau: $] - \frac{9}{2}, \frac{7}{4} [$

Zurück zu den Aufgaben durch folgenden Link: (3.1.2).

13.6.16 Lösungen zu Winkeln

Aufgabe 1:

$$\sphericalangle (\overline{AB}, \overline{AC}) =$$

57°: spitzer Winkel

214°: überstumpfer Winkel

117°: stumpfer Winkel

179°: stumpfer Winkel

133°: stumpfer Winkel

75°: spitzer Winkel

91°: stumpfer Winkel

8°: überspitzer Winkel

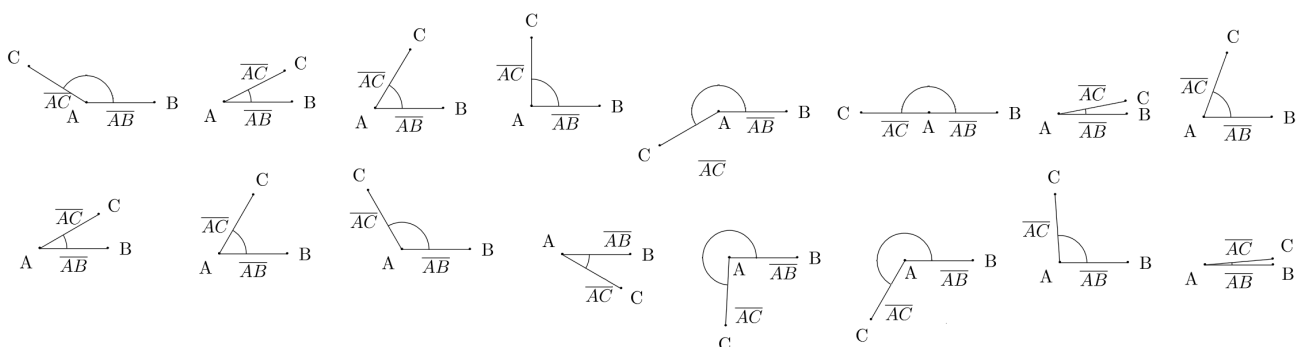
14°: überspitzer Winkel

300°: überstumpfer Winkel

270°: überstumpfer Winkel

45°: spitzer Winkel

Aufgabe 2:



Aufgabe 3:

$$\begin{array}{lll}
 a \parallel b, & c \not\parallel d & e \parallel, f \\
 g \not\parallel h, & i \parallel, j & k \parallel, l \\
 \text{Zusätzliche Parallelitäten:} & a \parallel c, & b \parallel c
 \end{array}$$

Aufgabe 4:

$$a \not\perp b, \quad c \not\perp d, \quad e \perp f, \quad g \not\perp h$$

Zurück zu den Aufgaben durch folgenden Link: (3.2.1).

13.6.17 Lösungen zum Strahlensatz**Aufgabe 1:**

$$\begin{array}{llllll}
 a) & \overline{ZA} = 5 ; & \overline{ZB} = 9 ; & \overline{AB} = 4 ; & \overline{DB} = 4 ; & \overline{AC} = \frac{36}{5} \\
 b) & \overline{ZD} = 12 ; & \overline{ZC} = 8 ; & \overline{DC} = 4 ; & \overline{DB} = \frac{9}{2} ; & \overline{AC} = 3 \\
 c) & \overline{ZA} = \frac{14}{11} ; & \overline{ZB} = 2 ; & \overline{AB} = \frac{8}{11} ; & \overline{DB} = 7 ; & \overline{AC} = 11 \\
 d) & \overline{ZA} = 5 ; & \overline{ZB} = 8 ; & \overline{AB} = 3 ; & \overline{ZD} = \frac{32}{5} ; & \overline{ZC} = 4 ; & \overline{DC} = \frac{12}{5} \\
 e) & \overline{ZA} = \frac{15}{84} ; & \overline{ZB} = \frac{3}{4} ; & \overline{AB} = \frac{12}{21} & \overline{DB} = \frac{1}{3} ; & \overline{AC} = \frac{7}{5} \\
 f) & \overline{ZD} = \pi ; & \overline{ZC} = \sqrt{2} ; & \overline{DC} = \pi - \sqrt{2} ; & \overline{DB} = e ; & \overline{AC} = e \frac{\sqrt{2}}{\pi} ;
 \end{array}$$

Zurück zu den Aufgaben durch folgenden Link: (3.3.1).

13.6.18 Lösungen zu Rechtecken**Aufgabe 1:**

- a) $A = 18\text{cm}^2$ und $U = 18\text{cm}$
b) $A = 14\text{cm}^2$ und $U = 18\text{cm}$
c) $A = 108\text{cm}^2$ und $U = 42\text{cm}$
d) $A = 68\text{cm}^2$ und $U = 42\text{cm}$
e) $A = 81\text{cm}^2$ und $U = 60\text{cm}$
f) $A = 90\text{cm}^2$ und $U = 123\text{cm}$
g) $A = 1\text{cm}^2$ und $U = 5\text{cm}$
h) $A = \frac{9}{10}\text{cm}^2$ und $U = \frac{39}{10}\text{cm}$
i) $A = \frac{25}{21}\text{cm}^2$ und $U = \frac{95}{21}\text{cm}$
j) $A = \frac{11}{40}\text{cm}^2$ und $U = \frac{73}{30}\text{cm}$
k) $A = \sqrt{6}\text{cm}^2 \approx 2,45\text{cm}^2$ und $U \approx 6,29\text{cm}$
l) $A \approx 1,74\text{cm}^2$ und $U \approx 5,38\text{cm}$
m) $A = 2\text{cm}^2$ und $U = 16,5\text{cm}$
n) $A \approx 8,54\text{cm}^2$ und $U \approx 11,72\text{cm}$

Aufgabe 2:

- a) $A = 1,8\text{dm}^2$ und $U = 7,2\text{dm}$
b) $A = 4500\text{mm}^2$ und $U = 280\text{mm}$
c) $A = 180600\text{cm}^2$ und $U = 1700\text{cm}$
d) $A = 0,4\text{cm}^2$ und $U = 4,4\text{cm}$
e) $A = 0,3\text{dm}^2$ und $U = \frac{2431}{45}\text{dm} \approx 54,022\text{dm}$
f) $A = 9000\text{m}^2$ und $U = 18250\text{m}$
g) $A \approx 0,005\text{dm}^2$ und $U \approx 1,444\text{dm}$
h) $A = 0,44\text{m}^2$ und $U = 2,7\text{m}$
i) $A = 1200\sqrt{111}\text{cm}^2 \approx 12642,785\text{cm}^2$ und $U = 20\sqrt{111}\text{cm} + 240\text{cm} \approx 450,713\text{cm}$
j) $A \approx 77,088\text{mm}^2$ und $U \approx 35,144\text{m}$

Aufgabe 3:

- a) $a = 4cm$ und $U = 14cm$
b) $A = 72cm^2$ und $b = 12cm$
c) $A = 550cm^2$ und $U = 122cm$
d) $a = 12cm$ und $U = 50cm$
e) $A \approx 4,297dm^2$ und $a = 6,875dm$
f) $b = \frac{9}{5}m$ und $U = 5,3\bar{7}m$
g) $a \approx 0,137m$ und $b \approx 5,463m$ oder $a \approx 5,463m$ und $b \approx 0,137m$
h) $a \approx 0,031mm$ und $b \approx 7,514mm$ oder $a \approx 7,514mm$ und $b \approx 0,031mm$

Aufgabe 3:

Variante I: 6 Schnitte in a -Richtung und 8 Schnitte in b -Richtung.

Variante II: 8 Schnitte in a -Richtung und 6 Schnitte in b -Richtung.

Variante III: 12 Schnitte in a -Richtung und 5 Schnitte in b -Richtung.

Variante IV: 5 Schnitte in a -Richtung und 12 Schnitte in b -Richtung.

Zurück zu den Aufgaben durch folgenden Link: (3.4.1).

13.6.19 Lösungen zu Dreiecken

Aufgabe 1:

- a) $b \approx 8,06\text{cm} \Rightarrow A \approx 16,12\text{cm}^2, U \approx 21,06\text{cm}$
 b) $b \approx 9,80\text{cm} \Rightarrow A \approx 24,49\text{cm}^2, U \approx 25,80\text{cm}$
 c) $c \approx 7,21\text{cm} \Rightarrow A = 12\text{cm}^2, U \approx 17,21\text{cm}$
 d) $a \approx 3,61\text{cm} \Rightarrow A \approx 10,82\text{cm}^2, U \approx 21,06\text{cm}$
 e) $h \approx 2,24\text{cm} ; a = 3\text{cm} ; b \approx 3,35\text{cm} ; c = 4,5\text{cm} \Rightarrow A \approx 5,03\text{cm}^2, U \approx 10,85\text{cm}$
 f) $p = 9\text{cm} ; h \approx 5,20\text{cm} ; a = 6\text{cm} ; b = 10,39\text{cm} \approx 5,20\text{cm} \Rightarrow A \approx 31,18\text{cm}^2, U \approx 28,39\text{cm}$
 g) $c \approx 0,60\text{cm} \Rightarrow A \approx 0,083\text{cm}^2, U \approx 1,43\text{cm}$
 h) $p = \frac{19}{12}\text{cm} ; h \approx 1,09\text{cm} ; a \approx 1,32\text{cm} ; b \approx 1,92\text{cm} \Rightarrow A \approx 16,2\text{cm}^2, U \approx 21,06\text{cm}$
 i) $c = \frac{51}{20} ; h \approx 1,18\text{cm} ; a \approx 2,11\text{cm} ; b \approx 1,43\text{cm} \Rightarrow A \approx 1,50\text{cm}^2, U \approx 6,09\text{cm}$
 j) $q = 3,63\text{cm} ; c \approx 4,96\text{cm} ; a \approx 4,24\text{cm} ; b \approx 2,57\text{cm} \Rightarrow A \approx 5,46\text{cm}^2, U \approx 11,78\text{cm}$
 k) $p \approx 1,54\text{cm} ; c \approx 3,34\text{cm} ; a \approx 2,45\text{cm} ; b \approx 2,27\text{cm} \Rightarrow A \approx 2,79\text{cm}^2, U \approx 8,07\text{cm}$
 l) $q \approx 4,05\text{cm} ; a \approx 4,78\text{cm} ; b \approx 3,02\text{cm} \Rightarrow A \approx 7,22\text{cm}^2, U \approx 13,46\text{cm}$
 m) $c \approx 4,45\text{cm} ; a \approx 2,78\text{cm} ; b \approx 3,48\text{cm} \Rightarrow A \approx 4,83\text{cm}^2, U \approx 8,97\text{cm}$
 n) $p \approx 2,16\text{cm} ; a \approx 5,09\text{cm} ; b \approx 3,68\text{cm} \Rightarrow A \approx 9,38\text{cm}^2, U \approx 15,06\text{cm}$

Aufgabe 2:

Da das Geodreieck mit einem 45° Winkel zum Boden gehalten wird, ist der Abstand zum Turm gleich die Resthöhe des Turms, da es sich um ein gleichschenkliges Dreieck handelt. Die Höhe, in der das Geodreieck gehalten wird, muss anschließend noch dazu addiert werden: $h = 21,5\text{m}$

Aufgabe 3:

- a) $\alpha = 53^\circ ; \beta = 37^\circ$ und $\gamma = 90^\circ$
 b) $\alpha = 45^\circ ; \beta = 45^\circ$ und $\gamma = 90^\circ$
 c) $\alpha = 46^\circ ; \beta = 29^\circ$ und $\gamma = 105^\circ$
 d) $\alpha = 25^\circ ; \beta = 48^\circ$ und $\gamma = 107^\circ$
 e) $\alpha = 53^\circ ; \beta = 49^\circ$ und $\gamma = 97^\circ$
 f) $\alpha = 26^\circ ; \beta = 33,5^\circ$ und $\gamma = 119,5^\circ$

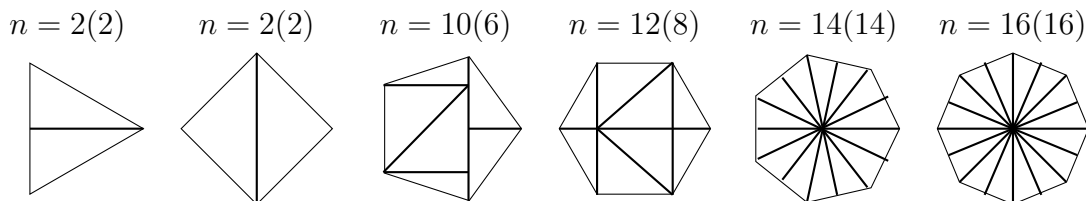
Aufgabe 4:

- a) $a \approx 3\text{cm}$ b) $b \approx 5\text{cm}$ c) $b \approx 5,4\text{cm}$
 d) $b \approx 8\text{cm}$ e) $c \approx 8,1\text{cm}$ f) $c \approx 6,75\text{cm}$

Aufgabe 5:

- a) $c \approx 6,5\text{cm}$ b) $c \approx 8,7\text{cm}$ c) $c \approx 6,3\text{cm}$ d) $c \approx 8,1\text{cm}$

Aufgabe 6: Hier ist nur eine von vielen Lösungen vorgestellt.

**Aufgabe 7:**

- a) $\alpha = 90^\circ$; $\beta = 45^\circ$ und $\gamma = 45^\circ$.
 b) $\alpha \approx 102,86^\circ$; $\beta \approx 51,43^\circ$ und $\gamma \approx 25,71^\circ$.
 c) $\alpha \approx 51,43^\circ$; $\beta \approx 102,86^\circ$ und $\gamma \approx 25,71^\circ$.
 d) $\alpha \approx 77,14^\circ$; $\beta \approx 77,14^\circ$ und $\gamma \approx 25,71^\circ$.
 e) $\alpha \approx 77,14^\circ$; $\beta \approx 12,86^\circ$ und $\gamma = 90^\circ$.
 f) $\alpha = 11,25^\circ$; $\beta \approx 33,75^\circ$ und $\gamma \approx 135^\circ$.
 g) $\alpha = 108^\circ$; $\beta \approx 30,86^\circ$ und $\gamma \approx 41,14^\circ$.
 h) $\alpha \approx 28,29^\circ$; $\beta \approx 88,87^\circ$ und $\gamma \approx 62,84^\circ$.

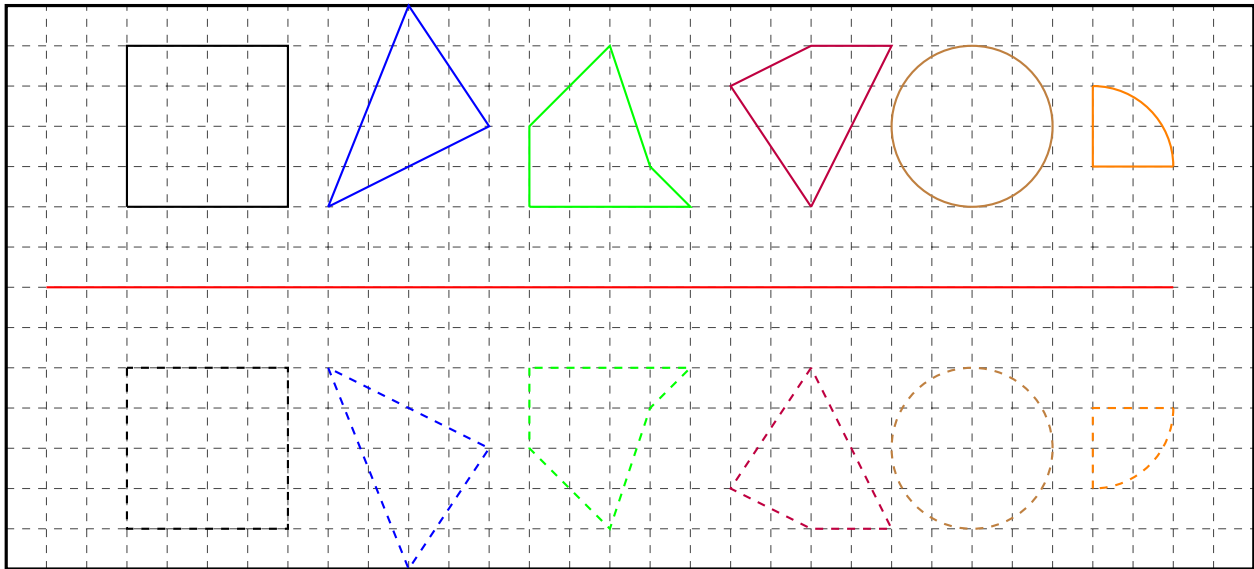
Aufgabe 8:

Zurück zu den Aufgaben durch folgenden Link: [\(3.5.1\)](#).

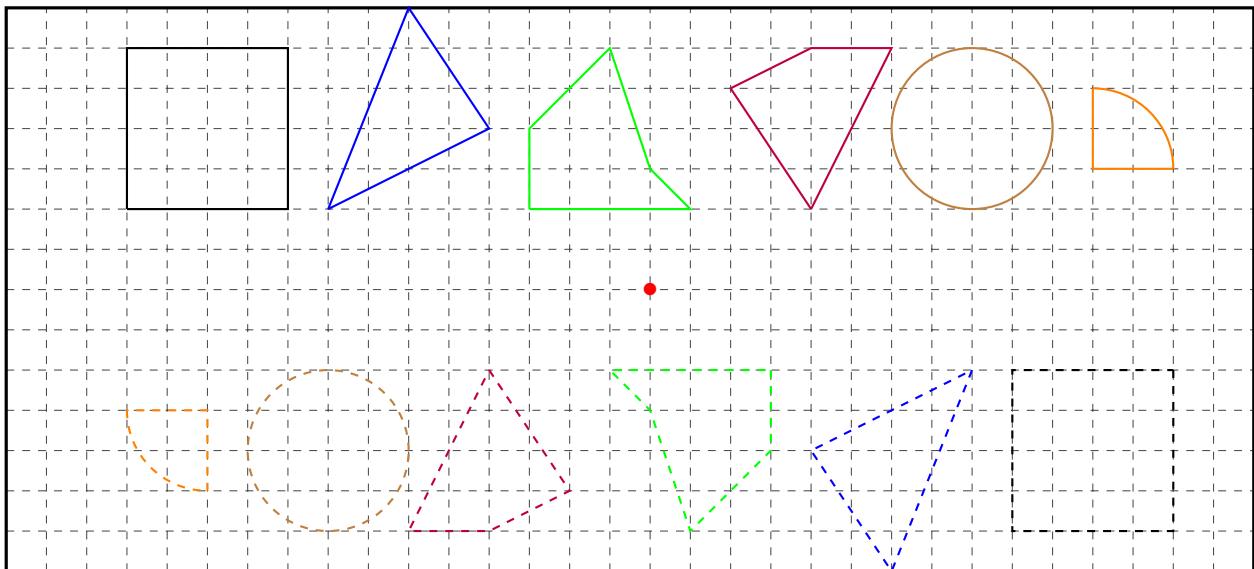
13.6.20 Lösungen zu Symmetrien**Aufgabe 1:**

- a)

	1	2	3	4	5	6
a	5	4	1	$\frac{56}{6}$	$\frac{398}{105}$	$\frac{11}{2}$
b	7	6	5	$\frac{56}{5}$	$\frac{11}{3}$	$\frac{128}{51}$
c	6	9	12	7	$\frac{22}{5}$	$\frac{2239}{510}$
h_a	$\frac{18}{5}$	8	84	6	$\frac{539}{199}$	$\frac{66}{33}$
h_b	$\frac{18}{7}$	$\frac{16}{3}$	$\frac{84}{5}$	5	$\frac{14}{5}$	$\frac{17}{4}$
h_c	3	$\frac{32}{9}$	7	8	$\frac{7}{3}$	$\frac{8160}{2239}$
A	9	16	42	28	$\frac{77}{15}$	$\frac{16}{3}$
U	18	19	18	$\frac{413}{15}$	$\frac{83}{7}$	$\frac{62}{5}$

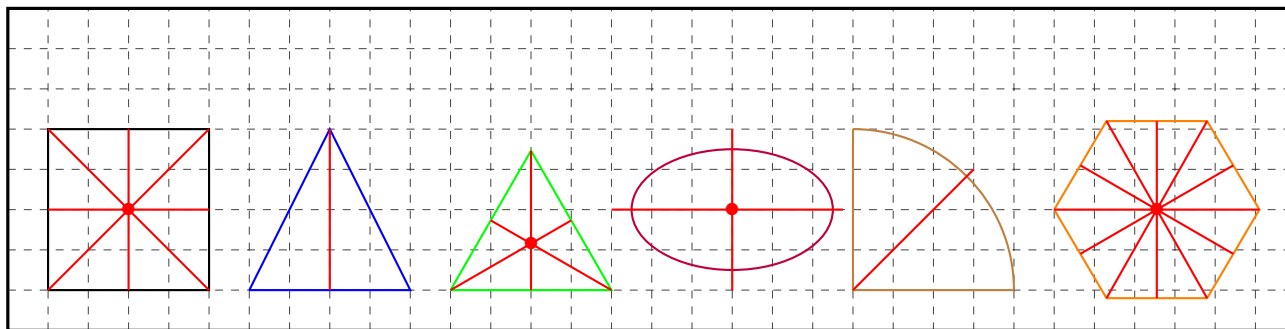


b)

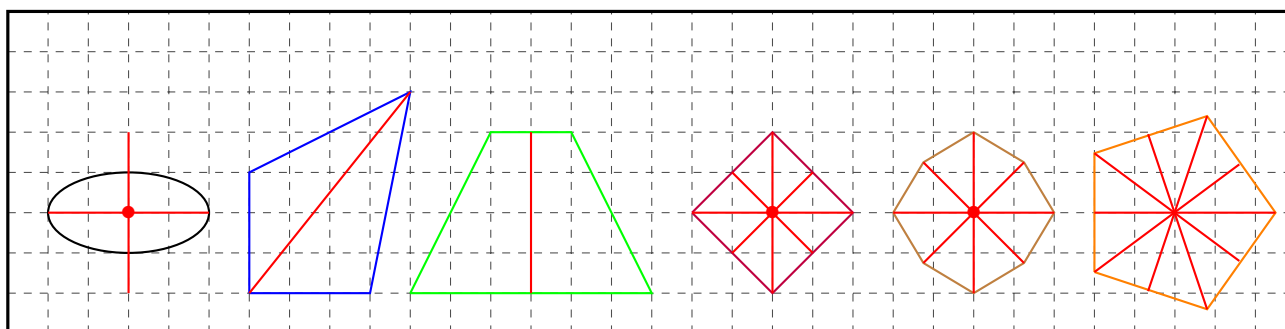


Aufgabe 2:

a)



b)



Aufgabe 3: *Wie viele Symmetriachsen und Symmetriepunkte besitzen die Körper?*

Figur	schwarz	blau	grün	lila	braun	orange
Achsen	∞	4	4	2	0	1
Punkte	1	1	1	1	0	0

Zurück zu den Aufgaben durch folgenden Link: (3.6.1).

13.6.21 Lösungen zu Vierecken

Aufgabe 1:

a) Quadrat: $a = 2\text{cm} \Rightarrow A = 4\text{cm}^2, U = 8\text{cm}$

b) Raute: $a = 5\text{cm}$ und $h = 4\text{cm} \Rightarrow A = 20\text{cm}^2, U = 20\text{cm}$

c) Parallelogramm: $a = 6\text{cm}, b = 3\text{cm}$ und $h_a = 2\text{cm} \Rightarrow A = 12\text{cm}^2, U = 18\text{cm}$

d) Trapez: $a = 4\text{cm}, c = 11\text{cm}, d = b$ und $h = 4\text{cm} : b \approx 5,32, \Rightarrow A = 30\text{cm}^2, U \approx 25,64\text{cm}$

e) Drachen: $a = 4\text{cm}, b = 6\text{cm}$ und $e = 6\text{cm} : d \approx 7,84\text{cm} \Rightarrow A \approx 47,04\text{cm}^2, U = 20\text{cm}$

Aufgabe 2:

- a) $A = 16\text{cm}^2$; $U = 16\text{cm}$ b) $A = 131\text{cm}^2$; $U = 44\text{cm}$
 c) $A = 225\text{dm}^2$; $U = 60\text{dm}$ d) $A = \frac{25}{36}\text{cm}^2$; $U = \frac{10}{3}\text{cm}$
 e) $A = \frac{9}{16}\text{km}^2$; $U = 3\text{km}$ f) $A = \frac{25}{144}\text{m}^2$; $U = \frac{5}{3}\text{m}$
 e) $A = 5\text{mm}^2$; $U = 4\sqrt{5}\text{mm}$ g) $A = 149\text{m}^2$; $U = 4\sqrt{149}\text{m}$
 h) $A = 88\text{mm}^2$; $U = 4\sqrt{88}\text{mm}$ i) $A = e^2\text{mm}^2$; $U = 4e\text{mm}$
 j) $A = \pi^2\text{m}^2$; $U = 4\pi\text{m}$ k) $A = \ln^2 2\text{dm}^2$; $U = 4 \ln 2\text{dm}$

Aufgabe 3:

- a) $a = 4\text{cm}$ und $h = 6\text{cm} \Rightarrow U = 16\text{cm}$; $A = 24\text{cm}^2$
 b) $a = 9\text{dm}$ und $h = 11\text{dm} \Rightarrow U = 36\text{dm}$; $A = 99\text{dm}^2$
 c) $a = 2\text{m}$ und $h = 50\text{cm} \Rightarrow U = 8\text{m}$; $A = 1\text{m}^2$
 d) $a = 3\text{km}$ und $h = 100\text{m} \Rightarrow U = 12\text{km}$; $A = 0,3\text{km}^2$
 e) $a = \frac{1}{2}\mu\text{m}$ und $h = \frac{1}{3}\mu\text{m} \Rightarrow U = 2\mu\text{m}$; $A = \frac{1}{6}\mu\text{m}^2$
 f) $a = \frac{7}{8}\text{cm}$ und $h = \frac{3}{4}\text{cm} \Rightarrow U = \frac{7}{2}\text{cm}$; $A = \frac{21}{32}\text{cm}^2$
 g) $a = \frac{11}{3}\text{mm}$ und $h = \frac{6}{7}\text{mm} \Rightarrow U = \frac{44}{3}\text{mm}$; $A = \frac{66}{21}\text{mm}^2$
 h) $a = \frac{14}{5}\text{km}$ und $h = \frac{5}{9}\text{km} \Rightarrow U = \frac{66}{5}\text{km}$; $A = \frac{14}{9}\text{km}^2$
 i) $a = \frac{7}{4}\text{dm}$ und $h = \frac{7}{5}\text{cm} \Rightarrow U = 7\text{dm}$; $A = \frac{49}{2}\text{cm}^2$
 j) $a = \frac{17}{9}\text{cm}$ und $h = \frac{11}{8}\text{mm} \Rightarrow U = \frac{68}{9}\text{cm}$; $A = \frac{935}{36}\text{mm}^2$
 k) $a = \sqrt{5}\text{Mm}$ und $h = \sqrt{3}\text{Mm} \Rightarrow U = 4\sqrt{5}\text{Mm}$; $A = \sqrt{15}\text{Mm}$
 l) $a = \sqrt{17}\text{nm}$ und $h = \sqrt{2}\text{nm} \Rightarrow U = 4\sqrt{17}\text{nm}$; $A = \sqrt{34}\text{nm}$
 m) $a = e\text{mm}$ und $h = \pi\text{dm} \Rightarrow U = 4e\text{mm}$; $A = 100e\pi\text{mm}^2$
 n) $a = \ln 9\text{m}$ und $h = \ln 2\text{m} \Rightarrow U = 4 \ln 9$; $A \approx 1,523\text{m}^2$

Aufgabe 4:

- a) $a = 3cm, b = 7cm$ und $h_a = 4cm \Rightarrow U = 20cm ; A = 12cm^2$
 b) $a = 7dm, b = 6dm$ und $h_a = 5dm \Rightarrow U = 26dm ; A = 35dm^2$
 c) $a = 9m, b = 8m$ und $h_a = 6m \Rightarrow U = 34m ; A = 54m^2$
 d) $a = 4km, b = 44km$ und $h_a = 2km \Rightarrow U = 96km ; A = 8km^2$
 e) $a = 2cm, b = 5dm$ und $h_a = 5mm \Rightarrow U = 104cm ; A = 1cm^2$
 f) $a = 4m, b = 9cm$ und $h_a = 25dm \Rightarrow U = 818cm ; A = 10m^2$
 g) $a = 90dm, b = 60mm$ und $h_a = 4m \Rightarrow U = 1812cm ; A = 36m^2$
 h) $a = 46km, b = 1dm$ und $h_a = 1dm \Rightarrow U = 920002dm ; A = 4,6m^2$
 i) $a = \frac{1}{4}cm, b = \frac{1}{2}cm$ und $h_a = \frac{1}{6}cm \Rightarrow U = \frac{3}{2}cm ; A = \frac{1}{24}cm^2$
 j) $a = \frac{11}{3}dm, b = \frac{6}{7}dm$ und $h_a = \frac{7}{8}dm \Rightarrow U = \frac{190}{21}dm ; A = \frac{77}{24}dm^2$
 k) $a = \frac{13}{8}dm, b = \frac{1}{10}mm$ und $h_a = \frac{144}{10}cm \Rightarrow U = \frac{1626}{5}mm ; A = 234cm^2$
 l) $a = \sqrt{7}dm, b = \sqrt{2}dm$ und $h_a = \sqrt{3}dm \Rightarrow U = 2\sqrt{7} + 2\sqrt{2}dm \approx 8,12dm ; A = \sqrt{21}dm^2$
 m) $a = \lg 125cm, b = \ln 6cm$ und $h_a = \lg 5cm \Rightarrow U \approx 7,777cm ; A \approx 4,869cm^2$
 n) $a = edm, b = \pi dm$ und $h_a = \sqrt{5}dm \Rightarrow U = 2e + 2\pi dm \approx 11,72dm ; A = \sqrt{5}edm^2$

Aufgabe 5:

a)

Aufgabe 6:

a)

Aufgabe 7:

- a) $A = 8cm^2 + 18cm^2 + 20cm^2 = 46cm^2, U = 2 \cdot 2cm + 4cm + 2 \cdot \sqrt{13} + 2 \cdot \sqrt{45} \approx 28,63cm$
 b) $A = 2 \cdot 9cm^2 + 2 \cdot 10cm^2 + 36cm^2 = 74cm^2, U = 2 \cdot 4cm + 2 \cdot 2 \cdot \sqrt{5} + 2 \cdot 2 \cdot \sqrt{18} \approx 33,92cm$

Zurück zu den Aufgaben durch folgenden Link: (3.7.1).

13.6.22 Lösungen zu mehrdimensionalen Vielecken**Aufgabe 1:**

- | | |
|--|--|
| a) $V = 80\text{cm}^3$, $O = 112\text{cm}^2$ | b) $V = 72\text{cm}^3$, $O = 108\text{cm}^2$ |
| c) $V = 27\text{cm}^3$, $O = 78\text{cm}^2$ | d) $V = 49\text{cm}^3$, $O = 126\text{cm}^2$ |
| e) $V = 42\text{cm}^3$, $O = 92\text{cm}^2$ | f) $V = 144\text{cm}^3$, $O = 176\text{cm}^2$ |
| g) $V = 176\text{cm}^3$, $O = 252\text{cm}^2$ | h) $V = 378\text{cm}^3$, $O = 318\text{cm}^2$ |
| i) $V = 56\text{cm}^3$, $O = 100\text{cm}^2$ | j) $V = 50\text{km}^3$, $O = 90\text{km}^2$ |
| k) $V = 99\text{dm}^3$, $O = 238\text{cm}^2$ | l) $V = 72\text{m}^3$, $O = 132\text{m}^2$ |
| m) $V = 48\text{m}^3$, $O = 104\text{cm}^2$ | n) $V = 0\text{mm}^3$, $O = 288\text{mm}^2$ |

Aufgabe 2:

- | | | | |
|------------------------|-------------------------|------------------------|------------------------|
| a) $V = 36\text{cm}^3$ | b) $V = 30\text{cm}^3$ | c) $V = 99\text{cm}^3$ | d) $V = 33\text{cm}^3$ |
| e) $V = 49\text{km}^3$ | f) $V = 289\text{dm}^3$ | g) $V = 20\text{m}^3$ | |

Aufgabe 3:

- | | | | |
|--------------|--------------|--------------|--------------|
| a) $V = 64l$ | b) $V = 30l$ | c) $V = 72l$ | d) $V = 40l$ |
|--------------|--------------|--------------|--------------|

Aufgabe 4:

$$V_{\text{Würfel}} = 3 \cdot V_{\text{Pyramide}} \Rightarrow V_{\text{Pyramide}} = 20l$$

Aufgabe 5:

$$V = 250\text{dm} \cdot 100\text{dm} \cdot 20\text{dm} = 500000\text{dm}^3 = 500000l$$

Aufgabe 6:

$$O = 2 \cdot 12\text{cm} \cdot 6\text{cm} + 2 \cdot 12\text{cm} \cdot 4\text{cm} + 2 \cdot 6\text{cm} \cdot 4\text{cm} = 144\text{cm}^2 + 96\text{cm}^2 + 42\text{cm}^2 = 282\text{cm}^2$$

Aufgabe 7:

$$V_{\text{Karton}} = 10\text{cm} \cdot 10\text{cm} \cdot 10\text{cm} = 1000\text{cm}^3, V_{\text{Würfel}} = 1\text{cm} \cdot 1\text{cm} \cdot 1\text{cm} = 1\text{cm}^3,$$
$$\Rightarrow \frac{V_{\text{Karton}}}{V_{\text{Würfel}}} = 1000$$

Aufgabe 8:

$$V = G \cdot h \Rightarrow h = \frac{V}{G} = \frac{81\text{dm}^3}{9\text{dm}^2} = 9\text{dm}$$

Aufgabe 9:

$$V = G \cdot h = 1\text{dm}^2 \cdot 2\text{dm} = 2\text{dm}^3 = 2\text{l}$$

Aufgabe 10:

- a) $a = 4cm \Rightarrow V = 64cm^3 ; O = 96cm^2$
 b) $a = 7dm \Rightarrow V = 343dm^3 ; O = 294dm^2$
 c) $a = 11m \Rightarrow V = 1331m^3 ; O = 726m^2$
 d) $a = 12km \Rightarrow V = 1728km^3 ; O = 864km^2$
 e) $a = \frac{3}{5}cm \Rightarrow V = \frac{27}{125}cm^3 ; O = \frac{54}{25}cm^2$
 f) $a = \frac{6}{7}dm \Rightarrow V = \frac{216}{343}dm^3 ; O = \frac{219}{49}dm^2$
 g) $a = \frac{11}{9}m \Rightarrow V = \frac{1331}{729}m^3 ; O = \frac{242}{27}m^2$
 h) $a = \frac{17}{3}km \Rightarrow V = \frac{4913}{27}km^3 ; O = \frac{578}{3}km^2$
 i) $a = 3,6cm \Rightarrow V = 46,656cm^3 ; O = 77,76cm^2$
 j) $a = 2,8dm \Rightarrow V = 21,952dm^3 ; O = 47,04dm^2$
 k) $a = 8,2m \Rightarrow V = 551,368m^3 ; O = 403,44m^2$
 l) $a = 14,24km \Rightarrow V = 2887,553024km^3 ; O = 1216,6656km^2$
 m) $a = \sqrt{7}cm \Rightarrow V \approx 18,52cm^3 ; O = 42cm^2$
 n) $a = \sqrt{15}dm \Rightarrow V \approx 58,09dm^3 ; O = 90dm^2$
 o) $a = \sqrt{467}m \Rightarrow V \approx 10092,96m^3 ; O = 2802m^2$
 p) $a = \sqrt{214,346}km \Rightarrow V \approx 3138,15km^3 ; O \approx 1286,08km^2$
 q) $a = \ln 5cm \Rightarrow V \approx 4,17cm^3 ; O \approx 15,54cm^2$
 r) $a = \ln 2dm \Rightarrow V \approx 0,33dm^3 ; O \approx 2,88dm^2$
 s) $a = em \Rightarrow V = e^3m^3 ; O = 6e^2m^2$
 t) $a = \pi km \Rightarrow V = \pi^3km^3 ; O = 6\pi^2km^2$

Aufgabe 11:

- a) Dreiecksprisma: $G = 4cm^2$ und $h = 3cm \Rightarrow V = 12cm^3$
 b) Vierecksprisma: $G = 6cm^2$ und $h = 8cm \Rightarrow V = 42cm^3$
 c) Sechsecksprisma: $G = 7,4cm^2$ und $h = 3,2cm \Rightarrow V = 23,68cm^3$
 d) Zehnecksprisma: $G = \frac{1}{3}cm^2$ und $h = \frac{5}{6}cm \Rightarrow V = \frac{5}{18}cm^3$
 e) Dreiecksprisma: $G = \frac{13}{4}cm^2$ und $h = \frac{9}{2}cm \Rightarrow V = \frac{39}{2}cm^3$
 f) Fünfecksprisma: $G = \frac{6}{7}cm^2$ und $h = \frac{7}{9}cm \Rightarrow V = \frac{2}{3}cm^3$
 g) Neunecksprisma: $G = \sqrt{2}cm^2$ und $h = \sqrt{3}cm \Rightarrow V = \sqrt{6}cm^3$
 h) Vierecksprisma: $G = ecm^2$ und $h = \pi cm \Rightarrow V = e\pi cm^3$

Aufgabe 12:

$$V =$$

Aufgabe 13:

$$V =$$

Aufgabe 14:

$$V =$$

Aufgabe 15:

$$a) \Rightarrow V = 27\text{cm}^3, O = 54\text{cm}^2$$

$$b) \Rightarrow V = 72\text{cm}^3, O = 122\text{cm}^2$$

$$c) \Rightarrow V = 32\text{cm}^3, O = 2\sqrt{52} \cdot 6\text{cm}^2 + 16\text{cm}^2 \approx 102,53\text{cm}^2$$

$$d) \Rightarrow V = 20\text{cm}^3, O = 5\sqrt{41}\text{cm}^2 + 5\sqrt{34}\text{cm}^2 + 12\text{cm}^2 \approx 73,17\text{cm}^2$$

$$e) \Rightarrow V = 80\text{cm}^3, O = 6 \cdot 5\text{cm}^2 + 2 \cdot 4 \cdot 6\text{cm}^2 + 2 \cdot 4 \cdot 5\text{cm}^2 + 4 \cdot \sqrt{41}\text{cm}^2 + 4 \cdot \sqrt{52}\text{cm}^2 \approx 172,46\text{cm}^2$$

$$f) \Rightarrow V \approx 41,67\text{cm}^3, O \approx 72,81\text{cm}^2$$

Aufgabe 16:

$$V =$$

Zurück zu den Aufgaben durch folgenden Link: (3.8.1).

13.6.23 Lösungen zu Kreisen

Aufgabe 1:

- a) $r = 3\text{cm} \Rightarrow A \approx 28,27\text{cm}^2, U \approx 18,85\text{cm}$
 b) $r = \pi\text{cm} \Rightarrow A \approx 31,01\text{cm}^2, U \approx 19,74\text{cm}$
 c) $d = 4\text{cm} \Rightarrow A \approx 12,57\text{cm}^2, U \approx 12,57\text{cm}$
 d) $d = 0,5\text{cm} \Rightarrow A \approx 0,20\text{cm}^2, U \approx 1,57\text{cm}$
 e) $r = 2,718\text{cm} \Rightarrow A \approx 23,21\text{cm}^2, U \approx 17,08\text{cm},$
 f) $d = \frac{6}{7}\text{cm} \Rightarrow A \approx 2,31\text{cm}^2, U \approx 5,39\text{cm}$

Aufgabe 2:

- a) $\alpha = 60^\circ$ und $r = 5\text{cm}, \Rightarrow A \approx 13,09\text{cm}^2, U \approx 15,24\text{cm}$
 b) $\alpha = 230^\circ$ und $r = 2\text{cm}, \Rightarrow A \approx 8,03\text{cm}^2, U \approx 12,03\text{cm}$
 c) $\alpha = 177^\circ$ und $r = \sqrt{17}\text{cm}, \Rightarrow A \approx 26,26\text{cm}^2, U \approx 20,98\text{cm}$
 d) $\alpha = 55^\circ$ und $r = 3\text{cm}, \Rightarrow A \approx 4,32\text{cm}^2, U \approx 8,88\text{cm}$
 e) $\alpha = 145^\circ$ und $r = 7\text{cm}, \Rightarrow A \approx 62,00\text{cm}^2, U \approx 31,72\text{cm}$
 f) $\alpha = 310^\circ$ und $r = 2,5\text{cm}, \Rightarrow A \approx 16,91\text{cm}^2, U \approx 18,53\text{cm}$

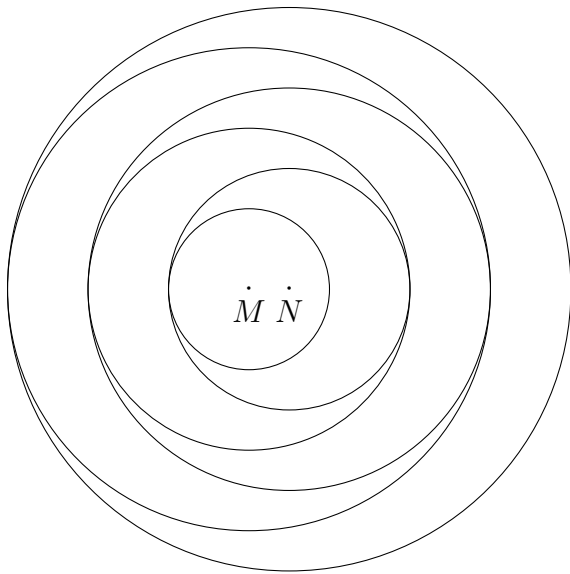
Aufgabe 3:

- | | | |
|---|---|---|
| a) $180^\circ = \pi\text{rad}$ | b) $360^\circ = 2\pi\text{rad}$ | c) $90^\circ = \frac{1}{2}\pi\text{rad}$ |
| d) $45^\circ = \frac{1}{4}\pi\text{rad}$ | e) $30^\circ = \frac{1}{6}\pi\text{rad}$ | f) $120^\circ = \frac{2}{3}\pi\text{rad}$ |
| g) $36^\circ = \frac{1}{5}\pi\text{rad}$ | h) $55^\circ \approx 0,960\text{rad}$ | i) $193^\circ\text{rad} \approx 3,368\text{rad}$ |
| j) $11^\circ \approx 0,192\text{rad}$ | k) $466^\circ \approx 8,133\text{rad}$ | l) $1643^\circ \approx 28,676\text{rad}$ |
| m) $\frac{3\pi}{4}\text{rad} = 135^\circ$ | n) $\frac{3\pi}{2}\text{rad} = 270^\circ$ | o) $\frac{5\pi}{4}\text{rad} = 225^\circ$ |
| p) $1,2\pi\text{rad} = 216^\circ$ | q) $1,75\text{rad} = 315^\circ$ | r) $0,3\pi\text{rad} = 60^\circ$ |
| s) $\frac{4\pi}{5}\text{rad} = 144^\circ$ | t) $\frac{\pi}{9}\text{rad} = 20^\circ$ | u) $\frac{9\pi}{7}\text{rad} \approx 231,429^\circ$ |
| v) $\frac{\pi}{12}\text{rad} = 15^\circ$ | w) $\frac{7\pi}{3}\text{rad} = 420^\circ$ | x) $\frac{11\pi}{9}\text{rad} = 220^\circ$ |

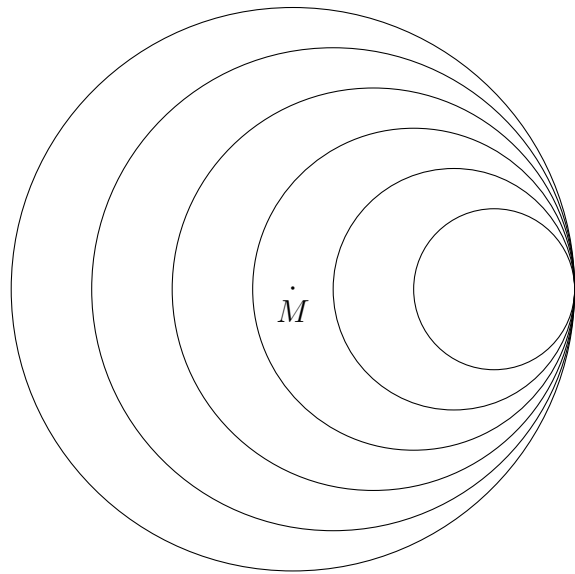
Aufgabe 4:

(Alle Größen wurden mit $\frac{1}{2}$ multipliziert.)

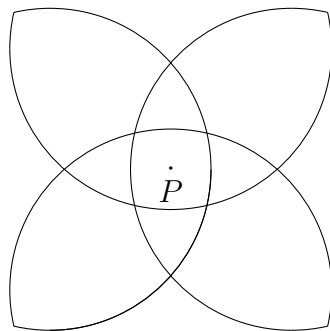
a)



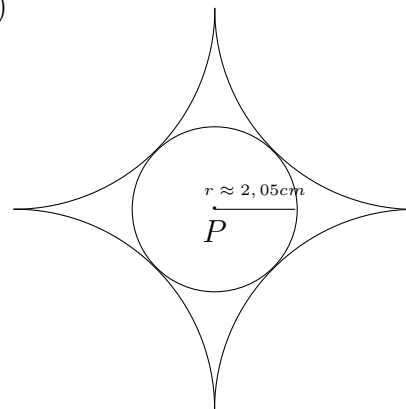
b)



c)

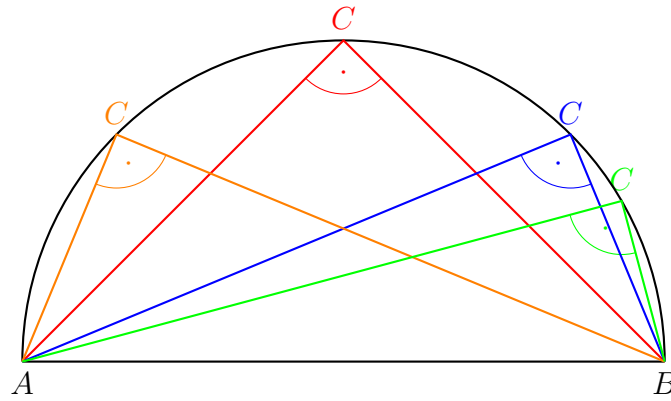


d)

**Aufgabe 5:**

Der Abstand der Mittelpunkte nimmt nach rechts immer weiter um $0,5\text{cm}$ zu, während die Radien der Kreise um $0,5\text{cm}$ abnehmen.

Aufgabe 6:

**Aufgabe 7:**

a)

Zurück zu den Aufgaben durch folgenden Link: [\(3.9.3\)](#).

13.6.24 Lösungen zu Zylindern und Kegeln**Aufgabe 1:**

$$a) \quad r = 5\text{cm} \text{ und } h = 11\text{cm} \Rightarrow V \approx 863,94\text{cm}^3, O \approx 329,87\text{cm}^2$$

$$b) \quad r = 47\text{cm} \text{ und } h = 85\text{cm} \Rightarrow V \approx 589551,15\text{cm}^3, O \approx 26430,22\text{cm}^2$$

$$c) \quad r = \frac{1}{4}\text{cm} \text{ und } h = \sqrt{9}\text{cm} \Rightarrow V \approx 0,59\text{cm}^3, O \approx 2,75\text{cm}^2$$

$$d) \quad r = \sqrt{7}\text{cm} \text{ und } h = 2\text{cm} \Rightarrow V \approx 43,98\text{cm}^3, O \approx 60,61\text{cm}^2$$

$$e) \quad r = \frac{7}{3}\text{cm} \text{ und } h = \sqrt{5}\text{cm} \Rightarrow V \approx 38,25\text{cm}^3, O \approx 50,60\text{cm}^2$$

$$f) \quad r = \sqrt{50}\text{cm} \text{ und } h = \sqrt{\frac{3}{16}}\text{cm} \Rightarrow V \approx 68,02\text{cm}^3, O \approx 323,78\text{cm}^2$$

Aufgabe 2:

- a) $r = 4\text{cm}$ und $h = 2,7\text{cm} \Rightarrow V \approx 45,24\text{cm}^3, s \approx 4,83\text{cm}, O \approx 110,91\text{cm}^2$
 b) $r = \sqrt{2}\text{cm}$ und $h = \frac{2}{5}\text{cm} \Rightarrow V \approx 0,84\text{cm}^3, s \approx 1,47\text{cm}, O \approx 12,81\text{cm}^2$
 c) $r = 7\text{cm}$ und $h = 4,3\text{cm} \Rightarrow V \approx 220,65\text{cm}^3, s \approx 8,22\text{cm}, O \approx 334,60\text{cm}^2$
 d) $r = \frac{10}{7}\text{cm}$ und $h = 4\text{cm} \Rightarrow V \approx 8,55\text{cm}^3, s \approx 4,25\text{cm}, O \approx 25,47\text{cm}^2$
 e) $r = 5\text{cm}$ und $h = 1,4\text{cm} \Rightarrow V \approx 36,65\text{cm}^3, s \approx 5,19\text{cm}, O \approx 160,10\text{cm}^2$
 f) $r = \frac{1}{8}\text{cm}$ und $h = 9\text{cm} \Rightarrow V \approx 0,15\text{cm}^3, s \approx 9,00\text{cm}, O \approx 3,58\text{cm}^2$

Aufgabe 3:

- a) $r_1 = 4\text{cm}, r_2 = 2\text{cm}$ und $h_1 = 5\text{cm} \Rightarrow V \approx 146,61\text{cm}^3, s_1 \approx 5,39\text{cm}, O \approx 164,34\text{cm}^2$
 b) $r_1 = 3,5\text{cm}, r_2 = 1,5\text{cm}$ und $h_1 = 7\text{cm} \Rightarrow V \approx 144,78\text{cm}^3, s_1 \approx 7,28\text{cm}, O \approx 159,91\text{cm}^2$
 c) $r_1 = 6\text{cm}, r_2 = 2\text{cm}$ und $h_1 = 9\text{cm}, \Rightarrow V \approx 490,09\text{cm}^3, s_1 \approx 9,85\text{cm}, O \approx 373,19\text{cm}^2$
 d) $r_1 = \frac{1}{3}\text{cm}, r_2 = \frac{9}{4}\text{cm}$ und $h_1 = \frac{13}{2}\text{cm} \Rightarrow V \approx 40,32\text{cm}^3, s_1 \approx 6,78\text{cm}, O \approx 38,55\text{cm}^2$
 e) $r_1 = 1\text{cm}, r_2 = 5\text{cm}$ und $h_1 = \frac{7}{4}\text{cm} \Rightarrow V \approx 56,81\text{cm}^3, s_1 \approx 4,37\text{cm}, O \approx 163,98\text{cm}^2$
 f) $r_1 = \pi\text{cm}, r_2 = 2,718\text{cm}$ und $h_1 = \sqrt{2}\text{cm} \Rightarrow V \approx 38,20\text{cm}^3, s_1 \approx 1,48\text{cm}, O \approx 81,39\text{cm}^2$

Aufgabe 4:

Beide Körper haben das gleiche Volumen und die gleiche Oberfläche. $\Rightarrow V = \frac{1}{3}\pi(h_1 + h_2)r_1^2 - 2\frac{1}{3}\pi h_2 r_2^2 \approx 100,53\text{cm}^3, O = \pi r_1^2 + \pi(s_1 + s_2)r_1 \approx 499,85\text{cm}^2$. Dabei ist das Volumen des kleinen Kegels zweimal vom großen Kegel zu subtrahieren. Die Oberfläche ist dabei identisch zur Oberfläche eines großen Kegels.

Zurück zu den Aufgaben durch folgenden Link: (3.10.1).

13.6.25 Lösungen zu Kugeln

Aufgabe 1:

a) $r = 3\text{cm} \Rightarrow V \approx 113,10\text{cm}^3, O \approx 113,10\text{cm}^2$

b) $r = \pi\text{cm} \Rightarrow V \approx 129,88\text{cm}^3, O \approx 124,03\text{cm}^2$

c) $d = 4\text{cm} \Rightarrow V \approx 33,51\text{cm}^3, O \approx 50,27\text{cm}^2$

d) $d = 0,5\text{cm} \Rightarrow V \approx 0,066\text{cm}^3, O \approx 0,785\text{cm}^2$

e) $r = 2,718\text{cm} \Rightarrow V \approx 84,11\text{cm}^3, O \approx 92,83\text{cm}^2$

f) $d = \frac{6}{7}\text{cm} \Rightarrow V \approx 2,64\text{cm}^3, O \approx 9,23\text{cm}^2$

Aufgabe 2:

a)

Aufgabe 3:

a)

Zurück zu den Aufgaben durch folgenden Link: [\(3.11.1\)](#).

Lösungen zur Trigonometrie

Aufgabe 1:

- a) $a = 7\text{cm}$ und $c = 11\text{cm}$: $\Rightarrow b \approx 8,49\text{cm}, \alpha \approx 39,52^\circ, \beta \approx 50,48^\circ$
 b) $a = 4\text{cm}$ und $b = 6\text{cm}$: $\Rightarrow c \approx 7,21\text{cm}, \alpha \approx 33,69^\circ, \beta \approx 56,31^\circ$
 c) $\alpha = 55^\circ$ und $c = 9\text{cm}$: $\Rightarrow a \approx 7,37\text{cm}, b \approx 5,16\text{cm}, \beta \approx 35^\circ$
 d) $a = 5,35\text{cm}$ und $\beta = 18^\circ$: $\Rightarrow b \approx 1,74\text{cm}, \alpha \approx 72^\circ, c \approx 5,63\text{cm}$
 e) $b = 14\text{cm}$ und $\beta = 81^\circ$: $\Rightarrow c \approx 14,18\text{cm}, a \approx 2,22\text{cm}, \beta \approx 9^\circ$
 f) $a = \pi\text{cm}$ und $\alpha = 27,18^\circ$: $\Rightarrow b \approx 6,12\text{cm}, c \approx 6,88\text{cm}, \beta \approx 62,82^\circ$
 g) $c = \sqrt{60}\text{cm}$ und $\beta = \frac{1}{3}\pi\text{rad}$: $\Rightarrow b \approx 6,71\text{cm}, a \approx 3,87\text{cm}, \alpha \approx 30^\circ$
 h) $c = \frac{83}{17}\text{cm}$ und $\alpha = \frac{1}{7}\pi\text{rad}$: $\Rightarrow b \approx 2,12\text{cm}, a \approx 4,40\text{cm}, \beta \approx 64,29^\circ$

Aufgabe 2:

- a) $c \approx 5,292\text{cm}$ $\beta \approx 79,107^\circ$ $\alpha \approx 40,893^\circ$
 b) $b \approx 4,762\text{cm}$ $\alpha \approx 76,046^\circ$ $\gamma \approx 69,954^\circ$
 c) $a \approx 9,145\text{cm}$ $\beta \approx 74,610^\circ$ $\gamma \approx 33,391^\circ$
 d) $c \approx 0,999\text{cm}$ $\beta \approx 144,436^\circ$ $\alpha \approx 31,564^\circ$
 e) $a \approx 7,119\text{cm}$ $c \approx 5,429\text{cm}$ $\alpha = 112^\circ$
 f) $a \approx 3,636\text{cm}$ $b \approx 4,006\text{cm}$ $\beta = 98^\circ$
 g) $b \approx 40,602\text{km}$ $c \approx 40,403\text{km}$ $\gamma = 46,7^\circ$
 h) $a \approx 3,125$ $b \approx 2,465$ $\alpha = 49,1^\circ$

Zurück zu den Aufgaben durch folgenden Link: (4.0.1).

13.6.26 Lösungen zu den gemischten Trigonometrieaufgaben

Aufgabe 1:

	1	2	3	4	5	6
a	2	4	6	4,7	$\frac{1}{2}$	$\frac{3}{10}$
b	3	6	9	7,05	$\frac{3}{4}$	$\frac{9}{20}$
c	$\approx 3,606$	$\approx 7,211$	$\approx 10,817$	$\approx 8,473$	$\approx 0,901$	$\approx 0,541$
$\frac{a}{b}$	$\approx 0,667$	$\approx 0,667$	$\approx 0,667$	$\approx 0,667$	$\approx 0,667$	$\approx 0,667$
$\frac{b}{a}$	$\approx 1,5$	$\approx 1,5$	$\approx 1,5$	$\approx 1,5$	$\approx 1,5$	$\approx 1,5$
$\frac{a}{c}$	$\approx 0,555$	$\approx 0,555$	$\approx 0,555$	$\approx 0,555$	$\approx 0,555$	$\approx 0,555$
$\frac{b}{c}$	$\approx 0,832$	$\approx 0,832$	$\approx 0,832$	$\approx 0,832$	$\approx 0,832$	$\approx 0,832$

Aufgabe 2:

	1	2	3	4	5	6
α in $[\circ]$	5	11	30	45	60	90
α in $[rad]$	$\approx 0,087$	$\approx 0,192$	$\frac{\pi}{6}$	$\frac{\pi}{4}$	$\frac{\pi}{3}$	$\frac{\pi}{2}$
$\sin \alpha$	$\approx 0,087$	$\approx 0,191$	$\frac{1}{2}$	$\frac{1}{\sqrt{2}}$	$\frac{\sqrt{3}}{2}$	1
$\cos \alpha$	$\approx 0,996$	$\approx 0,982$	$\frac{\sqrt{3}}{2}$	$\frac{1}{\sqrt{2}}$	$\frac{1}{2}$	0
$\tan \alpha$	$\approx 0,087$	$\approx 0,194$	$\frac{1}{\sqrt{3}}$	1	$\sqrt{3}$	—
$\cot \alpha$	$\approx 11,430$	$\approx 5,145$	$\sqrt{3}$	1	$\frac{1}{\sqrt{3}}$	0
	1	2	3	4	5	6
α in $[\circ]$	120	135	210	240	300	315
α in $[rad]$	$\frac{2\pi}{3}$	$\frac{3\pi}{4}$	$\frac{7\pi}{6}$	$\frac{4\pi}{3}$	$\frac{5\pi}{3}$	$\frac{7\pi}{4}$
$\sin \alpha$	$\frac{\sqrt{3}}{2}$	$\frac{1}{\sqrt{2}}$	$-\frac{1}{2}$	$-\frac{\sqrt{3}}{2}$	$-\frac{\sqrt{3}}{2}$	$-\frac{1}{\sqrt{2}}$
$\cos \alpha$	$-\frac{1}{2}$	$-\frac{1}{\sqrt{2}}$	$-\frac{\sqrt{3}}{2}$	$-\frac{1}{2}$	$\frac{1}{2}$	$\frac{1}{\sqrt{2}}$
$\tan \alpha$	$-\sqrt{3}$	-1	$\frac{1}{\sqrt{3}}$	$\sqrt{3}$	$-\sqrt{3}$	-1
$\cot \alpha$	$-\frac{1}{\sqrt{3}}$	-1	$\sqrt{3}$	$\frac{1}{\sqrt{3}}$	$-\frac{1}{\sqrt{3}}$	-1

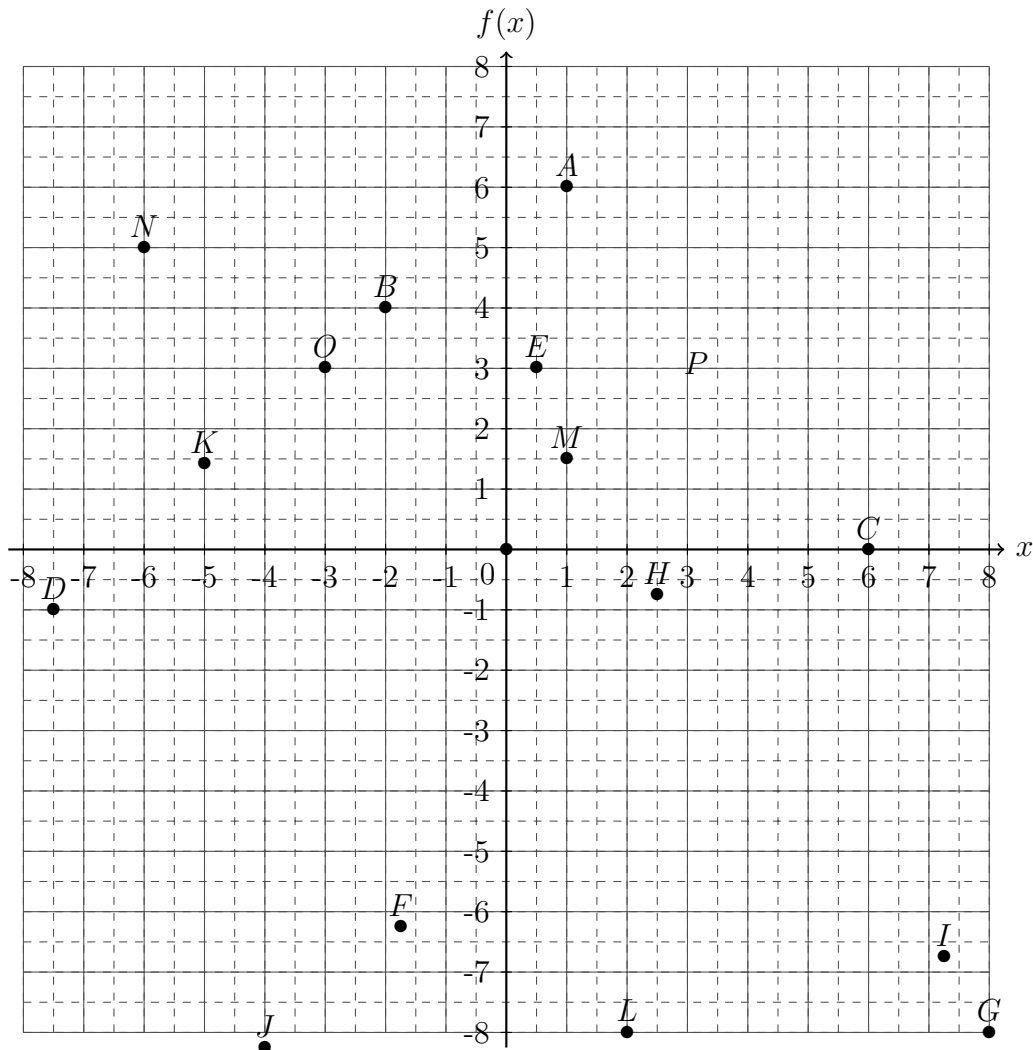
Aufgabe 3:

	1	2	3	4	5	6
a	4	7	3,4	5,35	$\frac{7}{3}$	$\sqrt{10}$
b	5	9	7,2	8,31	$\frac{8}{5}$	$\sqrt{15}$
c	$\approx 6,40$	$\approx 11,40$	$\approx 7,96$	$\approx 9,88$	$\approx 2,83$	5
$\alpha = \arctan\left(\frac{a}{b}\right)$ in $[\circ]$	$\approx 38,66$	$\approx 37,88$	$\approx 25,28$	$\approx 32,77$	$\approx 55,56$	$\approx 39,23$
$\alpha = \arcsin\left(\frac{a}{c}\right)$ in $[\circ]$	$\approx 38,66$	$\approx 37,88$	$\approx 25,28$	$\approx 32,77$	$\approx 55,56$	$\approx 39,23$
$\alpha = \arccos\left(\frac{b}{c}\right)$ in $[\circ]$	$\approx 38,66$	$\approx 37,88$	$\approx 25,28$	$\approx 32,77$	$\approx 55,56$	$\approx 39,23$
$\beta = \arctan\left(\frac{b}{a}\right)$ in $[\circ]$	$\approx 51,34$	$\approx 52,12$	$\approx 64,72$	$\approx 57,23$	$\approx 34,44$	$\approx 50,77$
$\beta = \arcsin\left(\frac{b}{c}\right)$ in $[\circ]$	$\approx 51,34$	$\approx 52,12$	$\approx 64,72$	$\approx 57,23$	$\approx 34,44$	$\approx 50,77$
$\beta = \arccos\left(\frac{a}{c}\right)$ in $[\circ]$	$\approx 51,34$	$\approx 52,12$	$\approx 64,72$	$\approx 57,23$	$\approx 34,44$	$\approx 50,77$

Zurück zu den Aufgaben durch folgenden Link: [\(4.1\)](#).

13.6.27 Lösungen zu Wertetabellen und Punkte

Aufgabe 1:



Aufgabe 2:

a)

x	-2	-1	0	$\frac{1}{2}$	1	$\frac{3}{2}$	2
$f(x)$	7	5	3	$\frac{1}{2}$	1	0	-1
x	$-\sqrt{2}$	$-\frac{1}{3}$	$\frac{1}{5}$	$\frac{8}{7}$	e	π	$\sqrt{17}$
$f(x)$	5,83	3,67	2,6	0,71	-2,44	-3,28	-5,25

b)

x	-2	-1	0	$\frac{1}{2}$	1	$\frac{3}{2}$	2
$f(x)$	22	7	-2	-4,25	-5	-4,25	-2
x	$-\sqrt{2}$	$-\frac{1}{3}$	$\frac{1}{5}$	$\frac{8}{7}$	e	π	$\sqrt{17}$
$f(x)$	-12,49	$\frac{1}{3}$	-3,08	-4,94	3,86	8,76	24,26

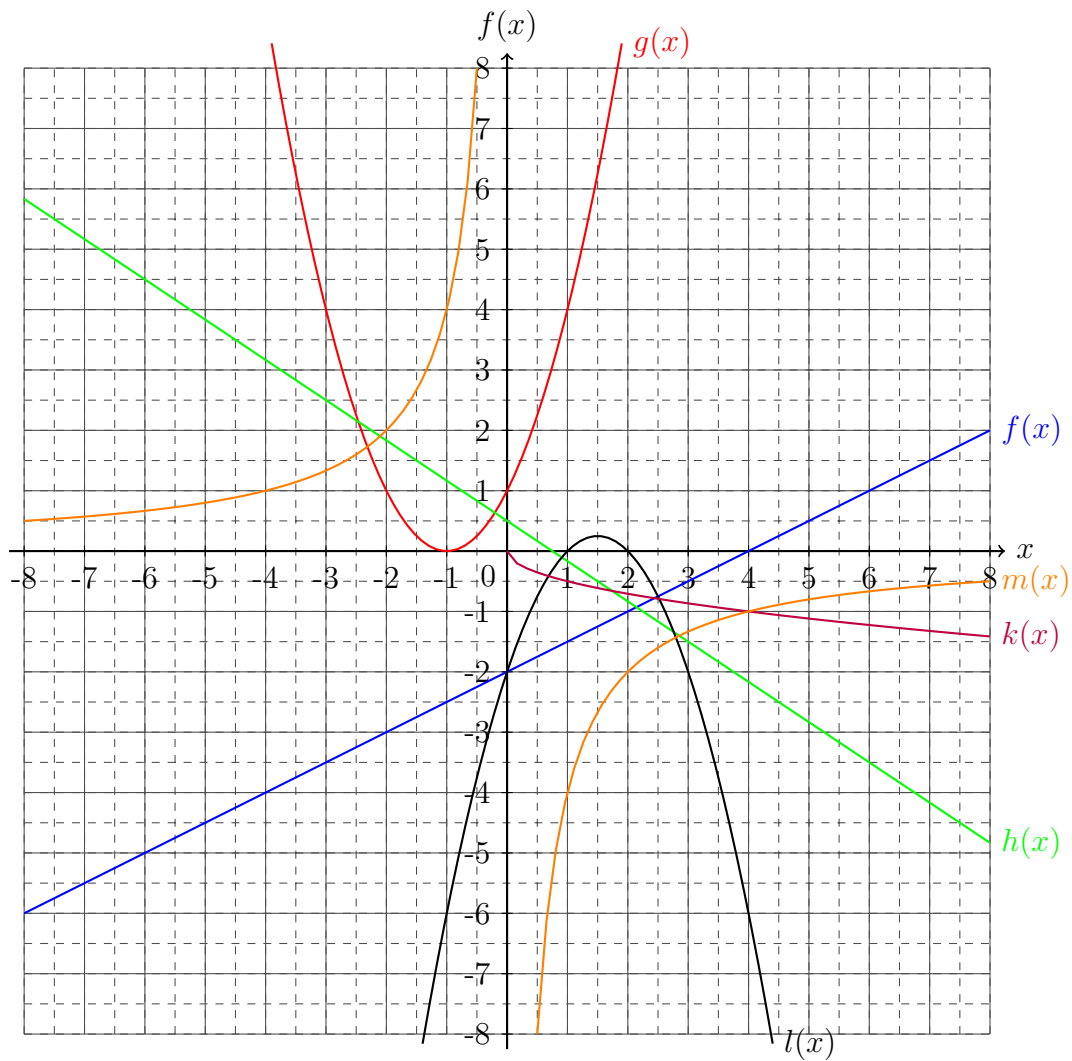
c)

x	-2	-1	0	$\frac{1}{2}$	1	$\frac{3}{2}$	2
$f(x)$	-22	-3	2	$\frac{9}{8}$	-1	$\frac{29}{8}$	-6
x	$-\sqrt{2}$	$-\frac{1}{3}$	$\frac{1}{5}$	$\frac{8}{7}$	e	π	$\sqrt{17}$
$f(x)$	-8,83	1,52	1,85	-1,73	7,47	-6,47	4,09

d)

x	-2	-1	0	$\frac{1}{2}$	1	$\frac{3}{2}$	2
$f(x)$	3	-6	-5	$-\frac{87}{16}$	-6	$-\frac{71}{16}$	3
x	$-\sqrt{2}$	$-\frac{1}{3}$	$\frac{1}{5}$	$\frac{8}{7}$	e	π	$\sqrt{17}$
$f(x)$	-5	$-\frac{422}{81}$	-5,08	-5,91	34,82	72,67	250

Aufgabe 3:



- a) $\mathbb{D} = \{x \in \mathbb{R}\}$, $\mathbb{W} = \{f(x) \in \mathbb{R}\}$
 b) $\mathbb{D} = \{x \in \mathbb{R}\}$, $\mathbb{W} = \{g(x) \in \mathbb{R}^+\}$
 c) $\mathbb{D} = \{x \in \mathbb{R}\}$, $\mathbb{W} = \{h(x) \in \mathbb{R}\}$
 d) $\mathbb{D} = \{x \in \mathbb{R}^+\}$, $\mathbb{W} = \{k(x) \in \mathbb{R}^-\}$
 e) $\mathbb{D} = \{x \in \mathbb{R}\}$, $\mathbb{W} = \left\{l(x) \in \mathbb{R} \mid l(x) \leq \frac{1}{4}\right\}$
 f) $\mathbb{D} = \{x \in \mathbb{R} \setminus \{0\}\}$, $\mathbb{W} = \{m(x) \in \mathbb{R}\}$

Zurück zu den Aufgaben durch folgenden Link: [\(5.1.1\)](#).

13.6.28 Lösungen zu Geraden

Aufgabe 1:

$$a) f_a(x) = \frac{3}{2} \cdot x + 4 \Rightarrow x_N = -\frac{8}{3}$$

$$b) f_b(x) = \frac{15}{2} \cdot x - \frac{11}{4} \Rightarrow x_N = \frac{11}{30}$$

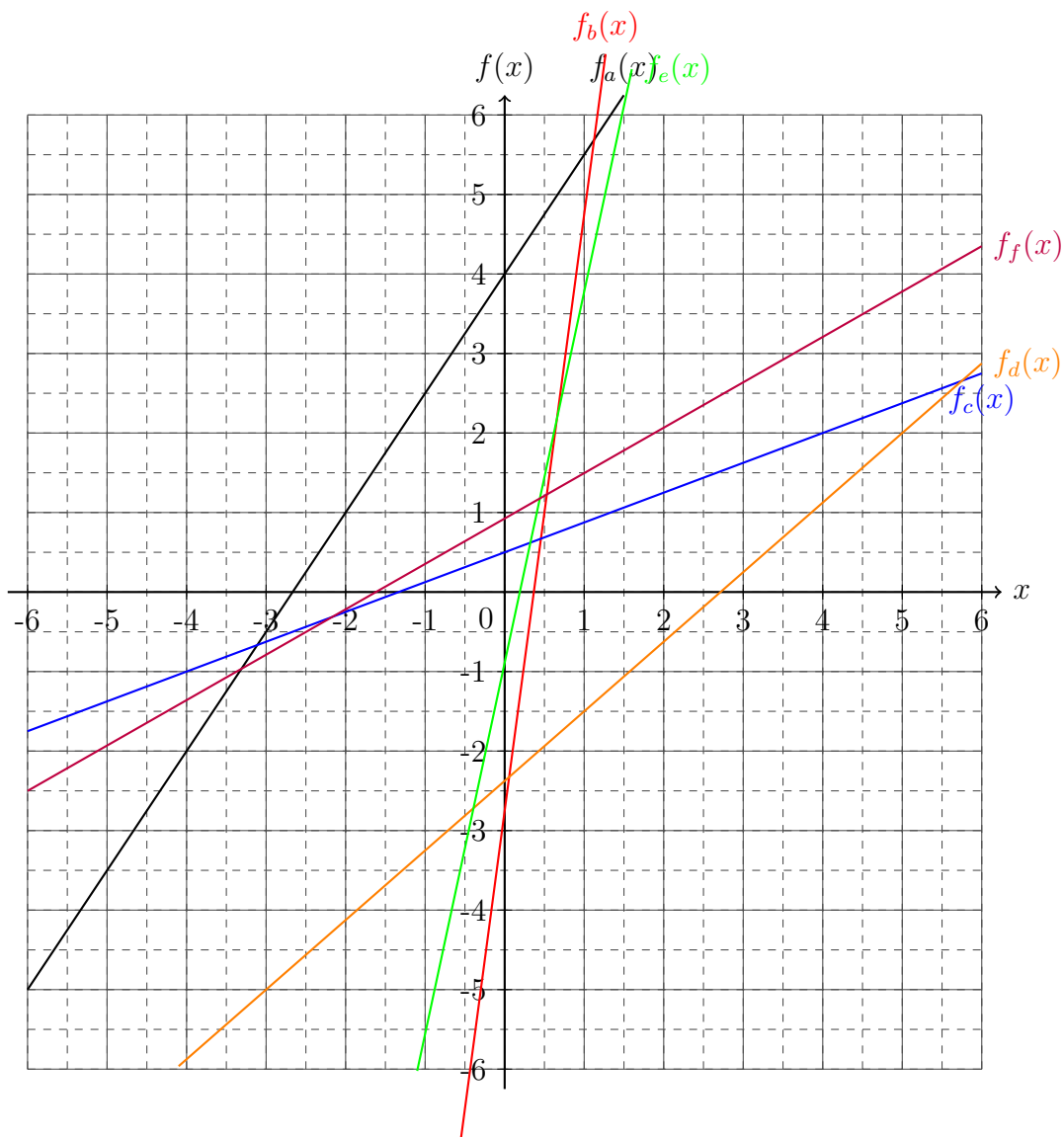
$$c) f_c(x) = \frac{3}{8} \cdot x + \frac{1}{2} \Rightarrow x_N = -\frac{4}{3}$$

$$d) f_d(x) = \frac{7}{8} \cdot x - \frac{19}{8} \Rightarrow x_N = \frac{19}{7}$$

$$e) f_e(x) = \frac{14}{3} \cdot x - \frac{8}{9} \Rightarrow x_N = \frac{4}{21}$$

$$f) f_f(x) = \frac{e - \sqrt{3}}{\pi - \sqrt{2}} \cdot x + e - \frac{e - \sqrt{3}}{\pi - \sqrt{2}} \cdot \pi$$

$$f_f(x) \approx 0,571 \cdot x + 0,925 \Rightarrow x_N = -1,620$$



Aufgabe 2:

a) $f_a(x) = \frac{5}{4} \cdot x + 1$

b) $f_b(x) = \frac{1}{2} \cdot x - \frac{3}{2}$

c) $f_c(x) = -2 \cdot x + \frac{9}{4}$

d) $f_d(x) = 6 \cdot x - 2$

e) $f_e(x) = -\frac{1}{4} \cdot x - 5$

f) $f_f(x) = -x + \frac{1}{3}$

Aufgabe 3:

a) $P_x \left(\frac{5}{2} \mid \frac{11}{2} \right)$

b) $P_x \left(\frac{54}{95} \mid -\frac{86}{95} \right)$

c) $P_x \left(\frac{6}{5} \mid -\frac{18}{5} \right)$

d) $P_x(1, 99 \mid 3, 64)$

e) $P_x(1, 30 \mid 4, 35)$

f) $P_x(2, 85 \mid -4, 03)$

Aufgabe 4:

a) $f(x) = 5x - 9 \Rightarrow x_N = \frac{9}{5}$

c) $f(x) = -3x + 4 \Rightarrow x_N = \frac{4}{3}$

e) $f(x) = 9x + 4 \Rightarrow x_N = -\frac{4}{9}$

g) $f(x) = \frac{3}{4}x + \frac{1}{5} \Rightarrow x_N = -\frac{4}{15}$

i) $f(x) = -\sqrt{2}x - 45 \Rightarrow x_N = -\frac{45}{\sqrt{2}}$

b) $f(x) = \frac{1}{3}x - 6 \Rightarrow x_N = 18$

d) $f(x) = -12x + \frac{8}{17} \Rightarrow x_N = \frac{8}{204}$

f) $f(x) = 15x + \sqrt{2} \Rightarrow x_N = -\frac{\sqrt{2}}{15}$

h) $f(x) = 3x - \frac{5}{6} \Rightarrow x_N = \frac{5}{18}$

j) $f(x) = \frac{1}{\sqrt{2}}x + \ln 4 \Rightarrow x_N = -\ln 4\sqrt{2}$

Zurück zu den Aufgaben durch folgenden Link: (5.2.1).

13.6.29 Lösungen zu Parabeln**Aufgabe 1:**

a) $f_a(x) = (x - 2)^2 + 3, \Rightarrow S(2|3)$, Nullstellen: keine

b) $f_b(x) = -2(x + 3)^2 + 4, \Rightarrow S(-3|4)$, Nullstellen: $x_{N_{1,2}} = -3 \pm \sqrt{2}$

c) $f_c(x) = \frac{1}{2} \left(x - \frac{3}{2}\right)^2 - \frac{1}{4}, \Rightarrow S\left(\frac{3}{2} \mid -\frac{1}{4}\right)$, Nullstellen: $x_{N_{1,2}} = \frac{3}{2} \pm \frac{1}{\sqrt{2}}$

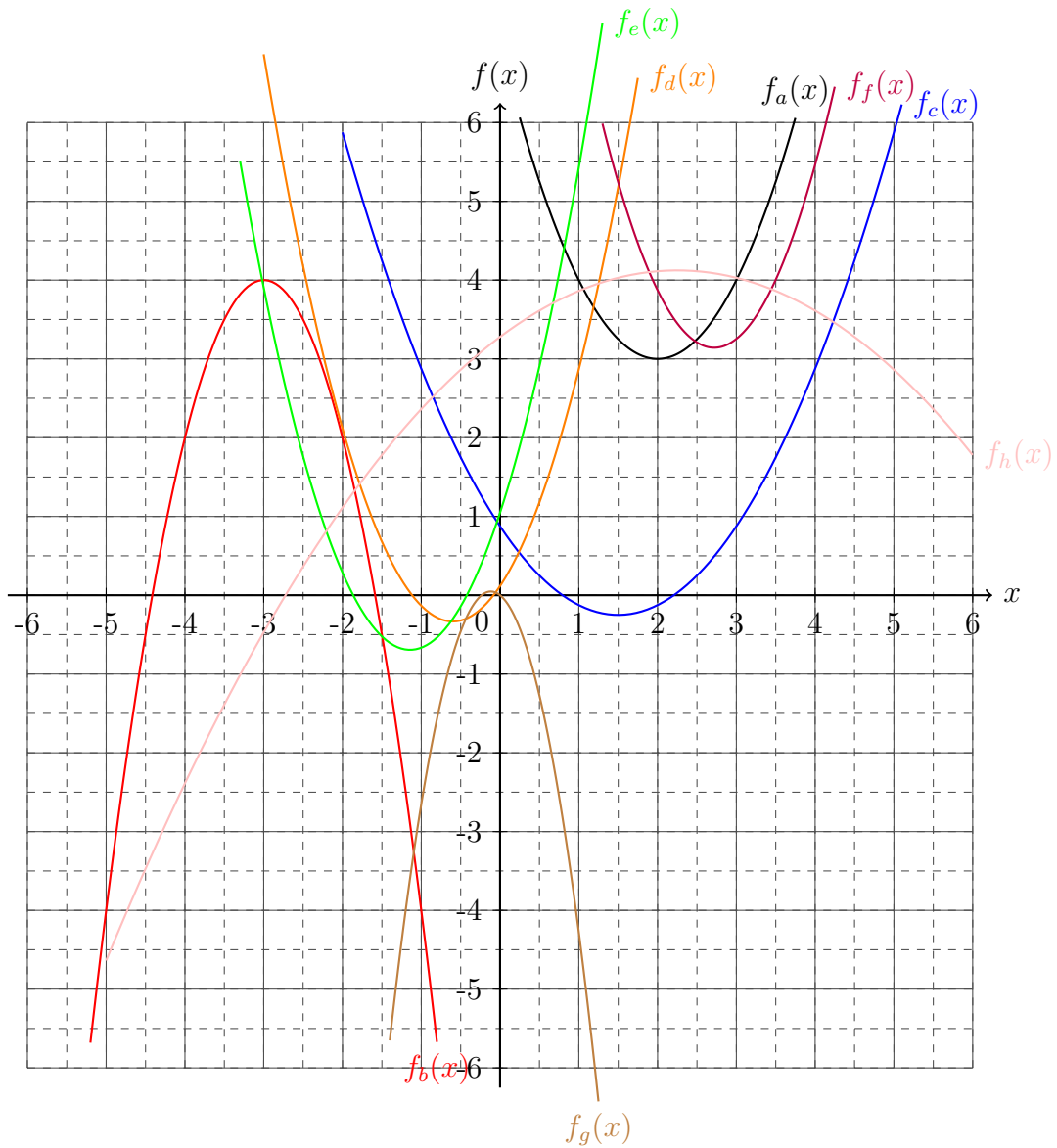
d) $f_d(x) = \frac{5}{4} \left(x + \frac{3}{5}\right)^2 - \frac{1}{3}, \Rightarrow S\left(-\frac{3}{5} \mid -\frac{1}{3}\right)$, Nullstellen: $x_{N_{1,2}} = \frac{9 \pm \sqrt{15}}{15}$

e) $f_e(x) = \frac{4}{3} \left(x + \frac{8}{7}\right)^2 - \ln 2, \Rightarrow S\left(-\frac{8}{7} \mid -\ln 2\right)$, Nullstellen: $x_{N_{1,2}} = \frac{-16 \pm 7\sqrt{3\ln 2}}{14}$

f) $f_f(x) = \sqrt{2}(x - e)^2 + \pi, \Rightarrow S(e|\pi)$, Nullstellen: keine

g) $f_g(x) = -\left(x - \sqrt{3}\right)^2 - \sqrt{5}, \Rightarrow S\left(\sqrt{3} \mid -\sqrt{5}\right)$, Nullstellen: $x_{N_{1,2}} = \sqrt{3} \pm \sqrt[4]{5}$

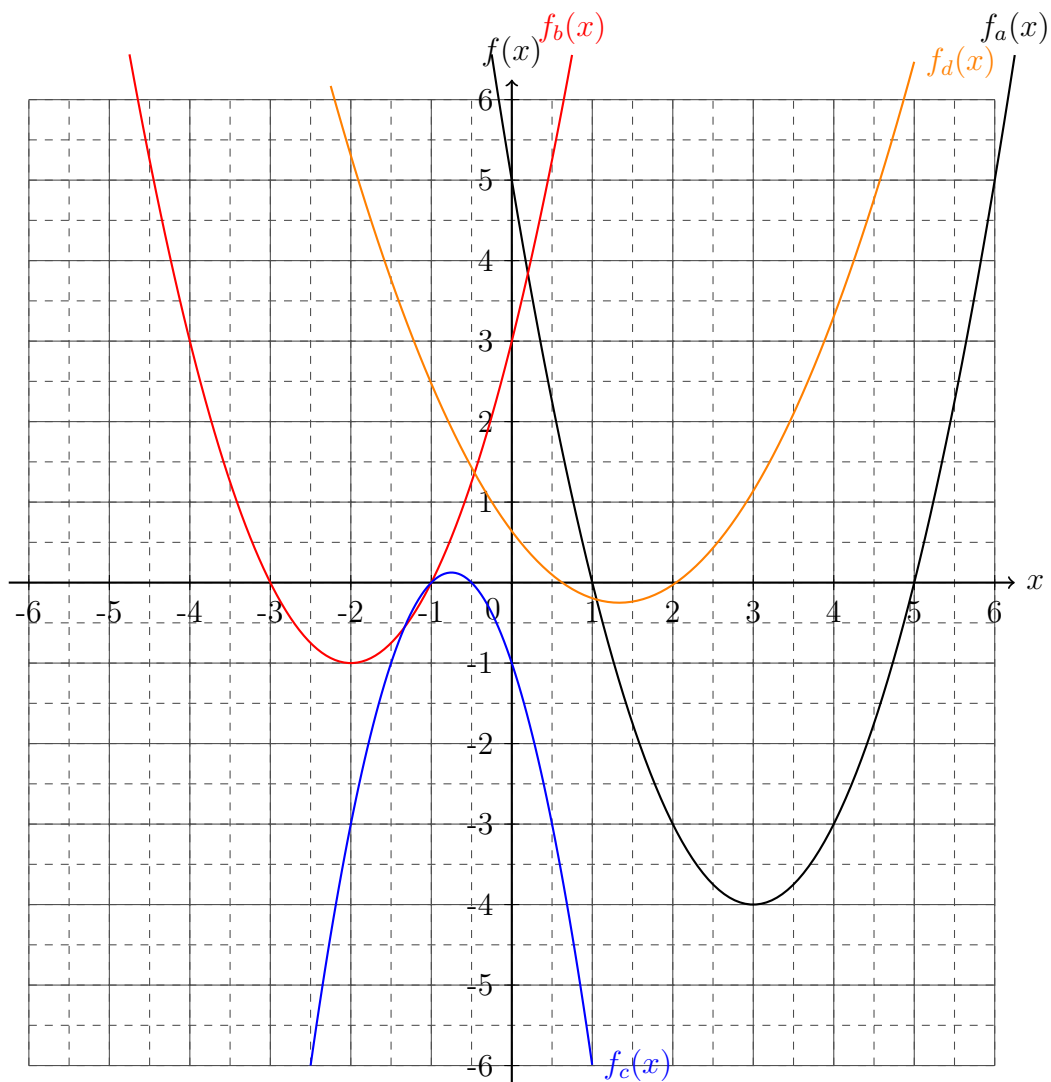
h) $f_h(x) = -\frac{1}{6} \left(x - \frac{9}{4}\right)^2 - \sqrt{17}, \Rightarrow S\left(\frac{9}{4} \mid -\sqrt{17}\right)$, Nullstellen: $x_{N_{1,2}} = \frac{9 \pm 4\sqrt{6}\sqrt[4]{17}}{4}$

**Aufgabe 2:**

- a) $x_{1,2} = 2 \pm \sqrt{10}$ b) $x_{1,2} = 1 \pm \frac{2}{5}\sqrt{15}$
 c) $x_1 = -2 \quad \wedge \quad x_2 = 4$ d) $\mathbb{L} = \emptyset$

Aufgabe 3:

- a) $S(3|-4)$; $x_1 = 1 \wedge x_2 = 5$; $f(x) = x^2 - 6x + 5$
 b) $S(-2|-1)$; $x_1 = -3 \wedge x_2 = -1$; $f(x) = x^2 + 4x + 3$
 c) $S\left(-\frac{3}{4}|\frac{1}{8}\right)$; $x_1 = -1 \wedge x_2 = -\frac{1}{2}$; $f(x) = -2x^2 - 3x - 1$
 d) $S\left(\frac{4}{3}|\frac{1}{4}\right)$; $x_{1,2} = \frac{4}{3} \pm \frac{\sqrt{2}}{2}$; $f(x) = \frac{1}{2}x^2 - \frac{4}{3}x + \frac{23}{36}$



Aufgabe 4:

a) $f(x) = 2(x + 2)^2 - 2$

b) $g(x) = -\frac{1}{2}(x + 1)^2 + 3$

c) $h(x) = \frac{1}{4}\left(x + \frac{3}{2}\right)^2 - \frac{1}{2}$

d) $k(x) = \frac{5}{4}\left(x - \frac{1}{2}\right)^2 - \frac{3}{2}$

e) $l(x) = -4(x - 4)^2 + 4$

f) $m(x) = -2(x + 1)^2 - 2$

Aufgabe 5:

- a) Achsensymmetrisch
- b) Nicht achsensymmetrisch
- c) Achsensymmetrisch
- d) Achsensymmetrisch

Zurück zu den Aufgaben durch folgenden Link: (5.4.1).

13.6.30 Lösungen zu Umkehrfunktionen**Aufgabe 1:**

a) $f^{-1}(x) = x - 6$

b) $f^{-1}(x) = \frac{1}{3}x + 3$

c) $f^{-1}(x) = \sqrt{x + 64}$

d) $f^{-1}(x) = \frac{\sqrt{41 - 4x} + 3}{2}$

e) $f^{-1}(x) = \frac{\sqrt{x + 10} - 2}{2}$

f) $f^{-1}(x) = \frac{\sqrt{12x - 1} - 1}{3}$

Zurück zu den Aufgaben durch folgenden Link: (5.5.1).

13.6.31 Lösungen zu Hyperbeln

Aufgabe 1:

$$a) x_N = \frac{1}{2}, \mathbb{D} = \{x \in \mathbb{R} \setminus \{0\}\}$$

$$b) x_N = -8, \mathbb{D} = \{x \in \mathbb{R} \setminus \{0\}\}$$

$$c) x_N = \frac{5}{3}, \mathbb{D} = \{x \in \mathbb{R} \setminus \{2\}\}$$

$$d) x_N = -\frac{44}{9}, \mathbb{D} = \{x \in \mathbb{R} \setminus \{-5\}\}$$

$$e) x_N = -\frac{2}{\sqrt{5}} - \frac{2}{3}, \mathbb{D} = \left\{x \in \mathbb{R} \setminus \left\{\frac{2}{3}\right\}\right\}$$

$$f) x_N = \frac{e\sqrt{2} - \pi}{e}, \mathbb{D} = \left\{x \in \mathbb{R} \setminus \left\{\sqrt{2}\right\}\right\}$$

Aufgabe 2:

$$a) f^{-1}(x) = \frac{1}{x} + 3$$

$$b) f^{-1}(x) = \frac{3}{2(3x+1)}$$

$$c) f^{-1}(x) = \frac{9}{4(x-3)} + \frac{1}{2}$$

$$d) f^{-1}(x) = \sqrt{\frac{1}{4x-16}} + 6$$

$$e) f^{-1}(x) = \frac{1}{3} \sqrt{\frac{1}{\frac{x}{2} - \frac{7}{16}} + 27}$$

$$f) f^{-1}(x) = \frac{1}{\ln 2} \sqrt{\frac{e}{x - \sqrt{2}}} + \pi$$

Zurück zu den Aufgaben durch folgenden Link: [\(5.6.1\)](#).

13.6.32 Lösungen zu Grenzwerte

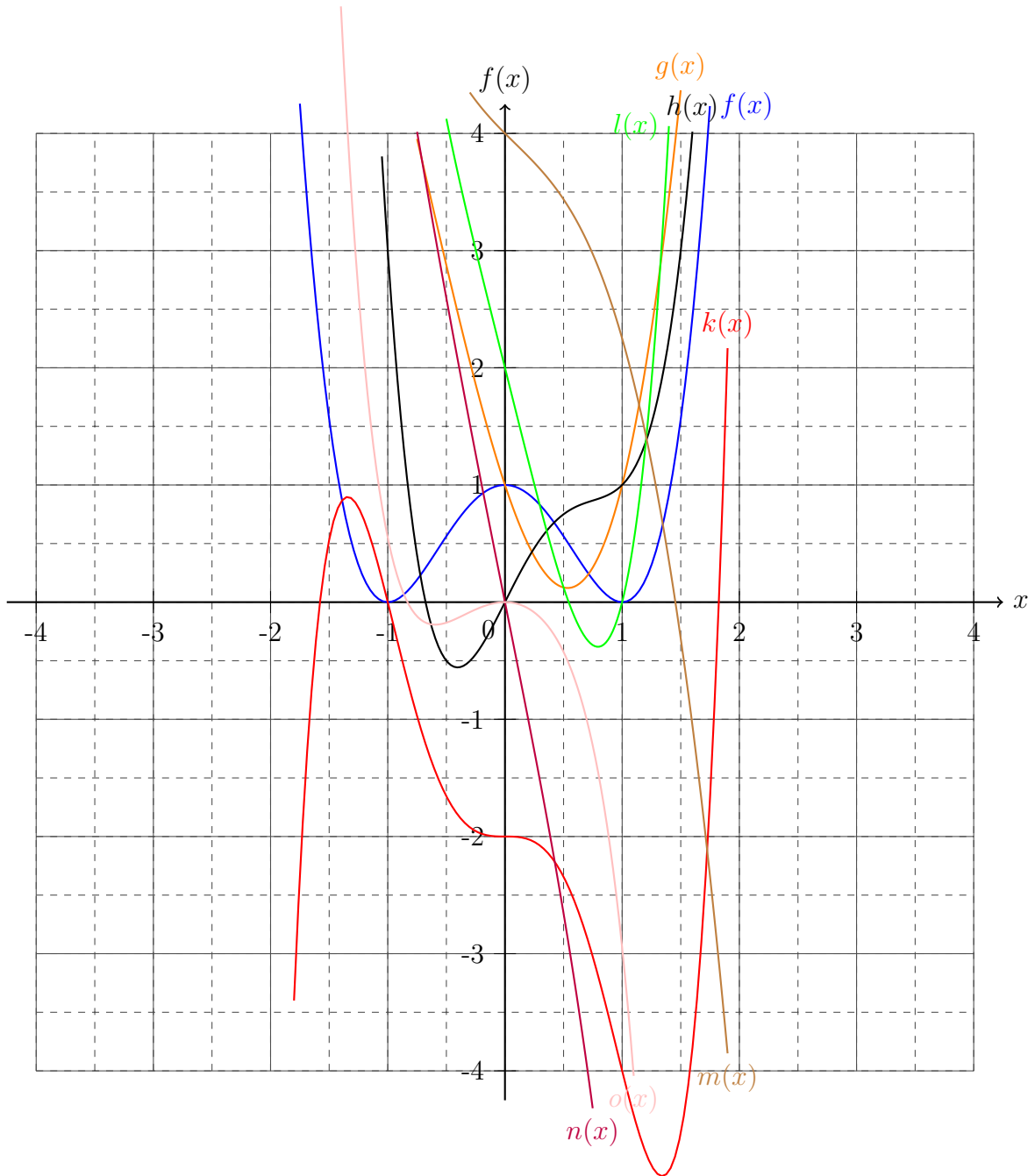
Aufgabe 1:

- a) $\lim_{x \nearrow 6} f(x) = -\infty$ $\lim_{x \searrow 6} f(x) = \infty$
- b) $\lim_{x \nearrow 4} f(x) = -\infty$ $\lim_{x \searrow 4} f(x) = \infty$
- c) $\lim_{x \nearrow \frac{2}{5}} f(x) = -\infty$ $\lim_{x \searrow \frac{2}{5}} f(x) = \infty$
- d) $\lim_{x \nearrow 3} f(x) = \infty$ $\lim_{x \searrow 3} f(x) = \infty$ und $\lim_{x \nearrow -3} f(x) = \infty$ $\lim_{x \searrow -3} f(x) = \infty$
- e) $\lim_{x \nearrow \sqrt{2}} f(x) = \infty$ $\lim_{x \searrow \sqrt{2}} f(x) = \infty$ und $\lim_{x \nearrow -\sqrt{2}} f(x) = \infty$ $\lim_{x \searrow -\sqrt{2}} f(x) = \infty$
- f) $\lim_{x \nearrow \frac{1}{2}} f(x) = \infty$ $\lim_{x \searrow \frac{1}{2}} f(x) = \infty$ und $\lim_{x \nearrow -\frac{1}{2}} f(x) = \infty$ $\lim_{x \searrow -\frac{1}{2}} f(x) = \infty$

Zurück zu den Aufgaben durch folgenden Link: [\(5.7.1\)](#).

13.6.33 Lösungen zu Polynomfunktionen

Aufgabe 1:



Zurück zu den Aufgaben durch folgenden Link: (5.8.1).

13.6.34 Lösungen zu gebrochen rationalen Funktionen

Aufgabe 1:

- a) $x^2 + 2x + 1$ b) $x^3 - x + 5$
 c) $5x^2 - 7$ d) $x^2 - 5$
 e) $x^3 - \frac{7}{3}$ f) $-x^2 - 7x + 3$
 g) $-\ln 2 \cdot x^2 - e^\pi$ h) $\sqrt{2}x^3 - ex + \pi$

Aufgabe 2:

- a) $x - 9\frac{47}{x+5}$
 b) $x + 3\frac{2x+1}{x^2-2}$
 c) $6x^3 + 6x^2 + 7x + 7 - \frac{8}{x-1}$
 d) $\frac{x^4}{6} - \frac{5x^2}{6} + \frac{5}{12} + \frac{43}{6(4x^2+2)}$
 e) $-35x^2 - 525x - 7920 - \frac{118790}{x-15}$
 f) $x^7 + 3x^5 + 9x^3 - x^2 + 27x - 2 + \frac{81-5}{x^2-3}$

Aufgabe 3:

- a) echt, b) echt, c) unecht, d) echt, e) unecht, f) echt.

Zurück zu den Aufgaben durch folgenden Link: [\(5.10.1\)](#).

13.6.35 Lösungen zu trigonometrischen Funktionen

Aufgabe 1:

- a)

Aufgabe 2:

a)

Zurück zu den Aufgaben durch folgenden Link: (5.12.1).

13.6.36 Lösungen zu Exponentialfunktionen**Aufgabe 1:**

a)

Zurück zu den Aufgaben durch folgenden Link: (5.13.1).

13.6.37 Lösungen zum Differentiationsoperator**Aufgabe 1:**

a) $\frac{d}{dx}x^4 = 4x^3$

b) $\frac{d}{dx}3x^2 = 6x$

c) $\frac{d}{dx}(x+1) = 1$

d) $\frac{d}{dx}(x^3+x^2) = 3x^2+2x$

e) $\frac{d}{dx}5(x^2+x) = 2x+1$

f) $\frac{d}{dx}x^2+x^7 = 2x+x^7$

g) $\frac{d}{dx}5x^3+8x^9 = 15x^2+8x^9$

h) $\frac{d}{dx}(x^3+77)+x^9 = 3x^2+x^9$

Aufgabe 2:

- | | |
|--|---|
| a) $f'(x) = 6x^5$ | b) $f'(x) = 55x^{54}$ |
| c) $f'(x) = \frac{1}{2}x^{-\frac{1}{2}}$ | d) $f'(x) = -x^{-2}$ |
| e) $f'(x) = 1$ | f) $f'(x) = 2x + 6x^5$ |
| g) $f'(x) = 20x^4$ | h) $f'(x) = 3\pi x^2$ |
| i) $f'(x) = 4ex^3$ | j) $f'(x) = -\frac{8}{x^3}$ |
| k) $f'(x) = x^{-\frac{1}{2}}$ | l) $f'(x) = \frac{1}{2}x^{\frac{3}{2}}$ |
| m) $f'(x) = -\frac{2}{3}x^{-\frac{1}{3}}$ | n) $f'(x) = 8x^{-9}$ |
| o) $f'(x) = -\frac{5}{6}x^{-\frac{11}{6}}$ | p) $f'(x) = 0$ |

Zurück zu den Aufgaben durch folgenden Link: (6.1.1).

13.6.38 Lösungen zu den Ableitungsregeln

Aufgabe 1:

- | | |
|---|---|
| a) $f'(x) = 6(2x + 3)^2$ | b) $f'(x) = 6x^2(x^3 + 2)$ |
| c) $f'(x) = 2x^3 \left(x^4 - \frac{1}{4}\right)^{-\frac{1}{2}}$ | d) $f'(x) = \frac{1}{2}(8x + 3)(4x^2 + 3x)^{-\frac{1}{2}}$ |
| e) $f'(x) = 6xe^{3x^2}$ | f) $f'(x) = \left(\frac{3}{2}x^2 - 4\right)e^{\frac{1}{2}x^3 - 4x + 6}$ |
| g) $f'(x) = 5\cos(5x)$ | h) $f'(x) = 2x^2\sin(-2x^3)$ |
| i) $f'(x) = -(5x + 3)(5x^2 + 6x)^{-\frac{3}{2}}$ | j) $f'(x) = -9\sin(3x)(\cos(3x))^{-4}$ |

Aufgabe 2:

- a) $f'(x) = (1+x)e^x$
 b) $f'(x) = (x^3 + 3x^2)e^x$
 c) $f'(x) = (4x + 10x^2)e^{5x}$
 d) $f'(x) = \left(-\frac{1}{2}x^{\frac{1}{2}} + \frac{1}{2}x^{-\frac{1}{2}}\right) e^{-\frac{1}{2}x}$
 e) $f'(x) = 4x^3 \sin 5x + 5x^4 \cos 5x$
 f) $f'(x) = \frac{2,34}{2}x^{1,34} \sin \frac{x}{2} + \frac{1}{4}x^{2,34} \cos \frac{x}{2}$
 g) $f'(x) = -\frac{3}{4}e^{-3x} \sin \frac{3x}{4} - 3e^{-3x} \cos \frac{3x}{4}$
 h) $f'(x) = a \cos(ax) \cos(bx) - b \sin(ax) \sin(bx)$
 i) $f'(x) = (-2 \cos(6x) \cos(\pi x) - 6 \sin(6x) \cos(\pi x) - \pi \sin(6x) \cos(\pi x)) e^{-2x}$
 j) $f'(x) = (d \sin(ax) \cos(bx) + b \sin(ax) \sin(bx) - a \cos(ax) \cos(bx)) e^{dx}$

Aufgabe 3:

- a) $\frac{d}{dx}f^{-1}(x) = \frac{1}{x}$ b) $\frac{d}{dx}f^{-1}(x) = \frac{1}{x \ln a}$
 c) $\frac{d}{dx}f^{-1}(x) = \frac{1}{\sqrt{1-x^2}}$ d) $\frac{d}{dx}f^{-1}(x) = -\frac{1}{\sqrt{1-x^2}}$
 e) $\frac{d}{dx}f^{-1}(x) = \frac{1}{1+x^2}$ f) $\frac{d}{dx}f^{-1}(x) = -\frac{1}{1+x^2}$

Aufgabe 4:

- a) $f'(x) = \frac{1}{\cos^2 x}$ b) $f'(x) = \frac{2x^2 - 2x + 5}{(2x - 1)^2}$
 c) $f'(x) = \ln x$ d) $f'(x) = \ln^2 x$
 e) $f'(x) = \sin ax \cos ax$ f) $f'(x) = xe^{ax}$

Zurück zu den Aufgaben durch folgenden Link: (6.2.1).

13.6.39 Lösungen zur Integration

Aufgabe 1:

a)

Aufgabe 2:

a)

Zurück zu den Aufgaben durch folgenden Link: [\(6.3.1\)](#).

13.6.40 Lösungen zu den Integrationsregeln

Aufgabe 1:

a)

Aufgabe 2:

a)

Aufgabe 3:

a)

Zurück zu den Aufgaben durch folgenden Link: [\(6.4.1\)](#).

14 Glossar

Im Glossar können die wichtigsten mathematischen Begrifflichkeiten nachgeschlagen werden. Dabei gibt der Pfeil hinter einem Wort an, unter welchem Begriff mehr Informationen zu finden ist. Befindet sich kein Wort hinter dem Pfeil kann direkt das vorangegangene Wort gesucht werden.

Ableitung: Die Ableitung ist eine Funktion $f(x)$ auf die der Differentialoperator gewirkt hat und wird mit $f'(x)$ gekennzeichnet.

Abstand: Der Abstand ist die kürzeste Strecke (\longrightarrow) zwischen zwei Punkten (\longrightarrow) und ist immer positiv.

Addition: Bei der Addition werden Summanden (\longrightarrow) zu einer Summe (\longrightarrow) zusammengezählt mit dem Operator $+$ (\longrightarrow).

Ankathete: Die Ankathete ist die Kathete (\longrightarrow), die sich direkt am Winkel (\longrightarrow) eines rechtwinkligen Dreiecks (\longrightarrow) befindet.

Äquivalenzumformung: Die Äquivalenzumformung ist die Methode der Algebra (\longrightarrow) um Gleichungen (\longrightarrow) zu lösen, dabei bedient sie sich der Eigenschaften von Operatoren (\longrightarrow) und Funktionen (\longrightarrow).

Algebra: Die Algebra ist ein großes Teilgebiet der Mathematik und beschäftigt sich im Wesentlichen mit dem Lösen von Gleichungen (\longrightarrow). Dazu bedient sie sich der Äquivalenzumformung (\longrightarrow) und den Eigenschaften von Operatoren (\longrightarrow) und Funktionen (\longrightarrow).

Analysis: Die Analysis bildet ein großes Teilgebiet der Mathematik und beschäftigt sich im Wesentlichen mit den Eigenschaften von Funktionen (\longrightarrow).

Assoziativ: Rechnungen bei denen Klammern (\longrightarrow Ausmultiplizieren) nach Belieben setzen kann ohne dass sich das Ergebnis ändert sind assoziativ.

Ausklammern: Es ist möglich Klammern zusetzen, indem gleiche Vorfaktoren (\longrightarrow Koeffizienten) von mehreren Summanden (\longrightarrow) als Faktor (\longrightarrow) vor einer Klammer (\longrightarrow assoziativ) gesetzt werden.

Ausmultiplizieren: Klammern können ausmultipliziert werden, dabei wirkt der Faktor (\longrightarrow) außerhalb der Klammern auf jeden Summanden (\longrightarrow) in den Klammern (\longrightarrow assoziativ).

Basis: Wenn ein Term (\longrightarrow) mehrfach mit sich selbst multipliziert (\longrightarrow) wird, dann bildet der Term die Basis, während die Anzahl der Multiplikationen durch den Exponenten (\longrightarrow) beziehungsweise der Potenz (\longrightarrow) beschrieben wird.

Betrag: Der Betrag sorgt dafür, dass ein positives Ergebnis erzeugt wird.

Binomialkoeffizient: Die Binomialkoeffizienten sind eine verkürzte Schreibweise von Brüchen (\longrightarrow) aus Fakultäten (\longrightarrow).

Bogenmaß: Das Bogenmaß hat die Einheit Radiant (\longrightarrow) und kann aus der Einheit Grad (\longrightarrow) bestimmt werden.

Bruch: Ein Bruch besteht aus einem Zähler (\longrightarrow) und einem Nenner (\longrightarrow) und kann in eine Dezimalzahl (\longrightarrow) umgewandelt werden.

Darstellung (Zahl): Eine Zahl (\rightarrow) kann verschieden dargestellt werden, so ist zum Beispiel: $0,5 = \frac{1}{2} = \frac{4}{8}$ (\rightarrow Bruch).

Definition: Die Definition bildet den Anfang jeglicher Mathematik, da sie die wichtigsten Regeln festlegt.

Definitionslücke: Wenn eine Funktion (\rightarrow) an einem Punkt (\rightarrow) nicht definiert (\rightarrow) ist und es sich dabei nicht um eine Polstelle (\rightarrow) handelt, wird dies Definitionslücke genannt. Sie treten oftmals bei unecht gebrochen rationalen Funktionen auf.

Definitionsmenge: Die Definitionsmenge gibt an für welche Werte einer Variablen (\rightarrow) die Gleichung (\rightarrow) oder Funktion (\rightarrow) berechenbar ist.

Dezimalzahlen: Ein Bruch (\rightarrow) kann in eine Dezimalzahl umgewandelt werden. Dabei handelt es sich um eine andere Darstellung (\rightarrow).

Diagonale: Diagonalen sind Strecken (\rightarrow) zwischen gegenüberliegenden Eckpunkten (\rightarrow) bei einem geometrischen Körper (\rightarrow Geometrie).

Differentialoperator: Der Differentialoperator wirkt nur nach rechts und kommt in zwei Formen (\rightarrow Differentiation) vor. Um mit ihm zu rechnen wird der Kommutator (\rightarrow) benutzt. Wirkt ein Differentialoperator auf eine Funktion (\rightarrow) wird die Ableitung (\rightarrow) gebildet. Die Differentialoperatoren nehmen einen großen Teil der Analysis (\rightarrow) ein.

Differentiation (partiell): Bei der partiellen Differentiation werden Unterabhängigkeiten nicht berücksichtigt. Der Differentialoperator (\rightarrow) hat die Form $\frac{\partial}{\partial x}$.

Differentiation (total): Bei der totalen Differentiation werden Unterabhängigkeiten berücksichtigt. Der Differentialoperator (\rightarrow) hat die Form $\frac{d}{dx}$.

Differenz: Die Differenz ist das Ergebnis einer Subtraktion (\rightarrow).

Differenz (Mengen): Der Mengenoperator (\rightarrow) Differenz wird auch als „Eine Menge (\rightarrow) ohne einer anderen Menge“ gelesen.

Dimension: Die Anzahl von Dimensionen gibt die Ausbreitung von Objekten an und ist ein zentraler Begriff der Geometrie (\rightarrow).

Distributivgesetz: Das Distributivgesetz beschreibt eine Rechenvorschrift für die Multiplikation (\rightarrow) bei der mindestens ein Faktor (\rightarrow) mittels Klammern (\rightarrow) auf Summanden (\rightarrow) besteht.

Division: Bei der Division wird eine Zahl (\rightarrow) oder ein Term (\rightarrow) (\rightarrow Dividend) durch eine andere Zahl oder einen anderen Term (\rightarrow Divisor) geteilt und bilden den Quotienten (\rightarrow).

Divisor: Der Divisor ist eine Zahl (\rightarrow) oder ein Term (\rightarrow) durch den geteilt wird. Bei Brüchen (\rightarrow) wird der Divisor auch Nenner (\rightarrow) genannt.

Dividend: Der Dividend ist eine Zahl (\rightarrow) oder ein Term (\rightarrow) der geteilt durch den Divisor (\rightarrow) wird. Bei Brüchen (\rightarrow) wird der Divisor auch Nenner (\rightarrow) genannt.

Drachen: Der Drachen ist ein spezielles Viereck (\rightarrow Rechteck), dass zwei gegenüberliegende gleich große Winkel (\rightarrow) besitzt. Die Schenkel (\rightarrow) der anderen Winkel sind jeweils gleichlang.

Dreieck: Ein Dreieck besteht aus drei Ecken (\rightarrow) und drei Seiten (\rightarrow). Es besitzt eine Winkelsumme (\rightarrow) von 180 Grad (\rightarrow).

-rechtwinkliges: Beim rechtwinkligen Dreieck ist ein Winkel ein rechter Winkel (\rightarrow). Die gegenüberliegende Seite (\rightarrow) wird Hypotenuse (\rightarrow) genannt.

-gleichschenkliges: Bei einem gleichschenkligen Dreieck sind zwei Winkel (\rightarrow) gleich groß und zwei Seiten (\rightarrow) gleich lang.

-gleichseitiges: Bei einem gleichseitigen Dreieck besitzen alle Winkel (\rightarrow) 60 Grad (\rightarrow) und alle Seiten (\rightarrow) sind gleich lang.

Dreisatz: Der Dreisatz wird benutzt um Prozentanteile (\rightarrow) einer Zahl (\rightarrow) zu bestimmen.

Durchmesser: Der Durchmesser ist die Strecke (\rightarrow) von einem Punkt (\rightarrow) am Kreisbogen (\rightarrow) durch den Mittelpunkt (\rightarrow) bis zum gegenüberliegenden Punkt auf dem Kreisbogen. Dabei ist der Durchmesser doppelt so groß wie der Radius (\rightarrow).

Durchschnitt: Der Mengenoperator (\rightarrow) Durchschnitt bestimmt die Zahlen (\rightarrow), welche sich sowohl in einer Menge (\rightarrow) als auch in einer anderen Menge befinden.

Ebene: Eine Ebene ist ein Objekt in zwei Dimensionen (\rightarrow), welches nicht begrenzt ist.

Ecke: An einer Ecke treffen sich zwei Strecken (\rightarrow) in einem Punkt (\rightarrow), sodass sie einen Winkel (\rightarrow) ungleich von 180 Grad (\rightarrow) zu einander haben.

Eindeutigkeit: Eindeutigkeit ist die Forderung, dass zu jedem Variablenwert (\rightarrow) nur ein Funktionswert (\rightarrow) existiert. Erst wenn eine Funktion (\rightarrow) eindeutig ist, ist sie auch tatsächlich eine Funktion.

Einheitskreis: Der Einheitskreis ist ein Kreis (\rightarrow) mit Radius (\rightarrow) $r = 1$.

Einsetzungsverfahren: Um Gleichungen (\rightarrow) nutzen zu können, müssen Werte oder Terme (\rightarrow) in sie eingesetzt werden. Dies wird das Einsetzungsverfahren genannt.

Element: Befindet sich eine Zahl (\rightarrow) in einer Menge (\rightarrow), dann ist sie Element der Menge.

Ellipse: Die Ellipse ist ein Kreis (\rightarrow), der nicht immer den gleichen Radius (\rightarrow) besitzt. Dabei ist die Ellipse immer symmetrisch (\rightarrow) bezüglich zwei Achsen (\rightarrow).

Euler'sche Zahl: $e = 2,71828182845904523536028747135266249775724709369995 \dots$

Euler'sche Gerade: Auf der Euler'schen Geraden (\rightarrow Gerade) liegen die Schnittpunkte (\rightarrow) der Höhen (\rightarrow), der Mittelsenkrechten (\rightarrow) und der Seitenhalbierenden (\rightarrow) mit einem Abstandsverhältnis (\rightarrow) von eins zu zwei.

Erweitern: Brüche (\rightarrow) können durch Erweitern in eine andere Darstellung (\rightarrow) überführt werden, sodass mit ihr die Addition (\rightarrow) oder Subtraktion (\rightarrow) leichter durchgeführt werden können.

Exponent: Ein Exponent gibt an wie oft eine Basis (\rightarrow) mit sich selbst multipliziert (\rightarrow) wird.

Exponentialfunktion: Bei der Exponentialfunktion steht im Exponenten (\rightarrow) die Variable (\rightarrow). Die bedeutendste Funktion (\rightarrow) dieser Art hat die Euler'sche Zahl (\rightarrow) zur Basis (\rightarrow).

Extremstelle: Extremstellen einer Funktion (\rightarrow) sind Minimum (\rightarrow) oder Maximum (\rightarrow) und besitzen eine Tangente mit der Steigung (\rightarrow) gleich Null.

Faktor: Bei der Multiplikation (\rightarrow) werden Faktoren miteinander verrechnet.

Fakultät: Die Fakultät ist eine Abkürzung einer Kette von Multiplikationen (\rightarrow), wobei zum Beispiel $5! = 5 \cdot 4 \cdot 3 \cdot 2 \cdot 1$ ist und per Definition (\rightarrow) $0! := 1$ gilt.

Fläche: Eine Fläche ist ein geometrisches (\rightarrow) Objekt welches einen Rand (\rightarrow) besitzt.

Flächeninhalt: Der Flächeninhalt gibt an wieviele Quadratmeter (\rightarrow) in eine Fläche (\rightarrow) passen.

Funktion: Eine Funktion bildet eine Zahl (\rightarrow) auf eine andere Zahl ab und muss dabei eindeutig (\rightarrow) sein. Sie besitzen immer eine Definitions- (\rightarrow) und Wertemenge (\rightarrow).

-echt gebrochen rational: Diese Funktionen besitzen in der Regel Polstellen (\rightarrow), da sie für einige Zahlen (\rightarrow) nicht definiert (\rightarrow) sind. Zur Überprüfung dient die Polynomdivision (\rightarrow).

-unecht gebrochen rational: Diese Funktionen besitzen in der Regel Definitionslücken (\rightarrow), da sie nur aufgrund ihrer Darstellung (\rightarrow) für einige Zahlen (\rightarrow) nicht definiert (\rightarrow) sind. Zur Überprüfung dient die Polynomdivision (\rightarrow).

Funktionswert: Der Funktionswert ist das Ergebnis nachdem ein Variablenwert (\rightarrow) in die Funktionsgleichung (\rightarrow) eingesetzt (\rightarrow) wurde.

Ganze Zahlen: Die ganzen Zahlen \mathbb{Z} ist die Zahlenmenge (\rightarrow) aller negativer Zahlen (\rightarrow). Die natürlichen Zahlen (\rightarrow) bilden dabei eine Teilmenge (\rightarrow) der ganzen Zahlen $\mathbb{Z} = \{\dots, -2, -1, 0, 1, 2, \dots\}$.

Gegenkathete: Die Gegenkathete ist die Kathete (\rightarrow), die sich gegenüber des betrachteten Winkel (\rightarrow) eines rechtwinkligen Dreiecks (\rightarrow) befindet.

Geometrie: Die Geometrie beschäftigt sich mit Formen wie Rechtecke (\rightarrow), Kreisen (\rightarrow), Quadern (\rightarrow), Pyramiden (\rightarrow), Zylindern (\rightarrow) und vielem mehr. Dabei sind je nach Anzahl der Dimensionen (\rightarrow) die gefragten Größen (\rightarrow): Winkel (\rightarrow), Streckenlänge (\rightarrow), Umfang (\rightarrow), Flächeninhalt (\rightarrow), Oberfläche (\rightarrow) oder Volumen (\rightarrow).

Gerade: Eine Gerade (\rightarrow) ist eine Funktion (\rightarrow) erster Ordnung (\rightarrow) und besitzt keinen Anfang und kein Ende. Sie wird beschrieben durch die Steigung (\rightarrow) und dem Ordinaten-schnittpunkt (\rightarrow).

Gleichung: Eine Gleichung stellt einen Bezug zwischen Zahlen (\rightarrow), Parametern (\rightarrow), Variablen (\rightarrow) und Funktionen (\rightarrow) auf.

Grad: Grad ist die Einheit von Winkeln (\rightarrow). Dabei hat ein Kreis (\rightarrow) 360° .

Graph: Ein Graph ist die graphische Veranschaulichung einer Funktion (\rightarrow) in einem Koordinatensystem (\rightarrow).

Grenzen: Grenzen geben zum Beispiel die Größe eines Intervalls (\rightarrow) oder den Bereich eines Integrals (\rightarrow) an.

Grenzwerte: Grenzwerte beschreiben ein Verhalten eines Terms (\rightarrow) oder einer Funktion (\rightarrow) in der Nähe von Definitionslücken (\rightarrow), Polstellen (\rightarrow) oder besonders hohen oder niedrigen Zahlen (\rightarrow).

Größe: Eine Größe kann ein Parameter (\rightarrow) oder eine Variable (\rightarrow) sein.

Grundfläche: Bei geometrischen (\rightarrow) Objekten in drei Dimensionen (\rightarrow) bildet die Grundfläche (\rightarrow Flächeninhalt) mit der Höhe (\rightarrow) eine Beziehung zum Volumen (\rightarrow).

Grundseite: Bei geometrischen (\rightarrow) Objekten in zwei Dimensionen (\rightarrow) bildet die Grundseite (\rightarrow Seite) mit der Höhe (\rightarrow) eine Beziehung zum Flächeninhalt (\rightarrow).

Halbgerade: Eine Halbgerade besitzt einen Anfang aber kein Ende.

Höhe: Die Höhe spielt in der Geometrie (\rightarrow) eine besonders bedeutende Rolle, da je nach Anzahl der Dimensionen (\rightarrow), sie einen Bezug zu den gesuchten Größen (\rightarrow) darstellt.

Höhensatz von Euklid: Der Höhensatz von Euklid beschreibt einen Zusammenhang zwischen der Höhe (\rightarrow) eines rechtwinkligen Dreiecks (\rightarrow) und der unterteilten Hypotenuse $c = p + q$ (\rightarrow). Hierbei gilt $h^2 = qp$.

Hyperbel: Die Hyperbel ist eine Funktion (\rightarrow) bei der sich die Variable (\rightarrow) im Nenner (\rightarrow) befindet. Sie besitzt eine Polstelle (\rightarrow).

Hypotenuse: Die Hypotenuse ist die längste Seite (\rightarrow) eines rechtwinkligen Dreiecks (\rightarrow) und liegt gegenüber vom rechten Winkel (\rightarrow).

Index: Ein Index gibt zusätzliche Informationen bei einem Parameter (\rightarrow), einer Variable (\rightarrow) oder einer Funktion (\rightarrow) an. In der Regel hat dieser keinen Einfluss auf Rechnungen.

Innenkreis: Der Innenkreis ist ein Kreis (\rightarrow) der alle Seiten eines Dreiecks (\rightarrow) tangiert (\rightarrow) und den Schnittpunkt (\rightarrow) der Winkelhalbierenden (\rightarrow) als Mittelpunkt (\rightarrow) besitzt.

Integral: Das Integral bildet den Operator (\rightarrow), um die Stammfunktion (\rightarrow) einer Funktion (\rightarrow) zu bestimmen. Mit der Stammfunktion kann der Flächeninhalt (\rightarrow) unter einem

Graphen (\longrightarrow) bestimmt werden.

Integration: Die Integration wird durch das Integral (\longrightarrow) beschrieben und nimmt einen großen Teil der Analysis (\longrightarrow) ein.

-partielle: Die partielle Integration wird verwendet, wenn die Stammfunktion (\longrightarrow) von einem Produkt (\longrightarrow) von Funktionen (\longrightarrow) gesucht wird.

-durch Substitution: Die Integration durch Substitution (\longrightarrow) wird verwendet, wenn die Stammfunktion (\longrightarrow) von verketteten (\longrightarrow Kettenregel) Funktionen (\longrightarrow) gesucht wird.

Intervall: Ein Intervall beherbergt eine Menge (\longrightarrow) von Zahlen (\longrightarrow). Dabei gibt es verschiedene Arten von Grenzen (\longrightarrow), sodass die Grenzen zur Menge gehören (inklusive) oder gegebenenfalls nicht (exklusiv).

Iterativ: Ein iteratives Verfahren ist eine schrittweise Annäherung an das richtige Ergebnis und wird oftmals bei besonders komplexen Rechnungen zur Vereinfachung benutzt (\longrightarrow Reihen).

Kanten: Als Kanten werden bei geometrischen (\longrightarrow) Objekten in drei Dimensionen (\longrightarrow) die Strecken (\longrightarrow) zwischen Eckpunkten (\longrightarrow) bezeichnet.

Kathete: In einem rechtwinkligen Dreieck (\longrightarrow) heißen die Schenkel (\longrightarrow) vom rechten Winkel (\longrightarrow) Katheten.

Kathetensatz: Bei einem rechtwinkligen Dreieck (\longrightarrow) gilt, dass die Hypotenuse (\longrightarrow) multipliziert (\longrightarrow) mit einem durch die Höhe (\longrightarrow) geteilten Teilstück der Hypotenuse gleich der gegenüberliegenden Kathetenlänge (\longrightarrow) zum Quadrat ist.

Kegel: Der Kegel besitzt einen Kreis (\longrightarrow) als Grundfläche (\longrightarrow) und läuft in einem Punkt (\longrightarrow) in einer bestimmten Höhe (\longrightarrow) zusammen. Ein Kegel besitzt eine Kante (\longrightarrow) und einen Eckpunkt (\longrightarrow).

Kegelstumpf: Ein Kegelstumpf besitzt einen Kreis (\longrightarrow) als Grundfläche (\longrightarrow) und einen gegenüberliegenden kleineren Kreis sowie eine Höhe (\longrightarrow). Dies sieht so aus als ob von einem großen Kegel (\longrightarrow) die Spitze abgetrennt wurde.

Kehrwert: Bei der Bildung des Kehrwerts in der Bruchrechnung (\longrightarrow) werden Nenner (\longrightarrow) und Zähler (\longrightarrow) vertauscht.

Kettenregel: Bei der Kettenregel werden Funktionen (\longrightarrow), in denen sich wiederum Funktionen befinden abgeleitet (\longrightarrow).

Koeffizient: Koeffizienten sind Parameter (\longrightarrow) oder Zahlen (\longrightarrow) die an einer Variable (\longrightarrow) multipliziert (\longrightarrow) sind.

Komplexe Zahlen: Die komplexen Zahlen \mathbb{C} bilden die letzte Erweiterung der Zahlenmengen (\longrightarrow) durch die Zahl (\longrightarrow) $i = \sqrt{-1}$ und spannen dabei einen Zahlenstrahl (\longrightarrow) auf der orthogonal (\longrightarrow) zu den reellen Zahlen (\longrightarrow) steht.

Kommandostrich: Der Kommandostrich befindet sich hinter einer Gleichung (\longrightarrow), die mittels Äquivalenzumformung (\longrightarrow) algebraisch (\longrightarrow) verändert wird. Dabei wird hinter dem Kommandostrich stets der nächste Rechenschritt angegeben.

Kommutativ: Als kommutativ werden alle Rechnungen bezeichnet, bei denen die Reihenfolge vor oder hinter dem Operator (\longrightarrow), das Ergebnis nicht verändert. Dies kann über den Kommutator (\longrightarrow) bestimmt werden.

Kommutator: Der Kommutator dient zur Überprüfung des Kommutativgesetzes (\longrightarrow). Dabei wird der zu überprüfende Operator (\longrightarrow) anstelle des Kommas des Kommutators $[a, b]$ geschrieben. Dabei gilt zum Beispiel für die Multiplikation (\longrightarrow) $[a, b] = a \cdot b - b \cdot a$.

Koordinate: Die Koordinate ist im Koordinatensystem (\longrightarrow) die Achse auf der die Variablenwerte (\longrightarrow) zu finden sind.

Koordinatensystem: Im Koordinatensystem können Punkt (\longrightarrow) und Graphen (\longrightarrow) einge-

tragen werden. Es besteht aus der Ordinate (\rightarrow) und der Koordinate (\rightarrow).

Kosinus: Der Kosinus ist eine trigonometrische (\rightarrow) Funktion (\rightarrow), die einen verschobenen Sinus (\rightarrow) darstellt.

Kotangens: Der Kotangens ist der Kehrwert (\rightarrow) vom Tangens (\rightarrow).

Kreis: Ein Kreis ist ein geometrisches (\rightarrow) Objekt in zwei Dimensionen (\rightarrow), das durch die Kreiszahl (\rightarrow) beschrieben wird.

Kreisabschnitt: Der Kreisabschnitt ist ein Kreisstück (\rightarrow), das durch eine Sekante (\rightarrow) abgeschnitten wurde.

Kreisausschnitt: Der Kreisausschnitt ist ein Bruchteil (\rightarrow) eines Kreises (\rightarrow).

Kreisbogen: Der Kreisbogen ist ein Teil des Umfangs (\rightarrow) des Kreises (\rightarrow).

Kreiszahl: $\pi = 3,14159265359$

Kubisch: Als kubisch werden Größen (\rightarrow) und Objekte in drei Dimensionen (\rightarrow), wie der Würfel (\rightarrow), bezeichnet.

Kugel: Die Kugel ist ein geometrisches (\rightarrow) Objekt in drei Dimensionen (\rightarrow), das radial-symmetrisch (\rightarrow) mit einem Radius (\rightarrow) ist. Eine Kugel besitzt keine Kanten (\rightarrow) oder Ecken (\rightarrow).

Kugelabschnitt: Der Kugelabschnitt ist ein Teilstück der Kugel (\rightarrow), das durch eine Ebene (\rightarrow) abgeschnitten wurde.

Kugelausschnitt: Der Kugelausschnitt ist im Wesentlichen ein Bruchteil (\rightarrow) einer Kugel (\rightarrow).

Kürzen: Brüche (\rightarrow) können oftmals gekürzt werden, was bedeutet, dass der Zähler (\rightarrow) und der Nenner (\rightarrow) durch etwas gleiches dividierbar (\rightarrow) sind.

Logarithmus: Der Logarithmus wird benutzt um nach einem Exponenten (\rightarrow) bei der Äquivalenzumformung (\rightarrow) aufzulösen. Er bildet die Umkehrfunktion (\rightarrow) zur Exponentialfunktion (\rightarrow).

Leibnizregel: siehe Produktregel (\rightarrow).

Mantelfläche: Die Mantelfläche ist die Oberfläche (\rightarrow) ohne die Grundfläche (\rightarrow).

Maximum: Ein Maximum ist ein Punkt (\rightarrow) einer Funktion (\rightarrow) mit einer Tangente (\rightarrow) mit der Steigung (\rightarrow) gleich Null. Wobei sich der Graph (\rightarrow) stets unterhalb der Tangente befindet.

Mengen: Mengen sind zusammengefasste Zahlen (\rightarrow). Wenn alle Zahlen einer Art in einer Menge vorhanden sind, ist die Rede von Zahlenmengen (\rightarrow).

Mengenoperatoren: Mengenoperatoren ermöglichen das Rechnen mit Mengen (\rightarrow). Siehe dazu Differenz (\rightarrow), Durchschnitt (\rightarrow) und Vereinigung (\rightarrow).

Minimum: Ein Minimum ist ein Punkt (\rightarrow) einer Funktion (\rightarrow) mit einer Tangente (\rightarrow) mit der Steigung (\rightarrow) gleich Null. Wobei sich der Graph (\rightarrow) stets oberhalb der Tangente befindet.

Minuend: Der Minuend ist bei der Subtraktion (\rightarrow) der Term (\rightarrow) von dem der Subtrahend (\rightarrow) abgezogen wird.

Mittelsenkrechte: Die Mittelsenkrechte ist eine Gerade (\rightarrow), die orthogonal (\rightarrow) zur betrachteten Seite (\rightarrow) ist. Dabei ist der Schnittpunkt (\rightarrow) der Seite und der Geraden direkt in der Mitte der Strecke.

Mittelwert: Der Mittelwert kann gebildet werden, indem alle Zahlen (\rightarrow) aufaddiert (\rightarrow) und durch die Anzahl der Zahlen dividiert (\rightarrow) werden.

Multiplikation: Bei der Multiplikation werden Faktoren (\rightarrow) miteinander verrechnet und bilden das Produkt (\rightarrow).

Natürliche Zahlen: Die natürlichen Zahlen \mathbb{N} bilden eine Zahlenmenge (\rightarrow) mit den Zahlen (\rightarrow) $\mathbb{N} = \{0, 1, 2, 3, \dots\}$

Nenner: Der Nenner ist bei der Bruchrechnung (\rightarrow) der Divisor.

Netz: Ein geometrisches (\rightarrow) Objekt in drei Dimensionen (\rightarrow) kann aufgeklappt werden, sodass die Flächen (\rightarrow) nebeneinander liegen. Dieses neue zweidimensionale Objekt aus Flächen wird Netz genannt.

Neutrales Element: Als neutrales Element werden Zahlen (\rightarrow) bezeichnet, die bei einer Operation (\rightarrow) das Ergebnis nicht verändern. Die Null ist das neutrale Element der Addition (\rightarrow) und die Eins das neutrale Element der Multiplikation (\rightarrow).

Nullstellen: Als Nullstellen werden die Punkte (\rightarrow) bezeichnet, in denen der Graph (\rightarrow) die Koordinate (\rightarrow) schneidet.

Oberfläche: Alle Flächen (\rightarrow) eines Netzes (\rightarrow) aufaddiert (\rightarrow) heißen zusammen Oberfläche.

Offset: siehe Ordinatenschnittpunkt (\rightarrow).

Operation: Als Operation wird eine Rechnung bezeichnet, die durchgeführt wird.

Operator: Der Operator gibt eine Anweisung für eine Operation (\rightarrow).

Ordinate: Die Ordinate ist der Zahlenstrahl (\rightarrow) im Koordinatensystem (\rightarrow), der sich orthogonal (\rightarrow) zur Koordinate (\rightarrow) befindet. Auf ihm sind die Funktionswerte (\rightarrow) zu finden.

Ordinatenschnittpunkt: Der Ordinatenschnittpunkt ist der Punkt, an dem sich Graph (\rightarrow) und Ordinate (\rightarrow) schneiden.

Ordnung: Die Ordnung eines Polynoms (\rightarrow) oder einer Funktion (\rightarrow) ist gegeben durch die höchste Potenz (\rightarrow) einer Variable (\rightarrow).

Orthogonalität: Haben zwei Strecken (\rightarrow), Halbgeraden (\rightarrow), Geraden (\rightarrow) oder sonstige Objekte einen rechten Winkel (\rightarrow) zu einander, dann wird von Orthogonalität gesprochen.

Parabel: Die Parabel ist eine Funktion (\rightarrow) zweiter Ordnung (\rightarrow). Sie besitzt einen Scheitelpunkt (\rightarrow), der gleichzeitig ein Extrempunkt (\rightarrow) ist. Sie wird außerdem noch beschrieben durch den Ordinatenschnittpunkt (\rightarrow) und der Stauchung (\rightarrow).

Parallelität: Wenn zwei Strecken (\rightarrow), Halbgeraden (\rightarrow) oder Geraden (\rightarrow) immer den gleichen Abstand (\rightarrow) zu einander besitzen, dann sind die parallel zu einander.

Parallelogramm: Ein Parallelogramm ist ein geometrisches (\rightarrow) Objekt in zwei Dimensionen (\rightarrow). Wobei die gegenüberliegenden Seiten (\rightarrow) parallel (\rightarrow) zu einander sein müssen. Außerdem sind die gegenüberliegenden Seiten (\rightarrow) gleich lang und Winkel (\rightarrow) gleich groß.

Parameter: Ein Parameter ist ein Platzhalter für eine Zahl (\rightarrow).

Pascal'sches Dreieck: Das Pascal'sche Dreieck gibt an wie sich die Koeffizienten (\rightarrow) von binomischen Formel (\rightarrow) mit höherer Potenz (\rightarrow) verhalten.

Periodizität: Wiederholt sich ein Muster bei einer Zahl oder der Graph fortlaufend, dann wird von Periodizität gesprochen.

Primzahlen: Die Primzahlen sind die Zahlenmenge (\rightarrow) aller natürlichen Zahlen (\rightarrow), die nur durch sich selbst oder eins dividierbar (\rightarrow) sind.

Produktregel: Die Produktregel dient dazu die Ableitung (\rightarrow) von einem Produkt (\rightarrow) von Funktionen (\rightarrow) zu bilden.

Polstelle: Eine Polstelle einer Funktion (\rightarrow) beschreibt ein extremales Verhalten in der Nähe einer Lücke der Definitionsmenge (\rightarrow) und tritt in der Regel bei echt gebrochen rationalen Funktionen auf.

Polynom: Ein Polynom ist eine Summe (\rightarrow) von verschiedenen Potenzen (\rightarrow) einer Varia-

ble (\rightarrow) mit ihren jeweiligen Koeffizienten (\rightarrow).

Polynomdivision: Die Polynomdivision dient dazu zu überprüfen, ob es sich um eine echt oder unecht gebrochen rationale Funktion (\rightarrow) handelt und wird wie die schriftliche Division (\rightarrow) gehandhabt.

Potenz: Die Potenz einer Größe (\rightarrow) ist die Zahl (\rightarrow) wie oft die Größe mit sich selbst multipliziert (\rightarrow) wird.

Prisma: Ein Prisma ist ein geometrisches (\rightarrow) Objekt in drei Dimensionen (\rightarrow) mit eckiger Grundfläche (\rightarrow). Dabei ist die Grundfläche gegenüberliegend wieder vorzufinden mit einem Abstand (\rightarrow) der Höhe (\rightarrow).

Produkt: Das Produkt ist das Ergebnis der Multiplikation (\rightarrow).

Prozent: $\frac{1}{100} = 1\%$ (\rightarrow Bruch).

Punkt: Ein Punkt in einem Koordinatensystem (\rightarrow) in zwei Dimensionen (\rightarrow) wird beschrieben durch den Variablenwert (\rightarrow) und Funktionswert (\rightarrow).

Pyramide: Eine Pyramide ist ein geometrisches (\rightarrow) Objekt in drei Dimensionen (\rightarrow) mit einer Grundfläche (\rightarrow). Diese läuft in einer Höhe (\rightarrow) spitz zusammen. Eine Pyramide besitzt fünf Seiten (\rightarrow), fünf Ecken (\rightarrow) und acht Kanten (\rightarrow).

Pyramidenstumpf: Bei einem Pyramidenstumpf wurde von einer Pyramide (\rightarrow) die Spitze parallel (\rightarrow) zur Grundfläche (\rightarrow) abgeschnitten.

Quader: Ein Quader ist ein geometrisches (\rightarrow) Objekt in drei Dimensionen (\rightarrow), dessen parallelen (\rightarrow) Kanten (\rightarrow) gleich lang sind. Alle Seiten (\rightarrow) sind Rechtecke (\rightarrow), wobei die gegenüberliegenden gleichgroß sind. Ansonsten besitzt der Quader die gleichen Eigenschaften wie der Würfel (\rightarrow), der ein Spezialfall des Quaders ist.

Quadrant: In einem Koordinatensystem (\rightarrow) gibt es vier Quadranten, die durch die Ordinate (\rightarrow) und Koordinate (\rightarrow) unterteilt sind.

Quadrat: Ein Quadrat ist ein geometrisches (\rightarrow) Objekt in zwei Dimensionen (\rightarrow), welches sich dadurch auszeichnet, dass alle Winkel (\rightarrow) rechte Winkel sind und alle Seiten (\rightarrow) gleich lang sind.

Quadratische Ergänzung: Die quadratische Ergänzung ist ein Mittel der Algebra (\rightarrow) um Gleichungen (\rightarrow) zu lösen. Dabei wird mithilfe des neutralen Elements (\rightarrow) eine binomische Formel (\rightarrow) erzeugt.

Quadratmeter: Ein Quadratmeter bildet die Einheit der Flächenberechnung (\rightarrow) und beschreibt wieviele Quadrate (\rightarrow) mit einem Meter mal einem Meter in ein geometrisches (\rightarrow) Objekt passen.

Quotient: Der Quotient ist das Ergebnis der Division (\rightarrow).

Radian: Radian ist die Einheit von Winkeln (\rightarrow) in Bogenmaß (\rightarrow). Dabei gilt: $2\pi rad = 360^\circ$.

Radius: Der Radius ist der Abstand (\rightarrow) des Kreisbogens (\rightarrow) zum Mittelpunkt (\rightarrow) eines Kreises (\rightarrow).

Rand: Der Rand ist in der Geometrie (\rightarrow) die Begrenzung eines Objekts.

Rationale Zahlen: Die rationalen Zahlen \mathbb{Q} sind eine Zahlenmenge (\rightarrow) aller Zahlen (\rightarrow) die durch einen Bruch (\rightarrow) dargestellt (\rightarrow) werden können.

Raute: Die Raute ist ein geometrisches (\rightarrow) Objekt in zwei Dimensionen (\rightarrow), welches sich dadurch auszeichnet, dass die gegenüberliegenden Winkel (\rightarrow) gleich groß sind und alle Seiten (\rightarrow) gleich lang sind.

Reelle Zahlen: Die reellen Zahlen \mathbb{R} sind alle Zahlen (\rightarrow) der Zahlenmenge (\rightarrow) ohne die komplexen Zahlen (\rightarrow).

Reihe: Eine Reihe ist eine verkürzte Schreibweise einer langen Reihe von Additionen (\rightarrow) oder Multiplikationen (\rightarrow).

-Summenreihe: Die Summenreihe beschreibt eine Kette von Additionen (\rightarrow).

-Produktreihe: Die Produktreihe beschreibt eine Kette von Multiplikationen (\rightarrow).

-Taylorreihe: Die Taylorreihe beschreibt ein iteratives (\rightarrow) Verfahren durch Ableitungen (\rightarrow) sich einer Funktion (\rightarrow) anzunähern.

-Fourierreihe: Die Fourierreihe beschreibt ein iteratives (\rightarrow) Verfahren durch trigonometrische (\rightarrow) Funktionen (\rightarrow) sich einer periodischen (\rightarrow) Funktion anzunähern.

Rest: Bei einer Division (\rightarrow) mit natürlichen Zahlen \mathbb{N} (\rightarrow) kann eine Zahl (\rightarrow) nicht dividierbar durch den Divisor (\rightarrow) sein. Diese Zahl wird Rest genannt.

Runden: Das Runden dient zur besseren Präsentation von Ergebnissen.

Satz: Ein Satz ist ein mathematisch bewiesener Fakt, der nahezu immer gilt.

Satz des Pythagoras: Der Satz des Pythagoras stellt einen Zusammenhang zwischen den Katheten (\rightarrow) und der Hypotenuse (\rightarrow) eines rechtwinkligen Dreiecks (\rightarrow) auf.

Satz von Cavallerie: Der Satz von Cavallerie sagt aus, dass das Volumen (\rightarrow) von zwei geometrischen (\rightarrow) Objekten gleich ist, wenn sie in jeder Höhe (\rightarrow) den gleichen Flächeninhalt (\rightarrow) besitzen.

Scheitelpunkt: Der Scheitelpunkt einer Parabel (\rightarrow) ist der Punkt (\rightarrow), an dem eine Tangente (\rightarrow) mit der Steigung (\rightarrow) gleich Null angelegt werden kann.

Schenkel: Schenkel sind die Strecken (\rightarrow) oder Halbgeraden (\rightarrow) die von einem Schnittpunkt (\rightarrow) bezüglich des betrachteten Winkels (\rightarrow) ausgehen.

Schwerpunkt: Der Schwerpunkt ist der Schnittpunkt (\rightarrow) der Seitenhalbierenden (\rightarrow).

Seite: Eine Seite ist bei einem geometrischen (\rightarrow) Objekt in zwei Dimensionen (\rightarrow) eine Strecke (\rightarrow) zwischen zwei Eckpunkten (\rightarrow). Während in drei Dimensionen oftmals damit eine Fläche (\rightarrow) gemeint ist.

Seitenhalbierende: Die Seitenhalbierende ist eine Gerade (\rightarrow) durch die Mitte einer Seite (\rightarrow) und dem gegenüberliegenden Punkt (\rightarrow).

Sekante: Eine Sekante ist eine Gerade (\rightarrow), die ein geometrisches (\rightarrow) Objekt genau zwei mal schneidet.

Sinus: Der Sinus ist eine trigonometrische (\rightarrow) Funktion (\rightarrow), die durch den Quotient (\rightarrow) Gegenkathete (\rightarrow) durch Hypotenuse (\rightarrow) bei einem rechtwinkligen Dreieck (\rightarrow) beschrieben wird.

Spiegelung: Eine Spiegelung kann an einer Geraden (\rightarrow) oder einem Punkt (\rightarrow) durchgeführt werden, dabei wird das geometrische (\rightarrow) Objekt oder der Graph (\rightarrow) neu abgebildet, wobei der Abstand (\rightarrow) zum Punkt (\rightarrow) oder zur Geraden (\rightarrow) gleich bleiben muss, sich allerdings auf der anderen Seite befindet.

Stammfunktion: Die Stammfunktion ist die integrierte (\rightarrow) Funktion (\rightarrow).

Stauchungsparameter: Der Stauchungsparameter ist ein Koeffizient (\rightarrow) der die Steigung (\rightarrow) von Funktionen (\rightarrow) beeinflusst.

Steigung: Die Steigung gibt an um wieviel sich der Funktionswert (\rightarrow) erhöhen würde bei einem weiteren Schritt beim Variablenwert (\rightarrow).

Strecke: Eine Strecke ist beschreibt einen Abstand (\rightarrow) zwischen zwei Punkten (\rightarrow).

Substitution: Die Substitution ist die Umkehrung des Einsetzverfahren (\rightarrow).

Subtrahend: Von einem Subtrahenden wird bei der Subtraktion (\rightarrow) abgezogen.

Subtraktion: Bei der Subtraktion wird von einem Subtrahend (\rightarrow) der Minuend (\rightarrow) abgezogen und der Ergebnis wird Differenz (\rightarrow) genannt.

Summand: Wenn Summanden zusammengezählt werden entsteht die Summe (\rightarrow). Diese

Rechnung wird Addition (\rightarrow) genannt.

Summe: Die Summe ist das Ergebnis der Addition (\rightarrow) von Summanden (\rightarrow).

Symmetrie: Es wird von einer Symmetrie gesprochen wenn nach einer Spiegelung (\rightarrow) sich das geometrische (\rightarrow) Objekt oder der Graph (\rightarrow) nicht verändert hat.

-Achsensymmetrie: Spiegelung (\rightarrow) an einer Geraden (\rightarrow) ohne Veränderung wird achsensymmetrisch genannt.

-Punktsymmetrie: Spiegelung (\rightarrow) an einem Punkt (\rightarrow) ohne Veränderung wird punktsymmetrisch genannt.

-Radiale Symmetrie: Drehung um einen beliebigen Winkel (\rightarrow) ohne Veränderung wird radialsymmetrisch genannt.

Tangens: Der Tangens ist der Quotient (\rightarrow) von Sinus (\rightarrow) durch Kosinus (\rightarrow).

Tangente: Eine Tangente berührt aber schneidet ein geometrisches (\rightarrow) Objekt oder einen Graphen (\rightarrow) nicht.

Teilmenge: Eine Teilmenge ist ein Teil einer anderen Menge (\rightarrow).

Term: Ein Term ist ein Block von Operationen (\rightarrow).

Tetraeder: Ein Tetraeder ist ein geometrisches (\rightarrow) Objekt in drei Dimensionen (\rightarrow) mit vier Eckpunkten (\rightarrow), sechs Kanten (\rightarrow) und vier Seiten (\rightarrow), die jeweils gleichschenklige Dreiecke (\rightarrow) sind.

Theorem: Ein Theorem ist ein mathematisch bewiesener Fakt, der immer gilt.

Trapez: Ein Trapez ist ein Viereck (\rightarrow Rechteck), dass zwei parallel Seiten besitzt.

Trigonometrie: Die Trigonometrie stellt werden Zusammenhang zwischen Winkeln (\rightarrow) und Seitenlängen (\rightarrow) auf.

Unbekannte: siehe Parameter (\rightarrow) und Variable (\rightarrow).

Umfang: Der Umfang eines geometrischen (\rightarrow) Objekts in zwei Dimensionen (\rightarrow) ist gegeben als die Summe (\rightarrow) der Strecken (\rightarrow) des Randes (\rightarrow).

Umkehrfunktion: Zu jeder Funktion (\rightarrow) gibt es eine Umkehrfunktion, die die Funktion wieder aufhebt.

Umkreis: Der Umkreis ist ein Kreis (\rightarrow) der alle Eckpunkte eines Dreiecks (\rightarrow) schneidet mit dem Mittelpunkt (\rightarrow) der Schnittpunkt (\rightarrow) der Mittelsenkrechten (\rightarrow) entspricht.

Variable: Eine Variable ist eine Veränderlich und beschreibt bei einer Funktion (\rightarrow) alle Zahlen (\rightarrow) der Definitionsmenge (\rightarrow).

Variablenwert: Der Variablenwert ist ein spezieller Wert einer Variablen (\rightarrow) und wird auf der Koordinate (\rightarrow) gefunden.

Vereinigung: Die Vereinigung ist ein Mengenoperator (\rightarrow), der die Zahlen (\rightarrow) von zwei Mengen (\rightarrow) zusammenfasst.

Vorfaktor: siehe Koeffizient (\rightarrow).

Volumen: Das Volumen ist eine Größe (\rightarrow) in drei Dimensionen (\rightarrow) und wird von Flächen (\rightarrow) umrandet (\rightarrow). Das Volumen beschreibt wieviele Würfel (\rightarrow) mit der Kantenlänge (\rightarrow) von einem Meter in ein geometrisches (\rightarrow) Objekt passen.

Wendestelle: Die Wendestelle einer Funktion (\rightarrow) beschreibt den Punkt (\rightarrow), an dem die Steigungsänderung (\rightarrow) ihr Vorzeichen wechselt.

Wertemenge: Alle Funktionswerte (\rightarrow) werden in der Wertemenge zusammengefasst.

Wertepaar: Zu jedem Variablenwert (\rightarrow) passt genau ein Funktionswert (\rightarrow). Diese beiden Werte bilden ein Wertepaar.

Wertetabelle: In einer Wertetabelle können Wertepaare (\rightarrow) berechnet werden.

Winkel: Ein Winkel beschreibt wie groß der Anteil eines Kreises (\rightarrow) zwischen zwei Strecken (\rightarrow) oder Halbgeraden (\rightarrow) ist.

-überspitz: Als überspitzer Winkel wird ein Winkel zwischen 0° und 45° bezeichnet.

-spitz: Als spitzer Winkel wird ein Winkel zwischen 45° und 90° bezeichnet.

-recht: Als rechter Winkel wird ein Winkel von genau 90° bezeichnet.

-stumpf: Als stumpfer Winkel wird ein Winkel zwischen 90° und 180° bezeichnet.

-gestreckt: Als gestreckter Winkel wird ein Winkel von genau 180° bezeichnet.

-überstumpf: Als überstumpfer Winkel wird ein Winkel zwischen 180° und 360° bezeichnet.

-voll: Als voller Winkel wird ein Winkel von genau 360° bezeichnet.

Winkelhalbierende: Die Winkelhalbierende ist eine Gerade (\rightarrow), die einen Winkel (\rightarrow) genau halbiert.

Winkelsumme: Die Winkelsumme ist die Summe (\rightarrow) aller Winkel (\rightarrow) in einem geometrischen (\rightarrow) Objekt in zwei Dimensionen (\rightarrow).

Würfel: Ein Würfel besitzt acht Ecken (\rightarrow), zwölf Kanten (\rightarrow) und sechs Seiten (\rightarrow). Alle Seiten sind gleich lang und haben einen rechten Winkel (\rightarrow) zu einander. Der Würfel ist ein geometrisches (\rightarrow) Objekt in drei Dimensionen (\rightarrow).

Wurzel: Die Wurzel hebt die Potenz (\rightarrow) auf. Dabei hebt die Quadratwurzel die Potenz zweiter Ordnung (\rightarrow) auf.

Zahl: Eine Zahl besteht aus Ziffern (\rightarrow).

Zahlenmengen: Eine Zahlenmenge ist eine Menge (\rightarrow) in der sich Zahlen (\rightarrow) einer Art befinden.

Zahlenstrahl: Ein Zahlenstrahl ist eine Gerade (\rightarrow), die in gleichbleibenden Abständen (\rightarrow) wachsende Zahlen vorzuweisen hat.

Zähler: Der Zähler ist bei der Darstellung (\rightarrow) als Bruch (\rightarrow) der Dividend (\rightarrow).

Ziffer: Ziffern sind die Zahlen 0, 1, 2, 3, 4, 5, 6, 7, 8, 9. Aus ihnen setzen sich weitere Zahlen (\rightarrow) zusammen.

Zylinder: Ein Zylinder hat einen Kreis (\rightarrow) zur Grundfläche (\rightarrow), der ebenso der Grundfläche gegenüberliegt. Die Kreise sind in der Höhe (\rightarrow) mit einander verbunden und bilden den Rand (\rightarrow) eines Volumens (\rightarrow). Der Zylinder besitzt drei Flächen (\rightarrow), zwei Kanten (\rightarrow) und keine Ecke (\rightarrow).

ToDo

- Aufgabe: Unterteile in rechtwinklige Dreiecke
- Aufgabe: Zusammengesetzte 2D- und 3D-Figuren
- Aufgabe: Mantelflächen
- Aufgabe: Textaufgaben
- Aufgabe: Geometrie mit Äquivalenzumformung
- Vokabeln ab partielle Differentiation
- Vokabeln Gleichungssysteme
- Lösungen ab Kapitel 3 siehe Excel
- Schriftliches Wurzelziehen
- Verschobene Achsen- und Punktsymmetrien
- lokal vs. globale Minima und Maxima
- Horner Schema
- DGL und Distributionen ausführlicher
- Zirkelkonstruktionsübungen